

2025

नगरपरिषद / नगरपंचायत गट 'क' व गट 'ड', महाराष्ट्र प्रदूषण नियंत्रण मंडळ, वित्त व लेखा कोषागार विभाग, नाशिक, अहमदनगर, नागपूर, ठाणे, कल्याण - डोंबिवली महानगरपालिका, चार कृषि विद्यापीठ जाहिरात, महाबीज महामंडळ, महाराष्ट्र वखार महामंडळ, TET, TAIT, Mumbai, SID, सामाजिक न्याय विभाग, महाराष्ट्र प्रदूषण नियंत्रण मंडळ, वित्त व लेखा विभाग, नगर परिषद, ZP, MIDC कृषी सेवक, सांस्कृतिक व पर्यटन विभाग, साहित्य मंडळ, नगररचना ग्रुप D, आरोग्य विभाग ग्रुप (C & D), PWD तसेच सर्व सरळसेवा परीक्षेस उपयुक्त

TCS पॅटर्न

210000+

प्रश्नसंच

आतापर्यंत झालेल्या सर्वाधिक TCS च्या प्रश्नपत्रिका

IBPS कोणत्याही प्रश्नपत्रिका बाहेर देत नाही.
त्यामुळे TCS च्या प्रश्नपत्रिका IBPS परीक्षेसाठी उपयुक्त पडतात.

2021 ते 2025 च्या 170+ प्रश्नपत्रिकांचा समावेश

मराठी

सामान्यज्ञान

गणित व बुद्धिमापन

इंग्रजी

-: वैशिष्ट्ये :-

- समाजकल्याण विभाग (4/3/2025 ते 19/3/2025)
- महिला व बालविकास (10/2/2025 ते 17/2/2025)
- अंगणवाडी मुख्यसेविका (पर्यवेक्षिका) (14/2/2025 ते 2/3/2025)
- BMC कार्यकारी सहायक पेपर (4/12/2024 ते 12/12/2024)
- BMC करनिर्धारण व संकलन
- निरीक्षक पेपर (10/12/2024)
- तलाठी भरती 57 प्रश्नपत्रिका
- न्यायसहाय्यक वैज्ञानिक प्रयोगशाळा
- लेखापाल
- पनवेल महानगरपालिका
- नगरपरिषद
- सहकार विभाग
- जलसंपदा विभाग
- वनरक्षक 24 प्रश्नपत्रिका
- म्हाडाच्या सर्व प्रश्नपत्रिका
- पिंपरी चिंचवड महानगरपालिका
- TPA, DVET (ITI)
- आयटीआय, डब्ल्यूआरडी (WRD)
- संचालनालय वैद्यकीय, मुंबई (DMER)

* संकलन *

बाळासाहेब तांदळे

* संपादक *

अजितकुमार



BeePublication™
Knowledge is power

2025

नगरपरिषद/नगरपंचायत गट 'क' व गट 'ड', महाराष्ट्र प्रदूषण नियंत्रण मंडळ, वित्त व लेखा कोषागार विभाग, नाशिक, अहमदनगर, नागपूर, ठाणे, कल्याण - डोंबिवली महानगरपालिका, चार कृषि विद्यापीठ जाहिरात, महाबीज महामंडळ, महाराष्ट्र वखार महामंडळ, TET, TAIT, Mumbai, SID, सामाजिक न्याय विभाग, महाराष्ट्र प्रदूषण नियंत्रण मंडळ, वित्त व लेखा विभाग, नगर परिषद, ZP, MIDC कृषी सेवक, सांस्कृतिक व पर्यटन विभाग, साहित्य मंडळ, नगररचना ग्रुप D, आरोग्य विभाग ग्रुप (C & D), PWD तसेच सर्व सरळसेवा परीक्षेस उपयुक्त

TCS पॅटर्न

21,000+

प्रश्नसंच

आतापर्यंत झालेल्या सर्वाधिक TCS च्या प्रश्नपत्रिका

IBPS कोणत्याही प्रश्नपत्रिका बाहेर देत नाही. त्यामुळे TCS च्या प्रश्नपत्रिका IBPS परीक्षेसाठी उपयुक्त पडतात.

2021 ते 2025 च्या 170+ प्रश्नपत्रिकांचा समावेश

-: वैशिष्ट्ये :-

- समाजकल्याण विभाग (4/3/2025 ते 19/3/2025)
- महिला व बालविकास (10/2/2025 ते 17/2/2025)
- अंगणवाडी मुख्यसेविका (पर्यवेक्षिका) (14/2/2025 ते 2/3/2025)
- BMC कार्यकारी सहायक पेपर (4/12/2024 ते 12/12/2024)
- BMC करनिर्धारण व संकलन निरीक्षक पेपर (10/12/2024)
- तलाठी भरती 57 प्रश्नपत्रिका
- न्यायसहाय्यक वैज्ञानिक प्रयोगशाळा
- लेखापाल
- पनवेल महानगरपालिका
- नगरपरिषद
- सहकार विभाग
- जलसंपदा विभाग
- वनरक्षक 24 प्रश्नपत्रिका
- म्हाडाच्या सर्व प्रश्नपत्रिका
- पिंपरी चिंचवड महानगरपालिका
- TPA, DVET (ITI)
- आयटीआय, डब्ल्यूआरडी (WRD)
- संचालनालय वैद्यकीय, मुंबई (DMER)

मराठी
सामान्यज्ञान
गणित व बुद्धिमापन
इंग्रजी

किंमत

880/-

* संकलन *

बाळासाहेब तांदळे

* संपादक *

अजितकुमार



अनुक्रमणिका

समाजकल्याण विभाग पेपर (4/3/2025 ते 19/3/2025)

1.	सोशल वेलफेअर इन्स्पेक्टर - 1	01	5.	वॉर्डन सुपरिडेंट - 4	33
2.	वॉर्डन सुपरिडेंट - 1	09	6.	वॉर्डन सुपरिडेंट फिमेल - 1	41
3.	वॉर्डन सुपरिडेंट - 2	17	7.	वॉर्डन सुपरिडेंट फिमेल - 2	49
4.	वॉर्डन सुपरिडेंट - 3	25			

अंगणवाडी मुख्यसेविका (पर्यवेक्षिका) (14/2/2025 ते 02/3/2025)

1.	अंगणवाडी मुख्यसेविका (पर्यवेक्षिका) पेपर 1	57	3.	अंगणवाडी मुख्यसेविका (पर्यवेक्षिका) पेपर 3	75
2.	अंगणवाडी मुख्यसेविका (पर्यवेक्षिका) पेपर 2	66	4.	अंगणवाडी मुख्यसेविका (पर्यवेक्षिका) पेपर 4	83

महिला व बालविकास (10/2/2025 ते 17/2/2025)

1.	Probation Officer Group C	92	3.	Senior Clerk	110
2.	Protection Officer Junior Group C	101			

कार्यकारी सहायक पेपर (BMC - 4/12/2024 ते 12/12/2024)

क्र.	नाव	पान क्र.	क्र.	नाव	पान क्र.
1.	कार्यकारी सहायक पेपर 1	120	5.	कार्यकारी सहायक पेपर 5	159
2.	कार्यकारी सहायक पेपर 2	130	6.	कार्यकारी सहायक पेपर 6	169
3.	कार्यकारी सहायक पेपर 3	139	7.	कार्यकारी सहायक पेपर 7	180
4.	कार्यकारी सहायक पेपर 4	149	8.	कार्यकारी सहायक पेपर 8	190

करनिर्धारण व संकलन निरीक्षक पेपर (BMC - 10/12/2024)

1.	करनिर्धारण व संकलन निरीक्षक पेपर 1	201	2.	करनिर्धारण व संकलन निरीक्षक पेपर 2	205
----	------------------------------------	-----	----	------------------------------------	-----

न्यायसहायक वैज्ञानिक प्रयोगशाळा भरती पेपर (19/9/2024)

क्र.	नाव	पान क्र.	क्र.	नाव	पान क्र.
1.	कनिष्ठ प्रयोगशाळा सहाय्यक वर्ग 3	209	3.	वरिष्ठ लिपिक स्टोअर वर्ग 3	223
2.	वरिष्ठ लिपिक स्टोअर वर्ग 3	216	4.	वैज्ञानिक सायबर क्राइम टेप प्रमाणीकरण वर्ग 3	230

लेखापाल पेपर

क्र.	नाव	पान क्र.	क्र.	नाव	पान क्र.
1.	लेखापाल पेपर 1	238	3.	लेखापाल पेपर 3	258
2.	लेखापाल पेपर 2	248	4.	लेखापाल पेपर 4	267

पनवेल महानगरपालिका पेपर

क्र.	नाव	पान क्र.	क्र.	नाव	पान क्र.
1.	पनवेल महानगरपालिका पेपर 1	277	3.	पनवेल महानगरपालिका पेपर 3	295
2.	पनवेल महानगरपालिका पेपर 2	285			

नगरपरिषद पेपर

क्र.	नाव	पान क्र.	क्र.	नाव	पान क्र.
1.	नगरपरिषद शिफ्ट क्रमांक - 1	304	3.	नगरपरिषद शिफ्ट क्रमांक - 3	320
2.	नगरपरिषद शिफ्ट क्रमांक - 2	312			

सहकार पेपर

क्र.	नाव	पान क्र.	क्र.	नाव	पान क्र.
1.	सहकार विभाग पेपर क्रमांक - 1	329	3.	सहकार विभाग पेपर क्रमांक - 3	339
2.	सहकार विभाग पेपर क्रमांक - 2	339	4.	सहकार विभाग पेपर क्रमांक - 4	359

जलसंपदा

1.	कालवा निरीक्षक पेपर - 1	359	2.	कालवा निरीक्षक पेपर - 2	378
----	-------------------------	-----	----	-------------------------	-----

संचालनालय, वैद्यकीय शिक्षण आणि संशोधन, मुंबई

1.	E.C.G Technician	388	5	Pharmacist	412
2	Hostel Suprintendent Ayush	393	6	Laboratory Technician and Laboratory Assistant	416
3	Driver	400	7	Staff Nurse	421
4	Senior Clerk	405			

मराठी

1. 'जो जो कीजे परमार्थ लाहो' वरील वाक्याचा प्रयोग सांगा
1. कर्तरी 2. भावे 3. शक्य कर्मणी 4. पुराण कर्मणी
2. 'चक्रपाणि' या शब्दाचा समानार्थी नसलेला शब्द कोणता ?
1. रमेश 2. अच्युते 3. त्रिविक्रम 4. प्रख्यात
3. खालील शब्दाचा समानार्थी शब्द सागा .
'सरंजाम'
1. इतमाम 2. समाप्ती 3. सुस्त 4. गोड वस्तू
4. योग्य पर्याय निवडा. 'कर्मणी प्रयोग' असलेले वाक्य शोधून लिहा.
1. तुम्ही आता यावे. 2. सर्वांनी मनसोक्त हसावे.
3. रामाने रावणास मारले. 4. अश्विनीने फुल तोडले.
5. खालील वाक्याचा प्रकार सागा.
'अनुष्का बुद्धिबळ छान खेळते'
1. आज्ञार्थी 2. स्वार्थी 3. विधानार्थी 4. नकारार्थी
6. 'एवढे तुम्ही जरूर करा.' या वाक्याची प्रश्नार्थक वाक्यरचना कशी होईल ?
1. एवढे तुम्ही करणार नाही काय ?
2. एवढे तुम्ही करणार का नाही ?
3. काय तुम्हाला एवढे करता यणार नाही ?
4. तुम्हाला एवढे का करता यणार नाही ?

इंग्रजी

1. Select the correct article to fill in the blank. If there is no article required, select 'No article'.
He had _____ idea that could change the industry.
1. No article 2. the 3. an 4. a
2. The following sentence may contain an error. Select the option that rectifies the error. If there is no error, select 'No error'.
The Eiffel Tower is most iconic landmark in Paris.
1. No error

2. Remove 'The' before 'Eiffel Tower'
3. Replace 'in Paris' with 'of Paris'
4. Replace 'most iconic' with 'the most iconic'

3. Select the most appropriate option that can substitute the underlined segment in the given sentence. If there is no need to substitute it, select "No substitution required".
The meeting was postponed whether the employees were busy with a project.

The meeting was postponed whether the employees were busy with a project.

1. No substitution required 2. although
3. because 4. or

4. Select the most appropriate preposition to fill in the blank.

She is very good _____ solving puzzles.

1. for 2. at 3. in 4. with

5. Select the option that can be used as a one-word substitute for the given group of words/phrase.
A person who is excessively concerned with cleanliness and tidiness

1. Pedant 2. Fastidious
3. Perfectionist 4. Meticulous

6. Select the most appropriate option to fill in the blank.

The ancient manuscript was far _____ than the museum staff initially believed.

1. rarest 2. most rare 3. more rare 4. rarer

सामान्यज्ञान

1. 2025 ह्या वर्षीच्या सुरुवातीला BS-VII मानकाचा मसुदा सादर करण्यावर काम करत असलेल्या भारत सरकारने कोणत्या वर्षी देशभरात भारत स्टेज (BS)VI उत्सर्जन मानक सादर केली ?
1. 2018 2. 2020 3. 2024 4. 2022

पेपर क्र. 1 - मराठी	1 - 4	2 - 4	3 - 1	4 - 4	5 - 3	6 - 1	सामान्यज्ञान	1 - 2	
इंग्रजी	1 - 3	2 - 4	3 - 3	4 - 2	5 - 2	6 - 4			

मराठी

1. 'शोकाचे वर्णन करणारी कविता' या शब्दसमूहाबद्दल असलेला शब्द सांगा.
1. वेस 2. आख्यायिका 3. विलापिका 4. वाचनालय
2. खालील शब्दाचा विरुद्धार्थ शब्द सांगा.
'कल्पक'
1. कल्पनाशून्य 2. कल्पित 3. विकल्प 4. संकल्प
3. 'व्याल' या शब्दासाठी असलेला शब्द सांगा.
1. तक्षक 2. असूर 3. साल 4. पांगळा
4. खालील वाक्यप्रचाराचा अर्थ सांगा.
'कामातून जाणे'
1. निरूपयोगी होणे. 2. भीतीने थरकाप उडणे.
3. उदास होणे. 4. संशय येणे.
5. पोट, वांगे, दगड, लाजरा, गार, लाकूड, दाट, गाव यातील तद्भव शब्द ओळखा.
1. गाव 2. दगड 3. वांगे 4. दाट
6. जगत् शेटीचा नातू या शब्दाचा अर्थ कोणता?
1. निराश्रित माणूस 2. सुस्त व आळशी माणूस
3. मुखमाणूस 4. गर्भश्रीमंत माणूस

इंग्रजी

1. Select the correct articles to fill in the blanks. If there is no article required, select 'No article'.
My friend is working as _____ engineer in _____ international company.
1. a; an 2. an; an
3. No article; a 4. a; No article
2. Select the most appropriate option to fill in the blank.
The _____ sunset painted the sky with a stunning array of colours, creating a truly beautiful and unforgettable spectacle.

1. luminating 2. breathtaking
3. unremarkable 4. drab

3. Select the correct articles to fill in the blanks.
She accepted _____ role of _____ judge in the event.
1. a; a 2. the; the 3. the; a 4. a; the
4. Select the sentence that contains no errors.
1. The dancers enthralled the audience with their performance as they had rehearsed well.
2. The dancers enthralled the audience with their performance but they had rehearsed well.
3. The dancers enthralled the audience with their performance and they had rehearsed well.
4. The dancers enthralled the audience with their performance so they had rehearsed well.
5. Select the correct option to fill in the blank.
She sang the song _____ to impress the judges.
1. loudness 2. loudly 3. louder 4. loud
6. Select the option that can be used as a one-word substitute for the given group of words.
Someone employed to make written copies of documents and manuscripts
1. Cartographer 2. Calligrapher
3. Lexicographer 4. Scrivener

सामान्य ज्ञान

1. ऑक्टोबर 2024 रोजी, केंद्रीय मित्रमंडळाने कृषी क्षेत्रातील सर्व केंद्रीय योजना किती नवीन योजनांमध्ये एकत्रित जोडण्याचा निर्णय घेतला?
1. चार 2. तीन 3. दोन 4. पाच
2. ऑगस्ट 2024 मध्ये गुजरातमधील कच्छ किनाऱ्यावर आणि पाकिस्तानच्या आजूबाजूच्या भागात निर्माण झालेल्या चक्रीवादळाला खालीलपैकी कोणत्या देशाने 'आसना' हे नाव दिले?
1. अफगाणिस्तान 2. पाकिस्तान 3. येमेन 4. भारत

मराठी	1 - 3	2 - 1	3 - 1	4 - 1	5 - 1	6 - 1	सामान्यज्ञान	1 - 3	2 - 2
इंग्रजी	1 - 2	2 - 2	3 - 3	4 - 1	5 - 2	6 - 4			

मराठी

1. 'सदावर्त' या शब्दसमूहाचा अर्थ असणारा अचूक पर्याय शोधा.
 1. धर्मार्थ मोफत जेवण मिळण्याचे ठिकाण
 2. नेहमी व्यग्र
 3. नेहमी आवत
 4. आवर्त
2. कॅप्टनने खेळाडूला इशारे दिले. या वाक्यातील प्रयोग ओळखा.
 1. कर्मणी
 2. अकर्मक भावे
 3. सकर्मक कर्तरी
 4. सकर्मक भावे
3. विरुद्धार्थ शब्दाची योग्य जोडी असलेला पर्याय निवडा.

अ) अनिवार \times प्रमाणशीर ब) आघात \times प्रघात

क) गफलत \times दक्षता ड) गवगवा \times गोपनीय

 1. फक्त ब, क आणि ड योग्य
 2. फक्त अ, क आणि ड योग्य
 3. फक्त अ, ब आणि ड योग्य
 4. फक्त अ, ब आणि क योग्य
4. 'सुबत्ता' या शब्दाचा विरुद्ध अर्थ शब्द लिहा.
 1. दुर्भिक्ष
 2. दुष्काळ
 3. विरूपता
 4. कमरता
5. पुढीलपैकी 'वासरमणी' या शब्दाचा अर्थ कोणता?
 1. सर्पाचा राजा
 2. दिवस
 3. सुर्य
 4. इंद्र
6. कान्हा वराहाला मारतो या वाक्याचा प्रयोग कोणता ?
 1. कर्तरी प्रयोग
 2. कर्मणी प्रयोग
 3. कर्मकर्तरी प्रयोग
 4. भावे प्रयोग

इंग्रजी

1. Select the most appropriate article to fill in the blank. If no article is required, select 'No article required'.
 _____ black clouds, which are visible in the sky now, are casting a grim shadow on the barren fields.

1. an
2. No article required
3. the
4. a

2. Select the most appropriate option to fill in the blank.

A _____ painting was found in the house last night.

1. Japanese, small, beautiful
2. beautiful, Japanese, small
3. Japanese, beautiful, small
4. beautiful, small, Japanese

3. Select the most appropriate conjunction to fill in the blank.

Drinking cannot be given up _____ the liquor shops are open.

1. hence
2. so that
3. as long as
4. inspite of

4. Select the most appropriate one-word substitute of the group of words given in the brackets to fill in the blank.

Though she was raised in a conservative Hindu family, she remained _____ most of her life. (A person who is unsure about God's existence)

1. atheist
2. theologian
3. theist
4. agnostic

5. Select the correct articles to fill in the blank. If there is no article required, select 'No article'.

He saw _____ elephant crossing _____ narrow bridge.

1. a; No article
2. a; a
3. an; a
4. No article; the

6. Select the most appropriate option to fill in the blank.

The collaboration was successful because it involved negotiations _____ the two companies.

1. off
2. between
3. amongst
4. among

मराठी	1 - 1	2 - 1	3 - 2	4 - 1	5 - 3	6 - 1					
इंग्रजी	1 - 3	2 - 4	3 - 3	4 - 4	5 - 3	6 - 2					

मराठी

- खालील वाक्यरचना कोणत्या प्रकारची आहे ते सांगा.
'जे शिल्प भंगले आहे ते फार प्राचीन आहे.'
1. केवलवाक्य 2. नकारार्थी
3. आज्ञार्थी 4. विशेषण वाक्य
- 'जर पूर आला तर शेतीचे नुकसान होईल' ही वाक्यरचना कोणत्या प्रकारची आहे?
1. विध्यर्थी वाक्य 2. आज्ञार्थी वाक्य
3. संकेतार्थी वाक्य 4. स्वार्थी वाक्य
- 'क्षेम' या शब्दासाठी योग्य असलेला शब्द खालील पर्यायातून ओळखा.
1. शेत 2. स्थान 3. कल्याण 4. क्षेत्र
- 'एखाद्या गोष्टीवर केलेली खोचक टिका' या शब्दसमूहासाठी खालीलपैकी योग्य पर्याय निवडा.
1. कोल्हेकुई 2. मल्लीनाथी
3. चर्वितचर्वण 4. चर्पटपंजरी
- 'इतिश्री' या शब्दाचा विद्यार्थी शब्द सांगा.
1. शेवट 2. श्रीगणेशा 3. अखेर 4. निकाल
- 'गणेश परीक्षेत नापास का झाला?' ही वाक्यरचना कोणत्या प्रकारची आहे ?
1. आज्ञार्थी वाक्य 2. होकारार्थी वाक्य
3. प्रश्नार्थी वाक्य 4. नकारार्थी वाक्य

इंग्रजी

- Select the correct article to fill in the blank. If there is no article required, select 'No article'.
_____ moon looks stunning when it's full.
1. No article 2. A 3. An 4. The
- Which word describes a speech or text praising someone or something highly?
1. Panegyric 2. Diatribe 3. Eulogy 4. Soliloquy

- Select the most appropriate option to correct the sentence.

His idea was incredibilities innovative, changing the way the company approached its business strategy.

1. incredible 2. incredibility
3. incredibleness 4. incredibly

- Select the option that rectifies the given sentence.

The book on the shelf is more better than the one on the table.

1. The book on the shelf is best than the one on the table.
2. The book on the shelf is more best than the one on the table.
3. The book on the shelf is more good than the one on the table.
4. The book on the shelf is better than the one on the table.

- Select the most appropriate adjective to fill in the blank.

This book is very _____; I couldn't put it down.

1. hideous 2. tedious
3. contemptuous 4. intriguing

- Parts of the following sentence have been given as options. Select the option that contains an error.

I love the design of this bungalow but sadly garden is tiny.

1. but sadly garden 2. I love the design
3. of this bungalow 4. is tiny

सामान्यज्ञान

- डिसेंबर 2024 मध्ये, निवृत्त होण्यापूर्वी रविचंद्रन अश्विनची आंतरराष्ट्रीय क्रिकेट कारकीर्द किती मोठी होती ?
1. 16 वर्षे 2. 12 वर्षे 3. 10 वर्षे 4. 14 वर्षे

मराठी	1 - 4	2 - 3	3 - 3	4 - 2	5 - 2	6 - 3		सामान्यज्ञान	1 - 4	
इंग्रजी	1 - 4	2 - 3	3 - 1	4 - 4	5 - 4	6 - 1				

मराठी

- 'आच्छादित' या शब्दाचा समानार्थी शब्द कोणता ?
1. आजीव 2. आवृत 3. आगार 4. आंच
- 'ब्रह्मदेव' या शब्दाचा अचूक अर्थ सांगा.
1. जीवन 2. विप्र 3. द्विज 4. विरंची
- पुढे दिलेल्या शब्दाचा अर्थ सांगा.
जरत्कारू
1. जन्मजात शूर 2. अतिशय कंजूस
3. अतिशय प्रिय 4. अशक्त
- 'कोदंड' या शब्दाचा समानार्थी शब्द लिहा.
1. वात 2. धनुष्य 3. सूर 4. भूपती
- 'लोचन' या नामासाठी योग्य असलेला शब्द सांगा.
1. नेत्र 2. मऊ 3. मोचन 4. धवल
- 'धटिंगण' शब्दाचा समानार्थी शब्द ओळखा.
1. सज्जन 2. साधू 3. उर्मट 4. प्रेमळ

इंग्रजी

- Select the most appropriate option to fill in the blank.
Suman didn't attend the farewell party ___ she was personally invited by one of her colleagues.
1. although 2. but 3. if 4. unless
- Select the option that can be used as a one-word substitute for the given group of words.
A speech delivered without preparation
1. Manuscript 2. Extempore
3. Monologue 4. Dialogue
- Select the correct article to fill in the blank. If there is no article required, select 'No article'.
_____ band played stunningly during the concert, leaving the audience in amazement.
1. No article 2. A 3. The 4. An

- Select the most appropriate option to fill in the blank.

Data is stored _____ various hardware components, such as hard drives or solid-state drives, and can be accessed and manipulated by software.

- with 2. in 3. at 4. on

- Select the most appropriate option to fill in the blank.

The data was _____ analysed to ensure accuracy.

- nervously 2. rigorously
3. frequently 4. smoothly

- The following sentence has been divided into parts. One of them may contain an error. Select the part that contains the error from the given options. (Ignore the errors of punctuation, if any).

The students visited / an art gallery / in the Rome / during their field trip.

- in the Rome 2. an art gallery
3. during their field trip 4. The students visited

सामान्यज्ञान

- सप्टेंबर 2024 मध्ये राष्ट्रीय गुन्हे नोंद विभागाचे (NCRB) प्रमुख म्हणून कोणाची नियुक्ती करण्यात आली ?
1. विवेक गोगिया 2. प्रियांका मीना
3. संजय माथूर 4. आलोक रंजन
- खालीलपैकी कोणते केंद्रीय मंत्रालय सार्वजनिक परीक्षा (अनुचित मार्ग प्रतिबंधक) विधेयक, 2024 शी संबंधित आहे ?
1. कार्मिक, सार्वजनिक तक्रारी आणि निवृत्ती वेतन मंत्रालय
2. कायदा आणि न्याय मंत्रालय
3. अर्थ मंत्रालय
4. सामाजिक न्याय मंत्रालय

मराठी	1 - 2	2 - 4	3 - 4	4 - 2	5 - 1	6 - 3		सामान्यज्ञान	1 - 4	2 - 1
इंग्रजी	1 - 1	2 - 2	3 - 3	4 - 2	5 - 2	6 - 1				

मराठी

1. 'मला लॉटरी लागली तर!' ही वाक्यरचना कोणत्या प्रकारची आहे.
1. विध्यर्थी वाक्य 2. होकारार्थी वाक्य
3. केवलवाक्य 4. उद्धारार्थी वाक्य
2. 'हिरमोड' या शब्दाला विरुद्ध असलेला शब्द सांगा.
1. हरूप 2. हितावह 3. हितकर 4. काडीमोड
3. 'तुम्ही मला प्रश्न विचारलात.' या वाक्याचा प्रयोग ओळखा.
1. कर्तृ-कर्म संकर 2. कर्तृ-भाव संकर
3. गौणकतक भावे 4. कर्म-भाव संकर
4. 'पारखे' या शब्दाचा शब्दार्थवाचक शब्द पर्यायातून निवडा.
1. माहिती असणे 2. वंचित 3. ओळखणे 4. सत्य
5. ज्यातून अपार दिसू शकते त्यास म्हणतात.
1. अपार 2. पारदर्शक 3. अनंत 4. अपारदर्शक
6. समानार्थी शब्दाची योग्य जोडी असलेला पर्याय निवडा.
अ) मोठपणा-थोटांड ब) बखर-हकिकत
क) हरळी- आरोळी ड) चिकित्सा-चातुर्य
1. फक्त ब आणि क योग्य 2. फक्त अ, ब आणि ड योग्य
3. फक्त क आणि ड योग्य 4. फक्त अ, क आणि ड योग्य

इंग्रजी

1. Rectify the sentence by selecting the correct option to replace the underlined word.
The enthusiasm crowd cheered loudly as the team scored a brilliant goal.
1. enthusiastic 2. aesthetic 3. eccentric 4. sceptic
2. Select the most appropriate adjective to replace the underlined segment in the given sentence.
A gentle breeze carried the fungible scent of blooming jasmine through the open window.
1. tangible 2. flowless 3. glorious 4. fragrant
3. Select the correct article to fill in the blank. If

there is no article required, select 'No article'.

My cousin is ___ MLA.

1. a 2. No article 3. an 4. the

4. Select the most appropriate option to fill in the blank.

This information is of a ___ date than that.

1. later 2. later 3. latter 4. letter

5. Select the correct articles to fill in the blanks. If there is no article required, select 'No article'.

We travelled to ___ Himalayas during ___ last summer.

1. an; the 2. a; the 3. No article; the 4. the; the

6. Select the option that best describes the paragraph given below.

After ruling the kingdom for several decades, King Richard made the historic decision to formally relinquish his crown, passing the responsibility to his successor amidst a grand ceremony attended by nobles from across the realm.

1. King Richard coronated the throne.
2. King Richard abdicated the throne.
3. King Richard discarded the throne.
4. King Richard perforated the throne.

सामान्यज्ञान

1. सार्वजनिक परीक्षा (अयोग्य माध्यमाचा प्रबिबंध) कायदा, 2024 कोणत्या महिन्यात मंजूर करण्यात आला ?
1. फेब्रुवारी 2024 2. जुलै 2024
3. जून 2024 4. डिसेंबर 2024
2. नोव्हेंबर 2024 ह्या महिन्यात, भारताच्या केंद्रीय जल आयोगाच्या (CWC) एका नवीन अहवालात 2011 ते 2024 पर्यंत हिमालयीन हिमनदी जलाशयात ___ चा विस्तार दिसून आला.
1. 16.81% 2. 14.81% 3. 12.81% 4. 10.81%

मराठी	1 - 4	2 - 1	3 - 1	4 - 2	5 - 2	6 - 1		सामान्यज्ञान	1 - 1	2 - 4
इंग्रजी	1 - 1	2 - 4	3 - 3	4 - 2	5 - 4	6 - 2				

मराठी

- 'विसर्ग' या शब्दाला पर्यायातून कोणता शब्दार्थ लागू होईल?
अ) पूर्णविराम ब) शांत क) सोडून देणे ड) सुरुवात
1. क बरोबर 2. अ आणि ब बरोबर
3. ब, क आणि ड बरोबर 4. क आणि ड बरोबर
- पुढे दिलेल्या वाक्याचा प्रयोग ओळखा.
मयुरीने कलाकुसर केली
1. अकर्मक कर्तरी प्रयोग 2. कर्तरी प्रयोग
3. भावे प्रयोग 4. कर्मणी प्रयोग
- 'स्त्री' या शब्दाचा पर्यायवाची शब्द लिहा.
अ) वनिता, प्रमदा, रमा, ललना
ब) माता, आई, ममता, महिला
क) वनिता, प्रमदा, माता, आई
ड) रमा, ललना, ममता, महिला
1. क आणि ड बरोबर 2. अ आणि ब बरोबर
3. ब बरोबर 4. अ बरोबर
- 'आगर' या शब्दाचा योग्य अर्थ असलेला पर्याय निवडा.
1. आव्हान 2. साठा 3. वागणूक 4. अग्नी
- पुढील शब्दाचा समानार्थी शब्द सांगा. 'तुंदिलतनू'
1. वाकबगार 2. देखणा 3. लंबोदर 4. निष्णात
- 'मूर्च्छना' या शब्दाचा विरुद्धार्थी शब्द कोणता?
1. रचना 2. चेतना 3. तरणा 4. शहाणा

इंग्रजी

- Select the most appropriate one-word substitute of the underlined segment in the given sentence.
The new office assistant is so reserved or uncommunicative in speech that it is difficult to get even relevant information.
1. verbose 2. loquacious 3. garrulous 4. taciturn
- Select the most appropriate option to fill in the

blanks.

It is a rare luxury to breathe ____ fragrant air coming from ____ meadow filled with flowers.

1. a; a 2. the; the
3. a; the 4. the; no article required

3. Select the most appropriate option to fill in the blank.

The team completed the project ____ and met the deadline.

1. quickly 2. quicker 3. quickness 4. quick

4. Select the most appropriate option to fill in the blank.

The hungry cat decided to climb ____ tallest tree in the backyard.

1. No article required 2. the
3. a 4. an

5. Select the most appropriate option to fill in the blank.

The restaurant ____ the corner serves the best coffee in town.

1. on 2. from 3. for 4. above

6. Select the most appropriate option to fill in the blank.

The project was challenging, ____ it was a valuable learning experience that helped him grow professionally.

1. while 2. because 3. nor 4. yet

सामान्यज्ञान

1. जुलै 2024 ह्या महिन्यात, कोणत्या आंतरराष्ट्रीय संस्थेने भारताला अन्यायकारक वाटणारा कार्बन सीमा समायोजन तंत्राचा प्रस्ताव मांडला?
1. जागतिक व्यापार संघटना 2. आंतरराष्ट्रीय मुद्रा निधी
3. संयुक्त राष्ट्र 4. युरोपिय संघ

मराठी	1 - 1	2 - 4	3 - 4	4 - 2	5 - 3	6 -		सामान्यज्ञान	1 - 4	
इंग्रजी	1 - 4	2 - 2	3 - 1	4 - 2	5 - 1	6 - 4				

विभाग : इंग्रजी

1. Sentences of a paragraph are given below in jumbled order. Arrange the sentences in the right order to form a meaningful and coherent paragraph.

- (A) She hurried to the door and found her neighbour standing there.
 (B) Emily agreed and handed her the sugar.
 (C) The neighbour asked if she could borrow some sugar for her recipe.
 (D) Emily heard a loud knock on the door while she was making breakfast.

1. DACB 2. ABCD 3. DCBA 4. ABDC

2. Select the most appropriate option to fill in the blank.

The passengers waited patiently the platform for the delayed train.

1. on 2. it 3. over 4. at

3. Fill in the blank with the correct part of speech: The candidate is the quality of a strong leader.

1. assertiveness 2. pride
 3. candidacy 4. command

4. Select the most appropriate synonym of the given word.

Predominate

1. Emaciate 2. Perpetuate
 3. Perceive 4. Preponderate

5. Sentences of a paragraph are given below in jumbled order. Arrange the sentences in the correct order to form a meaningful and coherent paragraph.

A. In today's world, where information is

abundant, critical thinking is more important than ever.

- B. Therefore, fostering critical thinking skills is essential for personal and professional growth.
 C. It allows people to distinguish between facts and opinions.
 D. Critical thinking is the ability to analyse and evaluate information objectively.
 E. It helps individuals make informed decisions and solve problems effectively.

1. BAEDC 2. DEACB 3. CEDAB 4. EADCB

विभाग : मराठी

1. खाली दिलेल्या शब्दाचा समानार्थी शब्द सांगा.

'यःकश्चित'

1. क्षुद्र 2. जड
 3. किंचित 4. श्रीमंत

2. छत्रपती शिवाजी महाराज अतिशय पराक्रमी होते. या वाक्याचा उद्गारार्थी वाक्य कोणते ?

1. किती पराक्रमी होते छत्रपती शिवाजी महाराज !
 2. छत्रपती शिवाजी महाराज खूपच पराक्रमी होते!
 3. छत्रपती शिवाजी महाराज अतिशय पराक्रमी होते ना !
 4. छत्रपती शिवाजी महाराज काही कमी पराक्रमी नव्हते!

3. 'फूट' या शब्दाचा अर्थ नसलेला पर्याय ओळखा.

1. विघटन 2. बेबनाव
 3. भेग 4. दुही

4. खालीलपैकी कोणत्या गटातील शब्द 'उपमर्द' या अर्थी वापरले जातात ?

- अ) उद्दाम, उर्मट ब) उन्माद, माज
 क) अपमान, पाणउतारा ड) उपद्रवी, त्रासदायक
 1. फक्त अ बरोबर 2. फक्त ब व ड बरोबर
 3. फक्त क व ड बरोबर 4. फक्त क बरोबर

इंग्रजी	1 - 1	2 - 1	3 - 1	4 - 4	5 - 2						
मराठी	1 - 1	2 - 1	3 - 3	4 - 4							

विभाग : इंग्रजी

1. Select the most appropriate form of adjective to fill in the blank.

This oral test was than the last one.

1. easy 2. easier 3. easiest 4. more easy

2. Select the most appropriate preposition to fill in the blank.

One can meet the chairperson 10 a.m. and 12 noon in his corporate office at MG Road, Indore.

1. between 2. on 3. at 4. from

3. Sentences of a paragraph are given below in jumbled order. Arrange the sentences in the correct order to form a meaningful and coherent paragraph.

- A. Leadership is not limited to positions of power; anyone can be a leader in their own way.
B. Therefore, developing leadership skills is important for making a positive impact on society.
C. They play a crucial role in shaping the direction of organisations and communities.
D. Effective leaders possess qualities like vision, integrity and empathy.
E. Leadership is the ability to guide and inspire others toward a common goal.

1. BEACD 2. CEDAB 3. EDCAB 4. DBECA

4. Select the most appropriate synonym of the given word. -

Ameliorate

1. Improve 2. Deteriorate
3. Challenge 4. Evaluate

5. Sentences of a paragraph are given below in jumbled order. Arrange the sentences in the

right order to form a meaningful and coherent paragraph.

- A) As these technologies evolve, they promise to revolutionise industries like healthcare, finance and education, driving innovation and solving complex challenges.
B) Researchers are developing more efficient algorithms that can process vast amounts of data quickly, allowing AI systems to learn and adapt in real-time.
C) Additionally, deep learning techniques are improving AI's ability to recognise patterns, make predictions and perform complex tasks with minimal human input.
D) The next generation of AI tools will also feature greater scalability, enabling seamless integration across diverse platforms and environments.
E) The computer science of the next wave of AI tools is set to transform various industries with advancements in machine learning, natural language processing and neural networks.

1. DBACE 2. BACED 3. EBCDA 4. ABCDE

विभाग : मराठी

1. 'अडेलतट्टू' या शब्दाचा विरुद्धार्थी आशय व्यक्त करणारा शब्द ओळखा.

- अ) शिकलेला ब) समजदार
क) अपात्र ड) निर्भय
1. ब व ड बरोबर 2. फक्त ब बरोबर
3. फक्त क बरोबर 4. फक्त अ बरोबर

2. खालील वाक्यांचे एक केवळ वाक्य कोणते ?

- अ) तो सायकलवरून जात होता.
ब) समोर खड्डा होता.
क) तो पडला.

इंग्रजी	1 - 2	2 - 1	3 - 3	4 - 1	5 - 3						
मराठी	1 - 2	2 - 2									

विभाग : इंग्रजी

1. Sentences of a paragraph are given below in jumbled order. Arrange the sentences in the right order to form a meaningful and coherent paragraph.

- (A) She had come home to surprise him with a huge cake, which had fallen down.
 (B) He quickly got up and went downstairs to check the rooms.
 (C) While checking the rooms, he suddenly saw his sister hiding under the chair.
 (D) Robert was doing his homework when he heard a strange noise from downstairs.

1. DBCA 2. ABCD 3. ABDC 4. DCAB

2. Sentences of a paragraph are given below in jumbled order. Arrange the sentences in the right order to form a meaningful and coherent paragraph.

- (A) She walked over and checked the stove to see if anything was burning.
 (B) She realised that the pan had been left on too long and turned off the heat.
 (C) Sarah noticed the smell of smoke coming from the kitchen.
 (D) After opening the windows to let the smoke out, she went back to her work.

1. CABD 2. DCBA 3. DBAC 4. BCDA

3. Select the most appropriate adverb to fill in the blank. - Gowri ran to catch the bus before it departed.

1. quickly 2. gently 3. safely 4. quietly

4. Select the most appropriate ANTONYM of the given word. - Ephemeral

1. Permanent 2. Temporary
 3. Challenging 4. Grueling

5. Select the most appropriate pronoun to fill in the blank. - We have to complete this work

1. themselves 2. ourselves
 3. oneself 4. yourselves

1. पुढील वाक्यात कंसात दिलेल्या सूचनेप्रमाणे वाक्यबदल करा. तुम्ही मला बोलू देणार आहात की नाही ? (आज्ञार्थी करा.)

1. तुम्ही मला बोलू देणार आहात.
 2. तुम्ही मला बोलू देणार नाही का.
 3. तुम्ही मला बोलू द्या.
 4. कृपया मला बोलू द्यावे.

2. तपशील या शब्दाचा विरुद्धार्थी शब्द खालील पर्यायातून ओळखा.

1. अस्पष्ट 2. मर्यादशील 3. त्रोटक 4. ठळक

3. खालील शब्दाचा अर्थ सांगा. 'आकांक्षा'

1. कामना 2. जान्हवी 3. भागीरथी 4. कांता

4. 'स्थितिस्थापक' या शब्दाचा विरुद्धार्थी शब्द सांगा.

1. वाकणे 2. ताठ 3. स्थापना 4. संस्थापक

5. त्याने काम चांगल्या रीतीने केले असते, तर त्याला नक्कीच बढती मिळाली असती. या वाक्याचा प्रकार ओळखा.

1. संयुक्त वाक्य 2. विध्यर्थी वाक्य
 3. केवल वाक्य 4. संकेतार्थी वाक्य

विभाग : सामान्यज्ञान

1. 2023 या वर्षी प्रसिद्ध झालेल्या राष्ट्रीय गुन्हे नोंद विभागाच्या (NCRB) 2022 च्या वार्षिक अहवालानुसार, खालीलपैकी कोणते विधान योग्य आहे ?

1. महाराष्ट्रात 2022 या वर्षी भ्रष्टाचाराची 773 प्रकरणे नोंदवली गेली.
 2. महाराष्ट्रात 2021 या वर्षी भ्रष्टाचाराची 759 प्रकरणे नोंदवली गेली.
 3. महाराष्ट्रात 2020 या वर्षी भ्रष्टाचाराची 694 प्रकरणे नोंदवली गेली.

इंग्रजी	1 - 1	2 - 1	3 - 1	4 - 1	5 - 2	सामान्यज्ञान	1 - 1			
सामान्यज्ञान	1 - 3	2 - 3	3 - 1	4 - 2	5 - 4					

8. दिलेल्या मालिकेत प्रश्नचिन्हाच्या (?) जागी येणारा पर्याय निवडा.

5, 18, 57, 174, ?

1. 270 2. 348 3. 464 4. 525

9. ट्रेन A ही 6:45 AM वाजता M स्टेशनवरून निघते आणि त्याच दिवशी 3:45 AM वाजता N स्टेशनवर पोहोचते. ट्रेन B ही 8:45 PM वाजता N स्टेशनवरून निघते आणि त्याच दिवशी 1:45 PM वाजता M स्टेशनवर पोहोचते. तर ट्रेन A आणि B एकमेकींना कोणत्या वेळी भेटतील?

1. 11:15 AM 2. 9 :44 AM
3. 4:12 AM 4. 12:44 AM

10. B हे C चे वडिल आहे, C हे D चे पती आहे, D ही E ची आई आहे, E ही F ची पत्नी आहे. F चे B शी काय नाते असेल?

1. बहिणीचा पती 2. भाऊ
3. वडील 4. मुलाच्या मुलीचा पती

विभाग : सामान्यज्ञान

1. तुम्हाला तुमच्या डॉक्युमेंटच्या लायब्ररीमध्ये आणि पिक्चर तसेच तुमच्या स्टोरेज डिव्हाइसमध्ये प्रवेश देतात. यात वारंवार वापरले जाणारे फोल्डर आणि नेटवर्क उपकरणे देखील असतात.

1. फाइल एक्सप्लोरर रिबन 2. फ्रिक्वेंट फोल्डर
3. नेव्हिगेशन पेन 4. रिसेंट फाईल सेक्शन

2. विंडोजचा कोणता घटक आयकॉन, मेन्यू आणि विंडोसह ग्राफिकल इंटरफेस पुरवतो?

1. कमांड लाइन इंटरफेस 2. कर्नल (Kernel)
3. रजिस्ट्री 4. डेस्कटॉप

3. स्मार्ट स्पीकरद्वारे खरेदी करण्यासारख्या व्हाईस-आधारित ई-कॉमर्सला सक्षम करण्यासाठी कोणते तंत्रज्ञान आवश्यक आहे?

1. नॅचरल लॅंग्वेज जनरेटर 2. नॅचरल लॅंग्वेज प्रोसेसिंग
3. ऑगमेंटेड रियलिटी 4. नॅचरल लॅंग्वेज ट्रान्सलेटर

4. विंडोज OS मध्ये सिस्टम प्रॉपर्टीज उघडण्यासाठी खालीलपैकी कोणती कमांड वापरली जाते?

1. sysdom.cpl 2. sysdm.msc
3. sysdm.exe 4. sysdm.reg

5. विंडोज OS रजिस्ट्रीमध्ये, कोणती की ऑप्लिकेशनसाठी युजर - स्पेसिफिक फाइल असोसिएशन संग्रहित करते?

1. HKEY_CLASSES_ROOT\Software\Classes
2. HKEY_LOCAL_MACHINE\Software\Classes
3. HKEY_CURRENT_USER\Software\Classes
4. HKEY_CURRENT_USER\Microsoft\Classes

4

अंगणवाडी मुख्यसेविका (पर्यवेक्षिका)

दिनांक - 22 फेब्रुवारी 2025

विभाग : इंग्रजी

1. Select the most appropriate adverb to fill in the blank.

Anita told me, "The child could not contain her excitement and _____ opened the presents as soon as she woke up on Christmas morning."

1. abruptly 2. calmly 3. easily 4. eagerly

2. Select the most appropriate ANTONYM of the given word. - Control

1. Adjustment 2. Weakness 3. Check 4. Boundary

3. Sentences of a paragraph are given below in jumbled order. Arrange the sentences in the right order to form a meaningful and coherent paragraph.

(A) He stepped outside and quickly made his way to the car with his umbrella.
(B) Tom heard the sound of rain tapping on the window.
(C) seeing it was pouring, he grabbed his umbrella and put on his raincoat.
(D) He stood up and peeked outside to check how heavy the rain was.

1. BDCA 2. DCAB 3. ABCD 4. AD BC

सामान्यज्ञान	8 - 4	9 - 1	10 - 4	सामान्यज्ञान	1 - 3	2 - 4	3 - 2	4 - 1	5 - 3
इंग्रजी	1 - 4	2 - 2	3 - 1						

4. Arrange the following sentences in the correct order to form a coherent

passage: Opening Sentence: Solar energy is a sustainable and renewable source of power derived from the sun's rays.

- A. As technologies like photovoltaic cells and solar thermal systems advance, the efficiency and affordability of solar panels continue to improve, making solar energy a viable option for both residential and commercial use.
- B. The power is obtained by harnessing sunlight through technologies such as photovoltaic cells and solar thermal systems.
- C. Using solar energy instead of fossil fuel not only supports environmental conservation but also fosters economic growth through job creation in the renewable energy sector.
- D. Solar panels, for example, capture energy from the sun and convert it into electricity, offering a clean and sustainable power source. Closing Sentence:

The ongoing development of renewable energy technologies promises a more sustainable and environmentally friendly future.

1. CDDB 2. ABCD 3. BCAD 4. DBAC

5. Select the most appropriate preposition to fill in the blank.

On the occasion of World Cancer Day, Mrs. Varma delivered a lecture _____ the causes of cancer and awareness measures.

1. for 2. at 3. on 4. upon

विभाग : मराठी

1. खालील वाक्याचे नकारार्थी वाक्यात रूपांतर करा. 'तनुजाचे अक्षर खराब आहे.'
1. तनुजाचे अक्षर चांगले नाही.
2. तनुजाचे अक्षर बरे असावे.
3. तनुजाचे अक्षर साधारण आहे.
4. तनुजाचे अक्षर वाईट आहे.

2. 'विजयाची बातमी कळविणारे पत्र' या अर्थाचा योग्य शब्द दिलेल्या पर्यायातून निवडा.

1. राजपत्र 2. फिर्याद 3. फत्तेनामा 4. मानपत्र

3. 'दुर्भिक्ष्य' या शब्दाचा योग्य अर्थ ओळखा.

1. विपुलता 2. कमतरता 3. अखंडता 4. विविधता

4. 'अनुष्काने सुरेल गाणे म्हटले' या वाक्यातील विधेय सांगा.

1. गाणे 2. अनुष्काने 3. म्हटले 4. सुरेल गाणे

5. मुखदुर्बळ या शब्दाचा विरुद्धार्थी शब्द कोणता?

1. खमक्या 2. चतुरस्त्र 3. गप्पीदास 4. कारस्थानी

विभाग : सामान्यज्ञान

1. महाराष्ट्रातील कोणत्या जिल्ह्यात गोदावरी नदीचा उगम स्थित आहे?

1. पुणे 2. नाशिक 3. सातारा 4. नागपूर

2. हरिश्चंद्र पर्वतरांग कोणत्या दोन नद्यांदरम्यान आहे?

1. गंगा आणि यमुना 2. गोदावरी आणि भीमा
3. ब्रह्मपुत्रा आणि सिंधू 4. कृष्णा आणि कावेरी

3. खालीलपैकी कोणती नदी पश्चिमेकडे वाहते?

1. भीमा 2. कृष्णा 3. तापी 4. कावेरी

4. खालीलपैकी कोणते/ती विधान/ने योग्य आहे/आहेत?

1. साल 2011 मध्ये महाराष्ट्राचा लिंग गुणोत्तर दर 1000 पुरुषांमागे 929 महिला इतका होता, जो दर 1000 पुरुषांमागे 940 महिलांच्या राष्ट्रीय सरासरीपेक्षा कमी आहे.
2. समग्र शिक्षा अंतर्गत, कस्तुरबा गांधी बालिका विद्यालयांचे (KGBV) शिक्षणातील लिंगभेद भरून काढण्यासाठी वंचित गटातील मुलींना निवासी शिक्षण देण्याचे उद्दिष्ट आहे.
1. केवळ 1 2. केवळ 2
3. 1 आणि 2 हे दोन्ही 4. 1 किंवा 2 यांपैकी एकही नाही

5. भारतीय राज्यघटनेतील "धर्मनिरपेक्षता" या संज्ञेबाबत खालील विधाने विचारात घ्या.

- A. धर्माच्या आधारावर राज्य कोणत्याही नागरिकाशी भेदभाव करणार नाही.
- B. 1976 च्या बेचाळीसाव्या घटनादुरुस्ती कायद्याद्वारे उद्देशिकेमध्ये 'धर्मनिरपेक्ष' समाविष्ट करण्यात आले.
- C. राज्याद्वारे चालवल्या जाणाऱ्या कोणत्याही शैक्षणिक संस्थेत धार्मिक शिक्षण दिले जाणार नाही.

इंग्रजी	4 - 4	5 - 3	मराठी		1 - 1	2 - 3	3 - 2	4 - 3	5 - 3
सामान्यज्ञान	1 - 2	2 - 2	3 - 3	4 - 3	5 - 4				

विभाग : मराठी

- पुढील शब्दातील विशेषणाचा प्रकार ओळखा.
'पन्नासावा'
1. क्रमवाचक विशेषण 2. गणनावाचक विशेषण
3. अनिश्चित विशेषण 4. आवृत्तीवाचक विशेषण
- कृष्णार्जुन या शब्दाचा समास ओळखा.
1. इतरेतर द्वंद्व समास 2. उपपद तत्पुरुष समास
3. मध्यमपदलोपी समास 4. वैकल्पिक द्वंद्व समास
- पुढे दिलेल्या पर्यायामधून अनिश्चित संख्याविशेषणाचा पर्याय ओळखा.
1. दोन्ही बहिणी 2. सर्व विद्यार्थी
3. चारी भाऊ 4. पाची पांडव
- राजपुत्र, भूपती, पोटपूजा, घोडदौड ही कोणत्या समासाची उदाहरणे आहेत?
1. वैकल्पिक द्वंद्व समास 2. विभक्ती तत्पुरुष समास समास
3. बहुव्रीही समास 4. षष्ठी तत्पुरुष समास
- तू केव्हा आलास
वरील वाक्यात कोणते विरामचिन्ह वापरावे?
1. पूर्णविराम 2. अर्धविराम
3. प्रश्नचिन्ह 4. स्वल्पविराम
- एकेरी अवतरणचिन्ह या विरामचिन्हाचा वापर लेखनात कधी करतात?
1. मुख्य गोष्ट सूचित करण्यासाठी
2. उत्कट भावना व्यक्त करताना
3. वाक्याच्या शेवटी तपशील द्यायचा असल्यास
4. संबोधन दर्शविताना
- पुढे दिलेल्या शब्दाचा समानार्थी कोणता ?
वल्लरी -
1. सामर्थ्य 2. सिद्धी 3. वेल 4. नाव

विभाग : इंग्रजी

- Select the most appropriate option to fill in the blank.
The cop hit the thief on the shoulder.
1. soft 2. hardly 3. hard 4. softly
- Select the most appropriate option that can substitute the underlined segments in the given sentence. If there is no need to substitute them, select 'No substitution required'.
In the next few months, they will be travelling to Europe and will have visited several countries.
1. will travel / will visit
2. will be travelling / will visit
3. No substitution required
4. will travel / will have visited
- Choose the correct form of present tense from the given options to rectify the error in the following sentence.
The river flow peacefully through the valley, reflecting the clear blue sky and embracing the surrounding nature with its gentle currents.
1. flows 2. flew 3. flowing 4. flowed
- Select the most appropriate for of the verb to fill in the blank.
Rahul to the store right now.
1. have walking 2. was walking
3. had walking 4. is walking
- Identify the segment that contains a grammatical error. If there is no error, select 'No error'.
Before longer the / cat was seized by / another fit of yearning.
1. cat was seized by 2. another fit of yearning.
3. No error 4. Before longer the

मराठी	1 - 1	2 - 1	3 - 2	4 - 4	5 - 3	6 - 1	7 - 3				
इंग्रजी	1 - 4	2 - 3	3 - 1	4 - 4	5 - 4						

विभाग : मराठी

- 'व्यर्थ' या शब्दाचा समास सांगा.
 - अव्ययीभाव समास
 - द्वंद्व समास
 - द्विगु समास
 - बहुव्रीही समास
- खालील वाक्यातील प्रयोग ओळखा. लोक मला नेहमीच मान देतात.
 - भावे प्रयोग
 - कर्मणी प्रयोग
 - सकर्मक कर्तरी प्रयोग
 - अकर्मक कर्तरी प्रयोग
- 'शेतीवाडी' या शब्दाचा समास ओळखा.
 - इतरेतर द्वंद्व समास
 - समाहार द्वंद्व समास
 - द्विगु समास
 - वैकल्पिक द्वंद्व समास
- शब्द व समास प्रकार यांच्या योग्य जोड्या जुळवा.

अ) अयोग्य	1) अव्ययीभाव समास
ब) दशदिशा	2) वैकल्पिक द्वंद्व समास
क) भेदाभेद	3) द्विगु समास
ड) प्रतिवर्ष	4) नत्र तत्पुरुष समास

 - (अ-4) (ब - 3) (क-2) (ड-1)
 - (अ-4) (ब - 2) (क-1) (ड-3)
 - (अ- 3) (ब - 1) (क-2) (ड-4)
 - (अ- 3) (ब - 4) (क-2) (ड-1)
- 'साखर' हे कोणते नाम आहे ?
 - सामान्यनाम
 - धातुसाधितनाम
 - भाववाचकनाम
 - विशेषनाम
- खालीलपैकी तत्पुरुष समासाचे उदाहरण असलेला पर्याय निवडा.
 - विधवा
 - खलबत्ता
 - वेणीफणी
 - क्रीडांगण
- 'जे चकाकते ते सारेच सोने नसते.' या वाक्यातील सर्वनामाचा प्रकार ओळखा.
 - पुरुषवाचक सर्वनाम
 - अनिश्चित सर्वनाम
 - आत्मवाचक सर्वनाम
 - संबंधी सर्वनाम

विभाग : इंग्रजी

- Fill in the blank with the most appropriate option.
After a lot of searching and inquiries, we found out that they had emigrated to Argentina.
 - Eventually
 - Periodically
 - Formerly
 - Occasionally
- Fill in the blank with the most appropriate option. - It was about twelve when I felt anxious, so I Ans the door and waited for Patil.
 - stand aside
 - stood by
 - stand by
 - standing by
- Fill in the blank with the most appropriate option.
I how it might be the last time I would ever see her again.
 - thought
 - think
 - thinking
 - am thinking
- Fill in the blank with the most appropriate option.
Robert Clive failed to provide assistance to Muhammad Ali in the war at Trichinopoly
 - effective
 - impotent
 - sloppy
 - tardy
- Of the four sentences given in the options, three are grammatically incorrect. Select the grammatically correct option:
 - He was stopped by the churches ringing out the lustiest peals he had ever heard.
 - He was stop by the churches ringing out the lustiest peals he have ever heard.
 - He was stops by the churches ringing out the lustiest peals he has ever heard.
 - He were stopped by the churches ringing out the lustiest peals he have ever heard.

मराठी	1 - 1	2 - 3	3 - 2	4 - 1	5 - 1	6 - 4	7 - 4			
इंग्रजी	1 - 1	2 - 2	3 - 1	4 - 1	5 - 1					

2. खालील मालिकेतील केवळ एकच संख्या अयोग्य आहे. अयोग्य संख्या निवडा. - 24, 43, 60, 77, 94, 111
1. 77 2. 24 3. 60 4. 43
3. दिलेल्या मालिकेतील चुकीची संख्या निवडा:
(टीप: संख्यांना त्यांच्या घटक अंकांमध्ये न मोडता पूर्ण संख्यांवर क्रिया कराव्यात. उदा. 13 - 13 वर क्रिया जसे की 13 ला जोडणे / वजा करणे / गुणाकार करणे शक्य आहे. 13 ला 1 आणि 3 मध्ये विभाजित करणे आणि नंतर 1 आणि 3 वर गणितीय क्रिया करण्याची परवानगी दिली जात नाही.)
400, 441, 484, 519, 576, 625
1. 484 2. 576 3. 519 4. 441
4. दिलेली मालिका पूर्ण होण्यासाठी प्रश्नचिन्हाच्या (?) जागी खालीलपैकी कोणती संख्या येईल? (टीप: संख्यांना त्यांच्या घटक अंकांमध्ये न मोडता पूर्ण संख्यांवर क्रिया कराव्यात. उदा. 13 - 13 वर क्रिया की 13 ला जोडणे / वजा करणे / गुणाकार करणे शक्य आहे. 13 ला 1 आणि 3 मध्ये विभाजित करणे आणि नंतर 1 आणि 3 वर गणितीय क्रिया करण्याची परवानगी दिली जात नाही.) - 37, 75, 114, 154, 195, ?

1. 217 2. 237 3. 227 4. 247
5. चार- अक्षरसमूह दिले आहेत, त्यापैकी तीन विशिष्ट तन्हेने समान आहेत आणि एक वेगळा आहे. वेगळा असलेला अक्षरसमूह निवडा.
1. WZCF 2. MPSV 3. EHKV 4. KNQU
6. खालील मालिकेतील केवळ एकच संख्या अयोग्य आहे. ती अयोग्य संख्या निवडा. - 21, 39, 57, 77, 93, 111
1. 77 2. 57 3. 111 4. 93
7. दिलेली मालिका पूर्ण होण्यासाठी प्रश्नचिन्हाच्या (?) जागी खालीलपैकी कोणती संख्या येईल? (टीप: संख्यांना त्यांच्या घटक अंकांमध्ये न मोडता पूर्ण संख्यांवर क्रिया कराव्यात. उदा. 13-13 वर क्रिया जसे की 13 ला जोडणे / वजा करणे / गुणाकार करणे शक्य आहे. 13 ला 1 आणि 3 मध्ये विभाजित करणे आणि नंतर 1 आणि 3 वर गणितीय क्रिया करण्याची परवानगी दिली जात नाही.)
30, 60, 90, 120, ?
1. 150 2. 165 3. 140 4. 135

बुद्धिमत्ता चाचणी

2-2

3-3

4-2

5-4

6-1

7-1

3

महिला व बालविकास विभाग

Senior Clerk

दिनांक - 17 फेब्रुवारी 2025

विभाग : मराठी

1. पुढील वाक्यातील काळ ओळखा. आई स्वयंपाक करत आहे.
1. चालू भूतकाळ 2. चालू वर्तमानकाळ
3. पूर्ण वर्तमानकाळ 4. रिती वर्तमानकाळ
2. ज्याने भांडण उकरले तो माफी मागेल. या वाक्यातील सर्वनामाचा प्रकार ओळखा?
1. प्रश्नार्थक सर्वनाम 2. अनिश्चित सर्वनाम
3. संबंधी सर्वनाम 4. दर्शक सर्वनाम
3. 'आवर' या शब्दाचा विरुद्धार्थी शब्द कोणता ?
1. व्यय 2. अजागळ 3. अंतिम 4. अंत
4. रेंदाड या शब्दाचा समानार्थी शब्द कोणता ?
1. गनिम 2. खेचर 3. गबर 4. गढूळ

5. 'माझ्यासाठी राजाने अहोरात्र झटावे. या विधानातील प्रयोग ओळखा.
1. अकर्मक भावे प्रयोग 2. प्रधान कर्तृक भावे प्रयोग
3. सकर्मक भावे प्रयोग 4. गौण कर्तृक भावे प्रयोग
6. पुढे दिलेल्या शब्दाचा ध्वनीदर्शक शब्द सांगा .
ताशाची -
1. गडगडाट 2. घनघनाट
3. चमचमाट 4. तडतड
7. पुढे दिलेल्या शब्दाचा अर्थ काय ? परिमळ -
1. सुगंध 2. निर्मळता
3. स्वच्छपणा 4. पवित्र

मराठी

1-2

2-3

3-2

4-4

5-1

6-4

7-1

विभाग : इंग्रजी

1. Select the most appropriate verb form to fill in the blank.

I for my exams all day tomorrow.

1. will being studying
2. will be studying
3. will have be studying
4. will been studying

2. Select the sentence with the INCORRECT use of an adverb.

1. He writes fast because he's always in a rush.
2. The students listened attentively to the lecture.
3. The old man walked slowly across the street.
4. She danced gracefully at the ballet recital.

3. Select the most appropriate option to fill in the blank.

I must go to war such is my duty.

1. for
2. but
3. even
4. however

4. Select the most appropriate adverb to fill the blank.

Solomon chose not to comment, knowing his words would be taken earnestly by the entire team.

1. deliberately
2. conversely
3. tastefully
4. panickily

5. Select the most appropriate verb form to fill in the blank.

She her grandparents next week.

1. had been visiting
2. visit
3. has been visiting
4. will visit

6. Identify the error in the following sentence and select the correct sentence from the given options.

What will he be done when you visit him?

1. What will he done when you visit him?
2. What will he doing when you visit him?

3. What will he be do when you visit him?
4. What will he be doing when you visit him?

विभाग : सामान्यज्ञान

1. खालीलपैकी कोणत्या भारतीय फिनटेक कंपनीने भारतातील पहिले AI- ड्राइव्ह क्रेडिट कार्ड एक्सपर्ट, ची ओळख करून दिली आहे?

1. Phone Pe
2. Razorpay
3. Paytm
4. CheQ

2. खालीलपैकी कोणत्या राज्याने मे 2024 मध्ये मदत शिबिरांमध्ये राहणाऱ्या मुलांसाठी 'स्कूल ऑन व्हील्स' कार्यक्रम सुरू केला?

1. मणिपूर
2. अरुणाचल प्रदेश
3. आसाम
4. त्रिपुरा

3. साल 2024 च्या दुसऱ्या तिमाहीत दोन बँकांचे विलीनीकरण पूर्ण होण्याच्या संदर्भात खालीलपैकी कोणता पर्याय योग्य आहे?

1. IDFC लिमिटेडचे ICICI बँकेत विलीनीकरण
2. IDFC फर्स्ट बँकेचे IDFC लिमिटेडमध्ये विलीनीकरण
3. IDFC लिमिटेडचे IDFC फर्स्ट बँकेत विलीनीकरण
4. IDFC लिमिटेडचे अॅक्सिस बँकेत विलीनीकरण

4. 31 मे पर्यंतच्या उपलब्ध माहितीनुसार, भारतामध्ये, आर्थिक सर्वेक्षण 2023-24 नुसार, प्रतिस्थापित वीज निर्मिती क्षमतेमध्ये गैर- जीवाश्म स्रोतांचा वाटा. पर्यंत पोहोचला आहे.

1. 55.4%
2. 35.4%
3. 45.4%
4. 65.4%

5. NEP-2020 च्या 'पाच स्तंभ' मध्ये खालीलपैकी कशाचा विचार केला जात नाही?

1. प्रमाण
2. परचडणारी
3. प्रवेश
4. इक्विटी

6. सप्टेंबर 2024 च्या सुरुवातीला आलेल्या पुरामुळे गंभीररित्या प्रभावित झालेल्या खालीलपैकी कोणत्या भारतीय शहरात बचाव कार्यासाठी सैन्य तैनात करण्यात आले होते?

1. कोलकाता
2. बेंगळुरू
3. विजयवाडा
4. चेन्नई

विभाग : बुद्धिमत्ता चाचणी

1. दिलेली मालिका तर्कदृष्ट्या पूर्ण होण्यासाठी प्रश्नचिन्हाच्या (?) जागी कोणता पर्याय आला पाहिजे?

SL17, QJ29, OH41, MF53, ?

1. KD65
2. KE66
3. KD66
4. KE65

इंग्रजी	1 - 2	2 - 1	3 - 1	4 - 1	5 - 4	6 - 4	बुद्धिमत्ता	1 - 1		
सामान्यज्ञान	1 - 4	2 - 1	3 - 3	4 - 3	5 - 1	6 - 3	चाचणी			

विभाग : मराठी

1 'त्याने आपल्या मुलीला कालच सासरी पाठविले. या वाक्याचा प्रयोग ओळखा.

1. शक्य भावे प्रयोग
2. सकर्मक कर्तरी
3. सकर्मक कर्मणी
4. भावे प्रयोग

पुढील उतारा वाचून विचारलेल्या प्रश्नांची अचूक उत्तरे द्या.

मुंबईला इंजिनियरिंग कॉलेजला शिकत असताना मी वसतिगृहात राहत होतो. जेवणाची चांगली व्यवस्थाच नव्हती. घरच्या जेवणासाठी मन आतुर होत असे. घरच्या आठवणींनी माझ्या डोळ्यात पाणी भरून येई. शरीरात आणि मनात मुरलेला गावच्या मातीचा वास, त्या मातीची ओढ लावीत असे. परीक्षा झाली की मी लगेच रात्रीची गाडी पकडून खानदेशातल्या माझ्या भालोद या गावी जाई. भुसावळ स्टेशनला उतरून एस्टी पकडून गावात पोचायचे. गावच्या मातीला पाय लागताच बालपणीच्या आठवणीने मन भरून येई. आईला माहीतच असे की घरी पोचल्यावर मला काय हवे आहे, मला कसली ओढ आहे घरचे साधे पण मायेने ओथंबलेले जेवण ! अंधोळ करून मी ताटावर बसे.... ताट कसले, पानावर बसे. मध्यम आकाराच्या, कोवळ्या ताज्या केळीच्या पानावर जेवण वाढलेले असे. लंबगोलाकार हिरवे केळीचे पान, त्या पानाला मधोमध जाड पन्हाळीसारखी शीर. मुंबईहून आल्यावर ते पानही मला मोहक वाटे. पानाच्या मधोमध कळण्याची भाकरी असे .त्या भाकरीचा पोपडा काढलेला असायचा. हा पोपडा आई भाकरीच्या बाजूलाच ठेवून देई. भाकरीवर मध्यभागी शेंगदाण्याची हिरवी चटणी ! आणि मग त्या चटणीवर कच्च्या तेलाची धार. बाजूला लोणचे, कांद्याच्या फोडी, आणि ज्वारीचा खरपूस भाजलेला पापड. हे जेवणाचे पान बघताच प्रवासाचा सगळा शीण यांच्यावर उतारा मिळाल्यासारखे होई. या जेवणाची खासियत म्हणजे आईने आपला मुलगा येणार म्हणून हे जेवण बनवलेले असे.

2 'पाणी जाण्यासाठी काढलेला मार्ग' या अर्थाचा उताऱ्यात आलेला शब्द शोधा.

1. प्रवास
2. पापड
3. पन्हाळी
4. पोपडा

3. परीक्षेनंतर गावी जाणाऱ्या लेखकाला कसली ओढ वाटत असे ?

1. आईच्या हातच्या जेवणाची
2. गावच्या एस्टीत बसण्याची
3. मित्रांना भेटण्याची
4. शहरात परत जाण्याची

4. लेखकाचे छोटेसे गाव कोणते आहे ?

1. मुंबई
2. भालोद
3. खानदेश
4. भुसावळ

5. गावच्या जेवणात पुढीलपैकी कोणता पदार्थ नसे ?

1. कांद्याच्या फोडी, लोणचे
2. ताजे ताक, कोशिंबीर
3. शेंगदाण्याची हिरवी चटणी, तेल
4. कळण्याची भाकरी, पापड

6 'मन आतुर होणे' या वाक्यप्रचाराचा योग्य अर्थ सांगा.

1. मन मोठे करणे
2. मन खडू होणे
3. मन उत्सुक होणे
4. मन मोडणे

विभाग : इंग्रजी

1. Four paragraphs are given, out of which three have all correct spellings. Choose the paragraphs with the incorrectly spelt word/words.

1. When those arguments failed, the owners claimed they made changes that remedied the offenses taking place on the plantations. -fter all, who was going to go all the way to the West Indies and prove otherwise, and even if they did, who would believe them?
2. But he could not return; he was afraid of what lay ahead, he dreaded the unknown, but it was easier to walk forwards than backwards. The toy-seller made his way through the crowd, children clustring round him, tearing at his pole. Rusty fingered a two-anna piece, and his eye picked out a little plumne of red feathers,

पेपर क्र. 1 - मराठी	1 - 4	2 - 3	3 - 1	4 - 2	5 - 2	6 - 3			
इंग्रजी	1 - 2								

विभाग : मराठी

1. 'तू मला वाचवलेस.' वाक्यातील प्रयोग ओळखा.

- | | |
|----------------------|------------------------|
| 1. कर्म भाव - संकर | 2. भावकर्तरी |
| 3. कर्तृ- भाव - संकर | 4. कर्तृ - कर्म - संकर |

दिलेला उतारा काळजीपवूक वाचून खालील प्रश्नांची उत्तरे सोडवा

माझ्या पाऊलवाटा अजून जगाला अज्ञात आहेत, त्यांचे नकाशे अजून कोणीही काढलेले नाहीत किंवा शालेय भूगोलाने आपले डोळे अजून या वाटांवर वटारलेले नाहीत. त्यांचे जीवन अजूनही अगदी खाजगी आहे, आणि म्हणूनच माझे मन या पाऊलवाटांशी विशेष सलगी करते. त्यांच्या आठवणी मनामध्ये रेंगाळत राहतात, त्या पुनः पुन्हा चघळण्यात एक चोरडा आनंद होतो. कारण पाऊलवाटेने चालणारा मनुष्य सृष्टीच्या शयनगृहातच डोकावीत असतो! तिथे ऐकू येणारी कुजबूज मौनमोकळी असते, शिवाय प्रत्येक बाटेला एक स्वतंत्र व्यक्तित्व असते. तिच्या हुलकावण्या, तिचे चढउतार, तिचे आळोखेपिळोखे, तिचा नोकशोक ही सर्व स्वभावाशी सुसंगत वाटतात. या पाऊलवाटांच्या विविध ढगांमध्ये अष्टनायिकांचे वैचित्र्य आढळते. त्यांच्यामध्ये डोंगरावर कोपर टेकून उभी राहणारी खड्या चढावाची मानिनी असते; उतुंग पहाडाशी भांडण करून उलटी फिरणारी खंडिता असते, गर्द व ओथंबलेल्या झाडीतून लपतछपत पुढे सरकणारी अभिसारिका असते आणि पहाटेच्या दवाने मंदाबलेली विझलेल्या ओठांची स्वाधीनपतिकाही असते. पण या सर्व नायिका सङ्ख्याच्या कातळावर पोहोचल्या की एकदम बिरक्त बनतात। जणू काय आपण त्या गावच्याच नव्हे असा आव आणतात. हा त्यांचा साळसूदपणा मला बिलकूल आवडत नाही !

माझ्या जुन्या आठवणी निराळ्याच पाऊलवाटांना बिलगून बसलेल्या आहेत. पुष्कळ जुनी माणसे अजूनही त्या पाऊलवाटांवरून चालत असावी असे वाटू लागते. आपल्या पुष्कळशानातेवाइकांची घरे हे त्या पाऊलवाटांनाच फुटलेले डोळे, अशी चमत्कारिक कल्पना मनामध्ये चमकून जाते, पण पुन्हा जरा वेळाने त्या पाऊलवाटा तेवढ्या खऱ्या वाटतात आणि त्यांची दोन्ही टोके हळूहळू पुसट होत जातात.

2. लेखकाच्या पाऊलवाटा जगासाठी कशा आहेत.

- | | |
|----------------|-------------|
| 1. मौन मोकळ्या | 2. ज्ञात |
| 3. अज्ञात | 4. प्रकाशित |

3. सृष्टीची कुजबूज कशी आहे असे लेखकाला वाटते

- | | |
|-----------------------|------------------|
| 1. अष्टनायिकांप्रमाणे | 2. मौनमोकळी |
| 3. दशदिशांना घुमणारी | 4. ढगाआड लेपलेली |

4. कशाचे नकाशे अजून तयार नाहीत असे लेखकाला वाटते.

- | | |
|-----------------|-------------------|
| 1. डोंगरकपारीचे | 2. पाऊलवाटा |
| 3. वरील सर्व | 4. शालेय भूगोलाचे |

5. ढगांमध्ये कोणते वैचित्र्य आढळते.

- | | |
|-----------------|------------------|
| 1. दिग्दर्शनाचे | 2. दाही कोनांचे |
| 3. दशदिशांचे | 4. अष्टनायिकांचे |

6. प्रत्येक वाटेला काय असते असे लेखक समजतो.

- | | |
|------------------------|-----------|
| 1. वरीलपैकी सर्व | 2. दिशा |
| 3. स्वतंत्र व्यक्तित्व | 4. दशदिशा |

विभाग : इंग्रजी

1. Fill in the blank with the future perfect tense:
They ____ (complete) the construction of the new building, by next month.

- | | |
|-------------------|------------------------|
| 1. will complete | 2. will have completed |
| 3. are completing | 4. will be completing |

2. Fill in the blank with the simple future tense:
In a few years, technology ____ (advance) even further.

- | | |
|-----------------|--------------|
| 1. will advance | 2. advances |
| 3. advance | 4. advancing |

3. Fill in the blank with most appropriate option:
At this time next week, I ____ on a beach in Hawaii.

- | | |
|------------|-------------------|
| 1. will be | 2. will have been |
| 3. being | 4. am |

5. दोन विधाने आणि I व II क्रमांक असणारे दोन निष्कर्ष दिलेले आहेत. दिलेली विधाने सामान्यपणे ज्ञात असणाऱ्या तथ्यांपेक्षा भिन्न असली तरीही सत्य आहेत असे मानून, कोणता/ते निष्कर्ष दिलेल्या विधानांशी तर्कसंगत आहे/त हे ठरवा.

विधाने : A. सर्व शहरे राज्ये आहेत.

B. काही शहरे राजधान्या आहेत.

निष्कर्ष:

I. काही राज्ये राजधान्या आहेत.

II. काही राज्ये शहरे नाहीत.

1. फक्त निष्कर्ष I तर्कसंगत आहे.
2. फक्त निष्कर्ष II तर्कसंगत आहे
3. निष्कर्ष I किंवा II यांपैकी कोणताही तर्कसंगत नाही
4. निष्कर्ष I आणि II हे दोन्ही तर्कसंगत आहेत

6. चार अक्षर गटांच्या जोड्या दिल्या आहेत, ज्यापैकी तीन एका विशिष्ट तऱ्हेने समान आहेत आणि एक वेगळी आहे. गटात न बसणारी अक्षर गटाची जोडी निवडा.

1. HJ: JH
2. BC: CB
3. MP: ON
4. CF: ED

03

BMC कार्यकारी सहायक/Clerk

दि. 11-12-2024 वेळ : 09 ते 11

विभाग : मराठी 1

1. खालील वाक्यातील प्रयोग ओळखा.

त्याची कथा वाचून झाली

1. नवीन कर्मणी प्रयोग
2. समापन कर्मणी प्रयोग
3. कर्तरी प्रयोग
4. कर्मकर्तरी प्रयोग

Comprehension :

दिलेला उतारा काळजीपूर्वक वाचून खालील प्रश्नांची उत्तरे सोडवा. (प्रश्न क्र. 2 ते 6)

अभ्यासक्रमात इंग्रजी येईपर्यंत फक्त मातृभाषाच असल्याने, तिचे सर्व गुणदोष, बलस्थाने, मर्मस्थाने ह्यांबद्दल कधीच विचार केला नव्हता, पण इंग्रजी शिकताना मराठीचेही भान येऊ लागले, जोपर्यंत तुम्हांला एकच 'भाषा येते, तोपर्यंत ती

काचेसारखी पारदर्शक असते. ती दिसतच नाही. तिच्यात आपण स्वाभाविकपणे विचार करतो. रागावतो. रुसतो. हट्ट करतो. लाड पुरवून घेतो. पण दुसरी भाषा शिकताना आपण समोर दिसणारी साधीसरळ गोष्ट सांगायला जातो, तेव्हा नव्या भाषेच्या काचेवर आपले डोके टचकून आपटते. नव्याने चालायला शिकल्याप्रमाणे आपण पडतो, रडतो आणि एकदा तोल सावरता येऊ लागला की मगच तिची गंमत अनुभवायला लागतो. सोहोनी सरांनी आम्हांला पडू दिले. चुकू दिले. कधी ते मिशकीलपणे आमच्या गाढवपणाच्या घोडचुकांना गालातल्या गालात हसत असत.

सरांच्या विद्वत्तेचे रहस्य त्यांच्या एखाद्या विषयावर प्रेम करण्याच्या शक्तीत होते. खरे तर त्यांचे आयुष्यावर प्रेम होते. त्यामुळे कोणताही विषय त्यांना परका वाटत नसे. त्यांच्या विचारात सहजता, सुस्पष्टता आणि शिस्त होती. जे जे शिकायचे त्यातून स्वतः आनंद घ्यायचा, कुणावर इंप्रेशन मारायला शिकायचे नाही, हे त्यांनी न सांगता आमच्यातल्या निदान काही जणांच्या अंगवळणी पाडले. सोहोनी सर हे फार मोठे शिक्षक होते कारण ते उत्तम विद्यार्थी होते. ते एकाच प्रश्नाकडे वेगवेगळ्या अंगांनी पहात असत. हॉबीसाहेबांचा शब्दकोश तसेच करीत असे.

2. हा लेख भाषेचे महत्त्व अधोरेखित करतो शिवाय शिक्षकांचे गुण दाखवतो.

1. उत्तरार्ध बरोबर
2. संपूर्ण विधान बरोबर
3. पूर्वार्ध बरोबर
4. संपूर्ण विधान चूक

3. लेखकाला त्यांच्या सरांनी कोणता कानमंत्र दिला ?

1. स्वतःच्या आनंदासाठी शिकायचे
2. कायम भाषाध्यायन
3. सहजता व सुस्पष्टता
4. वरील सर्व

4. काचेसारखी पारदर्शक कोणती भाषा असते असे लेखकाला वाटते.

1. इंग्रजी
2. मराठी
3. मातृभाषा
4. एकच भाषा

बुद्धिमत्ता चाचणी

5 - 1

6 - 2

पेपर क्र.3 - मराठी

1 - 2

2 - 2

3 - 1

4 - 3

निष्कर्ष :

- I. एकही फोटो स्नॅपशॉट नाही.
- II. काही स्नॅपशॉट कॅनव्हास आहेत.
 1. केवळ निष्कर्ष II तर्कसंगत आहे
 2. केवळ निष्कर्ष I तर्कसंगत आहे
 3. I किंवा II पैकी एकही निष्कर्ष तर्कसंगत नाही
 4. I आणि II हे दोन्ही निष्कर्ष तर्कसंगत आहेत

3. एका विशिष्ट सांकेतिक भाषेत, जर OLD ला 15124 असे संकेतबद्ध केले असेल, MODERN ला 1315451814 असे संकेतबद्ध केले असेल, तर FASHION ला कसे संकेतबद्ध केले जाईल ?

1. 6119891514
2. 6119791514
3. 6119892514
4. 6119891515

4. दिलेल्या चार शब्दांपैकी तीन शब्द विशिष्ट तऱ्हेने समान आहेत आणि एक शब्द वेगळा आहे. गटात न बसणारा शब्द निवडा.

1. गुवाहाटी
2. विशाखापट्टणम
3. अहमदाबाद
4. त्रिपुरा

5. चार अक्षर-समूह दिलेले आहेत, त्यापैकी तीन विशिष्ट तऱ्हेने समान आहेत आणि एक वेगळा आहे. गटात न बसणारा अक्षर-समूह निवडा.

1. JMP
2. DGJ
3. NQU
4. BEH

6. चार अक्षर गटांच्या जोड्या दिल्या आहेत, ज्यापैकी तीन एका विशिष्ट तऱ्हेने समान आहेत आणि एक वेगळी आहे. गटात न बसणारी अक्षर गटाची जोडी निवडा.

1. HL : EI
2. RV : OT
3. BF : YC
4. LP : IM

04

BMC कार्यकारी सहायक / Clerk

दि. 11-12-2024

वेळ : 4:30 ते 6:30

विभाग : मराठी

1. 'माझ्याच्याने आता पायच्या चढवतात' या वाक्यातील प्रयोग ओळखा.

1. अकर्मक कर्तरी
2. शक्य कर्मणी
3. नवीन कर्मणी
4. भाव कर्तरी

उतारा काळजीपूर्वक वाचून त्याआधारे विचारलेल्या प्रश्नांची उत्तरे द्या.

जन्माला आलेला प्रत्येक माणूस जन्माबरोबरच किंवा नाळेबरोबरच मनातंफ नावाची एक भलीमोठी 'माळ' लेवून येतो. आपल्या सर्वाभोवती नकळत विणली जाणारी आणि भेटणाऱ्या प्रत्येक नात्याने अधिकाधिक मजबूत होत जाणारी ही नात्यांची वीण प्रत्येकाभोवती गुंफली जाते. नाती जन्माबरोबर आलेली असोत वा सहवासातून किंवा वातावरणातून निर्माण झालेली असू देत, त्यातही स्वकीय, परकीय असा भेदाभेद दिसतोच !

रेशमाच्या धाग्यासारखी ही वीण एकाच वेळी नाजूकही असते आणि भक्कम, मुलायम आणि धारदारही. अशी ही बहुरंगी वीण अलगदपणे नात्यांचे एक-एक पदर आपल्यासमोर उलगाडत जाते. प्रत्येक आई मुलाच्या जन्मानंतरही त्याला घडवतच राहते. असे घडवताना कधी कुंचल्याचा हळुवारपणे रंग रेखत तर कधी छिन्नी-चे कठोरपणे घाव घालत तिचे काम चालूच असते. आईच्या घडवण्याने आपण जरी घडत गेलो तरी ती आपल्यासाठी कायमच एक गूढ बनून राहते. कधी ती आपल्यासाठी ऊबदार शाल असते, तर कधी कणखर ढाल असते, बालपणीच्या अंगाईला लागलेली सुंदर चाल असते. आईनं जन्म दिल्यानंतर या जगाशी आपली ओळख होते. या मजगफ नावाच्या भवसागरात स्वतःचे माणूसपण जपण्याची तारेवरची कसरत प्रत्येकाला करावीच लागते.

2. 'नाती जन्माबरोबर आलेली असोत किंवा सहवासातून निर्माण झालेली !' त्यात कोणती भिन्नता आढळते ?

1. नात्यांतील भेदभाव
2. मुलगा व मुलगी असा भेद
3. संवादातील भेद
4. स्वकीय व परकीय असा भेदाभेद

3. जन्माला येणारा प्रत्येक माणूस काय घेऊन येत असतो ?

1. नातं नावाची माळ
2. जगण्याची वाट
3. माळेचे मणी
4. जगाची ओळख

बुद्धिमत्ता चाचणी

3 - 1

4 - 4

5 - 3

6 - 2

पेपर क्र. 4 - मराठी

1 - 2

2 - 4

3 - 1

विभाग : मराठी 1

1. 'मी कामावरून आत्ताच आले'. या वाक्याचा प्रयोग ओळखा.

- | | |
|------------------|-----------------------|
| 1. कर्मणी प्रयोग | 2. कर्तरी प्रयोग |
| 3. भावे प्रयोग | 4. सकर्मक भावे प्रयोग |

Comprehension: (प्रश्न क्र. 2 ते 6)

दिलेला उतारा काळजीपूर्वक वाचून प्रश्नांची उत्तरे सोडवा.

माणसाचे पहिले अर्धे आयुष्य सुखाची साधने जमविण्यात जाते, आणि उरलेले अर्धे ती सर्व निरुपयोगी आहेत हे ठरविण्यात जाते. पण कोणत्या ना कोणत्या रीतीने सुखासंबंधी विचार केल्याशिवाय तो स्वस्थ बसत नाही, तो जितका अधिक खोलात चक्रव्यूहात अधिकाधिक गुरफटत असतो. मी सुद्धा गेले कित्येक दिवस त्याच चक्रव्यूहात सापडलेला आहे. मोलिअरच्या नाटकातील एका पात्राला आपण जन्मभर गद्यात बोलत होतो हे कळल्याबरोबर आश्चर्य वाटते। खऱ्या सुखी माणसाचे असेच असते. त्याला आपण सुखी आहो याचीही जाणीव नसते.

सुख म्हणजे काय हे न कळताही मनुष्य सुखी असू शकतो. सुखासंबंधी सखोल विचार करणे म्हणजे सुखातल्या बेहोषीला पारखे होणे सुखाचे तत्त्वज्ञान फार भयंकर असते। सुखी व्हायचे असेल तर सुखासंबंधीचा तात्त्विक विचार प्रथम बंद केला पाहिजे. फार तर बोबडे बोलावे.

तत्त्वज्ञानाच्या प्रचंड पिंजऱ्यात सुखाचे फुलपाखरू पकडण्याचा प्रयत्न शहाण्याने करू नये. त्याच्यामध्ये सत्याचा सिंह सापडू शकेल; आणि तर्काच्या टोकदार पात्याने त्याची पुनः पुन्हा कळ काढणेही शक्य होईल, पण हे सुखाचे फुलपाखरू मोठे मिस्किल आहे. ते तुमच्या या पिंजऱ्यात केव्हा शिरेल आणि नंतर अचानक केव्हा निघून जाईल हे सांगता येणार नाही. जेवढा वेळ ते पिंजऱ्यात असेल तेवढा वेळ ते आपण पकडले आहे असा खोटा अभिमान पाहिजे तर तत्त्वज्ञानाने अवश्य धराबा, पण कोणत्या क्षणी

तो अभिमान मिथ्या उरेल हे सांगता यावयाचे नाही कारण एखादे थोर तत्त्वज्ञान आणि एखादी सुखाची संवेदना यांचा सहभाव काही वेळा अनुभवाला येतो; आणि आपण त्या सहभावालाच कार्यकारणभावाचे स्वरूप देतो पुढे आपली चूक आपल्या अनुभवाला येते तेव्हा आपला सगळा राग आपण त्या तत्त्वज्ञानावरच काढतो, मग कालचे खरे तत्त्वज्ञान आज खोटे बाटू लागते तत्त्वज्ञानाने कदाचित सत्य सापडेल. पण सुखाच्या अपेक्षेने तत्त्वज्ञानाकडे जाणारा सामान्य मनुष्य शेवटी रिकाम्या हातांनीच परत येईल.

2. सुखाच्या अपेक्षेने कोणाकडे जाऊ नये असे लेखकाला वाटते.

- | | |
|-----------------------|-------------------|
| 1. सुखाच्या साधनांकडे | 2. नाटकाकडे |
| 3. तत्त्व ज्ञानाकडे | 4. सुखी माणसांकडे |

3. सुखी व्हायचे असेल तर काय केले पाहिजे असे लेखकाला वाटते.

- | |
|---|
| 1. सुखाचा तात्त्विक विचार केला पाहिजे |
| 2. सुखाची साधने गोळा करणे थांबविले पाहिजे |
| 3. सुखाची सोय लावणे |
| 4. सुखप्राप्तीच्या मागे लागणे बंद करावे |

4. माणसाचे अर्धे आयुष्य कशासाठी खर्ची जाते.

- | | |
|---------------------------|----------------|
| 1. सुखाची साधने जमविण्यात | 2. नातेवाईकांत |
| 3. सुखदुखात | 4. सुखात |

5. तत्त्वज्ञानाच्या पिंजऱ्यात सुखाचे फुलपाखरू पकडण्याचा प्रयत्न कोणी करू नये.

- | | |
|--------------------|-------------------|
| 1. सुखासीन माणसाने | 2. विचारी माणसाने |
| 3. शहाण्याने | 4. लेखकाने |

6. कोणता माणूस सुखी असू शकतो असे लेखकाला वाटते.

- | |
|--------------------------------|
| 1. सुख म्हणजे काय हे न कळताही |
| 2. सुखाचे तत्त्वज्ञान मांडणारा |
| 3. सुखाचा शोध घेणारा |
| 4. सुखसाधने गोळा केलेला |

विभाग : मराठी 1

Comprehension: (प्रश्न क्र. 2 ते 6)

दिलेला उतारा वाचा आणि पुढील प्रश्नांचे उत्तर द्या.

वाहन हे वेळ वाचवण्यासाठी असते. ते वेळ घालवण्यासाठी नसते. त्याचा वेग बेताचा असणे अगत्याचे असते. माणसे चालू आणि पळूही शकतात, पण रस्त्याने कोणी चालण्याऐवजी पळू लागला तर त्याचे कौतुक करावे का? अपेक्षित स्थळी वेळेवर पोचता येईल, अशा बेताने वाहने चालवण्याऐवजी उगाचच भरधाव वेगाने चालवण्यात औचित्य ते कोणते? वाहनाचा वेग वाढला म्हणजे त्याच्यावरचा ताबा कमी होतो. पुढचे वाहन मागे टाकून पुढे जाण्याच्या हे हव्यासामुळे अनेक अपघात होतात. रात्रीच्या वेळी विलक्षण वेगाने धावणारी गाडी ही रातराणी म्हटली जाते. रात्री भरधाव वेगाने प्रवास करून पार पाडावीत एवढी महत्त्वाची कामे दरवेळी असतात का?

वाहनाचा वेग अनिवार झाला, तर चित्ताची व्यग्रता वाढते. डोळ्यांवर, मनावर, शरीरावर ताण पडतो. शरीरभर अनावश्यक स्पंदने निर्माण होतात. हादरे बसून मज्जातंतू आणि मणके कमकुवत होतात. कमरेची आणि पाठीची दुखणी ही वाहनधारकांची व्यथा असते. बसणे, उठणे, चढणे, उतरणे, चालणे, वळणे, वर खाली पाहाणे या मुक्त हालचालींचे संगीत विसरून स्वतःला वाहनाशी जखडून ठेवणे आणि वाहनाचा वेग अंगीकारून आपल्या शरीरव्यापारात अडथळे निर्माण करणे हे धोरण निसर्गविरोधी आहे. आरोग्याची हानी करणारे आहे. वाढता वेग म्हणजे ताण. जीवनातले ताणतणाव वाढवून पोचणार तरी कोठे? आपले स्वत्व आणि स्वस्थता हिरावून घेणारा अस्वाभाविक वेग कमी करणे, हे आपले कर्तव्य आहे. उगाच भावविश होऊन वेगवश होऊ नये. अनाटायी वेगामुळे पोचण्यापूर्वीच अंत होण्याची शक्यता वाढते.

1. वाढत वेग म्हणजे?

1. आरोग्य सुधारते
2. आनंद
3. ताण
4. निसर्गातील थंड हवा

3. चार अक्षरगट दिले आहेत, ज्यापैकी तीन एका विशिष्ट तऱ्हेने समान आहेत आणि एक वेगळा आहे. गटात न बसणारा अक्षरांचा गट निवडा.

1. UJ
2. RE
3. FG
4. OH

4. दोन विधाने दिली आहेत, त्यानंतर I व II क्रमांक असणारे दोन निष्कर्ष दिलेले आहेत. दिलेली विधाने सामान्यपणे ज्ञात असणाऱ्या तथ्यांपेक्षा भिन्न असली तरीही सत्य आहेत असे मानून, कोणता/ते निष्कर्ष दिलेल्या विधानांशी तर्कसंगत आहे/त हे ठरवा.

विधाने :

सर्व पाळीव प्राणी, प्राणी आहेत.

एकही प्राणी, मानव नाही.

निष्कर्ष :

- I. एकही पाळीव प्राणी, मानव नाही.
- II. काही प्राणी, पाळीव प्राणी आहेत
1. केवळ निष्कर्ष II तर्कसंगत आहे
2. केवळ निष्कर्ष I तर्कसंगत आहे
3. I आणि II हे दोन्ही निष्कर्ष तर्कसंगत आहेत
4. I किंवा II पैकी एकही निष्कर्ष तर्कसंगत नाही.

5. विशिष्टसांकेतिक भाषेत, PRINGLES हे RTKPINGU असे संकेतबद्ध केले असेल, तर FLIPKART हे कसे संकेतबद्ध केले जाईल?

1. HNKRMCVT
2. HNKNMCTV
3. HMKMNCTV
4. HNKMNDTV

6. ज्याप्रकारे दुसरा शब्द पहिल्या शब्दाशी संबंधित आहे, त्याच प्रकारे तिसऱ्या शब्दाशी संबंधित पर्याय निवडा.

षट्कोन : सप्तकोन :: त्रिकोण ?

1. अष्टकोन
2. चौरस
3. वर्तुळ
4. रेखा

बुद्धिमत्ता चाचणी	3 - 3	4 - 3	5 - 1	6 - 2						
पेपर क्र. 6 - मराठी 1		1 - 3								

विभाग : मराठी 1

1. 'आईने मुलीस समजावले' या वाक्यातील प्रयोग ओळखा.

1. अकर्मक कर्तरी
2. नवीन कर्मणी
3. सकर्मक भावे
4. सकर्मक कर्तरी

Comprehension: (प्रश्न क्र. 2 ते 6)

पुढील उतारा वाचून विचारलेल्या प्रश्नांची अचूक उत्तरे द्या.

मानवी इतिहासात डोकावले तर निसर्गातून अगणित गोष्टी आपल्याला मिळाल्याचे लक्षात येईल. निसर्गाने आपले जीवन समृद्ध केलेले आहे. रोजच्या जीवनात वापरल्या जाणाऱ्या अनेक साधनांमध्ये, उपकरणांमध्ये चुंबक किंवा चुंबकीय पदार्थांचा वापर केला जातो. 'चुंबकाचा शोध' ही सुद्धा निसर्गाने दिलेली देणगी आहे. इसवी सनापूर्वी 800 मध्ये म्हणजे सुमारे 2800 वर्षांपूर्वी ग्रीस देशातील इडा पर्वतावर एशिया मायनर मध्ये असणाऱ्या मॅग्नेशिया या गावात एक घटना घडली. एक मेंढपाळ आपल्या मेंढ्या रानात चरायला घेऊन गेला होता. मेंढ्यांना हाकण्यासाठी त्यांच्या हातात एक काठी होती. हातातली काठी फिरवत मजेत चालताना त्याला एक आश्चर्यकारक गोष्ट आढळून आली. त्याच्या काठीच्या खालच्या टोकाला लावलेल्या पत्र्याला लहानलहान दगड चिकटले होते. रानातून फिरताना मेंढपाळाला असे अनेक दगड सापडले. या गमतीदार दगडांना मेंढपाळाची काठी चिकटत होती, त्याच्या बुटांच्या टाचेला लोखंडी खिळे असल्याने त्यांनाही हे दगड चिकटत होते. लोखंडाला आकर्षित करणारे हे दगड मॅग्नेशिया या गावात सापडले म्हणून या दगडांना मॅग्नेट असे संबोधण्यात आले. काहींच्या मते या धनगराचे नाव मॅग्नेस होते म्हणून त्या दगडाला मॅग्नेट म्हटले गेले. भारतीय लोकांना सुद्धा चुंबक आणि चुंबकाचे वैशिष्ट्यपूर्ण गुणधर्म यांची माहिती प्राचीन काळापासून होती. आर्य चाणक्याने इसवी सनाच्या पूर्वी 300 ते 400 च्या दरम्यान लिहिलेल्या अर्थशास्त्र या ग्रंथात चुंबकाचा उल्लेख आढळतो. लोखंडी तराजूच्या एक तागडीला तळाशी वजनदार लोहचुंबक लावून व्यापारी ग्राहकांची कशी फसवणूक करू शकतात याचे विवेचन यात चाणक्याने केले आहे. म्हणजे चुंबकाचे ज्ञान प्राचीन काळातील भारतीयांना होते

या बदलची हे लेखन ग्वाही देते. नैसर्गिक अवस्थेत चुंबकाचे दगड खनिजरूपात असतात. या खनिजाला 'मॅग्नेटाईट' असे म्हणतात. या खनिजरूपात असणाऱ्या चुंबकाशमाला चिनी लोकांनी 'चुइशी' म्हणजे प्रेमळ दगड असे नाव दिले आहे. त्यांच्या मते एखादी आई आपल्या बाळाला जशी छातीशी धरून मायेने कुरवाळते, तसेच चुंबकाचे दगड लोखंडाला आकर्षित करतात.

निसर्गाने दिलेल्या या अमूल्य देणगीमुळे मानवी जीवनात मोठी क्रांती घडून आली आहे.

2. 'ग्वाही देणे' या वाक्यप्रचाराचा योग्य अर्थ सांगा.

1. क्रांती घडवणे
2. समृद्ध करणे
3. साक्ष देणे
4. आकर्षित होणे

3. चुंबकाचा शोध प्रथम कोणत्या देशात लागला ?

1. इजिप्त
2. भारत
3. चीन
4. ग्रीस

4. उताऱ्यातील 'चुइशी' या चिनी भाषेतील शब्दाचा अर्थ सांगा.

1. गुणधर्म
2. प्रेमळ दगड
3. विवेचन
4. मेंढपाळ

5. 'पुरातन' या शब्दाचा उताऱ्यात आलेला समानार्थी शब्द शोधा.

1. वैशिष्ट्यपूर्ण
2. अमूल्य
3. प्राचीन
4. आश्चर्यकारक

6. चाणक्याने अर्थशास्त्रात कोणती सूचना दिली आहे ?

1. रानातून फिरताना हातात लोखंडी काठी घ्यावी.
2. रोजच्या जीवनातील उपकरणांमध्ये चुंबक वापरावे.
3. तराजूला चुंबक लावून व्यापारी फसवणूक करू शकतो.
4. बुटांच्या खाली टाचेला खिळे ठोकावेत.

विभाग : बौद्धिक चाचणी 4

1. दोन विधाने दिली आहेत, त्यानंतर I व II क्रमांक असणारे दोन निष्कर्ष दिलेले आहेत. दिलेली विधाने सामान्यपणे ज्ञात असणाऱ्या तथ्यांपेक्षा भिन्न असली तरीही सत्य आहेत असे मानून, कोणता /ते निष्कर्ष दिलेल्या विधानांशी तर्कसंगत आहे/त हे ठरवा.

विधाने :

- A. एकही स्नॅक्स आरोग्यदायी नाही.
B. एकही आरोग्यदायी वाईट नाही.

निष्कर्ष :

- I. काही स्नॅक्स वाईट आहेत.
II. काही आरोग्यदायी स्नॅक्स आहेत.
1. I किंवा II पैकी एकही निष्कर्ष तर्कसंगत नाही.
2. केवळ निष्कर्ष II तर्कसंगत आहे
3. I आणि II हे दोन्ही निष्कर्ष तर्कसंगत आहेत
4. केवळ निष्कर्ष I तर्कसंगत आहे

2. Select the option related to the third word in the same way as the second word is related to the first word.

Clock : Time :: Compass : ?

1. Direction 2. Speed
3. Temperature 4. Distance

3. एका विशिष्ट सांकेतिक भाषेत, जर TRUCK ला 201821311 असे संकेतबद्ध केले आहे. तर BIKE ला कसे संकेतबद्ध केले जाईल?

1. 29114 2. 28115
3. 29115 4. 29125

4. चार अक्षर-समूह दिलेले आहेत, त्यापैकी तीन विशिष्ट तऱ्हेने समान आहेत आणि एक वेगळा आहे. गटात न बसणारा अक्षर-समूह निवडा.

1. EGJ 2. CEH 3. MOR 4. QSW

5. चार अक्षरगट दिले आहेत, त्यापैकी तीन विशिष्ट तऱ्हेने समान आहेत आणि एक भिन्न आहे. भिन्न असणारा अक्षरगट निवडा.

1. E : V 2. U : F
3. A : Z 4. I : S

6. चार शब्द दिले आहेत, ज्यापैकी तीन एका विशिष्ट तऱ्हेने समान आहेत आणि एक वेगळा आहे. गटात न बसणारा शब्द निवडा.

1. रांची 2. मुंबई 3. पटना 4. बोकारो

08

BMC कार्यकारी सहायक/Clerk

दि. 04-12-2024 वेळ : 04 : 30 ते 06 : 30

विभाग : मराठी 1

Comprehension: (प्रश्न क्र. 2 ते 6)

प्रस्तुत उतारा वाचून प्रश्नांची उत्तरे शोधा.

‘नागीण’ ही एक ग्रामीण जीवनातील कथा आहे. सर्पाला भिणारी चंद्रा आणि सर्पाशी वैर असलेला तिचा नवरा बापू यांची ही कथा. लहानपणीच चंद्राच्या अंथरुणावर तुळीवरचा साप बदकन् पडला होता. तेव्हापासून तिच्या मनात सापाची भीती बसलेली. अंथरुणात पडलेला साप गुरवाच्या पांड्याने उचलून फेकला खरा. पण चंद्राच्या अंगाला तो कायमचा वेढावून राहिला. तिने त्याची भीतीच घेतली. साधा दोर दिसला तरी ती दचकून उठते. याउलट बापूचं. लहानपणी गावभर नागडं फिरायचा. कुठं मरून पडलेला साप दिसला की त्याच्या शेंपटीला धरून पोरांच्या अंगावर टाकायचा. पळत्या सापाचा पाठलाग करायचं त्याला लहानपणापासून वेड. गावात आपानाच्या हाताला सापाने वेढोळे घातले, त्याने अप्पानाला डंख केला. सगळी माणसं बघ्यासारखी गर्दी करून पाहत राहिली. पण बापूला कळल्यावर त्याने त्या भुजंगाला सोडलं नाही. जमिनीवर आपटून आपटून मारला. असा सापाला निर्वावलेला बापू. एकदा दोघे नवराबायको आंब्याच्या झाडाखाली निवांत बसली होती. बापू चंद्राच्या मांडीवर डोकं ठेवून विसावला होता. अशा विश्रब्ध क्षणी चंद्राने नागीणीचं जोडपं पाहिलं. माजाला आलेली नागीण पळत होती आणि नाग तिच्यामागं लागला होता. बापूनं त्याचा पाठलाग सुरू केला आणि नागाला मारलं. नागीण डूख धरून बसली. पुढे संधी मिळताच ती चंद्राला डसली आणि चंद्राचा त्यात मृत्यू झाला. त्याने घायाळ झालेला बापू नागीणीचा पाठलाग करीत राहिला. फिरून एकदा आंब्याच्या झाडाखाली बापू एकटाच लवंडलेला

बुद्धिमत्ता चाचणी	1 - 1	2 - 1	3 - 3	4 - 4	5 - 4	6 - 4						
-------------------	-------	-------	-------	-------	-------	-------	--	--	--	--	--	--

विभाग : मराठी

1. खालील पर्यायातून आत्मवाचक सर्वनामे ओळखा.
1. जो,जी,जेजे 2. हा, ही, हेहे
3. आपण, स्वतः 4. कोण, काय
2. विशेषण ज्या नामाबद्दल विशेष माहिती सांगते त्या नामाला काय म्हणतात ?
1. विशेष्य 2. विशेषण
3. क्रियाविशेषण 4. सर्वनाम

विभाग : इंग्रजी

Comprehension :

Read the given passage and answer the questions that follow.

Millions of people want to improve their English, but choosing the best method can be difficult. Some argue that studying in Britain or America has clear advantages. In these countries, you are constantly surrounded by the language, which helps you learn faster. You'll hear English everywhere and have to speak it in daily interactions, making the learning process more immersive. In contrast, in your home country, like Italy, you might be able to speak your native language in class, which slows down progress.

However, there are also benefits to studying at home. It's cheaper and you don't have to make significant changes to your life. While studying abroad offers more immersion, you can still learn effectively at home if you have a good teacher. A focused approach at home can sometimes be more effective than being in Britain without proper guidance.

In conclusion, if you have the time and money, studying in the UK is the best option. But for most people, studying at home is more realistic. In this case, the key is to make the most of your environment - speak only in English during lessons and try to use it outside the classroom as much as possible.

SubQuestion No : 1

- Q.1 Select the most appropriate ANTONYM of the given word as used in the passage.

Immersive

1. Dull 2. Exciting
3. Absorbing 4. Interesting

Q.2 What is the central idea of the passage?

1. Different methods for learning and improving English
2. Learning English as a second language
3. There is an urgent need to learn English
4. The expenses of studying abroad

Q.3 Select the option that best describes the tone of the passage.

1. Tragic 2. Jovial
3. Informative 4. Sarcastic

विभाग : सामान्यज्ञान

1. नोव्हेंबर 2024 पर्यंत विकास नियोजनासाठी (BMC) चे मुख्य अभियंता खालीलपैकी कोण आहेत ?
1. शशांक भोर 2. गोविंद गारुळे
3. सुनील राठोड 4. यतिन दळवी
2. 1946 ला मुंबईतील ने ब्रिटीश वसाहतवादी सत्तेला हादरवून सोडले.
1. नौदल उठाव 2. असहकार चळवळ
3. सत्याग्रह 4. भारत छोडो आंदोलन
3. उपमहानगरपालिका आयुक्तांची नियुक्ती बृहन्मुंबई महानगरपालिकेद्वारे च्या मान्यतेने केली जाते.
1. महाराष्ट्राचे महापौर 2. महाराष्ट्राचे राज्यपाल
3. महाराष्ट्र सरकार 4. राज्य सरकारचे मुख्य सचिव
4. हुसैनभाय अब्दुल्लाभाय लल्लजी (Hoosienbhoys Abdullabhoy Lalljee) हे बीएमसीचे शेवटचे होते.
1. प्रशासक 2. सचिव
3. अध्यक्ष 4. महापौर

मराठी	1 - 3	2 - 1		सामान्यज्ञान	1 - 3	2 - 1			
इंग्रजी	1 - 1	2 - 4	3 - 3		3 - 3	4 - 3			

3. सिद्धार्थ, लता आणि विवेक यांनी एका व्यवसायात 13 : 6 : 5 या गुणोत्तरात गुंतवणूक केली. त्यांनी त्यांचे भांडवल अनुक्रमे 10 महिने, 1 महिने आणि 3 महिन्यांसाठी गुंतवले. तर त्यांच्या नफ्याचे गुणोत्तर किती असेल ?

1. 128:6:15 2. 127:6:15
3. 131:6:15 4. 130:6:15

4. एका पिशवीत, 5 नाण्यांची संख्या 10 च्या नाण्यांच्या संख्येपेक्षा 8 ने अधिक आहे परंतु 2 च्या नाण्यांपेक्षा 20% ने कमी आहे. जर पिशवीतील एकूण रक्कम 270 असेल, तर 5 नाण्यांची संख्या किती असेल ?

1. 18 2. 20
3. 15 4. 25

02

करनिर्धारण व संकलन निरीक्षक

वेळ : 9:00 ते 11:00

दि. 10/12/2024

विभाग : मराठी

1. खालील शब्दातील अनेकवचनी शब्द ओळखा.

1. मोत्ये 2. झरा
3. पंखा 4. जळू

2. खालीलपैकी क्रियाविशेषण अव्यय नसणारा गट निवडा.

1. आज, काल, पूर्वी
2. हळूहळू, मुळमुळ, तुरतुरु
3. आंबट, तिखट, बावळट
4. इकडे, तिकडे, तेथे

Section : English Grammar

Comprehension :

Read the given passage and answer the questions that follow.

In the last two decades, the growth of private jet travel has increased considerably. In the face of lengthier security at commercial airports, over-crowded aircraft and fewer direct flights connecting smaller cities, the rich are increasingly choosing to make private air travel to privatised airports. But a rising variety of choices, including fractional ownership and aircraft share, were another element boosting demand. It made the use of a private jet more affordable for smaller businesses.

Private commercial aircraft covers all air travel destined to carry passengers from different places outside regular airline flights. This eliminates the possibility of air travel, in which people fly for pure pleasure. Private commercial aircraft encompass aircraft travel, spanning helicopters, single and twin-propeller aircraft and planes. Private aviation businesses generally have contracts with services established at each airport, as commercial airlines with their ground forces; these are called fixed-base operators. The most rapidly increasing private aviation category was jet cards. - jet card user can typically utilise an app in less than 10 hours to purchase an aircraft; however, assurances of availability are dependent on the programme costs.

1. Identify the most suitable for the passage.

1. The Growing Demand for Private Jet Travel
2. Factors Driving the Popularity of Private Jet Travel
3. The Rise of Jet Card Services in Private Aviation
4. Convenience and Affordability in Private Aviation

2. Select the most appropriate ANTONYM of the word "Affordable".

1. Discount 2. Accessible
3. Modest 4. Dear

3. Identify the tone of the passage.

1. The tone is critical and sarcastic.
2. The tone is neutral and demanding.
3. The tone is subjective and humorous.
4. The tone is factual and objective.

विभाग : सामान्यज्ञान

1. बृहन्मुंबई महानगरपालिका च्या मुंबई महानगरपालिका अधिनियमांतर्गत स्थापन करण्यात आली आहे.

1. 1970 2. 1947
3. 1870 4. 1888

2. महानगरपालिकेचा कालावधी त्याच्या च्या तारखेपासून 5 वर्षे आहे.

1. निवडणूक निकाल 2. पहिली बैठक
3. शपथ घेणे 4. निवडणूक

3. बृहन्मुंबई महानगरपालिका क्षेत्र व्यापते.

1. 480.24 km² 2. 450.24 km²
3. 1,200 km² 4. 300 km²

गणित	3 - 4	4 - 2		इंग्रजी	1 - 1	2 - 4	सामान्यज्ञान	1 - 4	2 - 2
पेपर क्र. 2 - मराठी		1 - #	2 - 3		3 - 4			3 - 1	

गट - अ

विभाग : मराठी

1. 'विहिरी' या शब्दाचे योग्य एकवचन सांगा.
1. विहीन
 2. विहारी
 3. विहार
 4. विहीर
2. लेखन मूलभूत नियमांनुसार वाक्यरचना कोणती आहे ?
1. तो मायना योग्य डावीकडे पुढे..
 2. अधिक होत असते सुसंगत असे आणि परिणामकारक हे पत्रलेखन.
 3. पत्रात असेल तर विशेषनाम ते लिहावे.
 4. पत्रलेखनाचे औपचारिक आणि अनौपचारिक असे प्रकार असतात.
3. शब्द आणि अर्थ यांच्या जोड्या लावा.
- | अ गट | ब गट |
|------------|-------------|
| a) शिळा | i) असुर |
| b) छबी | ii) अस्पष्ट |
| c) दैत्य | iii) दगड |
| d) संदिग्ध | iv) तसवीर |
1. a-i, b-iii, c-ii, d-iv
 2. a-iv, b-iii, c-ii, di
 3. a-iii, b-iv, c-i, d-ii
 4. a-iv, bi, c-ii, d-iii
4. 'सर्व इच्छा पूर्ण करणारे काल्पनिक वृक्ष' या शब्दसमूहाबद्दल एक शब्द शोधा.
1. कल्पतरू
 2. कल्पांत
 3. कामधेनू
 4. कलहंस
5. 'एका खांबावर द्वारका' या म्हणीचा अर्थ सांगणारी शोधा.
1. एका दरम्यान दोन तलवारी
 2. एक ना धड भराभर चिंध्या
 3. एकखांबी तंबू
 4. एका माळेचे मणी
6. इतरांपैकी कोणती ईकारान्त स्त्रीलिंगी शब्दाचे अनेकवचन याकारान्त होत नाही ?
1. देवी
 2. नदी
 3. स्त्री
 4. सुरी

7. 'क्रीडांगण' या समासाचा योग्य विग्रह कोणता आहे ?

1. क्रीडेतील अंगण
2. क्रेडने अंगण
3. खेळासाठी अंगण
4. क्रीडेतून अंगण

विभाग : इंग्रजी

1. Select the correctly spelt sentence.
1. We lost the reciet given by the shopkeeper.
 2. We lost the receipt given by the shopkeeper.
 3. We lost the ricipt given by the shopkeeper.
 4. We lost the recit given by the shopkeeper.
2. Select the option that can be used as a one-word substitute for the underlined group of words.
- Tania's answer to something someone has said came immediately.
1. talk
 2. question
 3. reply
 4. turn
3. Select the most appropriate option to fill in the blank.
- They visited _____ Vivekananda Memorial Rock in Kanyakumari.
1. an
 2. the
 3. a
 4. No word required
4. Select the most appropriate synonym of the given word. - Stroke
1. Blow
 2. Magnify
 3. Levitate
 4. Disparage
5. Find the part of the given sentence that has an error in it. If there is no error, choose 'No error'.
- I will not break my fast until he will obey my rules.
1. No error
 2. I will not break
 3. he will obey my rules
 4. my fast until

पेपर 1	मराठी	1 - 4	2 - 4	3 - 3	4 - 1	5 - 3	6 - 1	7 - 3			
	इंग्रजी		1 - 2	2 - 3	3 - 2	4 - 1	5 - 3				

19. खालीलपैकी कोणती एकपेशीय जीवांतील पुनरुत्पादनाची पद्धत नाही ?

1. पुनर्जनन
2. विभाजन
3. अर्धसूत्रण
4. विखंडन

20. एखादी वस्तू वेळेच्या समान अंतराने समान अंतर पार करते तेव्हा ती असते, असे म्हणतात.

1. एकसमान गतीत
2. एकसमान नसलेल्या गतीत
3. नियतकालिक गतीत
4. सतत गतीत

02

वरिष्ठ लिपिक स्टोअर वर्ग 3

Date - 23/09/2024 वेळ : 4 : 30 - 6 : 00

गट - अ

विभाग : मराठी

1. सायली आणि जाई लगबगीने निघाल्या' या वाक्यातील क्रियाविशेषण ओळखा.

1. सायली
2. स्थिती
3. निघाल्या
4. लगबगीने

2. दोन्ही घराचा पाहुणा उपाशी' याचा योग्य अर्थ सांगा.

1. धारवर संसदा नेहमी फसतो
2. सहन करणे
3. एखाद्या गोष्टीशी संबंध नसणे
4. आधीच्या संकटात भरणे

3. 'पाटील' या शब्दाचे योग्य स्त्रीलिंगी ओळखा.

1. पट्टाणी
2. पाटलोण
3. पाटल्या
4. पाटलीण

4. 'खेडी' या शब्दाचे योग्य एकवचन शोधा.

1. खडा
2. खेडू
3. खेड्या
4. खेडे

5. 'जाऊ' या शब्दाचे योग्य अनेकवचन सांगा.

1. जाव्या
2. जानवी
3. जावा
4. जावई

6. प्रमाणलेखनानुसार अचूक शब्द कोणता आहे ?

1. छंदीस्थ
2. छंदीष्ट
3. छंदष्ट
4. छंदिष्ट

7. 'राजा रवि वर्मा' ही चित्रकार राजा रविवर्मा यांच्यावर आधारित कादंबरी कोणी लिहिलेली आहे ?

1. रणजित देसाई
2. ब. मो. पुरंदरे
3. ना. सं. इनामदार
4. शिवाजी सावंत

विभाग: इंग्रजी

1. Select the most appropriate article to fill in the blanks for the given sentence: Mark "No article" if there is no requirement of article.

..... police officer at the security desk was very helpful in directing us where to go to court.

1. a
2. an
3. No article
4. The

2. Parts of the following sentence have been given as option that contains an error in spelling.

If you don't find any error, mark "No error" as your answer.

Owing to the length of their neck and long flexible tongues, giraffes are able to browse on tall trees.

1. lengthe
2. giraffes
3. No error
4. Owing

3. Select the most appropriate article to fill in the blanks for the given sentence : Mark "No article" if there is no requirement of article. moon will be full in the night sky this Friday.

1. an
2. a
3. No article
4. The

4. Select the most appropriate verb to fill in the blanks for the given sentence:

Because I was thirsty, I a lot of water.

1. drank
2. Be drinking
3. drinking
4. Had drank

5. Select the most appropriate verb to fill in the blanks for the given sentence :

He asked me to the window as it was too hot.

1. opening
2. open
3. Had open
4. opens

6. Find the part of the given sentence that has an error in it. If there is no error, choose 'No error'.

The interview gone well, and the candidate was offered the job.

1. was offered the job
2. well, and the candidate
3. The interview gone
4. No error

विज्ञान	19 - 3	20 - 1	पेपर 2 - मराठी	1 - 4	2 - 1	3 - 4	4 - 4	5 - 3	6 - 4
	7 - 1	इंग्रजी	1 - 4	2 - 1	3 - 4	4 - 1	5 - 2	6 - 3	

18. वारंवारतेच्या एककाचे नामकरण कोणी केले ?
 1. जेम्स वॉट 2. अँडर्स सेल्सिअस
 3. हेनरिक रुडॉल्फ हर्ट्झ 4. ब्लेझ पास्कल

19. Excess secretion of growth hormone in adults especially in middle age can result in severe disfigurement called

1. Androgens 2. Diabetes insipidus
 3. Acromegaly 4. Vasopressin

20. खालीलपैकी कोणते विरोधी बल द्रवात कार्य करते ?

1. गुरुत्वाकर्षण शक्ती 2. घर्षण
 3. विष्यंदी 4. न्यूक्लिय बल

03

वसिष्ठ लिपिक स्टोअर वर्ग 3

Date - 19/09/2024 वेळ : 9 : 00 - 10 : 30

1. 'राजवाडा' या समासाचा योग्य विग्रह ओळखा.

1. राजतुल्य वाडा 2. राजा किंवा वाडा
 3. राजाचा वाडा 4. राजा आणि वाडा

2. 'पोटा पुरता पसा पाहिजे नको पिकाया पोळी' या ओळीतील अलंकार ओळखा.

1. यमक 2. अनुप्रास
 3. रूपक 4. उपमा

3. 'कोण आले आहे बरे घरी?' या वाक्यातील सर्वनाम ओळखा.

1. आले 2. कोण 3. आहे 4. घर

4. 'दशपदी', 'संगती' हे कवितासंग्रह कोणत्या कवी आहेत ?

1. विंदा करंदीकर 2. अनिल
 3. वसंत बापट 4. मंगेश पडगावकर

5. 'मातीत ते पसरले अति रम्य पंख । केले वरी उदर पांडुर निष्कलंक ॥ चंचूच उघडी पद लांबवीले । निष्प्राण देह श्रमही निमाले ॥' या पंक्तीतील अलंकार ओळखा.

1. इतर 2. उपमा
 3. स्वभाववादी 4. अत्यधिक

6. 'शिरजोर होणे' या वाक्प्रचाराचा योग्य अर्थ सांगा.

1. पारणे फिटणे 2. हातोहात फसवणे
 3. चोरी करणे 4. डोईजड होणे

7. 'आमच्या महाराजां (कडून) प्रजेच्या हिताची कार्ये घडली. कंसातील शब्दाची जात सांगा.

1. क्रियाविशेषण 2. शब्दयोगी अव्यय
 3. क्रियापद 4. विशेषनाम

विभाग: इंग्रजी

1. Select the most appropriate meaning of the given idiom. End in smoke

1. To perform magic tricks
 2. To disappear from view
 3. To have no positive result
 4. To complete successfully

2. Select the most appropriate meaning of the given idiom.

Give ear to

1. Listen carefully 2. Hear secrets
 3. Spread rumours 4. Share information

3. Select the most appropriate option to fill in the blank. If no word is needed in the blank, select 'no word'.

..... honorary degree was conferred on the actor for his contribution to cinema.

1. A 2. No word 3. An 4. The

4. Select the most appropriate ANTONYM of the given word. Alienate

1. Combine 2. Divorce
 3. Inhabit 4. Withdraw

5. Fill in the blank with the most appropriate option.

He spoke as one having long experience of escaping bears.

1. at bears. 2. from
 3. with 4. by

6. Fill in the blank with the most appropriate option.

We proceeded cautiously on snow, supporting each other on the slippery surface.

1. an 2. none 3. a 4. the

विज्ञान	18 - 3	19 - 3	20 - 3	पेपर क्र - 3 - मराठी	1 - 3	2 - 2	3 - 2	4 - 2	5 - 3
	6 - 4	7 - 2		इंग्रजी	1 - 3	2 - 1	3 - 3	4 - 1	5 - 2
									6 - 4

16. अल्डीहाइड्स आणि केटोन्स या दोन्हीत कोणता कार्यात्मक गट असतो ?
 1. हायड्रोक्सिल गट 2. कार्बोनिल गट
 3. अल्केन गट 4. कार्बोक्सिल गट
17. गुडघ्याच्या सांध्यासारख्या बिजागर सांध्याचा मुख्य फायदा काय आहे ?
 1. स्थिरता 2. परिभ्रमण
 3. लवचिकता 4. बहुदिशात्मक हालचाल
18. क्षार धातू खालीलपैकी कोणत्या धातूशी जोरदार अभिक्रिया करतो ?
 1. निष्क्रिय वायू 2. हॅलोजन
 3. संक्रमण धातू 4. क्षारीय पृथ्वी धातू
19. स्वतःच्या बहुतेक संयुगांत बोरॉनची संयुजासंख्या किती असते ?
 1. 4 2. 2 3. 1 4. 3
20. जैवविविधतेत घट होण्यामागील मुख्य कारण काय आहे ?
 1. हवामानातील स्थिरता 2. पोषक तत्वांची चक्र
 3. आक्रमक प्रजाती 4. अधिवास संरक्षणाचा अभाव

04

वैज्ञानिक सहाय्यक सायबर क्राइम

Date - 19/09/2024

वेळ : 4 : 30 - 6 : 30

1. 'जळवा' हे कोणत्या शब्दाचे अनेकवचन आहे ?
 1. जळू 2. जाळ 3. जाळे 4. जल
2. 'सुरक्षित' या शब्दाचा विरुद्धार्थी शब्द सांगा.
 1. आरक्षित 2. असुरक्षित
 3. आराखडा 4. विक्षिप्त
3. 'मोठे शहरा जवळचा लहान शहर शब्दासाठी एक शब्द शोधा.
 1. चावडी 2. उपनगर 3. सामान 4. पंचायत
4. 'भाजीपाला' या सामासिक शब्दाचे लिंग ओळखा.
 1. उभयलिंग 2. स्त्रीलिंग
 3. पुल्लिंग 4. नपुंसकलिंग
5. 'ताजमहाल एक जगती तो त्याच्यापरी' हा कोणता अलंकार आहे ?
 1. अनन्वय 2. रूपक 3. उपमा 4. यमक

6. 'राजा बोले दळ हाले' याचा योग्य अर्थ सांगा.
 1. कामचुकार माणूस नशिबाला बोलतो.
 2. रडून रडून काम करून माणूस
 3. पैसा आला तरी त्याची खूप गरिबी असावी.
 4. सामर्थ्यवान व्यक्तीच्या बोलण्याला महत्त्व असते.
7. लेखन नियमांनुसार योग्य वाक्य रचना कोणती आहे ?
 1. या पितळात मी पाच या नरस काम करत आहे.
 2. मी या स्पितळात नर्स म्हणून पाच पाच काम करत आहे.
 3. इस्पितळात म्हणून नर्स मी पाच या विकासाचे काम करत आहे.
 4. नर्स म्हणून काम मी पाच इस्पितळात चाचणी करत आहे.

विभाग: इंग्रजी

1. Select the most appropriate ANTONYM of the given word.
 Surface
 1. Top 2. Cover
 3. Outside 4. Inside
2. Select the most appropriate synonym of the given word. - Follow
 1. Lose 2. Scorn
 3. Understand 4. Neglect
3. Select the option that can be used as a one-word substitute for the given group of words.
 A group of fish
 1. Swarm 2. Float
 3. School 4. Flock
4. Fill in the blank with the most appropriate option.
 It has come here because of all the activity near the dam.
 1. softly 2. probably
 3. brightly 4. sleepily

विज्ञान	16 - 2	17 - 3	18 - 2	19 - 4	20 - 4	पेपर क्र. - 4 - मराठी			1 - 1	2 - 2	3 - 2
	4 - 3	5 - 1	6 - 4	7 - 2		इंग्रजी	1 - 4	2 - 3	3 - 3	4 - 2	

विभाग - लेखापाल

लेखापाल पेपर क्रमांक - 1

- 'मुख चंद्रासारखे सुंदर आहे.' वाक्यात उपमेय कोणते आहे?
1) सुंदर 2) सारखे 3) मुख 4) चंद्र
- 'तुषारच्या वाईट वर्तनाकडे आई-वडिलांनी सतत कानाडोळा केल्याने आज गंभीर परिस्थिती उद्भवली आहे.' वाक्यातील वाक्प्रचाराचा अर्थ ओळखा.
1) लक्ष देणे 2) दुर्लक्ष करणे
3) नजर लागणे 4) कान फुंकणे
- 'प्रासादापुढे हत्ती झुलत होता.' - अधोरेखित शब्दाचा समानार्थी शब्द सांगा.
1) मैदान 2) स्वर्ग 3) वाडा 4) झोपडी
- 'स्मृतिचित्रे' हे पुस्तक कोणाचे आहे?
1) इंदिरा संत 2) विभावरी शिरूरकर
3) लक्ष्मीबाई टिळक 4) बहिणाबाई चौधरी
- खालील कोणते वाक्य लेखननियमानुसार नाही?
1) अनुभवासारखा उत्तम शिक्षक नाही.
2) नम्रता हा सर्व सद्गुणांचा पाया आहे.
3) न जाता संकटांना घाबरून जो जीवन असतो यशस्वी करतो पराक्रमी तोच खरा.
4) मैत्री ही नात्यापेक्षा कितीतरी श्रेष्ठ आहे.
- जेव्हा क्रियापदाचे रूप कर्त्याच्या किंवा कर्माच्या लिंगवचनाप्रमाणे बदलत नसून ते नेहमी तृतीयपुरुषी, नपुंसकलिंगी, एकवचनी असून स्वतंत्र असते, तेव्हा अशा प्रकारच्या वाक्यरचनेस म्हणतात.
1) नवीन कर्मणी 2) कर्मणी 3) भावे 4) कर्तरी
- खाली जोडीने येणारे शब्द दिलेले आहेत, त्यांतील अयोग्य जोडी ओळखा.

- 1) कोड-कौतुक 2) कडी-कोयंडा
3) उठा बशा 4) काळा - पिवळा
- अचूक जोड्या जुळवा.
'अ' गट 'ब' गट
a) विधानार्थी वाक्य i) तो अजून आलेला नाही.
b) प्रश्नार्थी वाक्य ii) शीsss ! काय हे ध्यान तुझे!
c) नकारार्थी वाक्य iii) तू माझ्याबरोबर येतोस का ?
d) उद्गारार्थी वाक्य iv) काल तूमी अकलजुला गेली.
1) a-iii, b-iv, c-i, d-ii 2) a-iv, b-iii, c-ii, d-i
3) a-iv, b-iii, c-i, d-ii 4) a-ii, b-iii, c-i, d-iv
- 'कोणीही कार्यक्रमास अनुपस्थित राहू नये.' वाक्यातील अधोरेखित शब्दाचा विरुद्धार्थी शब्द लिहून, अर्थ न बदलता वाक्य पूर्ण करा.
1) कोणीही कार्यक्रमास गैरहजर राहावे.
2) सगळ्यांनी कार्यक्रमास गैरहजर असावे.
3) प्रत्येकाने कार्यक्रमास अपात्र असावे.
4) प्रत्येकाने कार्यक्रमास उपस्थित राहावे.
- 'अमृतानुभव' ग्रंथाचे कर्ते कोण आहेत?
1) संत ज्ञानेश्वर 2) योगी चांगदेव
3) निवृत्तिनाथ 4) मुकुंदराज
- अलंकार ओळखा. - 'प्रतिभा शेळीसारखी लबालबा खात होती.'
1) उपमा 2) यमक 3) ससंदेह 4) सार
- 'हनुमानाच्या शेपटीला आग लावण्याअगोदरच रावणाची लंका जळून खाक झाली.' - अलंकार ओळखा.
1) यमक 2) अनन्वय 3) रूपक 4) अतिशयोक्ती
- खालीलपैकी कोणता, 'मारुती' शब्दाचा समानार्थी नसलेला शब्द आहे?
1) वायुपुत्र 2) पंचानन
3) पवनपुत्र 4) हनुमान

पेपर क्र. - 1	1 - 3	2 - 2	3 - 3	4 - 3	5 - 3	6 - 3	7 - 4	8 - 3	9 - 4	10 - 1	11 - 1
	12 - 4	13 - 2									

लेखापाल पेपर क्रमांक - 2

1. 'ऋतुचक्र' हे ललित लेखन कोणाचे आहे?
 - 1) शिरीष पै
 - 2) सरोजिनी बाबर
 - 3) इरावती कर्वे
 - 4) दुर्गा भागवत
2. 'दासबोध' ही कोणाची रचना आहे?
 - 1) संत ज्ञानेश्वर
 - 2) संत तुकाराम
 - 3) संत रामदास
 - 4) संत एकनाथ
3. समानार्थी शब्द ओळखा. - 'अचल'
 - 1) अवास्तव
 - 2) विचल
 - 3) स्थिर
 - 4) अमर्याद
4. सामान्य कार्यकर्ता असलेले जयंतराव महापौर झाले खरे, पण पक्षश्रेष्ठींच्या कटू बोलण्याने अशी त्यांची अवस्था झाली.
 - 1) अळीमिळी गुपचिळी
 - 2) अति तेथे माती
 - 3) अचाट खाणे, मसणात जाणे
 - 4) अपमानाची पोळी, सर्वांग जाळी
5. वाक्प्रचार व त्यांचे अर्थ यांच्या अचूक जोड्या जुळवा.

'अ' गट	'ब' गट
a. ओहोटी लागणे	i. धाक दाखविणे
b. कानामागे टाकणे	ii. लयास जाणे
c. चंचुप्रवेश होणे	iii. दुर्लक्ष करणे
d. जरब बसविणे	iv. शिरकाव होणे
	त. पाणी कमी होणे

 - 1) a-v, b-iii, c-iv, d-i
 - 2) a-v, b-ii, c-iv, d-i
 - 3) a-i, b-ii, c-iv, d-iii
 - 4) a-ii, b-iii, c-iv, d-i
6. विश्वकप जिंकल्याने भारतीय संघात चैतन्य
 - 1) हलले
 - 2) हादरले

- 3) बहरले
- 4) संचारले
7. खालीलपैकी कोणत्या साहित्यिकाला ज्ञानपीठ पुरस्कार मिळाला आहे?
 - 1) अरुणा ढेरे
 - 2) नीरजा
 - 3) राजन गवस
 - 4) वि. स. खांडेकर
8. 'अंग मोडून काम करणे' वाक्यात उपयोग करा.
 - 1) बांधकाम मजूर अंग मोडून काम करतात.
 - 2) अंग मोडल्याने नानाला आनंद झाला.
 - 3) अभ्यास करताना अर्णवचे अंग मोडले.
 - 4) सगळ्यांचे कल्याण व्हावे म्हणून अंग मोडले पाहिजे.
9. 'महात्मा फुले यांनी गुलामगिरीविरुद्ध संघर्ष केला.' 'गुलामगिरी' या शब्दाचा अर्थ खालीलपैकी कोणता नाही?
 - 1) दास्य
 - 2) परवशता
 - 3) शोषित
 - 4) पारतंत्र्य
10. विरुद्धार्थी शब्द ओळखा. 'ओले'
 - 1) भिजके
 - 2) सुके
 - 3) अओले
 - 4) 3णखढ
11. 'कामापुरता मामा' या म्हणीसाठी समानार्थी म्हण शोधा.
 - 1) गुरू तसा चेला
 - 2) दयापुरते रामायण
 - 3) चहापेक्षा किटली गरम
 - 4) ताकापुरती आजीबाई
12. 'अटकाव' शब्दाचा विरुद्धार्थी शब्द ओळखा.
 - 1) मोकळीक
 - 2) अपात्र
 - 3) अपाय
 - 4) अडवणूक
13. खालीलपैकी कोणता पर्याय चुकीचा आहे?
 - 1) त्याचे वृत्तपत्र वाचून झाले समापन कर्मणी प्रयोग
 - 2) त्याला आंबा खाववतो शक्य कर्मणी प्रयोग
 - 3) मला आज मळमळते - प्रधानकर्तृक कर्मणी प्रयोग
 - 4) सेवकांकडून प्रसाद वाटण्यात आला नवीन कर्मणी प्रयोग

पेपर क्र. - 2	1 - 4	2 - 3	3 - 3	4 - 4	5 - 4	6 - 4	7 - 4	8 - 1	9 - 3	10 - 2	11 - 4
	12 - 1	13 - 3									

लेखापाल पेपर क्रमांक - 3

1. कोणत्या प्रयोगात कर्ता नेहमी प्रथमेत असतो ?

- 1) कर्तरी 2) समापन कर्मणी
3) भावे 4) कर्मभावसंकर

2. 'कितीही प्रयत्न केले तरी, त्या मालकाच्या हट्टापुढे राघवचा (काहीही उपाय चालला नाही)' कंसातील शब्दांसाठी कोणता वाक्प्रचार योग्य आहे, ते शोधा.

- 1) डाळ न शिजणे 2) भाकरीला महाग होणे
3) तिखटमीठ लावणे 4) चूल न पेटणे

3. एखादी गोष्ट वस्तुस्थितीपेक्षा अधिक फुगवून सांगितली जाते, तेव्हा कोणता अलंकार होतो ?

- 1) उपमा 2) अतिशयोक्ती
3) श्लेष 4) अर्थांतरन्यास

4. 'त्वरित' या शब्दाचा समानार्थी शब्द कोणता आहे ?

- 1) थोर 2) शीतल 3) सत्वर 4) तारांबळ

5. पुढीलपैकी कोणती वाक्यरचना अचूक आहे ?

- 1) छान चित्र त्याच्या हातातील पुस्तकाच्या मुखपृष्ठावर होते.
2) रात्री बाळाला झोपवताना आई अंगाई गाते.
3) बहिणाबाईंनी संसाराची तुलना अनेक गोष्टींशी केलेली आहे.
4) मृत्यूची वाट पाहण्याची भाषा यापुढे चुकूनही तोंडातून काढायची नाही.

6. 'व्यक्ती आणि वल्ली' चे लेखक कोण आहेत ?

- 1) चिं. वि. जोशी 2) आचार्य अत्रे
3) पु. ल. देशपांडे 4) शंकर पाटील

7. 'भावनाहीन' या शब्दाचा विरुद्धार्थी शब्द शोधा.

- 1) भावनाशील 2) भक्त
3) भाविक 4) भाबडा

8. 'छपरावर' या शब्दाचा मूल शब्द कोणता आहे ?

- 1) छत्री 2) छत 3) छपरी 4) छप्पर

9. 'मोराचा पिसारा हिरे-माणकांच्या राशीसारखा दिसतो', या वाक्यातील अलंकार ओळखा.

- 1) यमक 2) रूपक 3) अनुप्रास 4) उपमा

10. 'फकिरा' हे अण्णाभाऊ साठे यांचे लेखन कोणत्या साहित्यप्रकारातील आहे ?

- 1) कादंबरी 2) कथासंग्रह
3) नाटक 4) कवितासंग्रह

11. 'स्तवन' या शब्दाचा विरुद्धार्थी शब्द शोधा.

- 1) स्वस्त 2) निंदा 3) स्तुती 4) सुगम

12. 'पोथी' या शब्दाचे अनेकवचन शोधा.

- 1) पोथा 2) पोती 3) पोते 4) पोथ्या

13. सारे जग ही एक रंगभूमीच आहे, या वाक्यातील हा अलंकार ओळखा.

- 1) रूपक 2) अनुप्रास 3) उपमा 4) यमक

14. या वाक्यातील क्रियापद ओळखा.

वर्गातील मुले आता निबंध लिहितील.

- 1) निबंध 2) आता 3) मुले 4) लिहितील

15. 'मोहोर' या शब्दाचे दोन अर्थ सांगा.

- 1) छंद, युक्ती
2) सोन्या-चांदीचे नाणे, बहर
3) तांदळाचे नाव, मोठा आवाज
4) आकाश, वस्त्र

16. 'आईसारखी आईच' यातील अलंकार ओळखा.

- 1) अनन्वय 2) उत्प्रेक्षा
3) उपमा 4) श्लेष

17. 'नेहमी घरात बसून राहणारा' या शब्दसमूहाबद्दल एक शब्द शोधा.

- 1) घरकोंबडा 2) घरगुती
3) घरभेदी 4) घरधनी

पेपर क्र. - 3	1 - 1	2 - 1	3 - 2	4 - 3	5 - 4	6 - 3	7 - 1	8 - 4	9 - 4	10 - 1	11 - 2
	12 - 2	13 - 1	14 - 4	15 - 2	16 - 1	17 - 1					

98. खालील मालिकेत प्रश्नचिन्हाच्या (?) जागी येणारे पद दिलेल्या पर्यायांतून निवडा.

30AC, 32EA, 35IY, 40MW, ?

- 1) 45QU 2) 47UT
3) 47TU 4) 47QU

99. खालील मालिकेत प्रश्नचिन्हाच्या (?) जागी येणारी संख्या दिलेल्या पर्यायांतून निवडा.

16, 18, 36, 38, 76, ?

- 1) 150 2) 78 3) 74 4) 152

100. P, Q, R, S, T आणि U हे एकाच इमारतीच्या सहा वेगवेगळ्या मजल्यांवर राहतात. इमारतीतील तळमजल्याचा क्रमांक 6 आहे, त्याच्या वरच्या मजल्याचा क्रमांक 5 आणि याच क्रमाने क्रमांक 1 च्या मजल्यापर्यंत क्रमांकित केलेले आहे.

S हा सम क्रमांकाच्या मजल्यावर राहतो. P आणि T हे प्रत्येकी विषम क्रमांकाच्या मजल्यावर राहतात. R हा क्रमांक 2 च्या मजल्यावर राहतो. Q हा एका विषम क्रमांकाच्या, U च्या लगेचच वरच्या आणि R च्या लगेचच खालच्या मजल्यावर राहतो. P सर्वात वरच्या मजल्यावर राहत नाही. तर सर्वात खालच्या मजल्यावर कोण राहत असेल?

- 1) S 2) T
3) U 4) P

1. खालीलपैकी कोणते वाक्य अचूक आहे?

- 1) यातून आपण वंशभेद, बाहेर पडलेलो नाही अद्याप लिंगभेद
2) अॅलन मस्क यांनी पत्रात कल्पित समस्या मांडली आहे.
3) ए.आय. गेल्या काही तंत्रज्ञानाचा वर्षांपासून अनेक उद्योगांत झाला आहे वापर सुरू
4) अभ्यास करण्यासाठी सर्वसामान्यपणे कालावधी सहा दिला जावा महिन्यांचा

2. खालीलपैकी चुकीची जोडी ओळखा.

- 1) अमृतवेल- वि. स. खांडेकर
2) पानझड - शंकर पाटील
3) कोसला - भालचंद्र नेमाडे
4) बटाट्याची चाळ - पु. ल. देशपांडे

3. खालीलपैकी अयोग्य पर्याय ओळखा.

- 1) गौणकर्तृक कर्मणी - या प्रकारात कर्ता गौण असतो व कर्माला महत्त्व असते.
2) पुराण कर्मणी - हा प्रयोग मूळ ऊर्दू कर्मणी प्रयोगापासून आलेला आहे.
3) समापन कर्मणी - यात क्रियापदाचा अर्थ कार्यसमाप्ती दर्शवितो.
4) शक्य कर्मणी - या प्रकारात क्रिया करण्याची शक्यता, सामर्थ्य, इच्छा, अपेक्षा असा अर्थ क्रियापदातून व्यक्त होतो.

4. 'लता चिंच खाते.' - प्रयोग ओळखा.

- 1) अकर्मक कर्तरी प्रयोग 2) सकर्मक कर्तरी प्रयोग
3) समापन कर्मणी प्रयोग 4) नवीन कर्मणी प्रयोग

5. 'त्याचे कपाळ रुंद आहे.' - अधोरेखित शब्दाचा अर्थ खालीलपैकी कोणता आहे ?

- 1) भाळ 2) हात 3) ढोपर 4) केस

पेपर क्र. - 3	98 - 4	99 - 2	100 - 1						
पेपर क्र. - 4	1 - 2	2 - 2	3 - 2	4 - 2	5 - 1				

मराठी

1. 'त्याज्य' या शब्दाचा विरुद्धार्थी शब्द शोधा.
 1. ग्राह्य
 2. ग्रहण
 3. ग्रामीण
 4. गर्हणीय
2. पुढीलपैकी 'सरस्वती' या शब्दाचा समानार्थी शब्द शोधा.
 1. वाग्देवी
 2. पार्वती
 3. रत्नाकर
 4. सरिता
3. प्रमाण लेखनानुसार योग्य शब्द शोधा.
 1. व्रतवैकल्य
 2. वृतवैकल्य
 3. व्रतविकल्य
 4. वर्तवैकल्य
4. 'हरीने चोर पाहिला' या वाक्याचे भावे प्रयोगातील रूप ओळखा.
 1. हरीने चोरास पाहिले.
 2. हरीने चोर पहावा.
 3. हरी चोर पाहतो.
 4. हरीकडून चोर पाहिला गेला.
5. 'रहदारी' या शब्दाचा समानार्थी शब्द शोधा.
 1. वहिवाट
 2. वाहने
 3. वहाणा
 4. वाहतूक
6. 'सदाचारी' या शब्दाचा विरुद्धार्थी शब्द शोधा.
 1. दुराचारी
 2. आचारी
 3. सदाचरण
 4. दुराचार
7. 'प्रदक्षिणा' शब्दाचा समानार्थी शब्द शोधा.
 1. परिचर्या
 2. परिगणना
 3. परितोष
 4. परिक्रमा
8. 'विपुलता' शब्दाचा विरुद्धार्थी शब्द शोधा.
 1. विशेषता
 2. विश्वसनीयता
 3. तुटवडा
 4. ताजेपणा
9. 'त्याचा भिंतीला रंग देऊन झाला' या वाक्यातील प्रयोग ओळखा.
 1. भावे प्रयोग
 2. कर्मभावसंकर
 3. समापन कर्मणी
 4. अकर्मक कर्तरी

10. 'यथाक्रम' शब्दाचा समास ओळखा.

1. द्वंद्व
2. अव्ययीभाव
3. तत्पुरुष
4. बहुव्रीही

11. तलवारीच्या आवाजासाठी योग्य ध्वनिदर्शक शब्द शोधा.

1. किलबिलाट
2. कलकलाट
3. खणखणाट
4. गडगडाट

12. 'खाल्ल्या घरचे वासे मोजणे' या म्हणीचा योग्य अर्थ सांगा.

1. उपकारकर्त्यांचे अहित पाहणे
2. खूप मोठी शिक्षा करणे
3. नुकसान टळणे
4. क्षुद्र माणसांचे गुण गाणे

13. 'राजदरबार' शब्दाचा समास ओळखा.

1. कर्मधारय
2. उपपद
3. द्विगू
4. विभक्ती तत्पुरुष

14. 'मी संध्याकाळी फिरायला जातो किंवा तासभर पोहायला जातो!' या वाक्याचा प्रकार ओळखा.

1. मिश्र वाक्य
2. केवल वाक्य
3. संयुक्त वाक्य
4. स्वार्थी वाक्य

15. अचूक वाक्यरचना कोणती आहे ते शोधा.

1. अनुभावग्रहण करणे हा मुलांच्या बालवयातील अविभाज्य घटक असतो.
2. अनुभवग्रहण करणे हा मुलांच्या बालवयातील अविभाज्य घटक असतो,
3. अनुभवग्रहण करणे हा मुलांच्या बालवयातील अविभाज्य घटक असतो.
4. अनुभवग्रहण करणे हा मुलांच्या बालवयातील अविभाज्य घटक असतो.

16. अचूक वाक्यरचना कोणती आहे ते शोधा.

1. अशी लेखन पद्धती पूर्वीच्या कथा कादंबऱ्यात आढळते.
2. कादंबऱ्यात पूर्वीच्या आढळते अशी कथा लेखन पद्धती.
3. आढळते पूर्वीच्या लेखन पद्धती अशी कथा कादंबऱ्यात.
4. पूर्वीच्या अशी कथा कादंबऱ्यात आढळते लेखन पद्धती.

4. I किंवा II पैकी एकही तर्कसंगत नाही

19. कोणत्या दोन चिन्हांची अदलाबदल केल्यास समीकरण समतुल्य होईल ?

$$9 - 3 + 12 \times 8 \div 4 = 11$$

1. - आणि \div 2. + आणि \times
3. + आणि \div 4. + आणि -

20. दिलेल्या प्रश्नात एका विधानानंतर गृहितकांचा एक संच दिलेला आहे. खालील विधानाशी कोणते गृहितक के तर्कसंगत आहे/ आहेत हे ओळखा.

विधान : मुलांच्या आईने त्यांना दटावल्यानंतर ती लक्षपूर्वक अभ्यास करत होती.

गृहितके

- I. सर्व मुले त्यांच्या आईला घाबरतात.
II. मुलांना आईकडून दटावले जाण्यापूर्वी ती गोंगाट करत होती.
1. फक्त II तर्कसंगत आहे
2. I किंवा II पैकी एकही तर्कसंगत नाही
3. I आणि II हे दोन्ही तर्कसंगत आहेत
4. फक्त I तर्कसंगत आहे

21. खालील प्रश्नात, दिलेल्या मालिकेत प्रश्नचिन्हाच्या जागी येणारी संख्या निवडा.

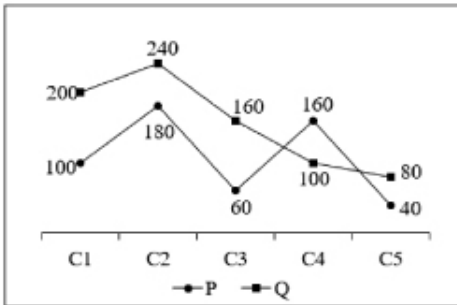
135, 148, 133, 150, 131, ?, 129

1. 152 2. 154 3. 148 4. 156

22. खालील प्रश्नात, दिलेल्या पर्यायांमधून संबंधित अक्षर जोडी निवडा. - UH : SF :: ?

1. AB:CO 2. DF:MO
3. TG:RE 4. AB:ZX

23. खाली दिलेला रेषालेख हा दोन वर्षातील पाच कंपन्यांचे उत्पादन दर्शवितो.



L1 = वर्ष P आणि Q मधील सर्व कंपन्यांच्या उत्पादनातील फरक.

L2 = P वर्षात C1, C2, C3 आणि C4 यांच्या उत्पादनाची बेरीज.

(L2 - L1) चे मूल्य किती आहे ?

1. 180 2. 290
3. 260 4. 140

24. जर $15 E 4 F 2 = 17$ आणि $19 E 3 F 1 = 22$ असेल, तर $23 E 6 F 3 = ?$

1. 28 2. 31 3. 26 4. 25

25. खालील प्रश्नात, दिलेल्या पर्यायांमधून संबंधित अक्षरे निवडा.

NPZA : LMWW :: XMIJ : ?

1. FXZO 2. XZBI
3. VJFF 4. GHEV

02

Date : 08/12/2023

वेळ : 1:00 PM

पनवेल महानगरपालिका

- 3:00 PM

मराठी

1. प्रमाण लेखनानुसार योग्य शब्द शोधा.

1. व्रतवैकल्य 2. वर्तवैकल्य
3. वृतवैकल्य 4. व्रतविकल्य

2. अचूक वाक्यरचना कोणती आहे ते शोधा.

1. अनुभवग्रहण करणे हा मुलांच्या बालवयातील अविभाज्य घटक असतो.
2. अनुभवग्रहण करणे हा मुलांच्या बालवयातील अविभाज्य घटक असतो.
3. अनुभावग्रहण करणे हा मुलांच्या बालवयातील अविभाज्य घटक असतो.
4. अनुभवग्रहण करणे हा मुलांच्या बालवयातील अविभाज्य घटक असतो.

3. 'हरीने चोर पाहिला' या वाक्याचे भावे प्रयोगातील रूप ओळखा.

1. हरी चोर पाहतो.
2. हरीने चोर पहावा.
3. हरीकडून चोर पाहिला गेला.
4. हरीने चोरास पाहिले.

रिजनिंग	19 - 3	20 - 2	21 - 1	22 - 3	23 - 3	24 - 4	25 - 3			
मराठी	1 - 1	2 - 2	3 - 4							

मराठी

1. 'जरठ' या शब्दाचा विरुद्धार्थी शब्द शोधा.
 1. युवक
 2. कनिष्ठ
 3. यथेष्ट
 4. वृद्ध
2. 'द्विजि निषिधापासाव म्हणीजेलो.' या वाक्यातील प्रयोग ओळखा.
 1. पुराण कर्मणी
 2. शक्य कर्मणी
 3. नवीन कर्मणी
 4. समापन कर्मणी
3. 'आपल्याकडील थोड्याशा संपत्तीचे प्रदर्शन करणे' या अर्थाची म्हण सांगा.
 1. काप गेले भोके राहिली.
 2. उचल पत्रावळी तर म्हणे जेवणारे किती?
 3. कानात बुगडी गावात फुगडी
 4. एकादशीच्या घरी शिवरात्र
4. 'कलावैभव' शब्दाचा समास ओळखा.
 1. अव्ययीभाव
 2. समाहार द्वंद्व
 3. विभक्ती तत्पुरुष
 4. कर्मधारय
5. अचूक वाक्यरचना कोणती आहे ते शोधा.
 1. वडील आणि मुलगी यांच्या नात्याची भार्वपूर्णता त्या कथेतून प्रवाहीत झाली आहे.
 2. या लेखात निसर्गाचा, परदेशातील सामाजिक आणि सांस्कृतिक जीवनाचा अनुभव आहे.
 3. लेखकाच्या कथा जिवनाच्या चिरंतन मुल्यांचा शोध घेतात.
 4. आपली जडनघडण शेवटी कशावर अवलंबून असते?
6. 'तिळपापड होणे' या वाक्यचाराचा योग्य अर्थ सांगा.
 1. अतिशय संताप येणे
 2. जीव अडकणे
 3. पापडासारखे ठिसूळ होणे
 4. लोणचे - पापडाचा व्यवसाय करणे
7. 'किती चांगले गाते ती !' याचे विधानार्थी वाक्य ओळखा.
 1. ती चांगले गात नाही.
 2. ती फारच चांगले गाते.

3. ती फार वाईट गाते. 4. ती चांगले गाते का
8. 'दाती तृण धरणे' या वाक्यचाराचा योग्य अर्थ सांगा.
 1. शरण जाणे
 2. द्वेष करणे
 3. कपट करणे
 4. धमकावणे
9. 'तर्क' या शब्दाच्या जोडीने घेणारा शब्द शोधा.
 1. वितर्क
 2. विसंवाद
 3. विवेचन
 4. वितरक
10. 'अंबर' शब्दाचे योग्य अर्थ सांगा.
 1. वृष्टी, आकाश
 2. समाविष्ट, वृष्टी
 3. समाविष्ट, आकाश
 4. आकाश, वस्त्र
11. 'दिमाख' या शब्दाचा समानार्थी शब्द शोधा.
 1. तोरा
 2. तुच्छ
 3. तुरा
 4. तूस
12. अचूक वाक्यरचना कोणती आहे ते शोधा.
 1. त्याच्या उज्ज्वल यशाच्या रहस्य आहे त्याच्या प्रयत्नांची परकाष्ठा आणि उत्तम मार्गदर्शन!
 2. त्याच्या उज्ज्वल यशाचे रहस्य आहे त्याच्या प्रयत्नांची परकाष्ठा आणि उत्तम मार्गदर्शन.!
 3. त्याच्या उज्ज्वल यशाचे रहस्य आहे त्याच्या प्रयत्नांची परकाष्ठा आणि उत्तम मार्गदर्शन.!
 4. त्याच्या उज्वल यसाचे रहस्य आहे त्याच्या प्रयत्नांची परकाष्ठा आणि उत्तम मार्गदर्शन.!
13. 'मिलाफ' या शब्दाचा विरुद्धार्थी शब्द शोधा.
 1. फाटाफूट
 2. ऐक्य
 3. मेळ
 4. फलित
14. 'तो घरी पोहोचण्यापूर्वी सांजावले!' या वाक्यातील प्रयोग ओळखा.
 1. कर्मकर्तरी
 2. कर्मणी
 3. सकर्मक कर्तरी
 4. भावकर्तरी
15. 'अनेक नोटा'... चा समूह दर्शक शब्द शोधा.
 1. थप्पी
 2. टोळी
 3. कुप्या
 4. घोस

मराठी	1 - 1	2 - 1	3 - 3	4 - 3	5 - 2	6 - 1	7 - 2	8 - 1	9 - 1	10 - 4	11 - 1
	12 - 3	13 - 1	14 - 4	15 - 1							

मराठी

1. मीठभाकर शब्दाचे लिंग कोणते आहे?
 1. उभयलिंग
 2. पुल्लिंग
 3. स्त्रीलिंग
 4. नपुंसकलिंग
2. दुराचार शब्दाचे लिंग निश्चित करा.
 1. स्त्रीलिंग
 2. उभयलिंग
 3. पुल्लिंग
 4. नपुंसकलिंग
3. लिंगविचारानुसार पुढील जोड्यांमधून चुकीची जोडी कोणती आहे ते सांगा.
 1. राघू - मैना
 2. मोर - मोरीण
 3. सिंह - सिंहीण
 4. चिमणा - चिमणी
4. व्याकरणानुसार पुढीलपैकी कोणती वाक्यरचना अचूक आहे?
 1. कृष्ण माता यशोदेलाच समजत स्वतः ची होता.
 2. यशोदेलाच समजत स्वतः ची होता माता कृष्ण.
 3. माता होता कृष्ण स्वतः ची समजत यशोदेलाच.
 4. कृष्ण यशोदेलाच स्वतः ची माता समजत होता.
5. "शिक्षकाकडून प्रश्नपत्रिका वाटल्या गेल्या." या वाक्यातील प्रयोग ओळखा.
 1. अकर्मक कर्तरी
 2. कर्म कर्तरी
 3. कर्तृ भाव संकर
 4. भावे
6. "प्रतिवर्ष" या शब्दाचा समास सांगा.
 1. अव्ययीभाव
 2. द्विगू
 3. द्वंद्व
 4. तत्पुरुष
7. "ज्येष्ठ" या शब्दाचा विरुद्धार्थी शब्द शोधा.
 1. श्रेष्ठ
 2. कनिष्ठ
 3. संतुष्ट
 4. पुष्ट
8. रिकाम्या जागी विशेषण वापरा.

श्री. पु. भागवत हे संपादक होते.

 1. श्रेष्ठ
 2. हळूहळू
 3. स्वागत
 4. धैर्य

पुढील उतारा वाचून विचारलेल्या प्रश्नांची उत्तरे द्या.

सगळे यात्रेकरू आता आपापल्या आसनांवर स्थिरावले, आणि त्यांनी ऐसपैस घोषणा देण्यास सुरुवात केली.

मिनीबसमध्ये वीस तीर्थयात्री होते. दोन ड्रायवर, भगवी कफनी घालणारे चार बैरागीमुद्धा होते. घोषणा देण्यात त्यांनीच पुढाकार घेतला होता. बस यमुनापार होईपर्यंत सर्वांचेच घसे बसून गेले. काहींच्या पिशव्यांमधून आता घसा ओला करण्यासाठी लिमलेटच्या गोळ्या, खडीसाखर वगैरे पदार्थ हळूहळू बाहेर पडू लागले. लिमलेटची गोळी गुप्त राहण्याइतकी छोटी असली तरी बसमध्ये मध्यभागी बसलेल्या वर्माच्या नजरेतून सुटली नाही. त्यांनी ती गोळ्यांची पिशवीच हस्तगत केली आणि उदार अंतःकरणाने गोळ्या सर्वांना वाटून टाकल्या. आपण सारे यात्रेकरू बरोबर चाललो आहोत तर मग गोळ्या काय एकट्याने खायच्या? असे ते म्हणाले. उत्तरप्रदेशच्या सपाट मैदानी प्रदेशातून मिनीबस मध्यम गतीने चालू होती. बस मुक्कामाला केव्हा पोचणार, वेळेवर जाणार की नाही, वाटेत जेवायला मिळणार की नाही अशा कोणत्याच चिंता यात्रेकरूंना वाटत नव्हत्या, कारण सारी व्यवस्था प्रवासी संस्थेकडून करण्यात आली होती.

9. "हस्तगत करणे" या वाक्यचाराचा अर्थ सांगा.

1. हात जोडणे
2. हात मिळवणे
3. कारवाई करणे
4. काबीज करणे

10. बैराग्यांच्या वस्त्राला काय म्हणतात?

1. कफनी
2. धोतर
3. उपरणे
4. वल्कल

11. या उताऱ्यात कोणत्या नदीचा उल्लेख केला आहे?

1. गंगा
2. गोदावरी
3. सिंधू
4. यमुना

12. त्याने ही लढाई जिंकली. या वाक्याचा काळ ओळखा.

1. अपूर्ण वर्तमानकाळ
2. साधा भूतकाळ
3. पूर्ण भूतकाळ
4. साधा भविष्यकाळ

13. पुढील वाक्याचा प्रकार ओळखा.

"त्याच्या शेतात बराच पाऊस पडला."

1. प्रश्नार्थी
2. विधानार्थी
3. नकारार्थी
4. उद्गारार्थी

14. पुढीलपैकी कोणता शब्द घर या शब्दाचा समानार्थी आहे?

1. सोयरा
2. सदन
3. सगुण
4. समूह

पेपर क्र. - 1	1 - 3	2 - 3	3 - 2	4 - 4	5 - 2	6 - 1	7 - 2	8 - 1	9 - 4	10 - 1	11 - 4
मराठी	12 - 2	13 - 2	14 - 2								

मराठी

1. वाक्याचा प्रकार ओळखा.
'त्याने अभ्यास केला असता तर तो पास झाला असता'.
1. संकेतार्थी 2. आज्ञार्थी
3. विध्यर्थी 4. होकारार्थी
2. मी चहा केला आहे. - या वाक्याचा काळ ओळखा.
1. साधा वर्तमानकाळ
2. अपूर्ण वर्तमानकाळ
3. पूर्ण वर्तमानकाळ
4. रीति वाचक वर्तमानकाळ
3. कंसातील शब्दाचा समानार्थी शब्द शोधा.
'व्यसनाधीन झाल्यामुळे त्याच्या वैभवाचा (क्षय) होत आहे'.
1. उत्कर्ष 2. ऱ्हास
3. प्रशंसा 4. वृद्धी
4. "गायराण" या शब्दाचे लिंग निश्चित करा.
1. स्त्रीलिंगी 2. पुल्लिंगी
3. उभयलिंगी 4. नपुंसकलिंगी
5. "अतिथी" या शब्दाचा समानार्थी शब्द ओळखा.
1. आदरसत्कार 2. तिथी असलेला
3. मोठी तिथी 4. पाहुणा
6. खालील वाक्यातील काळ ओळखा.
मी पहाटे अभ्यास करते.
1. साधा वर्तमानकाळ 2. अपूर्ण वर्तमानकाळ
3. पूर्ण वर्तमानकाळ 4. रीतिवर्तमानकाळ
7. पुढील शब्दांपैकी विशेषण कोणते आहे?
1. उदर 2. उधार
3. उदार 4. उद्धार
8. "काळी पाटी" चे योग्य अनेकवचन शोधा.
1. काळी पाट्या 2. काळया पाटी
3. काळे पाट 4. काळया पाट्या

9. "यथाशक्ती" हा कोणता समास आहे ते सांगा.
1. अव्ययीभाव 2. द्विगु
3. कर्मधारय 4. द्वंद्व

10. 'आईने मुलीला निजवले.' - प्रयोग ओळखा.
1. कर्तृभावसंकर 2. कर्मभावसंकर
3. कर्तृकर्मसंकर 4. कर्तरी

खालील उतारा वाचा आणि दिलेल्या प्रश्नाचे उत्तर द्या.

अभिव्यक्त होण्याच्या मुलभूत गरजेतून मानव कलेकडे वळाला. चित्र, गायन, लेखन, नृत्य हे विविध मार्ग मानवाने निवडले. समाजव्यवस्थेत हे सगळेच मार्ग पुरुषांसाठी सोयीचे होते. स्त्रियांना मात्र अनेक बंधने होती. अभिव्यक्त होण्यासाठी स्त्रियांनी सोयीची वाट शोधली ती म्हणजे गीते. ही स्त्रीगीते म्हणजे स्त्रीच्या भावविश्वाचा आरसा होय. स्त्रीचे गीतातून अभिव्यक्त होण्याची ही परंपरा स्त्री लिखित कवितेसाठी पाऊलवाट ठरली. स्त्रीचे स्थान प्राचीन असो, मध्ययुगीन असो वा आधुनिक तिचा स्त्री म्हणून असलेला अंतरिक संघर्ष, समाजपटलावर आपल्या अस्तित्वाची ठसठशीत जाणीव करून देण्याची तिची धडपड स्थलविशिष्ट न राहता वैश्विक बनते. स्त्रीच्या जीवनजाणिवा स्थलकालाचे सीम लेंघन करून विश्वव्यापक होतात. त्यामुळे स्त्रियांचे साहित्य नेहमीच 'समकालीन' ठरते. स्त्री लिखित कवयित्रींच्या काव्यरचनेतून स्त्री म्हणून सामाजिक पटावरचे त्यांचे स्थान, मर्यादा, अस्तित्त्व, आंतरिक कोलाहल, आत्मभान याचे आकलन झाले. कवितेने स्त्रियांना मायेची कुस दिली. कवितेतून अभिव्यक्त होणे त्यांना अधिक जवळचे वाटले. स्त्रियांसाठी कविता ही अशी जागा ठरली जिथे त्यांच्या सुख दुःखाचे, घुसमटीचे, आशाआकांक्षेचे, स्वप्नांचे कथन होते. पुरुषसत्ताक व्यवस्थेने नाकारलेले त्यांचे हक्क व दिलेले दुय्यम स्थान त्यामुळे अवहेलनेच्या अगतिकेच्या व एकाकीपणाच्या खाईत पडलेल्या स्त्रियांना कवितेने आधार दिला. माणूस म्हणून जगताना स्वतःशी संवाद करायला शिकवले.

11. विरुद्धार्थी शब्द लिहा.

सोय

1. सवड 2. गैरसोय
3. असोय 4. नसोय

पेपर क्र. - 2
मराठी

1 - 1

2 - 3

3 - 2

4 - 4

5 - 4

6 - 1

7 - 3

8 - 4

9 - 1

10 - 2

11 - 2

33. 2022 पर्यंत महाराष्ट्रातील पथदर्शी प्रकल्पांमध्ये वाढ करण्यास-
ठी आणि कायमस्वरूपी सार्वजनिक पायाभूत सुविधा निर्माण
करण्यासाठी किती शहरांची निवड करण्यात आली होती?

1. 11 2. 4
3. 9 4. 14

34. खालीलपैकी कोणत्या अहवालाने आणि भारत सरकारने तयार
केलेल्या धोरणविषयक निवेदनाने 16 आणि 17 एप्रिल 1998
रोजी भारताची व्यापार धोरणे आणि कार्यपद्धतींचा आढावा
घेण्याचा आधार प्रदान केला?

1. WTO सचिवालय (The WTO Secretariat)
2. आशियाई विकास बँक (The Asian Development
Bank)
3. आर्थिक सहकार्य आणि विकास संघटना (The
Organisation for Economic Co-operation and
Development)
4. व्यापार आणि विकासावरील संयुक्त राष्ट्रांची परिषद
(The United Nations Conference on Trade
and Development)

35. महाराष्ट्रात आढळणाऱ्या दरखन बंध (डेकन ट्रॅप्स) संदर्भातील
खालीलपैकी कोणते विधान असत्य आहे?

1. त्यांची जाडी मुंबईजवळ सुमारे 10,000 फुटांच्या
(3,000 मीटर) कमाल जाडीपर्यंत पोहोचते.
2. लाव्हाच्या विभेदक क्षणामुळे महाराष्ट्रातील अनेक
डोंगरांचे वैशिष्ट्यपूर्ण पायऱ्यांसारखे उतार, एकसमान
शिखा रेषा आणि पठार असे दिसते.
3. ते उत्तरेला नर्मदा नदीचे खोरे, दक्षिणेला कृष्णा नदीचे
खोरे आणि पश्चिम किनाऱ्यापासून ते अगदी पूर्वेला
नागपूर शहरापर्यंत आढळतात.
4. हे बंध (ट्रॅप्स) पश्चिमेकडे आणि नागपूरच्या दिशेने विरळ
होतात, जिथे ते जुन्या रचना आच्छादित करतात.

36. महाराष्ट्रात गुलाबी ग्रॅनाइट कोठे आढळतो?

1. नांदेड जिल्ह्यात 2. गोंदिया जिल्ह्यात
3. बुलढाणा जिल्ह्यात 4. जालना जिल्ह्यात

37. लीग ऑफ नेशन्सचा एक स्वायत्त घटक म्हणून आंतरराष्ट्रीय
कामगार संघटनेची स्थापना कोणत्या वर्षी झाली?

1. 1901 2. 1913
3. 1919 4. 1939

38. 2011 च्या जनगणनेनुसार, महाराष्ट्रातील लोकसंख्येतील किती
टक्के लोकसंख्या (अंदाजे) नागरी भागांत राहणारी आहे?

1. 40% 2. 45%
3. 50% 4. 55%

39. अवांछनीय वर्तमान कर्मचाऱ्यांना इतर कंपन्यांमध्ये नवीन पदे
शोधण्यात त्यांची मदत करण्याच्या प्रक्रियेला काय म्हटले
जाते?

1. बदली
2. पदयोजन
3. रोजगार
4. आऊटप्लेसमेंट (बाह्यपदयोजन)

40. देशभरात पसरलेल्या 12 ज्योतिर्लिंगांपैकी एक असलेले आणि
नाशिकमध्ये असलेले पवित्र मंदिर कोणते आहे?

1. घृष्णेश्वर 2. महाबळेश्वर
3. भीमाशंकर 4. त्र्यंबकेश्वर

03

Date : 25/10/2023

नगरपरिषद शिफ्ट क्रमांक - २

मराठी

1. पुढील वाक्यातील कर्ता ओळखा.

परमेश्वराने ही सर्व सृष्टी निर्माण केली आहे.

1. सृष्टी 2. परमेश्वर
3. सर्व 4. ही

2. व्याकरणाच्या नियमानुसार पुढीलपैकी कोणती वाक्यरचना
अचूक आहे?

1. शरण आलेल्या युद्धात अभय राजाने शत्रूला दिले.
2. राजाने युद्धात अभय आलेल्या दिले शरण शत्रूला.
3. अभय युद्धात आलेल्या शत्रूला राजाने शरण दिले.
4. युद्धात शरण आलेल्या शत्रूला राजाने अभय दिले.

पुढील उतारा वाचून विचारलेल्या प्रश्नांची उत्तरे द्या.

अलीकडच्या काळात पर्यावरण पूरक गणेशोत्सव साजरा
करण्यात यावा यासाठी केल्या जाणाऱ्या प्रयत्नांना चांगली
साथ मिळत आहे. गणेशोत्सव पर्यावरणपूरक कसा करता येईल
याविषयी काही गोष्टींचा विचार केला गेला पाहिजे. अलीकडे
गणेशोत्सवासाठी कोकणात तांबड्या मातीपासूनही मूर्ती तयार
केल्या जात आहेत, आणि त्या सहज उपलब्ध आहेत. त्याम

सामान्यज्ञान परीषद	33 - 1	34 - 1	35 - 4	36 - 1	37 - 3	38 - 2	39 - 4	40 - 4			
पेपर 3 - मराठी	1 - 2	2 - 4									

विभाग - सहकार

सहकार विभाग पेपर क्रमांक - 1

- 2022 मध्ये, भारतीय क्रिकेटपटू महेंद्रसिंग धोनीने 'ड्रोनी' नामक भारतात निर्मित केलेल्या 'कॅमेरा ड्रोन' ला लॉन्च केले असून, त्याची निर्मिती कडून केली गेली आहे.
 - स्कायरूट एरोस्पेस
 - अंतरिक्ष कॉर्पोरेशन
 - गरुड एरोस्पेस
 - गोदरेज एरोस्पेस
- खालीलपैकी कोणत्या उद्योगाशी कर्वे समिती संबंधित आहे?
 - शिक्षण उद्योग
 - संरक्षण उद्योग
 - आयात आणि निर्यात उद्योग
 - लघु उद्योग
- मध्ये, बॉम्बे सेंट्रल को-ऑपरेटिव्ह इन्स्टिट्यूटची स्थापना केली गेली.
 - 1914
 - 1916
 - 1918
 - 1912
- अलैंगिक प्रजननाच्या तुलनेत लैंगिक प्रजननाचा मुख्य फायदा काय आहे?
 - वाढीव अनुवांशिक भिन्नता
 - जलद प्रजनन दर
 - एकसमान संततीची निर्मिती
 - रोगमुक्त संततीची निर्मिती
- Which of the following is NOT correct about Trans fat?
 - Natural trans fats are also called ruminant trans fats
 - Artificial trans fat are also called industrial trans fat
 - Trans fats are found in Bakery products
 - Vanaspati ghee do not have trans fat
- Which of the following functions is carried out by the Reserve Bank of India?
 - It issues the currency of the country.
 - It acts as a banker to the government.

- It keeps check on unfair trade practices.
 - I and II
 - I, II and III
 - Only III
 - I and III
- सहकारी संस्था अधिनियम 1912 बाबत खालीलपैकी कोणते/ती विधान/ने बरोबर आहे/आहेत?
 - यामुळे कर्जाच्या योग्य पर्यवेक्षणासाठी मोठ्या संस्था बनवण्याची गरज लक्षात आली.
 - त्यात 39 विभाग होते.
 - फक्त II
 - I आणि II हे दोन्ही
 - फक्त I
 - I आणि II पैकी एकही नाही
- खालीलपैकी कोणी फेब्रुवारी 2023 मध्ये मुलभूत साक्षरता आणि संख्याशास्त्र अहवाल (Foundational Literacy and Numeracy Report) प्रसिद्ध केला आहे?
 - गिरीशचंद्र मुर्मू
 - मनोज सोनी
 - बी. व्ही. आर. सुब्रह्मण्यम
 - विवेक देवराय
- 2022 मध्ये, भारताच्या पंतप्रधानांनी गुजरातमध्ये येथे जगातील पहिल्या CNG (कॉम्प्रेसड नॅचरल गॅस) टर्मिनल ची पायाभरणी केली.
 - भावनगर
 - अहमदाबाद
 - वडोदरा
 - सुरत
- खालीलपैकी कोणत्या संघाने राष्ट्रीय क्रीडा स्पर्धा 2023 मध्ये सर्वाधिक रौप्य पदके जिंकली?
 - गुजरात
 - मध्यप्रदेश
 - हरियाणा
 - उत्तर प्रदेश
- भारतातील खालीलपैकी कोणती संस्था ही SDG इंडिया इंडेक्सशी संबंधित आहे?
 - बॉम्बे नॅचरल हिस्ट्री सोसायटी
 - अर्थमंत्रालय
 - नीती (NITI) आयोग
 - भारतीय रिझर्व्ह बँक
- भारतातील पहिल्या सार्वत्रिक निवडणुकांच्या वेळी लोकसभेचे एकूण संख्याबळ किती होते?
 - 454
 - 499
 - 467
 - 489

पेपर क्र. -	1 - 3	2 - 4	3 - 3	4 - 1	5 - 4	6 - 1	7 - 3	8 - 4	9 - 1	10 - 3	11 - 3
	12 - 4										

सहकार विभाग पेपर क्रमांक - 2

1. येथे पहिला जनजाती खेळ महोत्सव आयोजित करण्यात आला होता.
1) रायपूर 2) जमशेदपूर 3) भुवनेश्वर 4) इंदूर
2. PMLA अधिनियम 2002 हा भारतातील आर्थिक गुन्हांशी संबंधित असून, त्याचे पूर्ण रूप आहे.
1) प्रिव्हेंशन ऑफ मनी लॉज अॅक्ट (Prevention of Money Laws Act)
2) प्रिव्हेंशन ऑफ मनी लाँडरिंग अॅक्ट (Prevention of Money Laundering Act)
3) प्युनिटिव्ह मनी लाँडरिंग अॅक्ट (Punitive Money Laundering Act)
4) प्युनिटिव्ह मनी लॉज अॅक्ट (Punitive Money Laws Act)
3. ब्रह्मपुत्रा ही तिबेटमध्ये म्हणून ओळखली जाते.
1) चांग जियांग 2) हुआंग हो
3) हुवाई 4) त्सांग पो
4. भारतीय राज्यघटनेचा भाग-V शी संबंधित आहे.
1) मूलभूत कर्तव्ये
2) मूलभूत हक्क
3) संघराज्य
4) राज्य धोरणाची मार्गदर्शक तत्त्वे
5. अर्थसंकल्पासोबतच, वित्तीय जबाबदारी आणि अर्थसंकल्प व्यवस्थापन कायदा, 2003 (FRBMA) द्वारे किती धोरण विधाने अनिवार्य आहेत?
1) पाच 2) चार 3) दोन 4) तीन
6. भारतीय रिझर्व्ह बँकेची स्थापना 1 एप्रिल, रोजी झाली.
1) 1937 2) 1934 3) 1935 4) 1936
7. ग्राहक किंमत निर्देशांक (CPI) संदर्भात खालीलपैकी कोणते विधान बरोबर आहे?
I. CPI मध्ये भार स्थिर असतात.

- II. त्यात आयात केलेल्या वस्तूंच्या किंमतीचा समावेश होतो.
1) I आणि II पैकी एकही नाही
2) फक्त I
3) I आणि II हे दोन्ही
4) फक्त II
8. व्यापारी बँकेचे खालीलपैकी कोणते/ती वैशिष्ट्य/वैशिष्ट्ये योग्य आहे/आहेत?
I) व्यापारी बँका या त्यांच्याकडून दिल्या गेलेल्या कर्जावर व्याज कमावतात.
II) बँकेत ठेव म्हणून ठेवलेला निधी कर्ज देण्यासाठी वापरला जाऊ शकतो.
1) केवळ I योग्य आहे
2) I आणि II दोन्हीही योग्य आहेत
3) I किंवा II पैकी एकही योग्य नाही
4) केवळ II योग्य आहे
9. भारताच्या खालीलपैकी कोणत्या केंद्रीय मंत्रालयाद्वारे पंतप्रधान रोजगार निर्मिती कार्यक्रम (PMEGP) राबविला जातो?
1) गृहनिर्माण आणि शहरी व्यवहार मंत्रालय
2) अर्थमंत्रालय
3) सूक्ष्म, लघु आणि मध्यम उद्योग मंत्रालय
4) गृह मंत्रालय
10. भारतातील 19 व्या शतकातील सामाजिक-धार्मिक चळवळींच्या संदर्भात, खालीलपैकी कोणते/ती विधान/ने बरोबर आहे / आहेत?
I) स्वामी विवेकानंदांनी 1875 मध्ये आर्य समाजाची स्थापना केली.
II) स्वामी विवेकानंदांनी 1893 मध्ये शिकागो येथे जागतिक धर्म महासभेत भाषण केले.
1) फक्त II 2) I आणि II हे दोन्ही
3) फक्त I 4) I आणि II पैकी एकही नाही
11. नदीमुळे शिवसमुद्रम धबधबा तयार होतो.
1) कावेरी 2) गोदावरी 3) कृष्णा 4) तापी

पेपर क्र. - 2	1 - 3	2 - 2	3 - 4	4 - 3	5 - 4	6 - 3	7 - 3	8 - 2	9 - 3	10 - 1	11 - 1
---------------	-------	-------	-------	-------	-------	-------	-------	-------	-------	--------	--------

95. A sentence has been given with a blank to be filled with an appropriate option. Choose the correct alternative.

Many times people create troubles by lying only compound their troubles by lying.

- 1) both, and 2) either, or
3) rather, then 4) not only, but

96. Choose the most appropriate antonym of the underlined word.

Your brain hasn't had enough time to commence.

- 1) Levitate 2) Resuscitate
3) Revive 4) Conclude

97. A sentence has been given with a blank to be filled with an appropriate option. Choose the correct alternative.

I am going you in achieving your goal.

- 1) to help 2) helping
3) Help 4) helped

98. Choose the word that means the same as the given word.

Tier

- 1) Tyre 2) Lethargy
3) Class 4) Length

99. A sentence has been given with a blank to be filled with an appropriate option. Choose the correct alternative.

India has abundant marine and inland resources.

- 1) an 2) No article
3) the 4) a

100. In the following question, out of the given four alternatives, select the alternative which best expresses the meaning of the Idiom/Phrase.

To rise to one's feet

- 1) To organise in a better way
2) To live a sedentary life
3) To plan something
4) To stand up

1. खर्च पद्धतीनुसार, GDP च्या दिलेल्या पदावलीमध्ये 'M' काय दर्शवितो?

$C + I + G + X - M$

- 1) अर्थव्यवस्थेद्वारे केलेला एकूण आयात खर्च
2) अर्थव्यवस्थेद्वारे केलेला एकूण निर्यात खर्च
3) सर्व कंपन्यांना प्राप्त झालेले अंतिम शासकीय खर्च
4) सर्व कंपन्यांना प्राप्त झालेले अंतिम उपभोग खर्च

2. भारतीय राज्यघटनेच्या अनुच्छेद 77 मध्ये, याचा उल्लेख आहे.

- 1) भारत सरकारचे कामकाज चालवणे
2) संघराज्याच्या कार्यकारी अधिकाराची व्याप्ती
3) भारताचे महान्यायप्रतिनिधी
4) राष्ट्रपतींना काही प्रकरणांमध्ये माफी देण्याचा अधिकार आहे

3. खालीलपैकी कोणती रक्तवाहिनी हृदयापासून रक्त वाहून नेते?

- 1) धमन्या 2) महाधमनी 3) शिरा 4) केशिका

4. महात्मा गांधींनी मध्ये 'मिठाचा सत्याग्रह' सुरू केला.

- 1) 1939 2) 1928 3) 1930 4) 1919

5. 2023 मध्ये बातम्यांमध्ये दिसून येणारा रिव्हर्स फ्लिपिंग हा शब्द शी संबंधित आहे.

- 1) स्टार्टअप 2) गृह कर्ज
3) जैवविविधता संवर्धन 4) कोविड-19 लस

6. DDUGKY या शासकीय योजनेचे पूर्ण रूप काय आहे?

- 1) दीनदयाळ उपाध्याय ग्रामीण कृषी योजना (Deen Dayal Upadhyaya Grameen Krishi Yojana)
2) दीनदयाळ उपाध्याय गरीब कृषी योजना (Deen Dayal Upadhyaya Garib Krishi Yojana)
3) दीनदयाळ उपाध्याय ग्रामीण कौशल्य योजना (Deen Dayal Upadhyaya Grameen Kaushalya Yojana)
4) दीनदयाळ उपाध्याय गरीब कौशल्य योजना (Deen Dayal Upadhyaya Garib Kaushalya Yojana)

पेपर क्र. - 2	95 - 2	96 - 4	97 - 1	98 - 3	99 - 1	100 - 4				
पेपर क्र. - 3	1 - 1	2 - 1	3 - 1	4 - 3	5 - 1	6 - 3				

सहकार विभाग पेपर क्रमांक - 4

1. भारताच्या जनगणनेच्या आकडेवारीनुसार, भारतातील ग्रामीण लोकसंख्या ही एकूण लोकसंख्येच्या जवळपास आहे.
1) 63% 2) 68% 3) 61% 4) 73%
2. भारतात पहिली सार्वत्रिक निवडणूक कधी झाली?
1) 1952-53 2) 1953-54
3) 1951-52 4) 1950-51
3. भारताच्या द्वीपकल्पीय पठाराबद्दल खालीलपैकी कोणते विधान बरोबर आहे?
I) गोंडवन भूमी तुटल्याने आणि वाहून गेल्याने त्याची निर्मिती झाली.
II) ही गाळाच्या खडकांनी बनलेली सपाट भूमी आहे.
1) I आणि II हे दोन्ही
2) फक्त II
3) I आणि II पैकी एकही नाही
4) फक्त I
4. प्रधान मंत्री मुद्रा (MUDRA) योजना (PMMY) च्या संदर्भात खालीलपैकी कोणते/ती विधान/ने योग्य आहे/आहेत?
I) कर्जांना चार प्रकारे वर्गीकृत करण्यात आले आहे.
II) शिशू कर्ज हे ₹ 10,000 पर्यंत आहे.
1) I आणि II दोन्हीही योग्य आहेत
2) I किंवा II पैकी एकही योग्य नाही
3) केवळ II योग्य आहे
4) केवळ I योग्य आहे
5. भारतातील 19 व्या शतकातील सामाजिक-धार्मिक चळवळींच्या संदर्भात खालीलपैकी कोणते/ती विधान/ने योग्य आहे / आहेत?
I) कलकत्यामध्ये ईश्वरचंद्र विद्यासागर यांनी ब्राह्म सभेची स्थापना केली, जिला नंतर ब्राह्मो समाज म्हणून ओळखले जाऊ लागले.

- II) केशवचंद्र सेन हे ब्राह्मो समाजाच्या मुख्य नेत्यांपैकी एक होते.
1) केवळ I योग्य आहे
2) I किंवा II पैकी एकही योग्य नाही
3) II आणि II दोन्हीही योग्य आहेत
4) केवळ II योग्य आहे
6. दरवर्षी रोजी जागतिक पर्यावरण दिन साजरा केला जातो.
1) 5 जून 2) 15 जून 3) 10 जून 4) 5 जुलै
7. भूपृष्ठीय परिसंस्थेमध्ये, हिरव्या वनस्पती या त्यांच्या पानांवर पडणाऱ्या सुमारे किती टक्के ऊर्जेस शोषून घेतात आणि त्या ऊर्जेचे रूपांतर अन्नामध्ये करतात?
1) 33 टक्के 2) 21 टक्के 3) 10 टक्के 4) 1 टक्का
8. 'ईट राईट स्कूल प्रोग्राम' हा खालीलपैकी कोणत्या संस्थेचा उपक्रम आहे?
1) FSSAI 2) APEDA
3) RBI 4) नीती (NITI) आयोग
9. एप्रिल 2023 मध्ये, नागरी विमान वाहतूक मंत्रालयाने 'UDAN 5.0' चा आरंभ केला असून त्याचे पूर्ण रूप आहे.
1) उडे देश का आत्मनिर्भर नागरिक (Ude Desh Ka atmanirbhar Nagrik)
2) उडे देश का आम नागरिक (Ude Desh Ka Aam Nagrik)
3) उडी देश की आत्मनिर्भर नारी (Udi Desh Ki atmanirbhar Nari)
4) उडी देश की आम नारी (Udi Desh Ki Aam Nari)
10. भारतामध्ये, 2023 च्या मध्ये केंद्रीय आरोग्य व कुटुंब कल्याण मंत्रालयाने राष्ट्रीय अवयव आणि ऊती प्रत्यारोपण संस्था (NOTTO) च्या विज्ञान संवादाचे आयोजन केले.
1) मार्च 2) फेब्रुवारी 3) एप्रिल 4) जानेवारी

जलसंपदा कालवा निरिक्षक प्रश्नपत्रिका

01

01/01/2024

जलसंपदा कालवा निरिक्षक

मराठी

1. 'अडणीवरचा शंख' या अलंकारिक शब्दातून व्यक्त होणारा अचूक अर्थ कोणता आहे?
 1. उच्च पदावरील अपात्र व्यक्ती
 2. कारस्थानी व्यक्ती
 3. अतिशय काटकुळी व्यक्ती
 4. उच्च पदावर असणारी व्यक्ती
2. 'काम करण्याची पात्रता असलेला' या शब्दसमूहाबद्दल एक शब्द शोधा.
 1. कारभारी
 2. कार्यक्षम
 3. करामत
 4. कर्मठ
3. 'पारंगत' या शब्दाचा समानार्थी शब्द ओळखा.
 1. पायंडा
 2. कुशल
 3. सुदृढ
 4. शैली
4. गटात न बसणारा शब्द शोधा.
अंगार, वास्तव, निखारा, विस्तव
 1. विस्तव
 2. वास्तव
 3. अंगार
 4. निखारा
5. मी शाळेत गेलो होतो. या वाक्यातील काळ ओळखा.
 1. रीति भूतकाळ
 2. पूर्ण भूतकाळ
 3. अपूर्ण वर्तमानकाळ
 4. साधा भूतकाळ
6. 'राधाचे हे चित्र चांगले नाही.' या वाक्याचे होकारार्थी रूप ओळखा.
 1. राधाचे हे चित्र चांगले नाही का?
 2. राधाचे हे चित्र चांगले आहे.
 3. राधाचे हे चित्र वाईट नाही.
 4. राधाचे हे चित्र वाईट आहे.
7. त्याने चांगला अभ्यास केला म्हणून त्याचा चौथा क्रमांक आला. 'या वाक्यातील' 'म्हणून' या उभयान्वयी अव्ययाचा प्रकार ओळखा.
 1. परिणामबोधक
 2. विकल्पबोधक
 3. समुच्चयबोधक
 4. न्यूनत्वबोधक

8. 'भुंग्यांचा.' _____ रिकाम्या जागी योग्य ध्वनिदर्शक शब्द शोधा.
 1. कडकडाट
 2. कलरव
 3. छनछनाट
 4. गुंजारव
9. 'गुळाचा गणपती असणे' या वाक्यचाराचा योग्य अर्थ काय आहे ?
 1. अंगात कसलेच कर्तृत्व नसणे.
 2. घाबरून जाणे.
 3. लाच देणे.
 4. देवाची पूजा करणे.
10. 'शाश्वत' या शब्दाचा समानार्थी शब्द ओळखा.
 1. अल्पकालीन
 2. चिरंतन
 3. समान
 4. शासन
11. व्याकरणाच्या नियमानुसार अचूक वाक्यरचना शोधा.
 1. तीनही परंपरा आमच्या अशा घरात नांगर, शस्त्र आणि लेखणी होत्या.
 2. आमच्या तीनही घरात परंपरा अशा नांगर, शस्त्र आणि होत्या लेखणी.
 3. आमच्या घरात नांगर, शस्त्र आणि लेखणी अशा तीनही परंपरा होत्या.
 4. नांगर, शस्त्र आणि आमच्या लेखणी तीनही परंपरा अशा घरात होत्या.
12. पुढीलपैकी कोणती जोडी विरुद्धार्थी नाही ?
 1. चढ - उतार
 2. उग्र - सौम्य
 3. श्याम - सावळा
 4. कृष्ण - धवल

पुढील उतारा वाचून विचारलेल्या प्रश्नांची उत्तरे शोधा.

कै. कृष्णाजी केशव दामले उर्फ केशवसुत यांचे जन्मस्थान असलेल्या रत्नागिरी जिल्ह्यातल्या मालगुंड या कोकणातल्या गावात त्यांचे सुंदर स्मारक उभारण्यात आले आहे. त्यामध्ये त्यांचे घर, ते वापरत होते त्या सगळ्या वस्तू, त्यांचे स्वतःचे ग्रंथालय, मान्यवर कवींच्या छायाचित्रासहित काव्याचे स्वतंत्र दालन इत्यादींचा समावेश होतो. अवघे 39 वर्षांचे आयुष्य मिळालेल्या केशवसुतांनी फक्त 1 की 32 कविता रचल्या आहेत. यांची संख्या अल्प असली तरी अजूनही अनेक नामवंत लेखकांना त्यांच्या काव्याची महती सांगण्याचा का

पेपर क्र. - 1

1 - 1

2 - 2

3 - 2

4 - 2

5 - 2

6 - 4

7 - 1

8 - 4

9 - 1

10 - 2

11 - 3

12 - 3

मराठी

1. प्रमाणलेचनाच्या आणि वाक्यरचनेच्या नियमानुसार असलेले योग्य विधान ओळखा.
 1. काव्यसर्जन असो किंवा काव्यास्वाद करायला लावते कवीता आपल्याला आत्मसंवाद
 2. काव्यसर्जन असो किंवा काव्यास्वाद कविता आपल्याला आत्मसंवाद करायला लावते.
 3. काव्यसर्जन आपल्याला आत्मसंवाद करायला लावते असो किंवा काव्यास्वाद कवीता.
 4. काव्यास्वाद कवीता आपल्याला आत्मसंवाद करायला लावते काव्यसर्जन असो किंवा
2. खालील शब्दाचा विरुद्धार्थी शब्द ओळखा. श्रीगणेशा
 1. आरंभ
 2. श्रेष्ठ
 3. इतिश्री
 4. प्रारंभ
3. खालील पर्यायातील रीति भूतकाळ दर्शविणारे विधान ओळखा.
 1. माझ्या अंगणात चिमणी चिवचिवत आहे.
 2. माझ्या अंगणात रोज सकाळी चिमणी चिवचिवत असे.
 3. माझ्या अंगणात रोज सकाळी चिमणी चिवचिवत असेन.
 4. माझ्या अंगणात रोज सकाळी चिमणी चिवचिवत होती.
4. खालील शब्दसमूहाबद्दल अचूक शब्द ओळखा. ज्यास कोणीही शत्रू नाही असा.
 1. मनकवडा
 2. अल्पसंतुष्ट
 3. अज्ञातशत्रू
 4. पराक्रमी
5. खालील शब्दगट वापरून योग्य वाक्य बनवा.
 - अ. झाडावरच्या काही बांधल्या जाणाऱ्या
 - ब. चैत्र मासाची शोभा
 - क. आणि काही बांधल्या गेलेल्या
 - ड. पक्ष्यांच्या घरट्यांनी पूर्णत्वाला येते
 1. आणि काही बांधल्या गेलेल्या चैत्र मासाची शोभा झाडावरच्या काही बांधल्या जाणाऱ्या पक्ष्यांच्या घरट्यांनी पूर्णत्वाला येते.
 2. पक्ष्यांच्या घरट्यांनी पूर्णत्वाला येते चैत्र मासाची शोभा झाडावरच्या काही बांधल्या जाणाऱ्या आणि काही बांधल्या गेलेल्या.
 3. चैत्र मासाची शोभा झाडावरच्या काही बांधल्या जाणाऱ्या

- आणि काही बांधल्या गेलेल्या पक्ष्यांच्या घरट्यांनी पूर्णत्वाला येते.
4. झाडावरच्या काही बांधल्या जाणाऱ्या चैत्र मासाची शोभा आणि काही बांधल्या गेलेल्या पक्ष्यांच्या घरट्यांनी पूर्णत्वाला येते.
6. खालीलपैकी कोणते वाक्य लेखननियमानुसार आहे ?
 1. माझ्या प्रिय देशात या कलेला कायमचे निवासस्थान मिळून तीचा उत्कर्ष व्हावा.
 2. माझ्या प्रिय देशात या कलेला कायमचे निवासस्थान मिळून तिचा उत्कर्ष व्हावा.
 3. माझ्या प्रिय देशात या कलेला कायमचे निवासस्थान मिळून तिचा उत्कर्ष व्हावा.
 4. माझ्या प्रिय देशात या कलेला कायमचे निवासस्थान मिळून तिचा उत्कर्ष व्हावा.
7. खालील पर्यायातील विधानार्थी वाक्य ओळखा.
 1. वाहतुकीचे नियम पाळावे.
 2. सुरक्षिततेच्या दृष्टीने रस्त्यावरून चालण्याचे किंवा वाहन चालवण्याचे नियम म्हणजे वाहतुकीचे नियम होय.
 3. जर वाहतुकीचे नियम पाळले तर अपघात होणार नाही .
 4. वाहतुकीचे नियम पाळ.
8. खालील वाक्यतील प्रयोजक क्रियापद ओळखा. गुराखी कळपातील मेंढ्यांना पळवितो.
 1. पळवितो
 2. गुराखी
 3. कळपातील
 4. मेंढ्यांना

पुढील उतारा वाचून विचारलेल्या प्रश्नांची उत्तरे शोधा.

भिंतीवर रंगाने चित्रे काढण्याची कला फार पुरातन आहे. प्रागैतिहासिक काळात मनुष्य जेव्हा गुहांतून राहत होता, तेव्हापासून त्याने काढलेली भिंती - चित्रे सगळ्यात आधी आढळली मध्यप्रदेशातील भीमबेटका येथे. तसेच मध्यप्रदेशमधील संगनपुर, पचमढी येथेही चित्रे आढळून आली आहेत. अभ्यासकांनी त्या चित्रांचे कर्तेपण आदिवासींना दिले आहे. भारतात खूप पूर्वीपासून ते अगदी आजपर्यंत आदिवासी भिंतीवर चित्रे काढत आले आहेत. आता तर आज बिहार, ओरिसा, गुजरात, महाराष्ट्र या राज्यांतही आदिवासींची भिंती - चित्रकला अस्तित्वात आहे. ही कला सर्वप्रथम जगासमोर आणण्याचे श्रेय पालघर मधील जिव्या सोमा यांना आहे.

(DMER)

संचालनालय, वैद्यकीय शिक्षण आणि संशोधन, मुंबई

(PCMC)

पिंपरी चिंचवड महानगरपालिका

(DMER) E.C.G Technician

Marathi

1. 'तमा नसणे' या वाक्यप्रचाराचा अर्थ सांगा.
 1. काळजी करणे.
 2. परवा न करणे.
 3. अंधार करणे.
 4. परवा करणे.
2. "मुख कमळासारखे सुंदर आहे" या वाक्यातील उपमान कोणते ते ओळखा.
 1. यापैकी एकही नाही.
 2. मुख
 3. सुंदर
 4. कमळ
3. उंटावरचा शहाणा म्हणजे काय?
 1. योग्य सल्ला देणारा.
 2. शहाणपणा शिकवणारा.
 3. मदत करणारा.
 4. मूर्खासारखा सल्ला देणारा.
4. "भद्रजन" या शब्दाचा विरुद्धार्थी शब्द ओळखा.
 1. दुर्जन
 2. विद्वत्तजन
 3. सज्जन
 4. प्रेमी जन
5. जमिनीवर आणि पाण्यात दोन्ही ठिकाणी राहू शकणारा" या शब्दासाठी एक शब्द कोणता?
 1. निशाचर
 2. उभयचर
 3. चराचर
 4. जलचर
6. "पांगिरा" ह्या कादंबरीचे लेखक :
 1. राजन गवस
 2. रणजीत देसाई
 3. भालचंद्र नेमाडे
 4. विश्वास पाटील
7. "तुणतुणे वाजवणे" या वाक्यप्रचाराचा अर्थ सांगा.
 1. अवास्तव बोलणे.
 2. स्तुती करणे.
 3. निंदा करणे.
 4. तेच तेच पुन्हा पुन्हा सांगणे.
8. "दिवस" या शब्दाचे अनेकवचन कोणते?
 1. दिवशी
 2. दिवस
 3. दिवसे
 4. दीवस

9. योग्य जोड्या लावा.

शब्दयोगी अव्यय	प्रकार
अ) दगडापरीस वीट मऊ	1) स्थलवाचक
ब) लग्न प्रित्यर्थ त्याने मित्रांना मेजवानी दिली.	2) कालवाचक
क) घरासमोर विहीर आहे.	3) तुलना वाचक
ड) परीक्षेपूर्वी तयारी करा.	4) हेतू वाचक

1. अ-3 ब-4 क-1 ड-2
2. अ-1 ब-2 क-3 ड-4
3. अ-3 ब-4 क-2 ड-1
4. अ-1 ब-4 क-2 ड-3

10. "सूर्य" समानार्थी शब्द ओळखा.

1. नंदन
2. सविता
3. सिंधू
4. मनूज

11. पुढे दिलेल्या म्हणीचा अचूक अर्थ शोधा.

"बुडत्याचा पाय खोलात."

1. बुडणाऱ्याचे पाय खाली ओढणे.
2. बुडणाऱ्याचे पाय चिखलात रूतून बसतात.
3. अवनती होऊ लागली की ती सर्व बाजूंनी होते.
4. पाय खोल जाणे.

12. "तू काही आता लहान नाहीस." यासाठी होकारार्थी पर्याय निवडा.

1. तू केव्हा मोठा होणार आहेस.
2. तू आता मोठा झाला आहेस.
3. मोठा हो जरा आता तरी.
4. तू आता लहान उरला नाहीस.

13. "गुणकारी" या शब्दासाठी योग्य शब्द ओळखा.

1. रामबाण
2. आयुर्वेदी
3. निर्गुण
4. सगुण

14. "निरोप" या शब्दाचा विरुद्धार्थी शब्द ओळखा.

1. गमण
2. स्वागत
3. समारंभ
4. सरबराई

पेपर क्र.1 - मराठी	1 - 2	2 - 4	3 - 4	4 - 1	5 - 2	6 - 4	7 - 4	8 - 2	9 - 1	10 - 2	11 - 3
	12 - 2	13 - 1	14 - 2								

DMER Hostel Supritendent

Marathi

- 'खर्डा' शब्दाचा समानार्थी शब्द शोधा.
 - खड्डा
 - पक्के लेखन
 - खंबीर
 - कच्चे टिपण
- 'बागेत (सूर्यास्तानंतर आकाशात दिसणारा प्रकाश) पसरला होता.' कंसातील शब्दसमूहाबद्दल एक शब्द शोधा.
 - छायाप्रकाश
 - तिन्हीसांजा
 - झुंजुमुंजु
 - संधिप्रकाश
- 'तू घरी जायचे होते.' या वाक्यातील प्रयोग ओळखा.
 - कर्तरी प्रयोग
 - कर्मणी प्रयोग
 - भावे प्रयोग
 - कर्मभाव संकर
- 'श्रीमान योगी' या ग्रंथाचे लेखक कोण आहेत?
 - ना. सं. इनामदार
 - ब. मो. पुरंदरे
 - विश्वास पाटील
 - रणजित देसाई
- हवेशीर जागा वाहती नदी, उंच डोंगर यातील अधोरेखित शब्द कोणत्या जातीचे आहेत ते शोधा.
 - सर्वनाम
 - भाववाचकनाम
 - सामान्यनाम
 - विशेषनाम
- तो (जन्मापासूनच भरपूर धनसंपत्ती बाळगणारा.) आहे. कंसातील शब्दसमूहाबद्दल एक शब्द शोधा.
 - गर्भश्रीमंत
 - जन्मदरिद्री
 - गर्भित
 - गर्भगळित
- शब्द आणि अर्थ यांच्या जोड्या लावा.

अ गट	ब गट
A) केंद्रीय	i) अमृत
B) पियूष	ii) सुंदरपण
C) लावण्य	iii) जाणता
D) सुबुद्ध	iv) मध्यवर्ती

- a-i, b-iv, c-iii, d-ii
- a-iii, b-iv, c-ii, d-i
- a-ii, b-i, c-iv, d-iii
- a-iv, b-i, c-ii, d-iii

- 'खरमरीत' या शब्दाचा विरुद्धार्थी शब्द शोधा.
 - सणसणीत
 - खडबडीत
 - झणझणीत
 - गुळगुळीत

- 'त्याचे जेवण करून झाले.' प्रयोग ओळखा.
 - समापन कर्मणी
 - अकर्मक कर्तरी
 - कर्म भाव संकर
 - सकर्मक कर्तरी

- प्रमाणलेखनानुसार अचूक शब्द शोधा.
 - पुण्यःश्लोक
 - पुण्यश्लोक
 - पून्यश्लोक
 - पुणेश्लोक

- 'आवड' या शब्दाचा विरुद्धार्थी शब्द शोधा.
 - परवड
 - नावड
 - निवड
 - सवड

- पुढील ओळीतील अलंकार ओळखा.

“शीतलतनु चपल चरण अनिल गण निघाले रजतनील, ताम्रनील स्थिर पल जल पल सलील”

 - दृष्टांत
 - श्लेष
 - अतिशयोक्ती
 - अनुप्रास

- 'गाय' या शब्दाचे पुल्लिङ्गी रूप सांगा.
 - बैल
 - गायक
 - गवा
 - बोकड

- 'सावळाच रंग तुझा गोकुळीच्या कृष्णापरी' या ओळीतील अलंकार ओळखा.
 - उपमा
 - अनन्वय
 - रूपक
 - यमक

- 'दुष्काळात तेरावा महिना' या म्हणीचा अर्थ सांगा.
 - आधीच्या संकटात अजूनच भर पडणे.
 - अतिशय त्रास देणे.
 - पैशाने बऱ्याच गोष्टी साध्य करता येणे.
 - मुलांनी आपल्या आईवडिलांचे गुण उचलणे.

- 'चालत्या गाडीला खीळ' या म्हणीचा अर्थ सांगा.
 - मूळचा स्वभाव बदलत नसतो
 - मूर्ख माणसाला चांगल्याची कदर नसते
 - सुरळीत चाललेल्या गोष्टीत अडथळा येणे
 - अत्यंत गरिबी असणे

पेपर क्र.2 - मराठी	1 - 4	2 - 4	3 - 3	4 - 4	5 - 3	6 - 1	7 - 4	8 - 4	9 - 1	10 - 2	11 - 2
	12 - 4	13 - 1	14 - 1	15 - 1	16 - 3						

DMER Driver

Marathi

1. 'खडाजंगी म्हणजे
1. प्रेमाचे भांडण 2. मैत्रीपूर्ण संबंध
3. एकमेकाला खड्याने मारणे. 4. कडाक्याचे भांडण
2. वाक्प्रचाराचा वाक्यात उपयोग करा.
'हमरीतुमरीवर येणे'
1. हमरी तुमरी एकत्र आल्याने त्यांचे बळ वाढले.
2. विशाल आणि सूरज हमरी तुमरीवर येताच अमोल घटनास्थळावरून निघून गेला.
3. तृप्ती बागेत हमरी तुमरी खेळत होती
4. सचिन आणि आलोक यांची मैत्री म्हणजे हमरी तुमरी.
3. खालीलपैकी कोणता शब्द 'आरंभ' शब्दाचा समानार्थी नाही?
1. सुरुवात 2. श्रीगणेशा 3. प्रारंभ 4. विसावा
4. विरुद्धार्थी शब्दाची चुकीची जोडी ओळखा.
1. दांभिक x प्रामाणिक 2. ऐच्छिक x अव्यवहार्य
3. सुसंगत x विसंगत 4. उपस्थित x अनुपस्थित
5. अलंकारिक शब्द व त्यांचे अर्थ यांच्या योग्य जोड्या लावा.

'अ' गट	'ब' गट
a. अर्धचंद्र	i. खोटी आशा
b. गंडांतर	ii. सत्यवचनी माणूस
c. मधाचे बोट	iii. काढून टाकणे
d. हरिश्चंद्र	iv. भीतिदायक संकट

1. a-iii,b-iv,c-i,d-ii 2. a-ii,b-iv,c-iii, d-i
3. a-i,b-ii,c-iv,d-iii 4. a-iv,b-iii,c-i, d-ii
6. खालीलपैकी कोणती कविता कुसुमाग्रजांची आहे?
1. कणा 2. वनवासी
3. निरोप 4. नवा शिपाई

7. 'माशी शिकणे' या वाक्प्रचाराचा अर्थ ओळखा.
1. कार्य पूर्ण होणे 2. अस्वच्छता पसरणे
3. अडथळा येणे 4. शुभशकुन होणे
8. खालीलपैकी कोणता गट समानार्थी शब्दांचा नाही?
1. स्त्री, ललना, वनिता 2. वनराज, कपी, कुंजर
3. रजनी, यामिनी, निशा 4. कनक, सुवर्ण, हेम
9. साहित्यिक आणि त्यांची टोपणनावे यांच्या जोड्या जुळवा.

'अ' गट	'ब' गट
a. लोकहितवादी	i. विष्णू वामन शिरवाडकर
b. कुसुमाग्रज	ii. त्र्यंबक बापूजी ठोंबरे
c. केशवसुत	iii. गोपाळ हरी देशमुख
d. बालकवी	iv. कृष्णाजी केशव दामले
	v. राम गणेश गडकरी

1. a-v, b-ii, c-iii, d-iv 2. a-iii, b-i, c-iv, d-ii
3. a-i, b-v, c-iii, d-ii 4. a-ii, b-v, c-i, d-iv
10. प्रणवचे सेजलवर खूप प्रेम होते मात्र नेमके काय झाले माहीत नाही आता तिला प्रणवने कितीही चांगली गोष्ट केली तरी आवडेनाशी झाली आहे, म्हणतात ना
1. अती तेथे माती 2. नावडतीचे मीठ अळणी
3. दाम करी काम 4. करावे तसे भरावे
11. 'सधन' शब्दाचा विरुद्धार्थी शब्द कोणता आहे?
1. निर्धन 2. कष्टाळू 3. मनमिळाऊ 4. श्रीमंत
12. ज्याच्याशी तुलना करावयाची आहे किंवा ज्याची उपमा दिली जाते, तो घटक म्हणजे
1. उपमान 2. उपमेय
3. साधारण धर्म 4. साम्यवाचक शब्द

पेपर क्र.3 - मराठी	1 - 4	2 - 2	3 - 4	4 - 2	5 - 1	6 - 1	7 - 3	8 - 2	9 - 2	10 - 2	11 - 1
	12 - 1										

DMER - Senior Clerk

Marathi

1. 'एकीच्या राज्यात' या कादंबरीचे लेखक कोण आहेत ?

1. कमल देसाई 2. विलास सारंग
3. भाऊ पाध्ये 4. भालचंद्र नेमाडे

2. 'रहाटी' शब्दाचा समानार्थी शब्द शोधा.

1. वियोग 2. अडाणी
3. अन्नसाठा 4. वर्तन

3. 'बी' पेरल्यानंतर कोंब फुटतो नि रोप भराभरा वाढते.' हे कोणत्या प्रकारचे वाक्य आहे ?

1. केवळ वाक्य 2. प्रश्नार्थी वाक्य
3. मिश्र वाक्य 4. आज्ञार्थी वाक्य

4. पुढीलपैकी कर्मकर्तरी प्रयोगाचे उदाहरण शोधा.

1. ती घरी जाते.
2. पोपट पेरू खातो.
3. सभेत पत्रके वाटली गेली.
4. तो घरी पोहोचण्यापूर्वीच सांजावले.

5. 'बाबुराव पेंढारकर' यांनी लिहिलेल्या आत्मचरित्राचे शीर्षक काय आहे ?

1. रामनगरी 2. संध्याकाळ
3. प्रभातकाल 4. चित्र आणि चरित्र

6. शब्दयोगी अव्ययांच्या जोडीपैकी चुकीची जोडी शोधा.

1. मुळे-योगे 2. पेक्षा-मध्ये
3. किंतु-परंतु 4. मागे-पुढे

7. 'जेव्हा मी जात चोरली होती' या कथासंग्रहाचे लेखक कोण आहेत ?

1. केशव मेश्राम 2. वामन होवाळ
3. शंकरराव खरात 4. बाबुराव बागूल

8. पुढीलपैकी केवळ वाक्याचे उदाहरण शोधा.

1. आकाशात जेव्हा ढग जमतात तेव्हा मोर नाचतो.
2. मी सांगितलेले काम करणार आहेस की नाही ?
3. रोहन रोज शाळेत जातो.
4. मी रोज सकाळी उठतो आणि फिरायला जातो.

9. 'घरोघरी मातीच्याच चुली' या म्हणीतील आशय पुढीलपैकी कोणत्या वाक्यात येतो ?

1. पुण्य मिळते या भावनेतून सुशीला काकू रोज गाईला खारू घालीत असे.
2. परीक्षा तोंडावर असतांना सतत विचारपूस करणारा श्याम अलीकडे अपरिचितासारखा वागू लागला.
3. आपण ज्या परिस्थितीत राहतो त्यांच्या विरुद्ध जाऊ नये.
4. कॉलनीच्या प्रत्येक घरातून सासू-सुनांचा वाद नेहमीच ऐकू येतो.

10. 'फुणगा' शब्दाचा समानार्थी शब्द शोधा.

1. ठिणगी 2. विभाजन 3. पालवी 4. शिरस्ता

11. 'प्रतिमाचे अक्षर म्हणजे तारेवर वाळत घातलेले कपडे' वाक्यातील 'उपमेय' घटक कोणता आहे ?

1. तार 2. अक्षर 3. कपडे 4. प्रतिमा

12. 'नादार' शब्दाची नेमकी अर्थच्छटा व्यक्त करणारा पर्याय निवडा.

1. कर्ज फेडण्यास अक्षम
2. मासिक फी माफ नसलेला विद्यार्थी
3. पुढारी, सूत्रधार
4. श्रीमंत, घरंदाज

13. 'कपिलाषष्ठीचा योग' या वाक्प्रचाराचा योग्य वापर असलेला पर्याय शोधा.

1. शेवंताकाकूना अंगावर दागिने घातल्याशिवाय चैन पडत नाही.
2. कितीवेळा सांगूनही राकेश तेच ते काम पुन्हा करीत असतो.
3. पोपटलाल याला शेवटी एका मुलीने लग्नासाठी होकार दिला.
4. जेठाभाई सातत्याने आपल्या शेजाऱ्यांबद्दल तळमळ दाखवीत राहतात.

14. 'कौल' या शब्दातून नेमका कोणता अर्थ व्यक्त होतो ?

1. व्यापार 2. वचन
3. दुर्बोध 4. अवघड

पेपर क्र.4 - मराठी	1 - 2	2 - 4	3 - 3	4 - 3	5 - 4	6 - 3	7 - 4	8 - 3	9 - 4	10 - 1	11 - 2
	12 - 1	13 - 3	14 - 2								

DMER - Pharmacist

Marathi

1. पुढाऱ्याच्या भोवती त्याचे अनुयायी असतातच. हा आशय कोणत्या म्हणीतून व्यक्त होतो?
 1. समुद्रात राहून कोरडा
 2. सुंभ जळला तरी पीळ जात नाही.
 3. साखरेचे खाणार त्याला देव देणार
 4. वेताळाचे मागे भुतावळ
2. 'वाडाचिरेबंदी, भग्नतळ्याकाठी ही मराठीतल्या कोणत्या साहित्य प्रकारातील जोडी आहे ?
 1. नाटक
 2. आत्मचरित्र
 3. चरित्र
 4. कादंबरी
3. मांडलिक होणे. या वाक्यचारातून कोणता अर्थ सूचित होतो?
 1. अशक्य कल्पनात गुंतून राहणे.
 2. छोट्या राज्याच्या राजाने मोठ्या राज्याच्या अधीन राहणे.
 3. मन अतिशय आनंदित होणे.
 4. मनातल्या मनात संतापत राहणे.
4. रिकाम्या जागी (खुश होणे) हा अर्थ सांगणारा योग्य वाक्यप्रचार लिहा. मैत्रिणीला बघून मीराची
 1. डोळ्यापुढे काजवे चमकणे
 2. डोळे पाणावणे
 3. विरस होणे
 4. कळी खुलणे
5. 'पत्रास कारण की' या पुस्तकाचे लेखक कोण आहेत?
 1. अरविंद जगताप
 2. महेंद्र कदम
 3. सुप्रिया खोत
 4. द. भा. धामणस्कर
6. समूहदर्शक शब्दांच्या जोड्यांतून अचूक जोडी सांगा.
 1. रुपये-संघ
 2. पक्षी-ताटवा
 3. बांबू-जमाव
 4. पालेभाजी-गड्डी
7. एकवचन अनेकवचनी शब्दजोड्यांपैकी चुकीची शब्दजोडी ओळखा.
 1. विहीर-विहारा
 2. वीट - विटा
 3. भिंत-भिती
 4. सून-सुना

8. 'उत्थान गुंफा' या काव्यसंग्रहाचे रचयिते कोण आहेत?
 1. वामन निंबाळकर
 2. ज. वि. पवार
 3. दया पवार
 4. यशवंत मनोहर
9. 'ग्रामगीता' कोणी लिहिली आहे?
 1. राष्ट्रसंत तुकडोजी महाराज
 2. लोकमान्य बा. गं. टिळक
 3. दासोपंत
 4. आ. विनोबा भावे
10. 'देवनवरी' या नाटकाचे लेखक कोण आहेत?
 1. प्रेमानंद गज्वी
 2. कमलाकर डहाट
 3. रामनाथ चव्हाण
 4. प्रकाश त्रिभुवन
11. विरुद्धार्थी जोड्यातील अयोग्य जोडी सांगा.
 1. स्वच्छ-निश्चल
 2. अस्पष्ट-स्पष्ट
 3. स्वस्त-महाग
 4. स्वर्ग-नरक
12. पुल्लिंगी - स्त्रीलिंगी शब्दजोड्यांपैकी योग्य शब्दजोडी शोधा.
 1. तरुण-गोप
 2. पुत्र-जामात
 3. वर-वधू
 4. दांडा-आरसा
13. कुटुंबातील व्यक्तीला लिहिण्याच्या पत्राचे स्वरूप कसे असते?
 1. औपचारिक
 2. अर्जात्मक
 3. अनौपचारिक
 4. व्यावसायिक
14. एकवचन - अनेकवचनी शब्दजोड्यांपैकी चुकीची शब्दजोडी ओळखा.
 1. लांडगा - लांडगे
 2. राजा - राजे
 3. फळा - फळे
 4. उंदीर - उंदिरे
15. 'माझ्याच्याने हे काम करवते' या वाक्यातील प्रयोग ओळखा.
 1. समापन कर्मणी
 2. शक्य कर्मणी
 3. पुराण कर्मणी
 4. नवीन कर्मणी

पेपर क्र.5 - मराठी	1 - 4	2 - 1	3 - 2	4 - 4	5 - 1	6 - 4	7 - 1	8 - 4	9 - 1	10 - 1	11 - 1
	12 - 3	13 - 3	14 - 4	15 - 2							

24. 'ग्लायकोलिसिस' प्रक्रियेतून अल्प प्रमाणात ऊर्जा मिळते, जी च्या एककात मोजली जाते.

1. PAT 2. ATP
3. PTA 4. ACP

25. एका चौरस आकृती शेताची बाजू 300 मीटर आहे तर 1.25 रुपये प्रति चौरस मीटर दराने त्या शेतास सपाट करण्याचा खर्च काढा?

1. 122500 रु. 2. 122800 रु.
3. 130000 रु. 4. 135200 रु.

26. राज्यसभेचे पहिले सभापती कोण होते?

1. डॉ. एस. राधाकृष्णन 2. झाकीर हुसेन
3. गोपाळ स्वरूप पाठक 4. वराहगिरी वेंकट गिरी

27. ज्याप्रमाणे दुसरा शब्द पहिल्या शब्दाशी संबंधित आहे, त्याचप्रमाणे तिसऱ्या शब्दाशी संबंधित असलेला पर्याय निवडा.

युरो : चलन :: मिस्री : ?

1. निचरा 2. टाकी
3. व्यवसाय 4. पाणी

28. ऋषी पराशर यांना समर्पित प्राचीन पॅगोडा शैलीतील मंदिर खालीलपैकी कोणत्या राज्यात आहे?

1. कर्नाटक 2. हिमाचल प्रदेश
3. अरुणाचल प्रदेश 4. सिक्कीम

29. ज्याप्रमाणे दुसरा शब्द पहिल्या शब्दाशी संबंधित आहे, त्याचप्रमाणे तिसऱ्या शब्दाशी संबंधित असलेला पर्याय निवडा.

घड्याळ : वेळ :: हायग्रोमीटर : ?

1. वजन 2. पाऊस
3. तापमान 4. आर्द्रता

30. डॉ. एपीजे अब्दुल कलाम इंटरनॅशनल फाऊंडेशन आणि स्पेस झोन इंडिया यांनी खालीलपैकी कोणत्या राज्यातील पट्टीपोलम गावातून एपीजे अब्दुल कलाम सॅटेलाइट व्हेईकल मिशन-2023 सुरू केले?

1. तामिळनाडू 2. केरळ
3. तेलंगणा 4. ओडिशा

06

Date : 18/06/2023

वेळ : 09 : 00 PM - 10 : 30 PM

Laboratory Technician and Laboratory Assistant

Marathi

- “आमचे आजोबा कर्णासारखे दानशूर होते.” या वाक्यातील साधारण धर्म (गुणधर्म) दर्शवणारा शब्द कोणता ते ओळखा.
1. कर्ण 2. सारखे 3. दानशूर 4. आजोबा
- ‘काळजी’ या शब्दाचा शब्दार्थ पुढे दिलेल्या पर्यायातून अचूक निवडा.
1. चिंता 2. काळीज 3. चित्ता 4. काळा
- ‘हातपाय गाळणे.’ या वाक्यचाराचा अर्थ पुढीलप्रमाणे असेल.
1. धीर चेपणे 2. हातपाय धुणे.
3. धीर सोडणे. 4. धीर धरणे.
- ‘उथळ पाण्याला खळखळाट फार’ या म्हणीचा अर्थ पुढीलप्रमाणे असेल.
1. ज्यांच्या अंगी गुण थोडा, तो फार बढाई मारतो.
2. उथळ पाणी फार असते.
3. गुणवान असतो तो फार बढाई मारतो.
4. उथळ पाणी खळखळ वाहते.
- ‘वस्त्र’ या शब्दाचा समानार्थी शब्द खाली दिलेल्या पर्यायातून अचूक ओळखा.
1. वास 2. वासना 3. वसन 4. वसंत
- ‘ज्याची खावी पोळी त्याची वाजवावी टाळी’ या म्हणीचा अर्थ पुढीलप्रमाणे असेल.
1. आपल्या अन्नदात्याशी कृतज्ञतेने वागावे.
2. टाळी वाजवणे चांगले असते.
3. अन्नदात्याशी कृतघ्नतेने वागावे.
4. पोळी खाऊन टाळी वाजवावी.
- ‘नटसम्राट’ नाटकाचे लेखक कोण आहेत त्यांचे नाव खाली दिलेल्या पर्यायातून अचूक निवडा.
1. कुसुमाग्रज 2. केशवसुत
3. अनिल 4. नाना पाटेकर

सामान्यज्ञान	24 - 2	25 - 1	26 - 1	27 - 3	28 - 2	29 - 4	30 - 1				
पेपर क्र.6 - मराठी	1 - 3	2 - 1	3 - 3	4 - 1	5 - 3	6 - 1	7 - 1				

DMER - Staff Nurse

Marathi

1. 'माझ्याने हे काम करवते.' या वाक्यातील प्रयोग ओळखा.

1. शक्य कर्मणी 2. पुराण कर्मणी
3. अकर्मक कर्तरी 4. सकर्मक कर्तरी

2. 'खाईन तर तुपाशी नाहीतर राहीन उपाशी' या म्हणीचा अर्थ सांगा.

1. गर्विष्ठ माणसाची शेवटी फजिती होते.
2. एखाद्या गोष्टीबद्दल आग्रही असणे.
3. देहाप्रमाणेच आहार असतो.
4. अघटित घडणे.

3. 'विनाकारण मोठेपणा देणे' या अर्थाचा वाक्यप्रचार शोधा.

1. दगडाखाली हात सापडणे 2. दगडाला पाझर फुटणे
3. दगडाला शेंदूर फासणे 4. दगडावर डोके आपटणे

4. 'सुई, काटा यांनी त्वचेवर काढलेली नक्षी किंवा चिन्ह' या शब्दसमूहाबद्दल एक शब्द लिहा.

1. सारवण 2. रांगोळी
3. मेहंदी 4. गोंदण

5. 'शिरीषच्या सांगण्यानुसार आपण नको जायला.' वाक्यातील सर्वनाम सांगा.

1. जायला 2. आपण
3. शिरीष 4. नको

6. 'आजीचे रूप म्हणजे जणू काही महालक्ष्मी!' हा अलंकार ओळखा.

1. श्लेष 2. अपन्हुती
3. अनन्वय 4. उत्प्रेक्षा

7. 'त्याने आपली चूक कबूल केली' या वाक्यातील प्रयोग ओळखा.

1. भावे प्रयोग 2. कर्तृ भाव संकर प्रयोग
3. कर्तरी प्रयोग 4. कर्मणी प्रयोग

8. 'नव्या नव्या कल्पना कारंज्याच्या तुषारासारख्या उडू लागल्या.' हा अलंकार ओळखा.

1. रूपक 2. यमक
3. उपमा 4. अनुप्रास

9. साहित्य अकादमी पुरस्कार प्राप्त झालेला 'कदाचित अजूनही' हा कवितासंग्रह कोणाचा आहे?

1. ना. धों. महानोर 2. वसंत आबाजी डहाके
3. श्रीकांत देशमुख 4. अनुराधा पाटील

10. खालील पर्यायातून श्याम मनोहर यांच्या ग्रंथांची जोडी शोधा.

1. उत्सुकतेने मी झोपलो 2. लढत युगंधर
3. कऱ्हेचे पाणी, मी कसा झालो 4. पूर्वरंग, अपूर्वाई

11. प्रमाणलेखनानुसार अचूक शब्द शोधा.

1. वैधकीय 2. वैद्यकीय
3. विद्यकीय 4. वैदकीय

12. 'सांगावा' या शब्दाचा योग्य अर्थ सांगा.

1. कांगावा 2. बोलणे
3. कृती 4. निरोप

13. 'पाषाण' शब्दाचा समानार्थी शब्द शोधा.

1. निर्झर 2. प्रपात
3. धोंडा 4. माती

14. अचूक वाक्यरचना कोणती आहे ते शोधा.

1. अनुवाद ही दोन भाषांमधील आंतरक्रिया असते.
2. अणूवाद ही दोन भाषांमधील आंतरक्रिया असते.
3. अनुवाद ही दोन भाषांमदली आंतरक्रिया अस्ते.
4. अनुवाद ही दोन भाषांमधली आंतरक्रिया असते.

15. 'सजातीय' या शब्दाचा विरुद्धार्थी शब्द शोधा.

1. जातिभेद 2. विजन
3. जातीयता 4. विजातीय

पेपर क्र.7 - मराठी	1 - 1	2 - 2	3 - 3	4 - 4	5 - 2	6 - 4	7 - 4	8 - 3	9 - 4	10 - 1	11 - 2
	12 - 4	13 - 3	14 - 1	15 - 4							

पिंपरी चिंचवड महानगरपालिका
PCMC - Social Worker

1. 'X - Y' म्हणजे 'X ही Y ची आई आहे';
'X+Y' म्हणजे 'X हा Y चा भाऊ आहे';
'X * Y' म्हणजे 'X हे Y चे वडील आहेत' आणि
'X/Y' म्हणजे 'X ही Y ची बहीण आहे'.
खालीलपैकी कोणता पर्याय A हा B चा मामा असल्याचे दर्शवतो ?

1. A + C - D/B 2. B + D - C /A
3. B - E * A 4. A - E / D+ B

2. खालील मालिकेतील प्रश्नचिन्हाच्या (?) जागी येऊ शकेल अशी संख्या दिलेल्या पर्यायांतून निवडा.
135, 140, 150, 165, 185, ?

1. 200 2. 205
3. 220 4. 210

3. 'P - Q' म्हणजे 'P ही Q ची बहीण आहे';
'P / Q' म्हणजे 'P ही Q ची पत्नी आहे';
'P * Q' म्हणजे 'P हे Q चे वडील आहेत' आणि
'P + Q' म्हणजे 'P हा Q चा भाऊ आहे'.

खालीलपैकी कोणत्या पर्यायाचा अर्थ 'E ही A ची मुलगी आहे' असा होतो ?

1. A / B * C - E + D 2. A / B * C + D - E
3. A / B * C + E - D 4. A / B * C - D + E

4. अर्विन, डेव्हिड, राम, कॅल्विन, फ्रँक, गुरप्रीत आणि हरनाम या सात व्यक्ती एका रांगेत उत्तरेकडे तोंड करून बसलेल्या असून त्यांचे व्यवसाय डॉक्टर, अभियंता, वकील, प्राध्यापक, वास्तुविशारद, परीक्षक आणि सेल्समन असे वेगवेगळे आहेत, पण याच क्रमाने असतील असे गरजेचे नाही.

1. अर्विन आणि प्राध्यापक हे लगतचे शेजारी आहेत.
2. डेव्हिड आणि वकील हे लगतचे शेजारी आहेत.

3. डॉक्टर आणि हरनाम हे अंतिम टोकांना बसले आहेत.
4. सेल्समन असलेल्या हरनामच्या उजवीकडे कोणीही बसलेले नाही.
5. कॅल्विन हा मध्यभागी आणि वास्तुविशारदाच्या लगतच डावीकडे बसलेला आहे.
6. परीक्षक असलेला गुरप्रीत हा फ्रँक आणि सेल्समन यांचा लगतचा शेजारी आहे.
7. डेव्हिड एक अभियंता आहे आणि प्राध्यापकाच्या डावीकडे दुसऱ्या स्थानी बसला आहे.

खालीलपैकी कोण वकील आहे ?

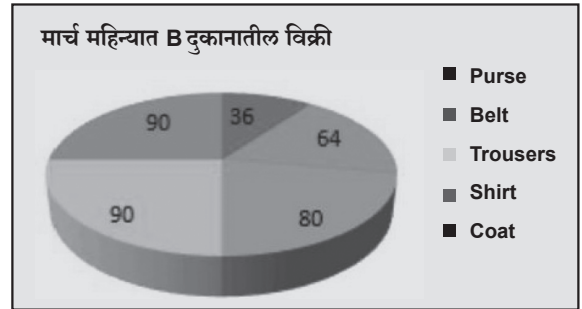
1. फ्रँक 2. अरविन 3. कॅल्विन 4. राम

5. दिलेल्या आकृतीच्या उजव्या बाजूला आरसा ठेवला असता मिळणारी योग्य दर्पण प्रतिमा निवडा.

DARKNESS

1. 22EIKR9AD 2. 22EIKR9AD
3. 22EIKR9AD 4. 22EIKR9AD

6. दिलेल्या वृत्तालेखाचा लक्षपूर्वक अभ्यास करा आणि पुढील प्रश्नाचे उत्तर द्या. हा आलेख मार्च महिन्यात B दुकानातील विविध उत्पादनांची विक्री (अंशांमध्ये) दाखवतो.

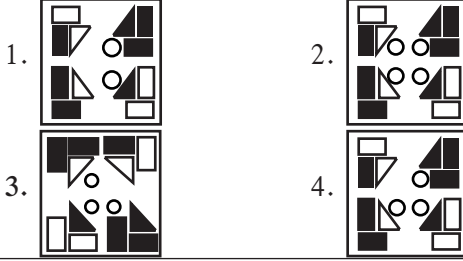


जर मार्चमध्ये B दुकानातील एकूण विक्री 2,40,000 असेल, तर मार्चमध्ये B दुकानातील पर्सची विक्री किती आहे ?

1. रु.23,999 2. रु.24,016
3. रु.29,000 4. रु.24,000

पिंपरी चिंचवड महानगरपालिका (PCMC) - Clerk

1. खालील आकृत्यांच्या मालिकेत येणारी पुढील आकृती निवडा.



2. पवनी तिच्या घरातून बाहेर पडली आणि पूर्वेकडे 17 मी चालत गेली, तिने डावे वळण घेतले आणि 4 मी चालली. पुन्हा, तिने डावे वळण घेतले आणि 20 मी चालून सार्वजनिक वाचनालयात पोहोचली. तर ते वाचनालय तिच्या घरापासून किती अंतरावर (किमान अंतर) आणि कोणत्या दिशेला आहे?

1. 7 मी, ईशान्य 2. 5 मी, वायव्य
3. 5 मी, ईशान्य 4. 7 मी, वायव्य

3. चार अक्षर-गट दिलेले असून त्यापैकी तिघांमध्ये एक विशिष्ट साधर्म्य आहे आणि एक वेगळा आहे, तर तो वेगळा अक्षर गट निवडा.

1. BYEU 2. RIVE 3. XCBY 4. LOPK

4. इंग्रजी शब्दकोशातील मांडणीनुसार, दिलेल्या शब्दांचा योग्य क्रम दर्शवणारा पर्याय निवडा.

1. Sate 2. Satisfaction
3. Satirised 4. Satisfactory

5. Satellite

1. 1,5,3,2,4 2. 5,3,2,4,1

3. 2,5,1,3,4 4. 1,4,2,3,5

5. J, K, L, M, N, O, P हे एका कुटुंबातील सात सदस्य आहेत. K ही N ची मुलगी आहे. L हे P चे वडील आहेत. O हा M चा मुलगा आहे. M ही K ची बहीण आहे. J ही P

ची पत्नी आहे. N चे L लग्न सोबत झालेले आहे. तर J चे K सोबत काय नाते आहे?

1. भावाची पत्नी 2. आईची बहीण
3. बहिणीची मुलगी 4. बहीण

6. जर 'x' म्हणजे '÷', '+' म्हणजे '-', '-' म्हणजे '+' आणि '÷' म्हणजे 'x' असेल, तर खालील पदावलीचे मूल्य किती असेल?

$$30 - [\{12 \div 3\} \times (4-8)] + (18 \times 9)$$

1. 10 2. 15 3. 31 4. 29

7. खालील अक्षर - गटांच्या मालिकेत प्रश्नचिन्हाच्या (?) जागी येऊ शकणारा अक्षर-समूह दिलेल्या पर्यायांतून निवडा. RI3, UF6, WD8, ZA16, BY18, ?

1. EV36 2. EV20 3. DW20 4. DV20

8. दिलेली विधाने आणि निष्कर्ष लक्षपूर्वक वाचा. विधानामध्ये दिलेली माहिती ही सामान्यपणे ज्ञान तथ्यांपेक्षा वेगळी असल्याचे आढळली, तरी ती सत्य आहे असे गृहीत धरून, दिलेल्या निष्कर्षांपैकी कोणता/ते निष्कर्ष दिलेल्या विधानांशी तर्कसंगत आहे/आहेत ते ठरवा.

विधाने :

काही कंदील, टॉर्च आहेत.

काही टॉर्च, मेणबत्त्या आहेत.

निष्कर्ष :

I. काही कंदील, मेणबत्त्या आहेत.

II. काही मेणबत्त्या, टॉर्च आहेत.

1. केवळ निष्कर्ष I तर्कसंगत आहे.

2. केवळ निष्कर्ष II तर्कसंगत आहे.

3. दोन्ही निष्कर्ष तर्कसंगत आहेत.

4. I किंवा II पैकी एकही निष्कर्ष तर्कसंगत नाही.

9. जर 'x' म्हणजे '-', '+' म्हणजे '÷', '-' म्हणजे '+' आणि '÷' म्हणजे 'x' असेल, तर खालील पदावलीचे मूल्य किती असेल? $40 + [\{(14 - 2) \times (2 \div 3)\} + (18 \times 13)]$

1. 20 2. 4 3. 15 4. 10

पेपर क्र. - 01	1 - #	2 - 2	3 - 1	4 - 1	5 - 1	6 - 3	7 - 1	8 - 2	9 - 1		
----------------	-------	-------	-------	-------	-------	-------	-------	-------	-------	--	--



विभाग

तलाठी प्रश्नपत्रिका



1. Select the most appropriate meaning of the given idiom. - Go under the knife

- (1) To be in a dangerous situation
- (2) To be held hostage
- (3) To be stabbed
- (4) To have a surgery

2. Select the option that expresses the given sentence in passive voice.

Manish hit the monkey with a stone.

- (1) The monkey hit Manish with a stone.
- (2) Manish has been hitting the monkey with a stone.
- (3) Manish had hit with a stone the monkey.
- (4) The monkey was hit with a stone by Manish.

3. Parts of the following sentence have been underlined and given as options. Select the option that contains an error.

I will give Samantha the packet. I will give her when I see her tomorrow or else I will ask Philip to taking it from me and give it to her.

- (1) I will ask Philip
- (2) I see her
- (3) Taking it from me
- (4) Will give

4. Select the most appropriate article to fill in the blank. If no article is required, select 'No article'. Her teachings were _____ eye-opener for all the students.

- (1) an
- (2) No article
- (3) a
- (4) the

5. Select the most appropriate verb to fill in the blank.

He will pick up the papers once you ___ evaluating them.

- (1) will finish
- (2) will be finishing
- (3) had finished
- (4) finish

6. The given sentence is missing punctuation marks. Choose the correctly punctuated sentence from the following options.

low moisture Mozzarella can have a longer shelf life stronger flavours and easier melting while fresh creamy variants must be consumed within the first couple of days of production

- (1) Low-moisture Mozzarella can have a longer shelf life, stronger flavours and easier melting, while fresh creamy variants must be consumed within the first couple of days of production.
- (2) Low moisture Mozzarella can have a longer shelf life, stronger flavours, and easier melting while fresh creamy variants, must be consumed within the first couple of days of production.
- (3) Low moisture, Mozzarella, can have a longer shelf life, stronger flavours and easier melting, while fresh creamy variants must be consumed, within the first couple of days of production.
- (4) Low-moisture Mozzarella can have a longer shelf life, stronger flavours and easier melting, while fresh creamy variants must be consumed, within the first couple of days of production.

7. Select the most appropriate meaning of the given idiom.

To get a toehold

- (1) To get stuck in a difficult situation.
- (2) To obtain a stable position from which one can progress in a particular industry or area.
- (3) To get promoted through hard work.
- (4) To get in control difficult situations easily.

8. Select the most appropriate question tag to fill in the blank.

Somebody told you about the incident, ___?

- (1) don't they
- (2) haven't they
- (3) didn't they
- (4) doesn't they

पेपर क्र. - 1	1 - 4	2 - 4	3 - 3	4 - 1	5 - 4	6 - 1	7 - 2	8 - 3			
---------------	-------	-------	-------	-------	-------	-------	-------	-------	--	--	--

22. Select the most appropriate option to fill in the blank.

He was falsely accused ____stealing confidential information from the company and had to prove his innocence in court.

- (1) with (2) of (3) for (4) at

23. Select the most appropriate question tag to fill in the blank.

Mr. Ram Gopal Sharma never talks politely with his subordinates, ____?

- (1) do he (2) don't he
(3) doesn't he (4) does he

24. Select the option that rectifies the error in the given sentence.

I were dancing everyday when I was in school.

- (1) I danced everyday when I was in school.
(2) I have been dancing everyday when I was in school.
(3) I was dancing everyday when I was in school.
(4) I had danced everyday when I was in school.

25. Select the most appropriate word to fill in the blank. If no word is required, select 'No word required'.

Please tune into ____ FM radio channel.

- (1) an (2) some
(3) a (4) No word required

02

Date - 01/09/2023

वेळ : 12 : 30 AM - 02 : 30 AM

1. The given sentence has an error. Select the option that rectifies the error.

If she had known him to be a bully, she might not marry him.

- (1) If she had known him to be a bully, she may not have married him.
(2) If she had known him to be a bully, she had not married him.
(3) If she had known him to be a bully, she would not marry him.
(4) If she had known him to be a bully, she should

not marry him.

2. Fill the appropriate punctuation mark in the blank space to complete the sentence meaningfully.

Student ____ council elections were held every year.

- (1) Student's council elections were held every year.
(2) No change
(3) Students- council elections were held every year.
(4) Student"s council elections were held every year.

3. Select the most appropriate article to fill in the blank. If no article is required, select 'No article'.

I enjoyed ____ December of 2020.

- (1) No article (2) a (3) the (4) an

4. Select the most appropriate adverb to fill in the blank.

She completed the puzzle ____ showcasing her problem-solving skills.

- (1) haphazardly (2) methodically
(3) reluctantly (4) slowly

5. Part of the given sentence that has been underlined contains an error. Select the option that rectifies the error.

Ravi will emailed you the complete information by the end of the day.

- (1) will have been emailed (2) will email
(3) will be emailed (4) will emailed

6. Select the most appropriately punctuated option to complete the following sentence.

The shepherd, finding his flock destroyed, exclaimed, ____

- (1) I have been rightly served, why did I trust my sheep to a wolf!!
(2) I have been rightly served; why did I trust my Sheep to a Wolf.
(3) I have been rightly served- why did I trust my sheep to a wolf?
(4) I have been rightly served. Why did I trust my sheep to a wolf?

पेपर क्र. - 1	22 - 2	23 - 4	24 - 1	25 - 1										
पेपर क्र. - 2	1 - 1	2 - 2	3 - 3	4 - 2	5 - 2	6 - 4								

17. Complete the following conversation using a negative question tag from the following options.

A : Can you show me where his department is?

B : Why? _____

- (1) Haven't you been there before?
- (2) You went there before?
- (3) Did you go there before?
- (4) Shall we go there?

18. Select the most appropriate verbs to fill in the blank.

Even though it _____ continuously since last night, Mira still wants to _____ with the concert.

- (1) has been raining; carry on
- (2) raining; carrying on
- (3) was raining; carrying on
- (4) has had rain; carrying on

19. Select the most appropriate question tag to fill in the blank.

He dares to meet the Principal, _____

- (1) daren't he? (2) isn't it?
- (3) doesn't he? (4) don't he?

20. Select the INCORRECTLY spelt word in the given sentence.

Growth in any business depends upon flexibility, adaptability and etiquette awareness, which help in developing interpersonal relations with customers.

- (1) flexibility (2) etiquette
- (3) adaptability (4) interpersonal

21. Select the most appropriate option to fill in the blank.

I have a toothache, so I can't eat _____

- (1) real things (2) something
- (3) things (4) anything

22. Parts of the following sentence have been given as options. Select the option that contains an error.

He is famous of his exceptional talent at playing multiple instruments.

- (1) multiple instruments
- (2) of his exceptional talent
- (3) at playing (4) He is famous

23. Select the most appropriate meaning of the given phrase. - **Crowning glory**

- (1) Making the crown beautiful and showy
- (2) Protecting the glory of the crown
- (3) Wearing crown adds beauty to your appearance
- (4) The greatest and outstanding achievement

24. Select the most appropriate option to fill in the blank.

Although he has been singing for ages, it will be the first time he has appeared _____ the Opera House.

- (1) from (2) at (3) on (4) in

25. Select the INCORRECTLY spelt word in the following sentence.

He was a faithful friend and remarkable for his punctell attendance.

- (1) punctell (2) remarkable
- (3) attendance (4) faithful

03

01/09/2023

वेळ : 4 : 30 AM - 6 : 30 AM

1. Select the option that expresses the given sentence in active voice.

Her dictionary has been stolen.

- (1) Nobody has stolen her dictionary.
- (2) Anybody had stolen her dictionary.
- (3) Somebody had stolen her dictionary.
- (4) Somebody has stolen her dictionary.

2. Select the most appropriate adjective to fill in the blank.

I have _____ books than he.

- (1) lesser (2) fewer (3) less (4) few

3. The following sentence has been split into four segments. Identify the segment that contains a grammatical error.

We should / be grateful for / our parents for / all their love and support.

- (1) We should (2) our parents for
- (3) all their love and support (4) be grateful for

पेपर क्र. - 2	17 - 1	18 - 1	19 - 3	20 - 2	21 - 4	22 - 2	23 - 4	24 - 2	25 - 1		
पेपर क्र. - 3	1 - 4	2 - 2	3 - 4								

1. Identify the most appropriate meaning of the given idiom/phrase.

Take a rain check

- (1) To decline someone's invitation and postpone it for future.
 (2) To refuse to accept money from someone
 (3) To check the weather before leaving home
 (4) To be prepared for monsoon

2. Identify the most appropriate meaning of the given idiom/phrase.

Snug as a bug

- (1) Cute like a kitten.
 (2) Surrounded by unhygienic environment
 (3) Looking like an insect.
 (4) Very warm and cosy

3. Select the most appropriate option for the given blank.

He is ___ richest guy in the neighbourhood.

- (1) a (2) No article required.
 (3) the (4) an

4. Select the correct passive form of the given sentence.

Sneha will cook pasta for us.

- (1) Pasta for us will be cook by Sneha
 (2) Pasta will be cooked by Sneha for us
 (3) Pasta would be cooked by Seha for us.
 (4) Pasta will be cooking by Sneha for us.

5. Identify the most appropriate meaning of the given idiom/phrase.

Blow hot and cold.

- (1) To take a cold shower after a hot steam bath.
 (2) To go to a cold place immediately after visiting a hot place.
 (3) To vacillate between two opposing or starkly different behavior.
 (4) To mix hot and cold eatable items.

6. Select the option that uses the correct punctuation marks for the given sentence.

" ___ " asked the Inspector fumbling for a cigarette.

- (1) Sure! (2) Where? (3) How (4) What

7. Select the most appropriate option for the given blank.

He looked interested in me, ___

- (1) did he (2) he was
 (3) he did (4) didn't he

8. Select the INCORRECTLY spelt word.

- (1) Intigrety (2) Woke
 (3) Abbreviation (4) Diligent

9. Find the part of the sentence that has a grammatical error.

Later, the boy seen a real wolf sneaking around his flock.

- (1) seen a real wolf (2) sneaking around his
 (3) flock. (4) Later, the boy

10. Select the most appropriate option for the given blank.

You have said ___ but lost your chance.

- (1) most (2) too many
 (3) enough (4) too

11. Select the most appropriate option for the given blank.

The chef ___ his signature mushroom dim sums since morning.

- (1) is cooking (2) cooked
 (3) had be cooking (4) had cooked

12. Select the most appropriate option for the given blank.

___ the time I reached the airport check-in were closed.

- (1) By (2) While (3) In (4) On

पेपर क्र. - 4	1 - 1	2 - 4	3 - 3	4 - 2	5 - 3	6 - 2	7 - 4	8 - 1	9 - 1	10 - 3	11 - #
	12 - 1										

1. Select the most appropriate option for the given blank. - Of course you will feel uneasy; you have eaten ____

- (1) too many (2) little more
(3) too much (4) enough

2. Select the most appropriate option for the given blank. - I don't think we should plan a holiday right now as we don't have ____ funds.

- (1) very (2) enough
(3) few (4) much

3. Select the sentence with no spelling error.

- (1) As the agenci that administers the law against money laundering, the ED may have a key role in preparing the country's presentation.
(2) As the agency that administers the law against money laundering, the ED may have a key roal in preparing the country's presentation.
(3) As the agency that administers the law against money laundring, the ED may have a key role in preparing the country's presentation.
(4) As the agency that administers the law against money laundering, the ED may have a key role in preparing the country's presentation.

4. Identify the most appropriate meaning of the given idiom/phrase.

You can say that again.

- (1) I didn't hear you.
(2) What you said is absolutely true.
(3) Make your point again.
(4) You should do that often.

5. Find the part of the sentence that has a grammatical error.

He was declared unfit about the physical training for the defense job.

- (1) the physical training (2) for the defense job
(3) unfit about the (4) He was declared

6. Identify the most appropriate meaning of the

given idiom/phrase.

Put all your eggs in one basket.

- (1) To invest all your energy in arguing with someone.
(2) To spend all your money on your wedding.
(3) To give all your money to your wife.
(4) To invest all your resources into one thing.

7. Choose the most appropriate antonym of the given word.

Combat

- (1) House (2) Calories
(3) Submit (4) Field

8. Identify the most appropriate meaning of the given idiom/phrase.

Rain on someone's parade

- (1) To dampen someone's excitement.
(2) To hamper someone's plans.
(3) To think someone's evil.
(4) To interfere in someone's life.

9. Choose the most appropriate synonym of the given word. - Seize

- (1) Misread (2) Trap
(3) Comprehend (4) Misquote

10. Select the INCORRECTLY spelt word.

- (1) Greul (2) Except (3) Accept (4) Roast

11. Select the most appropriate option for the given blank.

He ____ all the rumors of his retirement at the press conference yesterday.

- (1) denied (2) deny (3) denies (4) denying

12. Select the correct active form of the given sentence.

This antique has been brought to us by The Yorks.

- (1) The Yorks brought us this antique.
(2) The Yorks buy this antique for us.
(3) The Yorks have brought us this antique.
(4) The Yorks had brought us this antique.

पेपर क्र. - 5	1 - 3	2 - 2	3 - 4	4 - 2	5 - 3	6 - 4	7 - 3	8 - 1	9 - 3	10 - 1	11 - 1
	12 - 3										

1. Choose the most appropriate Antonym of the given word.

Desperate

- (1) Loath (2) Excited
(3) Drearier (4) Optimistic

2. Select the option that uses the correct punctuation marks for the given sentence.

"When I come to fight a ____"

- (1) duel", he said. (2) duel"; he said.
(3) duel," he said. (4) duel." He said.

3. Select the most appropriate option for the given blank.

Indian culture doesn't go long way back with spoon and fork, we are used to eating ____ our hands.

- (1) from (2) in (3) with (4) through

4. Identify the most appropriate meaning of the given idiom/phrase.

Lose your marbles

- (1) To lose something expensive
(2) To forge your ties with your family.
(3) To lose your childhood memory.
(4) To become unsound of mind.

5. Select the most appropriate option for the given blank.

I trust him, he is ____ honest man.

- (1) a (2) the (3) an (4) No article required.

6. Select the most appropriate option for the given blank.

My ring is one of its kind, ____ ?

- (1) is it? (2) ain't it?
(3) aren't it? (4) isn't it?

7. Find the part of the sentence that has a grammatical error.

While the Stork enjoyed her soup and finished it, the fox goes home very hungry realizing his

mistake.

- (1) While the Stork enjoyed her
(2) realizing his mistake.
(3) soup and finished it,
(4) the fox goes home very hungry

8. Select the most appropriate option for the given blank.

He is not an adult yet,-----?

- (1) is he? (2) am I right?
(3) or is he? (4) he is?

9. Select the correct active form of the given sentence.

Their lost car has not been found yet.

- (1) They have not found their lost car yet.
(2) They has not found their lost car yet.
(3) They had not found their lost car yet.
(4) They have not been finding their lost car yet.

10. Select the most appropriate option for the given blank.

Don't worry, we have ____

- (1) too (2) great
(3) too enough (4) enough

11. Identify the most appropriate meaning of the given idiom/phrase.

The best thing since sliced bread.

- (1) Something new which is very innovative and new.
(2) Something which is priced very high.
(3) Something high in demand but short in supply.
(4) Something which tastes like you have never tasted before.

12. Select the option that uses the correct punctuation marks for the given sentence.

I am eating what I ____ life is to short to have regrets.

- (1) 'want' (2) get! (3) cook. (4) like;

पेपर क्र. - 6	1 - 4	2 - 1	3 - 3	4 - 4	5 - 3	6 - 4	7 - 4	8 - 1	9 - 1	10 - 4	11 - 1
	12 - 4										

25. Identify the most appropriate meaning of the given idiom/phrase.

Bite the bullet.

- (1) Talk unnecessary.
- (2) To do something unpleasant.
- (3) Stop working on it.
- (4) Stop the firing.

07

Date - 05/09/2023

वेळ : 09 : 00 AM - 11 : 00 AM

1. Choose the most appropriate synonym of the given word. **Mischief**

- (1) Gravity
- (2) Playfulness
- (3) Roaming
- (4) Lonely

2. Identify the most appropriate meaning of the given idiom/phrase.

Step up your game.

- (1) To be great in everything you do.
- (2) To play your game with right foot.
- (3) To improve in some way.
- (4) To play your game with left foot.

3. Find the part of the sentence that has a grammatical error.

At the last moment bride had a cold feet and went over the weather.

- (1) At the last
- (2) went over the weather.
- (3) cold feet and
- (4) last moment bride had a

4. Select the sentence with no spelling error.

- (1) While flooding was a regular occurrence in urban India before independence, damage and disruption have increased.
- (2) While flooding was a regular occurrence in urban India before independence, damage and disruption have increased.
- (3) While flooding was a regular occurrence in urban India before independence, damage and disruption have increased.

(4) While flooding was a regular occurrence in urban India before independence, damage and disruption have increased.

5. Find the part of the sentence that has a grammatical error.

Never betrayed someone who trusts you and choose your friends wisely.

- (1) Never betrayed
- (2) friends wisely.
- (3) someone who trusts you
- (4) and choose your

6. Select the option that uses the correct punctuation marks for the given sentence.

My favorite subjects ___ English, French, SST.

- (1) was:
- (2) are:
- (3) were-
- (4) is -

7. Select the most appropriate option for the given blank.

Someone please help her; she is holding ____.

- (1) too much
- (2) heavy
- (3) much enough
- (4) much

8. Select the option that uses the correct punctuation marks for the given sentence.

"How do you know my ___" she asked.

- (1) secret!
- (2) age.
- (3) name?
- (4) address;

9. Select the most appropriate option for the given blank.

They weren't running late, ___ ?

- (1) are they?
- (2) they weren't?
- (3) were they?
- (4) they are?

10. Choose the most appropriate Antonym of the given word. **Imperative**

- (1) Elective
- (2) Fallacy
- (3) Truth
- (4) Integral

11. Select the most appropriate option for the given blank.

Researchers have predicted that the country's literacy rate ___ low to eight per cent this year.

- (1) will fell
- (2) fell
- (3) will fall
- (4) falls

पेपर क्र. - 6	25 - 2											
पेपर क्र. - 7	1 - 2	2 - 3	3 - 2	4 - 4	5 - 1	6 - 2	7 - 1	8 - 3	9 - 3	10 - 1	11 - 3	

1. The following sentence has been split into four segments. Identify the segment that contains a grammatical error.

Gita / with her friends / tried to kicked/the ball away.

- (1) the ball away (2) tried to kicked
(3) Gita (4) with her friends

2. Select the most appropriate meaning of the given idiom. On cloud nine

- (1) To be very happy
(2) To be very motivating
(3) To be very sporting
(4) To be very enthusiastic

3. Select the most appropriate synonym of the given word. Admire

- (1) Despise (2) Extol
(3) Settle (4) Censure

4. The given sentence has an error. Select the option that rectifies the error.

Rita and Raja are get married on 20th August.

- (1) will have getting married
(2) will getting married
(3) are getting married
(4) have get married

5. Select the option that expresses the given sentence in passive voice.

My principal gave me a laptop on clearing the Math Olympiad Exam.

- (1) I have been given a laptop by my principal on clearing the Math Olympiad Exam.
(2) I had been given a laptop by my principal on clearing the Math Olympiad Exam.
(3) I was given a laptop by my principal on clearing

the Math Olympiad Exam.

- (4) I am given a laptop by my principal on clearing the Math Olympiad Exam.

6. Select the most appropriate question tag to fill in the blank. He isn't lactose intolerant, ____?

- (1) isn't she (2) is he
(3) isn't he (4) is she

7. The following sentence has been split into four segments. Identify the segment that contains a grammatical error.

I hoped / to spot/ Malathi between / the crowd.

- (1) the crowd (2) Malathi between
(3) I hoped (4) to spot

8. Parts of the following sentence have been given as options. Select the option that does NOT contain a spelling error.

Chandrayaan-3, the third Indian moon mission will be launched on July 14, wherein the ISRO will attempt to soft-land the lander and rover on the lunar surface on August 23rd or 24th.

- (1) the ISRO will attempt to soft-land the lander and rover
(2) on the lunar surface on August 23rd or 24th
(3) will be launched on July 14, wherein
(4) Chandrayaan-3, the third Indian moon mission

9. The following sentence has been split into four segments. Identify the segment that contains an error.

She felt / her lift up / by the wind / and thrown to the ground.

- (1) and thrown to the ground
(2) her lift up
(3) She felt
(4) by the wind

21. Complete the following conversation between the two using the most suitable option.

A : 'Haven't seen anything of Bryan for a while.'

B : _____

- (1) No, he's been working in Germany
- (2) 'No he's been working in germany'.
- (3) No! he's been working in Germany,
- (4) 'No, he's been working in Germany.

22. Select the option with the correct punctuation mark for the given sentence.

The meeting was held on Wednesday July 11 2022

- (1) The meeting was held on Wednesday July 11, 2022.
- (2) The meeting was held on Wednesday, July 11, 2022.
- (3) The meeting was held on, Wednesday, July 11 2022
- (4) The meeting was held on Wednesday, July 11 2022

23. Select the most appropriate adverb to fill in the blank. He ran _____ to catch the train.

- (1) leisurely (2) slowly
- (3) frantically (4) reluctantly

24. Select the most appropriate option to fill in the blank. Girish can play _____ flute.

- (1) an (2) the
- (3) a (4) No article required

25. Select the most appropriate meaning of the given proverb.

The proof of the pudding is in the eating.

- (1) Pudding is the best dessert.
- (2) The preparation of the pudding is more important than its taste.
- (3) The taste of the pudding determines its quality.
- (4) The proof of a claim or theory lies in its practical application or results.

1. Select the most appropriate question tag to fill in the blank.

The students have done their homework, _____ ?

- (1) aren't they (2) hasn't they
- (3) haven't they (4) hadn't they

2. Select the most appropriate question tag to fill in the blank.

There was a big elephant in the zoo, _____

- (1) wasn't it? (2) wasn't there?
- (3) isn't it? (4) isn't there?

3. Select the most appropriate option to fill in the blank.

Seema _____ the door when the electricity went out.

- (1) had just closed (2) has been just closing
- (3) just closed (4) has just closed

4. Select the most appropriate synonym of the given word.

Solitary

- (1) Dubious (2) Fluent
- (3) Lone (4) Bold

5. Select the most appropriate option to fill in the blank.

No boy other _____ Harsh has done it.

- (1) for (2) than (3) if (4) that

6. Parts of the given sentence have been underlined.

One of them contains an error. The underlined parts are given as options with some changes. Select the option that correctly rectifies the error. He had finished his master's degree in English and pursue a career in academics.

- (1) will finish (2) pursues
- (3) at academics (4) of English

7. Select the most appropriate synonym of the given word.

Converge

- (1) Gather (2) Believe (3) Ignore (4) Cease

पेपर क्र. - 8	21 - 4	22 - 2	23 - 3	24 - 2	25 - 4					
पेपर क्र. - 9	1 - 3	2 - 2	3 - 1	4 - 3	5 - 2	6 - 1	7 - 1			

20. Part of the given sentence that has been underlined contains an error. Select the option that rectifies the error.

Stop worrying, Suresh will there at 6:30 p.m.

- (1) will be (2) will been
(3) will have being (4) will being

21. In the following sentence, one of the four underlined words is incorrectly spelt. Identify the INCORRECTLY spelt word.

The entrepreneur's claims of success were exagerated, but he definitely wanted to receive recognition for his achievements.

- (1) recognition (2) exagerated
(3) entrepreneur's (4) achievements

22. Select the option that expresses the given sentence in passive voice.

She was working on the synopsis of her research work.

- (1) The synopsis of her research work was being worked on by her
(2) The synopsis of her research work has been worked on by her.
(3) The synopsis of her research work had been worked on by her.
(4) The synopsis of her research work was being worked by her.

23. Parts of the given sentence have been underlined. One of them contains an error. The underlined parts are given as options with some changes. Select the option that correctly rectifies the error.

(1) The news(2) were broadcasting (3) on (4) every channel last night.

- (1) (1) No article (2) (3) in
(3) (4) each (4) (2) was

24. Select the most appropriate option to fill in the blank. The weather is warmer _____ of last week.

- (1) these (2) this (3) than that (4) as

25. Select the most appropriate ANTONYM of the underlined word.

She delivered an eloquent speech that captivated the audience.

- (1) vivid (2) incoherent (3) articulate (4) fluent

10

Date - 06/09/2023

वेळ : 09 : 00 AM - 11 : 00 AM

1. Select the correctly punctuated phrase to fill in the blank.

_____ visits Holmes and Dr. Watson at their place.

- (1) Mary Morstan_ a young woman,
(2) Mary Morstan-a young woman,
(3) Mary Morstan: a young woman,
(4) Mary Morstan, a young woman,

2. Select the option that expresses the given sentence in passive voice.

Will he use the bridge once it is constructed?

- (1) Will the bridge be used by him once it had been constructed?
(2) Will the bridge be used by him once it was constructed?
(3) Will the bridge be used by him once it is constructed?
(4) Will the bridge be used by him once it had constructed?

3. Select the most appropriate article to fill in the blank. If no article is required, select 'No article'. My brother needs _____ dictionary to enrich his vocabulary.

- (1) a (2) No article (3) an (4) the

4. Select the most appropriate option to fill in the blank.

It is the duty of custom officers to _____ the passport and other valuables of every passenger.

- (1) check (2) have checked
(3) checking (4) checked

5. Select the most appropriate meaning of the given idiom. - A big shot

- (1) An important person (2) A good hunter
(3) A tall person (4) A big secret

पेपर क्र. - 9	20 - 1	21 - 2	22 - 1	23 - 4	24 - 3	25 - 2				
पेपर क्र. - 10	1 - 4	2 - 3	3 - 1	4 - 1	5 - 1					

1. Select the most appropriate adjective to fill in the blank.

Which is the ____ of the lot?

- (1) big (2) better
(3) more (4) best

2. Select the most appropriate meaning of the given proverb.

Birds of a feather flock together

- (1) People with similar interests or of the same kind tend to form groups.
(2) To look at things from others point of view.
(3) To deal with a person who is difficult to understand.
(4) People can arrive at the same conclusion by different means.

3. Select the option that expresses the given sentence in passive voice.

Someone threw a lifebelt to me.

- (1) A lifebelt will be thrown to you
(2) A lifebelt was thrown to me.
(3) He threw a lifebelt to you
(4) It was by me, the lifebelt was thrown

4. The following sentence has been split into four segments. Identify the segment that contains a grammatical error.

She is responsible for taking care/ to her younger siblings / while her parents are at work.

- (1) while her parents are at work
(2) She is responsible
(3) for taking care
(4) to her younger siblings

5. Select the most appropriate option to fill in the blank.

In my organisation, the duties ____ every year by the management.

- (1) is rotated (2) rotates
(3) are rotated (4) has rotated

6. Select the option that identifies the error in the given sentence and the correction required.

I cannot see you tomorrow evening. I am spend time with my kids.

- (1) Error : I am spend
Correction : I spend
(2) Error : I am spend
Correction : I am spending
(3) Error : I cannot
Correction : I may not
(4) Error : I cannot
Correction : I will not

7. Select the most appropriate articles to fill in the blanks.

____ exhibition of royal jewellery has now become ____ yearly affair.

- (1) an; an (2) a; an (3) an; a (4) a; a

8. The given sentence is missing punctuation. Choose the option with the correct placement of punctuation marks to make this a meaningful sentence.

If youve borrowed a book to read, you dont automatically attain full custody of it to do with it as you please

- (1) If you've borrowed a book to read, you don't automatically attain full custody of it to do with it as you please.
(2) If you've borrowed a book to read, you don't automatically attain full custody of it, to do with it as you please.
(3) If you've borrowed a book to read you don't automatically attain full custody of it to do with it as you please!
(4) If you've borrowed a book to read you don't automatically attain full custody of it to do with it as you please.

20. Select the most appropriate option to fill in the blank.

You found the lost pen, ____

- (1) don't you? (2) didn't you?
(3) haven't you? (4) isn't it?

21. Select the option that expresses the given sentence in active voice.

English grammar is taught to the students by Mr. Lalapat.

- (1) Mr. Lalapat teaches the students English grammar.
(2) Mr. Lalapat is teaches the students English grammar.
(3) Mr. Lalapat has taught the students English grammar.
(4) Mr. Lalapat taught the students English grammar.

22. Select the most appropriate option to fill in the blank.

____ top-ranking candidates will be appointed at senior jobs in banks.

- (1) The (2) A (3) Same (4) An

23. Select the most appropriate synonym of the underlined word.

She showed tenacious determination in pursuing her goals.

- (1) nonchalant (2) tolerable
(3) faint (4) persistent

24. The given sentence has an error. Select the option which rectifies the sentence.

Besides having two buses for the transport business, my brother had Just bought a Jeep for personal use.

- (1) bought a jeep for personal use
(2) for the transport business
(3) Besides having two buses
(4) my brother had just

25. Select the most appropriate question tag to fill in the blank.

We haven't been to Delhi before, ____?

- (1) has it (2) have we
(3) have been we (4) does it

12

Date - 06/09/2023

वेळ : 04 : 30 AM - 06 : 30 AM

1. Select the most appropriate option to fill in the blank.

He was the first man to row single handed ____ the Atlantic.

- (1) under (2) above
(3) below (4) across

2. Select the most appropriate ANTONYM of the given word. Seize

- (1) Agree (2) Incite
(3) Deceive (4) Miss

3. Select the option that expresses the given sentence in passive voice.

She is painting the portrait of the royal couple.

- (1) The portrait of the royal couple is being painted by her.
(2) The painting of the royal couple's portrait is done by her.
(3) The painting of the royal couple is being portrayed by her.
(4) The portrait of the royal couple has been painted by her.

4. Part of the given sentence that has been underlined contains an error. Select the option that rectifies the error. Sue gets good marks if she works hard.

- (1) is getting (2) will be get
(3) will have got (4) will get

5. Select the most appropriate ANTONYM of the given word. Earn

- (1) Draw (2) Forfeit
(3) Collect (4) Acquire

पेपर क्र. - 11	20 - 2	21 - 1	22 - 1	23 - 4	24 - 4	25 - 2					
पेपर क्र. - 12	1 - 4	2 - 4	3 - 1	4 - 4	5 - 2						

month.) By next month, I ____.

- (1) would have writing that book for 3 years
- (2) would have written the book for 3 years
- (3) will have been writing this book for 3 years
- (4) will write the book for 3 years

18. Select the option that correctly punctuates the given sentence.

If you have received this communication in error please notify us by reply e-mail.

- (1) If you have received, this communication in error please notify us by reply e-mail!
- (2) If you have received, this communication in error, please notify us by reply e-mail.
- (3) If you have received this communication in error, please notify us by reply e-mail.
- (4) If you have received this communication in error: please notify us by reply e-mail.

19. Select the most appropriate option with the future tense form according to the situation given in brackets to fill in the blank.

(The company is spending 5 million dollars on developing the software before it goes on sale).

By the time the software goes on sale, the company ____

- (1) will have spent 5 million dollars on developing it
- (2) can spend 5 million dollars on developing it
- (3) would have spent 5 million dollars on developing it
- (4) shall be spending 5 million dollars on developing it

20. Select the most appropriate question tag to fill in the blank. Your son needs a bike, ____

- (1) doesn't he? (2) isn't it?
- (3) does he? (4) don't he?

21. Select the most appropriate option to fill in the blank.

None in the class likes him because of his ____ behaviour.

- (1) decent (2) crude
- (3) assertive (4) selfless

22. Select the most appropriate ANTONYM of the given word. Cunning

- (1) Cute (2) Sly
- (3) Smart (4) Innocent

23. Select the most appropriate option to fill in the blank. It is nothing else ____ pride.

- (1) if (2) for
- (3) but (4) and

24. Select the most appropriate articles to fill in the blanks.

Just now ____ announcement was made that the guest will reach here in hour.

- (1) a; a (2) an; an (3) a; an (4) an; a

25. Select the most appropriate meaning of the given proverb.

A watched pot never boils

- (1) Pots never reach boiling temperature.
- (2) Boiling water evaporates quickly.
- (3) Watching pots is a waste of time.
- (4) Something we wait for impatiently seems to take forever.

13

Date - 08/09/2023

वेळ : 09 : 00 AM - 11 : 00 AM

1. Select the option that expresses the given sentence in passive voice.

The President of India gave her a reward.

- (1) Her reward had been given by the President of India
- (2) She was given a reward by the President of India
- (3) The President of India had given her a reward
- (4) A reward has been given to her by the President of India

2. Select the most appropriate meaning of the given idiom.

Not worth a hill of beans

- (1) a bad harvest (2) not worth very much
- (3) unsavoury (4) silly job

पेपर क्र. - 12	17 - 3	18 - 3	19 - 1	20 - 1	21 - 2	22 - 4	23 - 3	24 - 2	25 - 4		
पेपर क्र. - 13	1 - 2	2 - 2									

25. Select the most appropriate synonym of the given word. - Resentment

- (1) Pleasure (2) Soothing
(3) Animus (4) Calm

14

Date - 08/09/2023

वेळ : 12 : 30 AM - 02 : 30 AM

1. Select the most appropriate verb to fill in the blank.

Umesh ___ making elaborate vacation plans.

- (1) like (2) wish (3) likes (4) is wishing

2. Select the option with the correct punctuation mark for the given sentence.

Get out I don't want to see you again.

- (1) Get out, I don't want to see you again
(2) Get out : I don't want to see you again
(3) Get out ! I don't want to see you again.
(4) Get out ; I don't want to see you again.

3. Select the most appropriate option to fill in the blank.

They agreed that the goods would be replaced ___

- (1) immediate (2) immediacy
(3) immediateness (4) immediately

4. Select the most appropriate question tag to fill in the blank.

I am also invited to in Tuntun's birthday, ___?

- (1) hasn't I (2) aren't I (3) can't I (4) isn't I

5. Select the most appropriate article to fill in the blank. If no article is required, select 'No article'.

___ Sahara is one of the greatest deserts in the world.

- (1) No article (2) A (3) The (4) An

6. Select the most appropriate present tense verb form to fill in the blank.

Sanya ___ sad.

- (1) seem (2) seems
(3) will beseeming (4) is seeming

7. Select the most appropriate meaning of the given

proverb.

No man is an island.

- (1) People with common characteristics always end up together
(2) Everything is acceptable as long as the ending is favourable
(3) A person in difficulty will make use of any help he receives
(4) Humans are social beings and dependent on one other

8. Select the most appropriate option to fill in the blank.

She only had time enough to dress and run a comb ___ her hair before the taxi arrived.

- (1) along (2) over (3) through (4) towards

9. Select the option that expresses the given sentence in active voice.

The house was gifted to Sheila by her maternal uncle.

- (1) The house gifted Sheila to her maternal uncle
(2) Sheila was given the house as a gift from her maternal uncle.
(3) Sheila gifted the house to her maternal uncle.
(4) Sheila's maternal uncle gifted her the house.

10. Select the option that expresses the given sentence in passive voice.

Whom did you invite for the birthday party?

- (1) Who are invited by you for the birthday party?
(2) Who was invited by you for the birthday party?
(3) Who is invited by you for the birthday party?
(4) Who has invited by you for the birthday party?

11. Parts of the given sentence have been underlined.

One of them contains an error. The underlined parts are given as options with some changes.

Select the option that correctly rectifies the error.

By the time he graduates from university in four years, he will be studying for over a decade.

- (1) since over a decade
(2) from a university
(3) will have been studying
(4) By the time he graduated

पेपर क्र. - 13	25 - 1											
पेपर क्र. - 14	1 - 3	2 - 3	3 - 4	4 - 2	5 - 3	6 - 2	7 - 4	8 - 3	9 - 4	10 - 2	11 - 3	

1. Select the most appropriate synonym of the underlined word. Smartphones have become ubiquitous in today's society.

- (1) constricted (2) sporadic
(3) pervasive (4) scarce

2. In the following sentence, four words are underlined out of which one word is misspelled.

Find the INCORRECTLY spelt word.

Many evil deeds have been done under the pretence of religion and faith.

- (1) evil (2) under (3) Faith (4) pretence

3. Select the most appropriate article to fill in the blank. If no article is required, select 'No article'.

At last, the manager arranged ____ vacant table for our guest in his cafe.

- (1) No article (2) an
(3) the (4) a

4. Select the most appropriate meaning of the given proverb.

When the going gets tough, the tough get going

- (1) Tough individuals find difficult situations challenging.
(2) Tough individuals never give up.
(3) When conditions become difficult, strong people take action.
(4) Strong individuals avoid tough situations.

5. Select the most appropriate question tag to fill in the blank. Mom wouldn't like that either, ____?

- (1) will she (2) should she
(3) would she (4) could she

6. Select the most appropriate option to fill in the blank. We ____ not pluck the flowers.

- (1) had (2) would (3) have (4) must

7. In the following sentence, one of the four underlined words is incorrectly spelt. Identify the INCORRECTLY spelt word.

She was startled by their sudden disappearance from the garden, as a few minutes ago they were frolicking with the children.

- (1) disappearance (2) frolicking
(3) minutes (4) startled

8. Select the most appropriate article to fill in the blank.

The little girl believes that the blood of ____ unicorn is golden in colour.

- (1) No article required (2) a
(3) the (4) an

9. Select the most appropriate ANTONYM of the given word. Furnish

- (1) Deprive (2) Promise
(3) Revise (4) Absorb

10. Select the most appropriate meaning of the given idiom. Ticked pink

- (1) Panic about a situation
(2) Very pleased or amused with the situation
(3) Upto some mischief
(4) Sickly appearance as if anaemic

11. Select the most appropriate option to fill in the blank.

When I was a student, I ____ a village school.

- (1) attended (2) was attending
(3) have attended (4) attend

12. The following sentence has been split into four segments. Identify the segment that contains a grammatical error.

All the money/ paid with / investors is / now at risk.

- (1) All the money (2) investors is
(3) paid with (4) now at risk

पेपर क्र. - 15	1 - 3	2 - 4	3 - 4	4 - 3	5 - 3	6 - 4	7 - 1	8 - 2	9 - 1	10 - 2	11 - 1
	12 - 3										

23. Select the option that expresses the given sentence in passive voice.

Someone will demonstrate the game to the children.

- (1) To the children the game will be demonstrated.
- (2) The game had been demonstrated by the children.
- (3) The game will be demonstrated to the children.
- (4) The children demonstrated the game.

24. Three positions have been marked as A, B and C. Where should you place the comma in the following sentence?

The documentary

[A] that won the Oscars

[B] was about the story of elephant rescuers

[C] which touched the jury's heart.

- (1) B (2) ABC (3) C (4) A

25. Select the most appropriate option to fill in the blank. I am ___ sorry to hear it.

- (1) very (2) more (3) too (4) much

16

Date - 10/09/2023

वेळ : 09 : 00 AM - 11 : 00 AM

1. The given sentence may have an error. Select the option that expresses the sentence correctly in its past tense. Select the option 'No error identified' if there is none.

He thinks about flying to Turkey, but all the flights was booked.

- (1) He was thinking to fly to Turkey, but all the flights are booked
- (2) He thought about to fly to Turkey, but all the flights were booked
- (3) He had thought about flying to Turkey, but all the flights were booked
- (4) No error identified

2. Select the most appropriate question tag to fill in the blank.

She is not good at mathematics, ___?

- (1) she isn't (2) she is
- (3) isn't she (4) is she

3. Select the most appropriate option to fill in the blank.

Before conducting any medical procedure, the doctor must obtain the patient's consent ___ ensure that they are fully informed and involved in the decision-making process.

- (1) to (2) with
- (3) for (4) by

4. Select the most appropriate synonym of the given word.

Acquisitive

- (1) Proud (2) Hidden
- (3) Greedy (4) Definite

5. Select the most appropriate option to fill in the blank.

You are far ___ tolerant than I am.

- (1) more (2) much (3) very (4) than

6. Select the most appropriate punctuation mark to fill in the blank.

My friend was a convent-educated student with fairly sophisticated English ___ at least spoken or colloquial English.

- (1) - (em dash) (2) : (colon)
- (3) , (comma) (4) ; (semicolon)

7. Select the most appropriate meaning of the given proverb.

A stitch in time saves nine.

- (1) Nine stitches are necessary for every garment.
- (2) Mending clothes takes a long time.
- (3) Early action prevents bigger problems later.
- (4) Time management is crucial for sewing.

8. Select the most appropriate question tag to fill in the blank.

So he is going overseas, ___? That's great to hear.

- (1) is he (2) isn't he (3) does he (4) do they

पेपर क्र. - 15	23 - 3	24 - 3	25 - 1								
पेपर क्र. - 16	1 - 3	2 - 4	3 - 1	4 - 3	5 - 1	6 - 1	7 - 3	8 - 2			

21. Select the most appropriate meaning of the given idiom.

Clean slate

- (1) a fresh start (2) an easy thing to do
(3) a good reputation (4) a hygienic surrounding

22. Select the option that expresses the given sentence in active voice.

It is thought to have been a complex problem.

- (1) It is a complex problem.
(2) People think it is a complex problem.
(3) People thought it had been a complex problem.
(4) People think it has been a complex problem.

23. Select the most appropriate option to fill in the blank.

The car was ____ damaged in the accident.

- (1) bad (2) badly
(3) very bad (4) badness

24. Select the most appropriate set of articles to fill in the blanks.

It is ____ universally acknowledged truth that every child in the family desires to be ____ heir.

- (1) a, an (2) an, No article required
(3) an, a (4) the, a

25. Parts of the given sentence have been underlined. One of them contains an error. The underlined parts are given as options with some changes. Select the option that correctly rectifies the error.

He says that he has gone to Mumbai to meet his client coming from Dubai.

- (1) He says that's (2) to meeting
(3) will go (4) to come

17

Date - 10/09/2023

वेळ : 12 : 30 PM - 02 : 30 PM

1. The given sentence has an error. Select the option that correctly rectifies the error.

Sujata gets up early on the morning.

- (1) early in the morning
(2) got up
(3) get up
(4) early at the morning

2. Parts of the given sentence have been underlined. One of them contains an error. The underlined parts are given as options with some changes. Select the option that correctly rectifies the error. When I go out in the evening here, the moon is shining and the crickets chirping.

- (1) I have gone out (2) moon has been shining
(3) crickets are chirping (4) I have been going out

3. Select the most appropriate adjective to fill in the blank. Sreeja is ____ than Rachel.

- (1) taller (2) tall-like
(3) tallest (4) tall

4. The following sentence has been split into four segments. Identify the segment that contains a grammatical error.

These are / good books/in/ our library.

- (1) These are (2) good books
(3) in (4) our library

5. Select the most appropriate synonym of the given word. - Curse

- (1) Bane (2) Piety
(3) Praise (4) Reverence

6. Select the most appropriate option to fill in the blank.

I ____ the bell several times, but the door was not opened.

- (1) have rang (2) rang
(3) rung (4) ring

पेपर क्र. - 16	21 - 1	22 - 4	23 - 2	24 - 1	25 - 3						
पेपर क्र. - 17	1 - 1	2 - 3	3 - 3	4 - 1	5 - 1	6 - 2					

17. Parts of the given sentence have been underlined. One of them contains an error. Select the option that correctly rectifies the error.

The committee, along with its ancillary staff, were working tirelessly to complete the report.

- (1) for (2) a (3) their (4) was

18. Select the most appropriate option to fill in the blank.

Attitudes are ___ real figures of speech.

- (1) an (2) the (3) in (4) a

19. Select the most appropriate question tag to fill in the blank.

I am never punctual when it comes to submitting my assignments, ___?

- (1) aren't I (2) amn't I (3) am I (4) are I

20. In the following sentence, four words are underlined, of which one is incorrectly spelt. Identify the INCORRECTLY spelt word.

Discourtecy is not a legal offence, and it does not excuse assault and battery.

- (1) Discourtecy (2) assault
(3) battery (4) offence

21. Select the most appropriate question tag to fill in the blank. He isn't a kid anymore, ___?

- (1) is he (2) isn't he
(3) does he (4) has he

22. Select the most appropriate meaning of the given proverb. Brevity is the soul of wit.

- (1) Art of expressing views using few words
(2) Art of expressing views using many words
(3) Expressing views cunningly
(4) Expressing views with hesitation

23. Select the most appropriate punctuation mark to fill in the blank.

John is an avid traveller ___ he has visited over 20 countries in the past five years.

- (1) Semi-colon (;) (2) Period (.)
(3) Colon (:) (4) Comma (,)

24. Select the most appropriate synonym of the underlined word.

The professor's lecture helped elucidate complex scientific concepts.

- (1) Clarify (2) Complicate
(3) Confuse (4) Distort

25. In the following sentence, four words are underlined, of which one is incorrectly spelt. Identify the INCORRECTLY spelt word.

"I feel like some dowdy, dicrepit, horribly dingy old fly," she said.

- (1) dingy (2) horribly (3) dicrepit (4) dowdy

18

Date - 10/09/2023

वेळ : 04 : 30 PM - 06 : 30 PM

1. Select the most appropriate article to fill in the blank.

Can you bring me ___ glass of water, please?

- (1) an (2) the (3) some (4) a

2. The following sentence has been split into four segments. Identify the segment that contains a grammatical error.

Neil had completed / all eight grades of western music / by the time / he were 17 years old.

- (1) Neil had completed
(2) he were 17 years old
(3) all eight grades of western music
(4) by the time

3. Select the most appropriate synonym of the given word. Spendthrift

- (1) Prodigal (2) Altruist
(3) Premature (4) Rational

4. Select the most appropriate meaning of the given idiom.

Putting all your eggs in one basket

- (1) Looking for solutions from one single person
(2) Spending wealth on purpose
(3) Depending on a single person or plan of action for success
(4) Taking advantage from some sources

वेपर क्र. - 17	17 - 4	18 - 2	19 - 3	20 - 1	21 - 1	22 - 1	23 - 1	24 - 1	25 - 3		
वेपर क्र. - 18	1 - 4	2 - 2	3 - 1	4 - 3							

16. Select the **INCORRECTLY** spelt word in the following sentence.

Our voyage last year was a prosperuos and successful one, as I learnt a lot of things there

- (1) prosperuos (2) voyage
(3) successful (4) learnt

17. Select the most appropriate option to fill in the blank.

Revathi enjoyed the sun which was slowly setting behind the horizon and casting a warm golden glow across ____ ocean.

- (1) since (2) a
(3) an (4) the

18. Select the **INCORRECTLY** spelt word.

- (1) Entrepreneurial (2) Perseverance
(3) Exaggeration (4) Conscientious

19. Select the most appropriate option to fill in the blank.

Chennai is ____ from Delhi than from Hyderabad.

- (1) far (2) farther
(3) farthest (4) further

20. Select the most appropriate option to fill in the blank.

____ people can read and write proper English in my town.

- (1) Less (2) Much
(3) A few (4) The few

21. Select the most appropriate meaning of the given proverb.

Don't count your chickens before they are hatched.

- (1) Don't do something which causes your own downfall.
(2) Don't complain if you can't enforce your point.
(3) Don't blame the tools for your bad workmanship.
(4) Don't depend on something happening before it has happened.

22. Select the most appropriate meaning of the underlined idiom.

She didn't commit a crime. For her silly mistake, she can get a slap on the wrist.

- (1) Reveal the secret
(2) Be free from all obligations
(3) Start a new journey
(4) Get a small punishment

23. Select the most appropriate question tag to fill in the blank. Vishnu is from Delhi, ____?

- (1) isn't he? (2) is he? (3) did he? (4) didn't he?

24. Select the most appropriate synonym of the given word. Concise

- (1) Brief (2) Shortened
(3) Abbreviated (4) Flashy

25. Select the most appropriate option to fill in the blank.

The flowers ____ brightly, adding colour to the garden landscape.

- (1) are bloomed (2) is blooming
(3) bloom (4) will have blooming

19

Date - 13/09/2023

वेळ : 09 : 00 AM - 11 : 00 AM

1. Select the most appropriate option to fill in the blank.

Rani enjoyed the sight of ____ eagle soaring through the clear blue sky.

- (1) a (2) an
(3) few (4) these

2. Select the most appropriate punctuation mark to fill in the blank.

My friends are not only more intelligent than me ____ but they are also very well-read.

- (1) , (comma) (2) ' (apostrophe)
(3) ! (exclamation) (4) . (period)

पेपर क्र. - 18

16 - 1

17 - 4

18 - 2

19 - 2

20 - 3

21 - 4

22 - 4

23 - 1

24 - 1

25 - 3

पेपर क्र. - 19

1 - 2

2 - 1

1. Select the most appropriate adjective to fill in the blanks for the given sentence :

She is pretty ____ for everybody to notice her.

- (1) enough (2) too much
(3) very much (4) much

2. Select the most appropriate SYNONYM of the given word :

Belligerently

- (1) Lavishly (2) Generously
(3) Liberally (4) Grudgingly

3. Select the appropriate article from the below options to complete the sentence. Mark No article if there is no requirement of article in the given sentence.

We stayed at a very nice hotel, I can't remember ____ name now.

- (1) a (2) the (3) No article (4) an

4. Select the correct punctuation from the below options to complete the below sentence.

Mary said I wanted to play outside

- (1) Mary said, "I wanted to play outside."!!
(2) Mary said, "I wanted to play outside."!
(3) Mary said; I wanted to play outside.
(4) Mary said, I wanted to play outside.

5. Select the most appropriate meaning of the Idiom below.

"All ears"

- (1) To listen intently, devoting one's full attention to someone
(2) Not interested in listening to anybody
(3) Someone who doesn't want to listen to others at all
(4) Someone who keeps talking and doesn't listen to others

6. Select the most appropriate SYNONYM of the given word:

Adamant

- (1) agreeable (2) compliant
(3) flexible (4) stubborn

7. Read the following statement and fill in the gaps using correct question tags ?

Jim should pass the exam, ____?

- (1) doesn't he (2) isn't he
(3) shouldn't he (4) couldn't he

8. Select the underlined word or phrase that needs to be changed to make the sentence correct. Some sentences contain no errors at all.

When he talked to us, he sounds nervous.

- (1) sounds (2) talked
(3) nervous (4) No error

9. Select the appropriate article from the below options to complete the sentence.

Mark No article if there is no requirement of article in the given sentence. How often do you go to ____ cinema? Three or four times a year.

- (1) an (2) No article
(3) a (4) the

10. The following sentence has been divided into parts. One of them may contain an error.

Select the part that contains the error from the given options: She had been waited for her father to come from the hospital.

- (1) come (2) waited
(3) had been (4) for

11. Select the most appropriate form of tense from the given option to fill in the blanks for the given sentence:

Mahesh used to ____ poems during his college days.

- (1) write (2) wrote
(3) Had written (4) Had writing

23. Select the most appropriate options from below which changes the following active sentences into passive voice.

The Wills have built the large house.

- (1) "The large house was being builded by the wills.
 (2) The wills is the builders of the large house.
 (3) They have built the large house.
 (4) The large house has been built by the Wills.

24. Select the most appropriate preposition from the given option to fill in the blanks for the given sentence:

We travelled overnight to Paris and arrived _____ 5'oclock in the morning.

- (1) at (2) on
 (3) by (4) till

25. Select the most appropriate SYNONYM of the given word :

Apparent

- (1) actual (2) Unlikely
 (3) Hidden (4) presumed

21

Date - 13/09/2023

वेळ : 04 : 30 AM - 06 : 30 AM

1. Choose the correct option from below that spells the word in bold correctly:

The government's support for the growth of this sector is **comendable** and should be continued.

- (1) comendable (2) commendable
 (3) commendeable (4) comennnable

2. Select the most appropriate adjective to fill in the blanks for the given sentence :

Rajesh is _____ to do the right thing.

- (1) intelligent enough (2) too Intelligent
 (3) enough (4) to intelligent

3. Select the most appropriate SYNONYM of the given word :

Sombre

- (1) Bright (2) Illuminated
 (3) Murky (4) Radiant

4. Select the underlined word or phrase that needs to be changed to make the sentence correct. Some sentences contain no error at all.

I'm feeled the fabric to see if it's soft or not.

- (1) if (2) feeled (3) not (4) see

5. The following sentence has been divided into parts. One of them may contain an error. Select the part that contains the error from the given options :

The train had already left when he had reach the station.

- (1) left (2) had
 (3) reach (4) already

6. Select the underlined word or phrase that needs to be changed to make the sentence correct. Some sentences contain no error at all.

We lives in an apartment in the city centre.

- (1) lives (2) We
 (3) apartment (4) in

7. The following sentence has been divided into parts. One of them may contain an error. Select the part that contains the error from the given options:

Mary brush her teeth twice a day.

- (1) teeth (2) twice
 (3) her (4) brush

8. Read the following statement and fill in the gaps using correct question tags.

Ravi is from Mumbai, _____?

- (1) Won't he (2) isn't he
 (3) Doesn't he (4) Couldn't he

9. Read the following statement and fill in the gaps using correct question tags.

Reena won't mind if I use her book, _____?

- (1) may she (2) Will she (3) can she (4) Could she

10. Select the most appropriate preposition from the given option to fill in the blanks for the given sentence:

What are you doing _____ the weekend?

- (1) from (2) on (3) at (4) in

पेपर क्र. - 20	23 - 4	24 - 1	25 - 4							
पेपर क्र. - 21	1 - 2	2 - 1	3 - 3	4 - 2	5 - 3	6 - 1	7 - 4	8 - 2	9 - 2	10 - 3

Serene had ____ a novel on humanity.

- (1) Written (2) Been wrote
(3) Writing (4) wrote

23. Select the appropriate article from the below options to complete the sentence. Mark "No article" if there is no requirement of article in the given sentence.

____ dog next door barks all night long and it's driving me crazy.

- (1) a (2) an (3) The (4) No article

24. Select the most appropriate preposition from the given option to fill in the blanks for the given sentence :

The dog was sleeping ____ the table.

- (1) at (2) under (3) into (4) over

25. Select the most appropriate options from below which changes the following active sentences into passive voice.

Asha sings lovely songs.

- (1) The lovely singing is done by Asha.
(2) Lovely songs will be sung by Asha.
(3) Lovely songs are sung by Asha.
(4) Asha sung lovely songs.

22

Date - 14/09/2023

वेळ : 12 : 30 PM - 02 : 30 PM

1. Read the following statement and fill in the gaps using correct question tags.

They won't buy a house, ?

- (1) May they (2) Will they
(3) Would he (4) Can he

2. Read the following statement and fill in the gaps using correct question tags.

Mary is beautiful, ____ ?

- (1) Didn't he (2) Wasn't she
(3) isn't she (4) Doesn't she

3. The following sentence has been divided into parts. One of them may contain an error. Select the part that contains the error from the given options:

Varun didn't came to the picnic yesterday.

- (1) yesterday (2) to
(3) didn't (4) came

4. Select the most appropriate meaning of the idiom below.

"Get your act together"

- (1) Get unorganized and not on schedule
(2) Be more conscious of making efforts
(3) Be more casual and not efficient enough to perform
(4) Get organized and on schedule

5. Select the most appropriate meaning of the Idiom below.

"Sell like hot cakes"

- (1) Not getting desired results
(2) To be disappointed in selling hotcakes
(3) to sell or get rid of large quantities of something very easily
(4) Unable to sell or get rid of large quantities of goods

6. Select the most appropriate adjective to fill in the blanks for the given sentence:

The water was ____ to swim in.

- (1) too cold (2) Much cold
(3) Coldest enough (4) Coldest

7. Select the word or phrase that needs to be changed to make the sentence correct. Some sentences contain no errors at all.

I've been heard really strange things about him recently.

- (1) heard (2) recently
(3) about (4) things

8. Select the most appropriate SYNONYM of the given word:

Frail

- (1) Rigid (2) Sturdy (3) Hard (4) Fragile

9. Select the most appropriate SYNONYM of the given word:

Deteriorate

- (1) Develop (2) Upgrade
(3) Better (4) Decline

पेपर क्र. - 21	22 - 1	23 - 3	24 - 2	25 - 3								
पेपर क्र. - 22	1 - 2	2 - 3	3 - 4	4 - 4	5 - 3	6 - 1	7 - 1	8 - 4	9 - 4			

21. Select the most appropriate meaning of the proverb below.

A stitch in time saves nine

- (1) It is better to deal with problems later than dealing with them timely
- (2) It is not possible to solve bigger problems at all
- (3) Bigger problems should be dealt with ample time in hand
- (4) It is better to deal with problems immediately than letting them become bigger

22. Select the most appropriate options from below which changes the following active sentences into passive voice.

Mahesh was attending the guests at the party last night.

- (1) Last night at the party the guests were attended by Mahesh.
- (2) The guests were being attended at the party last night by Mahesh.
- (3) Mahesh had attended the guests last night at the party.
- (4) The guests is being attend at the party last night by Mahesh.

23. Select the appropriate article from the below options to complete the sentence. Mark No article if there is no requirement of article in the given sentence.

I seldom go to ____ cinema nowadays.

- (1) No article
- (2) a
- (3) the
- (4) an

24. Select the most appropriate preposition from the given option to fill in the blanks for the given sentence:

I love playing cricket ____ summer.

- (1) in
- (2) from
- (3) At
- (4) On

25. Select the most appropriate form of tense from the given option to fill in the blanks for the given sentence:

Her health has improved since she ____ to Shimla.

- (1) go
- (2) went
- (3) Had went
- (4) Had gone

1. Select the most appropriate meaning of the Idiom below.

"Run around in circles"

- (1) to remain busy without work
- (2) to keep running to set a record
- (3) to keep doing or talking about the same thing without achieving anything
- (4) to be fair and honest in your decisions

2. Read the following statement and fill in the gaps using correct negative question tags.

Alan is beautiful, ____ ?

- (1) Wasn't she
- (2) Didn't he
- (3) Isn't she
- (4) Don't she

3. Select the most appropriate meaning of the idiom below.

"Leave no stone unturned"

- (1) taking up impossible tasks
- (2) being ignored
- (3) to be unable to solve a problem
- (4) to do everything possible to find something or to solve a problem:

4. Select the word or phrase that needs to be changed to make the sentence correct. Some sentences contain no errors at all.

I've invited them, but I don't think they will come.

- (1) I've
- (2) they
- (3) will
- (4) Came

5. Select the word from the below sentence which has been misspelt.

On World Environment Day, we participate in various campaigns to spread awareness about environmental protection.

- (1) protection
- (2) campaigns
- (3) participate
- (4) awareness

पेपर क्र. - 22	21 - 4	22 - 2	23 - 3	24 - 1	25 - 2					
पेपर क्र. - 23	1 - 3	2 - 3	3 - 4	4 - 4	5 - 2					

18. Select the most appropriate **SYNONYM** of the given word :

embrace

- (1) include (2) prevent (3) exclude (4) reject

19. Select the most appropriate **preposition** from the given option to fill in the blanks for the given sentence:

Casper was born ____ 2000.

- (1) at (2) upto (3) from (4) in

20. Select the most appropriate **form of tense** from the given option to fill in the blanks for the given sentence:

It was warm, so I ____ off my coat.

- (1) took (2) taken (3) take (4) taking

21. Choose the correct option from below that spells the word in **bold** correctly.

I've never aquired a taste for spicy food.

- (1) acquired (2) acquired
(3) acquired (4) acuired

22. Select the most appropriate **SYNONYM** of the given word:

justify

- (1) defend (2) disapprove (3) refute (4) withdraw

23. Select the most appropriate options from below which changes the following active sentences into passive voice.

People never invite me to parties.

- (1) I never go the parties.
(2) love to go to the parties
(3) I have been invited to the parties.
(4) I am never invited to parties:

24. Select the most appropriate **SYNONYM** of the given word:

compliant

- (1) unruly (2) contrary (3) rebellious (4) obedient

25. Select the most appropriate meaning of the proverb below.

"Appearances can be deceptive"

- (1) something can be exactly as it seems or appears
(2) to be disappointed with someone's actions
(3) to ignore the problems
(4) something can be very different from how it seems or appears

24

Date - 17/08/2023

वेळ : 09 : 00 AM - 11 : 00 AM

1. The following sentence has been divided into four segments. Select the segment that contains a grammatical error.

There are / no prices / written in/ this menu.

- (1) no prices (2) There are
(3) written in (4) this menu

2. Select the most appropriate question tag to fill in the blank.

My friends have not helped the poor who are in need of money,-----,-----

- (1) is it (2) has they
(3) have them (4) have they

3. The following sentence has been split into four segments. Identify the segment that contains a grammatical error.

After analysing every piece of evidence,/ the inspector realised that /his hypothesis has been flawed / from the very beginning.

- (1) the inspector realised that
(2) from the very beginning
(3) After analysing every piece of evidence
(4) his hypothesis has been flawed

4. Parts of the given sentence have been underlined. One of them contains an error. The underlined parts are given as options with some changes. Select the option that correctly rectifies the error. In a few years, she studying abroad to pursue her dream career.

- (1) for pursue (2) in pursue
(3) has studying (4) will be studying

पेपर क्र. - 23	18 - 1	19 - 4	20 - 1	21 - 2	22 - 1	23 - 4	24 - 4	25 - 4				
पेपर क्र. - 24	1 - 3	2 - 4	3 - 4	4 - 4								

17. Select the INCORRECTLY spelt word in the following sentence.

India is developing its ties with European countries and is trying to strick the trade balance with them.

- (1) developing (2) European
(3) strick (4) balance

18. Select the most appropriate meaning of the given proverb.

A loaded wagon makes no noise

- (1) The strength of a group depends on each individual member
(2) If a task is well planned, it will be successful
(3) Really wealthy don't talk about money
(4) A foolish person usually spend money carelessly

19. Select the most appropriate ANTONYM of the underlined word.

As he went on reminiscing about the rice, we gently guided him back to the reason for our visit, the Kasbai seeds.

- (1) Disregarding (2) Losing
(3) Ignoring (4) Forgetting

20. Select the most appropriate adverb to fill in the blank.

There's _____ much furniture in this room. There's no space.

- (1) so (2) too (3) no (4) to

21. Select the INCORRECTLY spelt word in the following sentence.

The students had to complete a challenging assignment for their science class.

- (1) students (2) challenging
(3) science (4) complete

22. Select the most appropriate synonym of the given word.

Celestial

- (1) Graceful (2) Huge
(3) Heavenly (4) Gigantic

23. Select the most appropriate option to fill in the blank.

The elephant moved its trunk as it spotted its mahout approaching _____ house.

- (1) an (2) either (3) the (4) both

24. Select the most appropriate option to fill in the blank.

The Shatabdi _____ did not leave on _____

- (1) Express;; eid (2) Express;; eid
(3) Express; Eid (4) Express!; E.I.D.

25. The given sentence has an error. Select the option with the correct sentence.

Sapna has not went to her French classes.

- (1) Sapna has not been going to her French classes.
(2) Sapna has not going to her French classes.
(3) Sapna have not gone to her French classes.
(4) Sapna have not been going to her French classes.

25

Date - 17/08/2023

वेळ : 12 : 30 PM - 2 : 30 PM

1. Parts of the given sentence have been underlined. One of them contains an error. The underlined parts are given as options with some changes. Select the option that correctly rectifies the error.

Mahesh has met his uncle when he was going to his friend's house last week.

- (1) Mahesh had been meeting
(2) Mahesh mit
(3) when he is going
(4) when he goes

2. Parts of the following sentence have been given as options. Select the option that contains an error.

They finish their homework before going out to play.

- (1) before going (2) their homework
(3) our to play (4) They finish

पेपर क्र. - 24	17 - 3	18 - 3	19 - 4	20 - 2	21 - 2	22 - 3	23 - 3	24 - 3	25 - 1		
पेपर क्र. - 25	1 - 2	2 - 4									

1. Select the most appropriate question tag to fill in the blank.

All doesn't follow all the rules and regulations of the workplace, ____?

- (1) aren't he (2) does he
(3) do he (4) isn't he

2. Select the most appropriate meaning of the given phrase.

Broaden one's horizon

- (1) Expand knowledge
(2) Gives much health or enhances physical health
(3) Increase eyesight
(4) Develop laziness

3. Select the most appropriate option to fill in the blank.

Many experts remain ____ about the new Invention.

- (1) quarrelsome (2) greedy
(3) magical (4) sceptical

4. Parts of the following sentence have been given as options. Select the option that contains an error.

The book is placed from the shelf.

- (1) The book (2) from
(3) is placed (4) the shelf

5. Select the most appropriate ANTONYM of the underlined word.

The decision aroused much controversy among the students.

- (1) Argument (2) Compliment
(3) Agreement (4) supplement

8. Select the most appropriate option to fill in the blank.

Next month, they ____ the first phase of the construction.

- (1) will complete (2) had completed

- (3) have been completing (4) have completed

9. Select the most appropriate meaning of the underlined Idiom.

After losing her Job, Sucheta started doing odd Jobs to bring home the bacon.

- (1) To be successful in a short time
(2) To do something exciting
(3) To bring something special at home
(4) To earn money to live

10. Select the most appropriate synonym of the underlined word.

We travel, then, in part just to shake up our complacencies by seeing all the moral and political urgencies, the life-and-death dilemmas, that we seldom have to face at home.

- (1) Triumph (2) Satisfaction
(3) Modesty (4) Self-satisfaction

11. Select the most appropriate preposition to fill in the blank.

Mahesh submitted the assignment ____ time.

- (1) on (2) with
(3) from (4) at

12. Select the correctly punctuated form of the given sentence.

Peel the carrots chop them and then put them in the pan

- (1) Peel the carrots, chop them, and then, put them in the pan.
(2) Peel the carrots, chop them and then put them in the pan.
(3) Peel the carrots, chop them, and then put them in the pan.
(4) Peel the carrots chop them and then put them in the pan.

पेपर क्र. - 26	1 - 2	2 - 1	3 - 4	4 - 2	5 - 3	6 - 1	7 - 3	8 - 1	9 - 4	10 - 4	11 - 1
	12 - 1										

1. In the following sentence, four words are given in bold out of which one word is misspelled.

Select the INCORRECTLY spelt word.

My family physician prescribed a medicine that was unavailable at that movment.

- (1) Prescribed (2) Movement
(3) Physician (4) Unavailable

2. Select the most appropriate preposition to fill in the blank.

She walked the park to enjoy the beautiful scenery.

- (1) above (2) besides
(3) through (4) under

3. The given sentence has an error. Select the option with the error part.

I don't get at with my neighbour. She is so rude!

- (1) She is so rude! (2) get at
(3) I don't (4) with my neighbour

4. The following sentence has been split into four segments. Identify the segment that contains a grammatical error.

Had Shiva and Akbar / arrives when / I called / you yesterday?

- (1) arrives when (2) I called
(3) Had Shiva and Akbar (4) you yesterday

5. Select the option that expresses the given sentence in passive voice.

Why did you create this scene?

- (1) Why were you created by this scene?
(2) Why have you created this scene?
(3) Why was this scene created by you?
(4) Why was this scene been created by you?

6. Select the most appropriate meaning of the underlined idiom.

Raju tried to help his ex-girlfriend, but she used harsh words. Next time when she was again in need of help, he thought, 'once bitten twice shy'.

- (1) helping second time
(2) feeling shy to fall in love
(3) continue relationship
(4) avoid an unpleasant experience second time

7. Select the most appropriate article to fill in the blank. Select 'No article' if no article is required. He intends to become politician once he completes his education.

- (1) a (2) No article (3) the (4) an

8. Select the most appropriate article to fill in the blank. If no article is required, select 'No article'. friendship is a gift for those who value it.

- (1) an (2) a (3) the (4) No article

9. Select the most appropriate option to fill in the blank.

RK Narayan is not a British novelist, ?

- (1) is it (2) isn't it (3) is he (4) isn't he

10. Select the most appropriate verb to fill in the blank.

All of them the site without any specific reason.

- (1) felicitated (2) frequented
(3) frustrated (4) fermented

11. Parts of the following sentence have been given as options. Select the option that contains an error.

Vaishnav reads a book on Artificial Intelligence last week.

- (1) a book (2) last week
(3) Vaishnav reads (4) on Artificial Intelligence

12. Parts of the given sentence have been underlined.

One of them contains an error. The underlined parts are given as options with some changes. Select the option that correctly rectifies the error. The team is confident they are win the championship in the upcoming tournament.

- (1) will win (2) for the upcoming
(3) from the upcoming (4) will have won

पेपर क्र. - 27	1 - 2	2 - 3	3 - 4	4 - 4	5 - 3	6 - 4	7 - 1	8 - 4	9 - 3	10 - 2	11 - 3
	12 - 1										

1. Select the most appropriate meaning of the given proverb.

Speech is silver and silence is golden.

- (1) Speech and silence are strong like metals.
 (2) Silence and speech shine like metals.
 (3) Silence is more valuable than speaking.
 (4) Speaking is more valuable than speech.

2. Select the most appropriate option to fill in the blank.

He knows the answer to the question,?

- (1) will he (2) does he
 (3) doesn't he (4) isn't he

3. Select the most appropriate meaning of the given idiom.

A penny for your thoughts

- (1) Crying for unnecessary needs
 (2) Requesting someone for financial help
 (3) Demanding someone for bribes
 (4) Asking someone what they are thinking

4. Select the most appropriate verb to fill in the blank.

The man was by the robbers, but he managed to escape from their clutches.

- (1) slated (2) stipulated
 (3) arrested (4) attacked

5. Parts of the following sentence have been given as options. Select the option that contains an error.

The bookshelf in my bedroom is made of from oak.

- (1) of from (2) The bookshelf
 (3) in my (4) bedroom is

6. Select the most appropriate adverb to fill in the blank.

I had not completed my assignment, I decided to stay back home and complete it.

- (1) wherefore (2) then

- (3) accordingly (4) therefore

7. The given sentence has an error. Select the option with the correct sentence.

Sudhir has been stayed here since his aunt left him.

- (1) Sudhir has been staying here since his aunt left him.
 (2) Sudhir have stayed here since his aunt left him.
 (3) Sudhir had stay here since his aunt left him.
 (4) Sudhir have been stayed here since his aunt left him.

8. Select the most appropriate option to fill in the blank.

..... student was given a medal by the chief guest of the programme, one after another.

- (1) Each (2) Neither (3) Every (4) Few

9. Select the most appropriate tense form to fill in the blank.

Rajesh the IPL match all night.

- (1) has watching (2) was watching
 (3) is watching (4) is watch

10. The following sentence has been split into four segments. Identify the segment that contains a grammatical error.

Raghu have / taken a / holiday by / next month.

- (1) next month (2) holiday by
 (3) Raghu have (4) taken a

11. Select the most appropriate synonym of the given word.

Swift

- (1) Quiet (2) Whim (3) Quick (4) Alive

12. Select the most appropriate option to fill in the blank.

We went to parliament to meet politicians.

- (1) a (2) the
 (3) such (4) an

पेपर क्र. - 28	1 - 3	2 - 3	3 - 4	4 - 4	5 - 1	6 - 4	7 - 1	8 - 1	9 - 2	10 - 2	11 - 3
	12 - 2										

22. Select the most appropriate option to fill in the blank.

Shinto came across interesting bird in his portico that morning.

- (1) the (2) both (3) an (4) a

23. Select the option that expresses the given sentence in passive voice.

She was not taking care of the children properly due to her hectic schedule.

- (1) The children are not taken care of by her due to her hectic schedule.
(2) The children had not been taken care of by her due to her hectic schedule.
(3) The children were not been taken care of by her due to her hectic schedule.
(4) The children will not be taken care of by her due to her hectic schedule.

24. Select the most appropriate option to fill in the blank.

She likes chocolate,-----?

- (1) shouldn't she (2) will she
(3) does she (4) doesn't she

25. Select the most appropriate ANTONYM of the underlined word.

We reached the small, flattened summit together.

- (1) Reaching (2) Top
(3) Base (4) Starting point

29

Date - 18/08/2023

वेळ : 04 : 30 PM - 06 : 30 PM

1. Select the most appropriate synonym of the underlined word.

Travel is the best way we have of rescuing the humanity of places and saving them from abstraction and Ideology.

- (1) Inspiration (2) Kink
(3) Fact (4) Idea

2. Select the most appropriate option to fill in the blank.

The chef passionately, infusing flavours to create delicious food.

- (1) has cooks (2) had been cooked
(3) cooks (4) will cooking

3. Select the most appropriate meaning of the given proverb.

Waste not, want not

- (1) Making best from waste
(2) Judicious use
(3) Collecting useful things
(4) Wasting resources

4. Select the most appropriate option to fill in the blank.

The children happily, chasing each other in the park.

- (1) have will running (2) run
(3) has running (4) will running

5. Select the INCORRECTLY spelt word.

- (1) Accomplishment (2) Terrestriell
(3) Spectacular (4) Necessity

6. The given sentence has an error. Select the option that rectifies the error.

The tee-shirt are bought in a newly opened showroom yesterday

- (1) The tee-shirt was
(2) Newly open showroom
(3) The tee-shirt were
(4) newly opening showroom

7. Select the INCORRECTLY spelt word in the following sentence.

Classic works will always be appreciated in all parts of the world by people of different temperamants and cultures.

- (1) Classic (2) Appreciated
(3) Cultures (4) Temperamants

पेपर क्र. - 28

22 - 3

23 - 3

24 - 4

25 - 3

पेपर क्र. - 29

1 - 4

2 - 3

3 - 2

4 - 2

5 - 2

6 - 1

7 - 4

18. Select the most appropriate option to fill in the blank.

Vivek's student won contest.

- (1) the (2) much
(3) little (4) an

19. Select the most appropriate ANTONYM of the underlined word.

Apparently, it had been made in a hurry and somehow some kerosene got into the welcome cup.

- (1) critically (2) Improbably
(3) believably (4) Probably

20. Select the most appropriate meaning of the given proverb.

The face is the index of the mind.

- (1) The face is not important.
(2) There are some actors.
(3) There are handsome faces.
(4) The face shows what one thinks.

21. Select the most appropriate option to fill in the blank.

I have remembered her face I met her.

- (1) ever since (2) since
(3) already (4) just now

22. The following sentence has been split into four segments. Identify the segment that contains a grammatical error.

I went out for dinner last night. / Unfortunately, I began to feel ill / while the meal / and had to go home.

- (1) and had to go home
(2) Unfortunately, I began to feel ill
(3) I went out for dinner last night.
(4) while the meal

23. Select the most appropriate option to fill in the blank.

You have seen the new movie, ?

- (1) will you (2) aren't you
(3) have you (4) haven't you

24. Select the most appropriate option to fill in the blank.

There was a garden on side of the mountain.

- (1) every (2) nor
(3) either (4) each

25. Select the most appropriate punctuation mark to fill in the blank.

Jiya likes to drive Simran does not.

- (1) ; (2) !
(3) : (4) .

30

Date - 19/08/2023

वेळ : 09 : 00 AM - 11 : 00 AM

1. Select the most appropriate option to fill in the blank.

..... book she lent him was absolutely fascinating; he couldn't put it down until he had finished it.

- (1) A (2) An (3) The (4) All

2. Select the most appropriate ANTONYM of the underlined word.

I camouflaged the hide, took my essentials, came out of the hide and stretched out to my heart's content.

- (1) Exposed (2) Betrayed
(3) Uncloaked (4) Masked

3. The following sentence has been divided into four segments. Select the segment that contains a grammatical error.

The Shatabdi / Express arrives / on 6 a.m. / in the morning.

- (1) in the morning. (2) Express arrives
(3) The Shatabdi (4) on 6 a.m.

4. Select the most appropriate meaning of the given proverb.

Black will take no other hue.

- (1) Life is what you make it.
(2) Decoration does not change the nature of things
(3) Black colour has the highest hue
(4) No colour can overtake black colour

पेपर क्र. - 29	18 - 1	19 - 2	20 - 4	21 - 1	22 - 4	23 - 4	24 - 3	25 - 1				
पेपर क्र. - 30	1 - 3	2 - 1	3 - 4	4 - 2								

18. Parts of the following sentence have been given as options. Select the option that contains an error. She is excited about go on vacation next week.

- (1) About go (2) She is
(3) vacation (4) next week

19. Parts of the given sentence have been underlined. One of them contains an error. The underlined parts are given as options with some changes. Select the option that correctly rectifies the error. If I am the principal of this college, I would organise many seminars for the students.

- (1) I would have organised
(2) I would organised
(3) If I was the principal
(4) If I were the principal

20. Select the most appropriate option to fill in the blank.

Today is not a holiday in our state, ?

- (1) is it (2) do they
(3) Isn't it (4) does it

21. Select the most appropriate preposition to fill in the blank.

Meghna enjoys all genres of literature, melodrama.

- (1) through (2) except
(3) upon (4) despite

22. Select the most appropriate article to fill in the blank. If no article is required, select 'No article'.

I have only one close friend. He is European.

- (1) a (2) the
(3) an (4) No article

23. Select the most appropriate preposition to fill in the blank.

The cat jumped the table and knocked over the vase.

- (1) over (2) in
(3) outside (4) inside

24. Select the most appropriate option to fill in the blank.

Rohan if he stays there for a day.

- (1) has been visiting his uncle
(2) may visit his uncle
(3) was visiting his uncle
(4) has visited his uncle

25. The following sentence has been split into four segments. Identify the segment that contains a grammatical error.

Swetha have / be coming / home for / the holidays.

- (1) home for (2) Swetha have
(3) the holidays (4) be coming

31

Date - 19/08/2023

वेळ : 12 : 30 PM - 02 : 30 PM

1. Select the most appropriate article to fill in the blank. If no article is required, select 'no article'.

When I saw one-rupee coin on the road, I took it and gave it to a beggar.

- (1) the (2) no article
(3) a (4) an

2. Select the INCORRECTLY spelt word in the following sentence.

One of the most sereous issues that our country is confronting is the fast-growing population.

- (1) population (2) issues
(3) sereous (4) confronting

3. Select the most appropriate synonym of the underlined word.

I ran down the hillock that I had climbed up at a frantic speed.

- (1) Desperate (2) Excited
(3) Worried (4) Fraught

4. Select the most appropriate punctuation mark to fill in the blank.

Did you realise what wrong have you done to him

- (1) " (2) ? (3) ! (4) .

पेपर क्र. - 30	18 - 1	19 - 4	20 - 1	21 - 2	22 - 1	23 - 1	24 - 2	25 - 2			
पेपर क्र. - 31	1 - 3	2 - 3	3 - 3	4 - 2							

17. Select the most appropriate tense form to fill in the blank.

Prakash and Hema about you last night.

- (1) were talked (2) were talking
(3) had talking (4) was talking

18. Select the option that expresses the given sentence in passive voice.

The police arrested the suspect.

- (1) The suspect was being arrested by the police.
(2) The suspect arrested by the police.
(3) The suspect was arrested by the police.
(4) The suspect will arrested the police.

19. Select the most appropriate meaning of the given proverb.

Actions speak louder than words.

- (1) Working is more important than speaking.
(2) Acting skills bring appreciation.
(3) Speak louder when you speak.
(4) Action movies are wonderful.

20. Select the most appropriate ANTONYM of the given word. - Elevate

- (1) Satisfy (2) Dishearten (3) Fall (4) Uplift

21. Select the most appropriate tense form to fill in the blank.

Mrudul worried about your health.

- (1) was getting (2) were getting
(3) had get (4) were get

22. The following sentence has been divided into four segments. Select the segment that contains a grammatical error.

The minister / told us to / prevent damage of/ public property.

- (1) public property (2) prevent damage of
(3) The minister (4) told us to

23. Select the most appropriate adjective to fill in the blank. - I am to achieve my goal within three years.

- (1) determined (2) addicted
(3) adapted (4) convicted

24. Select the most appropriate preposition to fill in the blank.

Tushar jumped the river to help his brother.

- (1) into (2) towards (3) through (4) at

25. Select the most appropriate question tag to fill in the blank.

Impolite people do not use the word 'please',?

- (1) does they (2) do they (3) is it (4) did they

32

Date - 19/08/2023

वेळ : 04 : 30 PM - 06 : 30 PM

1. Select the most appropriate meaning of the underlined idiom.

My friend said, I am a one-man army. All the work has been done.

- (1) Boss who doesn't listen to anyone
(2) Movie hero
(3) One who does everything on his own
(4) Leader of many soldiers

2. Select the most appropriate punctuation mark to fill in the blank.

The manager told them that the responsibility of the project's success belonged to them

- (1) ? (question mark) (2) . (period)
(3) , (comma) (4) ! (exclamation mark)

3. The following sentence has been split into four segments. Identify the segment that contains a grammatical error.

Xavier had read / all the Shakespearean sonnets / by the time / he is 17 years old.

- (1) all the Shakespearean sonnets
(2) by the time
(3) he is 17 years old
(4) Xavier had read

पेपर क्र. - 31	17 - 2	18 - 3	19 - 1	20 - 3	21 - 1	22 - 3	23 - 1	24 - 1	25 - 2		
पेपर क्र. - 32	1 - 3	2 - 2	3 - 1								

17. Select the most appropriate synonym of the underlined word.

Hastily I took that trail which took me from a narrow gorge to an open field.

- (1) Chasm (2) Glut (3) Gully (4) Nibble

18. A part of the given sentence has been underlined. It contains an error. The underlined part is given as options with some changes. Select the option that correctly rectifies the error.

Though the parents have asked the boy to stop playing, he was playing.

- (1) he played (2) he is played
(3) he is playing (4) he had been playing

19. Select the most appropriate option to fill in the blank.

The cat is sleeping peacefully on mat.

- (1) by (2) a (3) the (4) an

20. Select the most appropriate preposition to fill in the blank.

He lives a small apartment in the city centre.

- (1) for (2) under (3) from (4) in

21. Select the most appropriate adjective to fill in the blank.

Most doctors arewhen suggesting any prescription to their patients, due to possible allergic reactions.

- (1) rapid (2) filthy (3) cautious (4) messy

22. The given sentence has an error. Select the appropriate tense option which rectifies the sentence.

Mrs Suma will have being teach for twenty years this coming September.

- (1) Mrs Suma will have been teach
(2) Mrs Suma should
(3) Mrs Suma was
(4) Mrs Suma will have been teaching

23. Select the most appropriate synonym of the given word.

Forbid

- (1) Impudent (2) Polish

- (3) Refusal (4) Prohibit

24. Select the INCORRECTLY spelt word in the following sentence.

He is an excelent guitar player and performs at local venues.

- (1) local (2) player (3) excellnt (4) guitar

25. Select the most appropriate meaning of the given proverb.

Give the devil his due

- (1) Staying away from enemy
(2) Feeling happy for oneself
(3) Appreciating an opponent's merits
(4) Leaving the grudges

33

Date - 20/08/2023

वेळ : 09 : 00 AM - 11 : 00 AM

1. Complete the sentence using the most suitable form of the verb 'sleep.

A : "Why didn't you answer his call last night?"

B : "I ___ when he called,"

- (1) am sleeping (2) sleep
(3) slept (4) was sleeping

2. The following sentence has been split into four segments. Identify the segment that contains a grammatical error.

It cannot be forecasted / how chatGPT will/ benefit mankind / in the real sense.

- (1) benefit mankind
(2) It cannot be forecasted
(3) how chatGPT will
(4) in the real sense

3. Select the most appropriate synonym of the given word.

Coherent

- (1) Rational (2) Innocent
(3) Quick (4) Candid

पेपर क्र. - 32

17 - 3

18 - 3

19 - 3

20 - 4

21 - 3

22 - 3

23 - 4

24 - 3

25 - 3

पेपर क्र. - 33

1 - 4

2 - 2

3 - 1

1. Select the most appropriate option to fill in the blank.

Virat plays well, ____ he?

- (1) isn't (2) don't (3) aren't (4) doesn't

2. Select the most appropriate question tag to fill in the blank.

None of us have gone to the garden, ____?

- (1) have we (2) will we
(3) haven't we (4) did we

3. Select the option that expresses the given sentence in passive voice.

When Bella was young, her uncle looked after her.

- (1) Whenever Bella was young, uncle was looked after.
(2) When Bella was young, she was looked after by her uncle.
(3) Bella was young when her uncle was looking after her.
(4) When uncle was young, Bella looked after him.

4. Select the most appropriate ANTONYM of the given word.

Dormant

- (1) Active (2) Abrupt
(3) Shallow (4) Rough

5. Identify the spelling errors in the following sentence and select the correctly spelt sentence from the given options.

A new definition of adolescent has also been introduced to prohebit the employment of tenegers aged between 14 and 18 in hajardous jobs, a government statement said.

- (1) A new definition of adolescent has also been introduced to prohebit the employment of

teenegers aged between 14 and 18 in hazerdous jobs, a government statement said

- (2) A new definition of adolascnt has also been introduced to prohibit the employment of tenagers aged between 14 and 18 in hajardous jobs, a government statement said
(3) A new definetion of adolescent has also been introduced to prohibit the employment of teenageers aged between 14 and 18 in hazardus jobs, a government statement said
(4) A new definition of adolescent has also been introduced to prohibit the employment of teenagers aged between 14 and 18 in hazardous jobs, a government statement said

6. The following sentence has been split into four segments. Identify the segment that contains a grammatical error.

This news were / broadcasted / all over the world / from CBC Radio.

- (1) all over the world (2) from CBC Radio
(3) The news were (4) broadcasted

7. Select the most appropriate ANTONYM of the underlined word.

The dowry system was abolished around the mid-17th century in India.

- (1) reserved (2) retained
(3) reviewed (4) rebuked

8. Select the most appropriate option to fill in the blank.

That purple covered book on the shelf ____ very interesting.

- (1) was being (2) were been
(3) is (4) have been

19. Parts of the given sentence have been underlined. One of them contains an error. The underlined parts are given as options with some changes. Select the option that correctly rectifies the error.

By the time we had arrived at the metro station, the train had left.

- (1) the train leaving (2) we arrived
(3) train left (4) By time

20. Select the most appropriate preposition to fill in the blank.

In spite of being warned, Tamara insisted _____ meeting the conman.

- (1) on (2) for (3) from (4) to

21. Select the most appropriate article to fill in the blank.

She is _____ tallest student in the class

- (1) No article required (2) a
(3) an (4) the

22. Select the most appropriate option to fill in the blank and make a grammatically correct sentence.

Mohan _____ join the army next month.

- (1) would (2) would go
(3) will be (4) will

23. Select the most appropriate article to fill in the blank.

She is studying in _____ university fifty miles away from her home.

- (1) a (2) No article required
(3) an (4) the

24. Select the most appropriate meaning of the given proverb.

An empty vessel makes much noise.

- (1) Stupid people speak the loudest.
(2) All the utensils should be kept together.
(3) Vessels must not be kept empty.
(4) Hungry people lose their temper easily.

25. Select the option that expresses the given sentence in passive voice.

It is time to knock the door.

- (1) It is time for the door to knock.
(2) It is time the door knocks.
(3) It is being time to knock the door.
(4) It is time for the door to be knocked.

35

Date - 20/08/2023

वेळ : 04 : 30 PM - 06 : 30 PM

1. Select the most appropriate meaning of the given proverb.

A sleeping fox catches no poultry.

- (1) All foolish persons skas / they were very wise.
(2) A man who is careless and unvigilant gains nothing.
(3) A simple and Innocent man is eassily decahved.
(4) People who are newly appointed perform well, but soon they become negligent.

2. Select the most appropriate option to fill in the blank.

The train at 8 o'clock in the evening.

- (1) will have been arrived
(2) ought to have arrive
(3) arriving (4) arrives

3. Select the most appropriate ANTONYM of the given word. Precise

- (1) Inexact (2) Limited
(3) Uncommon (4) Narrow

4. The given sentence contains an error. Select the option that correctly rectifies the error.

We must be visiting the new Parliament House tomorrow, with prior permission of the authority.

- (1) will have been visiting the new Parliament House
(2) shall be visiting the new Parliament House
(3) can be visiting the new Parliament House
(4) should be visiting the new Parliament House

पेपर क्र. - 34	19 - 2	20 - 1	21 - 4	22 - 4	23 - 1	24 - 1	25 - 4				
पेपर क्र. - 35	1 - 2	2 - 4	3 - 1	4 - 2							

19. Select the most appropriate option to fill in the blank.

..... boy in the pink shirt is my cousin.

- (1) An (2) A
(3) The (4) No article required

20. Parts of the following sentence have been given as options. Select the option that contains an error.

These nomads live where they could find food to support their families.

- (1) could find food (2) where they
(3) These nomads live (4) to support their families.

21. Select the most appropriate meaning of the given idiom. **A leopard doesn't change its spots.**

- (1) People can't change the people around them.
(2) People can't change their fate and destiny.
(3) People can't change their circumstances.
(4) People can't change their innate character.

22. Select the most appropriate synonym of the given word. **Enchanted**

- (1) Interrupted (2) Appreciated
(3) Fascinated (4) Influenced

23. Select the most appropriate meaning of the given idiom. **Under the weather**

- (1) Feeling ill (2) Giving money
(3) Getting tired (4) Talking more

24. Select the option that expresses the given sentence in passive voice.

The acclaimed filmmaker produced the film.

- (1) The film was produced by the filmmaker.
(2) The film was produced by the acclaimed filmmaker.
(3) The acclaimed filmmaker was producing the film.
(4) The film has been produced by the acclaimed filmmaker.

25. Select the most appropriate question tag to fill in the blank. **He doesn't speak Dutch,**

- (1) he does? (2) he did?
(3) did he? (4) does he?

1. Select the option that expresses the given sentence in passive voice e **The forest fire has destroyed a large area of the Aravali forest.**

- (1) A big area of the Aravali forest had been destroyed.
(2) A large area of the Aravali forest is destroyed by the forest fire
(3) The Arval forest has destroyed a large area of the forest fire.
(4) A large area of the Aravali forest has been destroyed by the forest fire.

2. Select the most appropriate option to fill in the blank.

You are driving ____ slow to reach there on time.

- (1) hardly (2) too (3) more (4) enough

3. Select the most appropriate article to fill in the blank.

Can you see ____ aeroplane standing on the runway at the airport?

- (1) the (2) No article required
(3) an (4) a

4. Select the most appropriate synonym of the given word.

Mundane

- (1) Timid (2) Greedy (3) Honest (4) Ordinary

5. Select the most appropriate question tag to fill in the blank.

No more sugar is needed, ____

- (1) it is? (2) do you? (3) is it? (4) sure?

6. Select the most appropriate article to fill in the blank.

Can you give me ____ piece of cake?

- (1) the (2) No article required
(3) an (4) a

पेपर क्र. - 35	19 - 3	20 - 1	21 - 4	22 - 3	23 - 1	24 - 2	25 - 4				
पेपर क्र. - 36	1 - 4	2 - 2	3 - 1	4 - 4	5 - 3	6 - 4					

18. Select the option that expresses the given sentence in passive voice.

My mother reads the novel.

- (1) The novel reads my mother.
- (2) The novel is been read by my mother.
- (3) The novel was read by my mother.
- (4) The novel is read by my mother.

19. Select the most appropriate punctuation mark to fill in the blank.

Hardy ____ s Jude the Obscure was banned when it was published.

- (1) , (comma)
- (2) ' (Apostrophe)
- (3) : (Colon)
- (4) " "(Inverted commas)

20. Select the most appropriate meaning of the given proverb.

Blood is thicker than water.

- (1) Faithful connections are always more important than other types of relationships.
- (2) Friendship connections are always more important than other types of relationships.
- (3) Connections with colleagues are always more important than other types of relationships.
- (4) Family connections are always more important than other types of relationships.

21. Select the most appropriate synonym of the given word.

Wander

- (1) Tremble
- (2) Dismiss
- (3) Roam
- (4) Abuse

22. Select the INCORRECTLY spelt word in the given sentence.

At a time when people harass one another for hierarchy, there are few known to be hospitable and generos.

- (1) generos
- (2) harass
- (3) hierarchy
- (4) hospitable

23. Select the INCORRECTLY spelt word and correct it.

Writing is considered to be one of the most challenging, demanding, and lucrative careers in the world.

- (1) luccrative
- (2) lucrative
- (3) lubricative
- (4) loocrative

24. Select the most appropriate meaning of the given idiom.

Cut corners

- (1) To do something in the easiest, cheapest or fastest way
- (2) To do something in the complex or complicated way
- (3) To do something in an ambiguous way
- (4) To do something in the hardest way

25. Select the most appropriate past tense form of the verb 'shoot to fill in the blank.

The sale of N-95 masks ____ to an astonishing figure of 50 lakhs in the state.

- (1) shooted up
- (2) will be shooting up
- (3) is shooting up
- (4) shot up

37

Date - 21/08/2023

वेळ : 12 : 30 PM - 02 : 30 PM

1. Select the most appropriate option to fill in the blanks.

All disciples of hermit had gathered outside the hermitage.

- (1) a; the
- (2) the; a
- (3) the; the
- (4) a; a

2. Select the most appropriate meaning of the given proverb.

Don't count your chickens before they hatch.

- (1) Don't be too optimistic about the future.
- (2) Don't count your money.
- (3) Don't count your blessings.
- (4) Don't be too pessimistic about the future.

पेपर क्र. - 36	18 - 4	19 - 2	20 - 4	21 - 3	22 - 1	23 - 2	24 - 1	25 - 4			
पेपर क्र. - 37	1 - 3	2 - 1									

1. Select the most appropriate question tag to fill in the blank.

We're having a great time,?

- (1) aren't we (2) won't we
(3) couldn't we (4) don't we

2. The following sentence has been split into four segments. Identify the segment that contains a grammatical error.

My teacher told me that she was regularly monitor my progress in academics.

- (1) monitor my progress
(2) in academics
(3) My teacher told me
(4) that she was regularly

3. Select the most appropriate ANTONYM of the underlined word.

His boss accused him of swindling the money.

- (1) defamed (2) dedicated
(3) deceased (4) defended

4. Select the most appropriate punctuation mark to fill in the blank.

They haven't visited you in your new home have they?

- (1) ? (question mark) (2) . (full stop)
(3) ; (semi-colon) (4) , (comma)

5. Select the most appropriate article to fill in the blank.

This is pen that my mother gifted me on my birthday.

- (1) a (2) No article required
(3) the (4) an

6. Select the most appropriate meaning of the given proverb.

Barking dogs seldom bite.

- (1) Little persons are commonly passionate.
(2) People who threaten a great deal, seldom put their threats in practice.

- (3) Persons of the same character generally associated together.

- (4) People who are reduced to extreme circumstances will resort to most unlikely means.

7. Select the most appropriate article to fill in the blank.

Please change torn two hundred rupee note.

- (1) a (2) an
(3) the (4) No article required

8. Select the most appropriate option to fill in the blank.

Suraj made a argument against merciless killing in any warfare.

- (1) victorious (2) conquering
(3) compelling (4) stifling

9. Select the sentence with the correct punctuation to convey the right meaning:

The astrologer said you were left for dead. Am I right?

- (1) The astrologer said, You were left for dead. Am I right?
(2) The astrologer said "You were left for dead. Am I right?"
(3) The astrologer said, "You were left for dead. Am I right?"
(4) The astrologer said; "You were left for dead." Am I right?

10. Select the most appropriate option to fill in the blank.

But the law can only protect us material attack.

- (1) in (2) against
(3) with (4) on

11. The following sentence has been split into four

पेपर क्र. - 38	1 - 1	2 - 4	3 - 4	4 - 4	5 - 3	6 - 2	7 - 3	8 - 3	9 - 3	10 - 2	
----------------	-------	-------	-------	-------	-------	-------	-------	-------	-------	--------	--

the underlined segment in the given sentence.

As climate change became an urgent concern, governments and organisations worldwide are intensifying efforts to mitigate its effects.

- (1) has become an urgent
- (2) becomes an urgent
- (3) becoming an urgent
- (4) are becoming an urgent

23. Select the most appropriate option to fill in the blank.

You went to college, you?

- (1) wouldn't
- (2) aren't
- (3) didn't
- (4) haven't

24. Select the option that expresses the given sentence in passive voice.

Suraj and his sister Namrata brought these fresh flowers.

- (1) These fresh flowers were been brought by Suraj and his sister Namrata.
- (2) These fresh flowers are been brought by Suraj and his sister Namrata.
- (3) These fresh flowers had been brought by Suraj and his sister Namrata.
- (4) These fresh flowers have been brought by Suraj and his sister Namrata.

25. The given sentence has an error. Select the option which rectifies the error.

I made him promise that he wouldn't tell anybody what happen.

- (1) make him promise that
- (2) what happened
- (3) wouldn't have told
- (4) made him promised that

39

Date - 22/08/2023

वेळ : 9 : 00 AM - 11 : 00 AM

1. Select the option with the correct spelling to replace the underlined word in the given sentence.

Jack slept out of the doors, Prefering open air to the air-conditioner.

- (1) preffering
- (2) preteering
- (3) preferring
- (4) prefereing

2. Select the most appropriate ANTONYM of the given word. Baffle

- (1) Encourage
- (2) Happy
- (3) Ignorance
- (4) Smooth

3. Select the most appropriate meaning of the given idiom. Take it with a pinch of salt

- (1) A perfect combination
- (2) To be really really good
- (3) Don't take it uncritically not to take too seriously or too literally
- (4) To be indecisive

4. Select the most appropriate option to fill in the blank.

Widespread use of nonstop automated systems to communicate and an increase in shift work for sleeping at regular times difficult.

- (1) Causing
- (2) Makes
- (3) Cause
- (4) create

5. The following sentence has been split into four segments. Identify the segment that contains a grammatical error.

There goes Mrs. Goswami/ and her smiling kids/ in the pram/across the road.

- (1) and her smiling little kids
- (2) in the pram
- (3) across the road
- (4) There goes Mrs. Goswami

पेपर क्र. - 38	22 - 2	23 - 3	24 - 4	25 - 2										
पेपर क्र. - 39	1 - 3	2 - 1	3 - 3	4 - 2	5 - 4									

18. Select the most appropriate option that can substitute the underlined segment in the given sentence and convert the sentence into future indefinite tense.

The astrologer reached home around midnight tomorrow.

- (1) will reach home (2) will be reached home
(3) will have reach home (4) will reaching home

19. Select the most appropriate meaning of the given idiom. Get the lion's share

- (1) Easy to do
(2) Grabbing the attention
(3) The largest part of something
(4) Something expensive

20. Part of the given sentence that has been underlined contains an error. Select the option that correctly rectifies the error.

I am knowing him since 2014.

- (1) I was knowing (2) I had known
(3) I knows (4) I have known him

21. Select the most appropriate ANTONYM of the underlined word.

Many students were absent due to heavy rain.

- (1) prevent (2) predate
(3) pretend (4) present

22. Select the most appropriate option to fill in the blank. Mary could not get butter.

- (1) no (2) several (3) any (4) whole

23. Select the most appropriate option to fill in the blank.

The teacher asked the monitor to divide the class groups for the activity.

- (1) in (2) for (3) into (4) on

24. Identify the error in the following sentence:

Tuhin rushed out the medical store as soon as he could.

- (1) buying (2) out (3) rushed (4) the

25. Select the option that expresses the given sentence in passive voice.

The nature lover will photograph the flowers and the plants.

- (1) The flowers and the plants will be photographs by the nature lover.
(2) The flowers and the plants will be photograph by the nature lover.
(3) The flowers and the plants will be taken photos by the nature lover.
(4) The flowers and the plants will be photographed by the nature lover.

40

Date - 14/09/2023

वेळ : 9 : 00 AM - 11 : 00 AM

1. Read the following statement and fill in the gaps using correct question tags.

Rakesh is singing, ?

- (1) Wasn't she (2) Doesn't he
(3) Can't she (4) isn't he

2. Select the correct punctuation from the below options to complete the below sentence.

Ravi said I met my father last Sunday

- (1) Ravi said, I met my father, last Sunday?
(2) "Ravi said- I met my father last Sunday"
(3) Ravi said; I met my father last Sunday!
(4) Ravi said, "I met my father last Sunday."

3. Choose the correct option from below that spells the word in bold correctly:

The importance of scientific research can be traced back to the ancient times when medicine was in its early stages, and major operations were similar to death warants.

- (1) warrannts (2) waraants
(3) warrants (4) warants

पेपर क्र. - 39	18 - 1	19 - 3	20 - 4	21 - 4	22 - 3	23 - 3	24 - 2	25 - 4			
पेपर क्र. - 40	1 - 4	2 - 4	3 - 3								

1. Select the most appropriate meaning of the ghren Idiom,
To bite off more than you can chew
- (1) Thinking before doing
 - (2) Trying to do something too difficult
 - (3) Easy options
 - (4) Unpleasant actions
-
2. Select the most appropriate option that can substitute the underlined segment in the given sentence.
The company has consistently being outperforming its competitors in the market for the past five quarters.
- (1) was consistently
 - (2) is consistently being
 - (3) had consistently
 - (4) has consistently been
-
3. Select the most appropriate question tag to fill in the blank.
Elvis shouldn't be so busy,
- (1) shall he
 - (2) must he
 - (3) should he
 - (4) shan't he
-
4. Select the most appropriate article to fill in the blank.
Did you receive email from the office today?
- (1) No article required
 - (2) a
 - (3) the
 - (4) an
-
5. Select the most appropriate option to fill in the blank.
My sister's organisation has increased its high charges and changed policies.
- (1) rapaciously
 - (2) priggishly
 - (3) gluttonously
 - (4) cogently
-
6. Parts of the given sentence have been underlined. One of them contains an error. The underlined parts are given as options with some changes. Select the option that correctly rectifies the error.
The class teacher have to be holding a debate competition on 7 June 2023 to screen participants for the inter-state level competition.
- (1) can be holding a debate competition
 - (2) is holding a debate competition
 - (3) to be screening the participants
 - (4) to have screened the participants
-
7. Select the most appropriate option to fill in the blank.
My house is situated near the river.
- (1) grandparent's
 - (2) grandparent-s
 - (3) grandparents'
 - (4) grandparents's
-
8. Select the most appropriate option to fill in the blank.
Mr. Bhimsen is MP from the state of Sikkim.
- (1) an
 - (2) the
 - (3) a
 - (4) No article
-
9. Select the INCORRECTLY spelt word in the following sentence.
The artist used a pallete of bright colours to create her masterpiece.
- (1) artist
 - (2) bright
 - (3) masterpiece
 - (4) pallete
-
10. Select the most appropriate option to fill in the blank.
There are people in the park today.
- (1) much
 - (2) many
 - (3) most
 - (4) more

20. Select the option that expresses the given sentence in passive voice.

The skilled engineers constructed the building.

- (1) The skilled engineers were constructing the building.
- (2) The building was constructed by the skilled engineers.
- (3) The building was being constructed by the skilled engineers.
- (4) The building was constructed by the engineers.

21. Select the most appropriate question tag to fill in the blank.

The audience has given its opinion,

- (1) hasn't it
- (2) didn't they?
- (3) isn't it?
- (4) aren't they?

22. Select the most appropriate option to fill in the blank.

As the sun over the horizon, the birds chirp their final songs of the day and the crickets begin their nightly symphony.

- (1) settling
- (2) being settled
- (3) has set
- (4) sets

23. Select the most appropriate option to fill in the blank.

Moreover we are currently running out of fuel at the moment.

- (1) . (Full stop)
- (2) ? (Question mark)
- (3) , (Comma)
- (4) ! (Exclamation mark)

24. Select the most appropriate ANTONYM of the given word.

Illicit

- (1) Practical
- (2) Wicked
- (3) Prolific
- (4) Ethical

25. Select the most appropriate ANTONYM of the given word.

Overbearing

- (1) Selfish
- (2) Greedy
- (3) Humble
- (4) Candid

1. Select the most appropriate meaning of the given idiom.

Don't cast pearls before swine.

- (1) Don't offer something valuable to someone who does not value it.
- (2) Don't make plans based on future events that may not happen.
- (3) Don't unnecessarily worry about a situation in advance.
- (4) Don't act badly toward the person who has helped you.

2. Select the most appropriate articles to fill in the blanks (indicates no article needed).

He plays harmonium very well, but not guitar.

- (1) the; the
- (2) the; Ø
- (3) Ø ; Ø
- (4) Ø ; the

3. Select the most appropriate option to fill in the blank.

After surgery, Amrit lost his appetite.

- (1) voracious
- (2) swinish
- (3) favourable
- (4) haggishuge

4. The following sentence has been split into four segments. Identify the segment that contains a grammatical error.

She is going to the gym everyday/with her husband / and her elder son / to be fit.

- (1) with her husband
- (2) She is going to the gym everyday
- (3) and her elder son
- (4) to be fit

पेपर क्र. - 41	20 - 2	21 - 1	22 - 4	23 - 3	24 - 4	25 - 3					
पेपर क्र. - 42	1 - 1	2 - 1	3 - 1	4 - 2							

24. Select the most appropriate option to fill in the blank.

I was relieved to see that my long absence in the job was handled by my boss.

- (1) aggressively (2) badly
(3) craftily (4) timidly

25. Select the most appropriate option that can substitute the underlined segment in the given sentence.

As technology has evolved at a rapid pace, businesses must constantly adapt and stay ahead of the curve to remain relevant.

- (1) has evolve (2) evolves
(3) is being evolve (4) evolved

43

Date - 26/08/2023

वेळ : 09 : 00 AM - 11 : 00 AM

1. Select the most appropriate option for the given blank.

I have heard you now I want to sleep.

- (1) most (2) enough
(3) so (4) too

2. Identify the most appropriate meaning of the given idiom/phrase.

Handle someone with kid gloves

- (1) To make someone's possessions your own
(2) To be very polite or kind to someone
(3) To flatter someone
(4) To rebuke someone mercilessly

3. Choose the most appropriate synonym of the given word.

Lush

- (1) Bleak (2) Leafy
(3) Stark (4) Sparse

4. Select the most appropriate option for the given blank.

I this holiday with you since you became a

doctor.

- (1) were planning (2) have been planning
(3) had planned (4) would be planning

5. Find the part of the sentence that has a grammatical error.

I will be counting my last days when he will move here next month.

- (1) here next month (2) when he will move
(3) I will be counting (4) my last days

6. Select the most appropriate option for the given blank.

Jia and Kim were planning a holiday,?

- (1) didn't she (2) was she
(3) haven't them (4) weren't they

7. Find the part of the sentence that has a grammatical error.

I had combing my sister's hair when she came with the bad news.

- (1) sister's hair when (2) I had combing my
(3) she came (4) with the bad news

8. Select the most appropriate option for the given blank.

The pungent salts snapped her out of the in-between place.

- (1) smell (2) smelt
(3) smells of (4) smelling

9. Choose the most appropriate antonym of the given word.

Blight

- (1) Blot (2) Abnormality
(3) Mangle (4) Decoration

10. Select the option that uses the correct punctuation marks for the given sentence.

When we buy a house, we make one of the most significant investments of our

- (1) lives". says Adam (2) lives", says Adam.
(3) lives', says Adam. (4) lives, "says Adam.

पेपर क्र. - 42	24 - 3	25 - 2									
पेपर क्र. - 43	1 - 2	2 - 2	3 - 2	4 - 2	5 - 2	6 - 4	7 - 2	8 - 4	9 - 4	10 - 2	

23. Select the correct passive form of the given sentence.

Do they manufacture these machines in Spain?

- (1) Were these machines manufactured in Spain?
 (2) Are these machines get manufacture in Spain?
 (3) Are these machines manufactured in Spain?
 (4) Are these machines manufacturing in Spain?

24. Select the most appropriate option for the given blank.

The university is one of largest in the country.

- (1) an (2) No article
 (3) a (4) the

25. Find the part of the sentence that has a grammatical error.

I had let so much gas out of my balloon that I cannot rise again.

- (1) I had let so much (2) my balloon that
 (3) gas out of (4) I cannot rise again

44

Date - 26/08/2023

वेळ : 12 : 30 PM - 02 : 30 PM

1. Select the option that uses the correct punctuation marks for the given sentence.

..... won the last match.

- (1) Hurray, we (2) Hurray! We
 (3) Hurray! We, (4) Hurray. We.

2. Choose the most appropriate synonym of the given word.

Impair

- (1) Ventilate (2) Enrich
 (3) Weaken (4) Mend

3. Identify the most appropriate meaning of the given idiom/phrase.

Break one's neck

- (1) To give all the earnings in charity
 (2) To work very hard to accomplish something

(3) To strangle someone

(4) To win by unfair means

4. Choose the most appropriate antonym of the given word. - Churl

- (1) Brute (2) Lout (3) Profligate (4) Niggard

5. Select the most appropriate option for the given blank.

I think you need to give me explanation.

- (1) a (2) No article
 (3) an (4) the

6. Identify the most appropriate meaning of the given idiom/phrase.

Make merry

- (1) To create a chaos (2) To resign from a duty
 (3) To have fun (4) To mock someone

7. Select the sentence with no spelling error.

- (1) We are already in the middle of all the extremes.
 (2) We are already in the middle of all the extrimes.
 (3) We are already in the midle of all the extremes.
 (4) We are allready in the middle of all the extremes.

8. Select the most appropriate option for the given blank.

..... twelve years old, Ken was almost as tall as he was.

- (1) At (2) With (3) In (4) On

9. Find the part of the sentence that has a grammatical error.

Yesterday morning I had gone to the mall but didn't buy anything.

- (1) mall but (2) I had gone to the
 (3) Yesterday morning (4) didn't buy anything

10. Select the most appropriate option for the given blank.

You like to go out for a walk, ?

- (1) does you (2) didn't you
 (3) is you (4) don't you

पेपर क्र. - 43	23 - 3	24 - 4	25 - 4								
पेपर क्र. - 44	1 - 2	2 - 3	3 - 2	4 - 4	5 - 3	6 - 3	7 - 1	8 - 1	9 - 2	10 - 4	

22. Select the most appropriate option for the given blank.

I have not been feeling very well

- (1) latest (2) later
(3) lately (4) latter

23. Select the correct active form of the given sentence.

His pocketbook must have been stolen.

- (1) Somebody must have stolen his pocketbook.
(2) Let us steal his pocketbook.
(3) They have stolen his pocketbook.
(4) You stole his pocketbook.

24. Select the most appropriate option for the given blank.

Tina has not informed everyone about your arrival, ?

- (1) has she (2) hadn't she
(3) will she (4) did her

25. Select the INCORRECTLY spelt word.

- (1) Criticism (2) Gague
(3) Locker (4) Abate

45

Date - 26/08/2023

वेळ : 04 : 30 PM - 06 : 30 PM

1. Choose the most appropriate antonym of the given word.

Recapitulate

- (1) Condense (2) Downsize
(3) Supplement (4) Encapsulate

2. Select the most appropriate option for the given blank.

I am tired for this adventurous game right now.

- (1) enough (2) too
(3) some (4) few

3. Select the correct passive form of the given sentence.

How will you fix her problems?

- (1) Her problems will be fixed but how?
(2) Her problems how will be fixed?
(3) How her problems will be fixed by you?
(4) How her problems would be fixed by you?

4. Choose the most appropriate synonym of the given word.

Smear

- (1) Vision (2) Venerate
(3) Befoul (4) Exalt

5. Select the most appropriate option for the given blank.

You have been avoiding me,?

- (1) did you (2) isn't you
(3) haven't you (4) are you

6. Choose the most appropriate synonym of the given word.

Brilliance

- (1) Benign (2) Hazy
(3) Calumny (4) Glow

7. Select the most appropriate option for the given blank.

..... Mahatma Gandhi was one of the strongest leaders of his time.

- (1) No article (2) A
(3) The (4) An

8. Select the most appropriate option for the given blank.

What do you do at home this holiday?

- (1) on (2) at
(3) to (4) in

9. Find the part of the sentence that has a grammatical error.

As kids, my sister and I have been always playing with our dolls.

- (1) with our dolls
(2) As kids, my sister
(3) have been always playing
(4) and I

पेपर क्र. - 44

22 - 3

23 - 1

24 - 1

25 - 2

पेपर क्र. - 45

1 - 3

2 - 2

3 - 3

4 - 3

5 - 3

6 - 4

7 - 1

8 - 1

9 - 3

23. Select the sentence with no spelling error.

- (1) He will graciously refrain from saying so.
- (2) He will graciuosly refrain from saying so.
- (3) He will graciously refrain from saing so.
- (4) He will graciously refrain from saying so.

24. Identify the most appropriate meaning of the given idiom/phrase.

A hard row to hoe

- (1) A smart and intelligent person
- (2) A difficult situation to deal with
- (3) A quixotic plan
- (4) A person who betrays

25. Select the most appropriate option for the given blank.

..... two bishops are rivals involved in court intrigue to varying extents.

- (1) The (2) A
- (3) No article (4) An

46

Date - 27/08/2023

वेळ : 09 : 00 AM - 11 : 00 AM

1. Select the option with the correct spelling to replace the underlined word in the given sentence.

Jack slept out of the doors, preffering open air to the air-conditioner.

- (1) preffering (2) preteering
- (3) preferring (4) prefereing

2. Select the most appropriate ANTONYM of the given word. Baffle

- (1) Encourage (2) Happy
- (3) Ignorance (4) Smooth

3. Select the most appropriate meaning of the given idiom. Take it with a pinch of salt

- (1) A perfect combination
- (2) To be really really good
- (3) Don't take it uncritically not to take too seriously or too literally

- (4) To be indecisive

4. Select the most appropriate option to fill in the blank.

Widespread use of nonstop automated systems to communicate and an increase in shift work _____ for sleeping at regular times difficult.

- (1) Causing (2) Makes
- (3) Cause (4) create

5. The following sentence has been split into four segments. Identify the segment that contains a grammatical error.

There goes Mrs. Goswami / and her smiling little kids / in the pram / across the road.

- (1) and her smiling little kids
- (2) in the pram
- (3) across the road
- (4) There goes Mrs. Goswami

6. Select the option that expresses the given sentence in active voice.

The doctor's instructions ought to be followed carefully.

- (1) You ought to follow the doctor's instructions carefully.
- (2) It is ought to follow the doctor's instructions carefully.
- (3) Ought they follow the doctor's instructions carefully?
- (4) Carefully doctor's instruction ought to be followed.

7. Select the most appropriate question tag to fill in the blank. That's Phoebe's new car, _____?

- (1) isn't that (2) weren't that
- (3) isn't it (4) wasn't that

8. Complete the sentence using the most suitable form of the verb 'meet'.

A : What are you doing today?

B : Nothing much

पेपर क्र. - 45	23 - 4	24 - 2	25 - 1											
पेपर क्र. - 46	1 - 3	2 - 1	3 - 3	4 - 2	5 - 4	6 - 1	7 - 3							

21. Select the most appropriate ANTONYM of the underlined word.

Many students were absent due to heavy rain.

- (1) prevent (2) predate
(3) pretend (4) present

22. Select the most appropriate option to fill in the blank. Mary could not get ____ butter.

- (1) no (2) several
(3) any (4) whole

23. Select the most appropriate option to fill in the blank.

The teacher asked the monitor to divide the class ____ groups for the activity.

- (1) in (2) for
(3) into (4) on

24. Identify the error in the following sentence :

Tuhin rushed out the medical store as soon as he could.

- (1) buying (2) out
(3) rushed (4) the

25. Select the option that expresses the given sentence in passive voice.

The nature lover will photograph the flowers and the plants.

- (1) The flowers and the plants will be photographs by the nature lover.
(2) The flowers and the plants will be photograph by the nature lover.
(3) The flowers and the plants will be taken photos by the nature lover.
(4) The flowers and the plants will be photographed by the nature lover.

47

Date - 27/08/2023

वेळ : 12 : 30 AM - 02 : 30 AM

1. Identify the error in the following sentence.

To get rest, Sarup does not work in Sundays.

- (1) not (2) to (3) in (4) get

2. Select the most appropriate option to fill in the blank.

The Prime Minister, a great. ____ impressed the audience.

- (1) orator: (2) orator, (3) Orator (4) orator;

3. Select the appropriate meaning of the given word.

Forbidden

- (1) Authorised (2) Prohibited
(3) Forlorn (4) Exclusive

4. Select the option that expresses the given sentence in passive voice. He knows me,

- (1) I have been known by him.
(2) I am know by him.
(3) I was known to him. (4) I am known to him.

5. Select the INCORRECTLY spelt word in the given sentence.

Tell me your favourite dessert between chocolate cake and jelly douhnut.

- (1) Chocolate (2) Dessert
(3) Douhnut (4) Between

6. Select the most appropriate question tag to fill in the blank.

Even when we were living in the same city, you hardly visited us, ____

- (1) you do? (2) you did?
(3) do you? (4) did you?

7. Select the most appropriate preposition to fill in the blank. The host opened the door and admitted the drama troupe ____ the palatial bungalow.

- (1) towards (2) across
(3) with (4) into

पेपर क्र. - 46	21 - 4	22 - 3	23 - 3	24 - 2	25 - 4						
पेपर क्र. - 47	1 - 3	2 - 2	3 - 2	4 - 4	5 - 3	6 - 4	7 - 4				

19. Select the most appropriate ANTONYM of the given word. Malicious

- (1) Powerful (2) Altruistic
(3) Beautiful (4) Benevolent

20. Select the most appropriate option to fill in the blank.

The author ____ several best-selling novels.

- (1) have written (2) has written
(3) had been written (4) will write

21. Select the option that expresses the given sentence in passive voice.

The famous musician composed the song.

- (1) The famous musician was composing the song.
(2) The song was composed by the musician.
(3) The song was being composed by the famous musician.
(4) The song was composed by the famous musician.

22. Select the most appropriate option to fill in the blanks.

What is the difference between ____ artificial network and ____ conventional network?

- (1) a; an (2) an; the (3) the; a (4) an; a

23. Select the option with the correct spelling to replace the underlined word in the given sentence.

The owner of this store is an old acquaintance of her.

- (1) acquaintance (2) acquaintace
(3) acqueintance (4) accquaintance

24. Select the most appropriate meaning of the given idiom. On pins and needles

- (1) Readiness to accept the inevitable
(2) In an agitated state of suspense
(3) In an ecstatic condition
(4) Wholesome entertainment

25. Select the most appropriate option to fill in the blank. The ____ city in the world is Tokyo,

- (1) most populous
(2) populous
(3) populousness little populous
(4) more populous

48

Date - 27/08/2023

वेळ : 04 : 30 AM - 06 : 30 AM

1. Select the most appropriate option for the given blank.

For the most part, he was far fashionable a person.

- (1) Enough (2) Too (3) Some (4) So

2. Select the option that uses the correct punctuation marks for the given sentence.

..... she exclaimed, sharply.

- (1) "You" (2) You? (3) "You! (4) "You!"

3. Identify the most appropriate meaning of the given idiom/phrase.

Knock on wood

- (1) Said in order to avoid bad luck
(2) Bang someone's head
(3) To bring harm to someone
(4) State something obvious

4. Select the most appropriate option for the given blank.

Today I tried to make potato salad; needless to say, it didn't go well.

- (1) Many (2) Too (3) Much (4) Very

5. Select the INCORRECTLY spelt word.

- (1) Nostlagic (2) Professor
(3) Mantle (4) Trimmed

6. Choose the most appropriate antonym of the given word.

Oblivious

- (1) Incognizant (2) Heedless
(3) Nescient (4) Conversant

पेपर क्र. - 47	19 - 4	20 - 2	21 - 4	22 - 4	23 - 1	24 - 2	25 - 1				
पेपर क्र. - 48	1 - 2	2 - 4	3 - 1	4 - 2	5 - 1	6 - 4					

19. Choose the most appropriate synonym of the given word.

Brisk

- (1) Weary (2) Tedious
(3) Dead (4) Lively

20. Identify the most appropriate meaning of the given idiom/phrase.

Drive someone up the wall

- (1) To care for someone a lot
(2) To restrict someone's movement
(3) To make someone extremely angry
(4) To obtain a large amount of money suddenly

21. Select the sentence with no spelling error.

- (1) I am not taking about some rich, secret, powerful indiidual.
(2) I am not talking about some rich, secret, powerfull individual.
(3) I am not talking about some rich, secret, powerful individual.
(4) I am not talking about some rich, secrat, powerful individual.

22. Select the most appropriate option for the given blank.

They did not the trades which made a loud noise.

- (1) have permitted (2) Permits
(3) Permitted (4) Permit

23. Find the part of the sentence that has a grammatical error.

The citizens of the area longed on rain, which is natural when it is so terribly dry year-round.

- (1) which is natural when it is
(2) longed on rain
(3) The citizens of the area
(4) so terribly dry year-round

24. Find the part of the sentence that has a grammatical error.

I have nothing to sell, you seen, and I am in a hurry.

- (1) you seen (2) I have
(3) and I am in a hurry (4) nothing to sell

25. Select the most appropriate option for the given blank.

She is a medical officer,?

- (1) isn't she (2) do she
(3) is she (4) isn't her

49

Date - 28/08/2023

वेळ : 09 : 00 AM - 11 : 00 AM

1. Choose the most appropriate synonym of the given word.

Heedless

- (1) Safe (2) Vigilant
(3) Negligent (4) Wary

2. Choose the most appropriate synonym of the given word.

Infamous

- (1) Immoral (2) Noble
(3) Seemly (4) Ethical

3. Select the most appropriate option for the given blank.

They did buy gold cups for about half the price of the metal.

- (1) a few (2) any
(3) little (4) much

4. Select the most appropriate option for the given blank.

You won't tell everyone about this crime,?

- (1) will not you (2) are you
(3) will you (4) should you

5. Find the part of the sentence that has a grammatical error.

In the elevated stage stands a barker dressed in clown style, red pin-stripe pants.

- (1) In the elevated stage
(2) dressed in
(3) stands a barker
(4) clown style, red pin-stripe pants

पेपर क्र. - 48	19 - 4	20 - 3	21 - 3	22 - 4	23 - 2	24 - 1	25 - 1				
पेपर क्र. - 49	1 - 3	2 - 1	3 - 1	4 - 3	5 - 1						

19. Identify the most appropriate meaning of the given idiom/phrase.

Put a sock in it

- (1) To tell someone to stop talking
- (2) To make someone extremely angry
- (3) To beat someone
- (4) To lock someone in a room

20. Select the correct passive form of the given sentence.

Monika squandered all her money.

- (1) All her money is being squandered by Monika.
- (2) All her money was squandered by Monika.
- (3) All her money was being squandered by Monika.
- (4) All her money is squandered by Monika.

21. Select the most appropriate option for the given blank.

It was pouring that day,

- (1) wasn't it (2) is it
- (3) hadn't it (4) did it

22. Select the most appropriate option for the given blank.

He applied to various universities including Stanford.

- (1) the (2) No article (3) a (4) an

23. Select the sentence with no spelling error.

- (1) I never experienced these feelings of self-misturst.
- (2) I never experienced these feelings of self-mistrust.
- (3) I never experienced these felings of self-mistrust.
- (4) I never expereinced these feelings of self-mistrust.

24. Select the most appropriate option for the given blank.

It is now important to note that Peter's influence over those millions of people a shallow venture.

- (1) would not been (2) had not

- (3) hasn't been (4) had not been

25. Select the option that uses the correct punctuation marks for the given sentence.

My..... to fade gradually.

- (1) troubles, though, began
- (2) troubles though began,
- (3) troubles though, began
- (4) troubles, though began

50

Date - 28/08/2023

वेळ : 12 : 30 PM - 02 : 30 PM

1. Select the most appropriate meaning of the given idiom. Let the cat out of the bag

- (1) To take a cat out of a bag
- (2) To keep a secret
- (3) To be curious about a secret
- (4) To reveal a secret

2. Select the option that expresses the given sentence in passive voice.

He knows me.

- (1) I have been known by him.
- (2) I am known to him.
- (3) I was known to him. (4) I am know by him.

3. Select the most appropriate option to fill in the blank.

The organisers were overwhelmed by the audience support.

- (1) anyway (2) similarly
- (3) totally (4) finally

4. The given sentence has an error. Select the option which rectifies the error.

As soon as I reached home, it start to rained.

- (1) had reached home (2) started raining
- (3) reach home (4) was starting to rain

पेपर क्र. - 49	19 - 1	20 - 2	21 - 1	22 - 2	23 - 2	24 - 3	25 - 1				
पेपर क्र. - 50	1 - 4	2 - 2	3 - 3	4 - 2							

1. Select the most appropriate ANTONYM of the underlined word.

Due to property issues, there is animosity among his sons.

- (1) Fatality (2) Amity
(3) Tenacity (4) Enmity

2. Select the option with the correct spelling to replace the underlined word in the given sentence.

The registration fee includes hotel accommodation, meals and a kit.

- (1) accommodation (2) accomodation
(3) accomodation (4) accomodation

3. Select the correctly spelt word to fill in the blank.

His steady gaze led her to

- (1) embarasment (2) embarrassment
(3) embarassment (4) embarrasment

4. Select the most appropriate option to fill in the blank.

I was astounded to learn that my American husband speaks Japanese well.

- (1) also (2) enough
(2) quite (4) much

5. Select the most appropriate synonym of the given word.

Decay

- (1) Desecrate (2) Deteriorate
(3) Discriminate (4) Derogate

6. Select the most appropriate punctuation mark to fill in the blank.

Hope for the best prepare for the worst.

- (1) ! (exclamation mark) (2) ? (question mark)
(3) ; (semicolon) (4) ' (apostrophe)

7. Select the most appropriate meaning of the given proverb.

Beggars can't be choosers.

- (1) Individuals who rely on external sources for their needs must learn to be satisfied with the resources provided to them.
(2) Individuals who rely on external sources for their needs must learn to be dissatisfied with the resources provided to them.
(3) Individuals who rely on external sources for their needs must learn to get more than the resources provided to them.
(4) Individuals who rely on internal sources for their needs must learn to be satisfied with the resources provided to them.

8. Select the most appropriate past tense form of the verb 'award' to fill in the blank.

The toppers of every batch were scholarships.

- (1) been awarded (2) awarding
(3) awarded (4) ought to be awarding

9. The given sentence has an error. Select the option that rectifies the error.

'What do you do there?' 'I am practising for the concert.

- (1) I will be practising (2) What did you do
(3) What are you doing (4) I was practising

10. Select the most appropriate option to fill in the blanks.

..... bus that Hima boards everyday is bus Rajesh boards too.

- (1) the; the (2) a; the
(3) a, a (4) the; a

22. Select the option that expresses the given sentence in active voice.

A notice will have been sent by the town plan authorities to Mr. Smith for vacating the house by the end of the month.

- (1) The town plan authorities would send a notice to Mr. Smith for vacating the house by the end of the month.
- (2) Mr. Smith will have sent a notice to the town plan authorities for vacating the house by the end of the month.
- (3) Mr. Smith would send a notice to the town plan authorities for vacating the house by the end of the month.
- (4) The town plan authorities will have sent a notice to Mr. Smith for vacating the house by the end of the month.

23. The following sentence has been split into four segments. Identify the segment that contains a grammatical error.

The islands of/the coast are / best for fishing / and water sports.

- (1) the coast are
- (2) best for fishing
- (3) and water sports
- (4) The islands of

24. Select the correct punctuation mark to fill the blank.

The teacher gave us a difficult assignment, we were all struggling to complete it.

- (1) ;
- (2) ,
- (3) .
- (4) -.

25. Select the most appropriate option to fill in the blank.

Mother warned them not to drive fast, as there was _____ time for the match to start.

- (1) little
- (2) more
- (3) some
- (4) enough

1. Select the most appropriate ANTONYM of the given word. Divine

- (1) Mediocre
- (2) Awful
- (3) Average
- (4) Substandard

2. Select the most appropriate articles to fill in the blanks (indicates no article needed).

Someone stole all gold ornaments from Durga temple yesterday.

- (1) the; Ø
- (2) a; the
- (3) the; the
- (4) Ø; the

3. The following sentence has been split into four segments. Identify the segment that contains a grammatical error.

I cycle / around the Kankariya / lake for over / an hour yesterday.

- (1) around the Kankariya
- (2) an hour yesterday
- (3) lake for over
- (4) I cycle

4. Select the most appropriate synonym of the given word. Declare

- (1) Announce
- (2) Conduce
- (3) Bounce
- (4) Denounce

5. Complete the sentence using the most suitable form of the verb 'visit'.

(A) Hey, we are going to Paris in the summer of 2023. Have you ever been there?

(B) Yes, I _____ Paris way back in 2005.

- (1) am visiting
- (2) visit
- (3) had visited
- (4) visited

6. The given sentence has an error. Select the option that rectifies the error.

Simran working for 10 years for that company, after which she got a promotion.

- (1) Simran work
- (2) she get a promotion
- (3) she was getting a promotion
- (4) Simran had been working

पेपर क्र. - 51	22 - 4	23 - 4	24 - 1	25 - 4						
पेपर क्र. - 52	1 - 2	2 - 3	3 - 4	4 - 1	5 - 4	6 - 4				

19. Select the most appropriate synonym of the underlined word.

The clandestine operation of the special forces was appreciated by all.

- (1) powerful (2) valiant
(3) covert (4) intrepid

20. The following sentence has been divided into three segments. One of them may contain an error. Select the option that has the segment with the error. If you don't find any error, select 'No error' as your answer.

Beside 24th March, 1992, I met the person / who later turned out to be my / spiritual Guru in the journey of life.

- (1) spiritual Guru in the journey of life.
(2) No error
(3) who later turned out to be my
(4) Beside 24th March, 1992, I met the person

21. Select the most appropriate option to fill in the blanks. ____ man needs ____ purpose in life.

- (1) A; a (2) A; the
(3) The; a (4) An; the

22. Select the option that expresses the given sentence in passive voice.

Who is making this noise?

- (1) By whom is this noise being made?
(2) By whom this noise is being made?
(3) Who has been made this noise?
(4) By whom has this noise been made?

23. Select the most appropriate meaning of the given idiom. The devil is in the details.

- (1) The details are important but can be ignored.
(2) The details are important and can cause problems if not attended to.
(3) The details are unimportant and must be ignored.

(4) The devil is literally in the details.

24. Select the most appropriate past tense form of the verb 'rebut' to fill in the blank.

The victim ____ all the allegations levelled against him.

- (1) is rebutting (2) will be rebutting
(3) rebutted (4) have been rebutting

25. Select the INCORRECTLY spelt word in the following sentence.

The athlete was determined to win the gold medel in the competition.

- (1) determined (2) athlete
(3) medel (4) competition

53

Date - 29/08/2023

वेळ : 12 : 30 PM - 02 : 30 PM

1. Select the most appropriate option to fill in the blank. The storyline of the drama was clever.

- (1) horribly (2) tediously
(3) randomly (4) dottly

2. The following sentence has been split into four segments. Identify the segment that contains a grammatical error.

He lives / in Shivamogga / in Haryana / with his parents.

- (1) in Haryana (2) He lives
(3) in Shivamogga (4) with his parents

3. Select the most appropriate option to fill in the blank. A bad workman always his tools.

- (1) blame (2) blamed
(3) blaming (4) blames

4. Select the most appropriate option to fill in the blank.

Right after my surgery, I was tired to walk.

- (1) not (2) enough
(3) too (4) hardly

पेपर क्र. - 52	19 - 3	20 - 4	21 - 1	22 - 1	23 - 2	24 - 3	25 - 3						
पेपर क्र. - 53	1 - 2	2 - 3	3 - 4	4 - 3									

16. Select the option that expresses the given sentence in active voice. The mouse was eaten by the cat.

- (1) The cat was eating the mouse.
- (2) The cat eats the mouse.
- (3) The cat ate the mouse.
- (4) The cat has eaten the mouse.

17. The following sentence has been split into four segments. Identify the segment that contains a grammatical error.

I think Mona aunty teaches / in this school / since 2000 / or may be earlier.

- (1) in this school
- (2) since 2000
- (3) or may be earlier
- (4) I think Mona aunty teaches

18. Select the most appropriate option to fill in the blank.

The committee a decision on the matter.

- (1) were making (2) have made
- (3) will be make (4) has made

19. Select the most appropriate question tag to fill in the blank.

He's always been a good student, ?

- (1) hasn't he (2) couldn't he
- (3) can't he (4) didn't he

20. Select the most appropriate preposition to fill in the blank.

Father divided his property my brothers and sisters equally.

- (1) among (2) between
- (3) amidst (4) in

21. Select the most appropriate question tag to fill in the blank.

My cousin Reema is not working,?

- (1) doesn't she (2) isn't she
- (3) does she (4) is she

22. The given sentence contains an error. Select the option that correctly rectifies the error.

We would have had the dinner before the chief guest arrives.

- (1) guest will arrive
- (2) will have had the dinner
- (3) guest arrived
- (4) will had had the dinner

23. Select the most appropriate meaning of the given idiom.

To make a long story short

- (1) Catching the words
- (2) Getting mean and miser
- (3) Coming directly to the point
- (4) Happening rarely

24. Select the most appropriate synonym of the given word. - Distant

- (1) Ruminant (2) Locate (3) Remote (4) Innate

25. Select the most appropriate meaning of the given idiom. - To have a chip on one's shoulder

- (1) To be angry or resentful about something
- (2) To be excited about something
- (3) To have a bandage on one's shoulder
- (4) To be happy about something

54

Date - 29/08/2023

वेळ : 04 : 30 PM - 6 : 30 PM

1. Select the option that expresses the given sentence in passive voice

Ms. Urvi teaches to English.

- (1) English is taught to us by Ms. Urvi.
- (2) English is taught by Ms, Urvi.
- (3) We are taught by Ms. Urvi.
- (4) English is taught for us by Ms. Urvi.

2. Select the most appropriate past tense form of the verb 'console' to fill in the blank.

The students their teacher on her only son's untimely demise.

- (1) have consoled (2) have been consoling
- (3) Consoled (4) shall have consoled

पेपर क्र. - 53	16 - 3	17 - 4	18 - 4	19 - 1	20 - 1	21 - 4	22 - 2	23 - 3	24 - 3	25 - 1	
पेपर क्र. - 54	1 - 1	2 - 3									

22. Select the option that can substitute the underlined segment in the given sentence to make it grammatically and contextually correct.

You shall had a holiday tomorrow.

- (1) shall has (2) had
(3) has shall (4) shall have

23. Part of the following sentence have been given as options. Select the option that contains an error.

I usually love to read in night.

- (1) In (2) To
(3) Love (4) Usually

24. Select the most appropriate meaning of the underlined idiom in the following sentence.

His idea of starting a cafe where only robots will serve food is just a flash in the pan.

- (1) A momentary success
(2) An evil intention
(3) A huge attraction
(4) A narrow escape

25. The following sentence has been split into segments. Identify the segment that contains a grammatical error.

A ceiling fan is one that is mount/on the ceiling of your room, runs on electricity and uses rotating blades which cut the air/to produce airflow.

- (1) A ceiling fan is one that is mount.
(2) to produce airflow
(3) and uses rotating blades which cuts the air
(4) on the ceiling of your room, runs on electricity

1. Select the most appropriate synonym of the underlined word.

The architect paid meticulous attention to every detail of the building design.

- (1) thorough (2) careless
(3) inattentive (4) chaotic

2. Select the most appropriate option to fill in the blank.

He was hit by his father's death.

- (1) quickly (2) loudly
(3) hard (4) sourly

3. Select the most appropriate ANTONYM of the given word. Retaliate

- (1) Crawl (2) Reject
(3) Validate (4) Forgive

4. Select the option with the correct punctuation mark for the given sentence.

He asked me what my name was

- (1) He asked me what my name was?
(2) He asked me, what my name was.
(3) He asked me; what my name was?
(4) He asked me what my name was.

5. Select the option that expresses the given sentence in passive voice.

People are destroying large areas of forest every day.

- (1) Large areas of forest are destroyed every day.
(2) Large areas of forest are being destroyed every day.
(3) Large areas of forest have been destroyed everyday
(4) Everyday large areas of forest are destroyed.

6. Select the most appropriate article to fill in the blank. If no article is required, select 'No article'.

I hired taxi to go to Delhi for my interview.

- (1) No article (2) an (3) a (4) the

पेपर क्र. - 55	22 - 4	23 - 1	24 - 1	25 - 1						
पेपर क्र. - 56	1 - 1	2 - 3	3 - 4	4 - 4	5 - 2	6 - 3				

17. Select the most appropriate meaning of the given proverb.

Birds of a feather flock together.

- (1) People with similar nature seek out each other's company.
- (2) The more you know, the more powerful you can be.
- (3) People who take risks are more successful than people who don't.
- (4) If you are patient, good things can happen.

18. Select the most appropriate verb to fill in the blank. Everybody when he arrived on time.

- (1) was surprised
- (2) did surprise
- (3) surprised
- (4) is surprised

19. Select the most appropriate present tense verb form to fill in the blank.

If it my students shall get wet.

- (1) will rains
- (2) will be raining
- (3) rains
- (4) will rain

20. Select the most appropriate meaning of the given idiom. Once in a blue moon

- (1) Frequently
- (2) Rarely
- (3) Customary
- (4) Gross

21. The following sentence has been split into four segments. Identify the segment that contains an error.

You could see the doctor/today but as you haven't/got an appointment it would mean / wait for a couple of hours.

- (1) got an appointment it would mean
- (2) You could see the doctor
- (3) wait for a couple of hours
- (4) today but as you haven't

22. Select the most appropriate meaning of the given proverb. No man is an island

- (1) One cannot predict future.

- (2) No one is truly capable of living alone.
- (3) Women are islands.
- (4) It is important to work.

23. Select the most appropriate option to fill in the blank. If no article is required, select No article'.

Numerous theories have been proposed to explain nature of consciousness.

- (1) No article
- (2) a
- (3) the
- (4) an

24. Select the most appropriate synonym of the given word. Dingy

- (1) Pure
- (2) Bright
- (3) Dreary
- (4) Sterile

25. Select the option that expresses the given sentence in passive voice.

My friends were taking me to the theatre.

- (1) I was taken to the theatre by my friends
- (2) I was being taken to the theatre by my friends
- (3) The theatre I was being taken by my friends
- (4) To the theatre I was taken by my friends

57

Date - 31/08/2023

वेळ : 04 : 30 PM - 06 : 30 PM

1. Select the most appropriate meaning of the given proverb.

Better late than never

- (1) It is better to do something late than to never do it at all.
- (2) Don't put all of your hopes and resources into one goal or dream.
- (3) An image can tell a story better than words.
- (4) Everything ends; good times don't last forever.

2. Select the option that expresses the given sentence in passive voice.

Wear your school uniform.

- (1) Let's wear your school uniform.
- (2) Let your school uniform be worn by you.
- (3) Let you wear your school uniform.
- (4) Let the school uniform be worn.

पेपर क्र. - 56	17 - 1	18 - 1	19 - 3	20 - 2	21 - 3	22 - 2	23 - 3	24 - 3	25 - 2		
पेपर क्र. - 57	1 - 1	2 - 2									

गणित व बुद्धिमत्ता

01

Date - 01/09/2023

वेळ : 9 : 00 AM - 11 : 00 AM

1. वर्णक्रमानुसार, खालील चार अक्षर-समूहांपैकी तीन अक्षर समूह एका विशिष्ट प्रकारे समान आहेत आणि अशा तऱ्हेने एक गट तयार करतात. त्या गटाशी संबंधित नसलेला पर्याय निवडा.

(1) DHF (2) FJI (3) KOM (4) IMK

2. ज्या प्रकारे दिलेल्या संचातील अक्षर-समूह संबंधित आहेत, त्याच प्रकारे संबंधित अक्षर-समूह असलेला संच निवडा.

EH - DF - IL

(1) KN - JK - OQ (2) KN - JL - OR

(3) KM - JK - OR (4) KN - JL - OQ

3. रमा ही तिच्या परापासून 5 km अंतरावर असलेल्या तिच्या ऑफिसमध्येच जाते. हे अंतर ती सकाळी 1 तासात कापते, तर संध्याकाळी घरी परतताना, तितकेच अंतर कापण्यासाठी तिला 15 मिनिटे लागतात. या दुतर्फा प्रवासादरम्यानचा तिचा सरासरी वेग (km/h मध्ये) शोधा.

(1) $3\frac{3}{5}$ (2) $3\frac{1}{8}$ (3) $4\frac{2}{3}$ (4) $4\frac{4}{9}$

4. एक कार 50 km/h वेगाने दोन-पंचमांश अंतर कापते आणि उर्वरित अंतर 60 km/h वेगाने कापते. संपूर्ण प्रवासात कारचा सरासरी वेग किती आहे?

(1) $54\frac{7}{9}$ (2) $55\frac{5}{9}$ (3) $57\frac{2}{9}$ (4) $56\frac{8}{9}$

5. चक्रवाढ व्याजाने एक रक्कम 3 वर्षात स्वतःच्या तिप्पट होते. वार्षिक आकारणीच्या बाबतीत, ती स्वतःच्या 9 पट होण्यासाठी किती वर्षे लागतील?

(1) 12 (2) 6 (3) 8 (4) 9

6. दिलेल्या श्रृंखलेमध्ये प्रश्नचिन्हाच्या (1) जागी काय आले पाहिजे?

53, 53, 40, 40, 27, 27, ?

(1) 27 (2) 12 (3) 53 (4) 14

7. जगू 3 दिवसांत एक लाकडी खुर्ची बनवू शकतो आणि रब्बू हा तीच खुर्ची 4 दिवसांत बनवू शकतो. जर त्यांनी मिळून काम

केले, तर त्याच प्रकारच्या 14 खुर्च्या तयार करण्यासाठी किती दिवस लागतील?

(1) 24 दिवस (2) 18 दिवस

(3) 20 दिवस (4) 16 दिवस

8. इंग्रजी वर्णमालाक्रमावर आधारलेल्या, दिलेल्या मालिकेत प्रश्नचिन्हाच्या (?) जागी काय आले पाहिजे?

SCZ, TDB, UED, VFF, ?

(1) VFG (2) WFH (3) WGH (4) VEG

9. एका फळविक्रेत्याकडे असलेली सफरचंदे ही त्याच्याकडील संत्र्यांच्या तुलनेत 2.56 kg ने जास्त आहेत. जर त्याच्याकडे 39 kg सफरचंदे आहेत, तर संत्र्यांचे वजन शोधा.

(1) 36.330 kg (2) 36.640 kg

(3) 36.540 kg (4) 36.440 kg

10. साखरेच्या किमतीत 20% ची कपात केल्याने खरेदीदारास 160 किंमतीमध्ये 2.5 kg जास्त साखर मिळू शकते.

तर प्रति kg असलेली मूळ किंमत शोधा.

(1) रू.15 (2) रू.20 (3) रू.12 (4) रू.6

11. दिलेली विधाने आणि निष्कर्ष काळजीपूर्वक वाचा, विधानांतील माहिती सामान्यतः ज्ञात तथ्यांपेक्षा वेगळी आढळली तरी, ती सत्य आहे, असे गृहीत धरून दिलेल्यांपैकी कोणता/ते निष्कर्ष दिलेल्या विधानांशी तर्कसंगत आहे/ते ठरवा.

विधाने :

कोणताही कागद हा क्रेयॉन नाही.

कोणताही कागद हा मार्कर नाही.

निष्कर्ष :

(I) काही क्रेयॉन्स हे मार्कर असण्याची शक्यता आहे.

(II) कोणताही क्रेयॉन हा कागद नाही.

(1) केवळ निष्कर्ष (II) तर्कसंगत आहे

(2) निष्कर्ष (I) आणि (II) दोन्ही तर्कसंगत आहेत.

(3) निष्कर्ष (I) किंवा (II) पैकी एकही तर्कसंगत नाही.

(4) केवळ निष्कर्ष (I) तर्कसंगत आहे

पेपर क्र. - 01	1 - 2	2 - 2	3 - 4	4 - 2	5 - 2	6 - 4	7 - 1	8 - 3	9 - 4	10 - 4	11 - 2
----------------	-------	-------	-------	-------	-------	-------	-------	-------	-------	--------	--------

1. खालील मालिकेत प्रश्नचिन्हाच्या (?) जागी येईल अशी संख्या दिलेल्या पर्यायांतून निवडा.
23, 26, 31, 38, 49, ?

(1) 64 (2) 61 (3) 62 (4) 67

2. 45.5 लिटर तेलाला 5 डब्यांमध्ये समान प्रमाणात भरायचे आहे. प्रत्येक डब्यांमध्ये भरल्या जाणाऱ्या तेलाचे प्रमाण किती आहे?

(1) 8.71 (2) 9.11 (3) 8.11 (4) 9.71

3. तेरा क्रमागत पूर्णांकांची सरासरी 36 आहे. या 13 पूर्णांकांपैकी सर्वात लहान पूर्णांकाच्या दुप्पटीला या 13 पूर्णांकांपैकी सर्वात मोठ्या पूर्णांकात मिळवल्यास बेरीज किती येईल?

(1) 102 (2) 121 (3) 115 (4) 110

4. दिलेली विधाने आणि निष्कर्ष लक्षपूर्वक वाचा. दिलेली विधाने जरी सामान्यतः ज्ञात तथ्यांशी विसंगत वाटत असली तरीही ती सत्य आहेत असे तुम्हाला गृहीत धरायचे आहे. दिलेल्या निष्कर्षांपैकी कोणता/ते निष्कर्ष दिलेल्या विधानांशी तर्कसंगत आहे/आहेत हे तुम्हाला ठरवायचे आहे.

विधाने :

सर्व उशा, बेडशीट आहेत.

काही बेडशीट, पडदे आहेत.

एकही पडदा, दरवाजा नाही.

निष्कर्ष :

(I) काही दरवाजे, बेडशीट असू शकतात.

(II) एकही उशी, दरवाजा नाही.

(1) निष्कर्ष I आणि II हे दोन्ही सत्य आहेत.

(2) फक्त निष्कर्ष I सत्य आहे.

(3) फक्त निष्कर्ष II सत्य आहे.

(4) निष्कर्ष I किंवा निष्कर्ष II पैकी एकही सत्य नाही.

5. दिलेली विधाने आणि निष्कर्ष लक्षपूर्वक वाचा. दिलेली विधाने जरी सामान्यतः ज्ञात तथ्यांशी विसंगत वाटत असली तरीही ती सत्य आहेत असे तुम्हाला गृहीत धरायचे आहे. दिलेल्या निष्कर्षांपैकी कोणता/ते निष्कर्ष दिलेल्या विधानांशी तर्कसंगत आहे/आहेत हे तुम्हाला ठरवायचे आहे.

विधाने :

काही पाकळ्या, झाडे आहेत.

एकही झाड, बाग नाही.

एकही बाग, रस्ता नाही.

निष्कर्ष :

(I) एकही पाकळी, बाग नाही.

(II) एकही रस्ता, झाड नाही.

(1) निष्कर्ष I किंवा निष्कर्ष II पैकी एकही सत्य नाही.

(2) निष्कर्ष I आणि II हे दोन्ही सत्य आहेत.

(3) फक्त निष्कर्ष II सत्य आहे.

(4) फक्त निष्कर्ष I सत्य आहे.

6. सुक्या मेव्याने भरलेल्या एका डब्याचे वजन 12.650 kg आहे. सुक्या मेव्याचे वजन 9 kg 800 gm असल्यास, रिकाम्या डब्याचे ग्रॅममधील वजन शोधा.

(1) 2725 gm

(2) 2825 gm

(3) 2850 gm

(4) 2750 gm

7. एक व्यक्ती 62.4 km/h वेगाने गाडी चालवतो. तो 10 मिनिटांत किती मीटर अंतर पार करतो?

(1) 12,480

(2) 10,400

(3) 6,240

(4) 5,200

8. सोडवा :

$$-15 + 24 \div (15 - 13)$$

(1) 3

(2) -3

(3) -6

(4) 6

9. खालील मालिकेत प्रश्नचिन्हाच्या (?) जागी काय आले पाहिजे?

42, 56, 84, 126, ?, 252

(1) 210

(2) 182

(3) 238

(4) 154

10. ज्या प्रकारे दिलेल्या संचातील अक्षर-समूह संबंधित आहेत, त्याच प्रकारे संबंधित अक्षर-समूह असलेला संच निवडा.

EI - GD - FJ

(1) PT - RO - QV

(2) NR - PM - OT

(3) LP - NK - MR

(4) JN - LI - KO

1. A, B आणि C या तीन तोट्या अनुक्रमे 5 तासांत 8 तासांत आणि 12 तासांत एक टाकी भरू शकतात. जर सर्व तोट्या एकाच वेळी उघडल्या गेल्या, तर टाकी भरण्यासाठी लागणारा वेळ किती असेल?

(1) $3 \frac{22}{49}$ तास (2) $4 \frac{22}{49}$ तास

(3) $5 \frac{22}{49}$ तास (4) $2 \frac{22}{49}$ तास

2. ज्या प्रकारे दिलेल्या संचातील अक्षर समूह संबंधित आहेत, त्याच प्रकारे संबंधित अक्षर-समूह असलेला संच निवडा.

GD - EH - IF

(1) MI - KN - OP (2) MJ - KN - OL

(3) MI - KN - PI (4) MJ - KO - PI

3. इंग्रजी वर्णमालाक्रमानुसार आधारित असलेल्या दिलेल्या मालिकेतील ? च्या जागी काय आले पाहिजे?

JKH, LMJ, NOL, PQN

(1) QRO (2) RSP (3) STQ (4) STU

4. जर $x + \frac{1}{x} = 3$ आहे, तर $(x^2) + \frac{1}{(x^2)}$ म्हणजे किती?

(1) 7 (2) 9 (3) 6 (4) 8

5. ज्या प्रकारे दिलेल्या संचातील अक्षर-समूह संबंधित आहेत, त्याच प्रकारे संबंधित अक्षर-समूह असलेला संच निवडा.

FC - GI - LH

(1) IF - JL - OM (2) SP - TU - YW

(3) SP - TV - YU (4) IF - JL - ON

6. खालील मालिकेत प्रश्नचिन्हाच्या (?) जागी येईल अशी संख्या दिलेल्या पर्यायांतून निवडा.

16, 31, 46, 61, 76, ?

(1) 86 (2) 84 (3) 96 (4) 91

7. एका टीव्ही संचाची मूळ किंमत 9,000 आहे. या किंमतीवर 20% सूट दिली आणि नंतर किंमत 10% ने वाढवण्यात आली. तर टीव्ही संचाची नवीन किंमत किती आहे?

(1) ₹7,620 (2) ₹8,032

(3) ₹8,064 (4) ₹7,920

8. 8m 54 cm लांबीच्या रिबिनला कापून तिचे समान लांबी असलेले 7 तुकडे केले गेले. प्रत्येक तुकड्याची मीटरमधील लांबी किती आहे?

(1) 1.32 m (2) 1.02 m (3) 1.22 m (4) 1.12 m

9. सोडवा : $-13 - 12 \div 4 \times 2$

(1) 7 (2) 8 (3) 9 (4) 6

10. 10 निरीक्षणांची सरासरी 46 आहे. नंतर लक्षात आले की, 142 हे निरीक्षण चुकून 42 असे वाचले गेले. तर योग्य सरासरी शोधा.

(1) 65 (2) 54 (3) 56 (4) 45

11. अक्षर आणि चिन्हांच्या खालील मालिकेचा संदर्भ घ्या आणि प्रश्नाचे उत्तर द्या. मोजणी केवळ डावीकडून उजवीकडे करावयाची आहे.

(डावे) F & @ S & Z D % A Y # G C * M B \$ R \Omega + E (उजवे)

जर मालिकेतून सर्व अक्षरे वगळली, तर खालीलपैकी कोणते उजव्या टोकापासून सातवे असेल?

(1) % (2) & (3) # (4) @

12. अमितने जयंतीकडून रु. 11,000 एवढी रक्कम वार्षिक 10% दराने, वार्षिक गणनेनुसार चक्रवाढ व्याजाने कर्जाऊ घेतली. सर्व थकवाकी भरण्यासाठी 2 वर्षांनंतर अमितने भरलेली एकूण रक्कम शोधा.

(1) रु. 12,890 (2) रु. 11,890

(3) रु. 12,980 (4) रु. 13,310

13. दिलेली विधाने आणि निष्कर्ष काळजीपूर्वक वाचा. विधानांतील माहिती सामान्यतः ज्ञात तथ्यांपेक्षा वेगळी आढळली तरी, ती सत्य आहे, असे गृहीत धरून दिलेल्यांपैकी कोणता/ते निष्कर्ष दिलेल्या विधानांशी तर्कसंगत आहे/ते ठरवा.

विधाने : कोणतीही विजार ही टाय नाही.

कोणताही टाय हा बूट नाही.

निष्कर्ष :

(I) कोणताही बूट हा विजार नाही.

(II) काही बूट हे विजारी आहेत.

(1) निष्कर्ष (I) आणि (II) दोन्ही तर्कसंगत आहेत.

(2) केवळ निष्कर्ष (II) तर्कसंगत आहे

(3) निष्कर्ष (I) किंवा (II) पैकी एकही तर्कसंगत नाही.

(4) केवळ निष्कर्ष (I) तर्कसंगत आहे

पेपर क्र. - 03	1 - 4	2 - 2	3 - 2	4 - 1	5 - 3	6 - 4	7 - 4	8 - 3	9 - 1	10 - 3	11 - 2
	12 - 4	13 - 3									

- 0 ते 9 पर्यंतच्या अंकांनी बनलेली खालील शृंखला विचारात घ्या.
2 3 2 3 2 3 3 3 2 2 2 2 3 3 3 2 3 3 2 2 2 3 3
किती 3 हे विषम क्रमांकाच्या स्थानी आहेत? (डावीकडून मोजले असता)
(1) 8 (2) 4 (3) 6 (4) 5
- एका कुटुंबातील 11 सदस्यांच्या वयाची सरासरी 45 वर्षे आहे. जर त्यात नोकराचे वय जोडले, तर सरासरी वय 10 टक्क्यांनी वाढते. नोकराचे वय किती आहे?
(1) 97 वर्षे (2) 105 वर्षे
(3) 99 वर्षे (4) 110 वर्षे
- खालील प्रश्नात, दिलेल्या मालिकेतील प्रश्नचिन्हाच्या जागी येणारी संख्या निवडा. 54, 59, 46, 67, 38, ?
(1) 75 (2) 74
(3) 80 (4) 70
- रु. 6000 ची रक्कम (दर चार महिन्यांनी आकारल्या जाणाऱ्या) चक्रवाढ व्याजाच्या वार्षिक 12 टक्के दराने कर्जाऊ दिली. 8 महिन्यांसाठीचे चक्रवाढ व्याज किती असेल?
(1) रु. 462 (2) रु. 489.6
(3) रु. 500.2 (4) रु. 4248
- पाईप G एका टाकीला 6 तासांत भरू शकतो आणि पाईप H त्याच टाकीला 9 तासांत भरू शकतो. जर एकावेळी एक याप्रमाणे दोन्ही पाईप आळीपाळीने एका तासासाठी चालू केले गेले आणि पहिल्या तासासाठी पाईप H ला चालू केले गेले असेल, तर किती तासांत टाकी पूर्णपणे भरेल?
(1) $7\frac{1}{3}$ तास (2) $8\frac{1}{3}$ तास
(3) $5\frac{1}{3}$ तास (4) $6\frac{1}{8}$ तास
- जर $\frac{9}{N} + \frac{12}{N} + \frac{17}{N} + \frac{14}{N} = \frac{4}{13}$ असेल, तर चे मूल्य काय येईल?
(1) 156 (2) 169
(3) 182 (4) 143
- X हा एक काम एकट्याने 24 दिवसांत पूर्ण करू शकतो आणि Y हा तेच काम एकट्याने 48 दिवसांत पूर्ण करू शकतो. त्यांनी एकत्रितपणे काम सुरु केले पण काम पूर्ण होण्याच्या 9 दिवस आधीच Y काम सोडून गेला. तर, ते काम किती दिवसांत पूर्ण

झाले ?

- (1) 17 दिवस (2) 19 दिवस
(3) 18 दिवस (4) 20 दिवस
- एका संख्येला 899 ने भागले मिळणारी बाकी 63 आहे. त्याच संख्येस 29 ने भागल्यास किती बाकी मिळेल?
(1) 7 (2) 4 (3) 5 (4) 0
- खालील प्रश्नात, दिलेल्या पर्यायांमधून संबंधित अक्षर जोडी निवडा. CPER :: ?
(1) OA : ZB (2) DQ : FS
(3) NT : DF (4) BA : OD
- एक मालिका दिलेली असून त्यातील एक पद गहाळ आहे. दिलेल्या पर्यायांतून मालिका पूर्ण करणारा योग्य पर्याय निवडा. ACB, FIJ, KOR, PUZ, ?
(1) UMR (2) UTG (3) UTR (4) UAH
- खालील प्रश्नात दिलेल्या पर्यायांमधून गटात न बसणारे / री अक्षर/रे निवडा.
(1) EFIK (2) YZBE (3) NOQT (4) CDFI
- दिलेली विधाने आणि निष्कर्ष लक्षपूर्वक वाचा. विधानामध्ये दिलेली माहिती ही सामान्यपणे ज्ञात तथ्यापेक्षा वेगळी असल्याचे आढळले, तरी ती सत्य आहे असे गृहीत धरून, दिलेल्या निष्कर्षांपैकी कोणता ते निष्कर्ष दिलेल्या विधानांशी तर्कसंगत आहेत ते ठरवा.
विधाने :
(I) एकही रजिस्टर कादंबरी नाही.
(II) काही रजिस्टर हे कॉपी आहेत.
निष्कर्ष :
(I) एकही कादंबरी कापी नाही.
(II) एकही कादंबरी रजिस्टर नाही.
(III) काही कॉपी कादंबऱ्या नाहीत.
(1) II आणि III हे दोन्ही निष्कर्ष तर्कसंगत आहेत.
(2) I आणि III हे दोन्ही निष्कर्ष तर्कसंगत आहेत.
(3) फक्त II तर्कसंगत आहे.
(4) सर्व निष्कर्ष तर्कसंगत आहेत.

पेपर क्र. - 04	1 - 4	2 - 3	3 - 1	4 - 2	5 - 1	6 - 2	7 - 2	8 - 3	9 - 2	10 - 4	11 - 1
	12 - 1										

1. जर $\frac{5}{16} + \frac{2}{12} + \frac{1}{4} + \frac{2}{3} = A \frac{B}{48}$ असेल, तर A आणि B यांतील फरक किती असेल ?
(1) 25 (2) 9 (3) 18 (4) 4
2. एक मालिका दिलेली असून त्यातील एक पद गहाळ आहे. दिलेल्या पर्यायांतून मालिका पूर्ण करणारा योग्य पर्याय निवडा. MOR, QUZ, UAH, YGP, ?
(1) RDQ (2) CNR
(3) DNQ (4) CMX
3. जर एक विशिष्ट रक्कम 10 वर्षांत सरळव्याजाने तिच्या स्वतःच्या तिप्पट होते, तर किती वर्षांत ती स्वतःच्या पाचपट होईल ?
(1) 24 वर्षे (2) 20 वर्षे
(3) 22 वर्षे (4) 18 वर्षे
4. X हा एक काम एकट्याने 24 दिवसांत पूर्ण करू शकतो आणि Y हा तेच काम एकट्या X ला लागलेल्या कालावधीच्या निम्म्या कालावधीत पूर्ण करू शकतो. त्यांनी एकत्रितपणे काम केले, तर त्याच कामाचा किती भाग ते एका दिवसात पूर्ण करू शकतात ?
(1) 1/12 (2) 1/5 (3) 1/7 (4) 1/8
5. खालील प्रश्नात, दिलेल्या मालिकेतील प्रश्नचिन्हाच्या जागी येणारी संख्या निवडा.
89, 78, 66, 53, 39, ?
(1) 25 (2) 28 (3) 21 (4) 24
6. दिलेली विधाने आणि निष्कर्ष लक्षपूर्वक वाचा. विधानांमध्ये दिलेली माहिती ही सामान्यपणे ज्ञात तथ्यांपेक्षा वेगळी असल्याचे आढळले, तरी ती सत्य आहे असे गृहीत धरून, दिलेल्या निष्कर्षांपैकी कोणता/ते निष्कर्ष दिलेल्या विधानांशी तर्कसंगत आहे/त ते ठरवा.
विधाने :
(I) काही चहा हे दूध आहेत.
(II) सर्व क्रीम या चहा आहेत.
निष्कर्ष :
(I) एकही क्रीम दूध नाही.
(II) सर्व चहा हे क्रीम आहेत.

(III) काही दूध हे चहा आहेत.

- (1) फक्त निष्कर्ष III तर्कसंगत आहे.
(2) II आणि III हे दोन्ही निष्कर्ष तर्कसंगत आहेत.
(3) फक्त निष्कर्ष I तर्कसंगत आहे.
(4) एकही निष्कर्ष तर्कसंगत नाही.
7. लक्ष्मण आणि भरत यांच्या वयांची सरासरी 40 वर्षे आहे. भरत आणि मुकेश यांच्या वयांची सरासरी 55 वर्षे आहे. लक्ष्मण आणि मुकेश यांच्या वयांची सरासरी 60 वर्षे आहे. तिघांपैकी सर्वात मोठ्या व्यक्तीचे वय किती आहे ?
(1) 90 वर्षे (2) 75 वर्षे
(3) 85 वर्षे (4) 80 वर्षे
8. एक व्यापारी एका खुर्चीस 8 टक्के नफ्याने विकतो. जर त्याने ती मूळ किंमतीच्या एक तृतीयांश दराने खरेदी केली आणि पूर्वीच्याच विक्री किंमतीला विकली, तर झालेल्या नफ्याची टक्केवारी किती असेल ?
(1) 300 टक्के (2) 224 टक्के
(3) 326 टक्के (4) 225 टक्के
9. खालील प्रश्नात चार अक्षर जोड्या दिल्या आहेत. (-) च्या डाव्या बाजूला असलेली अक्षरे ही (-) च्या उजव्या बाजूला असलेल्या अक्षरांशी काही तर्क / नियम / संबंध यानुसार संबंधित आहेत. त्यातील तीन अक्षर जोड्यांमध्ये समान तर्क/नियम/ संबंधाच्या आधारावर साधर्म्य आहे. दिलेल्या पर्यायांमधून गटात न बसणारी अक्षर जोडी निवडा.
(1) AGKN - YEIL (2) KQTV - IORS
(3) QWAD - OUYB (4) GMQT EKOR
10. रोहित एक वस्तू 10 टक्के नफ्याने विकतो. जर मूळ किंमत आणि विक्री किंमत या दोन्हींना 50 रुपयांनी घटविले, नफा 20 टक्के होतो. तर, प्रारंभीची मूळ किंमत किती असेल ?
(1) रु. 250 (2) रु. 200
(3) रु. 150 (4) रु. 100
11. खालील प्रश्नात, दिलेल्या पर्यायांमधून संबंधित अक्षरे निवडा.
NOP PON :: XYZ :: ?
(1) ZYX (2) XOP
(3) ABC (4) PQR

पेपर क्र. - 05	1 - 3	2 - 4	3 - 2	4 - 4	5 - 4	6 - 1	7 - 2	8 - 2	9 - 2	10 - 4	11 - 1
----------------	-------	-------	-------	-------	-------	-------	-------	-------	-------	--------	--------

1. What is that rate of simple interest at which a sum of money becomes three times of itself in 48 years?
(1) 5.28 percent (2) 5.68 percent
(3) 4.17 percent (4) 4.38 percent
2. In the following question, four letter pairs are given. The letters on left side of (-) is related to the letters on the right side of (-) with some Logic/Rule/Relation. Three are similar on basis of same Logic/Rule/Relation. Select the odd one out from the given alternatives.
(1) DSOX - GVRA (2) NCYH-QFBK
(3) XMIR - APLU (4) CHMR- FKPU
3. By interchanging which two numbers the equation will be correct?
 $7 + 6 \div 3 \times 8 - 5 = 3$
(1) 7 and 5 (2) 8 and 5 (3) 3 and 6 (4) 7 and 3
4. What is the value of $45 \times 5 \div 15 \times 3 \div 5 \times 7 \div 3$?
(1) 36 (2) 18 (3) 21 (4) 42
5. The difference between cost price and selling price is Rs. 450. If profit percentage is 18 percent, then what is the selling price?
(1) Rs. 2630 (2) Rs. 2800
(3) Rs. 3000 (4) Rs. 2950
6. The speed of a boat in still water is 12 km/hr. If the upstream speed of the boat is 4 km/hr, then what is the speed of the stream?
(1) 10 km/hr (2) 8 km/hr
(3) 5 km/hr (4) 3 km/hr
7. In the following question, select the related letter pair from the given alternatives.
DQ: GT :: ?
(1) CO : AB (2) ER : HU
(3) HU : NZ (4) XZ : BA
8. Ram purchased 60 dozen pens at the rate Rs. 56 per dozen. He sold 20 dozen at 20 percent profit and the remaining 40 dozen at 40 percent profit. What is his

profit percentage?

- (1) 25 percent (2) 30 percent
(3) 33.33 percent (4) 50 percent
9. A series is given with one term missing. Select the correct alternative from the given ones that will complete the series.
ZAP, VUH, ROZ, NIR. ?
(1) JCR (2) JMG (3) JCJ (4) GLR
10. Some boys can complete a work in 52 days. If there were 64 boys more, then the work could be finished in 32 days less.
What was the number of boys in the beginning?
(1) 57 (2) 42 (3) 40 (4) 50
11. In a match, average of runs scored by 7 players is 50. If the runs scored by 6 players are 10, 60, 35, 70, 55 and 90, then how many runs did the 7th player scored?
(1) 60 (2) 35 (3) 25 (4) 30
12. What is the unit digit of $(377)^{59} \times (793)^{87} \times (578)^{129} (99)^{99}$?
(1) 2 (2) 7 (3) 6 (4) 4
13. In the following question below are given some statements followed by some conclusions based on those statements.
Taking the given statements to be true even if they seem to be at variance from commonly known facts. Read all the conclusions and then decide which of the given conclusion logically follows the given statements.
Statements :
(I) Some Z are F. (II) All G are Z.
Conclusion:
(I) No F is G. (II) Some G are not F.
(III) No F is Z.
(1) Neither conclusion follows
(2) Both conclusions II and III follows
(3) Both conclusions I and II follows
(4) Only conclusion II follows

पेपर क्र. - 06	1 - 4	2 - 4	3 - 3	4 - 3	5 - 4	6 - 2	7 - 2	8 - 3	9 - 3	10 - 3	11 - 4
	12 - 1	13 - 1									

1. एका गोलंदाजाने 7 सामन्यांत दिलेल्या धावांची सरासरी 40 आहे आणि इतर 8 सामन्यांत दिलेल्या धावांची सरासरी 23 आहे. या 15 सामन्यांत गोलंदाजाने दिलेल्या धावांची सरासरी किती आहे?

(1) 32.86 (2) 30.93 (3) 37.82 (4) 35.69

2. खालील प्रश्नात, दिलेल्या मालिकेतील प्रश्नचिन्हाच्या जागी येणारी संख्या निवडा. 180, 189, 171, 198, 162, ?

(1) 207 (2) 215 (3) 205 (4) 210

3. कोणत्या दोन संख्यांची अदलाबदल केल्यास समीकरण समतुल्य होईल? $9 - 5 \div 4 \times 2 + 8 = 7$

(1) 9 आणि 8 (2) 9 आणि 5

(3) 5 आणि 8 (4) 4 आणि 2

4. एक मालिका दिलेली असून त्यातील एक पद गहाळ आहे. दिलेल्या पर्यायांतून मालिका पूर्ण करणारा योग्य पर्याय निवडा. LQ, KO, JM, IK, ?

(1) HI (2) MM (3) FH (4) HG

5. खालील प्रश्नात, दिलेल्या मालिकेतील प्रश्नचिन्हाच्या जागी येणारी संख्या निवडा.

100, 79, 57, 34, 10, ?

(1) -10 (2) -15 (3) 10 (4) -13

6. P ने Q ला एक घड्याळ 50 टक्के नफ्याने विकले आणि Q ने R ला ते 50 टक्के नफ्याने विकले. P आणि R यांच्या मूळ किंमतींची सरासरी किती आहे?

(1) 5 : 11 (2) 1 : 3 (3) 4 : 9 (4) 2 : 3

7. दिलेली विधाने आणि निष्कर्ष लक्षपूर्वक वाचा. विधानांमध्ये दिलेली माहिती ही सामान्यपणे ज्ञात तथ्यांपेक्षा वेगळी असल्याचे आढळले, तरी ती सत्य आहे असे गृहीत धरून, दिलेल्या निष्कर्षांपैकी कोणता निष्कर्ष दिलेल्या विधानांशी तर्कसंगत आहे ते ठरवा.

विधाने :

(I) काही काळे पिवळे आहेत. (II) सर्व पिवळे लाल आहेत.

निष्कर्ष :

(I) काही लाल पिवळे नाहीत.

(II) काही लाल काळे आहेत.

(1) एकही निष्कर्ष तर्कसंगत नाही.

(2) I आणि II हे दोन्ही निष्कर्ष तर्कसंगत आहेत.

(3) फक्त निष्कर्ष II तर्कसंगत आहे.

(4) फक्त निष्कर्ष I तर्कसंगत आहे.

8. W आणि X या दोन तोट्या एका टाकीस अनुक्रमे 18 तासांत आणि 27 तासांत भरू शकतात, तर Y ही तिसरी तोटी त्याच टाकीस 54 तासांत रिकामी करू शकते. जर तिन्ही तोट्यांना एकाच वेळी सुरु केले, तर टाकी किती तासांत भरेल?

(1) 17.5 तास

(2) 15 तास

(3) 13.5 तास

(4) 17 तास

9. दिलेली विधाने आणि निष्कर्ष लक्षपूर्वक वाचा. विधानांमध्ये दिलेली माहिती ही सामान्यपणे ज्ञात तथ्यांपेक्षा वेगळी असल्याचे आढळले, तरी ती सत्य आहे असे गृहीत धरून, दिलेल्या निष्कर्षांपैकी कोणता निष्कर्ष दिलेल्या विधानांशी तर्कसंगत आहे ते ठरवा.

विधाने:

(I) सर्व डाळिंबे आंबे आहेत.

(II) एकही द्राक्ष डाळिंब नाही.

निष्कर्ष:

(I) काही आंबे डाळिंबे आहेत.

(II) सर्व आंबे द्राक्षे आहेत.

(III) एकही डाळिंब द्राक्ष नाही.

(1) I आणि III हे दोन्ही निष्कर्ष तर्कसंगत आहेत.

(2) I आणि II हे दोन्ही निष्कर्ष तर्कसंगत आहेत.

(3) फक्त निष्कर्ष III तर्कसंगत आहे.

(4) सर्व निष्कर्ष तर्कसंगत आहेत.

10. एका माणसाने बिंदू P वरून 16 km/hr वेगाने सकाळी 8 वाजता धावण्यास सुरुवात केली. त्याने 4 तास धावणे आणि 3 तास विश्रांती असा क्रम सुरु ठेवला. दुसऱ्या व्यक्तीने बिंदू P वरून दुपारी 2 वाजता 32 km/hr वेगाने धावण्यास सुरुवात करून त्याला गाठेपर्यंत, त्याने न थांबता हेच सुरु ठेवले. पहिल्या व्यक्तीस किती वाजता गाठले जाईल?

(1) दुपारी 4:00 वाजता (2) सायंकाळी 5:00 वाजता

(3) सायंकाळी 6:00 वाजता (4) दुपारी 3:00 वाजता

पेपर क्र. - 07	1 - 2	2 - 1	3 - 4	4 - 1	5 - 2	6 - 3	7 - 3	8 - 3	9 - 1	10 - 2
----------------	-------	-------	-------	-------	-------	-------	-------	-------	-------	--------

1. A आणि B मिळून 10 दिवसांत एक काम पूर्ण करू शकतात. B हा त्याच कामाला एकट्याने 15 दिवसांत पूर्ण करू शकतो. A ला तेच काम एकट्याने पूर्ण करण्यासाठी किती वेळ लागेल ?
(1) 30 दिवस (2) 40 दिवस
(3) 20 दिवस (4) 10 दिवस
2. इंग्रजी वर्णमालाक्रमाने आधारलेल्या, दिलेल्या मालिकेत प्रश्नचिन्हाच्या (?) जागी काय आले पाहिजे ?
JDT, LEW, NFZ, PGC, ?
(1) RHF (2) QEF
(3) QHH (4) PFH
3. OC 49 हा LZ 55 शी एका विशिष्ट तऱ्हेने संबंधित आहे. त्याचप्रमाणे, VJ 56 हा SG 62 शी संबंधित आहे. खालीलपैकी कोणते LF 30 शी संबंधित आहे ?
(1) IC 36 (2) HB 36
(3) GA33 (4) GD 32
4. एक व्यक्ती प्रवाहाच्या विरुद्ध दिशेने 7 किमी प्रति तास वेगाने आणि प्रवाहाच्या दिशेने 10 किमी प्रति तास वेगाने नौकायन करू शकते तर स्थिर पाण्यातील त्या व्यक्तीचा वेग शोधा.
(1) 6.5 km/h (2) 8.5 km/h
(3) 1.5 km/h (4) 4.5 km/h
5. एका महिलेने 20m/min या वेगाने 100 मिनिटे प्रवास केला आणि 20 m/min आणि 50 m/min वेगाने 70 मिनिटे प्रवास केला. तिचा सरासरी वेग किती आहे ?
(1) $\frac{110}{3}$ m/min (2) 35 m/min
(3) 25 m/min (4) $\frac{550}{17}$ m/min
6. श्रीमती मलिक यांनी 6m 25cm निळे कापड, 1m 75cm पिवळे कापड, आणि 8m 50cm लाल कापड खरेदी केले. सर्व मिळून तिने किती मीटर कापड खरेदी केले ?
(1) 15m 90 cm (2) 15m 9 cm
(3) 16m 5 cm (4) 16m 50 cm
7. ₹800 ची रक्कम अर्ध-वार्षिक गणना करून वार्षिक 10% दराने किती वर्षात ₹926.10 एवढी होईल ?
(1) $1\frac{1}{3}$ (2) $1\frac{1}{2}$ (3) $2\frac{1}{3}$ (4) $2\frac{1}{2}$
8. दिलेली विधाने आणि निष्कर्ष लक्षपूर्वक वाचा. दिलेली विधाने जरी सामान्यतः ज्ञात तथ्यांशी विसंगत वाटत असली तरीही ती सत्य आहेत असे तुम्हाला काहीतः धरायचे आहे. दिलेल्या निष्कर्षांपैकी कोणता/ते निष्कर्ष दिलेल्या विधानांशी तर्कसंगत आहे/ आहेत हे तुम्हाला ठरवायचे आहे.
विधाने : सर्व अस्वले, सील आहेत. काही सील, पोपट आहेत, काही पोपट, लांडगे आहेत.
निष्कर्ष (I) : काही अस्वले, लांडगे आहेत.
निष्कर्ष (II) : एकही सील, लांडगा नाही.
(1) फक्त निष्कर्ष I सत्य आहे.
(2) फक्त निष्कर्ष II सत्य आहे.
(3) निष्कर्ष I किंवा निष्कर्ष II पैकी एकही सत्य नाही.
(4) निष्कर्ष I आणि II हे दोन्ही सत्य आहेत.
9. जर 'P' म्हणजे '+', 'Q' म्हणजे '-', 'R' म्हणजे 'x' आणि 'S' म्हणजे '÷' असेल, तर खालील समीकरणात प्रश्नचिन्हाच्या (?) जागी काय येईल ? $36 S 6 P 7 Q 4 R 3 = ?$
(1) 3 (2) 1 (3) 0 (4) 2
10. खालील मालिकेत प्रश्नचिन्हाच्या (?) जागी काय आले पाहिजे ? 25, 35, 55, ?, 125, 175
(1) 65 (2) 85 (3) 95 (4) 75
11. शब्दांच्या चार जोड्या दिलेल्या आहेत त्यांपैकी तीन विशिष्ट प्रकारे समान आहेत आणि एक वेगळी आहे. वेगळी असणारी शब्द- जोडी निवडा.
(1) लहान : पातळ (2) हलके : जड
(3) खुजे : लांब (4) श्रीमंत : गरीब
12. खालील मालिकेत प्रश्नचिन्हाच्या (?) जागी येईल अशी संख्या दिलेल्या पर्यायांतून निवडा. 14, 23, 41, 68, 104, ?
(1) 145 (2) 149 (3) 150 (4) 130
13. कनक याच्याकडे 10,000 किंमतीचा एक भूखंड आहे. त्याला तो 10% नफ्याने रमणला विकतो. रमण हा भूखंड कनिकाला 10% तोट्याने पुन्हा विकतो. संपूर्ण व्यवहारात, रमणच्या वाट्याला काय आले ?
(1) 1,100 तोटा (2) 1,000 तोटा
(3) 2,000 चा तोटा (4) ना नफा ना तोटा

पेपर क्र. - 08	1 - 1	2 - 1	3 - 1	4 - 2	5 - 4	6 - 4	7 - 2	8 - 3	9 - 2	10 - 2	11 - 1
	12 - 2	13 - 1									

1. तोटी A आणि तोटी B या एका टाकीस 18 तासांत भरू शकतात, तोटी आणि B तोटी C या त्याच टाकीला 15 तासांत भरू शकतात, आणि तोटी A आणि तोटी C या त्याच टाकीला 12 तासांत भरू शकतात. त्यांना एकत्रितपणे उघडून दिलेल्या टाकीच्या दुप्पट क्षमता भरण्यासाठी लागणारा वेळ किती असेल?

- (1) $11\frac{17}{37}$ तास (2) $19\frac{17}{37}$ तास
(3) $10\frac{27}{37}$ तास (4) $8\frac{27}{37}$ तास

2. $\frac{9}{10} \div \left(\frac{4}{5} + \frac{1}{10}\right)$ चे मूल्य किती आहे?

- (1) 1 (2) 0
(3) $\frac{81}{100}$ (4) $\frac{1}{10}$

3. खालील मालिकेत प्रश्नचिन्हाच्या (?) जागी काय आले पाहिजे?

13, 22, ?, 67, 103, 148

- (1) 49 (2) 31
(3) 40 (4) 58

4. Four word-pairs have been given, out of which three are alike in some manner and one is different. Select the one that is different

- (1) Neck : Tie (2) Waist : Belt
(3) Shoe : Laces (4) Wrist : Band

5. अक्षर, संख्या, चिन्हे यांच्या दिलेल्या मालिकेचा संदर्भ घ्या आणि पुढील प्रश्नाचे उत्तर द्या.

(डावी) EA+T%7D96@ B&BS3*Z5P#R (उजवी)

अशी किती चिन्हे आहेत, ज्यांच्या ताबडतोब आधी एक संख्या आणि ताबडतोब नंतर एक अक्षर देखील आहे?

- (1) 4 (2) 1
(3) 2 (4) 3

6. एका वस्तूच्या छापील किमतीवर 10% कमिशन दिल्यास, होणारा नफा 25% आहे. कमिशन 20% पर्यंत वाढवल्यास नफ्याची टक्केवारी शोधा.

- (1) $11\frac{1}{9}\%$ (2) 14%
(3) $11\frac{1}{11}\%$ (4) 10%

7. दरसाल 10% दराने दुसऱ्या वर्षासाठी रू. 132 चक्रवाढ व्याज कमाविणारी मुद्दल रक्कम किती असेल?

- (1) ₹1,320 (2) ₹1,188
(3) ₹1,000 (4) ₹1,200

8. इंग्रजी वर्णमालाक्रमावर आधारलेल्या, दिलेल्या मालिकेत प्रश्नचिन्हाच्या (?) जागी काय आले पाहिजे?

ECM, BIO, YOQ, VUS, ?

- (1) SAU (2) RBV
(3) RAU (4) TAV

9. वर्णक्रमानुसार खालील चार अक्षर-समूहांच्या जोड्यांपैकी तीन एका विशिष्ट प्रकारे समान आहेत आणि अशा तऱ्हेने एक गट तयार करतात. त्या गटाशी संबंधित नसलेला पर्याय निवडा.

- (1) GF-ZY (2) ML-GF
(3) BA-VU (4) SR-ML

10. Read the given statements and conclusions carefully. Assuming that the information given in the statements is true, even if it appears to be at variance with commonly known facts, decide which of the given conclusions logically follow(s) from the statements.

Statements:

No pencil is a copy.

Some pencils are erasers. Conclusions:

- (I) Some erasers may be copies.
(II) All erasers are pencils.
(1) Only Conclusion (II) follows
(2) Only Conclusion (I) follows
(3) Both Conclusion (I) and (II) follow
(4) Neither Conclusion (I) nor (II) follows

11. सलग दोन सवलतीनंतर रू. 150 की सूचीबद्ध किंमत असलेला एक शर्ट रू. 105 मध्ये उपलब्ध आहे. दुसरी सवलत 12.5% असल्यास, पहिली सवलत शोधा.

- (1) 25% (2) 12%
(3) 15% (4) 20%

पेपर क्र. - 09	1 - 2	2 - 1	3 - 3	4 - 3	5 - 3	6 - 1	7 - 1	8 - 1	9 - 1	10 - 2	11 - 4
----------------	-------	-------	-------	-------	-------	-------	-------	-------	-------	--------	--------

- अक्षर, संख्या, चिन्हे यांच्या दिलेल्या मालिकेचा संदर्भ घ्या आणि पुढील प्रश्नाचे उत्तर द्या.
(डावी) $M + Z 7 D \wedge T (5 \% A 9 @ 8 S 6 * P 3 Y \# E$ (उजवी)
अशी किती चिन्हे आहेत, ज्यांच्या ताबडतोब आधी एक अक्षर आणि ताबडतोब नंतर देखील एक अक्षर आहे?
(1) 2 (2) 0 (3) 3 (4) 1
- 4 पुरुष 5 दिवसांत एक काम पूर्ण करू शकतात. तर 4 दिवसांत किती पुरुष ते काम पूर्ण करतील?
(1) 7 (2) 2 (3) 5 (4) 6
- एक माणूस स्थिर पाण्यात 8 km/h वेगाने पोहू शकतो आणि नदी 2 km/h वेगाने वाहत आहे. जर त्या व्यक्तीला एका ठिकाणी जाऊन परत येण्यासाठी 1 तास लागला, तर ते ठिकाण किती अंतरावर आहे ?
(1) 3.75 km (2) 2.75 km
(3) 1.75 km (4) 4.75 km
- संख्या आणि चिन्हांच्या खालील मालिकेचा संदर्भ घ्या आणि त्यानंतरच्या प्रश्नाचे उत्तर द्या. मोजणी केवळ डावीकडून उजवीकडे करावयाची आहे.
(डावे) $\pounds 5 \% 6 @ \$ 2 \& 1 * 4 7 \& 3 \Omega 9 8 \#$ (उजवे)
यात अशी किती चिन्हे आहेत, ज्यांपैकी प्रत्येकाच्या ताबडतोब आधी एक संख्या आणि ताबडतोब नंतर अन्य चिन्ह देखील आहे ?
(1) 0 (2) 2 (3) 3 (4) 1
- X आणि Y या दोन तोट्या अनुक्रमे 21 तासांत आणि 24 तासांत एका टाकीला भरू शकतात. एकाच वेळी तोट्या उघडण्यात आल्या आणि तळापाशी गळती झाल्याने टाकी भरण्यासाठी 48 मिनिटे जास्त लागल्याचे आढळून आले. टाकी भरलेली असताना, त्या वेळेदरम्यान कोणतीही तोटी न उघडल्यास टाकी किती वेळात त्या गळतीमुळे रिकामी होईल ?
(1) 130 तास (2) 120 तास
(3) 144 तास (4) 168 तास
- एक भांडे द्रवाने भरलेले आहे, ज्यापैकी 3 भाग पाणी आणि 5 भाग शाई आहे. त्या मिश्रणात अर्धा भाग पाणी आणि अर्धा भाग शाई असण्यासाठी, मिश्रणाचा किती भाग काढून त्याच्या

जागी पाणी घातले पाहिजे?

- (1) $\frac{1}{7}$ (2) $\frac{1}{3}$ (3) $\frac{1}{5}$ (4) $\frac{1}{4}$

- जर $4 + 4^{(n+5)} = 260$ आहे, तर $5^{(n+3)}$ चे मूल्य शोधा.
(1) 49 (2) 25 (3) 16 (4) 36
- खालील चारपैकी तीन एका विशिष्ट तऱ्हेने समान आहेत आणि म्हणून ते एक गट तयार करतात. त्या गटात न बसणारा पर्याय निवडा.
(1) RTO (2) GIE (3) JLG (4) OQL
- हरीने 4 प्रति किलो दराने एका प्रकारचा 25 किलो गहू खरेदी केला आणि 4.50 प्रति किलो दराने दुसऱ्या प्रकारचा 35 किलो गहू खरेदी केला. त्याने हे मिश्रण 4.25 प्रति किलो या दराने विकले. त्याचा नफा किंवा तोटा शोधा.
(1) रू. 3.50 नफा (2) रू. 2 तोटा
(3) रू. 2.50 तोटा (4) रू. 3 नफा
- चार शब्द जोड्या दिल्या आहेत. त्यांपैकी तीन विशिष्ट प्रकारे समान आहेत आणि एक वेगळी आहे, वेगळी असलेली शब्द-जोडी निवडा.
(1) मेंढी : बें बें करणे (2) घुबड : घूत्कार
(3) उंट : घरघर (4) गाढव : खिकाळणे
- दिलेली विधाने आणि निष्कर्ष काळजीपूर्वक वाचा. विधानांतील माहिती सामान्यतः ज्ञात तथ्यांपेक्षा वेगळी आढळली तरी, ती सत्य आहे, असे गृहीत धरून दिलेल्यापैकी कोणता/ते निष्कर्ष दिलेल्या विधानांशी तर्कसंगत आहेत ते ठरवा.
विधाने :
सर्व शर्ट हे टाय आहेत.
काही शर्ट हे परफ्युम्स आहेत.
निष्कर्ष :
(I) काही टाय हे परफ्युम्स आहेत.
(II) काही शर्ट हे परफ्युम्स नाहीत.
(1) निष्कर्ष (I) आणि (II) दोन्ही तर्कसंगत आहेत.
(2) निष्कर्ष (I) किंवा (II) पैकी एकही तर्कसंगत नाही.
(3) केवळ निष्कर्ष (II) तर्कसंगत आहे
(4) केवळ निष्कर्ष (I) तर्कसंगत आहे

पेपर क्र. - 10	1 - 3	2 - 3	3 - 1	4 - 1	5 - 4	6 - 3	7 - 2	8 - 2	9 - 3	10 - 4	11 - 4
----------------	-------	-------	-------	-------	-------	-------	-------	-------	-------	--------	--------

1. In what ratio must a grocer mix two varieties of tea worth ₹ 60/kg and ₹ 65/kg, respectively, so that by selling the mixture at ₹ 68.20/kg he may gain 10%?
 (1) 4 : 5 (2) 3 : 2
 (3) 3 : 4 (4) 3 : 5
2. A bag of rice weighing 48 kg 700 g has to be divided among 5 families. How much rice will each family get?
 (1) 9.046 kg (2) 9.740 kg
 (3) 9.074 kg (4) 9.640 kg
3. A 725 m long train passes through a 235 m long tunnel in 48 sec. Find the speed of the train (in m/sec).
 (1) 18 (2) 15
 (3) 20 (4) 22
4. Three of the following four are alike in a certain way and thus form a group. Select the option that does NOT belong to that group.
 (1) XTW (2) RNP
 (3) PLO (4) KGJ
5. Select the number from among the given options that can replace the question mark (?) in the following series.
 16, 19, 24, 31, 40, ?
 (1) 49 (2) 43
 (3) 51 (4) 47
6. If 'A' stands for '+', 'B' stands for '-', 'C' stands for 'x' and 'D' stands for '÷', what will come in place of the question mark '?' in the following equation? $4 A 45 D 9 B 3 C 1 = ?$
 (1) 7 (2) 8
 (3) 9 (4) 6
7. If the cost price of 12 tables is equal to the selling price of 16 tables, the loss percentage is:
 (1) 15% (2) 20% (3) 25% (4) 30%
8. Three of the following letter-clusters are alike in some manner and hence form a group. Which letter-cluster does not belong to that group?
 (1) HLO (2) XBE
 (3) CGI (4) TXA
9. Based on the alphabetical order, three of the following four letter-cluster pairs are alike in a certain way and thus form a group. Select the option that does NOT belong to that group.
 (1) EA - VR (2) IF - ZV
 (3) OK - HD (4) TP - KG
10. What should come in place of the question mark (?) in the following series?
 3, 8, 18, 33, ?, 78
 (1) 48 (2) 53 (3) 38 (4) 43
11. Read the given statements and conclusions carefully. You have to take the given statements to be true even if they seem to be at variance from commonly known facts. You have to decide which conclusion/s logically follow/s from the given statements.
 Statements : All rivers are mountains. Some mountains are Hills. No mountain is a beach.
 Conclusion (I) : Some hills are beaches.
 Conclusion (II) : No river is a beach.
 (1) Neither conclusion I nor conclusion II are true.
 (2) Only conclusion I is true.
 (3) Only conclusion II is true.
 (4) Both conclusions I and II are true.
12. PU 13 is related to UZ 21 in a certain way. In the same way, MS 28 is related to RX 36.
 To which of the following is VD 34 related?
 (1) DG 41 (2) BF 40
 (3) AI 42 (4) CH 42

पेपर क्र. - 11	1 - 2	2 - 2	3 - 3	4 - 2	5 - 3	6 - 4	7 - 3	8 - 3	9 - 2	10 - 2	11 - 3
	12 - 3										

- खालील मालिकेत प्रश्नचिन्हाच्या (?) जागी येईल अशी संख्या दिलेल्या पर्यायांतून निवडा.
13, 15, 19, 27, 43, ?
(1) 75 (2) 80 (3) 65 (4) 70
- संख्या आणि चिन्हांच्या खालील मालिकेचा संदर्भ घ्या आणि त्यानंतरच्या प्रश्नाचे उत्तर द्या. मोजणी केवळ डावीकडून उजवीकडे करावयाची आहे.
(डावे) 4 \$ 8 # 2 & 6 3 5 £ 7 + Ω 1 @ * % 9 (उजवे)
जर मालिकेतून सर्व संख्या वगळल्या, तर खालीलपैकी कोणते उजव्या टोकापासून सहावे असेल?
(1) # (2) + (3) £ (4) &
- सहा दिवसांच्या आठवड्यासाठी 10 कामगारांचे वेतन 1,200 आहे. तर एका कामगाराचे एक दिवसाचे वेतन किती आहे?
(1) रू. 20 (2) रू. 16
(3) रू. 28 (4) रू. 24
- A आणि B या दोन तोट्या अनुक्रमे 5 तासांत आणि 6 तासांत 1000 लिटरची एक टाकी भरू शकतात. जर त्या एकत्रितपणे उघडल्या गेल्या, तर 1800 लिटरची एक रिकामी टाकी भरण्यासाठी किती तास लागतील?
(1) $\frac{52}{11}$ (2) $\frac{25}{11}$ (3) $\frac{45}{11}$ (4) $\frac{54}{11}$
- जर 'A' म्हणजे 'x', 'B' म्हणजे '+', 'C' म्हणजे '+' आणि 'D' म्हणजे '-' असेल, तर खालील समीकरणात प्रश्नचिन्हाच्या (?) जागी काय येईल?
24 B 2 C 13 A 5 D 21 = ?
(1) 52 (2) 50 (3) 53 (4) 56
- खालील मालिकेत प्रश्नचिन्हाच्या (?) जागी काय आले पाहिजे?
3, 6, 15, 42, ?, 366
(1) 123 (2) 84 (3) 51 (4) 79
- खालीलपैकी तीन अक्षर समूहांमध्ये एक विशिष्ट साधर्म्य आहे आणि त्यामुळे त्यांचा एक गट तयार होतो.
त्या गटात न बसणारा अक्षर-समूह कोणता आहे?
(1) WUT (2) JHG

- (3) QPO (4) DBA
- CI 22 हा GM 19 शी एका विशिष्ट तऱ्हेने संबंधित आहे. त्याचप्रमाणे, GU 17 हा KY 14 शी संबंधित आहे. खालीलपैकी कोणते WA 31 शी संबंधित आहे?
(1) CE 28 (2) CD 27
(3) BF 26 (4) AE 28
- बिस्किटांच्या एका डब्याचे वजन 1 kg 750g आहे. अशा 7 डब्यांचे किलोग्रॅममधील एकूण वजन किती आहे?
(1) 12.150 kg (2) 12.050 kg
(3) 12.350 kg (4) 12.250 kg
- दिलेली विधाने आणि निष्कर्ष लक्षपूर्वक वाचा. दिलेली विधाने जरी सामान्यतः ज्ञात तथ्यांशी विसंगत वाटत असली तरीही ती सत्य आहेत असे तुम्हाला गृहीत धरायचे आहे. दिलेल्या निष्कर्षांपैकी कोणता / ते निष्कर्ष दिलेल्या विधानांशी तर्कसंगत आहे/आहेत हे तुम्हाला ठरवायचे आहे.
विधाने : काही गाजरे, केळी आहेत. काही केळी, बटाटे आहेत. एकही बटाटा, टोमॅटो नाही.
निष्कर्ष (I) : एकही केळे, टोमॅटो नाही.
निष्कर्ष (II) : काही गाजरे, बटाटे असू शकतात.
(1) निष्कर्ष I आणि II हे दोन्ही सत्य आहेत.
(2) फक्त निष्कर्ष II सत्य आहे.
(3) फक्त निष्कर्ष I सत्य आहे.
(4) निष्कर्ष I किंवा निष्कर्ष II पैकी एकही सत्य नाही.
- लोकांच्या एका गटात पुरुष, स्त्रिया आणि मुले आहेत. जर त्यांपैकी 40% पुरुष आहेत, 35% स्त्रिया आहेत व उर्वरित मुले आहेत आणि त्यांची सरासरी वजने ही अनुक्रमे 70 kg, 60 kg व 30 kg आहेत, तर त्या गटाचे सरासरी वजन किती आहे?
(1) 56.5 gm (2) 56.5 kg
(3) 45.5 gm (4) 46.5 gm
- एका व्यक्तीने ठराविक संख्येत काही संत्री एका रुपयाला 3 आणि तितक्याच संख्येत एका रुपयाला 2 याप्रमाणे विकत घेतली. 20% नफा मिळविण्यासाठी त्याने प्रति डझन किती किंमतीला विकली पाहिजेत?
(1) रू. 5 (2) रू. 6 (3) रू. 27 (4) रू. 24

पेपर क्र. - 12	1 - 1	2 - 3	3 - 1	4 - 4	5 - 4	6 - 1	7 - 3	8 - 4	9 - 4	10 - 2	11 - 2
	12 - 2										

1. 1083 ला कोणत्या सर्वात लहान (किमान) संख्येने गुणल्यास एक पूर्ण वर्ग मिळेल?
(1) 3 (2) 11
(3) 2 (4) 4
2. ₹ 9/kg किंमतीची किती किलो साखर ही ₹ 7/kg किंमतीच्या 27 kg साखरेमध्ये मिसळली गेली पाहिजे, जेणेकरून मिश्रण ₹ 9.24/kg दराने विकून 10% नफा मिळू शकेल?
(1) 54 kg (2) 63 kg
(3) 36 kg (4) 42 kg
3. एक माणूस सरासरी 24 km/h वेगाने टेकडीच्या माथ्यावर जातो आणि सरासरी 36 km/h वेगाने खाली येतो. त्याने दोन्ही वेळी कापलेले अंतर समान असल्यास, संपूर्ण प्रवासातील त्याचा सरासरी वेग किती आहे?
(1) 36 km/h (2) 32.6 km/h
(3) 30 km/h (4) 28.8 km/h
4. सोडवा : $24 \div (3 \times 2)$
(1) 16 (2) 6
(3) 4 (4) 8
5. वार्षिक 15% दराने 2 वर्षे 4 महिन्यांसाठी 8,000 रकमेवर वार्षिक गणना करून येणारे चक्रवाढ व्याज किती आहे?
(1) ₹. 3,100 (2) ₹. 2,980
(3) ₹. 3,109 (4) ₹. 3,091
6. एका कारचे ओडोमीटर हे प्रवासाच्या सुरुवातीला 12,000 km आणि 12,800 km असे रीडिंग दाखवते, जर प्रवासाला 4 तास लागले, तर कारचा सरासरी वेग (m/sec मध्ये) किती आहे?
(1) $\frac{430}{8}$ (2) $\frac{188}{9}$ (3) $\frac{270}{8}$ (4) $\frac{500}{9}$
7. खालील चारपैकी तीन एका विशिष्ट तऱ्हेने समान आहेत आणि म्हणून ते एक गट तयार करतात. त्या गटात न बसणारा पर्याय निवडा.
(1) JOL (2) PUR
(3) RWU (4) CHE
8. वर्णक्रमानुसार समूह दिले आहेत त्यांपैकी तीन विशिष्ट प्रकारे समान आहेत आणि एक आहे. वेगळा असलेला अक्षर-समूह निवडा.
(1) LNP (2) DFH
(3) TXV (4) RTV
9. A आणि B यांना एक काम पूर्ण करण्यासाठी अनुक्रमे 6 तास आणि 9 तास लागतात. A हा 1 तास काम करतो आणि नंतर B हा दोन तास काम करतो. तर अजून किती काम शिल्लक आहे?
(1) $\frac{3}{4}$ (2) $\frac{1}{18}$ (3) $\frac{11}{18}$ (4) $\frac{3}{5}$
10. खालील मालिकेतील प्रश्नचिन्हाची (?) जागा घेऊ शकेल, अशी संख्या दिलेल्या पर्यायांतून निवडा.
3, 7, 11, 15, 19, 23, ?
(1) 27 (2) 25
(3) 26 (4) 24
11. चार शब्द जोड्या दिलेल्या आहेत, ज्यांपैकी तिघांमध्ये एक विशिष्ट साधर्म्य आहे आणि एक वेगळी आहे. ती वेगळी शब्द-जोडी ओळखा.
(1) तेल : दिवा (2) पाणी : गॅस
(3) ऑक्सिजन : जीवन (4) इंधन : मोटार
12. खालील चारपैकी तीन एका विशिष्ट तऱ्हेने समान आहेत आणि म्हणून ते एक गट तयार करतात. त्या गटात न बसणारा पर्याय निवडा.
(1) QLO (2) XSV (3) TOS (4) MHK
13. खालील संख्या मालिकेचा संदर्भ घ्या आणि त्याखालील प्रश्नाचे उत्तर द्या. (सर्व संख्या या केवळ एक-अंकी संख्या आहेत.)
(डावे) 6 8 4 3 6 7 2 1 2 4 1 8 5 7 3 4 2 1 5 7 9 5
(उजवे)
यात अशा किती सम संख्या आहेत, ज्यांपैकी प्रत्येकीच्या ताबडतोब आधी एक पूर्ण वर्ग आहे आणि ताबडतोब नंतर एक विषम संख्या देखील आहे?
(टीप: '1' हा देखील एक पूर्ण वर्ग आहे.)
(1) 2 (2) 4 (3) 3 (4) 1

पेपर क्र. - 13	1 - 1	2 - 2	3 - 4	4 - 3	5 - 3	6 - 4	7 - 3	8 - 3	9 - 3	10 - 1	11 - 2
	12 - 3	13 - 4									

1. खालील मालिकेत प्रश्नचिन्हाच्या (?) जागी येईल अशी संख्या दिलेल्या पर्यायांतून निवडा.

17, 21, 29, 41, 57, ?

(1) 67 (2) 77 (3) 72 (4) 82

2. A ने 20% नफ्याने B ला सायकल विकली आणि B ने 25% नफ्याने ती C ला विकली. जर C ने रू. 1,500 रक्कम दिली असेल, तर A ने त्यासाठी किती रक्कम दिली असेल ?

(1) रू. 825 (2) रू. 1,000

(3) रू. 1,125 (4) रू. 1,100

3. खालील चारपैकी तीन एका विशिष्ट तन्हेने समान आहेत आणि म्हणून ते एक गट तयार करतात. त्या गटात न बसणारा पर्याय निवडा.

(1) GKN (2) OSV

(3) MQT (4) DGJ

4. दिलेली विधाने आणि निष्कर्ष लक्षपूर्वक वाचा. विधानामध्ये दिलेली माहिती ही सामान्यपणे ज्ञात तथ्यांपेक्षा वेगळी असल्याचे आढळले, तरी ती सत्य आहे असे गृहीत धरून, दिलेल्या निष्कर्षांपैकी कोणता/ते निष्कर्ष दिलेल्या विधानांशी तर्कसंगत आहे/आहेत हे ठरवा.

विधाने :

काही धातू प्लास्टिक आहेत.

काही प्लास्टिक लाकूड आहेत.

निष्कर्ष :

(I) एकही लाकूड प्लास्टिक नाही.

(II) काही प्लास्टिक धातू असू शकत नाहीत.

(1) निष्कर्ष (I) आणि (II) हे दोन्ही सत्य आहेत

(2) फक्त निष्कर्ष (II) सत्य आहे

(3) निष्कर्ष (I) किंवा (II) पैकी एकही सत्य नाही

(4) फक्त निष्कर्ष (I) सत्य आहे

5. खालील मालिकेतील प्रश्नचिन्हाची (?) जागा घेऊ शकेल, अशी संख्या दिलेल्या पर्यायांतून निवडा.

544, 509, 474, 439, ?, 369

(1) 414 (2) 428 (3) 404 (4) 420

6. सोडवा : $16 - 5 \times 3 + 4$

(1) 8 (2) 18 (3) 37 (4) 5

7. दिलेली विधाने आणि निष्कर्ष लक्षपूर्वक वाचा. विधानामध्ये दिलेली माहिती ही सामान्यपणे ज्ञात तथ्यांपेक्षा वेगळी असल्याचे आढळले, तरी ती सत्य आहे असे गृहीत धरून, दिलेल्या निष्कर्षांपैकी कोणता/ते निष्कर्ष दिलेल्या विधानांशी तर्कसंगत आहे/आहेत हे ठरवा.

विधाने :

काही ऑडी, फेरारी आहेत.

काही ऑडी, लॅम्बोर्जिनी आहेत.

निष्कर्ष :

(I) सर्व फेरारी, लॅम्बोर्जिनी आहेत.

(II) काही फेरारी, ऑडी असू शकत नाहीत.

(1) निष्कर्ष (I) किंवा (II) पैकी एकही सत्य नाही

(2) फक्त निष्कर्ष (II) सत्य आहे

(3) फक्त निष्कर्ष (I) सत्य आहे

(4) निष्कर्ष (I) आणि (II) हे दोन्ही सत्य आहेत

8. एक पोलिस हा 200 मीटर अंतरावरून एका चोराला पाहतो. पोलिसाने पाठलाग सुरू केल्यावर, चोरही पळू लागतो. जर चोराचा वेग 10 km/h आहे आणि पोलिसाचा वेग 12 km/h आहे, तर चोर हा पकडला जाण्यापूर्वी किती अंतर धावला असेल ?

(1) 1 km (2) 2 km (3) 1.5 km (4) 2.5 km

9. खालील अक्षर मालिकेचा संदर्भ घ्या आणि प्रश्नाचे उत्तर द्या.

(डावे) Y B T E N S O R C X Z A I W Q U D F K G
H F (उजवे)

अक्षर मालिकेतील सर्वात डावीकडील स्वर आणि सर्वात उजवीकडील स्वर यांच्या दरम्यान किती अक्षरे आहेत ?

(1) 13 (2) 10 (3) 12 (4) 11

10. एका महाविद्यालयीन प्रवेश परीक्षेत, वर्गातील सर्व 30 मुलांनी मिळविलेले सरासरी गुण हे वर्गातील सर्व 20 मुलींनी मिळविलेल्या सरासरी गुणांपेक्षा 5 ने कमी आहेत. जर संपूर्ण वर्गाचे सरासरी गुण 25 असतील, तर मुलांच्या सरासरी गुणांचे मुलींच्या सरासरी गुणांशी होणारे गुणोत्तर काढा.

(1) 23 : 28

(2) 41 : 32

(3) 28 : 23

(4) 32 : 41

पेपर क्र. - 14	1 - 2	2 - 2	3 - 4	4 - 2	5 - 3	6 - 4	7 - 2	8 - 1	9 - 4	10 - 1
----------------	-------	-------	-------	-------	-------	-------	-------	-------	-------	--------

1. वर्णक्रमानुसार, खालील चार अक्षर-समूहांच्या जोड्यांपैकी तीन एका विशिष्ट प्रकारे समान आहेत आणि अशा तऱ्हेने एक गट तयार करतात. त्या गटाशी संबंधित नसलेला पर्याय निवडा.

- (1) LM - NO (2) GH - HI
(3) PQ - QR (4) BC - CD

2. वर्णक्रमानुसार, खालील चार अक्षर-समूहांच्या जोड्यांपैकी तीन एका विशिष्ट प्रकारे समान आहेत आणि अशा तऱ्हेने एक गट तयार करतात. त्या गटाशी संबंधित नसलेला पर्याय निवडा.

- (1) JL - PR (2) FH - LN
(3) BD - HJ (4) OQ - VX

3. एका माणसाने 250 खुर्च्या विकल्या आणि त्याला 50 खुर्च्यांच्या विक्री किंमतीएवढा फायदा झाला. त्याची नफ्याची टक्केवारी किती आहे?

- (1) 5% (2) 50%
(3) 10% (4) 25%

4. दिलेली विधाने आणि निष्कर्ष लक्षपूर्वक वाचा. विधानामध्ये दिलेली माहिती ही सामान्यपणे ज्ञात तथ्यांपेक्षा वेगळी असल्याचे आढळले, तरी ती सत्य आहे असे गृहीत धरून, दिलेल्या निष्कर्षांपैकी कोणता/ते निष्कर्ष दिलेल्या विधानांशी तर्कसंगत आहे/आहेत हे ठरवा.

विधाने :

काही फळे, भाज्या आहेत.

एकही भाजी, भाकरी नाही.

निष्कर्ष :

- (I) काही फळे, भाकरी असू शकतात.
(II) सर्व फळे, भाज्या आहेत.
(1) फक्त निष्कर्ष (II) सत्य आहे
(2) निष्कर्ष (I) किंवा (II) पैकी एकही सत्य नाही
(3) फक्त निष्कर्ष (I) सत्य आहे
(4) निष्कर्ष (I) आणि (II) हे दोन्ही सत्य आहेत

5. 210m लांबीची एक ट्रेन विरुद्ध दिशेने 4.5 km/h वेगाने चालणाऱ्या माणसाला 12 सेकंदांत ओलांडते. ट्रेनचा वेग (km/h) किती आहे?

- (1) 58.5 (2) 61.5
(3) 60.5 (4) 59.5

6. एका पाण्याच्या टाकीत 42l / 960 ml पाणी आहे. तळाशी गळती झाल्यामुळे, टाकीमधून 9/85 ml पाण्याची गळती होते. टाकीत किती प्रमाणात पाणी शिल्लक आहे?

- (1) 33/875 ml (2) 33/825 ml
(3) 32/825 ml (4) 32/875 ml

7. खालील चारपैकी तीन एका विशिष्ट तऱ्हेने समान आहेत आणि म्हणून ते एक गट तयार करतात. त्या गटात न बसणारा पर्याय निवडा.

- (1) HFJ (2) DBG
(3) VTY (4) NLQ

8. सोडवा : $16 \div 8 + 4 - 2 \times 3$

- (1) 10 (2) 0 (3) 12 (4) 6

9. एका बोटीला प्रवाहाच्या विरुद्ध दिशेने 12.6 km जाण्यासाठी 21 मिनिटे लागतात. स्थिर पाण्यातील बोटीचा वेग आणि प्रवाहाचा वेग यांचे गुणोत्तर 7 : 2 आहे. बोटीला प्रवाहाच्या विरुद्ध दिशेने 43.2 km अंतर आणि प्रवाहाच्या दिशेने 38.88 km जाण्यासाठी एकूण किती वेळ (तासांमध्ये) लागेल?

- (1) 2.4 (2) 1.8 (3) 1.6 (4) 2

10. खालील मालिकेत प्रश्नचिन्हाच्या (?) जागी काय आले पाहिजे? 2, 4, 8, 16, ?, 64

- (1) 56 (2) 32
(3) 24 (4) 48

11. जर 'A' म्हणजे '+', 'B' म्हणजे '÷', 'C' म्हणजे '×' आणि 'D' म्हणजे '-', असेल, तर खालील समीकरणात प्रश्नचिन्हाच्या (?) जागी काय येईल? $35 B7D3 C4 A 18 = ?$

- (1) 9 (2) 13
(3) 11 (4) 14

12. सुरेंद्र 3 kg आंबे 21 ला विकत घेतो आणि 50 ला 5 kg याप्रमाणे विकतो. 102 नफा मिळवण्यासाठी, त्याने किती आंबे (kg मध्ये) विकले पाहिजेत?

- (1) 26 kg (2) 32 kg
(3) 56 kg (4) 34 kg

पेपर क्र. - 15	1 - 1	2 - 4	3 - 4	4 - 3	5 - 1	6 - 1	7 - 1	8 - 2	9 - 2	10 - 2	11 - 3
	12 - 4										

1. प्रियाच्या आईने पार्टीसाठी 8/785 ml सूप बनवले. जर सूप 35 लोकांमध्ये समान प्रमाणात वाटले गेले, तर प्रत्येक व्यक्तीला किती सूप दिले गेले ?
 (1) 255 ml (2) 251 ml
 (3) 254 ml (4) 250 ml
2. सोडवा:
 $(-20) \times (-1) + 14 \div 7$.
 (1) 22 (2) -22
 (3) 18 (4) -18
3. वर्णक्रमानुसार, खालील चार अक्षर-समूहांच्या जोड्यांपैकी तीन एका विशिष्ट प्रकारे समान आहेत आणि अशा तऱ्हेने एक गट तयार करतात. त्या गटाशी संबंधित नसलेला पर्याय निवडा.
 (1) ZC - IL (2) AD - JM
 (3) LO - UX (4) SV - BD
4. एका दुकानदाराने रू. 319.60 किंमतीला एक वस्तू विकत घेतली. 25% नफा मिळविण्यासाठी, त्याने कोणत्या अंदाजित किंमतीला ती वस्तू विकली पाहिजे ?
 (1) रू. 400 (2) रू. 600
 (3) रू. 500 (4) रू. 450
5. खालील संख्या मालिकेचा संदर्भ घ्या आणि त्याखालील प्रश्नाचे उत्तर द्या. (सर्व संख्या या केवळ एक अंकी संख्या आहेत.)
 (डावे) 8 4 3 6 2 1 5 7 3 4 2 1 6 7 5 7 9 5 2 4 1 8 (उजवे)
 यात अशा किती सम संख्या आहेत, ज्यांपैकी प्रत्येकीच्या ताबडतोब आधी एक सम संख्या आहे आणि ताबडतोब नंतर एक विषम संख्या देखील आहे ?
 (1) 5 (2) 3
 (3) 2 (4) 4
6. जर 110 आंबे विकले, तर 120 आंब्याची मूळ किंमत वसूल होते, तर नफ्याची टक्केवारी किती आहे ?
 (1) $11 \frac{1}{9}\%$ (2) $9 \frac{1}{9}\%$
 (3) $10 \frac{10}{11}\%$ (4) $9 \frac{1}{11}\%$
7. रीना 8 km/h वेगाने धावते तिला 200 m पार करण्यासाठी किती वेळ लागेल ?
 (1) 90 सेकंद (2) 54 सेकंद
 (3) 175 सेकंद (4) 120 सेकंद
8. दिलेल्या श्रृंखलेमध्ये प्रश्नचिन्हाच्या (2) जागी काय आले पाहिजे ?
 58, 52, 46, 40, 34, ?
 (1) 24 (2) 26 (3) 30 (4) 28
9. चार शब्द जोड्या दिल्या आहेत. त्यांपैकी तीन विशिष्ट प्रकारे समान आहेत आणि एक वेगळी आहे, वेगळी असलेली शब्द जोडी निवडा.
 (1) जहाज : नाव (2) विमान : हेलिकॉप्टर
 (3) पाणबुडी : अग्निबाण (4) बस : कार
10. अक्षर, संख्या, चिन्हे यांच्या दिलेल्या मालिकेचा संदर्भ घ्या आणि पुढील प्रश्नाचे उत्तर द्या.
 (डावी) D+T7M^Z(5%A9@8S6*P3Y#E (उजवी)
 अशा किती संख्या आहेत, ज्यांच्या ताबडतोब आधी एक अक्षर आणि ताबडतोब नंतर एक चिन्ह देखील आहे ?
 (1) 1 (2) 2 (3) 3 (4) 0
11. $222.22 + 22.22 + 12 + 0.22 + 0.02$ चे मूल्य किती आहे ?
 (1) 256.68 (2) 255.68
 (3) 256.08 (4) 256.86
12. इंग्रजी वर्णमालाक्रमावर आधारलेल्या, दिलेल्या मालिकेत प्रश्नचिन्हाच्या (?) जागी काय आले पाहिजे ?
 ZWB, BCG, DIL, FOQ, ?
 (1) IUW (2) HUV (3) GVV (4) GVX
13. A आणि B या दोन तोट्या अनुक्रमे 21 तासांत आणि 18 तासांत एक टाकी भरू शकतात. दोन्ही तोट्या एकाच वेळी उघडल्यास, टाकी भरण्यासाठी लागणारा वेळ किती असेल ?
 (1) $11 \frac{27}{39}$ तास (2) $9 \frac{27}{39}$ तास
 (3) $8 \frac{27}{39}$ तास (4) $10 \frac{27}{39}$ तास

पेपर क्र. - 16	1 - 2	2 - 1	3 - 4	4 - 1	5 - 4	6 - 4	7 - 1	8 - 4	9 - 3	10 - 2	11 - 1
	12 - 2	13 - 2									

1. A हा सकाळी 9:00 वाजता X येथून निघतो आणि दुपारी 1:00 वाजता Y येथे पोहोचतो. त्याच दिवशी B हा देखील सकाळी 9:00 वाजता Y येथून निघतो आणि A च्या समान मार्गाने प्रवास करत दुपारी 3:00 वाजता X येथे पोहोचतो. ते दोघे किती वाजता भेटतील?
- (1) सकाळी 11:30 वाजता (2) सकाळी 11:24 वाजता
(3) सकाळी 11:12 वाजता (4) सकाळी 10:00 वाजता
2. खालील चारपैकी तीन एका विशिष्ट तऱ्हेने समान आहेत आणि म्हणून ते एक गट तयार करतात. त्या गटात न बसणारा पर्याय निवडा.
- (1) YTQ (2) SNK (3) KFB (4) OJG
3. जर $2^x \times 4^{12} \times 8^3 = 16^{11}$ आहे, तर x चे मूल्य किती आहे?
- (1) 13 (2) 12
(3) 11 (4) 14
4. चार शब्द जोड्या दिल्या आहेत. त्यांपैकी तीन विशिष्ट प्रकारे समान आहेत आणि एक वेगळी आहे, वेगळी असलेली शब्द जोडी निवडा.
- (1) फळ : बी (2) झाड : फांदी
(3) फूल : पाकळी (4) पान : लाकूड
5. एका शिबिरात 60 विद्यार्थ्यांसाठी 18 दिवसांची तरतूद केलेली आहे. शिबिरातील विद्यार्थ्यांची संख्या 72 पर्यंत वाढल्यास ती तरतूद किती दिवसांत संपून जाईल?
- (1) 15 दिवस (2) 8 दिवस
(3) 18 दिवस (4) 12 दिवस
6. दिलेली विधाने आणि निष्कर्ष लक्षपूर्वक वाचा. दिलेली विधाने जरी सामान्यतः ज्ञात तथ्यांशी विसंगत वाटत असली तरीही ती सत्य आहेत असे तुम्हाला गृहीत धरायचे आहे. दिलेल्या निष्कर्षांपैकी कोणता/ते निष्कर्ष दिलेल्या विधानांशी तर्कसंगत आहे/आहेत हे तुम्हाला ठरवायचे आहे.
- विधाने : सर्व वाट्या, चमचे आहेत. एकही चमचा, काटा नाही. एकही काटा, थाळी नाही.
- निष्कर्ष (I) : एकही वाटी, काटा नाही.
निष्कर्ष (II) : काही चमचे, थाळ्या असू शकतात.
- (1) निष्कर्ष I आणि II हे दोन्ही सत्य आहेत.
(2) फक्त निष्कर्ष II सत्य आहे.
- (3) निष्कर्ष I किंवा निष्कर्ष II पैकी एकही सत्य नाही.
(4) फक्त निष्कर्ष I सत्य आहे.
7. खालीलपैकी तीन अक्षर समूहांमध्ये एक विशिष्ट साधर्म्य आहे आणि त्यामुळे त्यांचा एक गट तयार होतो. त्या गटात न बसणारा अक्षर-समूह कोणता आहे?
- (1) XAY (2) TWU
(3) JMK (4) DFG
8. दिलेली मालिका तर्कदृष्ट्या पूर्ण होण्यासाठी ? च्या जागी काय आले पाहिजे? DB15 IG22 NL36 SQ57 ?
- (1) XV80 (2) VT85
(3) XV85 (4) VT80
9. VA 31 हा ZE 22 शी एका विशिष्ट तऱ्हेने संबंधित आहे. त्याचप्रमाणे, KD 20 हा OH 11 शी संबंधित आहे. खालीलपैकी कोणते WO 24 शी संबंधित आहे?
- (1) BR 15 (2) CT 28
(3) BU 26 (4) AS 15
10. पाईप A आणि पाईप B हे एका रिकाम्या टाकीला 18 तासांत भरू शकतात, पाईप B आणि पाईप C हे त्याच टाकीला 15 तासांत भरू शकतात, तर पाईप A आणि पाईप C हे त्याच टाकीला 12 तासांत भरू शकतात. जर ते एकत्रपणे कार्यरत असतील, तर त्याच टाकीला भरण्यासाठी त्यांना लागणारा वेळ किती असेल?
- (1) $8\frac{27}{37}$ तास (2) $10\frac{27}{37}$ तास
(3) $11\frac{27}{37}$ तास (4) $9\frac{27}{37}$ तास
11. एक व्यक्ती प्रवाहाच्या विरुद्ध दिशेने 7 km/h वेगाने आणि प्रवाहाच्या दिशेने 10 km/h वेगाने नौकायन करू शकते. तर प्रवाहाचा वेग शोधा.
- (1) 8.5 km/h (2) 6.5 km/h
(3) 4.5 km/h (4) 1.5 km/h
12. एक व्यक्ती 1 वर्षासाठी वार्षिक 20% दराने 20,000 एवढे कर्ज घेतो. अर्ध-वार्षिक गणना विचारात घेतल्यास, सुरुवातीपासून 12 महिन्यांचे व्याज किती असेल?
- (1) रू. 4,100 (2) रू. 2,000
(3) रू. 4,200 (4) रू. 4,000

पेपर क्र. - 17	1 - 2	2 - 3	3 - 3	4 - 4	5 - 1	6 - 1	7 - 4	8 - 3	9 - 4	10 - 4	11 - 4
	12 - 3										

1. A man had 0.08 part of his wealth invested in stocks, 0.3 part in FDs, 0.4 part amounting to ₹ 2,400 as gold, and the rest in cash. How much total cash and stocks did he have?
 (1) ₹. 1,600 (2) ₹. 1,500
 (3) ₹. 2,000 (4) ₹. 1,800
2. Oranges are bought at 100 for ₹ 80 and all of them are sold at 80 for ₹ 100. Find the loss or gain percentage in this transaction.
 (1) 56.25% profit (2) 22.22% loss
 (3) 36.36% loss (4) 44.44% profit
3. Four word-pairs have been given, out of which three are alike in some manner and one is different. Select the one that is different.
 (1) Flowers - Bouquet (2) Tree - Bushel
 (3) Grapes - Bunch (4) Plums - Basket
4. What should come in place of the question mark (?) in the given series? 24, 33, 58, 107, 188, ?
 (1) 304 (2) 317 (3) 309 (4) 321
5. Which of the following alpha-numeric terms will replace the question mark (?) in the given series to make it logically complete? QJ7, UF15, YB23, ?
 (1) XC31 (2) CX37
 (3) XC37 (4) CX31
6. The cost of a machine is estimated to be decreasing at the rate of 15% every year. If it costs ₹6,000 now, what will be the estimated value of the machine after 2 years?
 (1) ₹. 3,750 (2) ₹. 3,225
 (3) ₹. 4,335 (4) ₹. 5,000
7. A bike travels the first one-third of a certain distance with a speed of 10 km/h, the next one-third distance with a speed of 20 km/h, and the last one-third distance with a speed of 60 km/h. What is the average speed of the bike for the whole journey?
 (1) 36 km/h (2) 24 km/h
 (3) 18 km/h (4) 30 km/h
8. If 'A' stands for '+', 'B' stands for '×', 'D' stands for '+' and 'C' stands for '-', then the resultant of which of the following would be 20?
 (1) 100 B 50 A 30 C 40 D 80
 (2) 100 A 50 B 30 D 40 C 80
 (3) 100 B 50 A 30 D 40 C 80
 (4) 100 A 50 B 30 C 40 D 80
9. In the following triad, each group of letters is related to the subsequent one following a certain logic. Select from the given options, the one that follows the same logic. FAIR - AIRF - IAFR
 (1) BUSY - SUYB - SBUY
 (2) UPON - OPNU - OUPN
 (3) HOLD OLDH - LOHD
 (4) EACH - CHAE - HAEC
10. Simplify $2 \times 6 \div 3 + 9 \times 4 - 6 \div 2$
 (1) 14 (2) 41 (3) 17 (4) 37
11. If a fraction's denominator is decreased by 80%, and the numerator is increased by 300%, the fraction becomes $\frac{2}{9}$. What is the fraction?
 (1) $\frac{6}{45}$ (2) $\frac{6}{72}$ (3) $\frac{8}{9}$ (4) $\frac{1}{90}$
12. The average weight of A, B and C is 45 kg. If the average weight of A and B is 40 kg, and that of B and C is 43 kg, then the weight of B is:
 (1) 26 kg (2) 31 kg
 (3) 23 kg (4) 19 kg

पेपर क्र. - 18	1 - 4	2 - 1	3 - 2	4 - 3	5 - 4	6 - 3	7 - 3	8 - 2	9 - 3	10 - 4	11 - 4
	12 - 2										

24. Pipes A and B can fill a tank in 8 hours and 10 hours, respectively, and pipe C can empty the full tank in 12 hours. All three pipes are opened together, but pipe A is closed after 4 hours. In how many hours will the remaining part of the tank be filled?
- (1) 26 (2) 24
(3) 30 (4) 22

25. What should come in place of the question mark (?) in the given series? 641, 538, 447, 368, 301, ?
- (1) 264 (2) 241
(3) 246 (4) 257

19

Date - 13/09/2023

वेळ : 09 : 00 AM - 11 : 00 AM

1. Adishonest milkman professes to sell his milk at cost price but he mixes it with water and thereby gains 25%. The percentage of water in the mixture is :
- (1) 4% (2) 20%
(3) 25% (4) 6.25%

2. Select the triad that best represents a similar relationship to the one expressed in the pair of triads given below.

E - H - L, Q - T - X

- (1) J - M - Q (2) D - H - M
(3) G - I - L (4) R - S - W

3. If $1.5a = 0.03b$, then the value of $\frac{(b-a)}{(b+a)}$ is:

- (1) $\frac{490}{51}$ (2) $\frac{49}{51}$
(3) $\frac{4.09}{51}$ (4) $\frac{4.9}{51}$

4. Refer to the following letter, number, symbol series and answer the question.

(Left) L S 4 * T % R V 5 9 @ U # 3 Q E ÷ 2 + 6
A - 8 (Right)

How many symbols are there which are immediately preceded by vowel and immediately

followed by a number?

- (1) Two (2) Three
(3) One (4) Four

5. Read the given statement(s) and conclusions carefully. Assuming that the information given in the statements is true, even if it appears to be at variance with commonly known facts, decide which of the given conclusions logically follow(s) from the statement(s).

Statements :

- (I) Some horses are elephants.
(II) Some frogs are horses.

Conclusions :

- (I) Some elephants are frogs.
(II) All elephants are horses.
(1) Only conclusion (II) follows.
(2) Only conclusion (I) follows.
(3) Both conclusions (I) and (II) follow.
(4) Neither conclusion (I) nor (II) follows.

6. A alone can complete A piece of work in 25 days. B is 40% less efficient than A, then in how many days A and B working together can complete 80% of that work?

- (1) 20 (2) 12.5
(3) 15 (4) 10

7. Three of the following word-pairs are alike in some manner and hence form a group.

Which word-pair does NOT belong to that group? (The words must be considered as meaningful English words and must not be grouped based on the number of letters/number of consonants/vowels in the word)

- (1) Mirror-Reflection (2) Water-Refraction
(3) Glass-Transparent (4) Telescope-Diffraction

8. Evaluate $5 \times 3 - 12 \div 4 + 8$.

- (1) 20 (2) 4 (3) 14 (4) 3

पेपर क्र. - 18	24 - 1	25 - 3									
पेपर क्र. - 19	1 - 2	2 - 1	3 - 2	4 - 2	5 - 4	6 - 2	7 - 4	8 - 1			

22. A thief sees a police van at a distance of 250 m coming towards him at 36 km/h. The thief takes 5 seconds to realise that there is nothing, but the police is approaching him by the van and he starts running away from the police at a speed of 54 km/h. The police realise after 10 seconds when the thief starts running away, that he is actually a thief and gives chase at a speed of 72 km/h. How long after the thief saw the police did the police catch up with him?

- (1) 72 sec (2) 48 sec (3) 65 sec (4) 57 sec

23. What should come in place of the question mark (?) in the given series? 422, 448, 482, ?, 574, 632

- (1) 523 (2) 524 (3) 526 (4) 529

24. In how many years will a sum of 10,000 become 14,400 at 20% compound interest per annum, compounded annually?

- (1) 5 (2) 2 (3) 3 (4) 4

25. An article is sold for ₹4,050 at a loss of 10%. Find the selling price of the article that would give a profit of 8%.

- (1) ₹. 5,280 (2) ₹. 4,860
(3) ₹. 4,920 (4) ₹. 4,960

20

Date - 13/09/2023

वेळ : 12 : 30 AM - 02 : 30 AM

1. गटात न बसणारा शब्द ओळखा.

- (1) आसाम (2) मेघालय
(3) लक्षद्वीप (4) पंजाब

2. दिलेल्या पदावलीस सरळरूप द्या : $4(10 + 15/5^*4 - 4^*4)$

- (1) 26 (2) 42
(3) 32 (4) 24

3. If all the numbers are dropped in the given series, which of the following is fifth from the right?

A # D F G % ^ & * E 7 0 & 6 ^ 4 Z 5 * 3 9 T ! D # 2 \$ U Z @ 6 Y % N &

- (1) @ (2) U
(3) Y (4) T

4. एक टाकी साधारपणे 7 तासांत भरते. जेव्हा तिच्या तळातून गळती होते, तेव्हा ती भरण्यास 8 तास लागतात. जर टाकी पूर्ण भरलेली असेल, तर गळती झाल्याने किती कालावधीत ती रिकामी होईल?

- (1) 112 तास (2) 28 तास
(3) 56 तास (4) 49 तास

5. जर 1200 ची मुदल 3 वर्षांसाठी 7.5% दराने बँकेमध्ये ठेवून जमा केली, तर त्यावर मिळणाऱ्या सरळव्याजाची गणना करा.

- (1) 120 (2) 300 (3) 250 (4) 270

6. एक दुचाकी 7 लिटर इंधनामध्ये 560 km अंतर पार करते, तर ती 5 लिटर इंधनामध्ये किती अंतर पार करेल?

- (1) 250 Km (2) 300 Km
(3) 350 Km (4) 400 Km

7. 3, 15, 51, 159?

प्रश्नचिन्हाच्या जागी येणारी संख्या कोणती असेल?

- (1) 486 (2) 482 (3) 483 (4) 488

8. दिलेल्या प्रश्नात, + म्हणजे - असेल, × म्हणजे / असेल, - म्हणजे + असेल आणि / म्हणजे × असेल, तर खालील प्रश्नाचे उत्तर शोधा. $(112 \times 8) \times 2/4$

- (1) 29 (2) 27 (3) 28 (4) 31

9. AI, BJ, CK, DL, ?

प्रश्नचिन्हाच्या जागी येणारी अक्षर जोडी कोणती असेल?

- (1) EM (2) FM (3) MF (4) ME

10. एक रेल्वेगाडी एका खांबास 25 सेकंदांत पार करते, जर रेल्वेगाडीची लांबी 750 मीटर असेल, तर रेल्वेगाडीचा वेग शोधा.

- (1) 40 m/sec. (2) 20 m/sec.
(3) 10 m/sec. (4) 30 m/sec.

11. 10 संख्यांची सरासरी 5 आहे. जर या संख्यांपैकी प्रत्येकीस 8 ने गुणले तर नवीन सरासरी किती असेल?

- (1) 40 (2) 42
(3) 38 (4) 46

12. चर्मरोग चिकित्सा : त्वचेचा अभ्यास :: हृदयचिकित्सा : ?
प्रश्नचिन्हाच्या जागी कोणता शब्द येईल?

- (1) मेंदूचा अभ्यास (2) मूत्रपिंडाचा अभ्यास
(3) हृदयाचा अभ्यास (4) पेशींचा अभ्यास

पेपर क्र. - 19	22 - 3	23 - 2	24 - 2	25 - 2							
पेपर क्र. - 20	1 - 3	2 - 4	3 - 1	4 - 3	5 - 4	6 - 4	7 - 3	8 - 3	9 - 1	10 - 4	11 - 1

1. T, R, P, N, L, J, H, ?

प्रश्नचिन्हाच्या जागी येणारे अक्षर कोणते असेल?

(1) G (2) F (3) H (4) E

2. दोन विधाने दिली आहेत, ज्यांनंतर 1 आणि 2 क्रमांकाचे दोन निष्कर्ष दिलेले आहेत. दिलेली विधाने ही सामान्यपणे ज्ञात तथ्यांपेक्षा वेगळी असल्याचे आढळले, तरी ती सत्य आहेत असे गृहीत धरून, दिलेल्या निष्कर्षांपैकी कोणता/ते निष्कर्ष दिलेल्या विधानांशी तर्कसंगत आहे/आहेत ते ठरवा.

विधाने :

एकही फळ बी नाही.

सर्व बिया लाल आहेत.

निष्कर्ष :

- (1) सर्व फळे बिया आहेत.
 (2) काही फळे बिया आहेत.
 (1) केवळ 2 तर्कसंगत आहे
 (2) केवळ 1 तर्कसंगत आहे
 (3) 1 आणि 2 दोन्ही तर्कसंगत आहेत
 (4) 1 किंवा 2 पैकी एकही तर्कसंगत नाही

3. दिलेल्या पदावलीस सरळ रूप द्या :

$$42 - [20 \div \{4(5-5-1)\}]$$

(1) 36 (2) 42 (3) 32 (4) 37

4. रोहितने ₹15 प्रति डझन या दराने 4 डझन केळी आणि ₹10 प्रति डझन या दराने 2 डझन केळी विकत घेतली. त्याने ती सर्व केळी विकून 20% नफा कमावला. त्याने ती केळी प्रति डझन किती किंमतीस विकली?

(1) 12.40 (2) 18.20 (3) 16.20 (4) 16

5. $\frac{(4.28)^2 - (1.62)^2}{4.28 - 1.62} \times 64$ चे मूल्य आहे.

(1) 377.6 (2) 454.2
 (3) 366.4 (4) 288

6. Cartology : creation of charts and maps : :
 Hematology : ?

Which will replace the question mark in the given series?

(1) Study of heart rate

(2) Study of Pulse rate

(3) Study of Tissues

(4) Study of blood and blood disorders

7. असिफने चक्रवाढ व्याजाच्या वार्षिक 8% दराने 2 वर्षांसाठी 45,000 कर्जाऊ घेतले. दोन वर्षांच्या चक्रवाढ व्याजाची गणना करा.

(1) 7295 (2) 7488 (3) 8689 (4) 4256

8. दिलेल्या प्रश्नात, + म्हणजे × आहे, × म्हणजे / आहे, - म्हणजे + आहे आणि / म्हणजे- असेल, तर खालील प्रश्नाचे उत्तर शोधा.

$$18 - 23 - 5/1 + 14 \times 7$$

(1) 41 (2) 44 (3) 43 (4) 42

9. दोन विधाने दिली आहेत, ज्यांनंतर 1 आणि 2 क्रमांकाचे दोन निष्कर्ष दिलेले आहेत. दिलेली विधाने ही सामान्यपणे ज्ञात तथ्यांपेक्षा वेगळी असल्याचे आढळले, तरी ती सत्य आहेत असे गृहीत धरून, दिलेल्या निष्कर्षांपैकी कोणता/ते निष्कर्ष दिलेल्या विधानांशी तर्कसंगत आहे/आहेत ते ठरवा.

विधाने:

सर्व मांजरी प्राणी आहेत.

एकही प्राणी वटवाघूळ नाही. काही वटवाघळे कासवे आहेत.

निष्कर्ष:

- (1) सर्व मांजरी वटवाघुळे आहेत.
 (2) एकही प्राणी कासव नाही.
 (1) केवळ 1 तर्कसंगत आहे
 (2) केवळ 2 तर्कसंगत आहे
 (3) 1 आणि 2 दोन्ही तर्कसंगत आहेत.
 (4) 1 किंवा 2 पैकी एकही तर्कसंगत नाही.

10. एक मेट्रो एका स्थानकाहून दुसऱ्या स्थानकापर्यंत प्रवास करते आणि 4 तासांत 460 km पार करते. त्या मेट्रोचा वेग काढा.

(1) 20km/hr (2) 100km/hr
 (3) 80 km/hr (4) 115 km/hr

11. 5, 20, 95, 470,?

प्रश्नचिन्हाच्या जागी येणारी संख्या कोणती असेल?

(1) 2340 (2) 2335 (3) 2345 (4) 2330

पेपर क्र. - 21	1 - 2	2 - 4	3 - 4	4 - 4	5 - 1	6 - 4	7 - 2	8 - 2	9 - 4	10 - 4	11 - 3
----------------	-------	-------	-------	-------	-------	-------	-------	-------	-------	--------	--------

1. 11200 रुपयांवर 2 वर्षासाठी चक्रवाढ व्याजाच्या दरसाल 15% दराने वार्षिक गणनेनुसार मिळणारे चक्रवाढ व्याज (CI) काढा.

- (1) 3261 (2) 4612
(3) 3126 (4) 3612

2. Select the odd one out from the given option?

- (1) Pear (2) Orange
(3) Guava (4) Banana

3. A Bike travels from point A to point B and covers 468 km in 6 hrs. Calculate the speed of Bike.

- (1) 80 km/hr (2) 76 km/hr
(3) 78 km/hr (4) 72 km/hr

4. Select the odd one out from the given option?

- (1) Earth (2) Moon
(3) Galaxy (4) Universe

5. तीस संख्यांची सरासरी 20 आहे. जर 16 आणि 18 या दोन संख्यांना काढून टाकले, तर उर्वरित संख्यांची सरासरी जवळपास किती असेल?

- (1) 12.21 (2) 21.20
(3) 20.21 (4) 20.12

6. अरुण एका कलाकृतीस ₹990 ला विकतो आणि त्याला 10% तोटा होतो. 20% नफा कमाविण्यासाठी अरुणने ती किती किंमतीस विकली पाहिजे?

- (1) रू. 1420 (2) रू. 1220
(3) रू. 1320 (4) रू. 1520

7. A,Z,B,Y,C, ____?

What is the letter that corresponds to the question mark?

- (1) Y (2) X
(3) Z (4) L

8. 3,9,81, ____?

What is the number that corresponds to the question mark?

- (1) 6558 (2) 6560

- (3) 6557 (4) 6561

9. Fission : Fusion :: Black : ?

What will come in place of question mark?

- (1) Yellow (2) Green
(3) White (4) Red

10. Three statements are given and these statements are followed by two conclusions numbered (1) and (2). You have to take the given two statements to be true even if they seem to be at variance from commonly known facts. Read the conclusions and then decide which of the given conclusions logically follows from the three given statements.

Statements :

No play is a fiction.

Some fictions are poems.

All fictions are comics.

Conclusions :

- (1) Some poems not being comics is a possibility.
(2) Some poems are not plays.
(1) Both conclusion 1 and 2 follows
(2) Only conclusion 2 follows
(3) Neither conclusion 1 nor conclusion 2 follows
(4) Only conclusion 1 follows

11. If $1225 \div 12.5 = 150$, then $12.25 \div 1.25 = ?$

- (1) 15 (2) 12.5 (3) 10.5 (4) 10

12. 25, 21, 17, 13, ____ ?

What is the number that corresponds to the question mark?

- (1) 7 (2) 6 (3) 8 (4) 9

13. पाईप A हा टाकीचा 50% भाग 8 तासांत भरू शकतो आणि पाईप B त्याच टाकीला 12 तासांत पूर्णपणे भरू शकतो. जर दोन्ही पाईप एकाच वेळी उघडले गेले, तर रिकाम्या टाकीस भरण्यास किती वेळ लागेल?

- (1) $5\frac{6}{7}$ तास (2) $5\frac{8}{7}$ तास
(3) $6\frac{6}{19}$ तास (4) $6\frac{6}{7}$ तास

पेपर क्र. - 22	1 - 4	2 - 2	3 - 3	4 - 4	5 - 3	6 - 3	7 - 2	8 - 4	9 - 3	10 - 1	11 - 1
	12 - 4	13 - 4									

1. खालील विधाने व निष्कर्ष वाचा आणि खालील विधानांपैकी सर्वोत्तम पर्याय निवडा.

विधाने :

एकही स्टॅपलर एक पिना नाही.

सर्व पिना पुस्तके आहेत..

निष्कर्ष:

- (1) काही पिना पुस्तके आहेत.
 (2) काही पिना स्टॅपलर नाहीत.
 (1) 1 आणि 2 दोन्ही निष्कर्ष तर्कसंगत आहेत.
 (2) केवळ निष्कर्ष 1 तर्कसंगत आहे.
 (3) केवळ निष्कर्ष 2 तर्कसंगत आहे.
 (4) 1 किंवा 2 पैकी एकही निष्कर्ष तर्कसंगत नाही.

2. B, E, H, L, P, U, Z, ?, ?

प्रश्नचिन्हाच्या जागी काय येईल ?

- (1) E, L (2) C, I
 (3) E, M (4) F, H

3. एका शेतकऱ्याला पिक घेण्यासाठी 3 महिन्यांसाठी रु. 20000 चे कर्ज हवे आहे. तो वार्षिक 13.5% व्याजदराने पैसे देणाऱ्या एका सावकाराकडे जातो. शेतकऱ्याने सावकाराला किती रक्कम परत करायला हवी ?

- (1) ₹ 62500 (2) ₹ 20675
 (3) ₹ 20175 (4) ₹ 26250

4. $5\frac{3}{17}$ ला कोणत्या संख्येने गुणल्यास गुणाकार $6\frac{5}{34}$ येईल ?

- (1) $\frac{7}{17}$ (2) $\frac{189}{176}$
 (3) $\frac{29}{34}$ (4) $\frac{209}{176}$

5. एक चोर 1500m अंतरावरून एका पोलिसाला पाहतो. चोर आणि पोलिस अनुक्रमे 7 kmph आणि 9 kmph वेगाने पळण्यास सुरुवात करतात. किती अंतरावर पोलिस चोराला पकडेल ?

- (1) 8.5 km (2) 7.25 km
 (3) 6 km (4) 6.75 km

6. दिलेल्या मालिकेतून सर्व संख्या वगळल्या, तर डाव्या टोकापासून बाराव्या स्थानी काय येईल ?

H & E % 7 0 & 6 ^ 4 Z 5 * 3 N 9 T ! D 2 \$ B 8 U 5 Z @ 6
 Y % N & H 8 M S

- (1) @ (2) U (3) T (4) !

7. चक्रवाढ व्याजाच्या वार्षिक किती टक्के दराने रु. 5000 ही रक्कम 2 वर्षात रु. 5618 होईल ?

- (1) 6% (2) 6.25% (3) 8% (4) 10%

8. दिलेल्या मालिकेत प्रश्नचिन्हाच्या जागी काय येईल ?
 3, 9, 81,

- (1) 6580 (2) 6570 (3) 6600 (4) 6561

9. L, N, Q, U, Z, ?

प्रश्नचिन्हाच्या जागी काय येईल ?

- (1) I (2) M (3) J (4) F

10. खाली दिलेल्या राजधानीच्या शहरांवर आधारित विसंगत शहर ओळखा ?

- (1) लखनऊ (2) गुवाहाटी
 (3) पाटणा (4) डेहराडून

11. खाली दिलेली शहरे आणि नद्यांवर आधारित गटात न बसणारा शब्द शोधा ?

- (1) हरिद्वार (2) वाराणसी
 (3) प्रयागराज (4) लखनऊ

12. खाली दिलेल्यांची चढत्या क्रमाने रचना करा.

$1\frac{2}{3}$, $1\frac{4}{7}$, $1\frac{8}{15}$, $1\frac{2}{5}$, $1\frac{3}{17}$

- (1) $1\frac{2}{3}$, $1\frac{4}{7}$, $1\frac{2}{5}$, $1\frac{3}{17}$, $1\frac{8}{15}$
 (2) $1\frac{2}{5}$, $1\frac{8}{15}$, $1\frac{3}{17}$, $1\frac{4}{7}$, $1\frac{2}{3}$
 (3) $1\frac{3}{17}$, $1\frac{2}{5}$, $1\frac{8}{15}$, $1\frac{4}{7}$, $1\frac{2}{3}$
 (4) $1\frac{3}{17}$, $1\frac{4}{7}$, $1\frac{2}{3}$, $1\frac{2}{5}$, $1\frac{8}{15}$

13. उत्तर प्रदेश लखनऊ मध्य प्रदेश: ?

राज्य आणि राजधान्यांच्या संदर्भात खालीलपैकी काय प्रश्नचिन्हाच्या जागी येईल ?

- (1) इंदूर (2) भोपाळ
 (3) ग्वाल्हेर (4) सतना

पेपर क्र. - 23	1 - 1	2 - 1	3 - 2	4 - 4	5 - 4	6 - 4	7 - 1	8 - 4	9 - 4	10 - 2	11 - 4
	12 - 3	13 - 2									

1. दिलेली विधान/ने आणि निष्कर्ष लक्षपूर्वक वाचा. विधानांमध्ये दिलेली माहिती ही सामान्यपणे ज्ञात तथ्यांपेक्षा वेगळी असल्याचे आढळले, तरी ती सत्य आहे असे गृहीत धरून, दिलेल्या निष्कर्षांपैकी कोणता/ते निष्कर्ष दिलेल्या विधानांशी तर्कसंगत आहे/आहेत ते ठरवा.
विधाने:
सर्व गुहा, लेण्या आहेत.
काही गुहा, घरे आहेत.
निष्कर्ष:
(I) काही घरे, लेण्या आहेत.
(II) काही लेण्या, गुहा आहेत.
(1) फक्त निष्कर्ष (II) तर्कसंगत आहे.
(2) फक्त निष्कर्ष (I) तर्कसंगत आहे.
(3) निष्कर्ष (I) आणि (II) हे दोन्ही तर्कसंगत आहेत.
(4) निष्कर्ष (I) किंवा (II) पैकी एकही तर्कसंगत नाही.
2. जर 'A' म्हणजे '=', 'B' म्हणजे '×', 'C' म्हणजे '+' आणि 'D' म्हणजे '-' आहे, तर खालीलपैकी कशाचे उत्तर 35 असेल?
(1) 11 A 3 B 27 C 9 D 5
(2) 11 C 3 A 27 D 9 B 5
(3) 11 B 3 D 27 A 9 C 5
(4) 11 A 3 D 27 B 9 C 5
3. सरल रूप ह्या : $7 - \{13 - 2(-4 \times 4)\} - 15 \div 3$.
(1) -43 (2) -36 (3) -30 (4) -38
4. खाली दिलेल्या अक्षर-समुहाच्या जोड्यांमध्ये व्यक्त झालेल्या समान संबंधाचे उत्तम प्रतिनिधित्व करणाऱ्या अक्षर-समुहाची जोडी निवडा.
YJR : ANX
HDO : JHU
(1) KLM : GOI (2) KUF : FZA
(3) XEB : ZIH (4) PJV : THZ
5. दिलेल्या मालिकेमध्ये ? च्या जागी काय यायला हवे?
125 80 45 20?
(1) 15 (2) 10 (3) 5 (4) 25
6. दिलेली विधान/ने आणि निष्कर्ष लक्षपूर्वक वाचा. विधानांमध्ये दिलेली माहिती ही सामान्यपणे ज्ञात तथ्यांपेक्षा वेगळी असल्याचे आढळले, तरी ती सत्य आहे असे गृहीत धरून, दिलेल्या निष्कर्षांपैकी कोणता/ते निष्कर्ष दिलेल्या विधानांशी तर्कसंगत आहे/आहेत ते ठरवा.
विधाने :
काही डाळी, कडधान्ये आहेत.
काही कडधान्ये, बिया आहेत.
बहुतेक बिया, काजू आहेत.
निष्कर्ष :
(I) : काही डाळी, बिया आहेत.
(II): काही कडधान्ये, काजू आहेत.
(1) फक्त निष्कर्ष (I) तर्कसंगत आहे.
(2) फक्त निष्कर्ष (II) तर्कसंगत आहे.
(3) निष्कर्ष (I) किंवा निष्कर्ष (II) पैकी एकही तर्कसंगत नाही.
(4) निष्कर्ष (I) आणि (II) हे दोन्ही तर्कसंगत आहेत.
7. पाईप X आणि पाईप Y हे टाकी भरणारे पाईप आहेत तर पाईप Z हा टाकी रिकामी करणारा पाईप आहे. X आणि Y अनुक्रमे 144 आणि 180 मिनिटांत टाकी भरू शकतात. तिन्ही पाईप एकाच वेळी सुरु केले, तर टाकी 4 तासांत भरते. X आणि Y यांना 24 मिनिटांसाठी एकाच वेळी सुरु केले, मग बंद केले आणि Z ला सुरु केले. तर टाकी किती वेळानंतर रिकामी होईल?
(1) 12 मिनिटे (2) 18 मिनिटे
(3) 36 मिनिटे (4) 15 मिनिटे
8. चार शब्द जोड्या दिल्या आहेत. त्यापैकी तीन विशिष्ट प्रकारे समान आहेत आणि एक वेगळी आहे. ती वेगळी शब्द-जोडी निवडा.
(1) देवमासा (व्हेल) - काफ (2) कोल्हा - शिंगरू
(3) सील - पप (4) बकरी - कोकरू
9. इंग्रजी वर्णमालाक्रमावर आधारलेल्या दिलेल्या मालिकेत प्रश्नचिन्हाच्या (?) जागी काय आले पाहिजे?
LFR, FZL, ZTF, TNZ, ?
(1) MHU (2) NHT (3) NGU (4) MHT

24. जर 54 किलो धान्य 35 घोड्यांना 21 दिवस खाण्यासाठी पुरेसे असेल, तर 72 किलो धान्य हे 28 घोड्यांना किती दिवस खाण्यासाठी पुरेसे आहे?

- (1) $31\frac{1}{2}$ (2) 35 (3) 42 (4) 28

25. दिलेल्या अक्षर - समूहांच्या जोडीमध्ये असलेल्या सहसंबंधाप्रमाणेच समान संबंध दर्शविणारी अक्षर - समूहांची जोडी दिलेल्या पर्यायांतून निवडा.

FNW : HLY

KOR : MMT

- (1) UDX : XBV (2) BPN : DNP
(3) GLS : IJU (4) CIQ : EGS

25

Date - 17/08/2023

वेळ : 12 : 30 PM - 2 : 30 PM

1. एक माणूस स्थिर पाण्यात 6 km/h वेगाने वलवू शकतो. समान अंतर पार करण्यासाठी प्रवाहाच्या दिशेने लागणाऱ्यापेक्षा त्याला प्रवाहाच्या विरुद्ध दिशेने जाताना 3 तास जास्त लागतात, जर प्रवाहाचा वेग 2 km/h असेल, तर तर शोधा.

- (1) 24km (2) 38km (3) 30km (4) 20km

2. A, B, आणि C स्वतंत्रपणे एक काम अनुक्रमे 9, 12 आणि 18 दिवसांत शकतात. सगळ्यांनी मिळून कामाला सुरवात केली, पण A हा 3 दिवसांनी निघून गेला. तर उर्वरित काम किती दिवसांत पूर्ण झाले?

- (1) $\frac{11}{4}$ (2) 2 (3) $\frac{9}{5}$ (4) $\frac{5}{2}$

3. दिलेली विधान/ने आणि निष्कर्ष काळजीपूर्वक वाचा विधानांतील माहिती सामान्यतः ज्ञात तथ्यांपेक्षा वेगळी आढळली तरी ती सत्य आहे, असे गृहीत धरून दिलेल्यापैकी कोणता/ते निष्कर्ष दिलेल्या विधानांशी तर्कसंगत आहे/त ने ठाया.

विधाने :

काही मांजरी या कुत्रे आहेत.

एकही कुजा गाय नाही.

निष्कर्ष :

- (I) एकही गाय ही मांजर नाही.
(II) एकही कुत्रा हा मांजर नाही.
(1) निष्कर्ष (I) आणि (II) दोन्ही सत्य आहेत.
(2) केवळ निष्कर्ष (II) सत्य आहे
(3) निष्कर्ष (I) किंवा (II) पैकी एकही नाही
(4) केवळ निष्कर्ष (I) सत्य आहे.

4. 18 बांधणीकार 10 दिवसांत 900 पुस्तकांची बांधणी करतात, तर 12 दिवसांत 660 पुस्तकाची बांधणी करण्यासाठी किती बांधणीकारांची आवश्यकता असेल?

- (1) 14 (2) 22 (3) 13 (4) 11

5. एक टाकी भरण्यासाठी तीन पंप A, B आणि C अशाप्रकारे उघडले जातात, जेणेकरून B आणि C स्वतंत्रपणे ही टाकी अनुक्रमे 18 तास आणि 12 तासांत भरू शकतील. पाईप - तिला 15 तासांत रिकामी करू शकतो. सर्व तीन पाईप एकत्र उघडले आहेत आणि 5 तासांनंतर पाईप बंद केला, तर उर्वरित टाकी किती तासांत भरली जाईल?

- (1) 4 तास 30 मिनिटे (2) 1 तास 45 मिनिटे
(3) 2 तास 50 मिनिटे (4) 1 तास 15 मिनिटे

6. एका वस्तूची खरेदी किंमत विक्री किमतीच्या 96% आहे. एकूण तोटा किंवा नफ्याची टक्केवारी शोधा.

- (1) $4\frac{5}{6}\%$ नफा (2) 5.80% तोटा
(3) 6.66% तोटा (4) $4\frac{1}{6}\%$ नफा

7. जर 21 गाथी 15 म्हशींच्या खाद्याकडे चरतात, तर किती गाथी 105 म्हशींच्या खाद्याकडे चरतील?

- (1) 161 (2) 75 (3) 53 (4) 147

8. खालील मासिका तार्किकदृष्ट्या पूर्ण होण्यासाठी दिलेल्या पर्यायांपैकी कोणता पर्याय प्रश्नचिन्हाच (?) जागी येऊ शकेल? FU6, HS12, JQ20, LO30 ?

- (1) NM12 (2) NM24 (3) MN42 (4) MN24

9. दिलेली विधाने आणि निष्कर्ष लक्षपूर्वक वाचा. विधानामध्ये दिलेली माहिती ही सामान्यपणे ज्ञात तथ्यांपेक्षा वेगळी असल्याचे आढळले व ती सत्य आहे असे गृहीत धरून दिलेल्या निष्कर्षांपैकी कोणता/ने निष्कर्ष दिलेल्या विधानाशी तर्कसंगत आहे/आहेत ते ठरवा.

विधाने :

सर्व ग्रह चंद्र आहेत.

सर्व चंद्र तारे आहेत.

निष्कर्ष :

- (I) सर्व चंद्र ग्रह आहेत.
(II) एकही द्वारा यह नाही.
(1) फक्त निष्कर्ष (I) तर्कसंगत आहे.
(2) निष्कर्ष (I) किंवा (II) पैकी एकही तर्कसंगत नाही
(3) फक्त निष्कर्ष (I) तर्कसंगत आहे.
(4) निष्कर्ष (I) आणि (II) हे दोन्ही तर्कसंगत आहेत.

पेपर क्र. - 24	24 - 2	25 - 4									
पेपर क्र. - 25	1 - 1	2 - 3	3 - 3	4 - 4	5 - 1	6 - 4	7 - 4	8 - 4	9 - 2		

- अजयला 30 km अंतर कापण्यासाठी महेशपेक्षा 2 तास जास्त लागतात. जर अजयने त्याचा वेग दुप्पट केला, तर त्याला महेशपेक्षा 1 तास कमी लागेल. अजयचा वेग किती आहे?
(1) 5 km/h (2) 4 km/h
(3) 6 km/h (4) 3 km/h
- दिलेली मालिका तार्किकदृष्ट्या पूर्ण होण्यासाठी (?) च्या जागी काय आले पाहिजे?
B4M, C8T, ?, H96H, L480O
(1) E24Z (2) E24A
(3) F24Z (4) F24A
- चक्रवाढ व्याजाच्या विशिष्ट दराने 3 आणि 2 वर्षांनंतर नियत मुदलांच्या रकमा या 21 : 20 च्या गुणोत्तरात आहे. तर व्याजदर किती आहे?
(1) 7% (2) 5% (3) 4% (4) 6%
- ट्रेन A इंदूरहून दिल्लीसाठी 60 km/h या वेगाने सकाळी 11:00 वाजता निघते, ट्रेन B इंदूरहून दिल्लीसाठी त्याच मार्गाने त्याच दिवशी 72 km/h वेगाने दुपारी 2:00 वाजता निघते. या दोन्ही गाड्या एकमेकींना किती वाजता भेटतील?
(1) दुसऱ्या दिवशी दुपारी 5:00 वाजता
(2) दुसऱ्या दिवशी पहाटे 2:00 वाजता
(3) दुसऱ्या दिवशी पहाटे 5:00 वाजता
(4) दुसऱ्या दिवशी दुपारी 2:00 वाजता
- जर दिवसातील 7 तास काम करून 16 पुरुष 48 दिवसांत एका शेताची नांगरणी करू शकतात, तर दिवसातील 12 तास काम करून 14 पुरुष त्याच शेताची किती दिवसांत नांगरणी करतील?
(1) 46 (2) 35 (3) 30 (4) 32
- जर '+' म्हणजे '-' असेल, '-' म्हणजे '×' असेल '×' म्हणजे '÷' असेल आणि '÷' म्हणजे '+' असेल, तर दिलेल्या समीकरणामध्ये प्रश्नचिन्हाच्या (?) जागी येऊ शकणारा पर्याय निवडा. $17 - 3 + 12 = ?$
(1) 33 (2) 44 (3) 39 (4) 49
- दिलेल्या मालिकेत प्रश्नचिन्हाच्या (?) जागी काय आले पाहिजे?

36, 64, 100, 144, 196, ?

- (1) 256 (2) 121 (3) 49 (4) 81

- एका कारच्या पथमापीचे वाचन प्रवासाच्या सुरुवातीस 12,000 km आणि शेवटी 13,080 km असे आहे. घर प्रवासाला 4 तास सागते, तर कारचा सरासरी वेग (m/sec मध्ये) किती आहे?
(1) 80 m/sec (2) $\frac{270}{8}$ m/sec
(3) $\frac{500}{9}$ m/sec (4) 75 m/sec
- एक कार रू. 50,000 ना चिन्हांकित आहे. विक्रेता पहिल्या रू.20,000 वर 5% सवलत आणि उर्वरित रू.30,000 वर 2% सवलत देतो. तर विक्रेत्याने बदललेली किंमत शोधा.
(1) ₹52,600 (2) ₹48,400
(3) ₹49,800 (4) ₹50,600
- दिलेली विधानाने आणि निष्कर्ष लक्षपूर्वक वाचा. विधानांमध्ये दिलेली माहिती ही सामान्यपणे ज्ञात तथ्यांपेक्षा वेगळी असल्याचे आढळले, तरी ती सत्य आहे असे गृहीत धरून, दिलेल्या निष्कर्षांपैकी कोणता ते निष्कर्ष दिलेल्या विधानांशी तर्कसंगत आहे/आहेत ते ठरवा.
विधाने:
काही विजारी, पायजमे आहेत.
काही पायजमे, जीन्स आहेत.
निष्कर्ष:
(I) : सर्व विजारी, जीन्स आहेत.
(II) : सर्व जीन्स, पायजमे आहेत.
(1) फक्त निष्कर्ष (II) तर्कसंगत आहे.
(2) निष्कर्ष (I) किंवा निष्कर्ष (II) पैकी एकही तर्कसंगत नाही.
(3) फक्त निष्कर्ष (I) तर्कसंगत आहे.
(4) निष्कर्ष (I) आणि (II) हे दोन्ही तर्कसंगत आहेत.
- एक वस्तू तिच्या खरेदी किमतीच्या 60% वर चिन्हांकित केली आणि 20% सवलतीने विकली. मिळालेल्या नफ्याची टक्केवारी शोधा.
(1) 32% (2) 30% (3) 25% (4) 28%
- सरळ रूप द्या : $121 \div [17 - \{15 - 3 \times (7 - 4)\}]$
(1) 12 (2) 13 (3) 11 (4) 10

पेपर क्र. - 26	1 - 1	2 - 2	3 - 2	4 - 3	5 - 4	6 - 3	7 - 1	8 - 4	9 - 2	10 - 2	11 - 1
	12 - 3										

1. पाईप A आणि B अनुक्रमे 7 तास आणि 10 तासांत एक टाकी भरू शकतात आणि पाईप C हा पूर्ण भरलेली टाकी 14 तासांत रिकामी करू शकतो. तीनही पाईप एकाच वेळी सुरु केले, पण पाईप A ला 4.5 तासांनंतर बंद केले. तर टाकीचा उर्वरित भाग किती तासांत भरला जाईल?
(1) 8 (2) 12 (3) 24 (4) 16
2. इंग्रजी वर्णक्रमानुसार दिलेल्या मालिकेत प्रश्नचिन्हाच्या (?) जागी काय आले पाहिजे?
AIP, BJQ, CKR, DLS, ?
(1) PQT (2) RPQ (3) ETM (4) EMT
3. जर दिवसातील 9 तास काम करून 15 पुरुष 16 दिवसांत एका शेताची कापणी करू शकतात, तर 18 पुरुष दिवसातील 8 तास काम करून, किती दिवसांत शेताची कापणी करतील?
(1) 15 (2) 24 (3) 18 (4) 9
4. दिलेली विधाने आणि निष्कर्ष लक्षपूर्वक वाचा. विधानांमध्ये दिलेली माहिती ही सामान्यपणे ज्ञात तथ्यांपेक्षा वेगळी असल्याचे आढळले, तरी ती सत्य आहे असे गृहीत धरून, दिलेल्या निष्कर्षांपैकी कोणता/ते निष्कर्ष दिलेल्या विधानांशी तर्कसंगत आहे/आहेत ते ठरवा.
विधाने :
सर्व गायक, संगीतकार आहेत.
सर्व संगीतकार, कलाकार आहेत.
एकही कलाकार डॉक्टर नाही.
निष्कर्ष :
(I) काही डॉक्टर, गायक आहेत.
(II) काही संगीतकार, गायक आहेत.
(1) फक्त निष्कर्ष (II) सत्य आहे.
(2) निष्कर्ष (I) किंवा निष्कर्ष (II) पैकी एकही सत्य नाही.
(3) निष्कर्ष (I) आणि (II) हे दोन्ही सत्य आहेत.
(4) फक्त निष्कर्ष (I) सत्य आहे.
5. लोकांच्या एका गटामध्ये पुरुष, स्त्रिया आणि मुले आहेत. जर त्यापैकी 35% पुरुष, 40% स्त्रिया आणि उर्वरित मुले असतील, आणि त्यांचे सरासरी वजन अनुक्रमे 70 kg, 60 kg आणि 30 kg असेल, तर गटाचे सरासरी वजन किती आहे?
(1) 56.5 kg (2) 46 kg (3) 56 kg (4) 45.5 kg
6. अक्षरगटांच्या चार जोड्या दिलेल्या आहेत. त्यापैकी तीन जोड्या एका विशिष्ट तऱ्हेने समान आहेत आणि एक वेगळी आहे. ती वेगळी अक्षरगट जोडी निवडा.
(1) TRF : WPI (2) BDU : EAW
(3) VMJ : YKM (4) CHP : FFS
7. दिलेल्या मालिकेत प्रश्नचिन्हाच्या (?) जागी खालीलपैकी कोणती संख्या येईल?
909, 888, 867, 846, 825, ?
(1) 804 (2) 815 (3) 818 (4) 807
8. प्रत्येकी रू. 600 किंमतीने दोन ट्रान्झिस्टर विकून, दुकानदाराला एका ट्रान्झिस्टरवर 20% नफा होतो आणि दुसऱ्यावर 20% तोटा होतो. एकूण नफा किंवा तोट्याची टक्केवारी शोधा.
(1) 6.25% तोटा (2) 9.09% तोटा
(3) 8% नफा (4) 10% नफा
9. L मीटर लांबी असलेली एक रेल्वेगाडी तिच्या नेहमीच्या 40% वेगाने, 320m लांबीचा एक प्लॅटफॉर्म 20 सेकंदांत पार करते. रेल्वेगाडी तिच्या नेहमीच्या वेगाने 4 सेकंदात एक खांब ओलांडते. तर L चे मूल्य किती आहे?
(1) 410 (2) 320 (3) 540 (4) 260
10. दिलेली विधान/ने आणि निष्कर्ष लक्षपूर्वक वाचा. विधानांमध्ये दिलेली माहिती ही सामान्यपणे ज्ञात तथ्यांपेक्षा वेगळी असल्याचे आढळले, तरी ती सत्य आहे असे गृहीत धरून, दिलेल्या निष्कर्षांपैकी कोणता/ते निष्कर्ष दिलेल्या विधानांशी तर्कसंगत आहे/आहेत ते ठरवा.
विधाने :
(I) काही ट्यूलिप, गुलाब आहेत.
(II) सर्व ट्यूलिप, लिली आहेत.
निष्कर्ष:
(I) काही गुलाब, लिली आहेत.
(II) सर्व लिली, ट्यूलिप आहेत.
(1) फक्त निष्कर्ष (II) तर्कसंगत आहे.
(2) निष्कर्ष (I) आणि (II) हे दोन्ही तर्कसंगत आहेत.
(3) फक्त निष्कर्ष (I) तर्कसंगत आहे.
(4) निष्कर्ष (I) किंवा (II) पैकी एकही तर्कसंगत नाही.

पेपर क्र. - 27	1 - 1	2 - 4	3 - 1	4 - 2	5 - 3	6 - 2	7 - 1	8 - 3	9 - 2	10 - 3
----------------	-------	-------	-------	-------	-------	-------	-------	-------	-------	--------

1. A आणि B एक काम अनुक्रमे 12 दिवस आणि 16 दिवसांत करू शकतात. दोघे 3 दिवस काम करतात आणि नंतर A तिथून निघून जातो. उर्वरित काम पूर्ण करण्यासाठी B ला किती वेळ लागेल?
(1) 11 (2) 15 (3) 9 (4) 10
2. अक्षरगटांच्या चार जोड्या दिलेल्या आहेत. त्यापैकी तीन जोड्या एका विशिष्ट तऱ्हेने समान आहेत आणि एक वेगळी आहे. ती वेगळी अक्षरगट जोडी निवडा.
(1) VXP : RVN (2) HTE : DQC
(3) SRK : OOI (4) TZC : PWA
3. Two pipes, one internal E and one external H fill the tank. Pipe H can fill the tank in 4 minutes. If both pipes are opened alternately for one minute each, such that pipe E is opened first and then pipe H and so on, then what is the time required by both the pipes to fill the tank?
(1) 5 min (2) 4 min
(3) 6 min (4) 3 min
4. अक्षर, संख्या, चिन्हे असलेल्या खालील मालिकेचा संदर्भ घ्या आणि प्रश्नाचे उत्तर द्या.
(डावे) LS 4*T% RV59U#3QE÷2+6A-8(उजवे)
जर मालिकेतील सर्व चिन्हे वगळली आणि मालिकेला उलट क्रमाने मांडले गेले, तर डावीकडून चौथ्या स्थानी काय येईल?
(1) 6 (2) Q (3) E (4) 2
5. इंग्रजी वर्णक्रमावर आधारित रचनेनुसार दिलेल्या मालिकेत प्रश्नचिन्हाच्या (?) जागी येऊ शकणारा अक्षर-समूह पर्यायांतून निवडा. HOB, NSD, TWF, ZAH, ?
(1) EFJ (2) FEJ (3) DFK (4) DFJ
6. खालील मालिका तार्किकदृष्ट्या पूर्ण होण्यासाठी दिलेल्या पर्यायांपैकी कोणता पर्याय प्रश्नचिन्हाच्या (?) जागी येऊ शकेल? XC3, TG7, PK11, ?
(1) 0L15 (2) L051 (3) L015 (4) 0L51
7. On selling 17 balls at ₹720, there is a loss equal to the cost price of 5 balls. The cost price of a ball is:
(1) 60 (2) 45 (3) 50 (4) 55
8. सरळव्याजाच्या वार्षिक 5% दराने एक रक्कम दुप्पट होण्यासाठी लागणारा कालावधी किती आहे?
(1) 10 years (2) 12 years
(3) 20 years (4) 18 years
9. खालील अक्षरसमूह-जोड्यांमधील अक्षर-समूहांचा ज्याप्रकारे एकमेकांशी संबंध आहे त्याप्रकारे संबंध असलेली अक्षरसमूह-जोडी दिलेल्या पर्यायांतून निवडा.
FGH-IJK NOP-QRS UVW-XYZ
(1) ABC-EFG (2) KLM-NOP
(3) FED-CBA (4) DFH-JLN
10. खालील दिलेल्या अक्षरगटांच्या जोडीमध्ये व्यक्त केलेल्या सहसंबंधाशी साधर्म्य असलेल्या सहसंबंधाला उत्तमरीत्या दर्शवणारी अक्षरगटांची जोडी निवडा.
ALW: DPB
BMX: EQC
(1) BHU : PKJ (2) CNY : FRD
(3) GHF: MJU (4) HGJ: HIH
11. 945.341 - 1042.792+875.435+ 31.025चे मूल्य किती?
(1) 809.009 (2) 795.659
(3) 908.004 (4) 810.008
12. दिलेली विधान/ने आणि निष्कर्ष लक्षपूर्वक याचा विधानांमध्ये दिलेली माहिती ही सामान्यपणे शास बच्यांपेक्षा वेगळी असल्याचे आढळले, तरी ती सत्य आहे असे गृहीत धरून, दिलेल्या निष्कर्षांपैकी कोणता/ते निष्कर्ष दिलेल्या विधानांशी तर्कसंगत आहे आहेत से ठरवा.
विधाने:
(I) सर्व पिझ्झा, बर्गर आहेत.
(II) काही बर्गर, डोनट आहेत.
निष्कर्ष:
(I) सर्व डोनट, बर्गर आहेत.
(II) काही डोनट, पिझ्झा बाहेत.
(1) फक्त निष्कर्ष (II) तर्कसंगत आहे.
(2) फक्त निष्कर्ष (I) तर्कसंगत आहे.
(3) निष्कर्ष (I) किंवा (II) पैकी एकही तर्कसंगत नाही,
(4) निष्कर्ष (I) जाणि (II) हे दोन्ही तर्कसंगत आहेत.

पेपर क्र. - 28	1 - 3	2 - 1	3 - 3	4 - 4	5 - 2	6 - 3	7 - 1	8 - 3	9 - 2	10 - 2	11 - 1
	12 - 3										

1. सरळव्याजाच्या वार्षिक $12\frac{1}{2}\%$ दराने गुंतवलेली एक रक्कम 2 वर्षांनंतर ₹8,250 इतकी होते. एका वर्षासाठीचे सरळव्याज किती आहे?
 - (1) ₹814
 - (2) ₹1,650
 - (3) ₹910
 - (4) ₹1,700
2. रू. 9/kg किंमतीची किती किलोग्रॅम साखर रू. 7/kg किंमतीच्या 27 kg साखरेमध्ये मिसळली पाहिजे, जेणेकरून मिश्रण रू. 9.24/kg दराने विकून 10% नफा मिळू शकेल?
 - (1) 63 kg
 - (2) 54 kg
 - (3) 36 kg
 - (4) 42 kg
3. एका वस्तूची विक्री किंमत तिच्या खरेदी किंमतीच्या 96% आहे. एकूण तोटा किंवा नफ्याची टक्केवारी शोधा.
 - (1) 4% नफा
 - (2) 2% नफा
 - (3) 2% तोटा
 - (4) 4% तोटा
4. इंग्रजी वर्णमालाक्रमावर आधारित एका तर्कानुसार BKRS हे DNPP शी संबंधित आहे. त्याच तर्कानुसार LPVK हे NSTH शी संबंधित आहे. त्याच तर्काचे नुसरण केल्यास, VOIE हे खालीलपैकी कशाशी संबंधित आहे?
 - (1) WRGB
 - (2) XLHB
 - (3) XLFC
 - (4) WKHB
5. वंश हा यशपेक्षा 20% जलद वेगाने कार चालवतो. दोघांनीही मुझफ्फरनगरहून एकाच वेळी सुरुवात केली पण दुर्दैवाने, वाटेत वंशची कार बिघडली आणि त्यामुळे त्याचे 2 तास वाया गेले. जर दोघेही एकाच वेळी दिल्लीला पोहोचले आणि मुझफ्फरनगर व दिल्ली दरम्यानचे अंतर 150 km असेल, तर वंशचा वेग शोधा.
 - (1) 20 km/h
 - (2) 15 km/h
 - (3) 18 km/h
 - (4) 24 km/h
6. A, B आणि C हे एक काम अनुक्रमे 15, 10 आणि 30 दिवसांत करू शकतात. दर तिसऱ्या दिवशी B आणि C यांची मदत घेतल्यास, A किती दिवसांत ते काम करू शकेल?
 - (1) 9
 - (2) 15
 - (3) 12
 - (4) 6
7. इंग्रजी वर्णक्रमानुसार असलेल्या दिलेल्या मालिकेत (?) च्या जागी काय आले पाहिजे?

RX, YB, ?, MJ, TN

- (1) FE (2) GE (3) GF (4) FF
8. दिलेली विधाने आणि निष्कर्ष लक्षपूर्वक वाचा. विधानांमध्ये दिलेली माहिती ही सामान्यपणे ज्ञात तथ्यांपेक्षा वेगळी असल्याचे आढळले, तरी ती सत्य आहे से गृहीत धरून, दिलेल्या निष्कर्षांपैकी कोणता ते निष्कर्ष दिलेल्या विधानांशी तर्कसंगत आहे/आहेत हे ठरवा.

विधाने :

सर्व मोबाईल्स लॅपटॉप्स आहेत.
सर्व लॅपटॉप्स हेडफोन्स आहेत.

निष्कर्ष :

(I) : काही लॅपटॉप्स हेडफोन्स आहेत.
(II) : काही लॅपटॉप्स मोबाईल्स आहेत.

(1) निष्कर्ष (I) किंवा (II) पैकी एकही तर्कसंगत नाही.
(2) फक्त निष्कर्ष (I) तर्कसंगत आहे.
(3) निष्कर्ष (I) आणि (II) हे दोन्ही तर्कसंगत आहेत.
(4) फक्त निष्कर्ष (II) तर्कसंगत आहे.
9. खालील अक्षर समूहांच्या जोड्यांपैकी तीन विशिष्ट प्रकारे समान आहेत आणि म्हणून एक गट तयार करतात. त्या गटात न बसणारी क्षर-समूहांची जोडी निवडा.
 - (1) JH-DA
 - (2) VT-RP
 - (3) XV-RO
 - (4) QO - KH
10. जर स्वर्णाने चक्रवाढ व्याजाच्या वार्षिक 10% दराने दोन वर्षासाठी ₹8,000 या रकमेचे कर्ज घेतले, त्यानंतर कर्ज फेडण्यासाठी दोन वर्षांच्या शेवटी तिला भरावी लागणारी रक्कम किती सेल?
 - (1) ₹9,680
 - (2) ₹1,02,400
 - (3) ₹9,600
 - (4) ₹8,800
11. दिलेल्या क्षर मालिकेचा संदर्भ घ्या आणि त्यानंतर दिलेल्या प्रश्नाचे उत्तर द्या.

(डावे) UAQCOBLDIMEWFZTYSKPGX (उजवे)

येथे शी किती व्यंजने आहेत, ज्यांपैकी प्रत्येकाच्या ताबडतोब आधी एक स्वर येतो आणि ताबडतोब नंतर देखील एक स्वर येतो?

(1) तीन (2) एक (3) दोन (4) एकही नाही

पेपर क्र. - 29	1 - 1	2 - 1	3 - 4	4 - 1	5 - 2	6 - 1	7 - 4	8 - 3	9 - 2	10 - 1	11 - 2
----------------	-------	-------	-------	-------	-------	-------	-------	-------	-------	--------	--------

1. जर एकाच प्रकारच्या सर्व 10 वस्तूंची खरेदी किंमत, 8 वस्तूंच्या विक्री किंमतीएवढी असेल, तर तोटा किंवा नफ्याची टक्केवारी शोधा.
 (1) 25% नफा (2) 20% नफा
 (3) 20% तोटा (4) 15% तोटा
2. दिलेली विधाने आणि निष्कर्ष लक्षपूर्वक वाचा. विधानांमध्ये दिलेली माहिती ही सामान्यपणे ज्ञात तथ्यांपेक्षा वेगळी असल्याचे आढळले, तरी ती सत्य आहे असे गृहीत धरून, दिलेल्या निष्कर्षांपैकी कोणता निष्कर्ष दिलेल्या विधानांशी तर्कसंगत आहे/आहेत ते ठरवा.
 विधाने:
 काही चौरस, वर्तुळे आहेत.
 एकही वर्तुळ, त्रिकोण नाही.
 एकही रेषा, चौरस नाही.
 निष्कर्ष:
 (I) सर्व चौरस, त्रिकोण असण्याची शक्यता आहे.
 (II) काही रेषा, वर्तुळे असू शकतात
 (1) केवळ निष्कर्ष (II) तर्कसंगत आहे
 (2) केवळ निष्कर्ष (I) तर्कसंगत आहे
 (3) (I) आणि (II) हे दोन्ही तर्कसंगत आहेत
 (4) (I) किंवा (II) यापैकी एकही तर्कसंगत नाही
3. इंग्रजी वर्णक्रमानुसार असलेल्या दिलेल्या मालिकेत (?) च्या जागी काय आले पाहिजे? PD, KL, FT, AB, ?
 (1) UI (2) UJ (3) VI (4) VJ
4. इंग्रजी वर्णक्रमानुसार दिलेल्या मालिकेत प्रश्नचिन्हाच्या (?) जागी काय आले पाहिजे? SIT, QEV, OAX, MWZ, ?
 (1) YXZ (2) BSK (3) KSB (4) ZXY
5. एक वर्गातील मुले 1 ल्या दिवशी त्यांच्याकडील चॉकलेट्सपैकी $\frac{2}{5}$ चॉकलेट खातात.
 2 व्या दिवशी ते उर्वरित चॉकलेट्सपैकी $\frac{3}{4}$ चॉकलेट्स खातात.
 तरीही 75 चॉकलेट्स शिल्लक राहिल्यास, सुरुवातीला किती चॉकलेट्स होती?
 (1) 250 (2) 750 (3) 500 (4) 1000
6. दिलेल्या मालिकेत प्रश्नचिन्हाच्या (?) जागी काय आले पाहिजे? 17, 81, 137, 185, 225, ?
 (1) 248 (2) 261 (3) 273 (4) 257
7. पाईप A, B आणि C मिळून 12 तासांत एक टाकी भरू शकतात. तिन्ही पाईप एकाच वेळी 4 तास सुरु केले आणि नंतर C बंद केला. टाकीचा उर्वरित भाग भरण्यासाठी A आणि B यांना एकत्र मिळून 10 तास लागतात. एकट्या C ला टाकीचा दोन-तृतीयांश भाग भरण्यासाठी किती वेळ लागेल?
 (1) 60 तास (2) 50 तास (3) 40 तास (4) 48 तास
8. खालील मालिकेचा संदर्भ घ्या आणि प्रश्नाचे उत्तर द्या. (सर्व संख्या या केवळ एक अंकी संख्या आहेत.)
 (डावे) 725147161541284817482539174 (उजवे)
 येथे असे किती सम अंक आहेत, ज्यांपैकी प्रत्येकाच्या ताबडतोब आधी एक सम अंक येतो आणि ताबडतोब नंतर एक विषम अंक देखील येतो?
 (1) दोन (2) सहा (3) सात (4) पाच
9. दिलेली मालिका तार्किकदृष्ट्या पूर्ण होण्यासाठी प्रश्नचिन्हाच्या (?) जागी काय आले पाहिजे? JX45, HT76, FP107, ?
 (1) DL 138 (2) MH 131
 (3) ML 138 (4) LF 129
10. दिलेली विधाने आणि निष्कर्ष लक्षपूर्वक वाचा. विधानांमध्ये दिलेली माहिती ही सामान्यपणे ज्ञात तथ्यांपेक्षा वेगळी असल्याचे आढळले, तरी ती सत्य आहे असे गृहीत धरून, दिलेल्या निष्कर्षांपैकी कोणता ते निष्कर्ष दिलेल्या विधानांशी तर्कसंगत आहे / आहेत ते ठरवा.
 विधाने :
 (I) काही फुले, पाने आहेत.
 (II) सर्व पाने, कळ्या आहेत.
 निष्कर्ष :
 (I) सर्व फुले, कळ्या आहेत.
 (II) काही कळ्या, पाने आहेत.
 (1) फक्त निष्कर्ष (I) तर्कसंगत आहे.
 (2) फक्त निष्कर्ष (II) तर्कसंगत आहे.
 (3) निष्कर्ष (I) आणि (II) हे दोन्ही तर्कसंगत आहेत.
 (4) निष्कर्ष (I) किंवा (II) पैकी एकही तर्कसंगत नाही.

पेपर क्र. - 30	1 - 1	2 - 1	3 - 4	4 - 3	5 - 3	6 - 4	7 - 3	8 - 1	9 - 1	10 - 2
----------------	-------	-------	-------	-------	-------	-------	-------	-------	-------	--------

1. Read the given statement(s) and conclusions carefully. Assuming that the information given in the statements is true, even if it appears to be at variance with commonly known facts, decide which of the given conclusions logically follow(s) from the statement(s). Statements:

- (I) All pillows are blankets.
(II) All chairs are pillows.

Conclusions:

- (1) All pillows are chairs.
(II) All chairs are blankets.
(1) Both conclusions (I) and (II) follow.
(2) Only conclusion (II) follows.
(3) Only conclusion (I) follows.
(4) Neither conclusion (I) nor (II) follows.

2. खालील मालिका तार्किकदृष्ट्या पूर्ण होण्यासाठी दिलेल्या पर्यायांपैकी कोणता पर्याय प्रश्नचिन्हाच्या (?) जागी येऊ शकेल?

MN27, KP27, IR27, GT27, ?

- (1) VE72 (2) EV72
(3) EV27 (4) VE27

3. एक दुकानदार 300 किंमतीने एक वस्तू खरेदी करतो. तो तिची किंमत 20% ने वाढवतो आणि नंतर नवीन किंमतीवर 10% सवलत देतो. दुकानदाराने मिळवलेल्या नफ्याची टक्केवारी शोधा.

- (1) 9% नफा (2) 8% नफा
(3) 6% नफा (4) 7% नफा

4. Read the given statement(s) and conclusions carefully. Assuming that the information given in the statements is true, even if it appears to be at variance with commonly known facts, decide which of the given conclusions logically follow(s) from the statement(s).

Statements:

No day is a week.

Some months are days.

No week is a year.

Conclusions:

- (I) No day is a year.
(II) Some months are not weeks.
(1) Neither conclusion (I) nor (II) is true.
(2) Only conclusion (I) is true.
(3) Only conclusion (II) is true.
(4) Both conclusions (I) and (II) are true.

5. दोन पाईप A आणि B अनुक्रमे 15 मिनिटे आणि 20 मिनिटांत एक टाकी भरू शकतात. दोन्ही पाईप एकाच वेळी सुरु केले परंतु 4 मिनिटांनंतर पाईप A बंद केला जातो. तर टाकी भरण्यासाठी लागणारा एकूण वेळ किती आहे ?

- (1) 11 मिनिटे 45 सेकंद (2) 12 मिनिटे 30 सेकंद
(3) 14 मिनिटे 40 सेकंद (4) 10 मिनिटे 20 सेकंद

6. अक्षर, संख्या, चिन्हांच्या खालील मालिकेचा संदर्भ घ्या आणि प्रश्नाचे उत्तर द्या.

(डावे) PZ & AT7D4%9&F2RY#53M*S (उजवे)
यात अशा किती संख्या आहेत, ज्यांच्या लगेचच आधी एक अक्षर येते आणि तसेच लगेचच नंतर एक चिन्हदेखील येते ?

- (1) एक (2) एकही नाही (3) दोन (4) तीन

7. 438 संख्यांची किंमत ₹1,384.08 आहे. तर 8 डझन संख्यांची अंदाजे किंमत किती असेल ?

- (1) ₹300 (2) ₹250
(3) ₹500 (4) ₹400

8. एक डिलर ₹2,500 किंमतीने एक टीव्ही संच खरेदी करतो. तो ती ₹3,200 ना चिन्हांकित करतो आणि नंतर त्यावर 10% सवलत देतो. विक्रेत्याने मिळवलेल्या नफ्याची टक्केवारी शोधा.

- (1) 11.11% (2) 14.8%
(3) 12.5% (4) 15.2%

9. दिलेल्या मालिकेत प्रश्नचिन्हाच्या (?) जागी काय आले पाहिजे ?

463,386, 322, 271, 233, ?

- (1) 208 (2) 201 (3) 224 (4) 218

पेपर क्र. - 31	1 - 2	2 - 3	3 - 2	4 - 3	5 - 3	6 - 1	7 - 1	8 - 4	9 - 1		
----------------	-------	-------	-------	-------	-------	-------	-------	-------	-------	--	--

1. एक कार दोन शहरांदरम्यान 60 km/h वेगाने प्रवास करते आणि परत येताना तिचा वेग 40 km/h असतो. ती पुन्हा मूळ वेगाच्या दुप्पट वेगाने पहिल्या शहरातून दुसऱ्या शहरात जाते आणि परतीच्या मूळ वेगाच्या निम्म्या वेगाने परत येते. तर संपूर्ण प्रवासादरम्यानचा तिचा सरासरी वेग शोधा.

- (1) 40km/h (2) 55km/h
(3) 50km/h (4) 48 km/h

2. खालील अक्षरसमूह-जोड्यांमधील अक्षर-समुहांचा ज्याप्रकारे एकमेकांशी संबंध आहे त्याचप्रकारे संबंध असलेली अक्षरसमूह जोडी दिलेल्या पर्यायांतून निवडा.

DGJ: FFL

LNP: NMR

MRV: OQX

- (1) HMQ : JLS (2) PLT : SEC
(3) ABC: CBA (4) MOE : TUV

3. दिलेली मालिका तार्किकदृष्ट्या पूर्ण करण्यासाठी प्रश्नचिन्हाच्या (?) जागी काय आले पाहिजे?

LDV12, EW018, XPH24, ?

(टीप: सर्व संख्या या केवळ दोन अंकी संख्या आहेत.)

- (1) PIA32 (2) QIA30 (3) QIA32 (4) QLB30

4. एक रक्कम 15 वर्षात चक्रवाढ व्याजाने तिच्या स्वतःच्या दुप्पट होते. किती कालावधीत ती तिच्या स्वतःच्या 8 पट होईल (वार्षिक गणना लक्षात घेऊन)?

- (1) 60 वर्षे (2) 40 वर्षे (3) 45 वर्षे (4) 30 वर्षे

5. सरळरूप द्या. : $3.5 \div 4.9 + 0.5 \times 0.3 - 0.1$

- (1) 0.864 (2) 0.224
(3) 0.764 (4) 0.324

6. इंग्रजी वर्णक्रमावर आधारित रचनेनुसार 'NRVH' हे 'PTXJ' शी विशिष्ट प्रकारे संबंधित आहे. त्याचप्रकारे, 'PDXI' हे 'RFZK' शी संबंधित आहे, तर त्या तर्कानुसार खालीलपैकी काय TLQM शी संबंधित असेल?

- (1) WNSO (2) Voso (3) WOTP (4) VNSO

7. खालील अक्षर, संख्या, चिन्हांच्या मालिकेचा संदर्भ घ्या आणि प्रश्नाचे उत्तर द्या.

(डावी) QW3* 85UK@PJ+3#&TLH (उजवी)

तेथे अशा किती संख्या आहेत, ज्यांच्या लगतच आधी एक अक्षर आणि लगतच नंतर एक अक्षर येते?

- (1) एक (2) दोन (3) तीन (4) एकही नाही

8. दिलेली विधाने आणि निष्कर्ष लक्षपूर्वक वाचा. विधानामध्ये दिलेली माहिती ही सामान्यपणे ज्ञात तथ्यांपेक्षा वेगळी असल्याचे आढळले, तरी ती सत्य आहे असे गृहीत धरून, दिलेल्या निष्कर्षांपैकी कोणता/ते निष्कर्ष दिलेल्या विधानांशी तर्कसंगत आहे/आहेत ते ठरवा.

विधाने :

सर्व पुरुष, माकडे आहेत.

काही कलाकार, पुरुष आहेत.

निष्कर्ष :

(I) : एकही कलाकार, माकड नाही.

(II) : सर्व कलाकार, पुरुष आहेत.

(1) फक्त निष्कर्ष (I) तर्कसंगत आहे.

(2) निष्कर्ष (I) किंवा (II) पैकी एकही तर्कसंगत नाही.

(3) निष्कर्ष (I) आणि (II) हे दोन्ही तर्कसंगत आहेत.

(4) फक्त निष्कर्ष (II) तर्कसंगत आहे.

9. जर 'A' चा अर्थ '=' असेल, 'B' चा अर्थ '×' असेल, 'C' चा अर्थ '-' असेल आणि 'D' चा अर्थ '+' असेल, तर खालील समीकरणात प्रश्नचिन्हाच्या (?) जागी काय येईल?

$44D44A2B3C 49 = ?$

- (1) 53 (2) 57 (3) 61 (4) 55

10. 900 km च्या प्रवासासाठी एक ट्रक 50km/h वेगाने पहिले 300km/h अंतर प्रवास करते. उर्वरित अंतर किती वेगाने पार केले पाहिजे. जेणेकरून सरासरी वेग 60km/h असेल?

- (1) 52 km/h (2) $\frac{200}{3}$ km/h
(3) 72 km/h (4) $\frac{750}{11}$ km/h

11. एका विशिष्ट संख्येच्या वस्तू रू.150 किंमतीला 3 याप्रमाणे खरेदी केल्या आणि त्या सर्व 180 किंमतीला 4 या प्रमाणे विकल्या. नफा किंवा तोट्याची टक्केवारी शोधा.

- (1) 11.11% तोटा (2) 10% तोटा
(3) 10% नफा (4) 11.11% नफा

पेपर क्र. - 32	1 - 1	2 - 1	3 - 2	4 - 3	5 - 3	6 - 4	7 - 4	8 - 2	9 - 3	10 - 2	11 - 2
----------------	-------	-------	-------	-------	-------	-------	-------	-------	-------	--------	--------

1. जर 2 वर्षांसाठी वार्षिक 8% दराने एका रकमेवरील सरळव्याज रु. 1,000 असेल, तर वार्षिक चक्रवादीच्या बाबतीत त्याच कालावधीसाठी समान दराने होणारे चक्रवाढ व्याज काढा.

- (1) ₹1,060 (2) ₹1,040
(3) ₹1,140 (4) ₹1,260

2. खालील चारपैकी तीन पर्यायांत एक विशिष्ट साधर्म्य आहे आणि त्यामुळे त्यांचा एक गट तयार होतो. कोणता पर्याय त्या गटात बसत नाही?

- (1) ZJD (2) SCU
(3) JTL (4) AKC

3. दिलेली मालिका तर्कदृष्ट्या पूर्ण होण्यासाठी, प्रश्नचिन्हाच्या (?) जागी दिलेल्या पर्यायांपैकी कोणता पर्याय आला पाहिजे?
ZB1 UW7 QS13 NP19?

- (1) KM24 (2) LN25
(3) JL25 (4) LM26

4. एक शिंपी एक सदरा तयार करण्यासाठी 2m 47 cm कापड वापरतो. असे 13 सदरे तयार करण्यासाठी किती कामाची आवश्यकता आहे?

- (1) 32 m 21 cm (2) 31 m 21 cm
(3) 31 m 11 cm (4) 32 m 11 cm

5. दिलेली विधाने आणि निष्कर्ष लक्षपूर्वक वाचा. विधानांमध्ये दिलेली माहिती ही सामान्यपणे ज्ञात तथ्यांपेक्षा वेगळी असल्याचे आढळले, तरी ती सत्य आहे असे गृहीत धरून दिलेल्या निष्कर्षापैकी कोणता/ते निष्कर्ष दिलेल्या विधानांशी तर्कसंगत आहे/आहेत हे ठरवा.

विधाने :

सर्व मंडळे, फरशा आहेत.

सर्व फरशा पॅराशूट आहेत.

एकही पॅराशूट, कपडा नाही.

निष्कर्ष :

(1) एकही कपडा, फरशी नाही.

(2) काही पॅराशूट, मंडळे आहेत.

(1) 1 किंवा 2 हे दोन्ही निष्कर्षसंगत आहेत.

(2) केवळ निष्कर्ष 1 तर्कसंगत आहे.

(3) केवळ निष्कर्ष 2 तर्कसंगत आहे.

(4) 1 किंवा 2 पैकी एकही निष्कर्षसंगत नाही.

6. जर '+' आणि '-' यांची अदलाबदल केली आणि '×' आणि '÷' यांची अदलाबदल केली, तर खालील समीकरणात प्रश्नचिन्हाच्या (?) जागी काय येईल?

$$25 \times 625 \div 125 + 39 - 69 = ?$$

- (1) 61 (2) 53
(3) 56 (4) 35

7. दिलेली मालिका तर्कदृष्ट्या पूर्ण होण्यासाठी प्रश्नचिन्हाच्या (?) जागी दिलेल्या पर्यायांपैकी कोणता पर्याय आला पाहिजे?

$$013 \ 6 \ 10 \ ?$$

- (1) 14 (2) 16
(3) 15 (4) 13

8. 4 पुरुष आणि स्त्रिया हे 8 दिवसांत एक काम पूर्ण करू शकतात, तर 3 पुरुष आणि 7 स्त्रिया हे 10 दिवसांत ते काम पूर्ण करू शकतात. 10 स्त्रिया किती दिवसांत ते पूर्ण करतील?

- (1) 35 (2) 50
(3) 45 (4) 40

9. सरळ रूप द्या. $12 + 6 \times 27 \div 3 + 2 - 16 \div 8 \times 2$.

- (1) 64 (2) 58

10. एका नावेला प्रवाहाच्या दिशेने 36 मैलाचे अंतर कापण्यासाठी लागणारा वेळ हा प्रवाहाच्या विरुद्ध दिशेने तितकेच अंतर कापण्यासाठी लागणाऱ्या वेळेपेक्षा 90 मिनिटे कमी आहे. जर स्थिर पाण्यातील नावेचा वेग 10 mph असेल, तर प्रवाहाचा वेग किती आहे?

- (1) 3 mph (2) 4 mph
(3) 2 mph (4) 2.5 mph

पेपर क्र. - 33	1 - 2	2 - 1	3 - 2	4 - 4	5 - 1	6 - 4	7 - 3	8 - 4	9 - 1	10 - 3
----------------	-------	-------	-------	-------	-------	-------	-------	-------	-------	--------

20. दिलेली मालिका तर्कदृष्ट्या पूर्ण होण्यासाठी प्रश्नचिन्हाच्या (?) जागी खालीलपैकी कोणता पर्याय आला पाहिजे ?
0, 6, 24, 60, 120, ?

- (1) 220 (2) 210
(3) 240 (4) 200

21. तोटी R ही पूर्ण भरलेल्या टाकीला 30 तासांत रिकामे करू शकते. परंतु P आणि Q या दोन तोट्या अनुक्रमे 15 तासांत आणि 10 तासांत टाकी भरू शकतात. रामने तिन्ही तोट्या उघडल्या. 2 तासांनंतर ते श्यामच्या लक्षात आले आणि तोटी R बंद करण्यात आली. या चुकीमुळे टाकी भरण्यासाठी अजून किती जास्त वेळ लागेल ?

- (1) 18 मिनिटे (2) 2 तास 15 मिनिटे
(3) 24 मिनिटे (4) 1 तास 20 मिनिटे

22. दिलेली मालिका तर्कदृष्ट्या पूर्ण होण्यासाठी प्रश्नचिन्हाच्या (?) जागी दिलेल्या पर्यायांपैकी कोणता पर्याय आला पाहिजे ?
YX2 VU12 RQ30 ML56 ?

- (1) FG70 (2) GF56
(3) GE90 (4) GH70

23. दिलेली मालिका तर्कदृष्ट्या पूर्ण करण्यासाठी ? च्या स्थानी काय आले पाहिजे ?

YU71, QA59, IG48, ?, SS29

- (1) AN40 (2) AM40
(3) AM38 (4) AN38

24. दिलेल्या आक्षर-समूहांच्या जोडीमध्ये असलेल्या संबंधाप्रमाणेच समान संबंध दर्शविणारा अक्षर-समूह दिलेल्या पर्यायांतून निवडा.

QEU: UKA

KBR: QHX

- (1) BFR : HLW (2) PFV: UKA
(3) HTC MYH (4) DYJ: JEP

25. एक व्यापारी ₹50, ₹40 आणि ₹30 प्रति किलो दराने सफरचंद खरेदी करतो. तो त्यांना वजनाने अनुक्रमे 2 : 4 : 9 या गुणोत्तरात मिसळतो आणि 30% नफ्याने त्यांची विक्री करतो. तो अंदाजे केती प्रति किलोग्रॅम किंमतीला सफरचंदांची विक्री करतो ?

- (1) रू. 45.9 प्रति kg (2) रू. 10.8 प्रति kg
(3) रू. 75 प्रति kg (4) रू. 23.5 प्रति kg

34

Date - 20/08/2023

वेळ : 12 : 30 PM - 2 : 30 PM

1. 800 km च्या एका प्रवासासाठी, 50 km/h वेगाने एक ट्रक पहिले 300 km अंतर कापतो सरासरी वेग 60 km/h असण्यासाठी उर्वरित अंतर किती वेगाने पार केले पाहिजे ?

- (1) 72 km/h (2) 52 km/h
(3) $\frac{750}{11}$ km/h (4) $\frac{600}{11}$ km/h

2. सरळरूप द्या : $2 + 2 \div 2 \times 2 - 2$

- (1) 1 (2) 0 (3) 2 (4) -2

3. दिलेली विधाने आणि निष्कर्ष सहपूर्वक यात्रा विधानांमध्ये दिलेली माहिती ही सामान्यपणे ज्ञात तथ्यांपेक्षा वेगळी असल्याचे आढळले, तरी ती सत्य आहे असे गृहीत धरून, दिलेल्या निष्कर्षांपैकी कोणता/ते निष्कर्ष दिलेल्या विधानांशी तर्कसंगत आहे/आहेत हे ठरवा.

विधाने :

काही द्रव, कपाटे आहेत. सर्वस्व आणि कपाटे ही कापूस आहेत. निष्कर्ष 1 : कार्य कापूस साहेत.

निष्कर्ष 2 : सर्व कपाटे आहेत.

- (1) केवळ निष्कर्ष 1 तर्कसंगत आहे.
(2) 1 किंवा 2 हे दोन्ही निष्कर्ष तर्कसंगत आहेत.
(3) 1 किंवा 2 पैकी एकाही निष्कर्ष तर्कसंगत नाही.
(4) केवळ निष्कर्ष 2 तर्कसंगत आहे.

4. A, B आणि C हे तीन नळ अनुक्रमे 12, 15 आणि 20 तासांत एक टाकी भरू शकतात. जर A ही पूर्ण वेळ उघडी ठेवली आणि B व C या दोन्ही आळीपाळीने एक-एक तासासाठी उघड्या ठेवल्या, तर टाकी किती वेळात पूर्ण भरली जाईल ?

- (1) 6 तास (2) $7\frac{1}{2}$ तास
(3) $6\frac{2}{3}$ तास (4) 7 तास

5. एक ट्रेन ही उत्तरेकडून दक्षिण दिशेकडे धावत आहे. ती त्याच दिशेने 2 km/h आणि 4 km/h या वेगांनी चालणारे राज आणि मधुर यांना अनुक्रमे 9 सेकंदांत आणि 10 सेकंदांत ओलांडते. जर ट्रेनची लांबी x मीटर असेल, तर x चे मूल्य शोधा.

- (1) 90 (2) 30 (3) 50 (4) 70

6. जर एका वस्तूची मूल किंमत रू. 4,500 असेल आणि नफा 5% असेल, तर तिची विक्री किंमत (रू. मध्ये) शोधा.

- (1) 4657 (2) 4527 (3) 4675 (4) 4725

पेपर क्र. - 33	20 - 2	21 - 3	22 - 2	23 - 3	24 - 4	25 - 1				
पेपर क्र. - 34	1 - 3	2 - 3	3 - 3	4 - 4	5 - 3	6 - 4				

20. जर '+' आणि '-' यांची अदलाबदल केली आणि '×' आणि '÷' यांची अदलाबदल केली, तर खालील समीकरणात प्रश्नचिन्हाच्या (?) जागी काय येईल?

$$17 \div 11 + 149 - 125 \times 5 = ?$$

- (1) 73 (2) 63 (3) 56 (4) 65

21. A आणि B या दोन बँकांनी, अनुक्रमे 4.5% आणि 5.5% वार्षिक दराने कर्ज देऊ केले. रमेशने प्रत्येक बँकेकडून रू. 2,00,000 चे कर्ज घेतले. रमेश यांनी 2 वर्षांनंतर दोन्ही बँकांना भरलेल्या सरळव्याजाच्या रकमेतील धनात्मक फरक शोधा.

- (1) रू. 4,000 (2) रू. 8,000
(3) रू. 6,000 (4) रू. 2,000

22. दिलेली मालिका तर्कदृष्ट्या पूर्ण होण्यासाठी प्रश्नचिन्हाच्या (?) जागी खालीलपैकी कोणता पर्याय आला पाहिजे?
1, 6, 21, 66, 201, ?

- (1) 510 (2) 606 (3) 548 (4) 622

23. सरळव्याजाच्या वार्षिक किती बचने रू. 7,500 ची रक्कम 7 वर्षांत रू. 19,150 एवढी होईल?

- (1) $3 \frac{1}{3}\%$ (2) $6 \frac{1}{3}\%$ (3) $4 \frac{1}{3}\%$ (4) $5 \frac{1}{3}\%$

24. दिलेल्या मालिकेमध्ये ? च्या स्थानी काय आले पाहिजे?
27, 31, 39, 55, 87, ?

- (1) 156 (2) 147 (3) 127 (4) 151

25. इंग्रजी वर्णक्रमावर आधारित दिलेल्या मालिकेत प्रश्नचिन्हाच्या (?) जागी काय यायला हवे? M, E, P, F, S, G, ?

- (1) O (2) U (3) V (4) R

35

Date - 20/08/2023

वेळ : 04 : 30 PM - 06 : 30 PM

1. जॉनने छापील किंमतीवर 25% सवलत असलेला लॅपटॉप खरेदी केला. जर त्याने लॅपटॉपसाठी रू. 28,473 दिले, तर त्याची छापील किंमत किती होती?

- (1) ₹37,946 (2) ₹37,694
(3) ₹37,496 (4) ₹37,964

2. Select the option in which the letter-clusters share the same relationship as that shared by the given pair of letter-clusters.

HXN: NDT

DUK: JAQ

- (1) LDT: RIZ (2) YHN: ENT
(3) MQZ: SVF (4) VPJ: BWP

3. खालील अक्षर मालिकेचा संदर्भ घ्या आणि प्रश्नाचे उत्तर द्या.
मोजणी केवळ डावीकडून उजवीकडे केली गेली पाहिजे.

(डावे) HGFAZMKENLPIJBDOCTWQ (उजवे)

मालिकेच्या उजव्या टोकाकडून पाचवे अक्षर आणि डाव्या टोकाकडून चौथे अक्षर यांच्या दरम्यान इंग्रजी वर्णमालेच्या क्रमवारीनुसार येणारी किती अक्षरे येथे आहेत?

- (1) 10 (2) 8 (3) 13 (4) 9

4. A व B हे एका कामाला 30 दिवसांत करू शकतात, तर B व C हे त्याच कामाला 24 दिवसांत करू शकतात आणि C व A हे त्याच कामाला 20 दिवसांत करू शकतात. B आणि C निघून गेल्यावर ते सर्व मिळून 10 दिवस काम करतात. A ला काम पूर्ण करण्यासाठी आणखी किती दिवस लागतील?

- (1) 30 दिवस (2) 18 दिवस
(3) 36 दिवस (4) 24 दिवस

5. Read the given statements and conclusions carefully. You have to take the given statements to be true even if they seem to be at variance from commonly known facts. You have to decide which conclusion/s logically follow/s from the given statements. Statements: -I Wires are Boxes. Some Boxes are Scissors. No Scissor Is a Plastic. Conclusion 1: Some Plastic are Wires.

Conclusion 2: Some Scissors are Wires.

- (1) Both Conclusions 1 and 2 follow.
(2) Only Conclusion 2 follows.
(3) Neither Conclusion 1 nor 2 follows.
(4) Only Conclusion 1 follows.

6. दिलेली मालिका तर्कदृष्ट्या पूर्ण होण्यासाठी प्रश्नचिन्हाच्या (?) जागी खालीलपैकी कोणता पर्याय आला पाहिजे?
5, 9, 14, 20, 27, ?

- (1) 20 (2) 42 (3) 35 (4) 38

7. एका ठराविक दुकानात, नफा हा मूळ किंमतीच्या 260% एवढा असतो. विक्री किंमत ₹7,200 असल्यास, मूळ किंमत किती आहे?

- (1) ₹2,200 (2) ₹2,000
(3) ₹2,420 (4) ₹3,000

पेपर क्र. - 34	20 - 2	21 - 1	22 - 2	23 - 1	24 - 4	25 - 3				
पेपर क्र. - 35	1 - 4	2 - 2	3 - 3	4 - 2	5 - 3	6 - 3	7 - 2			

22. जर T हा रकम दर्शवतो, M हा वर्षाची संख्या दर्शवितो आणि P हा व्याजदर दर्शवितो, तर याद्वारे चक्रवाढ व्याज दिले जाते.

- (1) $M(1+T/100)^P - T$
 (2) $M(1+M/100)^P$
 (3) $T(1+P/100)^M$
 (4) $T(1+P/100)^M - T$

23. दिलेली मालिका तर्कदृष्ट्या पूर्ण होण्यासाठी प्रश्नचिन्हाच्या (?) जागी खालीलपैकी कोणता पर्याय आला पाहिजे?
 JI6, ON12, TS20, ?

- (1) XW32 (2) YX30
 (3) YW32 (4) XY30

24. यास सरळरूप दिल्यास, परिणामी उत्तर किती असेल?

- $(1 - \frac{1}{2}) (1 - \frac{1}{3}) (1 - \frac{1}{4}) \dots (1 - \frac{1}{100})$
 (1) 1 (2) 0.1
 (3) 0.01 (4) 0.001

25. इंग्रजी वर्णक्रमावर आधारित दिलेल्या मालिकेत प्रश्नचिन्हाच्या (?) काय यायला हवे? H,L,P,T,X,B, ?

- (1) E (2) L
 (3) F (4) J 1

36

Date - 21/08/2023

वेळ : 09 : 00 PM - 11 : 00 PM

1. If a certain sum becomes two times itself in 6 years at compound interest in case of annual compounding, then the number of years in which it will become eight times of itself at the same rate of interest under annual compounding is:

- (1) 24 years (2) 12 years
 (3) 18 years (4) 36 years

2. Mr. Saxena bought some pens at ₹150 a dozen. He sold them for ₹15 each. What is his profit/loss percentage?

- (1) 37.5% loss (2) 28% loss
 (3) 18.5% profit (4) 20% profit

3. What should come in place of ? in the given series?

520, 510, 490, 450, 370, ?

- (1) 225 (2) 220
 (3) 210 (4) 200

4. A can do a work in 15 days and B in 20 days. If they work on it together for 4 days, then the fraction of the work that is left is:

- (1) $7/15$ (2) $1/10$
 (3) $8/15$ (4) $1/4$

5. Three of the following four are alike in a certain way and thus form a group. Which is the one that does NOT belong to that group?

- (1) TWA (2) ILN
 (3) CFJ (4) LOS

6. The average temperature on Monday, Tuesday and Wednesday was 32°C, and the average temperature on Sunday, Monday and Tuesday was 36°C. If the temperature on Sunday was 39°C, then find the temperature on Wednesday.

- (1) 27°C (2) 26°C
 (3) 34°C (4) 28°C

7. KL10 is related to 'OP21' in a certain way. In the same way, 'ST20' is related to 'WX31', To which of the following is EF30 related, following the same logic?

- (1) JK40 (2) JI40 (3) IK41 (4) IJ41

8. Which of the given options should come in place of the question mark (?) in the given series in order to make it logically complete?

BD54 GI47 KM40 NP33 ?

- (1) QT25 (2) PR26
 (3) PQ26 (4) QS25

9. Simplify the following $\frac{0.125+0.027}{0.5 \times 0.5 \times 0.09 - 0.15}$

- (1) 0.8 (2) 0.2
 (3) 0.08 (4) 1

10. Find value of $M - \frac{1}{M}$, if $M + \frac{1}{M} = 4$.

- (1) -4 (2) 2
 (3) $3\sqrt{2}$ (4) $2\sqrt{3}$

पेपर क्र. - 35	22 - 4	23 - 2	24 - 3	25 - 3							
पेपर क्र. - 36	1 - 3	2 - 4	3 - 3	4 - 3	5 - 2	6 - 1	7 - 4	8 - 2	9 - 1	10 - 4	

21. 'AIQX' is related to 'IQYF' in a certain way based on the English alphabetical order. In the same way, 'BJRY' is related to 'JRZG'. To which of the following is 'CKSZ' related, following the same logic?

- (1) KSAH (2) KASH
(3) KHAS (4) KAHS

22. What should come in place of the question mark (?) in the given series based on the English alphabetical order?

L, P, N, R, P, ?

- (1) W (2) T (3) S (4) U

23. What will come in the place of the question mark (?) in the following equation, if '+' and '-' are interchanged and '×' and '÷' are Interchanged?

$$27 \times 729 \div 135 + 67 - 91 = ?$$

- (1) 29 (2) 121 (3) 21 (4) 92

24. A pump can fill a tank with water in 2 hours. Because of a leak, it took 2 hours to fill the tank. The leak can drain all the water from the tank in :

- (1) 14 hours (2) $4\frac{1}{3}$ hours
(3) 8 hours (4) 7 hours

25. A man buys 15 identical articles for a total of ₹15. If he sells each of them for ₹1.23, then his profit percentage is:

- (1) 50% (2) 32% (3) 23% (4) 8%

37

Date - 21/08/2023

वेळ : 12 : 30 PM - 02 : 30 PM

1. दिलेल्या मालिकेत ? च्या जागी काय घातला हवे ?

1, 9, 25, 43, 79, 117, 193, 271, ?, 585

- (1) 472 (2) 512 (3) 427 (4) 521

2. A, B आणि C हे एक काम अनुक्रमे 20, 30 आणि 60 दिवसांत करू शकतात. दर तिसऱ्या दिवशी B आणि C यांची मदत घेतल्यास, A हा किती दिवसांत ते काम करू शकेल ?

- (1) 12 दिवस (2) 15 दिवस
(3) 16 दिवस (4) 18 दिवस

3. एका कपाटाची विक्री किंमत दुप्पट केली, तर नफा तिप्पट होतो. तर सुरुवातीची नफ्याची टक्केवारी शोधा.

- (1) 50% (2) 100% (3) 25% (4) 10%

4. एक रेल्वेगाडी सोमवारी 525.80km, आणि मंगळवारी 514.75 km अंतर पार करते. तीन दिवसांत पार केलेले एकूण अंतर 1600 km असल्यास, बुधवारी ती किती अंतर पार करेल ?

- (1) 558.55 km (2) 558.45 km
(3) 559.45 km (4) 559.55 km

5. दिलेली मालिका तर्कदृष्ट्या पूर्ण होण्यासाठी प्रश्नचिन्हाच्या (?) जागी खालीलपैकी कोणता पर्याय आला पाहिजे ?

2, 8, 18, 32, 50, ?

- (1) 65 (2) 80 (3) 72 (4) 88

6. वेंकट एक सेकंड हॅंड स्कूटर खरेदी करतो आणि तिच्या दुरुस्तीसाठी किमतीच्या 10% खर्च करतो. त्याने ती स्कूटर ₹2,200 नफ्याने विकली. जर त्याने 20% नफा कमावला असेल, तर दुरुस्तीवर किती खर्च केला ?

- (1) ₹400 (2) ₹1,200
(3) ₹1100 (4) ₹750

7. दिलेले/ली विधान/ने आणि निष्कर्ष लक्षपूर्वक वाचा. विधानामध्ये दिलेली माहिती ही सामान्यपणे ज्ञात तथ्यांपेक्षा वेगळी असल्याचे आढळले, तरी ती सत्य आहे असे गृहीत धरून, दिलेल्या निष्कर्षांपैकी कोणता/ते दिलेल्या विधानांशी तर्कसंगत आहे/आहेत ते ठरवा.

विधाने :

सर्व चपला, बूट आहेत.

सर्व बूट, मोजे आहेत.

निष्कर्ष (I) : सर्व मोजे, चपला आहेत.

निष्कर्ष (II) : काही चपला, मोजे आहेत.

- (1) निष्कर्ष (I) आणि (II) हे दोन्ही तर्कसंगत आहेत
(2) निष्कर्ष (I) किंवा निष्कर्ष (II) पैकी एकही तर्कसंगत नाही.
(3) केवळ निष्कर्ष (II) तर्कसंगत आहे.
(4) केवळ निष्कर्ष (I) तर्कसंगत आहे.

8. एका विशिष्ट तर्कानुसार 'YV2' हे 'TQ4' शी संबंधित आहे. त्याचप्रकारे, 'NK6' हे 'IF12' शी संबंधित आहे. त्याच तर्काचे अनुसरण केल्यास, 'SP10' हे खालीलपैकी कशाशी संबंधित आहे ?

- (1) LM21 (2) NK20 (3) NH20 (4) MK20

पेपर क्र. - 36	21 - 1	22 - 2	23 - 1	24 - 1	25 - 3					
पेपर क्र. - 37	1 - 3	2 - 2	3 - 2	4 - 3	5 - 3	6 - 3	7 - 3	8 - 2		

23. दिलेली विधाने आणि निष्कर्ष लक्षपूर्वक वाचा. विधानांमध्ये दिलेली माहिती ही सामान्यपणे ज्ञात तथ्यांपेक्षा वेगळी असल्याचे आढळले, तरी ती सत्य आहे असे गृहीत धरून, दिलेल्या निष्कर्षांपैकी कोणता/ते निष्कर्ष दिलेल्या विधानांशी तर्कसंगत आहे/आहेत हे ठरवा.

विधाने :

सर्व प्लास्टिक, पडदे आहेत. एकही पडदा, गाय नाही.

निष्कर्ष 1 : एकही गाय, प्लास्टिक नाही.

निष्कर्ष 2 : सर्व गायी, पडदे आहेत.

- (1) केवळ निष्कर्ष 2 तर्कसंगत आहे.
 (2) केवळ निष्कर्ष 1 तर्कसंगत आहे.
 (3) 1 किंवा 2 हे दोन्ही निष्कर्ष तर्कसंगत आहेत.
 (4) 1 किंवा 2 पैकी एकही निष्कर्ष तर्कसंगत नाही.

24. एका कपाटाची विक्री किंमत दुप्पट केली, तर नफा तिप्पट होतो. तर सुरुवातीची नफ्याची टक्केवारी शोधा.

- (1) 50% (2) 100%
 (3) 25% (4) 10%

$$2x - y = 3(x - y)$$

$$x = 2y$$

$$\begin{aligned} \text{नफा\%} &= \frac{\text{नफा}}{\text{खरेदी किंमत}} \times 100 = \frac{x - y}{y} \times 100 \\ &= \frac{2y - y}{y} \times 100 = \frac{y}{y} \times 100 = 100\% \\ \text{नफ्याची टक्केवारी} &= 100\% \text{ असेल.} \end{aligned}$$

25. दिलेली मालिका तर्कदृष्ट्या पूर्ण करण्यासाठी ? च्या स्थानी काय आले पाहिजे? N, 2, Q, 3, T, 5, W, 7, Z, ?

- (1) 11 (2) 9
 (3) 13 (4) 8

38

Date - 21/08/2023

वेळ : 4 : 30 PM - 6 : 30 PM

1. A, B आणि C या तीन तोट्या एक टाकीला 5 तासांत पूर्ण भरतात. तोटी C च्या प्रवाहाचा वेग हा B च्या दुप्पट आहे आणि B च्या प्रवाहाचा वेग हा A च्या दुप्पट आहे. फक्त A तोटी उघडल्यास टाकी भरण्यासाठी किती वेळ लागेल?

- (1) 20 तास (2) 25 तास
 (3) 40 तास (4) 35 तास

2. दिलेल्या मालिकेत ? च्या जागी काय यायला हवे?
 12, 26, 50, 102, 202, ?

- (1) 406 (2) 404 (3) 402 (4) 400

3. 200 मीटर अंतरावर असलेल्या एका पोलिसाला पाहून, एक चोर 8 km/h वेगाने पळू लागतो. पोलीस 9 km/h वेगाने त्याचा ताबडतोब पाठलाग करतो आणि चोराला पकडतो. चोर किती अंतर धावतो?

- (1) 1600 मीटर (2) 2000 मीटर
 (3) 1000 मीटर (4) 1200 मीटर

4. दिलेल्या अक्षर-समूहांच्या जोडीचा ज्याप्रमाणे एकमेकांशी संबंध आहे त्याचप्रमाणे समान संबंध असलेला अक्षर-समूह पर्यायांतून निवडा.

GKH: LPM

NEP: SJU

- (1) YHN : DNT (2) MTR: RYW
 (3) IKE: OQJ (4) UJM: APR

5. रू. 275 ही छापील किंमत असलेली एक वस्तू 5% सवलतीने विकली जाते. विक्रेत्याला तरीदेखील 4.5% नफा होतो. तर त्यासाठी त्याने किती देय दिले होते?

- (1) ₹200 (2) ₹250 (3) ₹225 (4) ₹125

6. डेव्हिडचे वजन रॉबिनपेक्षा 4.15 kg ने कमी आहे. डेव्हिडचे वजन 58.32 kg असल्यास, रॉबिनचे वजन शोधा.

- (1) 62.67 kg (2) 62.57 kg
 (3) 62.37 kg (4) 62.47 kg

7. एका गावाची लोकसंख्या दरवर्षी 10% वेगाने वाढते. जर 2 वर्षांपूर्वी तेथील लोकसंख्या 10,000 होती, तर सध्याची लोकसंख्या किती आहे?

- (1) 12100 (2) 11000 (3) 12000 (4) 12400

पेपर क्र. - 37	23 - 2	24 - 2	25 - 1						
पेपर क्र. - 38	1 - 4	2 - 1	3 - 1	4 - 2	5 - 2	6 - 4	7 - 1		

20. दिलेली मालिका तर्कदृष्ट्या पूर्ण होण्यासाठी प्रश्नचिन्हाच्या (?) जागी खालीलपैकी कोणता पर्याय आला पाहिजे?
NO2, QR6, TU12,?

(1) WX20 (2) VW20 (3) WV25 (4) XY22

21. अक्षरगटांच्या खालील चार जोड्यांपैकी तीन जोड्या एका विशिष्ट तऱ्हेने समान आहेत आणि त्यामुळे त्यांचा एक गट तयार होतो. त्या गटात न बसणारी अक्षरगट जोडी निवडा.

(1) CX-YB (2) OK-JR
(3) MN-IR (4) RI-NM

22. इंग्रजी वर्णक्रमावर आधारित दिलेल्या मालिकेत प्रश्नचिन्हाच्या (?) जागी काय यायला हवे?

R, Q, O, L, H, ?

(1) A (2) C (3) G (4) F

23. एका व्यक्ती 20 m/min या वेगाने 100 मिनिटे प्रवास करतो आणि 70m/min या वेगाने 50 मिनिटे प्रवास करतो. तर त्याचा सरासरी वेग किती आहे?

(1) 35 m/min (2) $\frac{70}{3}$ m/min
(3) $\frac{110}{3}$ m/min (4) 25 m/min

24. A हा दिवसाचे 8 तास काम करून, एका कामाला 12 दिवसांत पूर्ण करू शकतो, B त्याच कामाला, दिवसाचे 10 तास काम करून 8 दिवसांत पूर्ण करू शकतो. जर A आणि B या दोघांनी मिळून दिवसाचे 8 तास काम केले, तर ते किती दिवसांत त्या कामाला पूर्ण करू शकतात?

(1) $5\frac{5}{11}$ (2) $5\frac{6}{11}$ (3) $6\frac{5}{11}$ (4) $6\frac{6}{11}$

25. दिलेली विधाने आणि निष्कर्ष लक्षपूर्वक वाचा. दिलेली विधाने ही सामान्यपणे ज्ञात तथ्यांपेक्षा वेगळी असल्याचे आढळले, तरी ती सत्य आहे असे गृहीत धरून, निष्कर्षांपैकी कोणता/ते दिलेल्या विधानांशी तर्कसंगत आहे/आहेत ते ठरवा.

विधाने :

सर्व पक्षी, कुत्री आहेत.

काही कुत्री, हत्ती आहेत.

काही हत्ती, प्राणी आहेत.

निष्कर्ष (I): सर्व हत्ती, पक्षी आहेत.

निष्कर्ष (II): काही प्राणी, कुत्री आहेत.

(1) केवळ निष्कर्ष (II) तर्कसंगत आहे.

(2) निष्कर्ष (I) आणि (II) हे दोन्ही तर्कसंगत आहेत

(3) निष्कर्ष (I) किंवा निष्कर्ष (II) पैकी एकही तर्कसंगत नाही.

(4) केवळ निष्कर्ष (I) तर्कसंगत आहे.

39

Date - 22/08/2023

वेळ : 9 : 00 AM - 11 : 00 AM

1. दिलेली मालिका तर्कदृष्ट्या पूर्ण करण्यासाठी ? च्या स्थानी काय आले पाहिजे?

B, 3, E, 6, C, 9, F, 12, ?, 15, G

(1) H (2) A (3) D (4) K

2. दिलेल्या मालिकेमध्ये ? च्या स्थानी काय आले पाहिजे?
15, 19, 27, 43, 75, ?

(1) 100 (2) 108 (3) 139 (4) 125

3. एक काम करण्यासाठी A ला लागणारा वेळ हा तेच काम करण्यासाठी B आणि C यांना मिळून लागणाऱ्या वेळेइतका आहे. जर A आणि B मिळून ते 10 दिवसांत करू शकतात आणि C एकट्याने ते 50 दिवसांत करू शकतो, तर B एकट्याने ते किती दिवसांत करू शकतो?

(1) 20 दिवस (2) 30 दिवस
(3) 25 दिवस (4) 15 दिवस

4. एका चोराने दुपारी 2.30 वाजता एका कारची चोरी केली आणि तिला 60 km/h वेगाने चालवले. ही चोरी दुपारी 3 वाजता उघडकीस आली आणि मालक दुसऱ्या कारमध्ये बसून 75 km/h वेगाने निघाला. तो चोराला कधी पकडेल?

(1) दुपारी 5:00 वाजता (2) दुपारी 5:15 वाजता
(3) दुपारी 4:30 वाजता (4) दुपारी 4:45 वाजता

5. दिलेल्या अक्षर-समूहांच्या जोडीमध्ये असलेल्या संबंधाप्रमाणेच समान संबंध दर्शविणारा अक्षर-समूह दिलेल्या पर्यायांतून निवडा.

JZP: NDT

FWM: JAQ

(1) NTD: RXG (2) RFV: VJZ

(3) QAJ: UEO (4) SME: WPI

6. 8m 54 cm लांबी असलेल्या एका तारेचे समान लांबीचे 7 तुकडे केले. प्रत्येक तुकड्याची लांबी किती आहे?

(1) 1.12 m (2) 1.02 m (3) 1.22 m (4) 1.32 m

7. जर जॉनने 90km चे अंतर 30km/h च्या वेगाने कापले आणि तो 60km/h च्या वेगाने परतला, तर त्याचा सरासरी वेग किती आहे?

(1) 45km/h (2) 40 km/h (3) 60 km/h (4) 30 km/h

पेपर क्र. - 38	20 - 3	21 - 2	22 - 2	23 - 3	24 - 1	25 - 3				
पेपर क्र. - 39	1 - 3	2 - 3	3 - 3	4 - 1	5 - 2	6 - 3	7 - 2			

21. सोडवा: $(4+2-4+3) + \frac{(1+8 \times 7)}{19} \times [(3+5-4) + (17-9 \times 4)]$.

- (1) 335 (2) -225
(3) -120 (4) 40

22. दिलेली विधाने आणि निष्कर्ष लक्षपूर्वक वाचा. विधानांमध्ये दिलेली माहिती ही सामान्यपणे ज्ञात सध्यांपेक्षा वेगळी असल्याचे तरी ती अल्प आहे असे तिन दिलेल्या निष्कर्षांपैकी कोणता/ते निष्कर्ष दिलेल्या विधानांशी तर्कसंगत आहे/आहेत हे ठरवा. विधाने:

काही शर्ट, खुर्च्या आहेत. सर्व खुर्च्या, रेल्वेगाड्या आहेत.

निष्कर्ष 1 : काही शर्ट, रेल्वेगाड्या आहेत.

निष्कर्ष 2: सर्व गापा, सुर्या आहेत.

- (1) 1 किंवा 2 पैकी एकही निष्कर्ष तर्कसंगत नाही,
(2) केवळ निष्कर्ष 2 तर्कसंगत आहे.
(3) केवळ निष्कर्ष 1 तर्कसंगत आहे.
(4) 1 किंवा 2 हे दोन्ही निष्कर्ष तर्कसंगत आहेत.

23. The following contain two pairs of words which are related to each other in a certain way. Three of the following four word pairs are alike as these have the same relationship and thus form a group. Which word pair is the one that does NOT belong to that group? (The words must be considered as meaningful English words and must not be grouped based on the number of letters/number of consonants/vowels in the word)

- (1) Cloud: Grasshopper (2) Smelts: Quantity
(3) Colony: Ants (4) Zebras: Herd

24. दिलेली मालिका तर्कदृष्ट्या पूर्ण होण्यासाठी प्रश्नचिन्हाच्या (?) जागी खालीलपैकी कोणता पर्याय आला पाहिजे?

3, 10, 29, 66, ?, 218

- (1) 102 (2) 115
(3) 127 (4) 120

25. एका माणसाने काही फळांची रू. 30 ला 14 फळे याप्रमाणे खरेदी केली आणि रू. 20 ला 7 याप्रमाणे त्या फळांची विक्री केली. त्याची नफ्याची टक्केवारी किती आहे?

- (1) 30% (2) 36.33%
(3) 33.33% (4) 20%

40

Date - 14/09/2023

वेळ : 9 : 00 AM - 11 : 00 AM

1. जर $0.0879/P = 0.01$ असेल, तर P चे मूल्य शोधा.
(1) 87.9 (2) 8.79 (3) 8.09 (4) 879
2. एक टाकी सर्वसाधारणपणे 12 तासांत भरते. जेव्हा तिच्या तळातून गळती होते, तेव्हा ती भरण्यास 14 तास लागतात. जर टाकी पूर्ण भरलेली असेल, तर गळतीमुळे ती किती कालावधीत रिकामी होईल?
(1) 94 (2) 84 (3) 75 (4) 70
3. Who among the following is seventh from the right?
1,6,4, 2, 6, 1, 3, 8, 9, 5, 8, 1, 6, 5, 1, 5,8,5, 3, 9
(1) 1 (2) 5 (3) 6 (4) 2
4. Three statements are given and these statements are followed by two conclusions numbered (1) and (2). You have to take the given two statements to be true even if they seem to be at variance from commonly known facts. Read the conclusions and then decide which of the given conclusions logically follows from the two given statements. Statements :
Rohan is a professor.
Rohan is a student.
No student is a Dean.
Conclusions :
(1) Some students are professors.
(2) Rohan is not a dean.
(1) Only conclusion 1 follows
(2) Only conclusion 2 follows
(3) Neither 1 nor 2 follows
(4) Both 1 and 2 follows
5. आशा ही वर्षाच्या तुलनेत चारपट अधिक कार्यक्षम आहे आणि ती एका कामाला पूर्ण करण्यासाठी वर्षाला लागणाऱ्या कालावधीच्या 30 दिवस आधी त्या कामाला पूर्ण करू शकते. जर दोघी एकाच वेळी काम करत असतील, तर ते काम पूर्ण करण्यासाठी एकूण किती दिवस लागतील हे शोधा.
(1) 8 Days (2) 10 Days
(3) 6 Days (4) 11 Days

पेपर क्र. - 39	21 - 3	22 - 3	23 - 2	24 - 3	25 - 3					
पेपर क्र. - 40	1 - 2	2 - 2	3 - 2	4 - 4	5 - 1					

21. ABC: BAC :: XYZ : ?

प्रश्नचिन्हाच्या जागी येणारा अक्षर-गट कोणता असेल ?

- (1) YXZ (2) ZYX
(3) XYZ (4) YZX

22. एक रेल्वेगाडी 60 km/h च्या सरासरी वेगाने तिच्या गंतव्यस्थानी वेळेवर पोहोचते. जर ती 50 km/h च्या सरासरी वेगाने जात असेल, तर तिला पोहोचण्यास 15 मिनिटे उशीर होतो. तर प्रवासाचे एकूण अंतर आहे.

- (1) 70 Km (2) 60 Km
(3) 75 Km (4) 65 Km

23. गटात न बसणारा शब्द ओळखा.

- (1) लाल माती (2) गाळाची माती
(3) कुथमृदा (ह्यूमस) (4) काळी माती

24. सविताने 15000 रुपयांची रक्कम ही चक्रवाढ व्याजाच्या दरसाल 5% दराने 2 वर्षांसाठी कविताला कर्जाऊ दिली. सविताला 2 वर्षांनी मिळणाऱ्या रकमेची गणना करा.

- (1) Rs. 17500 (2) Rs. 16537.5
(3) Rs. 750 (4) Rs. 15750

25. मौर्य साम्राज्य : अशोक :: मुघल साम्राज्य : ?

प्रश्नचिन्हाच्या जागी कोणता शब्द येईल ?

- (1) रझिया सुलतान (2) अकबर
(3) चंद्रगुप्त (4) बल्बन

41

Date - 22/08/2023

वेळ : 12 : 30 PM - 02 : 30 PM

1. जर 6 पुरुष व 8 मुले हे एका कामाला 10 दिवसांत पूर्ण करू शकतात आणि त्याच कामाला 26 पुरुष व 48 मुले 2 दिवसांत पूर्ण करू शकतात, तर त्याच प्रकारचे काम करण्यासाठी 15 पुरुष आणि 20 मुलांना लागणारा वेळ किती असेल ?

- (1) 7 दिवस (2) 5 दिवस (3) 6 दिवस (4) 4 दिवस

2. दिलेली विधाने आणि निष्कर्ष लक्षपूर्वक वाचा. दिलेली विधाने ही सामान्यपणे ज्ञात तथ्यांपेक्षा वेगळी असल्याचे आढळले, तरी ती सत्य आहे असे गृहीत धरून, निष्कर्षांपैकी कोणता/ते दिलेल्या विधानांशी तर्कसंगत आहे/ आहेत ते ठरवा. विधाने :

सर्व डोळे, ओठ आहेत.

सर्व ओठ, दात आहेत.

सर्व दात हात आहेत.

निष्कर्ष :

(I) काही हात, ओठ आहेत.

(II) काही दात, डोळे आहेत.

(1) केवळ निष्कर्ष (II) तर्कसंगत आहे.

(2) केवळ निष्कर्ष (I) तर्कसंगत आहे.

(3) निष्कर्ष (I) आणि (II) हे दोन्ही तर्कसंगत आहेत

(4) निष्कर्ष (I) किंवा निष्कर्ष (II) पैकी एकही तर्कसंगत नाही.

3. ₹118 ही रक्कम 50 मुला-मुलींमध्ये अशा प्रकारे विभागली, की प्रत्येक मुलाला Rs. 2.60 मिळाले आणि प्रत्येक मुलीला Rs. 1.80 मिळाले. मुलींची संख्या शोधा.

- (1) 10 (2) 15 (3) 5 (4) 35

4. दिलेली मालिका तर्कदृष्ट्या पूर्ण करण्यासाठी ? च्या स्थानी काय आले पाहिजे ? PT217, IB214, ?, UR212, NZ213

- (1) BK215 (2) BJ217
(3) BK217 (4) BJ215

5. इंग्रजी वर्णक्रमानुसार आधारित दिलेल्या मालिकेत प्रश्नचिन्हाच्या (?) जागी काय यायला हवे ? F, C, Y, V, R, O, ?

- (1) G (2) H (3) P (4) K

6. दिलेली मालिका तर्कदृष्ट्या पूर्ण होण्यासाठी, प्रश्नचिन्हाच्या (?) जागी दिलेल्या पर्यायांपैकी कोणता पर्याय आला पाहिजे ? FH14 GI16 HJ19 IK23 ?

- (1) JK27 (2) JL28 (3) KL28 (4) KJ27

7. एका विशिष्ट तर्कानुसार 'JL13' हे 'NP26' शी संबंधित आहे. त्याचप्रकारे, 'RT17' हे 'VX34' शी संबंधित आहे. त्याच तर्काचे अनुसरण केल्यास, 'VX19' हे खालीलपैकी कशाशी संबंधित आहे ?

- (1) YA38 (2) ZB38 (3) ZC38 (4) ZA34

8. खाली विशिष्ट प्रकारे एकमेकांशी संबंधित असलेल्या दोन शब्दजोख्या दिलेल्या आहेत. खालील चारपैकी तीन शब्दजोख्यांमध्ये समान सहसंबंध आहे आणि त्यामुळे त्यांचा एक गट तयार होतो. त्या गटात न बसणारी शब्दजोडी कोणती आहे ?

(या शब्दांना अर्थपूर्ण मराठी शब्द मानले जावे आणि शब्दातील अक्षरे/व्यंजन/स्वर यांच्या संख्येच्या आधारे त्यांचे गट पाडले जाऊ नयेत.)

- (1) झाडे : फळे (2) समुद्र : जहाज
(3) महासागर : मीठ (4) खाणी : कोळसा

पेपर क्र. - 40	21 - 1	22 - 3	23 - 3	24 - 2	25 - 4						
पेपर क्र. - 41	1 - 4	2 - 3	3 - 2	4 - 4	5 - 4	6 - 2	7 - 2	8 - 2			

23. इंग्रजी वर्णमालाक्रमावर आधारित एका तर्कानुसार 'PKFW' हे 'QLGX' शी संबंधित आहे. त्याचप्रकारे, 'LXAM' हे 'MYBN' शी संबंधित आहे. त्याच तर्काचे अनुसरण केल्यास, 'VFIS' हे खालीलपैकी कशाशी संबंधित आहे?

- (1) WJGT (2) WGJT
(3) WJTG (4) WTJG

24. 10 km/h वेगाने धावणाऱ्या एका पोलीस कर्मचाऱ्याने 8 km/h वेगाने धावणाऱ्या एका चोराचा पाठलाग केला. जर चोर हा पोलीस कर्मचाऱ्याच्या 100 मीटर पुढे असेल, तर पोलीस कर्मचाऱ्याला त्या चोरस पकडण्यासाठी लागणारा वेळ किती असेल?

- (1) 2 मिनिटे (2) 6 मिनिटे
(3) 3 मिनिटे (4) 10 मिनिटे

25. सरळरूप द्या: $15 - [16 - \{12 + 21 \div (9 - 2)\}]$.

- (1) 12 (2) 16
(3) 14 (4) 18

42

Date - 22/08/2023

वेळ : 04 : 30 PM - 06 : 30 PM

1. मूळ किंमतीच्या दरालाच मिश्रण विकून 20% नफा मिळवण्यासाठी दुधात किती प्रमाणात पाणी मिसळले गेले पाहिजे?

- (1) 1 : 6 (2) 1 : 4 (3) 1 : 5 (4) 1 : 3

2. हरितेजा हा 4 km/h या वेगाने चालत त्याच्या शाळेत गेला आणि 20 km/h वेगाने स्कूटरवर परतला. या दुतर्फा प्रवासादरम्यान त्याचा सरासरी वेग किती आहे?

- (1) 6 km/h (2) 12 km/h
(3) 8 km/h (4) $\frac{20}{3}$ km/h

3. दिलेली मालिका तर्कदृष्ट्या पूर्ण होण्यासाठी प्रश्नचिन्हाच्या (?) जागी खालीलपैकी कोणता पर्याय आला पाहिजे? 6, 12, 20, 30, 42, ?

- (1) 61 (2) 56 (3) 58 (4) 55

4. एका रेषाखंडाची लांबी 5 cm 7mm आहे. 9cm 6mm लांबीचा आणखी एक रेषाखंड त्याच दिशेने त्याला जोडला गेला. एकत्रित जोडलेल्या रेषाखंडाची लांबी किती आहे?

- (1) 14 cm 3mm (2) 14 cm 6mm
(3) 15 cm 7 mm (4) 15 cm 3 mm

5. दिलेली विधाने आणि निष्कर्ष लक्षपूर्वक वाचा. विधानांमध्ये दिलेली माहिती ही सामान्यपणे ज्ञात तथ्यांपेक्षा वेगळी असल्याचे आढळले, तरी ती सत्य आहे असे गृहीत धरून, दिलेल्या निष्कर्षांपैकी कोणता/ते निष्कर्ष दिलेल्या विधानांशी तर्कसंगत आहे/आहेत हे ठरवा.

विधाने:

एकही खांब, तिजोरी नाही.

एकही तिजोरी, झाकण नाही.

निष्कर्ष 1 : एकही झाकण, खांब नाही.

निष्कर्ष 2 : सर्व खांब, झाकणे आहेत.

- (1) 1 किंवा 2 पैकी एकही निष्कर्ष तर्कसंगत नाही.
(2) केवळ निष्कर्ष 2 तर्कसंगत आहे.
(3) केवळ निष्कर्ष 1 तर्कसंगत आहे.
(4) 1 किंवा 2 हे दोन्ही निष्कर्ष तर्कसंगत आहेत.

6. एक दुकानदार ₹2,000 छापील किमतीच्या एका वस्तूवर 20% आणि 15% ची सलग सवलत देतो. त्याने ती वस्तू किती किमतीला विकली?

- (1) ₹1,200 (2) ₹1,240
(3) ₹1,360 (4) ₹1,300

7. दिलेली मालिका तर्कदृष्ट्या पूर्ण करण्यासाठी ? च्या स्थानी काय आले पाहिजे?

H65, J101, L145, N197, P257, ?

- (1) R325 (2) R323 (3) R326 (4) R322

8. A हा B च्या तिप्पट कार्यक्षम आहे आणि म्हणून त्याला एका काम पूर्ण करण्यास B च्या तुलनेत 60 दिवस कमी लागतात. मिळून काम केल्याने, ते हे काम किती दिवसांत करू शकतात?

- (1) 30 दिवस (2) $22\frac{1}{2}$ दिवस
(3) 25 दिवस (4) 20 दिवस

9. खालील चारपैकी तीन पर्यायांत एक विशिष्ट साधर्म्य आहे आणि त्यामुळे त्यांचा एक गट तयार होतो. कोणता पर्याय त्या गटात बसत नाही?

- (1) PXR (2) XFZ (3) BJD (4) FNJ

10. राणीने व्यवसाय सुरू करण्यासाठी बँकेकडून ₹. 2,00,000 रकमेचे कर्ज घेतले. 2 वर्षांनंतर वार्षिक 7% दराने ती किती सरळव्याज भरेल?

- (1) ₹28,000 (2) ₹26,000
(3) ₹24,000 (4) ₹28,500

पेपर क्र. - 41	23 - 2	24 - 3	25 - 3								
पेपर क्र. - 42	1 - 3	2 - 4	3 - 2	4 - 4	5 - 1	6 - 3	7 - 1	8 - 2	9 - 4	10 - 1	

1. खालील प्रश्नात काही विधाने आणि त्या विधानांवर आधारित काही निष्कर्ष दिले आहेत. विधानांत दिलेली माहिती, जरी ती सामान्यतः ज्ञात तथ्यांशी भिन्न असल्याचे दिसत असले तरी, सत्य आहे असे गृहीत धरा. दिलेले सगळे निष्कर्ष वाचा आणि त्यानंतर दिलेल्यांपैकी कोणता ते निष्कर्ष दिलेल्या विधानांशी तर्कसंगत आहे/आहेत, ते ठरवा.

विधाने :

- (I) काही T हे S आहे.
(II) सर्व K हे S आहेत.

निष्कर्ष :

- (I) कोणतेही T हे K नाहीत.
(II) काही S हे T आहेत.
(III) काही K हे T नाहीत.
(1) सर्व निष्कर्ष तर्कसंगत आहेत.
(2) केवळ निष्कर्ष I तर्कसंगत आहे.
(3) एकही निष्कर्ष तर्कसंगत नाही.
(4) केवळ निष्कर्ष II तर्कसंगत आहे.

2. A series is given with one term missing. Select the correct alternative from the given ones that will complete the series.

MOR, QUZ, UAH, YGP, ?

- (1) DNQ (2) CNR
(3) CMX (4) RDQ

3. In the following question, select the missing number from the given series.

10, 21, 41, 83, 165, ?

- (1) 331 (2) 340 (3) 330 (4) 350

4. In the following question, select the missing number from the given series.

0, 11, -2, 13, ?, 15, -6, 17

- (1) -3 (2) -4 (3) 4 (4) -5

5. Select that missing pair (Fifth letter cluster: Sixth letter cluster) which is related in the same way as the first letter cluster is related to the second letter cluster and third letter cluster is related to

fourth letter cluster.

GI: EF: RK: PH:: ?

- (1) VX : TU (2) QF : SC
(3) RD : UV (4) GJ : IP

6. खाली दिलेली अक्षर शृंखला लक्षात घ्या. त्या शृंखलेत किती अक्षरांच्या लगेचच नंतर एक व्यंजन येते परंतु लगेचच आधी एक व्यंजन येत नाही ?

ARERAX PVZ VAQ KWVD MRENNMZUL

- (1) 6 (2) 4 (3) 2 (4) 3

7. By Interchanging which two signs the equation will be correct?

$$12 \div 6 + 8 \times 2 - 16 = 60$$

- (1) \div and + (2) + and -
(3) \times and \div (4) \times and -

8. In the following question, two groups of letters are given W. The letters of each group are related with the letters of the same group by some Logic/Rule/Relation. From the given alternatives, select a group of letters which follows the same Logic/Rule/Relation.

(ABC, BCE, CDG), (JHR, KIT, LJV)

- (1) (KLM, LMO, MNQ) (2) (BCD, CDF, DEI)
(3) (EFG, FGH, GHJ) (4) (HIJ, IJK, JKL)

9. A series is given with one term missing. Select the correct alternative from the given ones that will complete the series.

NMRQ, RGZG, VAHW, ZUPM, ?

- (1) DHCH (2) DQRM
(3) DOXC (4) DMHG

10. A series is given with one term missing. Select the correct alternative from the given ones that will complete the series.

PM, SC, VS, YI, ?

- (1) BR (2) BS
(3) BM (4) BY

पेपर क्र. - 43	1 - 4	2 - 3	3 - 1	4 - 2	5 - 1	6 - 4	7 - 3	8 - 1	9 - 3	10 - 4
----------------	-------	-------	-------	-------	-------	-------	-------	-------	-------	--------

1. एक पद गहाळ असलेली एक मालिका दिली आहे. दिलेल्या पर्यायांतून ती मालिका पूर्ण करणारा पर्याय निवडा.
PQ, LZ, HI, DR, ?
(1) ZM (2) ZT (3) ZA (4) ZS
2. खालील प्रश्नात, अक्षरांचे दोन गट दिलेले आहेत. प्रत्येक गटातील अक्षरे काही तर्क/नियम/संबंधाने त्याच गटातील अक्षरांशी संबंधित आहेत. दिलेल्या पर्यायांतून, समान तर्क/नियम/संबंध असणारा अक्षरांचा समूह निवडा.
(FVZ, EUX, DTV), (RZG, QYE, PXC)
(1) (BJN, AIM, ZHK)
(2) (OXP, NWM, MVK)
(3) (OPT, NOR, MNP)
(4) (TVJ, SUH, RTG)
3. एक पद गहाळ असलेली एक मालिका दिली आहे. दिलेल्या पर्यायांतून ती मालिका पूर्ण करणारा पर्याय निवडा.
BMRQ, IRAB, PWJM, WBSX, ?
(1) DMRQ (2) DTBI
(3) DGBI (4) DHNM
4. खालील प्रश्नात काही विधाने आणि त्या विधानांवर आधारित काही निष्कर्ष दिले आहेत. विधानांत दिलेली माहिती, जरी ती सामान्यतः ज्ञात तथ्यांशी भिन्न असल्याचे दिसत असले तरी, सत्य आहे असे गृहीत धरा. दिलेले सगळे निष्कर्ष वाचा आणि त्यानंतर दिलेल्यांपैकी कोणता ते निष्कर्ष दिलेल्या विधानांशी तर्कसंगत आहे/आहेत, ते ठरवा.
विधाने:
(I) एकही B हा A नाही.
(II) काही C हे B आहेत.
निष्कर्ष:
(I) काही C हे A नाहीत.
(II) सर्व A हे C आहेत.
(1) I आणि II दोन्ही निष्कर्ष तर्कसंगत आहेत.
(2) केवळ निष्कर्ष I तर्कसंगत आहे
(3) केवळ निष्कर्ष II तर्कसंगत आहे
(4) एकही निष्कर्ष तर्कसंगत नाही.
5. खालील प्रश्नात काही विधाने आणि त्या विधानांवर आधारित काही निष्कर्ष दिले आहेत. विधानांत दिलेली माहिती, जरी ती सामान्यतः ज्ञात तथ्यांशी भिन्न असल्याचे दिसत असले तरी, सत्य आहे असे गृहीत धरा. दिलेले सगळे निष्कर्ष वाचा आणि त्यानंतर दिलेल्यांपैकी कोणता ते निष्कर्ष दिलेल्या विधानांशी तर्कसंगत आहे/आहेत, ते ठरवा.
विधाने :
(I) सर्व नकाशे लाल आहेत.
(II) काही गुलाबी लाल आहेत.
निष्कर्ष :
(I) काही लाल नकाशे आहेत.
(II) सर्व गुलाबी नकाशे आहेत..
(III) एकही नकाशा गुलाबी नाही.
(1) केवळ निष्कर्ष III तर्कसंगत आहे
(2) केवळ निष्कर्ष I तर्कसंगत आहे
(3) एकही निष्कर्ष तर्कसंगत नाही.
(4) केवळ निष्कर्ष II तर्कसंगत आहे
6. खाली दिलेली अक्षर शृंखला लक्षात घ्या. त्या शृंखलेत '5' आणि '6' या अंकांच्या जागा आपापसांत बदलल्या, तर तयार होणाऱ्या नव्या शृंखलेत उजव्या टोकाकडून आठव्या क्रमांकावर कोणते अक्षर / संख्या येईल?
5 6 Q Q S 6 SQ 5 5 6 5 6 6 6 6 Q Q 5 6 6 Q 5 S
(1) 6 (2) S (3) Q (4) 5
7. ज्याप्रमाणे पहिली अक्षर जोडी ही दुसऱ्या अक्षर जोडीशी संबंधित आहे आणि तिसरी अक्षर जोडी ही चौथ्या अक्षर जोडीशी संबंधित आहे, त्याचप्रमाणे समान संबंध असणारी प्रश्नचिन्हाच्या जागी येणारी जोडी निवडा (पाचवी अक्षरजोडी : सहावी अक्षरजोडी).
GE : HH :: RT : SW :: ?
(1) SF : WJ (2) IA : JD
(3) UG : VK (4) CM : GQ
8. खालील प्रश्नात, दिलेल्या पर्यायांतून संबंधित अक्षरे निवडा.
UH : RE :: TG : ?
(1) RC (2) QD (3) QC (4) US

1. खालील प्रश्नात, दिलेल्या पर्यायांतून संबंधित अक्षरे निवडा.
VX : WZ :: YA : ?
(1) PZ (2) ZC (3) BR (4) AL
2. खालील प्रश्नात, दिलेल्या मालिकेत प्रश्नचिन्हाच्या जागी येणारी संख्या निवडा. 7, 29, 117, 469, 1877, ?
(1) 7501 (2) 7519
(3) 7510 (4) 7509
3. ज्याप्रमाणे पहिली अक्षर जोडी ही दुसऱ्या अक्षर जोडीशी संबंधित आहे आणि तिसरी अक्षर जोडी ही चौथ्या अक्षर जोडीशी संबंधित आहे, त्याचप्रमाणे समान संबंध असणारी प्रश्नचिन्हाच्या जागी येणारी जोडी निवडा (पाचवी अक्षरजोडी : सहावी अक्षरजोडी).
LY : OB : SB : VE :: ?
(1) CP : FA (2) XK : VJ
(3) WJ : VH (4) MZ : PC
4. खालील प्रश्नात, अक्षरांचे दोन गट दिलेले आहेत. प्रत्येक गटातील अक्षरे काही तर्क/नियम/संबंधाने त्याच गटातील अक्षरांशी संबंधित आहेत. दिलेल्या पर्यायांतून, समान तर्क / नियम / संबंध असणारा अक्षरांचा समूह निवडा.
(MNP, OPS, QRV), (RGA, TID, VKG)
(1) (GHI, IJL, KMO) (2) (JKL, LMN, NOQ)
(3) (RST, TUW, VWY) (4) (VCP, XES, ZGV)
5. एक पद गहाळ असलेली एक मालिका दिली आहे. दिलेल्या पर्यायांतून ती मालिका पूर्ण करणारा पर्याय निवडा.
RMTQ, KHKF, DCBU, WXSJ, ?
(1) PGCJ (2) MNOP
(3) PMNR (4) PSJY
6. खालील प्रश्नात, दिलेल्या मालिकेत प्रश्नचिन्हाच्या जागी येणारी संख्या निवडा. 49, 61, 47, 63, ?, 65, 43, 67
(1) 43 (2) 45 (3) 48 (4) 40
7. खालील प्रश्नात, दिलेल्या पर्यायांतून गटात न बसणारे / री अक्षर / अक्षरे निवडा.
(1) STUV (2) IJKL
(3) HIJL (4) UVWX
8. जर 'e' म्हणजे 'x' असेल, 'f' म्हणजे '-' असेल, 'g' म्हणजे '-' असेल आणि 'h' म्हणजे '+' असेल, तर 21e7f3g14h18=?
(1) 60 (2) 50 (3) 53 (4) 48
9. खालील प्रश्नात काही विधाने आणि त्या विधानांवर आधारित काही निष्कर्ष दिले आहेत. विधानांत दिलेली माहिती, जरी ती सामान्यतः ज्ञात तथ्यांशी भिन्न असल्याचे दिसत असले तरी, सत्य आहे असे गृहीत धरा. दिलेले सगळे निष्कर्ष वाचा आणि त्यानंतर दिलेल्यापैकी कोणता/ते निष्कर्ष दिलेल्या विधानांशी तर्कसंगत आहे/आहेत, ते ठरवा.
विधाने :
(I) सर्व F हे X आहेत.
(II) काही X हे J आहेत.
निष्कर्ष :
(I) काही J हे X आहेत.
(II) एकही J हा F नाही.
(1) एकही निष्कर्ष तर्कसंगत नाही.
(2) I आणि II दोन्ही निष्कर्ष तर्कसंगत आहेत.
(3) केवळ निष्कर्ष I तर्कसंगत आहे
(4) केवळ निष्कर्ष II तर्कसंगत आहे
10. एक पद गहाळ असलेली एक मालिका दिली आहे. दिलेल्या पर्यायांतून ती मालिका पूर्ण करणारा पर्याय निवडा.
PM, TD, XU, BL, ?
(1) GC (2) TD (3) FM (4) FC
11. एक पद गहाळलेली एक मालिका दिली आहे. ती मालिका पूर्ण करण्यासाठी दिलेल्यांतून योग्य पर्याय निवडा.
MOQ, RUY, WAG, BGO, ?
(1) GMR (2) RMR
(3) GMW (4) NTS
12. खाली दिलेली अक्षर शृंखला लक्षात घ्या. त्या शृंखलेत असे किती R आहेत ज्यांच्या लगेचच आधी एक चिन्ह येते आणि लगेचच नंतर फक्त ते स्वतः येते?
HR%R%RRRHHR&H&H&%RH&R R%R
(1) 2 (2) 0 (3) 3 (4) 1

पेपर क्र. - 45	1 - 2	2 - 4	3 - 4	4 - 4	5 - 4	6 - 2	7 - 3	8 - 3	9 - 3	10 - 4	11 - 3
	12 - 1										

1. दिलेली मालिका तर्कदृष्ट्या पूर्ण करण्यासाठी ? च्या स्थानी काय आले पाहिजे?
B, 3, E, 6, C, 9, F, 12, ?, 15, G
(1) H (2) A (3) D (4) K
2. दिलेल्या मालिकेमध्ये ? च्या स्थानी काय आले पाहिजे?
15, 19, 27, 43, 75, ?
(1) 100 (2) 108 (3) 139 (4) 125
3. एक काम करण्यासाठी A ला लागणारा वेळ हा तेच काम करण्यासाठी B आणि C यांना मिळून लागणाऱ्या वेळेइतका आहे. जर A आणि B मिळून ते 10 दिवसांत करू शकतात आणि C एकट्याने ते 50 दिवसांत करू शकतो, तर B एकट्याने ते किती दिवसांत करू शकतो?
(1) 20 दिवस (2) 30 दिवस
(3) 25 दिवस (4) 15 दिवस
4. एका चोराने दुपारी 2.30 वाजता एका कारची चोरी केली आणि तिला 60 km/h वेगाने चालवले. ही चोरी दुपारी 3 वाजता उघडकीस आली आणि मालक दुसऱ्या कारमध्ये बसून 75 km/h वेगाने निघाला. तो चोराला कधी पकडेल?
(1) दुपारी 5:00 वाजता (2) दुपारी 5:15 वाजता
(3) दुपारी 4:30 वाजता (4) दुपारी 4:45 वाजता
5. दिलेल्या अक्षर-समूहांच्या जोडीमध्ये असलेल्या संबंधाप्रमाणेच समान संबंध दर्शविणारा अक्षर-समूह दिलेल्या पर्यायांतून निवडा.
JZP : NDT
FWM : JAQ
(1) NTD : RXG (2) RFV : VJZ
(3) QAJ : UEO (4) SME : WPI
6. 8m 54 cm लांबी असलेल्या एका तारेचे समान लांबीचे 7 तुकडे केले. प्रत्येक तुकड्याची लांबी किती आहे?
(1) 1.12 m (2) 1.02 m
(3) 1.22 m (4) 1.32 m
7. जर जॉनने 90 km चे अंतर 30 km/h च्या वेगाने कापले आणि तो 60 km/h च्या वेगाने परतला, तर त्याचा सरासरी वेग किती आहे?
(1) 45 km/h (2) 40 km/h
(3) 60 km/h (4) 30 km/h
8. A आणि B या तोट्या अनुक्रमे 5 तासांत आणि 6 तासांत एक टाकी भरू शकतात. तोटी C तिला 12 तासांत रिकामी करू शकते. तिन्ही तोट्या एकत्रितपणे उघड्यास, टाकी किती वेळात भरली जाईल?
(1) $3\frac{9}{17}$ (2) $2\frac{8}{11}$
(3) $4\frac{1}{2}$ (4) $1\frac{13}{17}$
9. जर $1^2 + 2^2 + 3^2 + \dots + 10^2 = 385$ असेल, तर $3^2 + 6^2 + 9^2 + \dots + 30^2$ चे मूल्य किती येईल?
(1) 2310 (2) 3465 (3) 770 (4) 1155
10. सुमने 10% वार्षिक चक्रवाढ व्याजदराने रु. 20,000 रकमेची गुंतवणूक केली. तिला n वर्षांनंतर रु. 26,620 ची रक्कम मिळाल्यास, n चे मूल्य किती आहे?
(1) 3 वर्षे (2) 2.8 वर्षे
(3) 2.5 वर्षे (4) 2 वर्षे
11. इंग्रजी वर्णमालाक्रमाने आधारित एका तर्कानुसार 'GMSX' हे 'LRXC' शी संबंधित आहे. त्याचप्रकारे, 'NTYA' हे 'SYDF' शी संबंधित आहे. त्याच तर्काचे अनुसरण केल्यास, 'MSXP' हे खालीलपैकी कशाशी संबंधित आहे?
(1) RCXU (2) RUCX
(3) RXCU (4) RUXC
12. अक्षरे, चिन्हे असलेल्या खालील मालिकेचा संदर्भ घ्या आणि प्रश्नाचे उत्तर द्या. मोजणी ही केवळ डावीकडून उजवीकडे करावयाची आहे.
(डावे) A Z @ S X % E # C F V G & B H N Ω J M K I £ L Y * O U > R (उजवे)
येथे अशी किती चिन्हे आहेत, ज्यांपैकी प्रत्येकाच्या ताबडतोब आधी एक स्वर आणि तसेच ताबडतोब नंतर एक व्यंजन देखील आहे?
(1) तीन (2) दोन (3) चार (4) एक
13. दिलेली मालिका तर्कदृष्ट्या पूर्ण होण्यासाठी, प्रश्नचिन्हाच्या (?) जागी दिलेल्या पर्यायांपैकी कोणता पर्याय आला पाहिजे?
ST29 OP33 LM37 JK41 ?
(1) HI45 (2) IK44 (3) IJ45 (4) HJ44

पेपर क्र. - 46	1 - 3	2 - 3	3 - 3	4 - 1	5 - 2	6 - 3	7 - 2	8 - 1	9 - 2	10 - 1	11 - 3
	12 - 1	13 - 3									

1. श्रीमती खन्ना यांनी एका किराणा दुकानातून 10 kg 400g तांदूळ, 15 kg 500g गहू आणि 4kg 600g साखर खरेदी केली. तिने खरेदी केलेल्या वस्तूंचे एकूण वजन शोधा..

- (1) 30 kg 550 g (2) 30 kg 500 g
(3) 30 kg 450 g (4) 30 kg 400 g

2. दिलेल्या मालिकेत ? च्या जागी काय यायला हवे?
24, 149, 213, 240, 248, ?

- (1) 250 (2) 251 (3) 247 (4) 249

3. दिलेली मालिका तर्कदृष्ट्या पूर्ण होण्यासाठी प्रश्नचिन्हाच्या (?) जागी दिलेल्या पर्यायांपैकी कोणता पर्याय आला पाहिजे?
IH57 HJ49 JG42 GK36 ?

- (1) KG31 (2) KP31 (3) KF31 (4) LG32

4. दिलेल्या अक्षर-समूहांच्या जोडीमध्ये असलेल्या संबंधाप्रमाणेच समान संबंध दर्शविणारा अक्षर समूह दिलेल्या पर्यायांतून निवडा.

FJ : KON

OFC : TKH

- (1) DLO : JRT (2) JPC : PVH
(3) WGL : BLQ (4) SQZ : YWE

5. एक कार $2\frac{1}{4}$ तासांत 36 मैल/तास वेगाने एक ठराविक अंतर पार करते आणि दुसरे अंतर $1\frac{3}{4}$ तासांत 56 मैल/तास या वेगाने पार करते. कारणे पार केलेले एकूण अंतर (मैलांमध्ये) शोधा.

- (1) 179 (2) 200 (3) 159 (4) 139

6. दिलेले/ली विधान/ने आणि निष्कर्ष लक्षपूर्वक वाचा. विधानांमध्ये दिलेली माहिती ही सामान्यपणे ज्ञात तथ्यांपेक्षा वेगळी असल्याचे आढळले, तरी ती सत्य आहे असे गृहीत धरून दिलेल्या निष्कर्षांपैकी कोणता /ते निष्कर्ष विधान/नांशी तर्कसंगत आहे/आहेत ते ठरवा.

विधाने :

सर्व आरसे, कंगवे आहेत.

सर्व कंगवे, पावडर आहेत.

सर्व पावडर, क्रीम आहेत.

निष्कर्ष :

(I) काही आरसे, पावडर आहेत,

(II) सर्व क्रीम, कंगवे आहेत.

(1) निष्कर्ष (I) आणि (II) हे दोन्ही तर्कसंगत आहेत.

(2) फक्त निष्कर्ष (II) तर्कसंगत आहे.

(3) निष्कर्ष (I) किंवा (II) पैकी एकही तर्कसंगत नाही.

(4) फक्त निष्कर्ष (I) तर्कसंगत आहे.

7. 6 वस्तूंची मूळ किंमत ही 10 वस्तूंच्या विक्री किंमतीएवढी आहे. नफा किंवा तोट्याची टक्केवारी शोधा.

- (1) 40% नफा (2) 60% तोटा
(3) 40% तोटा (4) 60% नफा

8. दिलेसेसी विधान/ने आणि निष्कर्ष लक्षपूर्वक वाचा विधानामध्ये दिलेली माहिती ही सामान्यपणे ज्ञान तथ्यांपेक्षा वेगळी असल्याचे आढळले, तरी ती सत्य आहे असे गृहीत धरून, दिलेल्या निष्कर्षांपैकी कोणता/ते दिलेल्या विधानांशी तर्कसंगत आहे/आहेत ते ठरवा.

विधाने :

सर्व टॉवेल, रूमाल आहेत.

काही रूमाल, कपडे आहेत.

निष्कर्ष :

(I) सर्व टॉवेल, कपडे आहेत.

(II) सर्व कपडे, टॉवेल आहे.

(1) आणि (I) हे दोन्ही तर्कसंगत आहेत

(2) केवळ निष्कर्ष (I) तर्कसंगत आहे.

(3) केवळ (I) तर्कसंगत आहे.

(4) निष्कर्ष (I) किंवा निष्कर्ष (II) पैकी एक तर्कसंगत नाही,

9. P हा Q पेक्षा 30% अधिक कार्यक्षम आहे त्यांनी मिळून काम केल्यास, एकट्या P कडून 23 दिवसांत पूर्ण होऊ शकणाऱ्या कामासाठी त्यांना किती वेळ लागेल?

- (1) 11 दिवस (2) 13 दिवस
(3) $20\frac{3}{17}$ दिवस (4) 10 दिवस

10. अक्षरगटांच्या खालील चार जोड्यांपैकी तीन जोड्या एका विशिष्ट तऱ्हेने समान आहेत आणि त्यामुळे त्यांचा एक गट तयार होतो. त्या गटात न बसणारी अक्षरगट जोडी निवडा.

- (1) JS-KT (2) BK-CL
(3) XG-YH (4) ZI-LV

पेपर क्र. - 47	1 - 2	2 - 3	3 - 3	4 - 3	5 - 1	6 - 4	7 - 3	8 - 4	9 - 2	10 - 4
----------------	-------	-------	-------	-------	-------	-------	-------	-------	-------	--------

1. खालील प्रश्नात, दिलेल्या मालिकेत प्रश्नचिन्हाच्या जागी येणारी संख्या निवडा.

1, 2, 6, 15, 31, ?, 92

(1) 54 (2) 47 (3) 50 (4) 56

2. खालील प्रश्नात, दिलेल्या मालिकेत प्रश्नचिन्हाच्या जागी येणारी संख्या निवडा. 100, 96, 88, 72, 40, ?

(1) -24 (2) 10 (3) -15 (4) 0

3. खाली दिलेली अक्षरांनी बनलेली शृंखला लक्षात घ्या. किती स्वरांच्या लगेचच आधी एक व्यंजन येते?

ABEIDGOSURKTEVNOIA

(1) 8 (2) 7 (3) 6 (4) 5

4. In the following question below are given some statements followed by some conclusions based on those statements.

Taking the given statements to be true even if they seem to be at variance from commonly known facts. Read all the conclusions and then decide which of the given conclusion logically follows the given statements.

Statements:

(I) Some bottle are table.

(II) All bottle are kite

Conclusion:

(I) Some kite are table.

(II) All table are bottle.

(III) All kite are bottle.

(1) Only conclusion I follows

(2) Neither conclusion follows

(3) Only conclusion II follows

(4) Both conclusions I and III follows

5. खालील प्रश्नात, चार अक्षर जोड्या दिलेल्या आहेत.

(-) च्या डावीकडील अक्षरे ही (-) च्या उजवीकडील अक्षरांशी काही तर्क/नियम/ संबंध यानुसार संबंधित आहेत. त्याच तर्क/नियम/संबंधाच्या आधारे तीन अक्षर जोड्या एकसमान आहेत. दिलेल्या पर्यायांतून गटात न बसणारा पर्याय निवडा.

(1) KWC - LYD (2) AMS - BOT

(3) UGM² - VIN (4) FTS - GVG

6. खालील प्रश्नात, दिलेल्या पर्यायांतून विषम अक्षर / अक्षरे निवडा.

(1) PS - OR

(2) OS - PQ

(3) HM - GL

(4) AF - ZE

7. कोणत्या दोन चिन्हांची अदलाबदल केल्यास समीकरण समतुल्य होईल?

$95 - 36 \div 4 + 5 \times 15 = 65$

(1) \times आणि +

(2) \times आणि -

(3) + आणि \div

(4) \div आणि -

8. एक पद गहाळ असलेली एक मालिका दिली आहे. दिलेल्या पर्यायांतून ती मालिका पूर्ण करणारा अचूक पर्याय निवडा.

COVI, HICA, MCJS, RWQK, ?

(1) WNNR (2) WQXC (3) WQYQ (4) NQRM

9. खालील प्रश्नात, दिलेल्या पर्यायांतून संबंधित अक्षर जोडी निवडा. JW: MZ :: ?

(1) OX: ZJ

(2) DF: AB

(3) LV: OY

(4) MO: OM

10. In the following question below are given some statements followed by some conclusions based on those statements.

Taking the given statements to be true even if they seem to be at variance from commonly known facts. Read all the conclusions and then decide which of the given conclusion logically follows the given statements.

Statements :

(I) All Q are Z

(II) No L is Z

Conclusion :

(I) No Z is L.

(II) No Q is L.

(III) Some Z are Q.

(1) Both conclusions II and III follows

(2) Both conclusions I and III follows

(3) All conclusion follows

(4) Both conclusions I and II follows

1. खालील प्रश्नात, दिलेल्या पर्यायांतून संबंधित अक्षर जोडी निवडा. MZ : IV :: ?
 (1) RE : EU (2) NA : AN
 (3) SF : UV (4) YL : UH
2. खालील प्रश्नात, चार अक्षर जोड्या दिलेल्या आहेत. यानुसार संबंधित आहेत. त्याच
 (-) च्या डावीकडील अक्षरे ही (-) च्या उजवीकडील अक्षरांशी काही तर्क / नियम / संबंध तर्क/नियम/संबंधाच्या आधारे तीन अक्षर जोड्या एकसमान आहेत. दिलेल्या पर्यायांतून गटात न बसणारा पर्याय निवडा.
 (1) MH - NS (2) PK - KP
 (3) YU - AE (4) UP - FK
3. खालील प्रश्नात, दिलेल्या मालिकेत प्रश्नचिन्हाच्या जागी येणारी संख्या निवडा. 730, 714, 734, ?, 738, 706
 (1) 705 (2) 700 (3) 708 (4) 710
4. खाली दिलेली अक्षरे आणि चिन्हांनी बनलेली शृंखला लक्षात घ्या. अशी किती चिन्हे आहेत ज्यांच्या लगेचच नंतर इतर कोणतेही चिन्ह येत नाही?
 # B @ * @ A # N @ O * P Q R S # @ * # @ *
 (1) 8 (2) 5 (3) 7 (4) 6
5. एक पद गहाळ असलेली एक मालिका दिली आहे. दिलेल्या पर्यायांतून ती मालिका पूर्ण करणारा अचूक पर्याय निवडा.
 NRTS, OUUV, PXVY, QAWB, ?
 (1) RMNO (2) REAS
 (3) RDXE (4) DMRQ
6. खालील प्रश्नात, चार अक्षर जोड्या दिलेल्या आहेत.
 (-) च्या डावीकडील अक्षरे ही (-) च्या उजवीकडील अक्षरांशी काही तर्क / नियम / संबंध यानुसार संबंधित आहेत. त्याच तर्क/नियम/संबंधाच्या आधारे तीन अक्षर जोड्या एकसमान आहेत. दिलेल्या पर्यायांतून गटात न बसणारा पर्याय निवडा.
 (1) VDBK - TBYH (2) FNLU - DLIR
 (3) LTRA - JROX (4) YDMK - WBKG
7. एक पद गहाळ असलेली एक मालिका दिली आहे. दिलेल्या पर्यायांतून ती मालिका पूर्ण करणारा अचूक पर्याय निवडा.
 MHDM, FCUB, YXLQ, RSCF, ?

- (1) KOPQ (2) KNOP
 (3) KNTU (4) KTOQ
8. खालील प्रश्नात, दिलेल्या मालिकेत प्रश्नचिन्हाच्या जागी येणारी संख्या निवडा.
 $5 + 4 - 6 \div 3 \times 1 = 19$
 (1) \times आणि - (2) \times आणि +
 (3) + आणि - (4) \div आणि \times
9. एक पद गहाळ असलेली एक मालिका दिली आहे. दिलेल्या पर्यायांतून ती मालिका पूर्ण करणारा अचूक पर्याय निवडा.
 PQRS, ONQP, NKPM, MHOJ, ?
 (1) LMQR (2) LQRS
 (3) LMNO (4) LENG
10. खालील प्रश्नात, दिलेल्या मालिकेत प्रश्नचिन्हाच्या जागी येणारी संख्या निवडा. 110, 114, 122, 138, 170, ?
 (1) 230 (2) 260 (3) 234 (4) 280
11. खालील प्रश्नात, दिलेल्या पर्यायांतून संबंधित अक्षर जोडी निवडा. NA : SF :: ?
 (1) XY : ZZ (2) SF : OO
 (3) OB : TG (4) XK : TG
12. खालील प्रश्नात काही विधाने आणि त्या विधानांवर आधारित काही निष्कर्ष दिले आहेत. जरी दिलेली विधाने सामान्यतः ज्ञात तथ्यांशी विसंगत वाटत असली तरीही, ती सत्य आहेत असे गृहीत धरा. दिलेले सर्व निष्कर्ष वाचा आणि त्यानंतर दिलेल्यापैकी कोणता ते निष्कर्ष दिलेल्या विधानांशी तर्कसंगत आहे/आहेत, ते ठरवा.
 विधाने:
 (I) काही टोकयंत्रे शुभ आहेत.
 (II) सर्व हिरवे शुभ आहेत.
 निष्कर्ष:
 (I) काही हिरवे टोकयंत्रे नाहीत.
 (II) काही शुभ टोकयंत्रे नाहीत.
 (III) सर्व शुभ हिरवे आहेत.
 (1) केवळ निष्कर्ष II तर्कसंगत आहे
 (2) I आणि II हे दोन्ही निष्कर्ष तर्कसंगत आहेत
 (3) एकही निष्कर्ष तर्कसंगत नाही
 (4) II आणि III हे दोन्ही निष्कर्ष तर्कसंगत आहेत

पेपर क्र. - 49	1 - 4	2 - 3	3 - 4	4 - 2	5 - 3	6 - 4	7 - 3	8 - 2	9 - 4	10 - 3	11 - 3
	12 - 3										

1. एका विशिष्ट तर्कानुसार 'CE4' हे 'HJ16' शी संबंधित आहे. त्याचप्रकारे, 'QS6' हे 'VX36' शी संबंधित आहे. त्याच तर्काचे अनुसरण केल्यास, 'IK8' हे खालीलपैकी कशाशी संबंधित आहे?

- (1) MP64 (2) MN64
(3) NQ66 (4) NP64

2. खालील मालिका तर्कदृष्ट्या पूर्ण करण्यासाठी प्रश्नचिन्हाच्या (?) जागी येणारे पद दिलेल्या पर्यायांतून निवडा.

- FW3, HS6, JQ9, LM12, ?, PG18
(1) 0L21 (2) 0J15
(3) NK15 (4) NH21

3. दिलेली मालिका तर्कदृष्ट्या पूर्ण होण्यासाठी, प्रश्नचिन्हाच्या (?) जागी दिलेल्या पर्यायांपैकी कोणता पर्याय आला पाहिजे? IH57 HJ49 JG42 GK36 ?

- (1) KF31 (2) KP31
(3) KG31 (4) LG32

4. दिलेले/ली विधान/ने आणि निष्कर्ष लक्षपूर्वक वाचा. विधानामध्ये दिलेली माहिती ही सामान्यपणे ज्ञात तथ्यांपेक्षा वेगळी असल्याचे आढळले, तरी ती सत्य आहे असे गृहीत धरून, दिलेल्या निष्कर्षांपैकी कोणता/ते दिलेल्या विधानांशी तर्कसंगत आहे/आहेत ते ठरवा.

विधाने :

सर्व टॉवेल, रुमाल आहेत.

काही रुमाल, कपडे आहेत.

निष्कर्ष (I): सर्व टॉवेल, कपडे आहेत.

निष्कर्ष (II) : सर्व कपडे, टॉवेल आहेत.

- (1) निष्कर्ष (I) आणि (II) हे दोन्ही तर्कसंगत आहेत
(2) निष्कर्ष (I) किंवा निष्कर्ष (II) पैकी एकही तर्कसंगत नाही.
(3) केवळ निष्कर्ष (II) तर्कसंगत आहे.
(4) केवळ निष्कर्ष (I) तर्कसंगत आहे.

5. A आणि B या दोन स्थानकांमधील अंतर 778 km आहे. मोहन A ते B पर्यंतचा प्रवास 84 km/h या वेगाने पार करतो आणि 56 km/h च्या एकसमान वेगाने A वर परततो. संपूर्ण

प्रवासादरम्यानचा त्याचा सरासरी वेग शोधा.

- (1) 65.2 km/h (2) 67.2 km/h
(3) 68.2 km/h (4) 66.2 km/h

6. खालील चारपैकी तीन पर्यायांत एक विशिष्ट साधर्म्य आहे आणि त्यामुळे त्यांचा एक गट तयार होतो. कोणता पर्याय त्या गटात बसत नाही?

- (1) PXB (2) GOS (3) TBH (4) JRV

7. दिलेल्या मालिकेमध्ये ? च्या स्थानी काय आले पाहिजे? 1, 5, 22, 91, 368, ?

- (1) 1477 (2) 1479
(3) 1478 (4) 1472

8. रमेशने दरसाल 5% दराने रू. 1,232 बँकेत गुंतविले. 3 वर्षांनंतर त्याला किती रक्कम मिळेल?

- (1) ₹1,285.80 (2) ₹1,416.80
(3) ₹2,145.80 (4) ₹1,848.80

9. जर '+' आणि '-' यांची अदलाबदल केली आणि 'x' आणि '÷' यांची अदलाबदल केली, तर खालील समीकरणात प्रश्नचिन्हाच्या (?) जागी काय येईल?

$$14 \div 12 + 103 - 841 \times 29 = ?$$

- (1) 104 (2) 49 (3) 96 (4) 94

10. अक्षरे, संख्या, चिन्हे असलेल्या खालील मालिकेचा संदर्भ घ्या आणि प्रश्नाचे उत्तर द्या. मोजणी ही केवळ डावीकडून उजवीकडे करावयाची आहे.

(डावे) A R % G 7 F 4 # 6 N @ 2 < W J & 3 5 L 1 * P > (उजवे)

येथे अशी किती चिन्हे आहेत, ज्याच्या ताबडतोब आधी एक संख्या आणि ताबडतोब नंतर एक अक्षर देखील आहे?

- (1) दोन (2) एक (3) तीन (4) एकही नाही

11. A आणि B या दोन तोट्यांनी एका मोठ्या टँकरला अनुक्रमे 60 मिनिटांत आणि 40 मिनिटांत भरता येते. जर B चा वापर अर्धा वेळ केला आणि A व B यांचा एकत्रित वापर अर्धा वेळ केला, तर रिकामा टँकर भरण्यासाठी किती मिनिटे लागतील?

- (1) 15 मिनिटे (2) 30 मिनिटे
(3) 27.5 मिनिटे (4) 20 मिनिटे

पेपर क्र. - 50	1 - 4	2 - 3	3 - 1	4 - 2	5 - 2	6 - 3	7 - 1	8 - 2	9 - 4	10 - 1	11 - 2
----------------	-------	-------	-------	-------	-------	-------	-------	-------	-------	--------	--------

1. एका विशिष्ट तर्कानुसार 'ZY5' हे 'UT15' शी संबंधित आहे. त्याचप्रकारे, 'ML20' हे 'HG30' शी संबंधित आहे. त्याच तर्काचे अनुसरण केल्यास, 'RQ40' हे खालीलपैकी कशाशी संबंधित आहे?

(1) LM50 (2) ML50 (3) MN45 (4) MK45

2. खाली विशिष्ट प्रकारे एकमेकांशी संबंधित असलेल्या दोन शब्दजोड्या दिलेल्या आहेत. खालील चारपैकी तीन शब्दजोड्यांमध्ये समान सहसंबंध आहे आणि त्यामुळे त्यांचा एक गट तयार होतो. त्या गटात न बसणारी शब्दजोडी कोणती आहे? (या शब्दांना अर्थपूर्ण मराठी शब्द मानले जावे आणि शब्दातील अक्षरे / व्यंजन / स्वर यांच्या संख्येच्या आधारे त्यांचे गट पाडले जाऊ नयेत.)

(1) श्वासोच्छ्वास करणे : नाक (2) हालचाल करणे : पाय
(3) चावणे : दात (4) घसा : गिळणे

3. एक अप्रामाणिक विक्रेता त्याचा माल मूळ किंमतीला विकत असल्याचा दावा करतो परंतु खोटे वजन वापरतो आणि त्यामुळे त्याचा 20% नफा होतो. एका किलोग्रॅमसाठी, तो किती ग्रॅमचे वजन वापरतो?

(1) 785.5 gm (2) 708.06 gm
(3) 833.33 gm (4) 750.5 gm

4. अक्षरगटांच्या खालील चार जोड्यांपैकी तीन जोड्या एका विशिष्ट तन्हेने समान आहेत आणि त्यामुळे त्यांचा एक गट तयार होतो. त्या गटात न बसणारी अक्षरगट जोडी निवडा.

(1) PT-OS (2) YC-RV
(3) JN-IM (4) AE-ZD

5. जर '+' व '-' यांची अदलाबदल केली आणि 'x' व '÷' यांची अदलाबदल केली, तर खालील समीकरणात (?) च्या जागी काय येईल? $529 \times 23 - 89 + 12 \div 9 = ?$

(1) 8 (2) 14 (3) 4 (4) 41

6. दिलेल्या मालिकेत ? च्या जागी काय यायला हवे?
8, 10, 14, 20, 30, 44, ?, 90

(1) 62 (2) 66 (3) 64 (4) 68

7. व्याजाची अष्टमासिक गणना करून दरसाल 15% दराने 2 वर्षांत एक ठराविक रक्कम रु. 98,494 एवढी होते. जर व्याजाची

गणना वार्षिक होत असेल, तर त्याच रकमेवर त्याच दराने आणि त्याच कालावधीतील देय रक्कम (रुमध्ये) किती असेल?

(1) 96578 (2) 97865 (3) 97685 (4) 96785

8. एका पेटीमध्ये प्रत्येकी 500 ml क्षमतेच्या 4 लाल बाटल्या, प्रत्येकी 625 ml क्षमतेच्या 5 निळ्या बाटल्या, प्रत्येकी 750 ml क्षमतेच्या 3 हिरव्या बाटल्या आहेत. पेटीमधील सर्व बाटल्यांची एकूण क्षमता शोधा.

(1) 7.375 L (2) 7.175 L
(3) 7.275 L (4) 7.475 L

9. दिलेल्या अक्षर-समूहांच्या जोडीमध्ये असलेल्या संबंधाप्रमाणेच समान संबंध दर्शविणारा अक्षर-समूह दिलेल्या पर्यायांतून निवडा.

BRH : HXN XNE : DTK
(1) LAC : RGH (2) XDW : DJC
(3) NAT : SGZ (4) SPA : XVG

10. अक्षरे, संख्या, चिन्हे असलेल्या खालील मालिकेचा संदर्भ घ्या आणि प्रश्नाचे उत्तर द्या. मोजणी ही केवळ डावीकडून उजवीकडे करावयाची आहे.

(डावे) IEV7 % F4@6O2X>C#3P51*W (उजवे)

जर मालिकेतून सर्व चिन्हे वगळली गेली, तर खालीलपैकी कोणते उजवीकडून सातवे असेल?

(1) 2 (2) 0 (3) 6 (4) X

11. दिलेली विधाने आणि निष्कर्ष लक्षपूर्वक वाचा. विधानांमध्ये दिलेली माहिती ही सामान्यपणे ज्ञात तथ्यांपेक्षा वेगळी असल्याचे आढळले, तरी ती सत्य आहे असे गृहीत धरून, दिलेल्या निष्कर्षांपैकी कोणता/ते निष्कर्ष दिलेल्या विधानांशी तर्कसंगत आहे/आहेत हे ठरवा..

विधाने : एकही पिशवी, वाळू नाही. काही वाळू, कोबी आहेत. सर्व कोबी, माइक आहेत.

निष्कर्ष 1 : काही वाळू, माइक आहेत.

निष्कर्ष 2 : एकही माइक, कोबी नाही.

(1) केवळ निष्कर्ष 2 तर्कसंगत आहे.

(2) केवळ निष्कर्ष 1 तर्कसंगत आहे.

(3) 1 किंवा 2 हे दोन्ही निष्कर्ष तर्कसंगत आहेत.

(4) 1 किंवा 2 पैकी एकही निष्कर्ष तर्कसंगत नाही.

पेपर क्र. - 51	1 - 2	2 - 4	3 - 3	4 - 2	5 - 3	6 - 3	7 - 2	8 - 1	9 - 2	10 - 4	11 - 2
----------------	-------	-------	-------	-------	-------	-------	-------	-------	-------	--------	--------

1. अक्षरगटांच्या खालील चार जोड्यांपैकी तीन जोड्या एका विशिष्ट तऱ्हेने समान आहेत आणि त्यामुळे त्यांचा एक गट तयार होतो. त्या गटात न बसणारी अक्षरगट जोडी निवडा.

- (1) HD-KG (2) JF-MI
(3) ZD-GC (4) QM-TP

2. एक काम पूर्ण करण्यासाठी P ला Q पेक्षा दुप्पट किंवा R पेक्षा तिप्पट वेळ लागतो. मिळून काम केल्यास ते 2 दिवसांत त्या कामाला पूर्ण करू शकतात. Q हा एकट्याने ते काम किती दिवसांत पूर्ण करू शकतो?

- (1) 6 दिवस (2) 12 दिवस
(3) 4 दिवस (4) 8 दिवस

3. इंग्रजी वर्णमालाक्रमानुसार आधारित एका तर्कानुसार 'EPZK' हे 'CNXI' शी संबंधित आहे. त्याचप्रकारे, 'MYEI' हे 'KWCH' शी संबंधित आहे. त्याच तर्काचे अनुसरण केल्यास, 'UIWA' हे खालीलपैकी कशाशी संबंधित आहे?

- (1) SUGY (2) SUYG
(3) SYUG (4) SGUY

4. दिलेली मालिका तर्कदृष्ट्या पूर्ण होण्यासाठी प्रश्नचिन्हाच्या (?) जागी खालीलपैकी कोणता पर्याय आला पाहिजे?
CE6, DG12, EI20, ?

- (1) GK30 (2) FK30 (3) FJ40 (4) GM35

5. दिलेली मालिका तर्कदृष्ट्या पूर्ण होण्यासाठी प्रश्नचिन्हाच्या (?) जागी खालीलपैकी कोणता पर्याय आला पाहिजे?
10, 40, 90, 160, ?, 360

- (1) 200 (2) 250 (3) 220 (4) 270

6. दिलेली विधाने आणि निष्कर्ष लक्षपूर्वक वाचा. दिलेली विधाने ही सामान्यपणे ज्ञात तथ्यांपेक्षा वेगळी असल्याचे आढळले, तरी ती सत्य आहे असे गृहीत धरून, निष्कर्षांपैकी कोणता/ते दिलेल्या विधानांशी तर्कसंगत आहे/आहेत ते ठरवा.

विधाने :

काही तारे, चंद्र आहेत.

काही चंद्र, ग्रह आहेत.

काही ग्रह, आकाशगंगा आहेत.

निष्कर्ष :

(I) काही आकाशगंगा, तारे आहेत. निष्कर्ष

(II) काही चंद्र, आकाशगंगा आहेत.

(1) केवळ निष्कर्ष (II) तर्कसंगत आहे.

(2) निष्कर्ष (I) आणि (II) हे दोन्ही तर्कसंगत आहेत

(3) निष्कर्ष (I) किंवा निष्कर्ष (II) पैकी एकही तर्कसंगत नाही.

(4) केवळ निष्कर्ष (I) तर्कसंगत आहे.

7. Read the given statement (s) and conclusions carefully. Assuming that the information given in the statements is true, even if it appears to be at variance with commonly known facts, decide which of the given conclusions logically follow (s) from the statement (s).

Statements :

All shoes are sandals.

All sandals are crocs.

Conclusion :

(I) Some crocs are shoes.

(II) All shoes are crocs.

(1) Neither conclusion (I) nor (II) follows.

(2) Only conclusion (I) follows.

(3) Only conclusion (II) follows.

(4) Both conclusions (I) and (II) follow.

8. दिलेल्या अक्षर-समूहांच्या जोडीमध्ये असलेल्या संबंधाप्रमाणेच समान संबंध दर्शविणारा अक्षर-समूह दिलेल्या पर्यायांतून निवडा.

PFV : UKA

LCS : QHX

(1) DYJ: JEP (2) KBR: QHX

(3) QAJ: UEO (4) HTC: MYH

9. एका व्यक्तीने एका शर्टची विक्री 4% तोट्याने रु. 960 किंमतीला केली, तो 20% नफ्याने एक स्वेटर रु. 840 किंमतीला विकतो. तर त्याचा निव्वळ नफा किंवा तोटा शोधा.

(1) तोटा, रु. 123 (2) नफा, रु. 123

(3) तोटा, रु. 100 (4) नफा, रु. 100

10. सोडवा : $3 - (5 - 6 \div 3)$.

(1) 2 (2) 3 (3) 0 (4) 1

पेपर क्र. - 52	1 - 3	2 - 1	3 - 4	4 - 2	5 - 2	6 - 3	7 - 4	8 - 4	9 - 4	10 - 3
----------------	-------	-------	-------	-------	-------	-------	-------	-------	-------	--------

- खाली विशिष्ट प्रकारे एकमेकांशी संबंधित असलेल्या दोन शब्दजोड्या दिलेल्या आहेत. खालील चारपैकी तीन शब्द जोड्यांमध्ये समान सहसंबंध आहे आणि त्यामुळे त्यांचा एक गट तयार होतो. त्या गटात न बसणारी शब्दजोडी कोणती आहे? (या शब्दांना अर्थपूर्ण मराठी शब्द मानले जावे आणि शब्दातील अक्षरे/व्यंजन/स्वर यांच्या संख्येच्या आधारे त्यांचे गट पाडले जाऊ नयेत.)
(1) न्यूटनचा नियम : जीवशास्त्र (2) बीजगणित : गणित
(3) आवर्त सारणी : रसायनशास्त्र (4) त्रिकोणमिती : भूमिती
- गणिताच्या एका परीक्षेत, विद्यार्थ्यांना एका विशिष्ट संख्येचा 5/16 भाग काढण्यास सांगितले होते. एका विद्यार्थ्याने चुकून त्या संख्येचा 5/6 भाग काढला आणि त्याचे उत्तर योग्य उत्तरापेक्षा 200 ने जास्त होते. तर ती संख्या शोधा.
(1) 400 (2) 280 (3) 125 (4) 384
- दिलेली विधाने आणि निष्कर्ष लक्षपूर्वक वाचा. विधानांमध्ये दिलेली माहिती ही सामान्यपणे ज्ञात तथ्यांपेक्षा वेगळी असल्याचे आढळले, तरी ती सत्य आहे असे गृहीत धरून, दिलेल्या निष्कर्षांपैकी कोणता/ते निष्कर्ष दिलेल्या विधानांशी तर्कसंगत आहे/आहेत हे ठरवा.
विधाने :
सर्व डायन्या, फळ्या आहेत. सर्व फळ्या, बाण आहेत.
निष्कर्ष 1 : काही बाण, डायन्या आहेत.
निष्कर्ष 2: सर्व बाण, फळ्या आहेत.
(1) केवळ निष्कर्ष 2 तर्कसंगत आहे
(2) 1 किंवा 2 हे दोन्ही निष्कर्ष तर्कसंगत आहेत.
(3) 1 किंवा 2 पैकी एकही निष्कर्ष तर्कसंगत नाही.
(4) केवळ निष्कर्ष 1 तर्कसंगत आहे
- एका क्लिअरन्स सेलमध्ये, ज्या साडीची छापील किंमत रु. 10,490 होती, ती आता रु. 9,441 किमतीला विकली जाते. तर, साडीवर दिलेल्या सवलतीची टक्केवारी किती आहे?
(1) 18% (2) 15% (3) 10% (4) 12%
- दोन ट्रेन अनुक्रमे P आणि Q पासून एकाच वेळी धावण्यास सुरु करतात, आणि अनुक्रमे 40 km/h आणि 30 km/h या वेगांनी एकमेकांच्या दिशेने धावतात. त्या एकमेकांना भेटेपर्यंत, पहिल्या

ट्रेनने दुसऱ्या ट्रेनपेक्षा 80km जास्त अंतर पार केलेले आहे. P आणि Q यांच्यादरम्यानचे अंतर शोधा.

- (1) 560 km (2) 240 km
(3) 630 km (4) 660 km

- इंग्रजी वर्णक्रमावर आधारित दिलेल्या मालिकेत प्रश्नचिन्हाच्या (?) जागी काय यायला हवे? U, A, G, M, S,?
(1) B (2) R (3) G (4) Y
- दिलेली मालिका तर्कदृष्ट्या पूर्ण होण्यासाठी प्रश्नचिन्हाच्या (?) जागी खालीलपैकी कोणता पर्याय आला पाहिजे?
0, 4, 18, 48, 100, ?
(1) 148 (2) 180 (3) 198 (4) 155
- 'EH 11' हे विशिष्ट तर्कानुसार 'JM 13' शी संबंधित आहे. त्याचप्रकारे, 'BE 16' हे 'GJ 18' शी संबंधित आहे. त्याच तर्कानुसार 'OR 23' हे खालीलपैकी कशाशी संबंधित आहे?
(1) TU 29 (2) TW 25 (3) TV 29 (4) TW 30
- एक ब्लॅकेट रु. 1,148 ला विकले जाते, ज्यामुळे 30% तोटा होतो. 5% नफा मिळवण्यासाठी ते किती किंमतीला विकले पाहिजे?
(1) ₹1,423 (2) ₹1,734
(3) ₹1,722 (4) ₹1,543
- जर $P * Q$ म्हणजे $(P^2 + Q^2)$ होते, तर $8 * (3 * 2)$ चे मूल्य किती येईल?
(1) 646 (2) 86 (3) 104 (4) 233
- जर व्याजाच्या वार्षिक गणनेनुसार, चक्रवाढ व्याजाच्या एका ठराविक दराने 12 वर्षांमध्ये एक रक्कम तिच्या स्वतःच्या दुप्पट होते. तर किती वर्षांत ती रक्कम तिच्या आठ पट होईल?
(1) 36 (2) 48 (3) 12 (4) 24
- A आणि B या दोन तोट्या मिळून एक टाकी 4 तासांत भरू शकतात. त्यांना स्वतंत्रपणे उघडले गेले असते, तर टाकी भरण्यासाठी B ला लागलेला वेळ हा A पेक्षा 6 तास जास्त असला असता. टाकी भरण्यासाठी A ला स्वतंत्रपणे किती वेळ लागेल?
(1) 1 तास (2) 6 तास
(3) 8 तास (4) 2 तास

पेपर क्र. - 53	1 - 1	2 - 4	3 - 4	4 - 3	5 - 1	6 - 4	7 - 2	8 - 2	9 - 3	10 - 4	11 - 1
	12 - 2										

1. इंग्रजी वर्णक्रमावर आधारित दिलेल्या मालिकेत प्रश्नचिन्हाच्या (1) जागी काय यायला हवे?
D, L, T, B, J, ?
(1) S (2) Q (3) P (4) R
2. अक्षरे, चिन्हे असलेल्या खालील मालिकेचा संदर्भ घ्या आणि प्रश्नाचे उत्तर द्या. मोजणी ही केवळ डावीकडून उजवीकडे करावयाची आहे.
(डावे) A#POI%UT@Y\$REWπQ#ZX*£CΩ (उजवे)
जर मालिकेतून सर्व अक्षरे वगळली गेली, तर उजवीकडून सहाव्या स्थानी खालीलपैकी काय असेल?
(1) π (2) \$ (3) # (4) @
3. पायलने 5.5 L संत्र्याचा रस खरेदी केला. तिने आणि तिच्या मैत्रिणींनी 31925ml रस प्यायला. तिच्याकडे किती रस शिल्लक आहे?
(1) 1 L 575 ml (2) 1 L 475 ml
(3) 1 L 375 ml (4) 1 L 675 ml
4. सरळव्याजाच्या वार्षिक 10% दराने एक रक्कम किती कालावधीत तिच्या दुप्पट होईल?
(1) 8 वर्षे (2) 5 वर्षे
(3) 10 वर्षे (4) 12 वर्षे
5. एक टाकी एकसमान प्रवाह असलेल्या तीन तोट्यांद्वारे भरली जाते. पहिल्या दोन तोट्यांना एकाच वेळी उघडल्यावर त्यांना टाकी भरण्यासाठी लागणारा वेळ हा फक्त तिसऱ्या तोटीला उघडल्यावर टाकी भरण्यासाठी लागणाऱ्या वेळेइतका आहे. टाकीला भरण्यासाठी, दुसऱ्या तोटीला लागणारा वेळ हा पहिल्या तोटीपेक्षा 5 तास कमी आणि तिसऱ्या तोटीपेक्षा 4 तास जास्त आहे. पहिल्या तोटीला लागणारा वेळ किती आहे?
(1) 10 तास (2) 6 तास
(3) 15 तास (4) 30 तास
6. दिलेली मालिका तर्कदृष्ट्या पूर्ण होण्यासाठी, प्रश्नचिन्हाच्या (?) जागी दिलेल्या पर्यायांपैकी कोणता पर्याय आला पाहिजे?
PQ1 QO3 OR5 RN7 ?
(1) PN9 (2) NS9 (3) NP9 (4) SN9
7. प्रियलच्या आईने पार्टीसाठी 8L 785 ml कस्टर्ड बनवले. जर कस्टर्डचे 35 व्यक्तींमध्ये समान प्रमाणात वाटप केले गेले, तर प्रत्येक व्यक्तीला किती कस्टर्ड देण्यात आले होते?
(1) 251ml (2) 250ml
(3) 253 ml (4) 252ml
8. एक अप्रामाणिक दुकानदार आपला माल मूळ किमतीत विकत असल्याचे दाखवतो परंतु खोटे वजन वापरतो ज्यावर 984 gm लिहिलेले आहे, परंतु प्रत्यक्षात त्याचे वजन त्याहून खूपच कमी आहे. हे खोटे वजन वापरून, दुकानदाराला प्रत्यक्षात 23% नफा होतो. तर वापरलेल्या वजनाचे वास्तविक माप शोधा.
(1) 850 gm (2) 935 gm
(3) 800 gm (4) 900 gm
9. दिलेल्या मालिकेत ? च्या जागी काय यायला हवे?
65, 57, 49, 41, 33, ?
(1) 39 (2) 25 (3) 36 (4) 38
10. जर 'A' चा अर्थ 'x' आहे, 'B' चा अर्थ '÷' आहे, 'C' चा अर्थ '-' आणि 'D' चा अर्थ '+' आहे, तर खालीलपैकी कशाची परिणामी संख्या 149 असेल?
(1) 42 C 4 A 12 B 93 D 3
(2) 42 A 4D 12 B 93 C3
(3) 42 B 4 D 12 A 93 C 3
(4) 42 A 4 D 12 C 93 B3
11. इंग्रजी वर्णमालाक्रमावर आधारित एका तर्कानुसार 'FMTZ' हे 'BIPY' शी संबंधित आहे. त्याचप्रकारे, 'GNUA' हे 'CJQW' शी संबंधित आहे. त्याच तर्काचे अनुसरण केल्यास, 'XRKD' हे खालीलपैकी कशाशी संबंधित आहे?
(1) TZGN (2) TNGZ (3) TGZN (4) TGNZ
12. एक अप्रामाणिक दुकानदार रू. 23 प्रति किलो दराने एक वस्तू विकत आहे ज्याची किंमत त्याच्यासाठी रू. 25 प्रति किलो आहे, पण तो चुकीचा मार्ग वापरतो आहे, म्हणजेच तो 1 किलोएवजी फक्त 600 ग्रॅम देत आहे. त्याची नफा किंवा तोट्याची टक्केवारी किती आहे?
(1) 20% तोटा (2) 62.5% नफा
(3) 53.3% नफा (4) 23% तोटा

पेपर क्र. - 54	1 - 4	2 - 2	3 - 1	4 - 3	5 - 3	6 - 2	7 - 1	8 - 3	9 - 2	10 - 4	11 - 2
	12 - 3										

24. खालील चारपैकी तीन पर्यायांत एक विशिष्ट साधर्म्य आहे आणि त्यामुळे त्यांचा एक गट तयार होतो. कोणता पर्याय त्या गटात बसत नाही?

(1) CLN (2) MVX (3) IRT (4) FOT

25. जर वार्षिक गणनेनुसार, चक्रवाढ व्याजाच्या वार्षिक 5% दराने रू. 3,500 रक्कम गुंतवली गेली, तर चक्रवाढ व्याज रू. 358.75 एवढे होण्यासाठी लागणारा कालावधी किती आहे?

(1) 24 महिने (2) 20 महिने
(3) 18 महिने (4) 15 महिने

55

Date - 31/08/2023

वेळ : 09 : 00 AM - 11 : 00 AM

1. जर एखाद्या व्यक्तीने 90 km अंतर 45 km/h या वेगाने कापले आणि 150 km चे दुसरे अंतर 50 km/h वेगाने पार केले, तर संपूर्ण प्रवासासाठी त्याचा सरासरी वेग किती आहे?

(1) 46km/h (2) 49 km/h
(3) 48 km/h (4) 47 km/h

2. 'ZC11' हे विशिष्ट तर्कानुसार 'DG 121' शी संबंधित आहे. त्याचप्रकारे, 'PS 13' हे TW 169 शी संबंधित आहे. त्याच तर्कानुसार 'WZ 15' हे खालीलपैकी कशाशी संबंधित आहे?

(1) AQ 255 (2) AD 225
(3) BC 625 (4) AC 245

3. जर एका उत्पादकाला 12% नफा, घाऊक व्यापाऱ्याला 15% नफा आणि किरकोळ विक्रेत्याला 20% नफा झाला असेल, तर टेबलच्या उत्पादनाची किंमत शोधा, ज्याची किरकोळ किंमत 15,456 आहे.

(1) ₹12,000 (2) ₹20,000
(3) ₹10,000 (4) ₹15,000

4. सरळव्याजाच्या वार्षिक किती टक्के दराने एक रक्कम 16 वर्षांत तिच्या दुप्पट होईल ?

(1) 6.25% (2) 12.5%
(3) 2.5% (4) 5.6%

5. दिलेली मालिका तर्कदृष्ट्या पूर्ण होण्यासाठी प्रश्नचिन्हाच्या (?) जागी खालीलपैकी कोणता पर्याय आला पाहिजे? 3,5,9,17,33,?

(1) 61 (2) 66 (3) 65 (4) 63

6. सोडवा : $15 + [18 - \{4 + (16 - 5)\}]$.

(1) 17 (2) 15 (3) 21 (4) 18

7. इंग्रजी वर्णक्रमावर आधारित दिलेल्या मालिकेत प्रश्नचिन्हाच्या (?) जागी काय यायला हवे?

WYCEIK?

(1) O (2) R (3) S (4) M

8. जर एखाद्या व्यक्तीने 6 पेन्सिली रू. 5 किंमतीला खरेदी केल्या आणि त्या रू. 6 किंमतीला 5 पेन्सिली याप्रमाणे विकल्या, तर त्याची नफ्याची टक्केवारी आहे.

(1) 43% (2) 44% (3) 41% (4) 42%

9. दिलेली विधाने आणि निष्कर्ष लक्षपूर्वक वाचा. दिलेली विधाने ही सामान्यपणे ज्ञात तथ्यांपेक्षा वेगळी असल्याचे आढळले, तरी ती सत्य आहे असे गृहीत धरून, निष्कर्षांपैकी कोणता / ते दिलेल्या विधानांशी तर्कसंगत आहे/आहेत ते ठरवा...

विधाने : सर्व बोटे हात आहेत,

काही हात, पाय आहेत.

सर्व पाय, पादांगुली आहेत.

निष्कर्ष (I) : सर्व पादांगुली, बोटे आहेत.

निष्कर्ष (II): काही हात, पादांगुली आहेत.

(1) केवळ निष्कर्ष (II) तर्कसंगत आहे.

(2) निष्कर्ष (I) किंवा निष्कर्ष (II) पैकी एकही तर्कसंगत नाही.

(3) केवळ निष्कर्ष (I) तर्कसंगत आहे.

(4) निष्कर्ष (I) आणि (II) हे दोन्ही तर्कसंगत आहेत

10. दिलेल्या अक्षर-समूहांच्या जोडीमध्ये असलेल्या संबंधाप्रमाणेच समान संबंध दर्शविणारा अक्षर-समूह दिलेल्या पर्यायांतून निवडा,

EUK : KAQ ARH : GXN

(1) OLD : URJ (2) DGI : JMN

(3) GUR : JBX (4) ILO : OQU

11. इंग्रजी वर्णक्रमावर आधारित दिलेल्या मालिकेत प्रश्नचिन्हाच्या (?) जागी काय यायला हवे?

SYE, QFI, OMM,?

(1) MTP (2) NTP (3) NTQ (4) MTQ

12. दिलेल्या समीकरणातील (x) चे मूल्य शोधा,

$35\% \text{ of } 1500 + X = 45\% \text{ of } 4200 - 320$

(1) 1012 (2) 980 (3) 910 (4) 1045

13. चार शब्द जोडया दिल्या आहेत, त्यापैकी तीन विशिष्ट तऱ्हेने समान आहेत आणि एक वेगळी आहे. गटात न बसणारी शब्द-जोडी निवडा.

(1) थंड करणे : वातानुकूलक (2) गोठणयंत्र : प्रशीतक

(3) भाजणे : टोस्टर (4) उकळणे : बाष्पित्र

पेपर क्र. - 54	24 - 4	25 - 1										
पेपर क्र. - 55	1 - 3	2 - 2	3 - 3	4 - 1	5 - 3	6 - 4	7 - 1	8 - 2	9 - 1	10 - 1	11 - 4	

1. दिलेली विधाने आणि निष्कर्ष लक्षपूर्वक वाचा विधानामध्ये दिलेली माहिती ही सामान्यपणे ज्ञात तथ्यांपेक्षी वेगळी असल्याचे आढळले तरी ती सत्य आहे असे गृहीत धरून, दिलेल्या निष्कर्षांपैकी कोणता/ते निष्कर्ष दिलेल्या विधानांशी तर्कसंगत आहे/आहेत हे ठरवा.

विधाने :

काही कागद घड्याळे आहेत.

काही धातू कागद आहेत.

निष्कर्ष :

- (I) काही धातू घड्याळे असू शकतात...
 (II) सर्व कागद धातू आहेत.
 (1) निष्कर्ष (I) आणि (II) हे दोन्ही सत्य आहेत
 (2) निष्कर्ष (I) किंवा (II) पैकी एकही सत्य नाही
 (3) फक्त निष्कर्ष (II) सत्य आहे
 (4) फक्त निष्कर्ष (I) सत्य आहे

2. एक कार 1 तासासाठी 75 km/h वेगाने आणि $1\frac{1}{2}$ तासासाठी 'p' km/h वेगाने धावते, तसेच तिचा सरासरी वेग $60\frac{2}{3}$ km/h आहे. तर p चे मूल्य (km/h मध्ये) शोधा.
 (1) 67.5 (2) 62.5
 (3) 70 (4) 50

3. खालील चारपैकी तीन शब्दजोड्यांमध्ये समान सहसंबंध आहे आणि त्यामुळे त्यांचा एक गट तयार होतो, त्या गटात न बसणारी शब्दजोडी कोणती आहे?

(या शब्दांना अर्थपूर्ण मराठी शब्द मानले जावे आणि शब्दातील अक्षरे / व्यंजन / स्वर यांच्या संख्येच्या आधारे त्यांचे गट पाडले जाऊ नयेत)

- (1) घड : द्राक्षे (2) पुष्पगुच्छ : फुले
 (3) फर्निचर : पलंग (4) अल्बम : फोटो

4. खालील संख्या मालिकेचा संदर्भ घ्या आणि त्याखालील प्रश्नाचे उत्तर द्या. (सर्व संख्या या केवळ एक अंकी संख्या आहेत.)

(डावे) 215734216784365795241853974 (उजवे)

यात अशा किती विषम संख्या आहेत, ज्यांपैकी प्रत्येकीच्या ताबडतोब आधी एक सम संख्या आहे आणि ताबडतोब नंतर

एक विषम संख्या देखील आहे?

- (1) 2 (2) 4
 (3) 3 (4) 5

5. ज्या प्रकारे दिलेल्या संचातील अक्षर समूह संबंधित आहेत, त्याच प्रकारे संबंधित अक्षर-समूह असलेला संच निवडा.

LO-MP-QS

- (1) IL-JM-OR (2) NQ-OR-TV
 (3) QT-RU-VX (4) KN-LO - PS

6. एका व्यक्तीने प्रत्येकी रू. 6,75,958 अशा किंमतीत दोन घरांची विक्री केली. एकीकडे त्याला 16% नफा झाला. तर दुसरीकडे त्याला 16% तोटा झाला. या संपूर्ण व्यवहारात त्याला किती नफा किंवा तोटा झाला?
 (1) 2,24% नफा (2) 2.56% नफा
 (3) 2.56% तोटा (4) 2,24% तोटा

7. $\frac{[(0.11)]^2 + [(0.06)]^2 + [(0.031)]^2}{\sqrt{[(0.011)]^2 + [(0.006)]^2 + [(0.0031)]^2}}$ ला सरळ रूप दिल्यावर येणारे मूल्यआहे.

- (1) 10 (2) 1000
 (3) 100 (4) 1

8. 45 km/h वेगाने जाणारी एक रेल्वेगाडी 24 सेकंदांत एक खांब ओलांडते. त्या रेल्वेगाडीची लांबी किती आहे?

- (1) 1.5 m (2) 300 m
 (3) 125 m (4) 30 m

9. दरसाल 8% व्याजदराने $3\frac{1}{2}$ वर्षासाठी 350 च्या कर्जाऊ रकमेवर होणारे सरळव्याज शोधा.

- (1) ₹88 (2) ₹68 (3) ₹98 (4) ₹108

10. $18 \div (2 \times 18 + 6 - 5)$.

- (1) 12 (2) 4
 (3) 0.4864 (4) 6

11. खालील मालिकेत प्रश्नचिन्हाच्या (?) जागी येईल अशी संख्या दिलेल्या पर्यायांतून निवडा.

20, 21, 29, 56, 120, ?

- (1) 150 (2) 245 (3) 215 (4) 250

1. Two express trains of length 320 m and 380 m start moving from Ahmedabad to Delhi at the same time. Their speeds are 84 km/h and 42 km/h, respectively. In how many seconds will the faster train cross the slower train?

(1) 120 sec (2) 45 sec
(3) 60 sec (4) 50 sec

2. The value of $(0.1 \times 0.001 \times 0.0001 \times 10^6)$ is :

(1) $\frac{1}{10}$ (2) $\frac{1}{100}$
(3) 100 (4) 1

3. Evaluator

$$18 - (20 - 15 \div 3)$$

(1) 6 (2) 4 (3) 3 (4) 2

4. At what rate percentage per year will a sum of money double itself in '10 years on simple interest?

(1) 6% (2) 12%
(3) 15% (4) 10%

5. Read the given statements and conclusions carefully. You have to take the given statements to be true even if they seem to be at variance from commonly known facts. You have to decide which conclusion/s logically follow/s from the given statements.

Statements :

All buses are trucks

All trucks are cars

All cars are planes.

Conclusions :

(I) Some buses are trucks.

(II) All trucks are planes.

(1) Only conclusion II follows.

(2) Both conclusion I and II follow.

(3) Only conclusion I follows.

(4) Neither conclusion I nor conclusion II follows.

6. Based on the alphabetical order, three of the following four letter-cluster pairs are alike in a certain way and thus form a group. Select the option that does NOT belong to that group.

(1) GL-OT (2) QU-XC
(3) HM-PU (4) AF-IN

7. If 'A' stands for '+', 'B' stands for '÷', 'C' stands for 'x' and 'D' stands for '-', what will come in place of the question mark (?) in the following equation?

$$34 \text{ D } 81 \text{ B } 9 \text{ A } 6 \text{ C } 4 = 7$$

(1) 41 (2) 49
(3) 51 (4) 47

8. The smallest natural number that must be added to 1212 to make it a perfect square is:

(1) 18 (2) 27 (3) 24 (4) 13

9. Read the given statements and conclusions carefully. You have to take the given statements to be true even if they seem to be at variance from commonly known facts. You have to decide which conclusion/s logically follow/s from the given statements.

Statements :

All pigeons are kangaroos.

Some pigeons are monkeys.

No pigeon is a turtle.

Conclusion :

(I) No kangaroos are turtles.

(II) Some monkeys are turtles.

(1) Only conclusion I is true.

(2) Only conclusion II is true.

(3) Neither conclusion I nor conclusion II are true.

(4) Both conclusions I and II are true.

10. The average of the prime numbers between 11 and 30 is :

(1) 19.6 (2) 20.2 (3) 19.5 (4) 20.3

पेपर क्र. - 57	1 - 3	2 - 2	3 - 3	4 - 4	5 - 2	6 - 2	7 - 2	8 - 4	9 - 3	10 - 2
----------------	-------	-------	-------	-------	-------	-------	-------	-------	-------	--------

सामान्यज्ञान

01

Date - 26/08/2023

वेळ : 04 : 30 PM - 06 : 30 PM

1. कोणत्या ग्रीक शब्दाचा अर्थ 'स्वरूप बदलणे असा आहे?
 - (1) मेटामोर्फोस (Metamorphose)
 - (2) अँक्वॉस (Aquos)
 - (3) इग्निस (Ignis)
 - (4) सेडिमेंटेशन (Sedimentation)
2. खालीलपैकी कोणती एक ऑपरेटिंग सिस्टम नाही?
 - (1) विंडोज
 - (2) पॉवरपॉइंट
 - (3) मॅकिंतोश
 - (4) लिनक्स
3. खालीलपैकी कोणत्या दशकात भारताने लोकसंख्येमध्ये (टक्केवारीत) सर्वाधिक वाढ अनुभवली?
 - (1) 1961-1971
 - (2) 1951-1961
 - (3) 1981-1991
 - (4) 2001-2011
4. भारतातील पहिला व्हर्टिकल लिफ्ट सी ब्रिज (vertical lift sea bridge) खालीलपैकी कोणत्या राज्यात आहे?
 - (1) आंध्रप्रदेश
 - (2) तामिळनाडू
 - (3) महाराष्ट्र
 - (4) केरळ
5. भारतीय राज्यघटनेच्या प्रस्तावनेत 'न्याय' या संदर्भात खालीलपैकी कोणत्या शब्दाचा उल्लेख आहे?
 - (1) सार्वभौम
 - (2) धर्मनिरपेक्ष
 - (3) समाजवादी
 - (4) आर्थिक
6. भारताच्या 2011 च्या जनगणनेनुसार, बिहारचा साक्षरता दर किती आहे?
 - (1) 55.80%
 - (2) 61.80%
 - (3) 51.80%
 - (4) 65.80%
7. महात्मा ज्योतिराव फुले यांनी मध्ये सत्यशोधक समाजाची स्थापना केली.
 - (1) 1879
 - (2) 1873
 - (3) 1864
 - (4) 1885
8. मध्ये, वल्लभभाई पटेल यांनी बाडोली येथील शेतकरी आंदोलनाचे नेतृत्व केले.
 - (1) 1926
 - (2) 1924
 - (3) 1928
 - (4) 1922
9. जेव्हा वर्षाजलाचा pH असतो, तेव्हा त्याला आम्ल वर्षा म्हणतात.
 - (1) 6.6 पेक्षा जास्त
 - (2) 6.6 पेक्षा कमी
 - (3) 5.6 पेक्षा जास्त
 - (4) 5.6 पेक्षा कमी
10. 1651 मध्ये हुगळी नदीच्या काठावर भारतातील पहिला कारखाना उभारला गेला.
 - (1) डॅनिश
 - (2) फ्रेंच
 - (3) इंग्रज
 - (4) डच
11. ब्रह्मपुत्रा नदी अरुणाचल प्रदेशात पोहोचल्यावर तिला या नावाने ओळखले जाते.
 - (1) यमुना
 - (2) त्सांग - पो
 - (3) दिहांग
 - (4) मेघना
12. भारतीय राज्यघटनेतील खालीलपैकी कोणता /ते अनुच्छेद ह्य / हे शोषणाविरुद्धच्या अधिकाराशी संबंधित नाही / नाहीत ?
 - (I) अनुच्छेद 23 आणि 24
 - (II) अनुच्छेद 25 आणि 26
 - (III) अनुच्छेद 29 आणि 30
 - (1) फक्त II
 - (2) फक्त I
 - (3) फक्त II आणि III
 - (4) फक्त I आणि III
13. स्वामी दयानंद सरस्वती यांच्याबद्दल खालीलपैकी कोणते विधान बरोबर आहे?
 - (I) त्यांनी आर्य समाज नावाची सुधारक संघटना स्थापन केली.
 - (II) ते विधवा पुनर्विवाहाच्या विरोधात होते.
 - (1) फक्त I
 - (2) फक्त II
 - (3) I किंवा II पैकी एकही नाही
 - (4) I आणि II दोन्ही
14. 1854 मध्ये, लंडनमधील ईस्ट इंडिया कंपनीच्या कोर्ट ऑफ डायरेक्टर्सने भारतातील गव्हर्नर जनरल यांच्याकडे पाठवले.
 - (1) मिशनरींचा एक गट
 - (2) दुष्काळ आयोग
 - (3) सशस्त्र सेना
 - (4) एक शैक्षणिक प्रेषण

पेपर क्र. - 1	1 - 1	2 - 2	3 - 1	4 - 2	5 - 4	6 - 2	7 - 2	8 - 3	9 - 4	10 - 3	11 - 3
	12 - 3	13 - 1	14 - 4								

1. Which of the following statements is/are correct about the report published by Bal Raksha Bharat in April 2023?

- (I) It was launched on World Earth Day.
 (II) Report is based on finding from 10 cities.
 (III) Report highlights that waterlogging and localised flooding are the major issues/problems
 (1) II and III (2) Only II (3) I and III (4) Only I

2. केंद्रीय माहिती आयुक्तांच्या निवड समितीचे अध्यक्ष म्हणून खालीलपैकी कोण कार्य करतात ?

- (1) भारताचे सरन्यायाधीश (2) लोकसभेचे अध्यक्ष
 (3) भारताचे राष्ट्रपती (4) पंतप्रधान

3. जानेवारी 2023 मध्ये, खालीलपैकी कोणत्या महापालिका प्रशासनाने भ्रष्टाचाराच्या आरोपाखाली दोषी ठरलेल्या तिच्या 55 कर्मचाऱ्यांना सेवेतून बडतर्फ केले ?

- (1) बृहन्मुंबई (2) दिल्ली (3) चेन्नई (4) चंदीगढ

4. 1919 साली महात्मा गांधींनी खालीलपैकी कोणत्या ब्रिटीश अधिनियमाच्या विरोधात देशव्यापी सत्याग्रह सुरू केला ?

- (1) गुन्हेगारी जमाती कायदा (2) पिट्स इंडिया कायदा
 (3) सायमन कमिशन (4) रौलट कायदा

5. मूलभूत कर्तव्यांची संकल्पना कडून घेण्यात आली आहे.

- (1) जर्मनी (2) चीन
 (3) दक्षिण आफ्रिका (4) युएसएसआर (USSR)

6. जानेवारी 2023 मध्ये कोणत्या संस्थेद्वारे GMR गोवा आंतरराष्ट्रीय विमानतळाला (GGIAL) 'बेस्ट सस्टेनेबल ग्रीनफिल्ड एअरपोर्ट पुरस्काराने सन्मानित करण्यात आले होते ?

- (1) NASSCOM (2) ASSOCHAM
 (3) FICCI (4) FISME

7. राव बहादुर महय्या हे विसाव्या शतकातील भारतातील खालीलपैकी कोणत्या संघटनेशी संबंधित होते ?

- (1) बंगाल ब्रिटिश इंडिया सोसायटी (2) इंडियन लीग
 (3) कूर्ग जमीनदार संघटना (4) भारत सेवक समाज

8. Which of the following characteristics is NOT typically exhibited by meristematic cells?

- (1) Small and densely packed cells
 (2) High rate of cell division
 (3) With thick cellulose walls
 (4) Differentiation into specialised cell types

9. खालीलपैकी कोणाला अण्णाभाऊ साठे म्हणून ओळखले जात होते ?

- (1) सुशील साठे (2) तुकाराम भाऊराव साठे
 (3) रामदास भाऊराव साठे (4) शरद साठे

10. 2022 पर्यंतच्या माहितीनुसार, जीमेल (Gmail) मधील अटॅचमेंटचा कमाल आकार किती असतो ?

- (1) 30 MB (2) 20 MB
 (3) 25 MB (4) 15 MB

11. भारतातील पहिले ग्रामीण विद्यापीठ असलेल्या चित्रकूटमध्ये खालीलपैकी कोणी ग्रामोदय विद्यापीठ सुरू केले होते ?

- (1) गोपाळ गणेश आगरकर (2) गोपाळ हरी देशमुख
 (3) दत्तोपंत ठेंगडी (4) नानाजी देशमुख

12. खालीलपैकी कोणते अनुवांशिकरित्या सुधारित अन्नाच्या फायद्यांचे समर्थन करते ?

- (1) सुधारित चव (2) कमी पीक उत्पादकता
 (3) जास्त उत्पादन खर्च (4) कमी पौष्टिक मूल्य

13. Which writ petition will force the arresting authorities to produce the person bodily in court?

- (1) Habeas Corpus (2) Certiorari
 (3) Prohibition (4) Mandamus

14. हिमालयीन पर्वतीय प्रदेशात 3600 मीटरपेक्षा जास्त उंचीवर कोणत्या प्रकारची वनस्पती आढळते ?

- (1) उष्णकटिबंधीय वर्षावने (2) खारफुटीची जंगले
 (3) पानझडी बने (4) अल्पाइन गवताळ जमीन

पेपर क्र. - 2	1 - 3	2 - 4	3 - 1	4 - 4	5 - 4	6 - 2	7 - 3	8 - 3	9 - 2	10 - 3	11 - 4
	12 - 1	13 - 1	14 - 4								

15. भारतातील कोणत्या भूशास्त्रीय विभागामध्ये प्राचीन पटिताश्म आणि ग्रॅनाइट्स यांचा समावेश आहे आणि तो कॅब्रियन कल्पापासून (युग) एका खडक खंडाप्रमाणे उभा आहे?

- (1) सिंधु-गंगा-ब्रह्मपुत्रा मैदानी खंड
- (2) किनारी मैदानी खंड
- (3) द्वीपकल्पीय खंड
- (4) भारतीय वाळवंट खंड

16. 2023 पर्यंतच्या माहितीनुसार, भारतातील कोणत्या शहरात पारशी लोकांचे प्रमाण सर्वाधिक आहे?

- (1) दिल्ली (2) अहमदाबाद (3) कोलकाता (4) मुंबई

17. 'हरगिला आर्मी' चे नेतृत्व केल्याबद्दल, यांना UN चा 'उद्योजकीय दृष्टी (Entrepreneurial Vision)' श्रेणीतील सर्वोच्च पर्यावरण पुरस्कारासह 'चॅम्पियन्स ऑफ द अर्थ 2022' हा पुरस्कार प्रदान करण्यात आला.

- (1) पूर्णिमादेवी बर्मन (2) मीना फ्लिन
- (3) नारायण राणे (4) सोनल देसाई

18. Which of the following does NOT have a skeleton?

- (1) Silver fish (2) Salmon fish
- (3) Shark fish (4) Ratfish

19. मार्च 2023 मध्ये नितू घनघास यांना BBC इमर्जिंग प्लेयर ऑफ द इयर पुरस्कार-2022 या पुरस्काराने सन्मानित करण्यात आले, त्या खालीलपैकी कोणत्या खेळाशी संबंधित आहेत?

- (1) धनुर्विद्या (2) बॅडमिंटन (3) मुष्टियुद्ध (4) सीशर्री

20. In May 2023, Enforcement Directorate froze assets of VP Nandakumar. He is MD and CEO of which company?

- (1) Poonawalla Fincorp
- (2) HDFC Bank
- (3) Asirvad Microfinance Ltd
- (4) Manappuram Finance

21. माहितीचा अधिकार कायदा, 2005 हा पासून अंमलात आला.

- (1) 12 सप्टेंबर 2005 (2) 12 ऑक्टोबर 2005
- (3) 12 डिसेंबर 2005 (4) 12 नोव्हेंबर 2005

22. भारतात, भारतीय नागरी सेवा परीक्षा पासून घेण्यात येऊ लागली.

- (1) 1919 (2) 1915 (3) 1917 (4) 1922

23. खालीलपैकी कोणते नागरिकत्वाचे उदाहरण नाही?

- (1) सार्वजनिक पदावर राहण्याचा अधिकार
- (2) इतर देशांमध्ये निवडणूक लढविण्याचा अधिकार
- (3) बेरोजगारीचे लाभ गोळा करण्याचा अधिकार
- (4) मतदानाचा अधिकार

24. ऑगस्ट 2022 मध्ये, खालीलपैकी कोणत्या राज्याने सर्व अंगणवाड्यांमधील बालकांना त्यांचे पोषण स्तर व आरोग्य सुरक्षितता सुधारण्याचा प्रयत्न म्हणून दूध आणि अंडी देण्यासाठी महिला व बालविकास प्रकल्प सुरु केला आहे?

- (1) आंध्रप्रदेश (2) केरळ
- (3) तामिळनाडू (4) पश्चिम बंगाल

25. 1830 चे सिंगफोचे बंड मध्ये झाले.

- (1) आसाम (2) मणिपूर (3) बिहार (4) ओडिशा

03

Date - 27/08/2023

वेळ : 12 : 30 AM - 02 : 30 AM

1. Which of the following can be classified as polysaccharides?

- (1) Starch, glycogen, cellulose
- (2) Glucose, sucrose, lactose
- (3) Ribose, deoxyribose, galactose
- (4) Sucrose, lactose, fructose

2. 2023 च्या खेळो इंडिया हिवाळी क्रीडा स्पर्धेत खालीलपैकी कोणत्या राज्य/केंद्रशासित प्रदेशाने सर्वाधिक सुवर्णपदके जिंकली?

- (1) जम्मू आणि काश्मीर (2) उत्तराखंड
- (3) महाराष्ट्र (4) लक्षद्वीप

3. भारताचे मुख्य माहिती आयुक्त हे पर्यंतच्या कालावधीसाठी पदभार धारण करतील.

- (1) त्यांनी पदभार धारण केल्याच्या तारखेपासून 5 वर्षे
- (2) त्यांनी पदभार धारण केल्याच्या तारखेपासून 6 वर्षे
- (3) त्यांनी पदभार धारण केल्याच्या तारखेपासून 3 वर्षे
- (4) त्यांनी पदभार धारण केल्याच्या तारखेपासून 4 वर्षे

पेपर क्र. - 2	15 - 3	16 - 4	17 - 1	18 - 1	19 - 3	20 - 4	21 - 2	22 - 4	23 - 4	24 - 2	25 - 1
पेपर क्र. - 3	1 - 1	2 - 1	3 - 3								

18. मार्च 2023 मध्ये पार पडलेल्या राष्ट्रीय आपत्ती जोखीम निवारण मंचाच्या तिसऱ्या सत्राची विषयवस्तु (थीम) काय होती?

- (1) हवामान बदलाशी लढण्यासाठीची धोरणे
- (2) बदलत्या हवामानात स्थानिक अनुकूलता निर्माण करणे
- (3) हवामान बदल - एक जागतिक चिंता
- (4) हवामान बदल कमी करण्याच्या दिशेने पारंपारिक अभिगम

19. खालीलपैकी कोणत्या प्रजातीचा ऑलिव्ह रिडलेशी संबंध आहे?

- (1) कासवांच्या प्रजाती
- (2) सिंगोनियम प्रजाती
- (3) पोथोस प्रजाती
- (4) माशांच्या प्रजाती

20. ब्रिटिश ईस्ट इंडिया कंपनीने खालीलपैकी कोणत्या लढाईनंतर भारतीय राज्यांमध्ये रहिवासी नियुक्त केले?

- (1) प्लासीची लढाई
- (2) बक्सारची लढाई
- (3) स्वॅलीची लढाई
- (4) गोल्डन रॉकची लढाई

21. मार्च 2023 मध्ये, सर्वोच्च न्यायालयाने खालीलपैकी कोणाची नेमणूक ही तज्ञमंडळाद्वारे करण्याशी संबंधित निर्णय दिला?

- (1) नीती (NITI) आयोगाचे CEO
- (2) CBI चे संचालक
- (3) मुख्य निवडणूक आयुक्त
- (4) UPSC चे अध्यक्ष

22. कर्नाटकने ऑक्टोबर 2022 मध्ये, SC साठीचे आरक्षण हे 15% वरून किती टक्क्यांपर्यंत वाढविण्यासाठीचा अध्यादेश मंजूर केला आहे?

- (1) 17%
- (2) 28%
- (3) 19%
- (4) 25%

23. मूलभूत कर्तव्यांवरील वर्मा समितीने खालीलपैकी कोणत्या शिफारसी केल्या नव्हत्या ?

- (1) सहकारी संस्था स्थापन करा
- (2) सार्वजनिक कार्यालयाच्या कामकाजात एकात्मता हे मुख्य तत्त्व असले पाहिजे
- (3) सार्वजनिक अधिकाऱ्यांनी पदावर असताना प्रामाणिकपणा राखला पाहिजे
- (4) सार्वजनिक पदधारक हे त्यांचे निर्णय आणि जनतेसाठी मूलभूत कर्तव्यांच्या कृतीसाठी जबाबदार असले पाहिजेत.

24. मे 2023 मध्ये, उत्तराखंडमधील कोणत्या शहराने भारताच्या G20 अध्यक्षतेखाली G20 च्या भ्रष्टाचारविरोधी कार्यगटाची (ACWG) दुसरी बैठक आयोजित केली होती?

- (1) हरिद्वार
- (2) हल्दवानी
- (3) ऋषिकेश
- (4) देहरादून

25. परतीच्या मान्सूनचा परिणाम म्हणून कोणत्या राज्यात पाऊस पडतो?

- (1) तामिळनाडू
- (2) महाराष्ट्र
- (3) गुजरात
- (4) पंजाब

04

Date - 27/08/2023

वेळ : 04 : 30 AM - 06 : 30 AM

1. 2011 च्या जनगणनेनुसार, खालीलपैकी कोणत्या राज्याच्या ग्रामीण भागातील लिंग गुणोत्तर हे 1000 च्या वर आहे?

- (I) गोवा
- (II) केरळ
- (1) केवळ I
- (2) केवळ II
- (3) I आणि II दोन्हीही
- (4) I किंवा II पैकी एकही नाही

2. खालीलपैकी कोणत्या ठिकाणी जगातील सर्वाधिक पाऊस पडतो?

- (1) पासीघाट
- (2) मौसिनराम
- (3) अगुंबे
- (4) महाबळेश्वर

3. मध्ये, टिम बर्नर्स-लीने वर्ल्ड वाइड वेबचा शोध लावला.

- (1) 1990
- (2) 1981
- (3) 1987
- (4) 1993

4. Which of the following statement is correct?

- (I) The elements of weather and climate are different.
- (II) Temperature, atmospheric pressure, wind, humidity and precipitation are the elements of weather.
- (1) Both I and II
- (2) Neither I nor II
- (3) Only I
- (4) Only II

5. भारतीय राज्यघटनेतील कोणता अनुच्छेद हा संघराज्याच्या अधिकृत भाषेशी संबंधित आहे?

- (1) अनुच्छेद 343
- (2) अनुच्छेद 218
- (3) अनुच्छेद 132
- (4) अनुच्छेद 368

6. डिसेंबर 2022 पर्यंतच्या माहितीनुसार, महाराष्ट्र राज्य माहिती आयोगाचे मुख्य माहिती आयुक्त कोण आहेत?

- (1) सुरेश व्ही. जोशी
- (2) रत्नाकर गायकवाड
- (3) सुमित मलिक
- (4) विलास बी. पाटील

पेपर क्र. - 3	18 - 2	19 - 1	20 - 2	21 - 3	22 - 1	23 - 1	24 - 3	25 - 1			
पेपर क्र. - 4	1 - 3	2 - 2	3 - 1	4 - 4	5 - 1	6 - 3					

21. 2011 च्या जनगणनेनुसार, ख्रिश्चन धर्मीय समुदाय हा भारताच्या एकूण लोकसंख्येच्या टक्के आहे..

- (1) 1.7 (2) 3.7 (3) 0.4 (4) 2.3

22. यमुना नदी खालीलपैकी कोणत्या ठिकाणी गंगा नदीला जाऊन मिळते ?

- (1) देवप्रयाग (2) कानपूर
(3) हरिद्वार (4) प्रयाग (अलाहाबाद)

23. मध्ये, भारताच्या गव्हर्नर जनरलला व्हाईसरॉय ही पदवी दिली गेली.

- (1) 1862 (2) 1868 (3) 1858 (4) 1852

24. Which of the following statements is correct regarding Robert Clive?

- (I) He led the Company's army against Sirajuddaulah at the Battle of Plassey.
(II) He initiated the policy of 'paramountcy'.
(1) Only II (2) Neither I nor II
(3) Only I (4) Both I and II

25. मध्ये, भारतात उपदान प्रदान (पेमेंट ऑफ ग्रॅज्युइटी) अधिनियम अधिनियमित करण्यात आला.

- (1) 1982 (2) 1962 (3) 1972 (4) 1952

05

Date - 28/08/2023

वेळ : 09 : 00 AM - 11 : 00 AM

1. खालीलपैकी कोणत्या वर्षी सिंधू जल करार केला गेला ?

- (1) 1960 (2) 1972
(3) 1948 (4) 1954

2. खालीलपैकी कोणत्या संघाने राष्ट्रीय क्रीडा स्पर्धा 2022 मध्ये सर्वाधिक सुवर्णपदके जिंकली होती ?

- (1) गुजरात (2) केरळ
(3) कर्नाटक (4) हरियाणा

3. सामाजिक सुरक्षा संहिता, 2020 नुसार, कोणत्याही स्त्रीला मातृत्व लाभ मिळण्यासाठीचा कमाल कालावधी असेल.

- (1) अठ्ठावीस आठवडे (2) सव्वीस आठवडे
(3) चोवीस आठवडे (4) बावीस आठवडे

4. मध्ये, बहादूर शाह जफरचा रंगूनच्या तुरुंगात मृत्यू झाला.

- (1) 1868 (2) 1860
(3) 1862 (4) 1865

5. पंडिता रमाबाई यांच्याबाबत खालीलपैकी कोणते/ती विधान / ने अचूक आहे / आहेत ?

- (I) त्यांनी प्रार्थना समाजाच्या सहाय्याने, आर्य महिला समाजाची स्थापना केली.
(II) त्या शारदा सदनच्या संस्थापक होत्या.
(1) I किंवा II पैकी एकही नाही
(2) केवळ I
(3) केवळ II
(4) I आणि II दोन्हीही

6. महाराष्ट्र राज्य माहिती आयोगाचे पहिले मुख्य माहिती आयुक्त कोण होते ?

- (1) रत्नाकर गायकवाड (2) सुरेश व्ही. जोशी
(3) सुमित मलिक (4) विलास पाटील

7. मध्ये, सोसायटी नोंदणी अधिनियम, 1860 च्या अंतर्गत एक स्वायत्त संस्था म्हणून महाराष्ट्र विकास प्रशासन प्राधिकरणाची स्थापना केली गेली.

- (1) 1972 (2) 1974 (3) 1982 (4) 1984

8. The energy required for various chemical activities needed for life is released by in the form of ATP.

- (1) Mitochondria (2) Lysosomes
(3) Ribosome (4) Nucleous

9. 2011 च्या जनगणनेनुसार, 2001-2011 च्या दशकात बौद्ध धर्मीय समुदायाच्या लोकसंख्येच्या वाढीचा दर होता.

- (1) 5.4 टक्के (2) 6.1 टक्के
(3) 7.4 टक्के (4) 8.1 टक्के

10. कावेरी दक्षिण वन्यजीव अभयारण्याच्या संदर्भात खालीलपैकी कोणते/ती विधान/ने योग्य आहे/आहेत ?

- (I) ते सस्तन प्राण्यांच्या 35 प्रजाती आणि पक्ष्यांच्या 238 प्रजातींचे घर आहे.
(II) नोव्हेंबर 2022 मध्ये त्यास तामिळनाडूचे 17 वे वन्यजीव अभयारण्य म्हणून अधिसूचित करण्यात आले आहे.
(1) केवळ I (2) I आणि II दोन्हीही
(3) केवळ II (4) I किंवा II पैकी एकही नाही

पेपर क्र. - 4	21 - 4	22 - 4	23 - 3	24 - 3	25 - 3						
पेपर क्र. - 5	1 - 1	2 - 4	3 - 2	4 - 3	5 - 4	6 - 2	7 - 4	8 - 1	9 - 2	10 - 2	

24. खालीलपैकी कोणते /ती विधान/ने अचूक आहे / आहेत ?

- (I) मोझिला फायरफॉक्स (Mozilla Firefox) हा एक ओपन सोर्स ब्राऊझर आहे.
(II) मोझिला फायरफॉक्स (Mozilla Firefox) मोफत डाऊनलोड केला जाऊ शकत नाही.
(1) केवळ I
(2) I आणि II दोन्हीही
(3) I किंवा II पैकी एकही नाही
(4) केवळ II

25. Which of the following organism does NOT belong to Protista kingdom of living organism?

- (1) Diatoms (2) Blue-green algae
(3) Golden algae (4) Protozoan

06

Date - 28/08/2023

वेळ : 12 : 30 PM - 02 : 30 PM

1. Which of the following can be classified as polysaccharides?

- (1) Glucose, sucrose, lactose
(2) Sucrose, lactose, fructose
(3) Ribose, deoxyribose, galactose
(4) Starch, glycogen, cellulose

2. मार्च 2023 मध्ये, सर्वोच्च न्यायालयाने खालीलपैकी कोणाची नेमणूक ही तज्ञमंडळाद्वारे करण्याशी संबंधित निर्णय दिला ?

- (1) मुख्य निवडणूक आयुक्त
(2) CBI चे संचालक
(3) UPSC चे अध्यक्ष
(4) नीती (NITI) आयोगाचे CEO

3. खालीलपैकी कोणी 'महाराष्ट्र भाषेचे व्याकरण' लिहिले आहे ?

- (1) वसंत राव (2) शंकर खेडकर
(3) दादोबा पांडुरंग (4) प्रबोधनकार ठाकरे

4. खालीलपैकी कोणते विधान हे स्वातंत्र्यपूर्व भारतात 1878 च्या शस्त्र अधिनियमाबाबत सत्य आहे ?

- (1) भारतीयांना परवान्याशिवाय शस्त्र बाळगता येणार नाही.
(2) भारतीय आयात केलेली शस्त्रे खरेदी करू शकत नाहीत,

- (3) भारतीय आयात केलेली शस्त्रे खरेदी करू शकतात.
(4) भारतीय मर्यादित शस्त्रे वापरू शकतात.

5. मार्च 2023 मध्ये इस्रोने खालीलपैकी कोणत्या नैसर्गिक आपत्तीशी संबंधित भारताचा नकाशासंग्रह (atlas of India) सादर केला ?

- (1) पूर (2) भूमिपात
(3) हिमस्खलन (4) भूकंप

6. खालीलपैकी कोणती माहिती भारताच्या माहिती अधिकार अधिनियमांतर्गतच्या प्रकटीकरणातून (disclosure) वगळलेली नाही ?

- (1) भारताच्या सार्वभौमत्वावर आणि एकात्मतेवर बाधक परिणाम करणारी माहिती.
(2) संबंधित अधिकाऱ्याला सामायिक करण्यात रस नसलेली माहिती.
(3) संसदेच्या विशेषाधिकाराचा भंग करणारी माहिती.
(4) राज्याच्या वैज्ञानिक किंवा आर्थिक हितसंबंधांवर बाधक परिणाम करणारी माहिती.

7. संगणकांच्या डिस्प्लेचा सामान्य रीफ्रेश रेट (refresh rate) काय आहे ?

- (1) 40 Hz (2) 60Hz
(3) 20 Hz (4) 200 Hz

8. राज्यघटनेच्या अनुच्छेद, मध्ये असे म्हटले आहे, की जात, वंश, लिंग, जन्मस्थान इत्यादी कारणांवरून कोणत्याही नागरिकाशी भेदभाव केला जाणार नाही.

- (1) अनुच्छेद 22 (2) अनुच्छेद 12
(3) अनुच्छेद 15 (4) अनुच्छेद 19

9. What was the theme of the third session of National Platform for Disaster Risk Reduction held in March 2023?

- (1) Traditional approach toward mitigating climate change
(2) Building local resilience in a changing climate
(3) Climate Change - A Global Concern
(4) Strategies to combat climate change

पेपर क्र. - 5	24 - 1	25 - 2												
पेपर क्र. - 6	1 - 4	2 - 1	3 - 3	4 - 1	5 - 2	6 - 2	7 - 2	8 - 3	9 - 2					

1. खालीलपैकी कोण डिप्रेस्ड क्लासेस मिशन आणि मुस्ली प्रतिबंधक सभेचे संस्थापक होते?
 - (1) मृणाल पाटणेकर (2) जी. एम. पवार
 - (3) विठ्ठल रामजी शिंदे (4) नानाजी देशमुख
2. खालीलपैकी कोणत्या नदीचा उगम अमरकंटक येथे आहे?
 - (1) ब्रह्मपुत्रा नदी (2) नर्मदा नदी
 - (3) यमुना नदी (4) कावेरी नदी
3. फेसबुकने कोणत्या वर्षी व्हाॅट्स अॅपचे अधिग्रहण केले?
 - (1) 2012 (2) 2015
 - (3) 2013 (4) 2014
4. राष्ट्रपती हे च्या चौकशीनंतर, मुख्य माहिती आयुक्त आणि इतर माहिती आयुक्तांना काढून टाकू शकतात.
 - (1) पंतप्रधान (2) संसद
 - (3) मंत्रिमंडळ (4) सर्वोच्च न्यायालय
5. 1942 च्या भारत छोडो आंदोलनादरम्यान सध्याच्या ओडिशा राज्यात खालीलपैकी कोणता आदिवासी उठाव केला गेला?
 - (1) हो (2) कोल (3) छुआर (4) कोरापुट
6. खालीलपैकी कशाचे फूल एकलिंगी आहे?
 - (1) सूर्यफूल (2) मोहरी (3) जास्वंद (4) पपई
7. जानेवारी 2023 मध्ये, सक्तवसुली संचालनालयाने (Enforcement Directorate) मनी लाँडरिंगच्या संबंधात कोणत्या प्रत्यक्ष विक्री करणाऱ्या (direct selling) कंपनीची 36 बँक खाती गोठविली?
 - (1) अँव्हॉन (AVON) (2) अँमवे (AMWAY)
 - (3) विहान (Vihaan) (4) नेट (NET)
8. खालीलपैकी कोणते विधान हे 'कायद्याचे समान संरक्षण' या संकल्पनेचे सर्वोत्तमरित्या वर्णन करते?
 - (1) वेगवेगळ्या वर्गातील नागरिकांसाठी वेगवेगळे कायदे लागू होतात
 - (2) सर्व नागरिकांना कायद्याची समान पोहोच आहे
 - (3) दोन वेगवेगळ्या समुदायांतील दोन व्यक्तींना समान गुन्हा

केल्याबद्दल कधीही समान शिक्षा मिळणार नाही.

- (4) दोन वेगवेगळ्या समुदायांतील दोन व्यक्तींनी समान गुन्हा केल्यास त्यांना नेहमीच समान शिक्षा मिळेल

9. When a red (RR) flower plant is crossed with a white (WW) flower plant, all the offspring exhibit pink flowers, suggesting that the red and white gene are:

- (1) codominant (2) recessive
- (3) incomplete dominance (4) mutant

10. जेव्हा राज्य माहिती आयुक्तांची राज्य मुख्य माहिती आयुक्त म्हणून नियुक्ती केली जाते, तेव्हा त्यांचा कार्यकाळ एकूणपेक्षा जास्त असू नये.

- (1) 8 वर्ष (2) 6 वर्षे (3) 4 वर्षे (4) 5 वर्षे

11. 2011 च्या जनगणनेनुसार, कोणत्या केंद्रशासित प्रदेशात सर्वाधिक लिंग गुणोत्तर होते?

- (1) लक्षद्वीप (2) पुदुच्चेरी
- (3) अंदमान आणि निकोबार बेटे (4) चंदीगड

12. ऑक्टोबर 2022 मध्ये, पंतप्रधान नरेंद्र मोदी यांनी कोणत्या राज्यात 'मिशन लाइफ' सुरु केले?

- (1) आसाम (2) मध्यप्रदेश (3) बिहार (4) गुजरात

13. मार्च 2023 मध्ये, सेंटर फॉर पॉलिसी रिसर्च (CPR) ने 'हाऊ इज इंडिया अँडोप्टिंग टू हीटवेव्ह' शीर्षक असलेला अहवाल प्रसिद्ध केला; या अहवालात CPR द्वारे किती उष्णता कृती योजनांचे विश्लेषण केले आहे?

- (1) 40 (2) 30 (3) 37 (4) 15

14. महिनाभर चाललेली 'नई चेतना-पहल बदलाव की ही मोहीम लिंग-आधारित हिंसेचे उच्चाटन या विषयसूत्र (थीम) सह या कालावधीत सर्व राज्यांत/केंद्रशासित प्रदेशांत एक 'जन आंदोलन' म्हणून आयोजित केली गेली.

- (1) 25 नोव्हेंबर ते 23 डिसेंबर 2022
- (2) 21 नोव्हेंबर ते 20 डिसेंबर 2022
- (3) 15 नोव्हेंबर ते 13 डिसेंबर 2022
- (4) 05 नोव्हेंबर ते 03 डिसेंबर 2022

पेपर क्र. - 7	1 - 3	2 - 2	3 - 4	4 - 4	5 - 4	6 - 4	7 - 3	8 - 4	9 - 3	10 - 4	11 - 2
	12 - 4	13 - 3	14 - 1								

15. आर्थिकदृष्ट्या दुर्बल कुपोषित मुलांना 10 महिने प्राथमिक शिक्षण पुरविण्याच्या उद्दिष्टाने आसाम सरकारने ऑगस्ट 2022 मध्ये सुरु केलेल्या योजनेचे नाव काय आहे?

- (1) चॅरिटी ऑफ एज्युकेशन (2) मोबाईल एज्युकेशन
(3) एज्युकेशन ऑन व्हील (4) विद्या रथ

16. फिरोजशाह मेहता, के. टी. तेलंग आणि बहुद्दीन तैयबजी यांनी स्वातंत्र्यपूर्व भारतातील खालीलपैकी कोणत्या संस्थेची सहस्थापना केली होती?

- (1) बॉम्बे प्रेसिडेन्सी असोसिएशन
(2) ब्रिटिश इंडियन असोसिएशन
(3) ईस्ट इंडिया असोसिएशन
(4) मद्रास नेटिव्ह असोसिएशन

17. खालीलपैकी कोणाच्या वेतन आणि भत्यांचा उल्लेख राज्यघटनेच्या दुसऱ्या अनुसूचीमध्ये करण्यात आलेला नाही?

- (1) राज्यपाल
(2) भारताचे नियंत्रक आणि महालेखापरीक्षक
(3) पंतप्रधान
(4) राष्ट्रपती

18. खालीलपैकी कोणती वृक्ष प्रजाती ही सहसा पानझडी वनांमध्ये आढळते?

- (1) ओक (2) पाइन (3) बांबू (4) रोझवूड

19. खालीलपैकी कोणत्या महिला कार्यकर्तीने महाराष्ट्रात महिलांच्या हक्कांसाठी लढणाऱ्या 'भूमाता ब्रिगेड' या स्वयंसेवी संस्थेची (NGO) स्थापना केली आहे?

- (1) तृप्ती देसाई (2) मंजुळाताई
(3) अपर्णा संकुळे (4) अनेरी पारीख

20. प्रधान अधिनियमाचा खंड 7D कशाशी संबंधित आहे?

- (1) अस्तित्वातील व्यवसायाच्या नोंदणीचे नूतनीकरण
(2) व्यवसायासाठीच्या व्यापारचिन्हांची नोंदणी करणे
(3) भारतातील परदेशी नागरिकांना मंजूर केलेली नोंदणी रद्द करणे
(4) नवीन व्यवसायांसाठी नोंदणी प्रक्रिया

21. The process initiated by amylases in saliva leads to the breakdown of carbohydrates into

- (1) nucleic acids (2) nucleotides
(3) simple sugars (4) fatty acids

22. जानेवारी 2023 मध्ये, चंदीगडमध्ये उत्तर भारतातील सर्वात मोठ्या तरंगणाऱ्या चे उद्घाटन करण्यात आले.

- (1) हॉटेल (2) वॉटर पार्क
(3) बायो गॅस सयंत्र (4) सौर ऊर्जा सयंत्र

23. खालीलपैकी कोणत्या वर्षी ब्रिटीश मंत्रिमंडळातील सदस्याची नियुक्ती भारतासाठी सेक्रेटरी ऑफ स्टेट (Secretary of State for India) म्हणून प्रथमच करण्यात आली होती?

- (1) 1858 (2) 1935 (3) 1859 (4) 1857

24. राष्ट्रवादी नेते डॉ. सत्यपाल यांनी खालीलपैकी कोणत्या संघटनेची स्थापना केली होती?

- (1) मद्रास महाजन सभा (2) अभिनव भारत
(3) नौजवान भारत सभा (4) अमित्य सभा

25. खालीलपैकी कोणत्या महिला खेळाडूला मार्च 2023 मध्ये BBC जीवनगौरव पुरस्कार 2022 मिळाला?

- (1) सानिया मिर्झा (2) पी. टी. उषा
(3) एमसी मेरी कोम (4) प्रीतम राणी सिवाच

08

Date - 29/08/2023

वेळ : 09 : 00 PM - 11 : 00 PM

1. भारतातील उन्हाळी मान्सूनच्या प्रवाहाची दिशा यापैकी कोणती आहे?

- (1) आग्नेयेकडून नैऋत्येकडे (2) ईशान्येकडून नैऋत्येकडे
(3) वायव्येकडून ईशान्येकडे (4) नैऋत्येकडून ईशान्येकडे

2. खालीलपैकी कोणता शब्द हा मूळ उद्देशिकेमध्ये नव्हता?

- (1) स्वतंत्रता (Library) (2) समाजवादी (Socialist)
(3) लोकशाही (Democratic) (4) न्याय (Justice)

3. खालीलपैकी कोण सध्याच्या मेघालय राज्यातील आदिवासी स्वातंत्र्यसैनिक होते?

- (1) वीर सुरेंद्र साई (2) तिरोत सिंग
(3) टेकंगा खारिया (4) गोविंद गुरु

4. भारतीय राज्यघटनेच्या अनुच्छेद 19 अंतर्गत स्वातंत्र्याच्या अधिकाराच्या खंड (c) मध्ये खालीलपैकी काय नमूद करण्यात आले आहे?

- (1) संघटना किंवा संघ बनविण्याचा अधिकार
(2) भारताच्या कोणत्याही भागामध्ये राहणे आणि स्थायिक होणे
(3) शस्त्रांशिवाय शांतपणे एकत्र येणे
(4) भाषण आणि अभिव्यक्तीचे स्वातंत्र्य

पेपर क्र. - 7	15 - 4	16 - 1	17 - 3	18 - 3	19 - 1	20 - 3	21 - 3	22 - 4	23 - 1	24 - 3	25 - 4
पेपर क्र. - 8	1 - 4	2 - 3	3 - 2	4 - 1							

21. जुलै 2022 मध्ये, आसामने 'स्वनिर्भरनारी योजना' सुरू केली होती. ही योजना प्रामुख्याने खालीलपैकी कोणत्या गटासाठी आहे?

- (1) स्थानिक विणकर (2) कुंभार
(3) स्वयंसेवी संस्था (4) आदिवासी

22. Identify the snake from the given options that does NOT possess any toxic properties.

- (1) Russell's Viper (2) Python
(3) Black mamba (4) King cobra

23. Which of the following is/are the feature(s) of E-Waste (Management) Rules, 2022 as notified in November 2022?

- (I) All the manufacturers, producers, refurbishers and recyclers are required to register on the portal developed by CPCB.
(II) Provision for reduction of hazardous substances in manufacturing of Electrical and Electronic Equipment (EEE).
(III) Authorisation has now been replaced by registration through online portal and only manufacturers, producers, refurbishers and recyclers require registration.
- (1) Only II and III (2) I, II and III
(3) Only I and III (4) Only I and II

24. गोपाळ कृष्ण गोखले यांनी 1905 साली खालीलपैकी कोणत्या संस्थेची स्थापना केली होती?

- (1) बंगाल ब्रिटिश इंडिया सोसायटी
(2) धर्मसभा
(3) भारत सेवक समाज
(4) परमहंस मंडळी

25. 36 वी राष्ट्रीय क्रीडा स्पर्धा-2022 मधील सर्वोत्कृष्ट महिला खेळाडू हशिका रामचंद्र खालीलपैकी कोणत्या खेळाशी संबंधित होती?

- (1) तिरंदाजी (2) बॅडमिंटन
(3) कुस्ती (4) जलतरण

09

Date - 29/08/2023

वेळ : 12 : 30 PM - 02 : 30 PM

1. ब्रिटीशांच्या खालसा धोरणांतर्गत खालीलपैकी कोणत्या संस्थानावर ताबा मिळवला गेला नव्हता?

- (1) उदयपूर (2) संबळपूर
(3) जयपूर (4) झाशी

2. खालीलपैकी कोणते वैशिष्ट्य हे भारतीय राज्यघटनेशी संबंधित आहे?

- (1) दुहेरी नागरिकत्व (2) एकात्मक प्रणाली
(3) सार्वत्रिक प्रौढ मताधिकार (4) अध्यक्षीय सरकार

3. मुख्य भूप्रदेश आणि बेट समूहांसह, भारताच्या किनारपट्टीची एकूण लांबी किती आहे?

- (1) 6715.6 km (2) 8715.2 km
(3) 7516.6 km (4) 9517.3 km

4. या कलमाखालील कोणत्याही प्रकरणाची चौकशी करताना केंद्रीय माहिती आयोग किंवा राज्य माहिती आयोगाला, स्थितीविशेषानुसार, मध्ये निहित असलेले अधिकार असतील.

- (1) उच्च न्यायालय (2) दिवाणी न्यायालय
(3) सर्वोच्च न्यायालय (4) फौजदारी न्यायालय

5. नोव्हेंबर 2022 मध्ये, मध्यप्रदेशने लाडली लक्ष्मी 2.0 योजना सुरु केली. ही योजना खालीलपैकी कशाशी संबंधित आहे?

- (1) सॅनिटरी नॅपकिन पुरवणे
(2) आर्थिक सहाय्य
(3) मोफत शालेय गणवेश
(4) मोफत पुस्तके आणि स्टेशनरी

6. खालीलपैकी कोणी मुघलांपासून मिळवलेले स्वातंत्र्य घोषित करत, अवध या स्वतंत्र राज्याची (संस्थानाची) स्थापना केली?

- (1) झुल्फिकार खान (2) मुर्शिद कुली खान
(3) सरफराज खान (4) सादत खान

7. एखाद्या आयकनला एका ठिकाणावरून डेस्कटॉपवरील दुसऱ्या स्थानी नेण्याच्या प्रक्रियेला तुम्ही काय म्हणाल?

- (1) ड्रॅग करणे (Dragging)
(2) हायलाईट करणे (Highlighting)
(3) डबल क्लिक करणे (Double-clicking)
(4) पॉइंट करणे (Pointing)

पेपर क्र. - 8	21 - 1	22 - 2	23 - 2	24 - 3	25 - 4					
पेपर क्र. - 9	1 - 3	2 - 3	3 - 3	4 - 2	5 - 2	6 - 4	7 - 1			

22. खालीलपैकी कोणती संज्ञा ही पंतप्रधान मोदी यांना अभिप्रेत असलेल्या मिशन LIFE च्या P3 चा भाग नाही?

- (1) प्रो (Pro) (2) प्लॅनेट (Planet)
(3) पीपल (People) (4) पल्यूशन (Pollution)

23. बळकट हाडांच्या विकासात योगदान देत नाही असे उत्तर निवडा.

- (1) कॅल्शियम (2) थायमिन
(3) फॉस्फरस (4) जीवनसत्व K

24. राज्यघटनेतील अनुच्छेद 350A कशाशी संबंधित आहे?

- (1) प्राथमिक स्तरावर भाषिक अल्पसंख्याक गटांतील मुलांसाठी मातृभाषेतील शिक्षणासाठीच्या सुविधा
(2) हिंदी भाषेच्या विकासासाठीचे निर्देश
(3) भाषिक अल्पसंख्याकांसाठी विशेष अधिकारी
(4) संसदेमध्ये वापरावयाची भाषा

25. खालीलपैकी कोण विधवा विवाह संघाचे संस्थापक होते आणि त्यांनी जातिव्यवस्था व बालविवाहाला विरोध केला?

- (1) सत्यम शिंदे आणि देवांग शर्मा
(2) अतुल कुलकर्णी आणि रवींद्र राणे
(3) एम. जी. रानडे आणि रामकृष्ण भांडारकर
(4) राहुलदेव आगरकर आणि गोपाळकृष्ण भांडारकर

10

Date - 29/08/2023

वेळ : 04 : 30 PM - 6 : 30 PM

1. DBT चे पूर्ण रूप काय आहे?

- (1) डायरेक्ट बँक ट्रान्सफर (Direct bank transfer)
(2) डायरेक्ट बेनिफिट ट्रान्सफर (Direct benefit transfer)
(3) डायरेक्ट बिझनेस ट्रान्सफर (Direct business transfer)
(4) डायरेक्ट अँड ब्लाइंड ट्रान्सफर (Direct and blind transfer)

2. खालीलपैकी कोणी 1893 मध्ये विधवा विवाह उत्तेजक मंडळी सुरू केली?

- (1) बाबा आमटे (2) धोंडो केशव कर्वे
(3) डी. आर. भांडारकर (4) शाहू छत्रपती

3. अर्जिंठा आणि वेरूळ लेणी ही कोणत्या धार्मिक कलाप्रकारासाठी महत्त्वाची ठिकाणे आहेत?

- (1) हिंदू (2) जैन (3) इस्लाम (4) बौद्ध

4. 'मावफलांग पवित्र उपवन' ही भारतातील कोणत्या राज्यातील अनोखी वनभूमी आहे?

- (1) उत्तर प्रदेश (2) मेघालय (3) पंजाब (4) हरियाणा

5. खालीलपैकी कोणाला ब्रह्मचारी बाबा म्हणून ओळखले जाते, तसेच ते आधुनिक महाराष्ट्राचे पहिले महान पुनरुज्जीवनवादीही मानले जातात?

- (1) दामोदर पाटील (2) अमोल कुलकर्णी
(3) नारायण सावळे (4) विष्णू गोखले

6. कोणत्या अनुच्छेदात 'मानवी तस्करी आणि वेठबिगारीस प्रतिबंध' याबाबत उल्लेख करण्यात आला आहे?

- (1) अनुच्छेद 25 (2) अनुच्छेद 23
(3) अनुच्छेद 26 (4) अनुच्छेद 27

7. खालीलपैकी कोणते पुस्तक बोरिया मजुमदार यांनी लिहिलेले आहे आणि 2023 मध्ये प्रकाशित झाले आहे?

- (1) सचिन @50 सेलिब्रेटिंग अ मेस्ट्रो (Sachin@50 Celebrating A Maestro)
(2) रिस्ट अॅश्युअर्ड (Wrist Assured)
(3) सचिन तेंडुलकर: चेज युवर ड्रीम (Sachin Tendulkar : Chase your Dream)
(4) सचिन तेंडुलकर: प्लेइंग इट माय वे (Sachin Tendulkar: Playing it My Way)

8. डिसेंबर 2022 मध्ये, राज्यसभेत सादर करण्यात आलेल्या राष्ट्रीय न्यायिक आयोग विधेयकाबाबत खालीलपैकी कोणते/ती विधान/ने सत्य आहे/आहेत?

- (I) राष्ट्रीय न्यायिक आयोग हा केवळ भारताचे मुख्य न्यायाधीश आणि सर्वोच्च न्यायालयाचे इतर न्यायाधीश यांच्या नियुक्तीसाठी व्यक्तींची शिफारस करू शकतो.
(II) हे विधेयक CPI(M) चे नेते विकास रंजन भट्टाचार्य यांनी राज्यसभेत मांडले.
(III) न्यायाधीशांना काढून टाकण्याच्या कार्यवाहीच्या संदर्भात आणि त्याच्याशी संबंधित किंवा त्याच्याशी आनुषंगिक बाबींसाठी संसदेद्वारे राष्ट्रपतींकडे केल्या जाणाऱ्या अभिभाषणाचे सादरीकरण यात नमूद केलेले आहे.

- (1) I आणि II (2) फक्त II
(3) फक्त II (4) II आणि III

9. खालीलपैकी कोणत्या अधिनियमाच्या अंमलबजावणीने ब्रिटिश भारतातील प्रांतांना अधिक स्वायत्तता प्रदान केली गेली?

- (1) भारत सरकार अधिनियम, 1935
(2) भारतीय परिषद अधिनियम, 1909
(3) भारत सरकार अधिनियम, 1919
(4) भारत सरकार अधिनियम, 1858

पेपर क्र. - 9	22 - 4	23 - 2	24 - 1	25 - 3						
पेपर क्र. - 10	1 - 1	2 - 2	3 - 4	4 - 2	5 - 4	6 - 2	7 - 1	8 - 4	9 - 1	

23. अठराव्या शतकात इंग्रज आणि म्हैसूरचे राज्यकर्ते यांच्यादरम्यान किती लढाया झाल्या?

- (1) 2 (2) 1 (3) 4 (4) 3

24. खालीलपैकी कोणती नदी छत्तीसगड आणि ओडिशा राज्यांमधून वाहते?

- (1) महानदी (2) ब्रह्मपुत्रा नदी
(3) नर्मदा नदी (4) कृष्णा नदी

25. इनर लाईन परमिट (Inner line permit) हा संरक्षित क्षेत्रातील अंतर्गत प्रवासास अनुमती देणारा अधिकृत दस्तऐवज आहे. खालीलपैकी कोणते राज्य याचा एक भाग नाही?

- (1) नागालँड (2) मणिपूर
(3) आसाम (4) अरुणाचल प्रदेश

11

Date - 31/08/2023

वेळ : 09 : 00 AM - 11 : 00 AM

1. मध्ये लढलेल्या लढाईनंतर मीर जाफर बंगालचा नवाब बनला.

- (1) चौसा (2) बक्सर
(3) तालिकोटा (4) प्लासी

2. अग्र विभाजी ऊती काय म्हणून वैशिष्ट्यीकृत आहेत?

- (1) प्राथमिक विभाजी ऊती
(2) पार्श्व विभाजी ऊती
(3) द्वितीयक विभाजी ऊती
(4) अपस्थानिक विभाजी ऊती

3. खालीलपैकी कोणता प्राणी शेतकऱ्याचा मित्र म्हणून ओळखला जातो?

- (1) पोपट (2) गांडूळ
(3) सुतार मुंगी (4) उंदीर

4. महाराष्ट्रातील खालील समाजसुधारकांपैकी कोण हे नर्मदा बचाव आंदोलनाशी संबंधित होते?

- (1) ए. आर. शिंदे (2) विठ्ठल शास्त्री
(3) गोपाळ अग्रवाल (4) बाबा आमटे

5. खालीलपैकी कोणत्या मंत्रालयाने 'स्वच्छ टॉयकॅथॉन' ही कचऱ्या पासून खेळणी बनवण्याची एक अनोखी स्पर्धा सुरू केली होती?

- (1) पशुसंवर्धन, दुग्धव्यवसाय आणि मत्स्यव्यवसाय मंत्रालय

(2) कृषी आणि शेतकरी कल्याण मंत्रालय

(3) वाणिज्य आणि उद्योग मंत्रालय

(4) गृहनिर्माण आणि शहरी व्यवहार मंत्रालय

6. 1870 मध्ये जन्मलेले हे स्वातंत्र्यपूर्व भारतातील इतिहासकार होते आणि त्यांनी कलकत्ता विद्यापीठाचे कुलगुरू म्हणूनही काम केले होते.

- (1) सत्येंद्रनाथ बोस (2) सी. व्ही. रमण
(3) यदुनाथ सरकार (4) श्रीनिवास रामानुजन

7. खालीलपैकी कोणती माहिती भारताच्या माहिती अधिकार अधिनियमांतर्गतच्या प्रकटीकरणातून (disclosure) वगळलेली नाही?

- (1) मंत्रीपरिषदेचा विचारविमर्श
(2) रस्ते करार आणि पायाभूत सुविधांच्या तपशिलाशी संबंधित माहिती
(3) मंत्रिमंडळ दस्तावेज
(4) परदेशी शासनाकडून विश्वासात घेतलेली माहिती

8. खालीलपैकी कोण महाराष्ट्रातील शेतकरी संघटना व शेतकरी महिला आघाडीचे संस्थापक होते?

- (1) जयश्री भोसले (2) शरद अनंतराव जोशी
(3) रुही तिवारी (4) विवेक वेलणकर

9. मे 2023 मध्ये CBI ने कोणत्या आंतरराष्ट्रीय कंपनीच्या उच्चाधिकार्यांविरुद्धात भ्रष्टाचाराचा खटला दाखल केला?

- (1) रोल्स रॉयस (2) अॅमेझॉन
(3) गुगल (4) कोका कोला

10. बालकांच्या मोफत आणि अनिवार्य (RTE) शिक्षणाचा अधिनियम, 2009 रोजी अंमलात आणला गेला.

- (1) 1 एप्रिल 2009 (2) 2 ऑक्टोबर 2009
(3) 1 एप्रिल 2010 (4) 15 ऑगस्ट 2009

11. जुलै 2022 मध्ये, उत्तराखंडने पोलीस ॲपसह आपली पहिल्याच प्रकारची कोणती सेवा सुरू केली?

- (1) ई-एफआयआर (e-FIR)
(2) जिल्हा न्यायालयाच्या कामकाजाचे ऑनलाईन स्ट्रीमिंग
(3) उच्च न्यायालयाच्या कामकाजाचे ऑनलाईन स्ट्रीमिंग
(4) महिला ठाणे

पेपर क्र. - 10	23 - 4	24 - 1	25 - 3								
पेपर क्र. - 11	1 - 4	2 - 1	3 - 2	4 - 4	5 - 4	6 - 3	7 - 2	8 - 2	9 - 1	10 - 3	11 - 1

1. मुख्य माहिती आयुक्तांना कोणत्या कारणास्तव काढून टाकले जाऊ शकते?

- (1) दिवाळखोरी
 (2) त्यांच्या पदाच्या कार्यकाळात त्यांचा कार्यालयाच्या कर्तव्याबाहेरील कोणत्याही सशुल्क नोकरीत समावेश असेल तर
 (3) मन आणि शरीराच्या दुर्बलतेमुळे पदावर राहण्यास अयोग्य असल्यास.
 (4) गैरवर्तन किंवा अक्षमता सिद्ध झाल्यास.
 (1) फक्त 1 आणि 4 (2) फक्त 1 आणि 3
 (3) फक्त 3 आणि 4 (4) सर्व 1, 2, 3 आणि 4

2. खालीलपैकी कोणता पदार्थ हा नैसर्गिकरित्या आढळणारा खाद्य रंगक आहे?

- (1) फास्ट ग्रीन FCF (2) लायकोपीन
 (3) इंडिगो कार्माइन (4) अझोरुबिन

3. भारतीय संविधानात नमूद केलेल्या संसदीय प्रणालीला असे देखील ओळखले जाते.

- (1) सरकारचे वेस्टमिन्स्टर मॉडेल
 (2) सरकारचे अध्यक्षीय मॉडेल
 (3) सरकारचे पाश्चात्य मॉडेल
 (4) सरकारचे ऑस्टिन मॉडेल

4. अरवली पर्वतरांग कोणत्या राज्यांच्या/केंद्रशासित प्रदेशांच्या समुहादरम्यान पसरलेली आहे?

- (1) ओडिशा, छत्तीसगड आणि झारखंड
 (2) राजस्थान, हरियाणा, दिल्ली आणि गुजरात
 (3) मध्यप्रदेश, महाराष्ट्र आणि गुजरात
 (4) उत्तराखंड, हिमाचल प्रदेश आणि पंजाब

5. स्तंभ I मधील मंदिरांची स्तंभ II मधील त्यांच्या संबंधित राज्याशी जोडी जुळवा.

	स्तंभ-I (मंदिर)		स्तंभ- II (संबंधित राज्य)
(1)	बृहदेश्वर मंदिर	(a)	ओडिशा
(2)	दिलवाडा मंदिर	(b)	तामिळनाडू
(3)	लिंगराज मंदिर	(c)	कर्नाटक

(4)	हंपी येथील स्मारकांचा समूह	(d)	राजस्थान
-----	----------------------------	-----	----------

- (1) 1-b, 2-d, 3-a, 4-c (2) 1-c, 2-d, 3-a, 4-b
 (3) 1-b, 2-a, 3-c, 4-d (4) 1-a, 2-c, 3-b, 4-d

6. MS-वर्डमधील सर्व डॉक्युमेंटमध्ये कोणता डीफॉल्ट फाइल एक्सटेंशन असतो?

- (1) .word (2) .docx
 (3) .txts (4) .docs

7. नेतृत्व विकासासाठी ज्ञान, साधने आणि तंत्रे प्रदान करून 18 वर्षे ते वर्षे वयोगटातील अल्पसंख्याक महिलांना सक्षम करणे आणि त्यांचा आत्मविश्वास वाढवणे हा 'नई रोशनी' या योजनेचा उद्देश आहे.

- (1) 60 (2) 65
 (3) 50 (4) 55

8. हरितद्रव्याच्या बहुतेक रेणूंमध्ये खालीलपैकी कोणत्या धातूचे आयन असतात?

- (1) Mg²⁺ (2) Zn²⁺
 (3) Cu²⁺ (4) Fe²⁺

9. भारतीय राष्ट्रीय काँग्रेसची स्थापना मध्ये झाली.

- (1) 1858 (2) 1863
 (3) 1885 (4) 1887

10. खालीलपैकी कोणत्या संघटनेने 16 ऑगस्ट 1946 रोजी 'प्रत्यक्ष कृती दिन' साजरा केला?

- (1) ऑल इंडिया मुस्लिम लीग
 (2) स्वराज्य पक्ष
 (3) हिंदुस्तान सोशलिस्ट रिपब्लिकन असोसिएशन
 (4) भारतीय राष्ट्रीय काँग्रेस

11. अंतर्गत, माहिती मिळविण्यासाठीचे शुल्क रू. 10/- आहे.

- (1) माहितीचा अधिकार (RTI) अधिनियम, 2005
 (2) नागरी सेवा अधिनियम, 2005
 (3) स्वातंत्र्याचा हक्क अधिनियम, 2010
 (4) राष्ट्रीय मानवाधिकार अधिनियम, 2015

1. **Wajahath Habibullah was the:**
 - (1) first chief information commissioner of India
 - (2) first chief election commissioner of India
 - (3) first chief vigilance commissioner of India
 - (4) first chief justice of India
2. **जागतिक पाणथळ प्रदेश दिनानिमित्त (2 फेब्रुवारी 2022), कोणत्या जैवविविधता उद्यानाला भारतातील पहिले 'अन्य प्रभावी क्षेत्र-आधारित संवर्धन उपाययोजनांचे (OECM) स्थान म्हणून घोषित करण्यात आले?**
 - (1) नोकरेक जैवविविधता उद्यान
 - (2) पंचमढी जैवविविधता उद्यान
 - (3) अरवली जैवविविधता उद्यान
 - (4) नंदादेवी जैवविविधता उद्यान
3. **According to Census of India 2011, which state has the highest Scheduled Caste population of India?**
 - (1) Tamil Nadu (2) Telangana
 - (3) Rajasthan (4) Uttar Pradesh
4. **What is the shortcut for 'save as file' in a spreadsheet?**
 - (1) F1 (2) F3 (3) F12 (4) F5
5. **Ramakrishan Mission was founded in 1897 by who was a disciple of Ramakrishna Paramhansa.**
 - (1) Keshab Chandra Sen
 - (2) Ishwar Chandra Vidyasagar
 - (3) Dayananda Saraswati
 - (4) Swami Vivekananda
6. **Which of the following national parks in India is known for its population of the One-Horned Rhinoceros?**
 - (1) Ranthambore National Park
 - (2) Kanha National Park
 - (3) Kaziranga National Park
 - (4) Bandipur National Park
7. **Which island serves as the capital of Lakshadweep?**
 - (1) Bangaram Island (2) Kavaratti Island
 - (3) Minicoy Island (4) Agatti Island
8. **More than half of the mass of chromatin is due to:**
 - (1) protein (2) DNA
 - (3) fibre (4) RNA
9. **In, the British East India Company annexed Assam as a result of the Treaty of Yandaboo.**
 - (1) 1826 (2) 1828 (3) 1824 (4) 1830
10. **Which Indian was honoured with the UN Environment Programme's 2022 Champions of the Earth award in the Entrepreneurial Vision category?**
 - (1) Dr. Purnima Devi Barman
 - (2) Ravi Kumar Sagar
 - (3) Ramesh Pokhriyal Nishank
 - (4) Narendra Modi
11. **The book titled 'Sachin@50: Celebrating a Maestro', which was released in April 2023, was written by**
 - (1) Sachin Bajaj (2) Ramachandra Guha
 - (3) Boria Majumdar (4) Anindya Dutta
12. **"Every blow aimed at me is a nail in the coffin of British Imperialism". These are the words of whom among the following national leaders of India?**
 - (1) Motilal Nehru (2) Subhas Chandra Bose
 - (3) Lala Lajpat Rai (4) Bal Gangadhar Tilak
13. **कलम 5 अंतर्गत नोंदणी करून भारतीय नागरिकत्व मंजूर करण्यासाठीचा अर्ज हा अर्जदार ज्या क्षेत्रातील रहिवासी आहे, त्याचे यांच्याकडे सादर करणे आवश्यक आहे.**
 - (1) मुख्य विकास अधिकारी (2) जिल्हाधिकारी
 - (3) उपायुक्त (4) जिल्हा विकास अधिकारी

पेपर क्र. - 13	1 - 1	2 - 3	3 - 4	4 - 3	5 - 4	6 - 3	7 - 2	8 - 1	9 - 1	10 - 1	11 - 3
	12 - 3	13 - 2									

1. खालीलपैकी कोण, मुख्य माहिती आयुक्त आणि इतर माहिती आयुक्तांची निवड करणाऱ्या समितीत समाविष्ट असतात ?
 (i) भारताचे पंतप्रधान
 (ii) सर्वोच्च न्यायालयाचे मुख्य न्यायाधीश.
 (iii) लोकसभेतील विरोधी पक्षनेते.
 (iv) पंतप्रधानांनी नामनिर्देशित केलेला एक केंद्रीय कॅबिनेट मंत्री
 (1) i, iii आणि iv (2) i, ii आणि iv
 (3) ii, iii आणि iv (4) i, ii आणि iii
2. थारचे वाळवंट हे खालीलपैकी कोणत्या पर्वतरांगेच्या पश्चिमेकडे आहे ?
 (1) सातपुडा (2) अरवली
 (3) पश्चिम घाट (4) पूर्व घाट
3. किण्व हा कोणत्या प्रकारचा सूक्ष्मजीव आहे ?
 (1) जीवाणू (2) कवक
 (3) परजीवी (4) विषाणू
4. 1919 मध्ये रौलट कायदा मंजूर झाला, तेव्हा खालीलपैकी कोण भारताचे व्हाईसरॉय होते ?
 (1) लॉर्ड चेम्सफोर्ड (2) दुसरा लॉर्ड हार्डिंग
 (3) दुसरा लॉर्ड मिंटो (4) लॉर्ड रिडिंग
5. जुलै 2022 मध्ये, खालीलपैकी कोणत्या शहराने भारतातील पहिले ई-वेस्ट इको पार्क उभारले ?
 (1) दिल्ली (2) कोलकाता
 (3) गुरुग्राम (4) गाझियाबाद
6. मध्ये, पुरुषांना राष्ट्रीय प्रचारक म्हणून भारताच्या सेवेत स्वतःला झोकून देण्याचे प्रशिक्षण देण्याच्या उद्देशाने आणि सर्व घटनात्मक मार्गानी भारतीय जनतेच्या राष्ट्रीय हिताचा प्रचार करण्यासाठी 'भारत सेवक समाजाची' स्थापना करण्यात आली होती.
 (1) 1917 (2) 1900
 (3) 1905 (4) 1885
7. खालीलपैकी कोणती योग्य जुळणी आहे ?
 (1) केशवचंद्र सेन : भारतीय ब्राह्मो समाज

- (2) दयानंद सरस्वती : प्रार्थना समाज
 (3) देवेंद्रनाथ टागोर : आदि ब्राह्मो समाज
 (4) महात्मा ज्योतिबा फुले : सत्यशोधक समाज
8. एप्रिल 2023 मध्ये, 'नाथू ला' जवळ हिमस्खलन झाले. नाथू ला खालीलपैकी कोणत्या भारतीय राज्यात आहे ?
 (1) उत्तराखंड (2) अरुणाचल प्रदेश
 (3) हिमाचल प्रदेश (4) सिक्कीम
9. मार्च 2023 मध्ये गुरुग्राम, हरियाणा येथे कार्मिक आणि प्रशिक्षण विभागाने (DoPT) आयोजित केलेल्या G20 च्या पहिल्या भ्रष्टाचार विरोधी कार्यगट बैठकीचे (ACWG) उद्घाटन खालीलपैकी कोणी केले ?
 (1) गिरीराज सिंह (2) कैलाश चौधरी
 (3) डॉ. जितेंद्र सिंह (4) पशुपती कुमार पारस
10. सुक्रोजला सहसा म्हणून ओळखले जाते.
 (1) पेप्टाइड (2) मीठ
 (3) ग्लुकोज (4) साखर
11. मध्ये अखिल भारतीय ट्रेड युनियन काँग्रेसची स्थापना झाली.
 (1) 1918 (2) 1916
 (3) 1920 (4) 1914
12. 1884 मध्ये पुण्यात बाळ गंगाधर टिळक यांच्यासह खालीलपैकी कोणी डेक्कन एज्युकेशन सोसायटी स्थापन केली ?
 (1) केशवचंद्र सेन (2) गोपाळ कृष्ण गोखले
 (3) गोपाळ गणेश आगरकर (4) दादाभाई नौरोजी
13. भ्रष्टाचार रोखण्यासाठी जागरूक नागरिक आणि माहितीची पारदर्शकता अत्यावश्यक आहे, असे RTI अधिनियमाच्या कोणत्या भागामध्ये म्हटले गेले आहे ?
 (1) कलम 3 (2) कलम 1
 (3) कलम 2 (4) RTI अधिनियमाची प्रस्तावना
14. कोणती ई-गव्हर्नन्स सेवा ही व्यक्तींना त्यांच्या हरवलेल्या किंवा खराब झालेल्या पासपोर्टची दुसरी प्रत (डुप्लिकेट) मिळवण्यास किंवा पुन्हा जारी करण्यासाठी अर्ज करण्यास सक्षम करते ?
 (1) तालुका कार्यालय (2) ई-हॉस्पिटल
 (3) पासपोर्ट सेवा (4) रेल्वे आरक्षण

पेपर क्र. - 14	1 - 1	2 - 2	3 - 2	4 - 1	5 - 1	6 - 3	7 - 2	8 - 4	9 - 3	10 - 4	11 - 3
	12 - 3	13 - 4	14 - 3								

15. मित्रतायुक्त पोलिसी व्यवहाराच्या (friendly policing) व्यापक संकल्पनेत महिलांसाठी पूर्णपणे सुरक्षित आणि सुनिश्चित वातावरण प्रदान करण्याच्या दृष्टीकोनासह येथे 'SHE टीम' सुरू करण्यात आली.

- (1) दिल्ली (2) मुंबई (3) कोलकाता (4) हैदराबाद

16. निवासी गृहनिर्माण संस्थेच्या सफाई कर्मचाऱ्यांना कोणते मूलभूत कर्तव्य लागू होते?

गृहनिर्माण संस्थेचा परिसर स्वच्छ करत असताना, एकाने इतर कर्मचाऱ्यांना 'विशिष्ट धर्माचे लोक नेहमीच जागा घाण करतात' अशी टिप्पणी केली.

- (1) देशाचे रक्षण करणे आणि राष्ट्रसेवा करणे
(2) समृद्ध सांस्कृतिक वारसा आणि संस्कृतीचे संरक्षण
(3) उदात्त आदर्श जोपासणे आणि त्यांचे पालन करणे
(4) सामंजस्य आणि समान बंधुत्वाच्या भावनेला प्रोत्साहन देणे

17. खालीलपैकी कोणते भारतीय संविधानाचे वैशिष्ट्य नाही?

- (1) सरकारचे संसदीय स्वरूप
(2) स्वतंत्र न्याययंत्रणा
(3) राज्यांसाठी स्वतंत्र राज्यघटना
(4) एकल नागरिकत्व

18. ट्रान्सपरन्सी इंटरनॅशनलने जारी केलेल्या 2022 च्या भ्रष्टाचार धारणा निर्देशंकांमध्ये भारत क्रमांकावर आहे.

- (1) 85 व्या (2) 82 व्या (3) 84 व्या (4) 83 व्या

19. अलकनंदा आणि भागीरथी नद्यांच्या संगमामुळे भारतातील कोणती प्रमुख नदी निर्माण होते?

- (1) कृष्णा (2) गोदावरी (3) नर्मदा (4) गंगा

20. बेहरामजी एम. मल्लाबारी हे चे महान पारशी समाजसुधारक मानले जातात.

- (1) 19 वे शतक (2) 18 वे शतक
(3) 20 वे शतक (4) 21वे शतक

21. एप्रिल 2023 मध्ये खालीलपैकी कोणत्या भारतीय क्रिकेटपटूला मेरीलिबॉन क्रिकेट क्लब (MCC), लंडन याचे मानद आजीवन सदस्यत्व बहाल करण्यात आले?

- (1) महेंद्रसिंह धोनी आणि युवराज सिंह
(2) महेंद्रसिंह धोनी आणि हरभजन सिंह
(3) महेंद्रसिंह धोनी आणि वीरेंद्र सेहवाग
(4) युवराज सिंह आणि वीरेंद्र सेहवाग

22. क्रीम ऑफ टार्टर (Cream of tartar) ही स्वयंपाकघरात अनेक प्रकारे उपयुक्त आहे. क्रीम ऑफ टार्टरचे रासायनिक सूत्र काय आहे?

- (1) $\text{HOOC-CH(OH)-CH(OH)COO}^+\text{k}^+$
(2) $+ \text{K-OOC-CH(OH)-CH(OH) COO}^+\text{k}^+$
(3) $\text{HOOC-CH(OH)COO}^+\text{k}^+$
(4) $\text{HOOC-CH(OH)-CH(OH)COOH}$

23. भारत सरकारने 'मध्यान्ह भोजन योजना (मिड डे मिल स्कीम)' कोणत्या वर्षी आरंभ केली होती?

- (1) 1993 (2) 1991 (3) 1995 (4) 1997

24. खालीलपैकी कोणत्या आंतरराष्ट्रीय संस्थेचे मुख्यालय भारतात आहे?

- (1) ब्रिक्स (BRICS) बँक (2) आंतरराष्ट्रीय सौर युती
(3) आशियाई विकास बँक (4) राष्ट्रीय विकास बँक

25. खालीलपैकी कोणत्या समितीने, भारतीय संविधानात, भारतीय नागरिकांच्या मूलभूत कर्तव्यांवर एक नवीन भाग समाविष्ट करण्याची शिफारस केली.

- (1) स्वरण सिंघ समिती (2) मुन्नार समिती
(3) बलवंत सिंघ समिती (4) सरकारिया समिती

15

Date - 01/09/2023

वेळ : 12 : 30 AM - 02 : 30 AM

1. फळांची गोड चव ही त्यातील च्या अस्तित्वामुळे असते.

- (1) लॅक्टोज (2) फ्रुक्टोज
(3) गॅलेक्टोज (4) ग्लूकोज

2. 'इंडिया डिव्हायडेड (1946)' चे लेखक खालीलपैकी कोण आहेत?

- (1) बी. आर. आंबेडकर (2) राजेंद्र प्रसाद
(3) जवाहरलाल नेहरू (4) सरोजिनी नायडू

3. भूस्खलनाच्या घटनांमुळे कधीकधी बातम्यांमध्ये दिसून येणारे जोशीमठ हे भारतातील खालीलपैकी कोणत्या राज्यात आहे?

- (1) अरुणाचल प्रदेश (2) उत्तराखंड
(3) सिक्कीम (4) हिमाचल प्रदेश

4. राष्ट्रीय आपत्ती निवारण दल (NDRF) द्वारे 2022 च्या आपत्ती निवारण क्षमता वाढीच्या वार्षिक परिषदेचे आयोजन करण्यात आले होते. ते दिल्लीमधील विज्ञान भवनात झाले, तेव्हा खालीलपैकी कोण हे प्रमुख पाहुणे म्हणून तेथे उपस्थित होते?

- (1) अमित शहा (2) रामनाथ कोविंद
(3) द्रौपदी मुर्मू (4) नरेंद्र मोदी

पेपर क्र. - 14	15 - 4	16 - 4	17 - 3	18 - 1	19 - 4	20 - 1	21 - 1	22 - 1	23 - 3	24 - 2	25 - 1
पेपर क्र. - 15	1 - 2	2 - 2	3 - 2	4 - 1							

18. दख्खनच्या पठाराचा योग्य आकार खालीलपैकी कोणता आहे?

- (1) चौरस (2) त्रिकोणी
(3) वर्तुळाकार (4) षटकोनी

19. मार्च 1784 मध्ये ब्रिटीश ईस्ट इंडिया कंपनीने कोणासोबतच्या मंगळूरच्या तहावर स्वाक्षरी करून दुसऱ्या अँग्लो-म्हैसूर युद्धाची समाप्ती केली?

- (1) हैदर अली (2) सिराजुद्दौला
(3) वाजिद अली शाह (4) टिपू सुलतान

20. शेष भारत (रेस्ट ऑफ इंडिया) संघाने 2022-23 ची इराणी ट्रॉफी जिंकली. ही ट्रॉफी खालीलपैकी कोणत्या खेळाशी संबंधित आहे?

- (1) क्रिकेट (2) फुटबॉल
(3) हॉकी (4) बॅडमिंटन

21. समाजसुधारक ज्योतिबा फुले यांच्याविषयी खालील विधाने विचारात घ्या.

- (1) त्यांनी 1873 मध्ये सत्यशोधक समाजाची स्थापना केली.
(2) 'सार्वजनिक सत्य धर्म' आणि 'गुलामगिरी ही ज्योतिबा फुले यांची कार्ये आहेत.
(3) फक्त 1
(4) 1 आणि 2 दोन्ही
(5) 1 किंवा 2 पैकी एकही नाही
(6) फक्त 2

22. राष्ट्रपती हे नवनियुक्त यांना पदाची शपथ देतात.

- (1) मुख्यमंत्री
(2) राज्यांचे कॅबिनेट मंत्री
(3) मुख्य माहिती आयुक्त (CIC)
(4) सीबीआय (CBI) प्रमुख

23. विंडोज 10 हे विंडोजच्या कोणत्या पॅमिलीतील आहे?

- (1) विंडोज AP (2) विंडोज 7X
(3) विंडोज NET (4) विंडोज NT

24. कोणता मूलभूत हक्क हा सार्वजनिक रोजगाराच्या बाबतीत धर्म किंवा वंशावर आधारित कोणत्याही प्रकारच्या भेदभावाला प्रतिबंध करतो?

- (1) अनुच्छेद 17 (2) अनुच्छेद 16(2)
(3) अनुच्छेद 15(2) (4) अनुच्छेद 18(2)

25. प्रखर प्रकाशाच्या संपर्कात आल्याने, हरितद्रव्याच्या (chlorophyll) रासायनिक संरचनेचे अवक्रमण (degrades)

होते, तेव्हा त्याला असे म्हणतात.

- (1) प्रकाश ऑक्सिडन (photooxidation)
(2) प्रकाशीय श्वसन (photorespiration)
(3) प्रकाशफॉस्फोरिलन (photophosphorylation)
(4) प्रकाश अपघटन (photolysis)

16

Date - 01/09/2023

वेळ : 4 : 30 AM - 6 : 30 AM

1. झेलम नदी भारतातील कोणत्या केंद्रशासित प्रदेशातून वाहते?

- (1) जम्मू आणि काश्मीर
(2) अंदमान आणि निकोबार बेटे
(3) लक्षद्वीप
(4) पुदुच्चेरी

2. संगणकातील इनपुट डिव्हाईसचे मुख्य कार्य कोणते आहे?

- (1) संगणकाला डेटा पुरवणे
(2) डेटावर प्रक्रिया करणे
(3) संगणकावरून डेटा प्राप्त करणे
(4) प्रक्रियेसाठी डेटा संग्रहित करणे

3. खालीलपैकी कोणत्या भारतीय क्रिकेटपटूला विस्डेन अल्मॅनॅक (Wisden Almanack) च्या 2023 च्या आवृत्तीत, 'लीडिंग ट्वेंटी-20 क्रिकेटर ऑफ द इयर' हा सन्मान बहाल केला गेला?

- (1) शुभमन गिल (2) सूर्यकुमार यादव
(3) के. एल. राहुल (4) रोहित शर्मा

4. 'सत्यार्थ प्रकाश' (सत्याचा प्रकाश) ही खालीलपैकी कोणत्या समाजसुधारकाची सर्वोत्कृष्ट कृती आहे?

- (1) ईश्वरचंद्र विद्यासागर (2) स्वामी विवेकानंद
(3) रामकृष्ण परमहंस (4) स्वामी दयानंद सरस्वती

5. कल्लानाई (Kallanai) 'ग्रँड अनाईकट' (Grand Anicut) म्हणूनही ओळखले जात असून ते भारतात बांधले गेलेले पहिले धरण होते. खालीलपैकी कोणत्या नदीवर हे धरण बांधण्यात आले होते?

- (1) गोदावरी (2) कृष्णा
(3) महानदी (4) कावेरी

6. भारतीय राज्यघटनेत मूलभूत कर्तव्ये कोणत्या वर्षी समाविष्ट करण्यात आली?

- (1) 1976 (2) 1978
(3) 1975 (4) 1977

पेपर क्र. - 15	18 - 2	19 - 4	20 - 1	21 - 3	22 - 3	23 - 4	24 - 2	25 - 1			
पेपर क्र. - 16	1 - 1	2 - 1	3 - 2	4 - 4	5 - 4	6 - 1					

20. 1923 मध्ये स्वराज्य पक्षाची स्थापना झाली आणि हे त्या पक्षाचे अध्यक्ष आणि मोतीलाल नेहरू हे सचिव बनले.

- (1) चंद्रशेखर आझाद (2) चित्तरंजन दास
(3) जवाहरलाल नेहरू (4) सुभाषचंद्र बोस

21. Which of the following cells contain multiple nuclei?

- (1) Red blood cells (2) Platelets
(3) Muscle cells (4) Nerve cells

22. 2023 मधील भारताच्या G-20 अध्यक्षपदाची विषयवस्तू (theme) आहे.

- (1) एक पृथ्वी, एक भविष्य
(2) एक पृथ्वी, एक कुटुंब
(3) एक पृथ्वी, एक कुटुंब, एक भविष्य
(4) एक पृथ्वी, एक कुटुंब, एक भविष्य आणि एक जीवन आहे.

23. खालीलपैकी कोणत्या समाजसुधारकाने अस्पृश्यता आणि जातिवाद या दोन्हींना आव्हान देणारे, 'सुधारक' हे वृत्तपत्र सुरू केले?

- (1) गोपाळ हरी देशमुख (2) ज्योतिबा फुले
(3) गोपाळ गणेश आगरकर (4) दयानंद सरस्वती

24. NaHCO₃ हे सहसा स्वयंपाकघरात म्हणून वापरले जाते.

- (1) धुण्याचा सोडा (2) चुना सोडा
(3) क्रीम ऑफ टार्टर (4) बेकिंग सोडा

25. भारताची जनगणना (2021) किती भाषांमध्ये आयोजित केली जाईल?

- (1) 16 (2) 17 (3) 15 (4) 22

17

Date - 04/09/2023

वेळ : 09 : 00 AM - 11 : 00 AM

1. Which of the following statement is correct regarding angiosperms?

- (I) The angiosperms are plants in which the ovules are not enclosed by any ovary wall and remain exposed, both before and after fertilisation.
(II) Angiosperms are also called flowering plant.
(1) Only II (2) Only I
(3) Both I and II (4) Neither I nor II

2. खेळाडू - खेळ याची खालीलपैकी कोणती जोडी योग्यरीत्या जुळवलेली आहे?

- (I) मुरली श्रीशंकर-डिस्कस थ्रो
(II) नीरज चोप्रा - भालाफेक
(1) I आणि II दोन्ही (2) फक्त I
(3) फक्त II (4) I किंवा II पैकी एकही नाही

3. महाराष्ट्र माहितीचा अधिकार अधिनियम, 2005 कोणत्या महिन्यात लागू झाला?

- (1) डिसेंबर, 2005 (2) नोव्हेंबर, 2005
(3) सप्टेंबर, 2005 (4) ऑक्टोबर, 2005

4. Which of the following is options CORRECTLY matched

Generations of Microprocessor Chip type

- (A) Second (1) SLSI
(B) Fourth (2) LSI
(C) Fifth (3) VLSI
(1) A) 2, B) 1 and C) 3
(2) A) 1, B) 3 and C) 2
(3) A) 3, B) 2 and C) 1
(4) A) 2, B) 3 and C) 1

5. Which of the following statement is correct?

- (I) The plasma membrane is flexible and is made up of organic molecules called lipids and proteins.
(II) Absorption of water by plant roots is also an example of diffusion.
(1) Only I (2) Neither I nor II
(3) Only II (4) Both I and II

6. परख (PARAKH) (राष्ट्रीय मूल्यांकन केंद्र) बाबत खालीलपैकी कोणते विधान बरोबर आहे?

- (I) परख ही UGC अंतर्गत येणारी संस्था म्हणून स्थापन करण्यात आली आहे.
(II) ती राज्ये आणि केंद्रशासित प्रदेशांमधील शालेय शिक्षण मंडळांना एका समान व्यासपीठावर आणण्याचे कार्य करेल.
(1) फक्त II
(2) फक्त I
(3) I किंवा II पैकी एकही नाही
(4) I आणि II दोन्ही

पेपर क्र. - 16	20 - 2	21 - 3	22 - 3	23 - 3	24 - 4	25 - 1				
पेपर क्र. - 17	1 - 1	2 - 3	3 - 4	4 - 4	5 - 1	6 - 1				

24. धोंडो केशव कर्वे यांनी विधवा विवाह संघाची स्थापना कोणत्या वर्षी केली?

- (1) 1893 (2) 1898
(3) 1890 (4) 1895

25. भारतीय राज्यघटनेच्या संदर्भात 'अनुच्छेद- तरतूद' यांची खालीलपैकी कोणती जोडी योग्यरीत्या जुळवलेली आहे?

- (I) अनुच्छेद 14 कायद्यापुढे समानता
(II) अनुच्छेद 18 अस्पृश्यता निर्मूलन
(1) फक्त I
(2) फक्त II
(3) I किंवा II पैकी एकही नाही
(4) I आणि II दोन्ही

18

Date - 04/09/2023

वेळ : 12 : 30 AM - 2 : 30 AM

1. दीनदयाळ स्पर्श (SPARSH) योजनेबाबत खालीलपैकी कोणते विधान बरोबर आहे?

- (I) शाळकरी मुलांसाठी हा भारतभरासाठीचा शिष्यवृत्ती कार्यक्रम आहे.
(II) दळणवळण मंत्रालयाने डाकमुद्राविद्येचा (फिलाटली) आवाका वाढवण्यासाठी हे सुरू केले होते.
(1) फक्त II (2) I किंवा II पैकी एकही नाही
(3) I आणि II दोन्ही (4) फक्त I

2. ने हडपनीती (Doctrine of Lapse) तयार केली होती.

- (1) लॉर्ड हार्डिंज (2) लॉर्ड कॅनिंग
(3) लॉर्ड डलहौसी (4) लॉर्ड हेस्टिंग्ज

3. आर्थोपोडा प्रसृष्टीच्या संदर्भात खालीलपैकी कोणते विधान बरोबर आहे?

- (I) ही प्राण्यांची सर्वात मोठी प्रसृष्टी आहे, ज्यामध्ये कीटकांचा समावेश होतो.
(II) हे प्राणी द्विपार्श्व सममितीय आणि ट्रिप्लोब्लास्टिक आहेत.
(1) फक्त I (2) I किंवा II पैकी एकही नाही
(3) I आणि II दोन्ही (4) फक्त II

4. भारतीय राज्यघटनेचा अनुच्छेद 23 खालीलपैकी कोणत्या तरतुदीशी संबंधित आहे?

- (1) मानवी तस्करी आणि सक्तीची मजुरी यांवर बंदी

- (2) सार्वजनिक रोजगाराच्या बाबतीत संधीची समानता
(3) धर्म, वंश, जात, लिंग किंवा जन्मस्थान या आधारे भेदभाव करण्यास मनाई
(4) जीवन आणि वैयक्तिक स्वातंत्र्याचे संरक्षण

5. खालीलपैकी कोणत्या संघाने राष्ट्रीय खेळ 2022 मध्ये सर्वाधिक पदके जिंकली?

- (1) सर्व्हिसेस स्पोर्ट्स कंट्रोल बोर्ड (2) महाराष्ट्र
(3) गुजरात (4) हरियाणा

6. कॉम्प्युटर मेमरीबाबत खालीलपैकी कोणते विधान चुकीचे आहे?

- (1) रॅम (RAM) स्थायी आहे, तर रॉम (ROM) अस्थायी आहे.
(2) रॅम (RAM) ही सेकंडरी स्टोरेजपेक्षा वेगवान असते, परंतु कॉम्प्युटर प्रोसेसरपेक्षा वेगवान नसते.
(3) प्रोसेसर करण्यापूर्वी, प्रोग्राम आणि डेटा प्रायमरी मेमरीमध्ये लोड केला जातो.
(4) उझण च्या ऑपरेशन्सला गती देण्यासाठी, उझण आणि कॅशे म्हणून ओळखल्या जाणारी प्रायमरी मेमरी यांच्यादरम्यान एक अतिशय वेगवान मेमरी ठेवली जाते.

7. खालीलपैकी कोणती नदी ही कावेरी नदीची उपनदी नाही?

- (1) हेमावती (2) अमरावती (3) कबिनी (4) तुंगभद्रा

8. खालीलपैकी कोणी ज्योतिराव फुले यांच्या दलित वर्गाला शिक्षण देऊन त्यांना स्वातंत्र्य मिळवून देण्याच्या कार्याची ओळख करून घेतली आणि त्यांच्या सत्यशोधक समाजात सामील झाले?

- (1) लहुजी वस्ताद (2) गोदावरी परुळेकर
(3) बाबू शेडमाके (4) माधवराव बागल

9. फेब्रुवारी 2023 मध्ये, भारतातील 11 राज्ये आणि केंद्रशासित प्रदेशांमध्ये टक्के इथेनॉल मिश्रित पेट्रोल आणले गेले.

- (1) 20 (2) 15 (3) 25 (4) 30

10. सर्व वनस्पती व प्राणी हे पेशींपासून बनलेले आहेत आणि पेशी हे जीवनाचे मूलभूत एकक आहे, असा पेशी सिद्धांत खालीलपैकी कोणत्या जीवशास्त्रज्ञाने मांडला?

- (I) एम. श्लीडन
(II) टी. श्वान
(1) I किंवा II पैकी एकही नाही
(2) फक्त II
(3) फक्त I
(4) I आणि II दोन्ही

पेपर क्र. - 17	24 - 1	25 - 1									
पेपर क्र. - 18	1 - 1	2 - 3	3 - 3	4 - 1	5 - 2	6 - 1	7 - 4	8 - 1	9 - 1	10 - 4	

1. As per Census 2011, growth rate of population of India in the decade 2001-2011 was _____
 (1) 19.3 percent (2) 15.5 percent
 (3) 17.7 percent (4) 24.6 percent
2. Who was the Governor General of India when the Permanent Settlement was introduced?
 (1) Warren Hastings (2) William Bentinck
 (3) Thomas Munro (4) Charles Cornwallis
3. As of June 2023, which of the following wildlife sanctuary has been made completely free from any human settlement?
 (1) Sohagi Barwa Wildlife Sanctuary
 (2) Pangolakha Wildlife Sanctuary
 (3) Lothian Island Wildlife Sanctuary
 (4) Debrigarh Wildlife Sanctuary
4. As per Census 2011, which among the following states has the male literacy rate above 90 percent?
 (1) Uttarakhand (2) Manipur
 (3) Mizoram (4) Karnataka
5. The Ramakrishna Mission was set up in _____
 (1) 1883 (2) 1897
 (3) 1867 (4) 1864
6. Which of the following statement/s is/are correct regarding the Preamble of the Indian Constitution?
 I. As on May 2022, Preamble of the Indian Constitution has been amended only once.
 II. The word 'Republic' in the Preamble of the Indian Constitution was added in 1976
 (1) Only II (2) Neither I nor II
 (3) Both I and II (4) Only I
7. Pradhan Mantri Vaya Vandana Yojana provides an assured return of _____ percent per annum for 10 years.
 (1) 15 (2) 12 (3) 8 (4) 5
8. _____ is the administrative headquarter of Lakshadweep.
 (1) Amindive (2) Kavartti
 (3) Minicoy (4) Laccadive
9. Who among the following published a book, Stripurushtulna, (A Comparison between Women and Men), criticising the social differences between men and women?
 (1) Pandita Ramabai (2) Tarabai Shinde
 (3) Vinoba Bhave (4) Jyotirao Phule
10. Which of the following statement is correct?
 I. Tropical evergreen forest grows well in areas having more than 200 cm rainfall.
 II. The thorn forests are found in regions with 70 cm to 100 cm rainfall.
 (1) Both I and II (2) Neither I nor II
 (3) Only I (4) Only II
11. Which of the following options is CORRECTLY matched
- | Excel Shortcut Key | Action |
|--------------------|-------------------|
| (A) Control+X | (1) Paste |
| (B) Control + V | (2) Undo |
| (C) Control + Z | (3) Cut |
| (1) A-3, B-1, C-2 | (2) A-2, B-1, C-3 |
| (3) A-1, B-3, C-2 | (4) A-3, B-2 C-1 |
12. Which of the following statements is correct about Tantia Tope?
 I. He was the general of Nana Saheb.
 II. He was defeated and killed in June 1858.
 (1) Only II (2) Both I and II
 (3) Only I (4) Neither I nor II
13. Who was the writer of the book Poverty and Un-British Rule in India'?
 (1) Dadabhai Naoroji (2) Bhimrao Ambedkar
 (3) Bal Gangadhar Tilak (4) Mahatma Gandhi

पेपर क्र. - 19	1 - 3	2 - 4	3 - 4	4 - 3	5 - 2	6 - 4	7 - 3	8 - 2	9 - 2	10 - 3	11 - 1
	12 - 3	13 - 1									

1. 2011 च्या जनगणनेनुसार, खालीलपैकी कोणत्या राज्याच्या शहरी भागातील लिंग गुणोत्तर सर्वाधिक आहे?
 - (1) मध्यप्रदेश (2) बिहार
 - (3) गोवा (4) मेघालय
2. 'झाडे ते जिथे सापडतात त्या जंगलांचा प्रकार' यांचे खालीलपैकी कोणते संयोजन योग्य नाही?
 - (1) साग - उष्णकटिबंधीय पानझडी जंगले
 - (2) अगर पर्वतीय जंगले
 - (3) रोझवुड - उष्णकटिबंधीय सदाहरित जंगले
 - (4) बाभूळ काटेरी जंगले
3. प्रार्थना समाजाची स्थापना मध्ये झाली.
 - (1) 1867 (2) 1864
 - (3) 1883 (4) 1897
4. खालीलपैकी कोणते योग्यरीत्या जुळवलेले आहे?

एक्सेल शॉर्टकट की	क्रिया
(A) Ctrl+9	रो हाईड करणे (Hide Row)
(B) Shift+Spacebar	रो हायलाईट करणे (Highlight Row)
(C) Ctrl + 0	रो अनहाईड करणे (Unhide Row)
(1) A, B आणि C	(2) फक्त B आणि C
(3) फक्त A आणि B	(4) फक्त A आणि C
5. 2011 च्या जनगणनेनुसार, शीख धर्मीय समुदायाची लोकसंख्या ही भारताच्या एकूण लोकसंख्येच्या टक्के आहे.
 - (1) 3.2 (2) 1.7 (3) 2.3 (4) 1.2
6. खालीलपैकी कोणती जोडी/जोड्या योग्यरीत्या जुळवलेली/ल्या आहे/आहेत?
 - (I) अनावृत्तबीजी - यात आवरण नसलेल्या बिया असतात
 - (II) आवृत्तबीजी - फळांच्या आत बिया असतात
 - (1) फक्त II
 - (2) I किंवा II पैकी एकही नाही
 - (3) I आणि II दोन्ही
 - (4) फक्त I
7. 42 वा घटनादुरुस्ती अधिनियम 1976 द्वारे खालीलपैकी कोणता शब्द भारतीय राज्यघटनेच्या प्रस्तावनेत जोडला गेला नाही?
 - (1) प्रजासत्ताक (2) धर्मनिरपेक्ष
 - (3) समाजवादी (4) अखंडता
8. नारायण गुरु यांच्याबद्दल खालीलपैकी कोणते विधान बरोबर आहे?
 - (I) त्यांनी स्वाभिमान चळवळीची स्थापना केली.
 - (II) त्यांनी जातीभेदाच्या आधारे लोकांना दिल्या जाणाऱ्या असमान वागणुकीविरुद्ध लढा दिला.
 - (1) I आणि II दोन्ही
 - (2) फक्त I
 - (3) I किंवा II पैकी एकही नाही
 - (4) फक्त II
9. खालीलपैकी कोणती नदी ही कृष्णा नदीची उपनदी आहे?
 - (1) कोयना (2) मांजरा
 - (3) भवानी (4) कबिनी
10. खालीलपैकी कोणते विधान बरोबर आहे?
 - (I) पॉरिफेराला सामान्यपणे स्पंज म्हटले जाते.
 - (II) पॉरिफेरा हे प्रामुख्याने सागरी अधिवासात आढळतात.
 - (1) फक्त II
 - (2) I किंवा II पैकी एकही नाही
 - (3) I आणि II दोन्ही
 - (4) फक्त I
11. भारतीय राज्यघटनेच्या संदर्भात 'अनुच्छेद- तरतूद' यांची खालीलपैकी कोणती जोडी/जोड्या योग्यरीत्या जुळवलेली/ल्या आहे/आहेत?
 - (I) अनुच्छेद 29 - काही प्रकरणांमध्ये अटक आणि स्थानबद्धता यांपासून संरक्षण
 - (II) अनुच्छेद 29 - अल्पसंख्याकांच्या हिताचे संरक्षण
 - (1) I किंवा II पैकी एकही नाही
 - (2) फक्त II
 - (3) फक्त I
 - (4) I आणि II दोन्ही

1. पंतप्रधान नरेंद्र मोदी यांनी ग्लासगो येथे झालेल्या COP26 मध्ये कोणत्या वर्षी निव्वळ शून्य उत्सर्जन साध्य करण्याचे भारताचे उद्दिष्ट जाहीर केले ?
(1) 2030 (2) 2040 (3) 2070 (4) 2050
2. जगण्याच्या आणि वैयक्तिक स्वातंत्र्याच्या हक्कात खालीलपैकी कोणता हक्क समाविष्ट नाही ?
(1) हातकडी घालण्याविरोधातील हक्क
(2) गोपनीयतेचा हक्क
(3) न बोलण्याचा हक्क
(4) परदेशी प्रवास करण्याचा हक्क
3. भारतातील जनगणनेमध्ये लोकसंख्येला किती विस्तृत वयोगटांत वर्गीकृत केले जाते ?
(1) नऊ (2) पाच (3) सात (4) तीन
4. खालीलपैकी कोणत्या अनुच्छेदात अल्पसंख्याकांना त्यांच्या निवडीच्या शैक्षणिक संस्था स्थापन करण्याचा आणि त्यांचा कारभार चालवण्याचा अधिकार असल्याचे नमूद केले गेले आहे ?
(1) अनुच्छेद 32 (2) अनुच्छेद 9
(3) अनुच्छेद 31 (4) अनुच्छेद 30
5. ब्रह्मपुत्रेची उपनदी असलेली सुबनसिरी नदी ही खालीलपैकी कोणत्या भारतीय राज्यातून वाहते ?
(1) नागालँड (2) मणिपूर (3) अरुणाचल प्रदेश (4) मिझोराम
6. खालीलपैकी कोणते भारतातील उष्णतेच्या लाटेचे एक कारण नाही ?
(1) जागतिक तापमानवाढ (2) शहरीकरण
(3) एल निनो (4) ला निना
7. पंतप्रधानांनी भारतीय कृषी संशोधन संस्था, _____ येथे PM किसान भारत सन्मान संमेलन 2022 चे उद्घाटन केले, ?
(1) चैन्नई (2) नवी दिल्ली (3) अहमदाबाद (4) मुंबई
8. हे पद माहिती अधिकार अधिनियमामुळे निर्माण झाले.
(1) राज्य दक्षता आयुक्त (2) लोकपाल
(3) राज्याचे वित्त आयुक्त (4) केंद्रीय माहिती आयुक्त
9. खालीलपैकी कोणती विधाने केंद्रीय सार्वजनिक माहिती अधिकारी (CPIO) बाबत अचूक आहेत ?
(a) CPIO त्याची किंवा तिची कर्तव्ये योग्य प्रकारे पार पाडण्यासाठी इतर कोणत्याही अधिकाऱ्याची मदत घेऊ

- शकत नाही.
- (b) CPIO त्याच्या किंवा तिच्या कर्तव्यांचे योग्य पालन करण्यासाठी इतर कोणत्याही अधिकाऱ्यांची मदत घेऊ शकतो.
- (c) प्रत्येक CPIO अशा माहितीची मागणी करणाऱ्या व्यक्तींच्या विनंत्या हाताळेल आणि अशी माहिती शोधणाऱ्या व्यक्तींना रास्त मदत करेल.
- (d) 30 दिवसांच्या आत सूट न मिळाल्यास CPIO ने माहिती पुरवावी.
(1) a, b आणि c (2) a, b आणि d
(3) a, c आणि d (4) b, c आणि d
10. फौजदारी कायदा (दुरुस्ती) अधिनियम, 2018 नुसार लैंगिक अत्याचार प्रकरणांमध्ये कालबद्ध तपासाचे अन्वेषण करून त्याचा मागोवा घेण्यात राज्यांना /केंद्रशासित प्रदेशांना मदत करण्यासाठी, गृह मंत्रालयाने. मध्ये पोलिसांसाठी 'इंवेस्टिगेशन ट्रॅकिंग सिस्टम फॉर सेक्सुअल ऑफेंसेस (Investigation Tracking System for Sexual Offences)' नावाचे ऑनलाइन अॅनालिटिकल टूल सुरु केले.
(1) 2021 (2) 2022 (3) 2019 (4) 2020
11. दिवस दीर्घ असणे आणि रात्र लहान असणे हे उत्तर भारतातील कोणत्या ऋतूचे वैशिष्ट्य आहे ?
(1) हिवाळा (2) उन्हाळा (3) वसंत (4) शरद
12. 37 व्या राष्ट्रीय खेळांमध्ये (National Games) खालीलपैकी कोणती स्पर्धा अधिकृतपणे समाविष्ट करण्यात आली आहे ?
(1) क्रिकेट (2) टेबल टेनिस (3) गटका (4) मल्लखांब
13. ब्रिटीश सरकारने 1784 मध्ये संमत केलेल्या खालीलपैकी कोणत्या अधिनियमाचे वर्णन 'हाफ-लोफ सिस्टम' (half-loaf system) म्हणून देखील केले जाते ?
(1) रौलेट कायदा
(2) पिट्स इंडिया (Pitt's India) अधिनियम
(3) गुन्हेगारी जमाती अधिनियम
(4) भारतीय गुलामगिरी अधिनियम
14. खालीलपैकी कोणत्या शहरात ग्रीन इंडिया अवॉर्ड्स (ग्रीन सोसायटी ऑफ इंडियाचा एक उपक्रम) है वर्ल्ड एन्व्हायर्नमेंट एक्स्पो (5-7 जून 2023) सोबत एकाच वेळी आयोजित करण्यात आले ?
(1) इंदूर (2) हैदराबाद (3) मुंबई (4) नवी दिल्ली

पेपर क्र. - 21	1 - 3	2 - 3	3 - 4	4 - 4	5 - 3	6 - 4	7 - 2	8 - 4	9 - 4	10 - 3	11 - 2
	12 - 3	13 - 2	14 - 4								

15. 1925 मध्ये भारतीय कम्युनिस्ट पक्षाची स्थापना कोठे झाली होती?

- (1) मुंबई (2) दिल्ली (3) कानपूर (4) कोलकाता

16. खालीलपैकी कोणी 1887 मध्ये, इंडियन नॅशनल सोशल कॉन्फरन्सची स्थापना केली?

- (1) सर बी. एन. राव (2) गोपाळ कृष्ण गोखले
(3) डॉ. बी. आर. आंबेडकर (4) महादेव गोविंद रानडे

17. तिरोत सिंह खालीलपैकी कोणत्या बंडाचा नेता होता?

- (1) सिंगफोचे बंड (2) पॉलीगर्सचे बंड
(3) खासी उठाव (4) सन्यासी बंड

18. 'प्रधानमंत्री सुरक्षा विमा योजना' (PMSBY) ही वार्षिक नूतनीकरण आधारावर 1 जून ते 31 मे पर्यंतच्या कव्हेरेज कालावधीसाठी, 31 मे रोजी किंवा त्यापूर्वी ऑटो-डेबिट सक्षम करण्यास संमती देणाऱ्या, बँकापोस्ट ऑफिस खाते असलेल्या, 18 ते वयोगटातील लोकांसाठी उपलब्ध आहे.

- (1) 75 (2) 65 (3) 70 (4) 60

19. 48 तास ही याविषयी माहिती मिळविण्याची कालमर्यादा आहे.

- (1) एखाद्या व्यक्तीचे जीवन आणि रोजगार
(2) एखाद्या व्यक्तीची मालमत्ता आणि स्वातंत्र्य
(3) एखाद्या व्यक्तीची प्रतिष्ठा आणि रोजगार
(4) एखाद्या व्यक्तीचे जीवन किंवा स्वातंत्र्य

20. कोणत्या अनुच्छेदात असे नमूद केले आहे की, कोणत्याही व्यक्तीला कोणत्याही विशिष्ट धर्माच्या किंवा धार्मिक संप्रदायाच्या संवर्धनासाठी वा देखभालीसाठी कोणताही कर भरण्याची सक्ती केली जाणार नाही?

- (1) अनुच्छेद 28 (2) अनुच्छेद 25
(3) अनुच्छेद 26 (4) अनुच्छेद 27

21. शारजाह क्रिकेट स्टेडियमच्या वेस्ट स्टँड (West stand) चे नामकरण हे खालीलपैकी कोणत्या भारतीय क्रिकेटपटूच्या सन्मानार्थ करण्यात आले आहे?

- (1) अनिल कुंबळे (2) वीरेंद्र सेहवाग
(3) सौरव गांगुली (4) सचिन तेंडुलकर

22. अन्नपदार्थातील पिष्टमय पदार्थांची उपस्थिती द्वारे ओळखली जाऊ शकते.

- (1) सोडियम पायरोगलेट द्रावण

(2) बेकिंग पावडरचे द्रावण

(3) CuSO_4 द्रावण

(4) I_2 द्रावण

23. एम. जी. रानडे आणि रघुनाथ राव यांनी ची स्थापना केली.

- (1) भारतीय राजकीय परिषद
(2) भारतीय राष्ट्रीय सामाजिक परिषद
(3) भारतीय राष्ट्रीय न्यायिक परिषद
(4) भारतीय सांस्कृतिक परिषद

24. भारतात 1897 मध्ये 130 किलोवॉटचा पहिला लहान जलविद्युत प्रकल्प कोठे सुरू झाला ?

- (1) दार्जिलिंग (2) शिलाँग (3) अमृतसर (4) इंफाळ

25. खालीलपैकी कोणते फंक्शन (कार्य) ऑपरेटिंग सिस्टमद्वारे केले जाते ?

- (1) प्रोसेस मॅनेजमेंट (प्रक्रिया व्यवस्थापन)
(2) दिलेले सर्व पर्याय
(3) फाईल मॅनेजमेंट (फाईल व्यवस्थापन)
(4) सिक्युरिटी मॅनेजमेंट (सुरक्षा व्यवस्थापन)

22

Date - 05/09/2023

वेळ : 04 : 30 PM - 06 : 30 PM

1. खालीलपैकी कोणत्या राज्याने वरिष्ठ महिला राष्ट्रीय हॉकी चॅम्पियनशिप 2023 जिंकली होती?

- (1) पंजाब (2) मध्यप्रदेश
(3) हरियाणा (4) उत्तर प्रदेश

2. रोजी किंवा नंतर परंतु 10 डिसेंबर 1992 पूर्वी भारताबाहेर जन्मलेली व्यक्ती ही वंशानुसार भारताची नागरिक आहे.

- (1) 26 जानेवारी 1950 (2) 26 नोव्हेंबर 1949
(3) 26 नोव्हेंबर 1951 (4) 26 जानेवारी 1952

3. पाकिस्तानमधून भारतात स्थलांतरित झालेल्या विशिष्ट व्यक्तींच्या नागरिकत्वाचे हक्क कोणत्या अनुच्छेदात समाविष्ट आहेत ?

- (1) अनुच्छेद 6 (2) अनुच्छेद 8
(3) अनुच्छेद 7 (4) अनुच्छेद 5.

4. बी.आर.आंबेडकरांसह खालीलपैकी कोण तिन्ही गोलमेज परिषदांना उपस्थित होते ?

- (1) सचिंद्रनाथ सन्याल (2) सरदार वल्लभभाई पटेल
(3) तेजबहादूर सप्रू (4) राजेंद्र प्रसाद

पेपर क्र. - 21	15 - 3	16 - 4	17 - 3	18 - 3	19 - 4	20 - 4	21 - 4	22 - 4	23 - 2	24 - 1	25 - 2
पेपर क्र. - 22	1 - 2	2 - 1	3 - 1	4 - 3							

20. खाली नमूद केलेल्या नद्यांपैकी कोणत्या नदीमुळे शिवसमुद्रम धबधबा निर्माण होतो?

- (1) गोदावरी (2) महानदी
(3) कावेरी (4) कृष्णा

21. सगौलीचा तह हा नेपाळचे गुरखा प्रमुख आणि ब्रिटिश भारतीय सरकार यांच्यातील करार होता, ज्यावर मध्ये स्वाक्षरी करण्यात आली होती.

- (1) 1814 (2) 1812
(3) 1816 (4) 1818

22. वापरकर्त्याला ईमेल सेवा वापरण्याची परवानगी देण्यापूर्वी अनुसरल्या जाणाऱ्या प्रक्रियेचे नाव काय आहे?

- (1) (Login) (2) (Set in)
(3) (Check in) (4) (Logout)

23. महिलांची सुरक्षा, सुरक्षितता आणि सक्षमीकरण यांसाठीची एक छत्र योजना म्हणून, भारत सरकारने 'शक्ती अभियान' हा एकात्मिक महिला सक्षमीकरण कार्यक्रम सुरु केला आहे, ज्याची अंमलबजावणी 2021-22 ने या 15 व्या वित्त आयोगाच्या कालावधीत केली जाईल.

- (1) 2027-28 (2) 2029-30
(3) 2025-26 (4) 2023-24

24. विष्णू परशुराम शास्त्री पंडित यांनी कोणत्या राज्यात विधवा पुनर्विवाहाची मोहीम राबवली?

- (1) कर्नाटक (2) महाराष्ट्र
(3) तामिळनाडू (4) केरळ

25. भारतातील खालीलपैकी कोणत्या प्रदेशात उष्णकटिबंधीय सदाहरित जंगले आढळतात?

- (1) पश्चिम घाट (2) गंगेचे मैदान
(3) दख्खनचे पठार (4) थरचे वाळवंट

23

Date - 06/09/2023

वेळ : 09 : 00 AM - 11 : 00 AM

1. भारताच्या भूखलन नकाशासंग्रहात (लँडस्लाईड अँ टलसमध्ये) हिमालय आणि पश्चिम घाटातील भारतातील आणि 2 केंद्रशासित प्रदेश यांतील भूखलन प्रवण प्रदेशांचा माहितीसाठी (डेटाबेस) समाविष्ट आहे.

- (1) 11 राज्ये (2) 17 राज्ये
(3) 7 राज्ये (4) 15 राज्ये

2. व्यास (बियास) नदी ही ची उपनदी आहे.

- (1) सतलज नदी (2) गंगा नदी

- (3) गोदावरी नदी (4) ब्रह्मपुत्रा नदी

3. साउथ एशियन युथ टेबल टेनिस चॅम्पियनशिप 2023 मध्ये, भारताने किती सुवर्णपदके जिंकली?

- (1) 16 (2) 14
(3) 17 (4) 15

4. खालीलपैकी कोणती जोडी अचूकरीत्या जुळवलेली आहे?

- A : जमनालाल बजाज : वर्धा येथील सत्याग्रह आश्रम
B : दादाभाई नौरोजी : बॉम्बे असोसिएशन
C : डॉ. बी. आर. आंबेडकर : शेड्यूल कास्ट फेडरेशन
D : बाळ गंगाधर टिळक : सत्यशोधक सभा

- (1) फक्त A आणि C (2) फक्त B आणि C
(3) फक्त A आणि B (4) A, B आणि C

5. न्यायपालिकेच्या कार्याबाबतचे खालीलपैकी कोणते विधान चुकीचे आहे?

- (1) ती राज्य आणि केंद्र सरकार यांच्यातील विवादांचे निराकरण करते.
(2) संसदेने संमत केलेल्या प्रत्येक कायद्याला न्यायपालिकेची मान्यता आवश्यक असते.
(3) ती संघराज्यात्मक समतोल राखते, म्हणजेच केंद्र आणि राज्य यांच्यातील शक्तीची योग्यरीत्या विभागणी करते.
(4) ती मूलभूत हक्कांची रक्षक आणि हमीदार असते.

6. 20 ऑक्टोबर 2022 रोजी येथे संयुक्त राष्ट्रसंघाचे सरचिटणीस श्री. अँटोनियो गुटेरेस यांच्या उपस्थितीत, लाईफ-लाईफस्टाइल फॉर एन्वायर्नमेंट (LIFE- Lifestyle for Environment) सुरु करण्यात आले होते.

- (1) केरळ (2) गोवा
(3) महाराष्ट्र (4) गुजरात

7. 'लीडर' हे वृत्तपत्र मूलतः खालीलपैकी कोणाच्या धोरणांचे मुखपत्र होते?

- (1) सनातनी (2) पुराणमतवादी
(3) साम्यवादी (4) उदारमतवादी

8. बेकायदेशीर कृत्ये (प्रतिबंध) सुधारणा अधिनियम, द्वारे बेकायदेशीर कृत्ये (प्रतिबंध) अधिनियम, 1967 मध्ये सुधारणा केली गेली.

- (1) 2021 (2) 2019
(3) 2018 (4) 2020

पेपर क्र. - 22	20 - 3	21 - 3	22 - 1	23 - 3	24 - 2	25 - 1				
पेपर क्र. - 23	1 - 2	2 - 1	3 - 1	4 - 4	5 - 1	6 - 4	7 - 4	8 - 2		

22. खालीलपैकी कोणते हे जागतिक तापमानवाढीचे (ग्लोबल वार्मिंग) एक कारण नाही?

- (1) जंगलतोड (2) वाळूची वादळे
(3) जीवाश्म इंधनांचे ज्वलन (4) औद्योगिक उपक्रम

23. खालीलपैकी कोणत्या राज्याने 2023 मध्ये 'मुख्यमंत्री लाडली बहना योजना' सुरू केली होती?

- (1) महाराष्ट्र (2) पश्चिम बंगाल
(3) मध्यप्रदेश (4) उत्तर प्रदेश

24. कच्छचे रण हे हंगामी खारकच्छ/ खाजण कोणत्या भारतीय राज्यामध्ये आहे?

- (1) गुजरात (2) गोवा
(3) महाराष्ट्र (4) मध्यप्रदेश

25. एप्रिल 2023 मध्ये, येथे आपत्ती प्रतिरोधक पायाभूत संरचनांवरील (Disaster Resilient Infrastructure) पाचवी आंतरराष्ट्रीय परिषद आयोजित करण्यात आली होती.

- (1) नॉएडा (2) नवी दिल्ली
(3) मुंबई (4) चेन्नई

24

Date - 06/09/2023

वेळ : 12 : 30 AM - 02 : 30 AM

1. Who among the following social reformers wrote for a weekly Prabhakar under the pen name of Lokhitawadi?

- (1) Gopal Hari Deshmukh
(2) Gopal Ganesh Agarkar
(3) Mahadev Govind Ranade
(4) Ishwar Chandra Vidyasagar

2. Which of the following statements is INCORRECT regarding Parliamentary form of Government?

- (1) Prime Minister acts as the real executive.
(2) Council of Ministers is responsible only to Rajya Sabha.
(3) Council of Ministers are collectively responsible to the legislature.
(4) Executives are drawn from the legislature.

3. Which fundamental duty applies to the tea seller in the given situation?

A street tea seller asks his 10 year old son, to help him with serving tea to customers instead going to school.

- (1) To provide opportunities for education by one who is a parent
(2) To value and preserve the rich heritage of our composite culture
(3) To protect and improve the natural environment
(4) To safeguard public property and to abjure violence

4. Who among the following virtually launched Pradhan Mantri TB Mukh Bharat Abhiyaan in September 2022?

- (1) Narendra Modi (2) Amit Shah
(3) Droupadi Murmu (4) Jagdish Dhankhad

5. Which of the following animals uses their skin for respiration when completely submerged in water?

- (1) Frogs (2) Lizards
(3) Fishes (4) Birds

6. Public Information Officer (PIO) means:

- (1) the officer who protects the constitutional values
(2) the officer who protects the fundamental rights of citizens
(3) the officer designated by the public authorities in all administrative units or offices under it to provide information to the citizens requesting for information under the RTI Act
(4) the officer who protects the human rights of citizens

7. In the month of June 2023, World's first fishing cat census was done in ____.

- (1) Dal Lake (2) Walur Lake
(3) Chilika Lake (4) Upper Lake

8. The Right to Information Act 2019 was passed by Rajya Sabha on ____.

- (1) 28 July 2019 (2) 25 July 2019
(3) 27 July 2019 (4) 26 July 2019

पेपर क्र. - 23	22 - 2	23 - 3	24 - 1	25 - 2								
पेपर क्र. - 24	1 - 1	2 - 2	3 - 1	4 - 3	5 - 1	6 - 3	7 - 3	8 - 2				

22. The Schedule 2 of Right to Information Act, 2005 relates to the :

- (1) intelligence and security organisation established by Central Government
- (2) sample of oath for central officers
- (3) intelligence and security organisation established by State Government
- (4) sample of oath for state officers

23. The state bird of ____ is the Great Indian Bustard.

- (1) Uttar Pradesh
- (2) Rajasthan
- (3) Punjab
- (4) Haryana

24. The Paika Rebellion of 1817 influenced which part of India?

- (1) Bengal
- (2) Punjab
- (3) Madras
- (4) Odisha

25. A slide is the fundamental unit of a ____ containing a combination of images, text, graphics, charts, etc.

- (1) MS-PowerPoint presentation
- (2) MS-Excel Spreadsheet
- (3) MS-Word document
- (4) MS-pPublishing

25

Date - 06/09/2023

वेळ : 04 : 30 AM - 06 : 30 AM

1. EPFO ने 2022-23 या वर्षासाठी कर्मचाऱ्यांच्या भविष्य निर्वाह निधीवरील व्याजदरात किती टक्क्यांनी वाढ केली?

- (1) 8.35%
- (2) 8.50%
- (3) 8.15%
- (4) 8.20%

2. रोजी किंवा त्यानंतर, परंतु 1 जुलै 1987 पूर्वी भारतात जन्मलेल्या व्यक्तीच्या पालकांकडे भारताचे राष्ट्रीयत्व नसले, तरी ती जन्मामुळे भारताची नागरिक आहे

- (1) 26 जानेवारी 1952
- (2) 26 नोव्हेंबर 1951
- (3) 26 नोव्हेंबर 1949
- (4) 26 जानेवारी 1950

3. नोव्हेंबर 2022 मध्ये, भारत सरकारच्या कोणत्या मंत्रालयाने 'राष्ट्रीय आत्महत्या प्रतिबंधक धोरण' जाहीर केले?

- (1) आरोग्य आणि कुटुंबकल्याण मंत्रालय
- (2) गृह मंत्रालय

(3) वित्त मंत्रालय

(4) कृषी मंत्रालय

4. भारताच्या 2011 च्या जणगणनेनुसार, कोणत्या केंद्रशासित प्रदेशाची लोकसंख्या घनता सर्वोच्च आहे?

- (1) दमण आणि दीव
- (2) लक्षद्वीप
- (3) अंदमान आणि निकोबार बेटे
- (4) दिल्ली

5. कोणती ई-गव्हर्नन्स सेवा नागरिकांना विविध सरकारी सेवांना वापरण्यासाठी आणि त्याकरता अर्ज करण्यासाठी एक केंद्रीकृत व्यासपीठ प्रदान करते?

- (1) पासपोर्ट सेवा
- (2) सामान्य सेवा केंद्र (CSC)
- (3) ई-हॉस्पिटल
- (4) रेल्वे आरक्षण

6. Which of the following are INCORRECTLY paired?

A : Bengal Regulation banning Sati : 1830

B : Sharda Act : 1939

C : Special Marriage Act : 1955

D : Hindu Succession Act : 1956

- (1) A, B and C
- (2) A, B and D
- (3) B, C and D
- (4) A, C and D

7. खालील समाजसुधारकांपैकी कोणाला पेरियार म्हणूनदेखील ओळखले जाते आणि त्यांनी स्वाभिमान चळवळीची स्थापना केली होती?

- (1) ई. व्ही. रामास्वामी नायकर
- (2) महादेव गोविंद रानडे
- (3) स्वामी विवेकानंद
- (4) विनोबा भावे

8. रक्तातील ऑक्सिजनच्या कमतरतेला काय म्हटले जाते?

- (1) रुधिरांतर्गत प्राणवायुन्यूनता (hypoxemia)
- (2) नीलमयता (cyanosis)
- (3) अतिरक्ताम्लता (hyperoxemia)
- (4) पांडुरोग (anaemia)

9. कोणत्या मूलभूत हक्कानुसार दिलेल्या परिस्थितीत दर्शवल्याप्रमाणे जातीच्या आधारे केल्या जाणाऱ्या भेदभावाला प्रतिबंधित केले जाते?

खाजगी विद्यापीठाच्या वसतिगृहाचे वॉर्डन हे केवळ विशिष्ट जातीतील लोकांचीच सुरक्षा तपासणी यादृच्छिकपणे करतात.

- (1) अनुच्छेद 24(2)
- (2) अनुच्छेद 15(2)
- (3) अनुच्छेद 16(2)
- (4) अनुच्छेद 20(2)

पेपर क्र. - 24	22 - 1	23 - 2	24 - 4	25 - 1						
पेपर क्र. - 25	1 - 3	2 - 4	3 - 1	4 - 4	5 - 2	6 - 1	7 - 1	8 - 1	9 - 2	

24. जन माहिती अधिकाऱ्यांना कोणता अर्ज संबोधित केला जातो?
 (1) हिंसाचाराविरुद्ध अर्ज (2) भ्रष्टाचाराविरुद्ध अर्ज
 (3) आरटीआय (RTI) अर्ज (4) लाच विरोधात अर्ज
25. 'सरल कृषी विमा' हे एक अनोखे आणि सर्वसमावेशक मापदंड विमा उत्पादन असून, ते प्रतिकूल हवामानाच्या घटनांमुळे शेतकऱ्यांना होणाऱ्या आर्थिक नुकसानापासून दुहेरी रक्षण करते. या अंतर्गत खालीलपैकी कोणता अधिसूचित प्रतियोजित हवामान मापदंड नाही?
 (1) वारा (2) तापमान
 (3) सापेक्ष आर्द्रता (4) पाऊस

26

Date - 08/09/2023

वेळ : 09 : 00 AM - 11 : 00 AM

1. आर्य समाज चळवळीबद्दलच्या खालील विधानांचा विचार करा :
 (1) स्वामी विवेकानंद हे आर्य समाज चळवळीचे संस्थापक होते.
 (2) आर्य समाजाचे पहिले एकक औपचारिकरित्या 1875 मध्ये बॉम्बे येथे स्थापन करण्यात आले होते.
 दिलेल्या विधानांपैकी कोणते/ती योग्य आहे/आहेत?
 (1) 1 आणि 2 हे दोन्ही (2) 1 किंवा 2 यापैकी एकही नाही
 (3) फक्त 2 (4) फक्त 1
2. 1898 मध्ये यांनी वाराणसी येथील केंद्रीय हिंदू महाविद्यालयाची स्थापना केली होती.
 (1) अरुणा असफ अली (2) एनी बेझंट
 (3) सरोजिनी नायडू (4) कमला नेहरू
3. खालीलपैकी कोणत्या संस्थेने भारताचा भूखलन नकाशा (landslide map of India) तयार केला आहे?
 (1) केंद्रीय जल आयोग
 (2) राष्ट्रीय आपत्ती निवारण दल (NDRF)
 (3) नॅशनल एरोनॉटिक्स अँड स्पेस एडमिनिस्ट्रेशन (NASA)
 (4) भारतीय अंतराळ संशोधन संस्था (ISRO)
4. नागरिकत्व अधिनियम, 1955 च्या अंतर्गत जन्माने भारतीय नागरिकत्व मिळू शकते.
 (1) कलम 5 (2) कलम 6
 (3) कलम 4 (4) कलम 3
5. 13 डिसेंबर 1946 रोजी यांनी 'उद्देश्य संकल्प' (Objective resolution) मांडला होता
 (1) जे. बी. कृपलानी (2) सरदार वल्लभभाई पटेल

- (3) डॉ. राजेंद्र प्रसाद (4) जवाहरलाल नेहरू
6. अल्पसंख्याकांसाठीच्या कौशल्य विकास उपक्रम सीखो और कमाओ (शिका आणि कमवा) च्या उद्दिष्टांबाबत खालीलपैकी कोणते विधान/ने चुकीचे/ची आहे/आहेत?
 (1) तेराव्या योजनेच्या कालावधीदरम्यान अल्पसंख्याकांच्या बेरोजगारीचा दर कमी करणे.
 (2) उपेक्षित अल्पसंख्याकांसाठी उत्तम उपजीविकेचे साधन निर्माण करणे आणि त्यांना मुख्य प्रवाहात आणणे.
 (1) फक्त 1 (2) 1 किंवा 2 पैकी एकही नाही
 (3) फक्त 2 (4) 1 आणि 2 ही दोन्ही
7. राष्ट्रीय स्तरावर, खालीलपैकी कोणते मंत्रालय/संस्था हे/ही धरणांशी संबंधित बाबींवर तांत्रिक कौशल्य व मार्गदर्शन प्रदान करते?
 (1) केंद्रीय जल आयोग (CWC)
 (2) राष्ट्रीय आपत्ती व्यवस्थापन प्राधिकरण (NDMA)
 (3) राष्ट्रीय आपत्ती निवारण दल (NDRF)
 (4) केंद्रीय भूजल बोर्ड (CGWB)
8. जानेवारी 2023 मध्ये प्रसिद्ध झालेले, 'कोचिंग बियाँड: माय डेज विथ द इंडियन क्रिकेट टीम '(Coaching Beyond: My Days with the Indian Cricket Team)' या शीर्षकाचे पुस्तक यांनी लिहिले होते.
 (1) आर. कौशिक आणि आर. श्रीधर
 (2) रवी शास्त्री आणि आर. श्रीधर
 (3) चेतन शर्मा आणि आर. श्रीधर
 (4) सौरव गांगुली आणि आर. श्रीधर
9. माहितीचा अधिकार अधिनियम, 2005 च्या संदर्भात खालीलपैकी कोणते/ती विधान/ने चुकीची आहे/आहेत?
 (I) सुरक्षा एजन्सींकडून मानवाधिकारांचे उल्लंघन केल्याच्या आरोपासंदर्भात मागणी केलेली माहिती केंद्र सरकारच्या मंजूरीनंतरच दिली जाईल.
 (II) सुरक्षा एजन्सींकडून मानवाधिकारांचे उल्लंघन केल्याच्या आरोपांच्या संदर्भात माहिती ही RTI अधिनियमांतर्गत प्रकटीकरणापासून पूर्णपणे मुक्त आहे.
 (III) सुरक्षा एजन्सींकडून मानवाधिकारांचे उल्लंघन केल्याच्या आरोपासंदर्भात मागणी केलेली माहिती ही केंद्रीय माहिती आयोगाच्या मंजूरीनंतरच दिली जाईल.
 (1) फक्त II (2) फक्त I आणि II
 (3) फक्त I (4) फक्त III

पेपर क्र. - 25	24 - 3	25 - 1								
पेपर क्र. - 26	1 - 3	2 - 2	3 - 4	4 - 4	5 - 4	6 - 1	7 - 1	8 - 1	9 - 2	

1. खालीलपैकी कोणत्या राज्याने भारतीय हॉकी संघाची पुरस्कारिता 2023 पर्यंत वाढवली आहे?
(1) उत्तर प्रदेश (2) पंजाब
(3) हरियाणा (4) ओडिशा
2. मुलींना त्यांच्या वडिलांच्या मालमत्तेत समान अधिकार वारशाने मिळावा यासाठी साली हिंदू उत्तराधिकार कायदा, 1956 मध्ये दुरुस्ती करण्यात आली.
(1) 2005 (2) 2000 (3) 2015 (4) 2010
3. खालीलपैकी कोणी एकोणिसाव्या शतकात 'स्त्री पुरुष तुलना' (स्त्री आणि पुरुषांची तुलना) हे पुस्तक लिहिले आहे?
(1) राजाराम मोहन रॉय (2) ईश्वरचंद्र विद्यासागर
(3) ताराबाई शिंदे (4) पंडिता रमाबाई
4. भारतातील गीर जंगल कशासाठी ओळखले जाते?
(1) भारतीय गेंड्यांचा उरलेला शेवटचा अधिवास
(2) बंगाल वाघाचा उरलेला शेवटचा अधिवास
(3) भारतीय हत्तींचा उरलेला शेवटचा अधिवास
(4) आशियाई सिंहांचा उरलेला शेवटचा अधिवास
5. भारत सरकारने थॉडो केशव कर्वे यांना भारतरत्न हा सर्वोच्च नागरी पुरस्कार कोणत्या वर्षी दिला होता?
(1) 1959 (2) 1960 (3) 1958 (4) 1957
6. खालीलपैकी कोणत्या नदीमुळे कर्नाटकातील प्रसिद्ध जोग धबधबा निर्माण होतो?
(1) कावेरी नदी (2) कृष्णा नदी
(3) शरावती नदी (4) तुंगभद्रा नदी
7. खालीलपैकी कोणते भारतातील महानगरात असलेले पहिले रामसर पाणथळ क्षेत्र आहे?
(1) केवलादेव घाना (2) ठाणे खाडी
(3) कोल्लेरू (4) काबर ताल
8. 2022 मध्ये आंतरराष्ट्रीय योग दिनाचा विषय काय होता?
(1) स्वास्थ्यासाठी योग
(2) आरोग्यासाठी योग - घरात योग
(3) शांतीसाठी योग
(4) मानवतेसाठी योग

9. खालीलपैकी कोणत्या देशाने महिलांच्या जागतिक बॉक्सिंग चॅम्पियनशिप-2023 चे यजमानपद भूषविले होते?
(1) ताजिकिस्तान (2) भारत
(3) इराण (4) तुर्कमेनिस्तान
10. भारतामधील सर्वोच्च साक्षरता दर असलेला जिल्हा कोणता आहे (2011 च्या जनगणनेनुसार)?
(1) सेरछिप (Serchhip) (2) कोट्टयम (Kottayam)
(3) ऐजॉल (Aizawl) (4) माहे (Mahe)
11. भारतीय केंद्रीय दक्षता आयोगाचे मुख्य कार्यालय येथे आहे.
(1) मुंबई (2) नवी दिल्ली
(3) कोलकाता (4) बंगळुरू
12. माहिती स्वातंत्र्य अधिनियम, 2002 हा कोणत्या अधिनियमाद्वारे बदलला गेला?
(1) मानवी हक्क अधिनियम, 1993
(2) माहिती अधिकार अधिनियम, 2005
(3) माहिती तंत्रज्ञान अधिनियम, 2000
(4) परिसीमन अधिनियम, 2002
13. RTI अधिनियामांतर्गत, अर्जाची भाषा अशी असू शकते:
A : इंग्रजी
B : अधिकृत प्रादेशिक भाषा
C : हिंदी
D : फक्त इंग्रजी किंवा हिंदी
(1) फक्त A आणि C (2) फक्त B, C आणि D
(3) फक्त A, C आणि D (4) फक्त A, B आणि C
14. Dvorak technique, sometime seen in the news, is associated with
(1) land slides (2) animal husbandry
(3) crop management (4) weather forecasting
15. खालील घटनांची कालक्रमानुसार मांडणी करा:
(1) चौथे अँग्लो-म्हैसूर युद्ध (2) श्रीरंगपट्टणमचा तह
(3) तिसरे अँग्लो-म्हैसूर युद्ध (4) मंगळूरचा तह
खाली दिलेल्या पर्यायांतून योग्य क्रम असलेला पर्याय निवडा.
(1) 1, 2, 3, 4 (2) 1, 3, 2, 4
(3) 2, 3, 4, 1 (4) 4, 3, 2, 1

पेपर क्र. - 27	1 - 4	2 - 1	3 - 3	4 - 4	5 - 3	6 - 3	7 - 2	8 - 4	9 - 2	10 - 1	11 - 2
	12 - 2	13 - 4	14 - 4	15 - 4							

16. MS - पॉवरपॉइंटमध्ये स्लाइड डिझाइन करण्यासाठी वापरल्या जाणाऱ्या टास्क पेन (task pane) चे नाव काय आहे?

- (1) स्लाइड लेआउट (Slide layout)
- (2) स्लाइड डिझाइन (Slide design)
- (3) डिझाइन स्लाइड (Design slide)
- (4) लेआउट स्लाइड (Layout slide)

17. हवामान बदल कामगिरी निर्देशांक 2023 च्या अहवालात, भारताने स्थान मिळवले आहे.

- (1) 10
- (2) 8 वे
- (3) 12
- (4) 9 वे

18. कोणत्या राज्यात भारतातील पहिले जैव-ग्राम (bio-village) स्थापन केले गेले आहे?

- (1) त्रिपुरा
- (2) सिक्कीम
- (3) आसाम
- (4) मणिपूर

19. भारतीय नागरिकत्व संपादन करण्याच्या अटी आणि प्रक्रिया ह्या तरतुदीनुसार आहेत.

- (1) नागरिकत्व अधिनियम, 1954
- (2) नागरिकत्व अधिनियम, 1955
- (3) नागरिकत्व अधिनियम, 1953
- (4) नागरिकत्व अधिनियम, 1952

20. प्रकाश संश्लेषणादरम्यान, प्रकाश ऊर्जेचे च्या स्वरूपात रासायनिक ऊर्जेमध्ये रूपांतरण होते.

- (1) NADP
- (2) ATP
- (3) ग्लूकोज
- (4) पिष्टमय पदार्थ

21. दिलेल्या परिस्थितीत नागरिकांना कोणते मूलभूत कर्तव्य लागू होते?

एका ऐतिहासिक ठिकाणी शैक्षणिक दौऱ्यावर आलेले शालेय विद्यार्थी हे तेथे पसरलेल्या छोट्या-छोट्या कलाकृती (artifacts) उचलून त्यांच्या बॅगेत टाकत होते.

- (1) देशाचे रक्षण करणे आणि राष्ट्रसेवा करणे
- (2) सामंजस्य आणि समान बंधुत्वाच्या भावनेला प्रोत्साहन देणे
- (3) रूढी आणि परंपरांचे रक्षण करणे
- (4) आपल्या संमिश्र संस्कृतीच्या समृद्ध वारशाचे मोल राखणे आणि त्याचे जतन करणे

22. चुकीचा पर्याय ओळखा.

- A. रहुनुमाई माजदायासन सभेने रास्त गोफतार या वृत्तपत्राद्वारे सुधारणेचा संदेश दिला.
- B. एनी बेझंट 1893 साली भारतात आल्या.
- C. बेझंटने 1890 साली बनारस येथे सेंट्रल हिंदू कॉलेजची

पायाभरणी केली.

D. 1909 साली सेंट्रल हिंदू कॉलेज बनारस हिंदू विद्यापीठाचे केंद्रस्थान बनले.

- (1) C आणि D
- (2) फक्त A आणि C
- (3) फक्त A आणि B
- (4) A, B आणि C

23. खालीलपैकी कोणता अनुच्छेद स्पष्टपणे नमूद करतो, की भारत हा राज्यांचा संघराज्य नसून 'राज्यांचा संघ' आहे?

- (1) अनुच्छेद 4
- (2) अनुच्छेद 1
- (3) अनुच्छेद 2
- (4) अनुच्छेद 3

24. बी. आर. आंबेडकर हे कशाशी संबंधित होते?

- (1) कॉम्रेड
- (2) बहिष्कृत भारत
- (3) द इंडियन सोशियोलॉजीस्ट
- (4) जमीनदार

25. Who among the following social reformers supported David Hare's efforts to found the Hindu College in 1817?

- (1) Debendranath Tagore
- (2) Raja Ram Mohan Roy
- (3) Keshab Chandra Sen
- (4) Ishwar Chandra Vidyasagar

28

Date - 08/09/2023

वेळ : 04 : 30 AM - 06 : 30 AM

1. आर्थिक समावेशन मोहिमेचा एक भाग म्हणून एका आठवड्यात (23 ते 29 ऑगस्ट 2014 पर्यंत) बँकांकडून 18,096,130 खाती उघडल्याबद्दल, भारत सरकारच्या खालीलपैकी कोणत्या योजनेचा गिनीज बुक ऑफ वर्ल्ड रेकॉर्डमध्ये समावेश केला गेला आहे?

- (1) प्रधानमंत्री मुद्रा योजना
- (2) प्रधानमंत्री जीवन ज्योती विमा योजना
- (3) प्रधानमंत्री सुरक्षा विमा योजना
- (4) प्रधानमंत्री जन-धन योजना

2. खालीलपैकी कोणता प्राधिलेख हा उच्च न्यायालयाकडून निम्न न्यायालयाला किंवा न्यायिकवत प्राधिकरणाला जारी केला जातो, ज्याअन्वये त्याला त्याच्या अधिकारितेबाहेरील खटला घेण्यास प्रतिबंधित केले जाते?

- (1) देहोपस्थिति प्राधिलेख
- (2) प्रतिषेध प्राधिलेख
- (3) महादेश प्राधिलेख
- (4) क्वाधिकार प्राधिलेख

पेपर क्र. - 27	16 - 2	17 - 2	18 - 1	19 - 2	20 - 2	21 - 4	22 - 1	23 - 2	24 - 2	25 - 2
पेपर क्र. - 28	1 - 4	2 - 2								

16. कोणत्या तारखेला भारताच्या सर्वोच्च न्यायालयाने भारताच्या सरन्यायाधीशांच्या कार्यालयाला, माहिती अधिकार (RTI) अधिनियमाच्या कक्षेत आणण्याचा दिल्ली उच्च न्यायालयाचा निर्णय उचलून धरला ?

- (1) 13 नोव्हेंबर 2019 (2) 12 नोव्हेंबर 2019
(3) 14 नोव्हेंबर 2019 (4) 15 नोव्हेंबर 2019

17. 26 जुलै 1876 रोजी खालीलपैकी कोणी इंडियन असोसिएशनची स्थापना केली, जी 1885 मध्ये भारतीय राष्ट्रीय काँग्रेसची स्थापना झाल्यानंतर त्यामध्ये विलीन झाली ?

- (1) दादाभाई नौरोजी (2) सुरेंद्रनाथ बॅनर्जी
(3) व्योमेशचंद्र बॅनर्जी (4) चित्तरंजन दास

18. चुकीच्या रीतीने जुळवलेली जोडी ओळखा.

- A. भारत सेवक समाज : जी. जी. आगरकर
B. सोशल सर्व्हिस लीग: जी. के. गोखले
C. सत्यशोधक समाज : ज्योतिबा फुले
D. धर्मसभा : बी. जी. टिळक

- (1) A, C आणि D (2) B, C आणि D
(3) A, B आणि D (4) A, B आणि C

19. मे 2023 मध्ये, प्रवीण चेतुरावेलने खालीलपैकी कोणत्या स्पर्धेत राष्ट्रीय विक्रम केला ?

- (1) लांब उडी (2) तिहेरी उडी
(3) भालाफेक (4) धनुर्विद्या

20. च्या नागरिकत्व अधिनियमानुसार भारतीय नागरिकत्वाचे संपादन आणि निश्चितीकरण केले जाते.

- (1) 1956 (2) 1954
(3) 1955 (4) 1953

21. यांची कमाल संख्या 10 असू शकते.

- (1) माहिती आयुक्त
(2) निवडणूक आयुक्त
(3) CIC चे निवड समिती सदस्य
(4) CVC चे निवड समिती सदस्य

22. पात्र सदस्यांना मासिक पेन्शन देण्याचे उद्दिष्ट असलेली 'अटल पेन्शन योजना' ('APY') ही 1 जून पासून लागू करण्यात आली.

- (1) 2014 (2) 2016
(3) 2017 (4) 2015

23. पर्यंत भारताला ऊर्जेच्या बाबतीत स्वयंनिर्भर होण्यास सक्षम करणे हे राष्ट्रीय हरित हायड्रोजन योजनेचे लक्ष्य आहे.

- (1) 2042 (2) 2030 (3) 2047 (4) 2035

24. एक प्रादेशिक राजकीय संघटना आणि भारतीय राष्ट्रीय काँग्रेसची अग्रदूत असलेली मद्रास महाजन सभा हीमध्ये स्थापन झाली.

- (1) 1884 (2) 1883 (3) 1882 (4) 1885

25. Which of the following vitamins is acidic?

- (1) Vitamin A (2) Vitamin C
(3) Vitamin K (4) Vitamin D

29

Date - 10/09/2023

वेळ : 09 : 00 AM - 11 : 00 AM

1. भारतातील खालीलपैकी कोणते मंत्रालय हे निर्भया निधीअंतर्गत, निधिगत प्रस्ताव आणि योजनांचे मूल्यांकन/शिफारस करण्यासाठीचे नोडल मंत्रालय आहे ?

- (1) गृह मंत्रालय
(2) अर्थ मंत्रालय
(3) महिला आणि बाल विकास मंत्रालय
(4) कायदा आणि न्याय मंत्रालय

2. स्वामी दयानंद सरस्वती यांच्याबद्दलचे योग्य विधान ओळखा.

- (1) दयानंद सरस्वती यांचे मूळ नाव मूलशंकर होते.
(2) त्यांनी 1875 मध्ये बॉम्बे येथे आर्य समाजाची स्थापना केली.
(3) त्यांनी स्वामी विराजानंद नावाच्या अंध शिक्षकांकडून शिक्षण घेतले.
(4) त्यांनी 'वेदांकडे परत चला' ('Go back to Vedas') अशी घोषणाबाजी करत निषेध केला.
(1) 1, 3 आणि 4 (2) 1, 2 आणि 3
(3) 2, 3 आणि 4 (4) 1, 2 आणि 4

3. गोपाळ हरी देशमुख यांनी महाराष्ट्रातील सामाजिक सुधारणांच्या उद्देशाने कोणत्या वृत्तपत्रासाठी लेख लिहिण्यास सुरुवात केली ?

- (1) बहिष्कृत भारत (2) मराठा
(3) केसरी (4) प्रभाकर

4. खालीलपैकी कोणती भारतीय नागरिकत्व प्राप्त करण्याची पद्धत नाही ?

- (1) जन्म (2) नैसर्गिकीकरण
(3) वंश (4) निवडणूक

पेपर क्र. - 28	16 - 1	17 - 2	18 - 3	19 - 2	20 - 3	21 - 1	22 - 4	23 - 3	24 - 1	25 - 2
पेपर क्र. - 29	1 - 3	2 - 2	3 - 4	4 - 4						

19. भारताच्या च्या नेतृत्वाखालील राष्ट्रीय आपत्ती व्यवस्थापन प्राधिकरण (NDMA) ही भारतातील आपत्ती व्यवस्थापनाची सर्वोच्च संस्था आहे.

- (1) पंतप्रधान (2) राष्ट्रपती
(3) गृहमंत्री (4) उपराष्ट्रपती

20. हवामान बदल कामगिरी निर्देशांक 2023 नुसार, GHG उत्सर्जन आणि च्या घटकांमध्ये भारताला 'उच्च' दर्जा देण्यात आला आहे.

- (1) ऊर्जेचा वापर (2) स्वच्छ ऊर्जा
(3) हवामान धोरण (4) अक्षय ऊर्जा

21. खालीलपैकी कोणाला भारताचा मार्टिन ल्यूथर किंग म्हणून ओळखले जाते?

- (1) ज्योतिबा फुले (2) बी. जी. टिळक
(3) गोपाळ कृष्ण गोखले (4) एम. जी. रानडे

22. प्लासीची लढाई मध्ये झाली.

- (1) 1764 (2) 1775
(3) 1757 (4) 1765

23. खालीलपैकी कोणत्या घटनादुरुस्ती अधिनियमाने भारतीय राज्यघटनेत मूलभूत कर्तव्ये जोडली गेली?

- (1) 42 वा घटनादुरुस्ती अधिनियम
(2) 44 वा घटनादुरुस्ती अधिनियम
(3) 41 वा घटनादुरुस्ती अधिनियम
(4) 43 वा घटनादुरुस्ती अधिनियम

24. अंदमान आणि निकोबार बेटांपैकी कोणत्या बेटावर भारतातील एकमेव सक्रिय ज्वालामुखी आहे?

- (1) बॅरन बेट (2) नानकोवरी (Nancowry) बेट
(3) नील बेट (4) लिटिल अंदमान बेट

25. 2022-23 च्या सत्रात खालीलपैकी कोणत्या संघाने रणजी करंडक जिंकला?

- (1) सौराष्ट्र (2) मुंबई
(3) कर्नाटक (4) बंगाल

30

Date - 10/09/2023

वेळ : 12 : 30 PM - 02 : 30 PM

1. ट्रान्स्पारन्सी इंटर्नॅशनलने जारी केलेल्या 2021 च्या भ्रष्टाचार धारणा निर्देशांकामध्ये (Corruption Perceptions Index) भारताने 100 पैकी गुण मिळवले.

- (1) 44 (2) 42
(3) 38 (4) 40

2. खालीलपैकी कोणत्या अनुच्छेदात मूलभूत हक्कांच्या अंमलबजावणीसाठी सर्वोच्च न्यायालयात जाण्याचा हक्क अनुस्यूत आहे?

- (1) अनुच्छेद 32 (2) अनुच्छेद 8
(3) अनुच्छेद 30 (4) अनुच्छेद 4

3. खालीलपैकी कोणत्या भारतीय शहराला वर्ल्ड ग्रीन सिटी अवॉर्ड 2022 प्रदान करण्यात आला?

- (1) हैदराबाद (2) मुंबई
(3) बंगळूरू (4) कोची

4. माहितीचा अधिकार (RTI) अधिनियम, 2005 च्या कलम 13 (5) नुसार चुकीचा पर्याय निवडा.

- (A) मुख्य माहिती आयुक्तांना देय असलेले वेतन आणि भत्ते व इतर सेवा अटी आणि शर्ती या मुख्य निवडणूक आयुक्तांप्रमाणेच आहेत.
(B) मुख्य माहिती आयुक्तांना देय असलेले वेतन आणि भत्ते व इतर सेवा अटी आणि शर्ती या उच्च न्यायालयाच्या मुख्य न्यायाधीशांप्रमाणेच आहेत.
(C) मुख्य माहिती आयुक्तांना देय असलेले वेतन आणि भत्ते व इतर सेवा अटी आणि शर्ती या उच्च न्यायालयाच्या न्यायाधीशांप्रमाणेच आहेत.
(D) मुख्य माहिती आयुक्तांना देय असलेले वेतन आणि भत्ते व इतर सेवा अटी आणि शर्ती या सर्वोच्च न्यायालयाच्या न्यायाधीशांप्रमाणेच आहेत.

- (1) फक्त B, C आणि D (2) फक्त A, C आणि D
(3) A, B, C आणि D हे सर्व (4) फक्त A, B आणि C

5. फेब्रुवारी 2022 मध्ये, इंदूरमध्ये खालीलपैकी कोणी महापालिकेच्या घनकचरा - आधारित गोबर - धन प्लांटचे उद्घाटन केले?

- (1) अमित शाह (2) हरदीप पुरी
(3) जयराम ठाकूर (4) नरेंद्र मोदी

पेपर क्र. - 29	19 - 1	20 - 1	21 - 1	22 - 3	23 - 1	24 - 1	25 - 1			
पेपर क्र. - 30	1 - 4	2 - 1	3 - 1	4 - 3	5 - 4					

19. अटल इनोव्हेशन मिशन, आणि भारतातील डेन्मार्कचा राजदूतावास यांनी डिसेंबर 2021 मध्ये इंडो-डॅनिश बायलॅटरल ग्रीन स्ट्रेटिजिक (Indo- Danish Bilateral Green Strategic) भागीदारीचा भाग म्हणून नवकल्पनांच्या माध्यमातून जागतिक जल समस्यांना तोंड देण्यासाठी जल नवोन्मेष स्पर्धेच्या (वॉटर इनोव्हेशन चॅलेंजच्या) दुसऱ्या आवृत्तीची घोषणा केली.

- (1) शहरी विकास मंत्रालय (2) पृथ्वी विज्ञान मंत्रालय
(3) जलशक्ती मंत्रालय (4) नीती आयोग

20. राज्य माहिती आयुक्त (SIC) बद्दल खालीलपैकी कोणती विधाने अचूक आहेत?

- (a) SIC ची नियुक्ती राज्याच्या राज्यपालाद्वारे केली जाते.
(b) SIC ची पुनर्नियुक्ती केली जाऊ शकते.
(c) SIC राज्य सरकारकडे वार्षिक अहवाल सादर करते.
(d) राज्य माहिती आयोगामध्ये, राज्य मुख्य माहिती आयुक्त (SCIC) आणि 10 पेक्षा जास्त राज्य माहिती आयुक्त (SIC) समाविष्ट असतात.
- (1) B, C आणि D (2) A, B आणि C
(3) A, C आणि D (4) A, B आणि D

21. जेव्हा हल्लडखोर तरुणांचा एक गट उद्यानात धर्मविरोधी घोषणा देतो, तेव्हा ती खालीलपैकी कोणत्या मूलभूत कर्तव्याच्या विरोधातील कृती ठरते?

- (1) सामंजस्य आणि समान बंधुत्वाच्या भावनेला प्रोत्साहन देणे
(2) नैसर्गिक पर्यावरणाचे संरक्षण आणि सुधारणा करणे
(3) पालक असलेल्या व्यक्तीने शिक्षणाची संधी उपलब्ध करून देणे
(4) आपल्या संमिश्र संस्कृतीच्या समृद्ध वारशाचे मूल्य आणि जतन करणे

22. 12 ऑक्टोबर 2005 रोजी कोणता अधिनियम लागू झाला?

- (1) RTI अधिनियम
(2) महाराष्ट्र मानवाधिकार अधिनियम
(3) भ्रष्टाचार विरोधी अधिनियम
(4) राष्ट्रीय मानवाधिकार अधिनियम

23. खालीलपैकी कोणत्या महिला क्रिकेटपटूने एप्रिल 2023 मध्ये 'विस्डेन T20 क्रिकेटर ऑफ द इयर अवॉर्ड 2022' जिंकला?

- (1) हरमनप्रीत कौर (2) रेणुका सिंह
(3) स्मृती मंधाना (4) शेफाली वर्मा

24. खालीलपैकी कोणती MS-वर्डमधील फॉन्ट स्टाईल (font style) नाही?

- (1) रेग्यूलर (Regular) (2) इटॅलिक (Italic)
(3) बोल्ड (Bold) (4) सुपरस्क्रिप्ट (Superscript)

25. 1893 मध्ये, विधवा विवाह संघाची स्थापना कोणी केली?

- (1) एम. जी. रानडे (2) गोपाळ कृष्ण गोखले
(3) धोंडो केशव कर्वे (4) दादाभाई नौरोजी

31

Date - 10/09/2023

वेळ : 04 : 30 PM - 06 : 30 PM

1. Which of the following statements is/are correct?

- (A) Raja Ram Mohan Roy founded a religious society called Brahma Sabha, later known as the Brahma Samaj.
(B) The Brahma Samaj laid emphasis on human dignity, opposed idolatry and criticised social evils such as the practice of Sati.
- (1) Neither A nor B (2) Only B
(3) Both A and B (4) Only A

2. Which of the following has been given the power to remove difficulties if any difficulty arises in giving the effect to the provisions of the Right to Information Act, 2005?

- (1) Union Public Service Commission
(2) State Governments
(3) Central Government
(4) Supreme Court of India

3. How does water get absorbed into the trees?

- (1) Roots (2) Wind speed
(3) Temperature (4) Sunlight

4. As per the 2011 census, which state in India had the highest gap between male and female literacy rates?

- (1) Haryana (2) Rajasthan
(3) Kerala (4) West Bengal

5. In which of the following years had Bankim Chandra Chattopadhyay written Anandmath?

- (1) 1820 (2) 1824
(3) 1825 (4) 1882

पेपर क्र. - 30	19 - 4	20 - 3	21 - 1	22 - 1	23 - 1	24 - 4	25 - 3				
पेपर क्र. - 31	1 - 3	2 - 3	3 - 1	4 - 2	5 - 4						

19. Which of the following cities has won the award for 'World Green City 2022' award in the category of 'Living Green for Economic Recovery and Inclusive Growth' at the International Association of Horticulture Producers (AIPH) World Green City Awards 2022 held in Jeju, South Korea?

- (1) Mumbai (2) Hyderabad
(3) Mysuru (4) Bengaluru

20. Identify the INCORRECT match from the options provided.

- (1) Lamina : The flat green portion of a leaf
(2) Petiole : Connects the leaf to the stem
(3) Veins : Transpiration
(4) Margin : Gives shape to the leaf

21. Which of the following Citizenship Amendment Acts replaced the nomenclature of 'Overseas Citizen of India' with that of 'Overseas Citizen of India Cardholder' and made some provisions in the Principal Act?

- (1) Citizenship (Amendment) Act, 2005
(2) Citizenship (Amendment) Act, 1985
(3) Citizenship (Amendment) Act, 1986
(4) Citizenship (Amendment) Act, 2015

22. Which Section of the Right to Information Act, 2005, mentions about 'Laying of rules'?

- (1) Section 30 (2) Section 28
(3) Section 31 (4) Section 29

23. In which year did Gopal Krishna Gokhale found the 'Servants of India Society'?

- (1) 1907 (2) 1910
(3) 1901 (4) 1905

24. Formulas in Excel start with ____.

- (1) f (2) - (3) / (4) =

25. Baba Saheb Ambedkar was born on ____.

- (1) 14 April 1891 (2) 18 May 1891
(3) 21 June 1891 (4) 27 July 1891

1. What is meant by the word 'Sovereign'?

- (1) Equality (2) Anti-religion
(3) Supreme power (4) Economic planning

2. Under which of the following Clauses of Section 8 (Sub-section 1) of the Right to Information Act, 2005, is it mentioned that the information related to the Cabinet papers, including records of deliberations of the Council of Ministers, Secretaries and other officers, CANNOT be given?

- (1) Clause (i) (2) Clause (h)
(3) Clause (j) (4) Clause (k)

3. Who among the following social reformers wrote 'Bavan Kashi Subodh Ratnakar'?

- (1) Pandita Ramabai (2) Tarabai Shinde
(3) Ramabai Ranade (4) Savitribai Phule

4. Raja Ram Mohan Roy was a social reformer and known as the Father of ____.

- (1) Indian Historian (2) Indian Renaissance
(3) Indian Liberalism (4) Indian Marxism

5. As per the Ministry of Housing and Urban Affairs statement in Rajya Sabha, ____ of loans under the PM SVANidhi scheme for street vendors were given to those from minority communities.

- (1) 6.9% (2) 9.3%
(3) 4.7% (4) 10.7%

6. Which Section of the Right to Information Act, 2005, is related to the process of 'Disposal of request'?

- (1) Section 7 (2) Section 8
(3) Section 6 (4) Section 5

पेपर क्र. - 31	19 - 2	20 - 3	21 - 4	22 - 4	23 - 4	24 - 4	25 - 1				
पेपर क्र. - 32	1 - 3	2 - 1	3 - 4	4 - 2	5 - 2	6 - 1					

17. What is the name of the Annual Joint Humanitarian Assistance and Disaster Relief (HADR) exercise conducted by the Indian Air Force to assess the efficacy of institutional disaster management structures and contingency measures from 28 November 2022 to 30 November 2022?

- (1) Vijay Prahar 2022 (2) Samanvay 2022
(3) Paschim Lehar 2022 (4) Gandiv Vijay 2022

18. 'Dahi-Handi is officially recognised as a sport by which the following states in August 2022?

- (1) Uttar Pradesh (2) Maharashtra
(3) Andhra Pradesh (4) Madhya Pradesh

19. As per the 2011 census, which state in India has the lowest literacy rate?

- (1) Kerala (2) Bihar
(3) Maharashtra (4) Tamil Nadu

20. Which of the following has received the 'Platinum Award' by Grow Care India Environment Management Awards 2022 for outstanding achievement in the environment management category.

- (1) NextEra Energy, Inc.
(2) Suzlon Energy Limited
(3) Adani Green Energy Ltd
(4) Constellation Energy Corporation

21. Which religion is associated with the holy book 'Guru Granth Sahib'?

- (1) Sikhism (2) Christianity
(3) Buddhism (4) Hinduism

22. Which of these is a tributary of Yamuna river?

- (1) Gomti (2) Gandak (3) Kosi (4) Chambal

23. Which of the following states collaborated with IIT Madras to launch India's First Night Navigation Mobile App In Rivers?

- (1) Assam (2) West Bengal
(3) Tripura (4) Meghalaya

24. The idea of Pangenesis was put forward by which famous biologist?

- (1) Francis Crick (2) Charles Darwin
(3) Louis Pasteur (4) Richard Dawkins

25. The NAMASTE scheme, which was launched in 2022, envisaged for upliftment of sanitation workers, will be taken up in how many cities under the first phase of the scheme?

- (1) 300 (2) 500 (3) 400 (4) 200

33

Date - 13/09/2023

वेळ : 12 : 30 AM - 02 : 30 AM

1. भारतामध्ये पहिली आपत्ती व्यवस्थापन योजना कोणी जाहीर केली होती?

- (1) नरेंद्र मोदी
(2) डॉ. मनमोहन सिंग
(3) अटलबिहारी वाजपेयी
(4) डॉ. ए. पी. जे. अब्दुल कलाम

2. मॅकमोहन रेषा ही कोणत्या दोन देशांमधील सीमारेषा दर्शवते?

- (1) भारत आणि पाकिस्तान (2) भारत आणि चीन
(3) भारत आणि बांग्लादेश (4) भारत आणि अफगाणिस्तान

3. भारतातील खालीलपैकी कोणत्या राज्यात खारफुटीची वनस्पती सर्वाधिक प्रमाणात आढळते?

- (1) केरळ (2) ओडिशा (3) पश्चिम बंगाल (4) आंध्रप्रदेश

4. भारतातील एकेरी नागरिकत्वाची तरतूद ही कोणत्या देशाच्या संविधानातून घेण्यात आली आहे?

- (1) अमेरिका (2) इंग्लंड (3) कॅनडा (4) आयर्लंड

5. काँग्रेसच्या कोणत्या अधिवेशनामध्ये इंडिया खादी बोर्डाची स्थापना केली गेली?

- (1) अलाहाबाद अधिवेशन (1910)
(2) अहमदाबाद अधिवेशन (1921)
(3) काकीनाडा अधिवेशन (1923)
(4) बेळगाव अधिवेशन (1924)

6. अंतराळवीरांद्वारे अन्न म्हणून कोणते शैवाल वापरले जाते?

- (1) नॉस्टॉक (2) अल्बा
(3) इक्लोनिया (4) क्लोरेला

पेपर क्र. - 32	17 - 2	18 - 2	19 - 2	20 - 3	21 - 1	22 - 4	23 - 1	24 - 2	25 - 2		
पेपर क्र. - 33	1 - 1	2 - 2	3 - 3	4 - 2	5 - 3	6 - 4					

1. बटाट्याचा कोणता भाग खाण्यायोग्य असतो ?
(1) मूळ (2) फळ (3) कळी (4) खोड
2. सुनील बहादूर कोणत्या खेळाशी संबंधित आहेत ?
(1) क्रिकेट (2) लॉन बोलस
(3) फुटबॉल (4) बुद्धिबळ
3. भारताची पहिली नियमित जनगणना कोणत्या वर्षी सुरु झाली ?
(1) 1951 (2) 1881 (3) 1891 (4) 1872
4. 'माहिती स्वातंत्र्य' हे विधेयक कधी पारित झाले ?
(1) वर्ष 2003 (2) वर्ष 2005
(3) वर्ष 2002 (4) वर्ष 2001
5. भारत छोडो आंदोलनाच्या कालावधीत खालीलपैकी कोण हे ब्रिटनचे पंतप्रधान होते ?
(1) विन्स्टन चर्चिल (2) क्लेमेंट अटली
(3) विल्सन (4) हॅरॉल्ड मॅकमिलन
6. 'देशबंधू' ही पदवी कोणत्या स्वातंत्र्यसैनिकाशी संबंधित आहे ?
(1) बिपीनचंद्र पाल (2) रवींद्रनाथ टागोर
(3) चित्तरंजन दास (4) जयप्रकाश नारायण
7. The word "Cell" was first used by which English scientist?
(1) Schleiden (2) Purkinje
(3) Robert Hooke (4) Theodor Schwann
8. रामकृष्ण मिशनची स्थापना कोणत्या वर्षी केली गेली ?
(1) इ.स. 1897 (2) इ.स. 1856
(3) इ.स. 1836 (4) इ.स. 1877
9. क्षेत्रफळाच्या आधारे, भारतातील सर्वात मोठा व्याघ्र प्रकल्प खालीलपैकी कोणता आहे ?
(1) पंच (2) बांदीपूर
(3) बांधवगड (4) नागार्जुनसागर श्रीशैलम
10. अखिल भारतीय राष्ट्रीय काँग्रेसच्या पहिल्या महिला अध्यक्षा खालीलपैकी कोण होत्या ?
(1) सुचेता कृपलानी (2) इंदिरा गांधी
(3) अंनी बेझंट (4) सरोजिनी नायडू
11. कोणत्या क्रीडा संघटनेने अलीकडेच देशातील त्यांच्या करारबद्ध

- महिला क्रीडापटूंसाठी वेतन समानतेचे धोरण जाहीर केले आहे ?
(1) बीसीसीआय (BCCI)
(2) इंडियन बॉक्सिंग असोसिएशन
(3) हॉकी इंडिया
(4) इंडियन फुटबॉल लीग

12. राज्यघटनेत कल्याणकारी राज्याची घोषणा कशाच्या माध्यमातून करण्यात आली आहे ?
(1) नागरिकत्व (2) कार्यकारी
(3) राज्य धोरणाची निर्देशक तत्त्वे (4) वैधानिक
13. खालीलपैकी कोणते भारतीय राज्य हे तिन्ही बाजूंनी बांगलादेशने वेढलेले आहे ?
(1) बिहार (2) पश्चिम बंगाल
(3) मिझोराम (4) त्रिपुरा
14. खालीलपैकी कोणते भारताचे सर्वात दक्षिणेकडील टोक आहे ?
(1) इंदिरा पॉइंट (2) किबिथू
(3) गुहार मोटा (4) इंदिरा कौल
15. खालीलपैकी कोणत्या राज्यात भारत हा आपला पहिला 'कचऱ्यातून हायड्रोजन (वेस्ट टू हायड्रोजन)' हा प्रकल्प उभारत आहे ?
(1) दिल्ली (2) महाराष्ट्र (3) ओडिशा (4) हैदराबाद
16. भारतीय राज्यघटनेच्या अनुच्छेद 51-A मध्ये कशाबाबत चर्चा करण्यात आली आहे ?
(1) मूलभूत कर्तव्ये (2) मूलभूत हक्क
(3) नागरिकत्व (4) राज्य धोरणाची निर्देशक तत्त्वे
17. मुंबईत सोशल सर्व्हिस लीगची स्थापना कोणी केली होती ?
(1) रमाबाई (2) आत्माराम पांडुरंग
(3) एन. एम. जोशी (4) डॉ. आंबेडकर
18. भारताचे राष्ट्रपती आपला राजीनामा कोणाकडे सादर करतात ?
(1) उप-राष्ट्रपती
(2) पंतप्रधान
(3) सर्वोच्च न्यायालयाचे सरन्यायाधीश
(4) राज्यपाल

पेपर क्र. - 34	1 - 4	2 - 2	3 - 2	4 - 3	5 - 1	6 - 3	7 - 3	8 - 1	9 - 4	10 - 3	11 - 1
	12 - 3	13 - 4	14 - 1	15 - 2	16 - 1	17 - 3	18 - 1				

19. 2011 च्या जनगणनेनुसार हिंदूंचे सर्वात कमी प्रमाण असलेले राज्य/केंद्रशासित प्रदेश कोणते /ता आहे?

- (1) बिहार (2) लक्षद्वीप
(3) महाराष्ट्र (4) उत्तर प्रदेश

20. माहिती अधिकार अधिनियम 2005 लागू करणारे पहिले भारतीय राज्य कोणते आहे?

- (1) महाराष्ट्र (2) तामिळनाडू
(3) कर्नाटक (4) केरळ

21. खालीलपैकी कोणास 'संगणकाचा जनक' असे संबोधले जाते?

- (1) चार्ल्स बॅबेज (2) बिल गेट्स
(3) टिम बर्नर्स-ली (4) ब्लेझ पास्कल

22. पर्यावरण संरक्षणासाठी प्लास्टिक द्या आणि सोने घ्या' ही योजना कोठे सुरु करण्यात आली आहे?

- (1) महाराष्ट्र (2) मणिपूर
(3) उत्तराखंड (4) जम्मू आणि काश्मीर

23. Who propounded the Theory of Natural Selection'?

- (1) Mandel (2) Jagdish Chandra Bose
(3) Charles Darwin (4) CV Raman

24. महिला आणि लहान मुले यांना मानवी तस्करांच्या तावडीतून वाचवण्यासाठी रेल्वे संरक्षण दलाने कोणते ऑपरेशन सुरु केले आहे?

- (1) ऑपरेशन आहत (2) ऑपरेशन दोस्त
(3) ऑपरेशन उपलब्ध (4) ऑपरेशन नमस्ते

25. कोणत्या समाजसुधारकास 'महाराष्ट्राचा सॉक्रेटिस' म्हणून ओळखले जाते?

- (1) एम. जी. रानडे (2) विनोबा भावे
(3) बाळ गंगाधर टिळक (4) गोपाळ कृष्ण गोखले

35

Date - 14/09/2023

वेळ : 12 : 30 PM - 02 : 30 PM

1. In which national park was the foundation stone of India's first Cheetah Sanctuary laid?

- (1) Sundarban National Park
(2) Jim Corbett National Park
(3) Kuno Palpur National Park
(4) Gir National Park

2. When was the Right to Information Act adopted by the legislation of the Parliament of India?

- (1) 15th October 2005
(2) 15th June 2005
(3) 12th June 2005
(4) 12th October 2005

3. कोणते वर्ष हे भारतातील लोकसंख्या विभाजनाचे वर्ष (मिअर ऑफ डेमोग्राफिक डिव्हाईड इन इंडिया) म्हणून ओळखले जाते?

- (1) 1950 (2) 1921
(3) 1947 (4) 1961

4. In which Congress session was the national anthem composed by Rabindranath Tagore sung for the first time?

- (1) Lucknow Session (1916)
(2) Calcutta Session (1911)
(3) Nagpur Session (1891)
(4) Surat Session (1907)

5. कोणत्या भारतीय शहराने सलग दुसऱ्यांदा 'ट्री सिटी ऑफ द वर्ल्ड' हा किताब पटकावला आहे?

- (1) भोपाळ (2) गुवाहाटी
(3) भुवनेश्वर (4) मुंबई

6. What is the name of the initiative launched by the Government of India on the occasion of World Mental Health Day which aims to increase access to mental healthcare across India?

- (1) Tele-MANAS (2) Aarogya Maitri Project
(3) Yuva 2.0 (4) Smile Scheme

पेपर क्र. - 34	19 - 2	20 - 2	21 - 1	22 - 4	23 - 3	24 - 1	25 - 1				
पेपर क्र. - 35	1 - 3	2 - 2	3 - 2	4 - 2	5 - 4	6 - 1					

1. खालीलपैकी काय प्राणोद्विजाचा सूचक आहे?
 - (1) लाल कोबी
 - (2) लिटमस
 - (3) लवंग तेल
 - (4) फेनॉल्फथॅलिन
2. एखादी नदी ही महासागर, सागर, खाडी, तलाव, जलाशय, सपाट शुष्क क्षेत्र वा अन्य नदीला जिथे जाऊन मिळते त्याठिकाणच्या नदीच्या मुखाशी निर्माण होणारे भूरूप. वरील विधानाच्या संदर्भातील भूरूप ओळखा.
 - (1) त्रिभुज प्रदेश
 - (2) पूरतट
 - (3) भोवरी खळगा
 - (4) नालाकृती सरोबर
3. खालीलपैकी भारतातील पहिले रामसर स्थळ कोणते आहे? दिलेल्या पर्यायांमधून योग्य उत्तर ओळखा.
 - (1) चंद्रलाल
 - (2) साभर तलाव
 - (3) सुंदरबन पाणथळ क्षेत्र
 - (4) चिल्का तलाव
4. खालीलपैकी कोणती नदी ही यमुना नदीची उपनदी नाही?
 - (1) बेटवा
 - (2) चंबळ
 - (3) केन
 - (4) महानदी
5. 1906 च्या कलकत्ता अधिवेशनात भारतीय राष्ट्रीय काँग्रेसचे अध्यक्षपद कोणी भूषवले?
 - (1) दादाभाई नौरोजी
 - (2) रास बिहारी घोष
 - (3) गोपाळ कृष्ण गोखले
 - (4) मदन मोहन मालवीय
6. Which of the following is correct phenotypic sequence ratio of Dihybrid cross?
 - (1) 9:3:1:3
 - (2) 9:1:3:3
 - (3) 9:3:3:1
 - (4) 3:9:3:1
7. खालीलपैकी कोणते भारतीय राज्यघटनेचे वैशिष्ट्य मानले जाऊ शकत नाही?
 - (1) सरकारचे संसदीय स्वरूप
 - (2) लिखित राज्यघटना
 - (3) शक्तीचे पृथक्करण
 - (4) अपरिवर्तनीय राज्यघटना
8. 2011 च्या जनगणनेच्या अंतिम आकडेवारीनुसार खालीलपैकी कोणत्या राज्याची लोकसंख्या घनता सर्वाधिक आहे?
 - (1) आसाम
 - (2) बिहार
 - (3) पश्चिम बंगाल
 - (4) सिक्कीम
9. UNFCCC च्या नेतृत्वाखाली होणाऱ्या COP 28 साठी कोणत्या देशाची निवड करण्यात आली आहे?
 - (1) इटली
 - (2) संयुक्त अरब अमिराती (UAE)
 - (3) फ्रान्स
 - (4) भारत
10. खालीलपैकी कोणत्या वर्षी भारतात प्रथमच बाल न्याय कायदा संमत झाला?
 - (1) 1986
 - (2) 2015
 - (3) 1999
 - (4) 2017
11. प्लेडिंग इट माय वे' या पुस्तकाचे लेखक कोण आहेत? दिलेल्या पर्यायांतून योग्य उत्तर निवडा.
 - (1) वीरेंद्र सेहवाग
 - (2) युवराज सिंग
 - (3) अजय जडेजा
 - (4) सचिन तेंडुलकर
12. खालीलपैकी कोण चितगाव शस्त्रागार छाप्याशी संबंधित आहे?
 - (1) चंद्रशेखर आझाद
 - (2) खुदीराम बोस
 - (3) सूर्य सेन
 - (4) भगतसिंह
13. खालीलपैकी कोणती संस्था गोपाळ गणेश आगरकर यांच्याशी संबंधित नाही?
 - (1) फर्ग्युसन कॉलेज
 - (2) परमहंस मंडळी
 - (3) न्यू इंग्लिश स्कूल
 - (4) डेक्कन एज्युकेशन सोसायटी
14. मरूवनस्पती कोणत्या प्रकारच्या हवामानात आढळतात?
 - (1) वाळवंटी हवामान किंवा उष्ण पठार क्षेत्र
 - (2) मौसमी हवामान
 - (3) तृणसंघात प्रकारचे हवामान
 - (4) सॅव्हाना प्रकारचे हवामान
15. खान अब्दुल गफ्फार खान यांनी उत्तर-पश्चिम सरहद्द प्रांतात तयार केलेल्या स्वयंसेवक ब्रिगेडचे नाव काय होते?
 - (1) खुदा-ए-खिदमतगार
 - (2) पुश्तो आर्मी
 - (3) पख्तून
 - (4) खिदमतगार
16. Which of the following is NOT an age - sex pyramid?
 - (1) Expansive
 - (2) Constrictive
 - (3) Stationary
 - (4) Destructive

पेपर क्र. - 36	1 - 3	2 - 1	3 - 4	4 - 4	5 - 1	6 - 3	7 - 4	8 - 2	9 - 2	10 - 1	11 - 4
	12 - 3	13 - 2	14 - 1	15 - 1	16 - 4						

17. खाली दिलेल्या विधानाच्या आधारे, खालील धार्मिक/सामाजिक सुधारणा चळवळ ओळखा?

ही एक पुनरुज्जीवनवादी चळवळ होती, तिच्या धार्मिक शिकवणीत नैतिक, धार्मिक उन्नतीसाठी इस्लामची उदारमतवादी व्याख्या समाविष्ट होती. शिक्षणात पाश्चिमात्य प्रभाव पडू शकला नाही. संयुक्त प्रांतातील सहारनपुर जिल्ह्यात याची सुरुवात झाली.

- (1) देवबंद चळवळ (2) अहमदिया चळवळ
(3) चहाची चळवळ (4) फरायझी चळवळ

18. खालीलपैकी कोणता न्यायलेख कलम 32 अंतर्गत केवळ न्यायिक संस्था/ न्यायालयांना लागू केला जातो?

- (1) अधिकारपृच्छा (2) प्रतिबंध
(3) देहोपस्थिती (4) परमादेश

19. खालीलपैकी कोणती जोडी चुकीच्या पद्धतीने जुळविलेली आहे?

- (1) जीवनसत्त्व D - कॅल्सिफेरॉल
(2) जीवनसत्त्व B11 - बायोटिन
(3) जीवनसत्त्व A - रेटीनॉल
(4) जीवनसत्त्व C - अँस्कोर्बिक आम्ल

20. Read the following statement and identify the term:

It is part of HTML. It determines the way; browser displays text in a web page.

- (1) Tag (2) Command
(3) Text (4) Unix

21. 1832 मध्ये लोकांमध्ये सामाजिक सुधारणांच्या जागृतीसाठी 'दर्पण' हे वृत्तपत्र कोणी सुरू केले आणि त्यांना मराठी पत्रकारितेचे जनक म्हणून ओळखले जाते?

- (1) बाळशास्त्री जांभेकर (2) दादोबा पांडुरंग
(3) गोपाळ हरी देशमुख (4) मेहताजी दुर्गराम

22. खालीलपैकी कोण मुख्य माहिती आयुक्तांच्या निवड समितीचा एक सदस्य नाही?

- (1) पंतप्रधानांनी नामनिर्देशित केलेले केंद्रीय मंत्रीमंडळातील मंत्री
(2) पंतप्रधान
(3) भारताचे सरन्यायाधीश
(4) लोकसभेतील विरोधी पक्षनेते

23. जननी सुरक्षा योजनेबाबत खालीलपैकी काय सत्य नाही?

- (1) ही केंद्रीय क्षेत्राची योजना आहे.
(2) स्त्रियांचे वय 19 वर्षांपेक्षा अधिक असावे
(3) ग्रामीण भागातील स्त्रियांना प्रसूतीनंतर 1,400 ची रोख मदत करणे.
(4) कितीही जिवंत अर्भकासाठी लागू

24. खालीलपैकी कोण हे राज्याच्या मुख्य माहिती आयुक्ताची नेमणूक करतात?

- (1) भारताचे राष्ट्रपती
(2) मुख्यमंत्री
(3) उच्च न्यायालयाचे मुख्य न्यायाधीश
(4) राज्याचे राज्यपाल

25. भारतीय राज्यघटनेत मूलभूत कर्तव्ये समाविष्ट करण्याची सूचना कोणत्या समितीने केली?

- (1) स्वर्णसिंह समिती (2) सरकारिया समिती
(3) पुंढी समिती (4) अशोक मेहता समिती

37

Date - 17/08/2023

वेळ : 09 : 00 AM - 11 : 00 AM

1. खालीलपैकी कोणती व्यक्ती ही ऊर्जा कार्यक्षमता सुधारून उत्सर्जन कमी करण्यासाठी, इलेक्ट्रिक वाहनांची संकल्पना निर्मिती आणि बांधणी यासाठी ऊर्जा क्षेत्रातील 'जागतिक ऊर्जा पुरस्कार' या सर्वोच्च पुरस्काराची मानकरी ठरली?

- (1) कौशिक राजशेखर (2) सुब्रमण्यम चंद्रशेखर
(3) कैलासवादिबू सिवन (4) थॉमस अनंतरामन

2. 'भारतीय राज्यघटना ही बार्गेनिंग फेडरलिझम (संघराज्यवादाचा सौदा)' आहे असे खालीलपैकी कोणी म्हटले आहे?

- (1) आयव्हर जेनिंग्ज (2) ग्रॅनविल ऑस्टिन
(3) मॉरिस जोन्स (4) फिलिप माहवूड

3. भारतात नागरिकत्व अधिनियम कधी मंजूर झाला होता?

- (1) 1955 (2) 1958 (3) 1960 (4) 1956

4. मार्च 2023 मध्ये सविता पुनिया हिला, 2022 या वर्षातील सर्वोत्तम खेळाडूसाठीच्या बलबीर सिंग सीनियर पुरस्काराने सन्मानित करण्यात आले होते, ती खालीलपैकी कोणत्या खेळाशी संबंधित आहे?

- (1) क्रिकेट (2) हॉकी
(3) बॅडमिंटन (4) कुस्ती

पेपर क्र. - 36	17 - 1	18 - 2	19 - 2	20 - 1	21 - 1	22 - 3	23 - 4	24 - 4	25 - 1
पेपर क्र. - 37	1 - 1	2 - 3	3 - 1	4 - 2					

20. 'सत्यार्थ प्रकाश (द लाईट ऑफ ट्रुथ) यांनी लिहिला होता.

- (1) गोपाळ गणेश आगरकर
- (2) गोपाळ कृष्ण गोखले
- (3) स्वामी विवेकानंद
- (4) स्वामी दयानंद सरस्वती

21. खालीलपैकी कोणते/कोणती विधान/विधाने योग्य आहे/आहेत?

- (A) 1820 ते 1830 च्या दशकाच्या उत्तरार्धात बंगाली विचारवंतांमध्ये यंग बंगाल मूव्हमेंट म्हणून ओळखली जाणारी मूलगामी विचारसरणी लोकप्रिय होती.
- (B) यंग बंगाल मूव्हमेंटचा नेता तरुण अँग्लो-इंडियन हेन्री व्हिन्हीअन डेरोझिओ होता.
- (1) A आणि B दोन्ही
 - (2) केवळ A
 - (3) केवळ B
 - (4) A ही नाही किंवा B ही नाही

22. भारताकडून डिसेंबर 2023 पर्यंत वारसास्थळांच्या मार्गावर (heritage routes) पहिल्या हायड्रोजन चालित रेल्वेगाड्या सुरु करण्याचे नियोजन केले जात आहे, त्यासाठीची चाचणी धाव (test-run) खालीलपैकी कोणत्या मार्गिकेवर घेतली जाईल?

- (1) आग्रा- भरतपूर विभाग
- (2) गुढा मिथरी नावा विभाग
- (3) सोनीपत-जींद विभाग
- (4) वेलिम विभाग

23. भारतीय स्वातंत्र्य चळवळीच्या संदर्भात, 'स्वराज' हा शब्द सर्वप्रथम, यांनी उच्चारला होता.

- (1) गोपाळ कृष्ण गोखले
- (2) दादाभाई नौरोजी
- (3) महात्मा गांधी
- (4) स्वामी विवेकानंद

24. भारताच्या उत्तरेकडील मैदानी प्रदेशांच्या निर्मितीमध्ये योगदान देणाऱ्या नद्यांचा योग्य गट ओळखा?

- (1) गंगा, यमुना आणि गोदावरी
- (2) यमुना, गंगा आणि महानदी
- (3) सिंधू, गंगा आणि ब्रह्मपुत्रा
- (4) ब्रह्मपुत्रा, महानदी आणि गोदावरी

25. झाडाच्या संरचनेचा कोणता भाग परागांचा प्राकृतिक वास म्हणून भूमिका बजावतो?

- (1) पाने
- (2) फुले
- (3) खोड
- (4) मुळे

38

Date - 17/08/2023

वेळ : 12 : 30 PM - 2 : 30 PM

1. The sum total of inherited characteristics that are passed on from generation to generation is known as :

- (1) heredity
- (2) phenotype
- (3) genes
- (4) mutation

2. 2011 च्या जनगणनेनुसार, केरळमधील पुरुषांमधील साक्षरता दर किती आहे?

- (1) 81.11%
- (2) 76.11%
- (3) 96.11%
- (4) 86.11%

3. खालीलपैकी कोणते/कोणती विधान/विधाने सत्य आहे/आहेत?

- A. 1858 च्या भारत सरकार अधिनियमाद्वारे भारताचे गव्हर्नर जनरल हे व्हाईसरॉय बनले.
- B. लॉर्ड कॅनिंग हे भारताचे पहिले व्हाईसरॉय होते.
- (1) केवळ A
 - (2) केवळ B
 - (3) A आणि B दोन्ही
 - (4) A ही नाही किंवा B ही नाही

4. राज्य जन माहिती अधिकारी हा विहित तरतुदीनुसार नागरिकांना माहिती देण्यात अपयशी ठरल्यास त्याला राज्य माहिती आयोगाद्वारे किती दंड आकारला जाऊ शकतो?

- (1) दररोज 250 रुपये
- (2) दररोज 1,000 रुपये
- (3) दररोज 500 रुपये
- (4) दररोज 750 रुपये

5. 1906 मध्ये खालीलपैकी कोणत्या समाजसुधारकाने डिप्रेस्ड क्लासेस मिशनची स्थापना केली

- (1) विठ्ठल रामजी शिंदे
- (2) आ. डी. कर्वे
- (3) आचार्य विनोबा भावे
- (4) बेहरामजी मलबारी

6. खालीलपैकी कोणी ASSOCHAM च्या 14 व्या इंटरनॅशनल कॉन्फरन्स-कम-अॅवार्ड्स फॉर सिव्हिल एन्व्हिशन 2023' येथे विमानचालन शालता आणि पर्यावरण या अंतर्गत सर्वोत्तम शान ग्रीनफील्ड विमानतळ' हा पुरस्कार जिंकला आहे?

- (1) OMR गोवा आंतरराष्ट्रीय विमानतळ
- (2) इंदिरा गांधी आंतरराष्ट्रीय विमानतळ
- (3) केंपेगौडा आंतरराष्ट्रीय विमानतळ
- (4) कोची आंतरराष्ट्रीय विमानतळ

पेपर क्र. - 37	20 - 4	21 - 1	22 - 3	23 - 2	24 - 3	25 - 2														
पेपर क्र. - 38	1 - 1	2 - 3	3 - 3	4 - 1	5 - 1	6 - 1														

22. खालीलपैकी कोणते एक सॉफ्टवेअर नसून हार्डवेअर आहे ?
 (1) पॉवरपॉइंट (PowerPoint)
 (2) प्रिंटर ड्राइव्ह (Printer Driver)
 (3) ऑपरेटिंग सिस्टिम (Operating System)
 (4) ALU
23. श्री नारायण गुरु धर्म परिपालन (SNDP) चळवळ ही श्री नारायण गुरु स्वामी यांनी मध्ये सुरू केली होती.
 (1) केरळ (2) तमिळनाडू
 (3) पश्चिम बंगाल (4) महाराष्ट्र
24. खालीलपैकी कोणी 1888 मध्ये 'सुधारक' नावाचे साप्ताहिक सुरू केले होते ?
 (1) फिरोजशाह मेहता (2) बाळशास्त्री जांभेकर
 (3) गोपाळ गणेश आगरकर (4) दादाभाई नौरोजी
25. 25 नोव्हेंबर ते 23 डिसेंबर 2022 या कालावधीत देशातील सर्व राज्यांमध्ये नेतृत्वाखालील नई चेतना-पहल बदलाव की नामक राष्ट्रीय मोहीम सुरू करण्यात आली.
 (1) मुर्लीना कौशल्य वाढीचे प्रशिक्षण देण्यासाठी म्हणून
 (2) लिंगआधारित भेदभाव म्हणून
 (3) मुर्लीसाठी शैक्षणिक उपक्रमांना प्रोत्साहन देण्यासाठी म्हणून
 (4) मुर्लीचे शाळा सोडून जाणे रोखण्यासाठी म्हणून

39

Date - 17/08/2023

वेळ : 04 : 30 PM - 06 : 30 PM

1. राजस्थान राज्यात भरती परीक्षांमध्ये अयोग्य माध्यमांचा वापर प्रतिबंधित करण्यासाठी असलेल्या कायद्याचे नाव काय आहे, जो स्पर्धा परीक्षांतील अयोग्य माध्यमांच्या वापराच्या धोक्याला आळा घालण्यासाठी पारित करण्यात आला आहे ?
 (1) राजस्थान सार्वजनिक परीक्षा (भरतीमधील अयोग्य माध्यमांना प्रतिबंध करण्यासाठीचे उपाय) अधिनियम, 2022
 (2) राजस्थान सार्वजनिक परीक्षा (अयोग्य माध्यमांना प्रतिबंध) अधिनियम, 2023
 (3) राजस्थान स्पर्धा परीक्षा (भरतीमधील अयोग्य माध्यमांना प्रतिबंध करण्यासाठीचे उपाय)
 (4) राजस्थान स्पर्धा परीक्षा (अयोग्य माध्यमांना प्रतिबंध)
2. एप्रिल 2022 मध्ये, भारतीय तटरक्षक दल (ICG) ने राष्ट्रीय तेल गळती आपत्ती आकस्मिकता योजना (NOSDCP) नुसार

'NATPOLREX-VIII' या राष्ट्रीय स्तरावरील दोन दिवसीय प्रदूषण प्रतिसाद सरावाच्या आठव्या आवृत्तीचे आयोजन कोठे केले ?

- (1) मुरगाव (2) विशाखापट्टणम
 (3) कोची (4) तुतिकोरीन

3. भारतीय संविधानातील कोणता अनुच्छेद हा संसदेला एक नवीन राज्य निर्माण करण्याचा एकमेव अधिकार देतो, जो स्पष्टपणे दर्शवितो की, भारतीय संविधान हे विशिष्ट संघराज्य वैशिष्ट्यांसह एकात्मक स्वरूपाचे आहे ?

- (1) अनुच्छेद 4 (2) अनुच्छेद 5
 (3) अनुच्छेद 3 (4) अनुच्छेद 2

4. 28 डिसेंबर 2022 रोजी कोणत्या ठिकाणी भारतीय लष्कराने, झोन-3 भूकंप विनिर्देश आणि जवानांसाठी हरित इमारत मानकांचे अनुपालन करून, आपल्या पहिल्या थ्री-डी मुद्रित आपत्ती-प्रतिरोधक घराच्या युनिट संरचनांचे (disaster-resilient house dwelling unit structures) उद्घाटन केले ?
 (1) जोधपूर कॅन्टोन्मेंट (2) अखनूर कॅन्टोन्मेंट
 (3) अहमदाबाद कॅन्टोन्मेंट (4) जालंधर कॅन्टोन्मेंट

5. 2011 च्या जनगणनेनुसार, भारतातील पुरुषांमधील साक्षरता दर किती आहे ?

- (1) 72.14% (2) 92.14%
 (3) 82.14% (4) 52.14%

6. यांना भारतीय राष्ट्रवादाचे प्रेषित असे म्हटले जात असे.

- (1) रवींद्रनाथ टागोर (2) जवाहरलाल नेहरू
 (3) दादाभाई नौरोजी (4) अरविंद घोष

7. प्रतिकूल हवामानाच्या घटना, विशेषतः भूस्खलन करू शकणारी अतिवृष्टी, पूर आणि नैसर्गिक आपत्ती यांमध्ये सातत्याने होणाऱ्या वाढीमुळे खालीलपैकी कोणत्या संस्थेने देशातील भूस्खलन होण्याची ठिकाणे दर्शविणारा भारताचा भूस्खलन नकाशा-संग्रह प्रकाशित केला ?

- (1) भारतीय लष्कर
 (2) भारतीय हवामानशास्त्र विभाग
 (3) संरक्षण संशोधन आणि विकास संस्था
 (4) भारतीय अंतराळ संशोधन संस्था

8. संयुक्त राष्ट्रांच्या अंदाजानुसार, भारताची लोकसंख्या असून, 2023 मध्ये पहिल्यांदाच ती चीनला मागे टाकेल.

- (1) 1,300,775,850 (2) 1,225,775,850
 (3) 1,425,775,850 (4) 1,678,775,850

पेपर क्र. - 38	22 - 4	23 - 1	24 - 3	25 - 2						
पेपर क्र. - 39	1 - 1	2 - 1	3 - 4	4 - 3	5 - 3	6 - 4	7 - 4	8 - 3		

1. लॉर्ड मुनरो यांनी सुरू केलेल्या जमीन महसूल पद्धतीला म्हणतात.
(1) महालवारी पद्धत (2) जमीनदारी पद्धती
(3) रयतवारी पद्धती (4) कायमधारा पद्धती
2. भारताला भेट देण्यासाठी कोणाला व्हिसा आवश्यक असतो?
(1) भारतीय नागरिक (2) PIO
(3) NRI (4) OCI
3. लोहाचा उत्कृष्ट स्रोत म्हणून भूमिका बजावणारा पर्याय ओळखा.
(1) सफरचंद (2) पालक (3) गहू (4) योगर्ट
4. भारत सेवक समाज या संस्थेची स्थापना यांनी केली होती.
(1) मोतीलाल नेहरू (2) बाळ गंगाधर टिळक
(3) गोपाळ कृष्ण गोखले (4) व्ही. डी. सावरकर
5. पेरॉक्साइड मूल्य मापनाच्या दृष्टीने काय दर्शवते?
(1) कार्बन संहति (2) तेलातील असंतृप्तिके प्रमाण
(3) ऑक्सिजनचे प्रमाण (4) तेलातील संतृप्तिके प्रमाण
6. कार्बन उत्सर्जनात लक्षणीय घट झाल्यामुळे खालीलपैकी कोणत्या राज्याने एका सीड फार्मला देशातील पहिले कार्बन न्यूट्रल फार्म घोषित केले आहे?
(1) उत्तराखंड (2) तामिळनाडू
(3) मध्यप्रदेश (4) केरळ
7. बालकामगार (प्रतिबंध आणि विनियमन) अधिनियम कधी मंजूर झाला?
(1) 27 डिसेंबर 1986 (2) 21 डिसेंबर 1986
(3) 20 डिसेंबर 1986 (4) 23 डिसेंबर 1986
8. समता सैनिक दल (SSD) ही सामाजिक संघटना यांनी स्थापन केली होती.
(1) महात्मा गांधी (2) बाबासाहेब आंबेडकर
(3) स्वामी विवेकानंद (4) जवाहरलाल नेहरू
9. एप्रिल 2023 मध्ये, दिग्गज टेनिसपटू जयदीप मुखर्जी यांनी त्यांचे नामक आत्मचरित्र प्रकाशित केले.
(1) क्रॉसकोर्ट (Crosscourt)
(2) रिस्ट अशुअर्ड (Wrist Assured)
(3) फिनाॅमेनन (Phenomenon)
(4) क्लेकोर्ट (Claycourt)
10. माहितीचा अधिकार अधिनियम, 2005 च्या कलम 8 (उप-कलम 1) च्या खालीलपैकी कोणत्या खंडाच्या अंतर्गत, परदेशी सरकारकडून मिळालेली गोपनीय माहिती दिली जाऊ शकत नाही, असा उल्लेख आहे?
(1) खंड (i) (2) खंड (h) (3) खंड (g) (4) खंड (f)
11. मे 2022 मध्ये, सर्वोच्च न्यायालयाने भारतीय संघराज्याला ब्रिटीशकालीन कायद्याचा फेरविचार करण्याची अनुमती देऊन भारतीय दंड संहितेच्या (राजद्रोह) अंतर्गत येणाऱ्या प्रलंबित फौजदारी खटल्यांना आणि न्यायालयीन कार्यवाहीस स्थगित केले.
(1) कलम 19 (1) A (2) कलम 124A
(3) कलम 121 C (4) कलम 19 (2)
12. मूलभूत कर्तव्यांच्या अंमलबजावणीसाठी खालीलपैकी कोणती कायदेशीर तरतूद वर्मा समितीने अभिज्ञात केलेली नाही?
(1) बेकायदेशीर कृत्ये (प्रतिबंधक) अधिनियम
(2) नागरी हक्क संरक्षण अधिनियम
(3) महिला संरक्षण अधिनियम
(4) भारतीय दंड संहिता
13. 2011 च्या जनगणनेनुसार, कोणत्या केंद्रशासित प्रदेशात लोकसंख्येची घनता सर्वात कमी होती?
(1) दमण आणि दीव (2) चंदीगड
(3) अंदमान आणि निकोबार बेटे (4) पुद्दुचेरी
14. कोणत्या खाद्यपदार्थास वनस्पती प्रथिनांचा सर्वोत्तम स्रोत मानले जाते?
(1) दूध (2) शेंगा (3) सफरचंद (4) तांदूळ
15. माहितीचा अधिकार अधिनियम, 2005 च्या कोणत्या कलमात 'निरीक्षण आणि प्रतिवेदन' यांबद्दल उल्लेख आहे?
(1) कलम 23 (2) कलम 22
(3) कलम 25 (4) कलम 24
16. 2011 च्या जनगणनेनुसार, भारतातील कोणत्या राज्यात वृद्ध लोकसंख्येचे (वय 60 वर्षे आणि त्यावरील) सर्वाधिक प्रमाण आहे?
(1) झारखंड (2) केरळ (3) महाराष्ट्र (4) उत्तर प्रदेश

पेपर क्र. - 40	1 - 3	2 - 3	3 - 2	4 - 0	5 - 3	6 - 4	7 - 4	8 - 2	9 - 1	10 - 4	11 - 2
	12 - 1	13 - 3	14 - 2	15 - 3	16 - 2						

17. ब्राह्मो समाजाच्या संदर्भात खालीलपैकी कोणते/कोणती विधान/विधाने योग्य आहे/आहेत?

(A) 1866 मध्ये केशवचंद्र सेन आणि त्यांच्या अनुयायांनी भारतातील ब्राह्मो समाजाची स्थापना केली.

(B) देवेंद्रनाथ टागोर यांचा ब्राह्मो समाज आदि ब्राह्मो समाज म्हणून ओळखला जाऊ लागला.

(1) A आणि B दोन्ही (2) A ही नाही किंवा B ही नाही
(3) केवळ B (4) केवळ A

18. खालीलपैकी कोणी बॉम्बे नेटिव्ह एज्युकेशन सोसायटीची स्थापना केली?

(1) भाऊ दाजी लाड (2) लहूजी साळवे
(3) जगन्नाथ शंकरशेट (4) दादोबा पांडुरंग

19. ओडिशा सरकारने कृषी कर्जासाठी या नावाने शेतकऱ्यांसाठीचे कॉमन क्रेडिट पोर्टल (Common Credit Portal) सुरु केले होते.

(1) सफल (SAFAL) (2) जनधन (JANDHAN)
(3) धनाक्षी (DHANAKSHI) (4) विकास (VIKAS)

20. खालीलपैकी कोणत्या राज्यात ईशान्य भारतातील सर्वात पहिले संपीडित बायोगॅस संयंत्र स्थापन केले जात आहे?

(1) मणिपूर (2) मिझोरम
(3) मेघालय (4) आसाम

21. खालीलपैकी कोणती विंडोज OS ची अत्याधुनिक आवृत्ती आहे?

(1) Windows 8 (विंडोज 8)
(2) Windows 11 (विंडोज 11)
(3) Windows 10 (विंडोज 10)
(4) Windows 7 (विंडोज 7)

22. खालीलपैकी कोणत्या शहराने जलपातळीच्या 32 मीटर खाली धावणाऱ्या पाण्याखालील मेट्रोची पहिली ट्रायल रन (trial run) पूर्ण केली आहे?

(1) मुंबई (2) कोलकाता (3) चेन्नई (4) कोची

23. कुटुंब नियोजनाबाबत जनजागृती करण्यासाठी खालीलपैकी कोण 'समाजस्वास्थ्य' नावाचे मासिक प्रकाशित करत असत?

(1) गोपाळ कृष्ण गोखले (2) साने गुरुजी
(3) आर. डी. कर्वे (4) एस. एम. जोशी

24. खालीलपैकी कोणते परिणाम साध्य करणे हे नमस्ते (NAMASTE) योजनेचे उद्दिष्ट आहे?

(1) भारतातील सफाई कार्यात शून्य मृत्यूप्रमाण राखणे.
(2) सर्व स्वच्छता कार्य अकुशल कामगारांद्वारे केली जातात.
(3) कोणताही स्वच्छता कर्मचारी मानवी विद्येच्या संपर्कात येत नाही.
(4) स्वच्छता कामगारांना स्वयंसहाय्यता गट (SHG) मध्ये एकत्रित केले जाते आणि त्यांना स्वच्छता उपक्रम चालविण्याचे अधिकार दिले जातात.
(1) 1, 3 आणि 4 (2) 1, 2 आणि 3
(3) 2, 3 आणि 4 (4) 1, 2 आणि 4

25. कोणती नदी तिच्या चित्ररमणीय दूधसागर धबधब्यासाठी ओळखली जाते?

(1) मांडवी नदी (2) ब्रह्मपुत्रा नदी
(3) दिबांग नदी (4) गोदावरी नदी

41

Date - 18/08/2023

वेळ : 9 : 00 PM - 11 : 00 PM

1. 36 व्या राष्ट्रीय खेळ 2022 (National Games 2022) मध्ये, महाराष्ट्राने किती पदके जिंकली?

(1) 140 (2) 130 (3) 120 (4) 150

2. 2023 मध्ये, कोणत्या राज्यातील पूर-प्रवण जिल्ह्यांमधील आपत्ती सज्जता सुधारण्यासाठी जागतिक बँकेने 108 दशलक्ष डॉलर्सच्या रकमेची मंजूरी दिली?

(1) आसाम (2) कर्नाटक (3) मेघालय (4) बिहार

3. एल. एम. सिंघवी समितीने भारताच्या परदेशी नागरिकत्वाशी संबंधित आपला अहवाल कोणत्या वर्षी सादर केला?

(1) 2005 (2) 1985 (3) 2000 (4) 2002

4. खालीलपैकी कोणता अनुच्छेद संसदेला सशस्त्र दल, निमलष्करी दल, सार्वजनिक दल आणि सदृश्य दलांच्या मूलभूत अधिकारांवर निर्बंध घालण्याचा किंवा रद्द करण्याचा अधिकार देतो?

(1) अनुच्छेद 34 (2) अनुच्छेद 24
(3) अनुच्छेद 33 (4) अनुच्छेद 19

5. मार्च 2023 मध्ये, खालीलपैकी कोणत्या ठिकाणी आयोजित केलेल्या कार्यक्रमात केंद्रीय पर्यावरण, वन आणि हवामान बदल मंत्री यांनी अरवली पर्वतरांगेभोवतालच्या चार राज्यांतील 5 km च्या राखीव क्षेत्राला हरित करण्यासाठीचा एक प्रमुख उपक्रम - अरवली ग्रीन वॉल प्रोजेक्टचा शुभारंभ केला?

(1) बडगाव, राजस्थान (2) बालापूर, उत्तर प्रदेश
(3) कंगन हेडी, दिल्ली (4) टिकली, हरियाणा

पेपर क्र. - 40	17 - 1	18 - 3	19 - 1	20 - 4	21 - 2	22 - 2	23 - 3	24 - 1	25 - 1
पेपर क्र. - 41	1 - 1	2 - 1	3 - 4	4 - 3	5 - 4				

21. मॅडेलच्या कार्याचा पुनर्गोध कधी झाला, तो कालखंड ओळखा.
 (1) 1900 (2) 1700
 (3) 2000 (4) 1800
22. प्रार्थना समाजाची स्थापना कोणत्या वर्षी झाली?
 (1) 1860 (2) 1867
 (3) 1855 (4) 1849
23. 2022 मध्ये, तेलंगणाचे मुख्यमंत्री के. चंद्रशेखर राव यांनी राज्यातील च्या कल्याण आणि उन्नतीसाठी 'नेथना विमा योजना' सुरु केली आहे.
 (1) गृहिणी (2) विणकर
 (3) शेतकरी (4) विद्यार्थी
24. Which biologist is known for developing the genotype-phenotype relationship?
 (1) Rosalind Franklin (2) Wilhelm Johannsen
 (3) Karl Landsteiner (4) Francis Collins
25.यांनी तत्त्वज्ञानी सभा स्थापन केली आणि नंतर तिचे नाव 'तत्त्वबोधिनी सभा' असे ठेवले.
 (1) देवेंद्रनाथ टागोर (2) राजा राम मोहन रॉय
 (3) रवींद्रनाथ टागोर (4) स्वामी विवेकानंद

42

Date - 18/08/2023

वेळ : 04 : 30 PM - 06 : 30 PM

1. What is the pathway for the entry and exit of lipid and neutral molecules in an animal cell?
 (1) Endocytosis (2) Exocytosis
 (3) Passive diffusion (4) Active transport
2. खालीलपैकी कोणत्या संविधानातून 'कायद्यांचे समान संरक्षण' ही संकल्पना घेण्यात आली आहे?
 (1) आयर्लंडचे संविधान (2) कॅनडाचे संविधान
 (3) ब्रिटिश संविधान (4) अमेरिकेची संविधान
3. खालीलपैकी कोणत्या राज्याला समुदायाभिमुख गंतव्य - विकास (community-oriented destination-development) योजनांचा एक भाग म्हणून जलसंधारण उपक्रम यशस्वीरीत्या राबविल्याबद्दल गौरवण्यासाठी म्हणून वर्ल्ड ट्रेव्हल मार्केट (WTM), लंडन, 2022 येथे एक जागतिक पुरस्कार दिला गेला?
 (1) महाराष्ट्र (2) केरळ (3) राजस्थान (4) ओडिशा

4. जनगणनेच्या आधारसामग्रीनुसार 2001 ते 2011 दरम्यान भारतातील कोणत्या राज्याचा लोकसंख्या वाढीचा दर सर्वाधिक होता ?
 (1) पंजाब (2) आसाम
 (3) मेघालय (4) उत्तर प्रदेश
5. भारतात कोणत्या प्रकारची न्यायव्यवस्था आहे ?
 (1) दुहेरी न्यायप्रणाली
 (2) द्विस्तरीय न्यायप्रणाली
 (3) एकसंध न्यायप्रणाली
 (4) तीन स्वतंत्र कायदेशीर प्रणाली
6. 2022 मध्ये, खालीलपैकी कशाला भारतातील पहिली 'कार्बन प्रभावशून्य पंचायत (carbon neutral panchayat)' म्हणून घोषित करण्यात आले आहे ?
 (1) पल्ली (Palli) (2) धन्वाल्त (Dhanwalt)
 (3) देहरी (Dehari) (4) इंचा (Incha)
7. Which of the following units is NOT a part of the CPU?
 (1) ALU (2) Memory unit
 (3) CU (4) Printer
8. खालीलपैकी कोणत्या संविधानिक सुधारणा अधिनियमाद्वारे शैक्षणिक संस्थांमध्ये OBC साठी आरक्षणाची तरतूद लागू करण्यात आली ?
 (1) 93 वा संविधानिक सुधारणा अधिनियम, 2005
 (2) 83 चा संविधानिक सुधारणा अधिनियम, 2000
 (3) 73 वा संविधानिक सुधारणा अधिनियम, 1992
 (4) 86 वा संविधानिक सुधारणा अधिनियम, 2002
9. खालीलपैकी D जीवनसत्त्वाचा स्रोत कोणता आहे ?
 (1) गूजबेरी (2) पालक
 (3) योगर्ट (4) सूर्यप्रकाश
10. 2022 मध्ये, मध्यप्रदेशात मुलींना उच्च शिक्षण घेण्यासाठी प्रोत्साहित करून त्यांना स्वावलंबी बनवण्याचा प्रयत्न म्हणून खालीलपैकी कोणती योजना सुरु केली गेली ?
 (1) लाडली लक्ष्मी - 2.0 (2) मेरी सरस्वती - 2.0
 (3) सरस्वती - 2.0 (4) लाडली बेटी - 2.0
11. खालीलपैकी कोणता भारतातील गंगा मैदानाचा भाग नाही ?
 (1) खादर मैदाने (2) मोलासे मैदाने
 (3) तराई मैदाने (4) भाबर मैदाने

पेपर क्र. - 41	21 - 1	22 - 2	23 - 2	24 - 2	25 - 1						
पेपर क्र. - 42	1 - 3	2 - 4	3 - 2	4 - 3	5 - 3	6 - 1	7 - 4	8 - 1	9 - 4	10 - 1	11 - 2

23. माहितीचा अधिकार अधिनियम, 2005 च्या कोणत्या कलमात 'माहिती उघड करण्यापासून प्रमुक्ती (सूट)' याबाबत उल्लेख आहे?

- (1) कलम 8 (2) कलम 9
(3) कलम 10 (4) कलम 7

24. 2011 च्या जनगणनेनुसार, कोणत्या राज्यात अनुसूचित जमातींची (ST) संख्या सर्वाधिक आहे?

- (1) बिहार (2) उत्तर प्रदेश
(3) मध्य प्रदेश (4) तामिळनाडू

25. खालीलपैकी कोणी 'शतपत्रे' नावाची लेखमालिका लिहिली होती?

- (1) जगन्नाथ शंकरशेठ (2) विष्णुबुवा ब्रह्मचारी
(3) गोपाळ हरी देशमुख (4) बाळशास्त्री जांभेकर

43

Date - 19/08/2023

वेळ : 09 : 00 AM - 11 : 00 AM

1. खालीलपैकी कोणता संविधानिक सुधारणा अधिनियम 'मिनी-राज्यघटना' म्हणून प्रसिद्ध आहे?

- (1) 92 वा संविधानिक सुधारणा अधिनियम
(2) 42 वा संविधानिक सुधारणा अधिनियम
(3) 44 वा संविधानिक सुधारणा अधिनियम
(4) 86 वा संविधानिक सुधारणा अधिनियम

2. ज्योतिबा फुले यांनी मध्ये सत्यशोधक समाजाची (सत्यशोधक समाज) स्थापन केली.

- (1) 1875 (2) 1871 (3) 1873 (4) 1876

3. 2011 च्या जनगणनेनुसार, भारताचा साक्षरता दर किती आहे?

- (1) 74.04% (2) 62.3%
(3) 79.3% (4) 69.5%

4. मुख्य माहिती आयुक्त किंवा माहिती आयुक्त, यथास्थिती, ते त्यांच्या कार्यालयात प्रवेश करतील त्या तारखेपासून कालावधीसाठी पदावर राहतील.

- (1) पाच वर्षे (2) सात वर्षे
(3) तीन वर्षे (4) एक वर्ष

5. खालीलपैकी कोणते ती विधान/ने बरोबर आहे / आहेत?

- (A) ऑगस्ट 1920 मध्ये, गांधीजींनी असहकार चळवळ सुरू केली आणि त्या काळात पाच विद्यापीठांची स्थापना झाली.

(B) गुजरात विद्यापीठ हे गांधीजींनी 18 ऑक्टोबर 1920 रोजी स्थापन केलेले असून, ते त्या विद्यापीठांपैकी एक होते.

- (1) A किंवा B पैकी एकही नाही (2) फक्त A
(3) A आणि B दोन्ही (4) फक्त B

6. खालीलपैकी कोणते एक सिस्टम सॉफ्टवेअर नाही?

- (1) डिव्हाईस ड्राईव्हर (Device drivers)
(2) वर्ड प्रोसेसर (Word processor)
(3) ऑपरेटिंग सिस्टम (Operating system)
(4) लिंक्स (Linkers)

7. आम्लधर्मी वातावरणात साखरेला द्रवणांकाच्या वर उष्णता दिल्यावर तयार होणारे उत्पादन कोणते आहे?

- (1) माल्टोज (2) शर्करारंजक
(3) सेल्यूलोज (4) पिष्ट

8. मानवी शरीरात सामान्यतः कोणता घटक संचयित केला जात नाही?

- (1) मेद (Fats)
(2) कर्बोदके (Carbohydrates)
(3) लिपिड्स (Lipids)
(4) एमिनो आम्ले (Amino acids)

9. खालीलपैकी कोणती वनस्पती भारतात मुबलक प्रमाणात आढळते आणि तिच्या उच्च प्रतिजैविक आणि जंतुनाशक गुणधर्मासाठी ओळखली जाते?

- (1) कचनार (2) कडुलिंब
(3) सागवान (4) साल

10. माहितीचा अधिकार अधिनियम, 2005 च्या कोणत्या कलमात केंद्रीय माहिती आयोगाच्या घटनेबाबत उल्लेख आहे?

- (1) कलम 14 (2) कलम 12
(3) कलम 11 (4) कलम 13

11. खालीलपैकी कोणत्या वर्षी राजा राममोहन रॉय यांनी वेदांत हा ग्रंथ प्रकाशित केला?

- (1) 1815 (2) 1816 (3) 1817 (4) 1818

पेपर क्र. - 42	23 - 1	24 - 3	25 - 3								
पेपर क्र. - 43	1 - 2	2 - 3	3 - 1	4 - 3	5 - 3	6 - 3	7 - 2	8 - 4	9 - 2	10 - 2	11 - 1

1. भारतातील खालीलपैकी कोणते राज्य एकशिंगी गेंड्यांच्या विपुलतेसाठी ओळखले जाते?
(1) आसाम (2) कर्नाटक (3) राजस्थान (4) मध्य प्रदेश
2. What is the name of the Indian, US military joint humanitarian aid exercise held in October 2022, aiming at collaboration between the two militaries to coordinate disaster relief in the Indo-Pacific region?
(1) Tiger Triumph (2) Marine Wonder
(3) Blue Whale (4) SPILL
3. What is the specific group of the animal kingdom that includes Jellyfish?
(1) Coelenterata (2) Amphibians
(3) Reptiles (4) Porifera
4. 1815 साली, आत्मीय सभेची स्थापना यांनी केली.
(1) राजा राममोहन रॉय (2) रवींद्रनाथ टागोर
(3) स्वामी विवेकानंद (4) स्वामी दयानंद सरस्वती
5. सप्टेंबर 2022 मध्ये, पर्यावरण, वन आणि हवामान बदल मंत्रालयाने स्वच्छ वायु सर्वेक्षणाची घोषणा केली, जे 2025-26 पर्यंत वायू प्रदूषण 40% पर्यंत कमी करण्यासाठी शहर स्तरावर कृती योजना राबविण्यासाठी देशातील किती शहरांच्या क्रमवारीला चालना देईल?
(1) 141 (2) 151 (3) 161 (4) 131
6. 1832 साली खालीलपैकी कोणी 'दर्पण' नावाचे मराठी भाषेतील पहिले वृत्तपत्र प्रकाशित केले?
(1) बाळशास्त्री जांभेकर (2) बाबा पद्मनजी
(3) बेहरामजी मलबारी (4) आर. जी. भांडारकर
7. The conception of writs issued by the Supreme Court of India and high courts have been borrowed from which country?
(1) USA (2) Ireland (3) Britain (4) Canada
8. गव्हातील कोणता घटक ब्रेड बनवण्याच्या क्षमतेस हातभार लावतो?
(1) ग्लुटेन (2) कॅल्शियम (3) लोह (4) शर्करा
9. कोणत्या वर्षी भारतीय संविधानात मूलभूत कर्तव्ये समाविष्ट करण्यात आली?
(1) 1976 (2) 1980 (3) 1978 (4) 1981
10. As per the provisions of the Right to Information Act, 2005, what is the maximum time period within which the Public Information Officer has to provide information after the receipt of request for information if the information pertains to the life or liberty of a person?
(1) Forty-eight hours
(2) Seventy-two hours
(3) Twenty-four hours
(4) Twelve hours
11. 'दुबार धोका नाही' चा (No double jeopardy) अर्थ काय आहे?
(1) प्रत्येक व्यक्तीला मतदानाचा समान हक्क आहे.
(2) प्रत्येक नागरिक मालमत्ता खरेदी करू शकतो.
(3) कोणत्याही व्यक्तीबाबत लिंग, वंश किंवा धर्माच्या आधारावर भेदभाव केला जाणार नाही.
(4) एकाच अपराधाबद्दल एकापेक्षा अधिक वेळा कोणत्याही व्यक्तीवर खटला चालवला जाणार नाही आणि तिला शिक्षा दिली जाणार नाही.
12. भारतीय राष्ट्रीय काँग्रेसचे उदारमतवादी नेते गोपाळ कृष्ण गोखले यांनी मध्ये एम. जी. रानडे यांच्या मदतीने भारत सेवक समाज या संस्थेची स्थापना केली.
(1) 1901 (2) 1905 (3) 1903 (4) 1907
13. Which scheme for the interest subsidy on education loans for overseas studies for students belonging to minority communities was discontinued by The Ministry of Minority Affairs (MoMA) from 2022-23 onwards?
(1) Pardesh scheme
(2) Padho Videsh scheme
(3) Pardesh main Padho scheme
(4) Padho Pardesh scheme

पेपर क्र. - 44	1 - 1	2 - 1	3 - 1	4 - 1	5 - 4	6 - 1	7 - 3	8 - 1	9 - 1	10 - 1	11 - 4
	12 - 2	13 - 4									

1. खालीलपैकी कोणाकडे नागरिकत्वाच्या हक्काचे विनियमन करण्याचा अधिकार आहे?
 - (1) सर्वोच्च न्यायालय
 - (2) केंद्रीय मंत्रिमंडळ
 - (3) राष्ट्रपती
 - (4) संसद
2. खालीलपैकी कोणते जलद्रावणीय जीवनसत्व आहे?
 - (1) जीवनसत्व - K
 - (2) जीवनसत्व - D
 - (3) जीवनसत्व - E
 - (4) जीवनसत्व - B
3. एप्रिल 2023 मध्ये, केरळ शिपिंग अँड इनलँड नेव्हिगेशन कॉर्पोरेशनने कार्यान्वित केलेल्या आणि कोची बँकवॉटर्समध्ये नौकानयनासाठी सज्ज झालेल्या पहिल्या सौर ऊर्जा चालित पर्यटक जहाजाचे नाव काय आहे?
 - (1) आरव्ही बंगाल गंगा (RV Bengal Ganga)
 - (2) हेरिटेज-I (Heritage-I)
 - (3) सूर्याशू (Sooryamshu)
 - (4) गंगा व्होयाजर-I (Ganga Voyager-1)
4. 2023 मध्ये, खालीलपैकी कोणाला जम्मू आणि काश्मीरचे लेफ्टनंट गव्हर्नर यांच्या हस्ते वन्यजीव संवर्धन पुरस्काराने सन्मानित केले गेले असून त्या केंद्रशासित प्रदेशातील आपल्या संवर्धनाच्या प्रयत्नांसाठी पुरस्कृत होणारी पहिली महिला ठरल्या आहेत?
 - (1) मेहरुत्रिसा बेगम
 - (2) नुसरत जहाँ
 - (3) आलिया मीर
 - (4) हुस्ना कुरैशी
5. युग्मविकल्पीची (Alleles) अनुवंशदृष्ट्या व्याख्या अशी केली जाते.
 - (1) गुणसूत्रे जे समजातीय आहेत
 - (2) जीनचे पर्यायी रूप
 - (3) जीन्स जी संलग्न आहेत
 - (4) प्रभावी जीन
6. दुसऱ्या इंग्रज-मराठा युद्धात ईस्ट इंडिया कंपनीचे गव्हर्नर जनरल कोण होते?
 - (1) वॉरन हेस्टिंग्ज
 - (2) रॉबर्ट क्लार्क
 - (3) लॉर्ड वेलस्ली
 - (4) लॉर्ड कर्झन
7. 2011 च्या जनगणनेनुसार, भारताची एकूण लोकसंख्या किती आहे?
 - (1) 1.36 अब्ज
 - (2) 1.14 अब्ज
 - (3) 1.21 अब्ज
 - (4) 1.01 अब्ज
8. खालीलपैकी कोणी गिजुभाई बंधेका यांच्यासोबत मुलांसाठी 'नूतन बाल शिक्षण संघ' स्थापन केला?
 - (1) एन. जी. गोरे
 - (2) क्रांतिरिंह नाना पाटील
 - (3) आचार्य विनोबा भावे
 - (4) ताराबाई मोडक
9. राष्ट्रकुल क्रीडा स्पर्धा-2022 रौप्यपदक विजेती प्रियांका गोस्वामी खालीलपैकी कोणत्या स्पर्धेशी संबंधित आहे?
 - (1) तिहेरी उडी
 - (2) उंच उडी
 - (3) भाला फेक
 - (4) रेस वॉक
10. 2022 मध्ये केंद्रीय सामाजिक न्याय आणि सक्षमीकरण मंत्री डॉ. वीरेंद्र कुमार यांनी निराधार आणि भिकारी यांच्या सतत उद्धवणाच्या समस्येचे निराकरण करण्यासाठी सुरू केलेल्या योजनेचे नाव काय आहे?
 - (1) SMARTH 75
 - (2) LIFE 75
 - (3) SMILE 75
 - (4) MILE 75
11. सरकारच्या संसदीय स्वरूपाची खालीलपैकी कोणते वैशिष्ट्य हे भारतीय संविधानाच्या वैशिष्ट्यांतर्गत येत नाही?
 - (1) कार्यकारी हे विधिमंडळाचे सदस्य असतात
 - (2) बहुमत मिळवलेल्या पक्षाचे शासन
 - (3) वरिष्ठ सभागृहाचे विसर्जन
 - (4) सरकारचे मंत्रिमंडळ स्वरूप
12. माहितीचा अधिकार अधिनियम, 2005 च्या कोणत्या कलमात 'कार्यक्रम तयार करण्यासाठी योग्य सरकार' याबद्दल उल्लेख आहे?
 - (1) कलम 25
 - (2) कलम 26
 - (3) कलम 28
 - (4) कलम 27
13. संगणकाच्या हार्ड डिस्कवरील एखाद्या फोल्डरच्या आत असलेल्या फोल्डरला, म्हणतात.
 - (1) पॅरेंट फोल्डर
 - (2) सब फोल्डर
 - (3) बेबी फोल्डर
 - (4) चाईल्ड फोल्डर

पेपर क्र. - 45	1 - 4	2 - 4	3 - 3	4 - 3	5 - 2	6 - 3	7 - 3	8 - 4	9 - 4	10 - 3	11 - 3
	12 - 2	13 - 2									

1. खालीलपैकी कोणता पर्याय कुमाऊं हिमालया चे अचूक वर्णन करतो?
 - (1) सिंधू आणि सतलज नद्यांच्या दरम्यान असलेला हिमालय
 - (2) तीस्ता आणि दिहांग नद्यांच्या दरम्यान असलेला हिमालय
 - (3) सतलज आणि काली नद्यांच्या दरम्यान असलेला हिमालय
 - (4) काली आणि तीस्ता नद्यांच्या दरम्यान असलेला हिमालय
2. एप्रिल 2023 मध्ये हिमाचल सरकारने संजीवनी योजना सुरु केली. खालीलपैकी कोणते कृषी कार्य करणाऱ्या शेतकऱ्यांना लाभ पुरविणे हे या योजनेचे उद्दिष्ट आहे?
 - (1) सेंद्रिय शेती
 - (2) दुग्धव्यवसाय आणि पशुधन
 - (3) मधमाशी पालन
 - (4) पुष्पसंवर्धन
3. खालीलपैकी कोण या केरळच्या मलबार प्रदेशातील महिला संघाच्या प्रमुख नेत्या आणि अखिल केरळ महिला लीगच्या संस्थापक सदस्यांपैकी एक आहेत?
 - (1) सरोजिनी नायडू
 - (2) ए. व्ही कुट्टीमालू अम्मा
 - (3) दाक्षायणी बेलायुधन
 - (4) सुभाषिनी अली
4. स्नार्युंच्या आकुंचनमध्ये कोणते खनिज घटक आवश्यक भूमिका बजावतात?
 - (1) आयोडीन
 - (2) जस्त
 - (3) क्लोराईड
 - (4) कॅल्शियम
5. खालीलपैकी कोणाला स्त्री-पुरुष तुलना (स्त्री पुरुष आणि पुरुष यांच्यातील तुलना) या कार्यासाठी ओळखले जाते?
 - (1) देशनाबेन जोशी
 - (2) सावित्री कुलकर्णी
 - (3) ताराबाई शिंदे
 - (4) अनन्या देशपांडे
6. मे 2023 मध्ये, कोणत्या मंत्रालयाने 'पोषण भी, पढाई भी' योजना सुरु केली?
 - (1) गृह मंत्रालय
 - (2) श्रम आणि रोजगार मंत्रालय
 - (3) आदिवासी व्यवहार मंत्रालय
 - (4) महिला आणि बाल विकास मंत्रालय
7. नागरिकत्व अधिनियम 1955 च्या कोणत्या अनुसूचीत एखाद्या परदेशी व्यक्तीला नागरिकीकरणद्वारे भारताचे नागरिकत्व प्राप्त करण्यासाठी आवश्यक असलेल्या इतर पात्रतांना नमूद केलेले आहे?
 - (1) तिसरी अनुसूची
 - (2) चौथी अनुसूची
 - (3) पहिली अनुसूची
 - (4) दुसरी अनुसूची

- (1) तिसरी अनुसूची
 - (2) चौथी अनुसूची
 - (3) पहिली अनुसूची
 - (4) दुसरी अनुसूची
8. ऑक्टोबर 2022 मध्ये प्रकाशित झालेल्या 'द एमएस धोनी वे लिडरशिप मास्टरक्लास फ्रॉम द मास्टर ऑफ द क्राफ्ट' या पुस्तकाचे लेखक कोण आहेत?
 - (1) भूमिका चंद्र आणि बोरिया मजुमदार
 - (2) रजन नारंग आणि बोरिया मजुमदार
 - (3) आर. श्रीधर आणि बोरिया मजुमदार
 - (4) रजन नारंग आणि भूमिका चंद्र
 9. 2022 च्या अहवालातील भारतीय हवामानाबाबतच्या विधानानुसार, वर्ष 1901 पासून वर्ष 2022 हे भारतासाठीचे सर्वाधिक उष्ण वर्ष आहे.
 - (1) तिसरे
 - (2) पाचवे
 - (3) दुसरे
 - (4) सातवे
 10. खालीलपैकी कोणत्या प्रकरणामध्ये भारताच्या सर्वोच्च न्यायालयाने राज्यघटनेच्या अनुच्छेद 368 मध्ये नमूद केल्यानुसार, मूलभूत हक्क हे संसदेच्या दुरुस्ती अधिकाराच्या कक्षेबाहेर असल्याचा निर्णय दिला?
 - (1) मिनर्वा मिल प्रकरण
 - (2) मनेका गांधी प्रकरण
 - (3) गोलकनाथ प्रकरण
 - (4) केशवानंद भारती प्रकरण
 11. खालीलपैकी कोणत्या प्रकरणात सर्वोच्च न्यायालयाने लोकसेवकाची मालमत्ता संपत्ती आणि दायित्वे यांसारखी माहिती ही माहिती अधिकार अधिनियमाच्या कक्षेत येत नाही - असा निर्णय दिला आहे?
 - (1) देवाशिष मोहती विरुद्ध जोडिशा राज्य माहिती आयोग
 - (2) गिरीश रामचंद्र देशपांडे विरुद्ध केंद्रीय माहिती आयोग आणि इतर
 - (3) जगदीश शेखर विरुद्ध पंजाब राज्य माहिती आयोग
 - (4) रामप्रसाद चौधरी विरुद्ध आंध्र प्रदेश राज्य माहिती आयोग आणि इतर
 12. मार्च 2023 मध्ये ठाठरी प्रदेशात जमीन खचल्याची नोंद केली गेली. ही जमीन खचण्याची घटना कोणत्या राज्य/ केंद्रशासित प्रदेशात घडली?
 - (1) हिमाचल प्रदेश
 - (2) जम्मू आणि काश्मीर
 - (3) लडाख
 - (4) आसाम

पेपर क्र. - 46	1 - 3	2 - 2	3 - 2	4 - 4	5 - 3	6 - 4	7 - 1	8 - 4	9 - 2	10 - 3	11 - 2
	12 - 2										

1. माहितीचा अधिकार अधिनियम, 2005 नुसार, राज्य माहिती आयोगावर कमाल किती राज्य माहिती आयुक्तांची नेमणूक केली जाऊ शकते?
 - (1) आठ
 - (2) बारा
 - (3) पाच
 - (4) दहा
2. खालीलपैकी कोणते भारतीय आरक्षित जैव-क्षेत्र (bio-reserve) हे जागतिक आरक्षित जैव-क्षेत्रजालाचा (global bio-reserve network) एक भाग नाही?
 - (1) मानस
 - (2) पन्ना
 - (3) मन्नाचे आखात
 - (4) निलगिरी
3. भारतीय नागरिकत्व किती मार्गांनी मिळू शकते?
 - (1) सात
 - (2) नऊ
 - (3) तीन
 - (4) पाच
4. 2023 मध्ये, सानिया मिर्झा आणि रोहन बोपण्णा खालीलपैकी कोणत्या ग्रॅण्ड स्लॅममध्ये मिश्र दुहेरीत उपविजेते ठरले?
 - (1) विम्बल्डन, 2023
 - (2) यूएस (US) ओपन, 2023
 - (3) ऑस्ट्रेलियन ओपन, 2023
 - (4) फ्रेंच ओपन, 2023
5. हवामान बदल कामगिरी निर्देशांक (CCPI 2023) संदर्भात खालीलपैकी कोणते/ती विधान/ने अचूक/सत्य आहे/आहेत?
 - (I) हवामान बदलावर सर्वोत्तम कामगिरी करणाऱ्या पहिल्या 5 देशांपैकी भारत हा एक आहे.
 - (II) हवामान बदल कामगिरी निर्देशांक (CCPI 2023) ने भारताला G-20 देशांमध्ये सर्वोत्तम स्थान दिले आहे.
 - (III) भारताचा क्रमांक 5 वा आहे.
 - (1) I आणि II
 - (2) फक्त II
 - (3) I आणि II
 - (4) II आणि III
6. मे 2023 मध्ये, राणा कपूर यांना मुंबई उच्च न्यायालयाने जामीन नाकारला. राणा कपूर हे कोणत्या बँकेचे संस्थापक आहेत?
 - (1) ICICI बँक
 - (2) येस बँक
 - (3) सिटी (CITI) बँक
 - (4) लॉर्ड कृष्ण
7. जननद्रव्याच्या निरंतरतेचा सिद्धांत कोणत्या शास्त्रज्ञाने मांडला?
 - (1) अल्ब्रेक्ट कोसेल (Albrecht Kossel)
 - (2) रिचर्ड लेवॉटिन (Richard Lewontin)
 - (3) ऑगस्ट वेझमन (August Weismann)
 - (4) थिओडोर श्वान (Theodor Schwann)
8. 1782 साली ब्रिटिश ईस्ट इंडिया कंपनी आणि यांच्यादरम्यानच्या सालबाईच्या तहावर स्वाक्षरी केली गेली.
 - (1) मुघल
 - (2) राजपूत
 - (3) फ्रेंच
 - (4) मराठे
9. मार्च 2023 मध्ये, आसामच्या मुख्यमंत्र्यांनी कामरूप जिल्ह्यात ईशान्य भारतातील पहिल्या, चे उद्घाटन केले.
 - (1) संपीडित बायोगॅस संयंत्र
 - (2) एक्सप्रेस वे (expressway)
 - (3) सौरऊर्जा संयंत्र
 - (4) इलेक्ट्रिक बस
10. खालीलपैकी कोणते समाजसुधारक प्रार्थना समाज आणि सत्यशोधक समाजाशी जोडले गेले होते आणि त्यांनी समाज विवाह आणि भैय्या एज्युकेशन यांसारखे कार्यक्रम सुरू केले?
 - (1) शंकरराव मोरे
 - (2) माधुरी देशमुख
 - (3) नाना पाटील
 - (4) केशवराव जाधव
11. खालीलपैकी कोणते विकरजन (Zymogen) शी संबंधित आहे?
 - (1) पूर्वद्रव्य विकर
 - (2) विकर विष
 - (3) विकर संदमक
 - (4) विकर प्रारूप
12. अनुच्छेद 170 नुसार, प्रत्येक राज्याच्या विधानसभेत 500 हून अधिक आणि पेक्षा कमी सदस्य असू नयेत.
 - (1) 50
 - (2) 66
 - (3) 60
 - (4) 55
13. 'काथ' ('Katha') खालीलपैकी कोणत्या झाडाच्या लाकडातून मिळतो?
 - (1) लिची
 - (2) खैर
 - (3) साल
 - (4) सागवान
14. राज्याचे मुख्य माहिती आयुक्त किंवा राज्य माहिती आयुक्तांना त्यांच्या कार्यालयातून केवळ च्या आदेशाने पदमुक्त केले जाईल.
 - (1) भारताचे राष्ट्रपती
 - (2) मुख्य सचिव
 - (3) पंतप्रधान
 - (4) राज्याचे राज्यपाल

पेपर क्र. - 47	1 - 4	2 - 1	3 - 4	4 - 3	5 - 3	6 - 2	7 - 3	8 - 4	9 - 1	10 - 3	11 - 1
	12 - 3	13 - 2	14 - 4								

15. खालीलपैकी कोणते/ती विधान/ने हवामानासाठीच्या कृषी नवोपक्रम अभियानाबाबत अचूक आहे/आहेत?

- (I) भारत हा फेब्रुवारी 2023 मध्ये हवामानासाठीच्या कृषी नवोपक्रम अभियानात सामील झाला.
 (II) अमेरिकेची संयुक्त संस्थाने आणि संयुक्त अरब अमिरातीने नोव्हेंबर 2020 मध्ये हवामानासाठीचे कृषी नवोपक्रम अभियान सुरू केले.
 (III) त्याचे संक्षेपाक्षर AIM4C असे आहे.
 (1) फक्त I (2) I आणि II
 (3) फक्त II (4) I आणि III

16. महालवारी पद्धत मध्ये प्रस्तावित केली गेली.

- (1) 1819 (2) 1821
 (3) 1822 (4) 1820

17. खालीलपैकी कोणत्या वर्षी हिंदुस्तान रिपब्लिकन असोसिएशनचे (HRA) हिंदुस्थान सोशालिस्ट रिपब्लिकन असोसिएशन (HSRA) असे नामकरण करण्यात आले?

- (1) 1928 (2) 1926
 (3) 1924 (4) 1927

18. 1955 च्या नागरिकत्व अधिनियमात खालीलपैकी काय समाविष्ट नाही?

- (1) दुहेरी नागरिकत्व (2) समाप्ती
 (3) संपादन (4) हक्कत्याग

19. उत्तरप्रदेश (UP) सरकारने ऑक्टोबर 2022 मध्ये, किती पूर्ण महिला प्रांतीय सशस्त्र पोलीस दल (PAC) बटालियनची स्थापना केली?

- (1) 6 (2) 3 (3) 8 (4) 2

20. मार्च 2023 मध्ये, केंद्र सरकारने वर्ष 2023 मध्ये आतापर्यंत UAPA अंतर्गत किती संघटनांना दहशतवादी संघटना म्हणून अधिसूचित केले आहे?

- (1) चार (2) तीन (3) दोन (4) एक

21. खालील समाजसुधारकांपैकी कोण प्रार्थना समाजाचे संस्थापक आणि बॉम्बे नॅचरल हिस्ट्री सोसायटीचे सहसंस्थापक होते?

- (1) ई.सी. विद्यासागर (2) आर. जी. भांडारकर
 (3) आत्माराम पांडुरंग (4) एम. जी. रानडे

22. 1866 साली यांनी लंडनमधील ईस्ट इंडिया असोसिएशनची स्थापना केली होती.

- (1) जमशेदजी टाटा (2) नौरोजी फुर्टूनजी
 (3) केआर कामा (4) दादाभाई नौरोजी

23. ताराकेंद्र (centrosome) चे प्राथमिक कार्य काय आहे?

- (1) DNA प्रतिकृतीकरण
 (2) केवळ मेंदूच्या विभाजनाचे नियमन
 (3) तर्कु तंतूची निर्मिती
 (4) अनुवांशिक सामग्रीचा संग्रह

24. वेबसाईटचे फ्रंट-एंड पेजेस तयार करण्यासाठी कोणती लॅंग्वेज वापरली जाते?

- (1) HTML (2) जावा www
 (3) C (4) C++

25. 2011 च्या जनगणनेनुसार, भारतातील खालीलपैकी कोणत्या केंद्रशासित प्रदेशातील साक्षरता दर सर्वात कमी आहे?

- (1) अंदमान आणि निकोबार बेटे
 (2) दमण आणि दीव
 (3) दादरा आणि नगर हवेली
 (4) लक्षद्वीप

48

Date - 20/08/2023

वेळ : 04 : 30 PM - 06 : 30 PM

1. खालीलपैकी कोणते राज्य सरकार त्यांच्या क्रीडा धोरण 2023 नुसार, राज्य क्रीडा प्राधिकरण स्थापन करेल?

- (1) हरियाणा (2) उत्तर प्रदेश
 (3) आसाम (4) महाराष्ट्र

2. खालीलपैकी कोणी 'महाराष्ट्र अंधश्रद्धा निर्मूलन समिती'ची स्थापना केली आहे?

- (1) अण्णा हजारे (2) नरेंद्र अच्युत दाभोलकर
 (3) गोपाळ हरी देशमुख (4) पुरुषोत्तम काकोडकर

3. Who is commonly referred to as the father of plant anatomy?

- (1) Francis Crick (2) Richard Dawkins
 (3) Carolus Linnaeus (4) Nehemiah Grew

पेपर क्र. - 47	15 - 4	16 - 3	17 - 1	18 - 1	19 - 2	20 - 1	21 - 3	22 - 4	23 - 1	24 - 1	25 - 3
पेपर क्र. - 48	1 - 2	2 - 2	3 - 4								

20. According to Union Government estimates, by 2025, entire India will be covered by Doppler Radar Network. This network is used for predicting which of the following?

- (1) Volcanic eruptions (2) Forest Fires
(3) Weather Events (4) Earthquakes

21. भारतीय राज्यघटनेचा भाग IV - A कशाशी संबंधित आहे?

- (1) उद्देशिका (2) मूलभूत हक्क
(3) नागरिकत्व (4) मूलभूत कर्तव्ये

22. खालीलपैकी कोण स्वातंत्र्यपूर्व भारतातील भारतीय भौतिकशास्त्रज्ञ होते?

- (1) जगदीशचंद्र बोस (2) श्रीनिवास रामानुजन
(3) गोविंद सदाशिव घुर्गे (4) ए. आर. देसाई

23. मेवाडच्या भिल्लांचे नेतृत्व करणाऱ्या खालीलपैकी कोणाच्या व्यक्तीचा उदयपूरच्या बिजोलिया चळवळीशी संबंध होता?

- (1) मोतीलाल तेजावत (2) बिरसा मुंडा
(3) तिरोत सिंह (4) लक्ष्मण नाईक

24. Identify the components of food that are commonly referred to as body builder.

- (1) Sodium (2) Sugars
(3) Fibre (4) Proteins

25. खालीलपैकी कोणते चुकीचे जुळवलेले आहे?

- (1) अनुच्छेद 6: पाकिस्तानातून स्थलांतर करून भारतात आलेल्या विवक्षित व्यक्तींचे नागरिकत्वाचे हक्क
(2) अनुच्छेद 9 : परकीय देशाचे नागरिकत्व स्वेच्छेने संपादणाऱ्या व्यक्ती नागरिक नसणे
(3) अनुच्छेद 7 भारतीय राज्यघटना : स्थलांतर करून पाकिस्तानात गेलेल्या विवक्षित व्यक्तींचे नागरिकत्वाचे हक्क
(4) अनुच्छेद 11 : सर्वोच्च न्यायालयाने नागरिकत्वाच्या हक्काचे कायद्याद्वारे विनियमन करणे

49

Date - 21/08/2023

वेळ : 09 : 00 PM - 11 : 00 PM

1. What is the cause of winter rainfall in north-west India?

- (1) The Mediterranean cyclones
(2) The Bay of Bengal Monsoon
(3) The Arabian Sea currents
(4) The Retreating Monsoon

2. Who won the 1st medal for India in the Commonwealth Games-2022, in August 2022?

- (1) Dutee Chand (2) Sanket Sargar
(3) Anchat Sharat Kamal (4) Mirabai Chanu

3. In January 2023, Odisha won World Habitat Award 2023 for its JAGA Mission. This mission is related with which of the following?

- (1) Saving coastal beaches
(2) Protecting forests
(3) Reviving old wells
(4) Slum dwellers

4. Which of the following freedom fighters was also known as 'Old Lady Gandhi' and was shot dead by police in the pre-independent India?

- (1) Aruna Asaf Ali (2) Sarojini Naidu
(3) Matangini Hazra (4) Sucheta Kripalani

5. In terms of the Union, State and Concurrent List, which Schedule of the Indian Constitution divides the authority between the Centre and the States?

- (1) First Schedule (2) Fourth Schedule
(3) Sixth Schedule (4) Seventh Schedule

6. Which of the following rivers flows through a rift valley?

- (1) Tungabhadra River (2) Godavari River
(3) Narmada River (4) Brahmaputra River

7. Which Constitutional Amendment, provided for citizens of India to become eligible to vote at the age of 18 years?

- (1) 60th Amendment Act (2) 80th Amendment Act
(3) 61st Amendment Act (4) 45th Amendment Act

पेपर क्र. - 48	20 - 3	21 - 4	22 - 1	23 - 1	24 - 4	25 - 4				
पेपर क्र. - 49	1 - 1	2 - 2	3 - 4	4 - 3	5 - 4	6 - 3	7 - 3			

23. Which of the following health issues can be attributed to a diet that is abundant in saturated fats?

- (1) Diabetes (2) Cardiovascular disease
(3) Obesity (4) Osteoporosis

24. The Governor General of British India, Lord Wellesley, founded Fort William College in Calcutta in

- (1) 1858 (2) 1800 (3) 1885 (4) 1835

25. In August 2022, which high court's 5 benches became paperless?

- (1) Himachal (2) Punjab and Haryana
(3) Karnataka (4) Kerala

50

Date - 21/08/2023

वेळ : 12 : 30 PM - 02 : 30 PM

1. संपूर्णपणे जल आणि सौर ऊर्जेवर चालणाऱ्या भारतातील पहिल्या विमानतळाबाबत खालीलपैकी कोणते/ती विधान/ने अचूक आहे/आहेत?

(I) दिल्लीच्या या विमानतळाचे नाव इंदिरा गांधी आंतरराष्ट्रीय (IGI) विमानतळ आहे.

(II) दिल्लीच्या इंदिरा गांधी आंतरराष्ट्रीय (IGI) विमानतळाने आपल्या वापराच्या गरजांसाठी 1 जून 2022 पासून अक्षय शक्ती ऊर्जेस अवलंबिले आहे.

(III) येथील 94% ऊर्जा ही सौरऊर्जा संयंत्रातून येत आहे.

- (1) II आणि III (2) फक्त III
(3) फक्त I (4) I आणि II

2. अयोध्या हे एक प्राचीन धार्मिक शहर कोणत्या राज्यात आहे?

- (1) उत्तराखंड (2) बिहार
(3) झारखंड (4) उत्तर प्रदेश

3. रेल्वे आरक्षण प्रणालीच्या संदर्भात PQWL चे पूर्ण रूप काय आहे?

- (1) पब्लिक क्यू वेटिंग लिस्ट (Public Queue Waiting List)
(2) प्राथमरी क्यू वेटिंग लिस्ट (Primary Queue Waiting List)
(3) पूल्ड कोटा वेटिंग लिस्ट (Pooled Quota Waiting List)

(4) पूअर क्यू वेटिंग लिस्ट (Poor Queue Waiting List)

4. खालीलपैकी कोणत्या व्यक्तीने मोतीलाल नेहरूंसोबत स्वराज पक्षाची स्थापना केली?

- (1) आर. सी. दत्त (2) महात्मा गांधी
(3) डब्ल्यू. सी. बॅनर्जी (4) सी. आर. दास

5. आंतरराष्ट्रीय सीमेपासून 150 यार्डाच्या आत, महिला आणि मुलांच्या तस्करीला प्रतिबंध घालण्यासाठी तसेच विविध विकासात्मक उपक्रम राबविण्यासाठी, 2022 मध्ये खालीलपैकी कोणत्या देशाने भारतासोबत 52 वी बीएसएफ (BSF) डीजी (DG) स्तरावरील द्विपक्षीय चर्चा केली होती?

- (1) पाकिस्तान (2) नेपाळ
(3) भूतान (4) बांगलादेश

6. खेलो इंडिया युवा क्रीडा स्पर्धा-2022 ची ट्रॅक सायकलिंग स्पर्धा, येथे आयोजित करण्यात आली होती.

- (1) मध्य प्रदेश (2) हरियाणा
(3) नवी दिल्ली (4) गुजरात

7. ऑगस्ट 2022 मध्ये, गुजरातच्या कोणत्या शहरात मोदी शैक्षणिक संकुलाचे उद्घाटन केले गेले?

- (1) राजकोट (2) पोरबंदर (3) अहमदाबाद (4) सुरत

8. 2011 च्या जनगणनेनुसार, भारतातील महिलांमध्ये साक्षरता दर किती आहे?

- (1) 65.46% (2) 72.46%
(3) 75.46% (4) 69.46%

9. फेब्रुवारी 2023 मध्ये, भारताच्या आदिवासी वारशाचे भव्यदिव्य चित्रण सादर करणारा आदी महोत्सव कोठे पार पडला होता?

- (1) नागालँड (2) ओडिशा
(3) नवी दिल्ली (4) झारखंड

10. 1951 मध्ये बापू धर्म सभा आदिवासी सेवा मंडळाची स्थापना यांनी केली होती.

- (1) कमला चट्टोपाध्याय (2) सावित्रीबाई फुले
(3) राजमोहिनी देवी (4) किचूर चेन्नम्मा

11. भारताच्या कोणत्या प्रदेशात शेकरू (इंडियन जायंट स्क्विरल) आढळते?

- (1) पश्चिम घाट (2) सुंदरबन
(3) थारचे वाळवंट (4) माळवा पठार

पेपर क्र. - 49	23 - 2	24 - 2	25 - 4									
पेपर क्र. - 50	1 - 4	2 - 4	3 - 3	4 - 4	5 - 4	6 - 3	7 - 3	8 - 1	9 - 3	10 - 3	11 - 1	

12. महात्मा गांधींनी येथील साबरमती आश्रमापासून दांडीपर्यंत मिठाचा सत्याग्रह काढला होता.
 (1) पोरबंदर (2) बडोदा
 (3) अहमदाबाद (4) जामनगर
13. भारतीय राज्यघटनेतील कोणती तरतूद जर्मनीच्या घटनेतून स्वीकारण्यात आलेली आहे?
 (1) आणीबाणीदरम्यान मूलभूत हक्कांचे निलंबन
 (2) राज्यसभा सदस्यांची निवडणूक
 (3) शोषाधिकार केंद्राकडे असणे
 (4) समवर्ती सूचीची संकल्पना
14. नोव्हेंबर 2022 मध्ये, भारतीय वन्यजीव जीवशास्त्रज्ञ डॉ. पूर्णिमा देवी बर्मन यांना संयुक्त राष्ट्रसंघाच्या (UN) सर्वोच्च पर्यावरण पुरस्काराने सन्मानित करण्यात आले. त्या कोणत्या समूहाचे नेतृत्व करतात?
 (1) टायगर ग्रुप (2) हरगिला आर्मी
 (3) पिकॉक आर्मी (4) ग्रेट बस्टर्ड ग्रुप
15. खालीलपैकी कोणाला भारतीय राज्यघटनेच्या अनुच्छेद 243Q अंतर्गत कोणतेही क्षेत्र 'संक्रमणशील क्षेत्र' म्हणून विनिर्दिष्ट करण्याचा अधिकार आहे?
 (1) मुख्यमंत्री (2) राष्ट्रपती
 (3) पंतप्रधान (4) राज्यपाल
16. राज्याचे मुख्य माहिती आयुक्त आणि राज्य माहिती आयुक्तांना द्वारे विहित केल्यानुसार, देय असलेले वेतन आणि भत्ते दिले जातील.
 (1) राज्याची विधानसभा (2) केंद्र सरकार
 (3) राज्य सरकार (4) राज्याचे राज्यपाल
17. महाराष्ट्रातील खालीलपैकी कोणत्या समाजसेवकाने आनंदवनाची स्थापना केली आणि कुष्ठरोगींसाठी त्यांनी केलेल्या सेवेसाठी ते ओळखले गेले?
 (1) शिवरामपंत दामले (2) सिंधुताई सपकाळ
 (3) पांडुरंग सदाशिव साने (4) बाबा आमटे
18. दर्पण हे मराठी वृत्तपत्र खालीलपैकी कोणी सुरू केले?
 (1) भाऊ दाजी लाड (2) पांडुरंग सदाशिव साने
 (3) बाळशास्त्री जांभेकर (4) सार्वजनिक काका
19. कोणत्या पंतप्रधानांच्या कार्यकाळात, 42 वी घटनादुरुस्ती अधिनियम 1976 द्वारे राज्यघटनेमध्ये मूलभूत कर्तव्ये समाविष्ट केली गेली?

- (1) मोरारजी देसाई (2) राजीव गांधी
 (3) चरण सिंह (4) इंदिरा गांधी
20. बंगालचे यांनी 1859 चा निळीचा सत्याग्रह केला होता.
 (1) शेतकरी (2) कारागीर (3) व्यापारी (4) जमीनदार
21. खालीलपैकी कोणाला 'आउटलाइन फॉर डेअरी टेक्नॉलॉजी' (Outline for Dairy Technology) या पुस्तकाचे लेखक म्हणून श्रेय दिले जाते?
 (1) जेन डेव्हिस (2) हिना शर्मा
 (3) सुकुमार डे (4) रॉबर्ट विल्सन
22. RTI अधिनियम संपूर्ण भारतात पासून लागू झाला.
 (1) जानेवारी 2006 (2) ऑक्टोबर 2006
 (3) डिसेंबर 2005 (4) ऑक्टोबर 2005
23. केंद्रीय भूवैज्ञानिक मंत्रालयाने हाती घेतलेल्या समुद्रयान मोहिमेचा एक भाग म्हणून, किती व्यक्तींना समुद्रसपाटीपासून 6000 मीटर खाली पाठविण्याचे भारताचे उद्दिष्ट आहे?
 (1) 3 (2) 2 (3) 4 (4) 5
24. लाखेच्या (lac) उत्पादनाचा स्रोत काय आहे?
 (1) कीटक (2) मासे (3) पाने (4) उंदीर
25. खालीलपैकी कोणती नदी ब्रह्मपुत्रा नदीची उपनदी आहे?
 (1) मांडवी नदी (2) दिबांग नदी
 (3) यमुना नदी (4) कृष्णा नदी

51

Date - 21/08/2023

वेळ : 4 : 30 PM - 6 : 30 PM

1. फेब्रुवारी 2023 मध्ये, कोणत्या उच्च न्यायालयाने आपल्या नुकत्याच दिलेल्या निर्णयांपैकी दोन निर्णयांचे स्थानिक भाषेमध्ये प्रकाशन केले?
 (1) कर्नाटक (2) आसाम
 (3) तामिळनाडू (4) केरळ
2. खालीलपैकी कोणती चुकीची जुळणी आहे?
 (1) अनुच्छेद 14 - कायद्यापुढे समानता
 (2) अनुच्छेद 20 - सेनाविषयक आणि विद्याविषयक वगळता किताब नष्ट करणे
 (3) अनुच्छेद 16 - सार्वजनिक सेवायोजनाच्या बाबींमध्ये समान संधी
 (4) अनुच्छेद 17 - अस्पृश्यता निर्मूलन आणि तिच्या प्रथेवर बंदी

पेपर क्र. - 50	12 - 3	13 - 1	14 - 2	15 - 4	16 - 2	17 - 4	18 - 3	19 - 4	20 - 1	21 - 3	22 - 4
	23 - 1	24 - 1	25 - 2	पेपर क्र. - 51			1 - 4	2 - 2			

16. In January 2023, Union Government had approved PMGKAY, the new integrated food security scheme. What does A stand for in PMGKAY?

- (1) Ajivika (2) Ann
(3) Antodaya (4) Anndata

17. Which river is known for its magnificent marble rocks in Madhya Pradesh?

- (1) Mahanadi River (2) Narmada River
(3) Godavari River (4) Brahmaputra River

18. स्वदेशी उत्पादने आणि कुटीर उद्योगांना प्रोत्साहन देण्यासाठी स्वतंत्र भारतात उत्पादक आणि ग्राहक यांच्यात निकटवर्ती संबंध स्थापन करण्याच्या हेतूने, यांच्याद्वारे बाय इंडियन लीग (Buy Indian League) ची स्थापना करण्यात आली होती.

- (1) खुदीराम बोस (2) मातंगिनी हाजरा
(3) सुभाषचंद्र बोस (4) आचार्य प्रफुल्लचंद्र राय

19. अधिकारपृच्छा लेखाचे उद्दिष्ट काय आहे ?

- (1) व्यक्तीचे निरपराधित्व ठरविणे
(2) एखाद्या व्यक्तीस सार्वजनिक कार्यालयातून काढून टाकणे
(3) एखादी व्यक्ती कोणत्या अधिकाराने सार्वजनिक कार्यालयावर दावा करत आहे याची चौकशी करणे
(4) व्यक्तीच्या गोपनीयतेची तपासणी करणे

20. 1756 साली इंग्रजांच्या कारखान्यावर ताबा मिळवण्यासाठी सिराज-उद-दौलाने कलकत्त्याकडे केलेले कूच हे खालीलपैकी कोणत्या लढाईचे प्रमुख कारण बनले ?

- (1) प्लासीची लढाई
(2) बेदराची (Bedara) लढाई
(3) बक्सरची लढाई
(4) पानिपतची तिसरी लढाई

21. खालीलपैकी कोणत्या समाजसुधारकाने भूदान चळवळ सुरू केली होती ?

- (1) बाबा आमटे (2) विनोबा भावे
(3) वीरेश लिंगम (4) धोंडो केशव कर्वे

22. मार्च 2023 मध्ये, आठव्या राष्ट्रीय छायाचित्रण पुरस्कार सोहळ्यात खालीलपैकी कोणाला या वर्षातील सर्वोत्कृष्ट हौशी छायाचित्रकार (Amateur Photographer of the Year)

पुरस्काराने सन्मानित करण्यात आले ?

- (1) सुदिप्तो दास (2) ससी कुमार रामचंद्रन
(3) सिप्रा दास (4) अरुण साहा

23. खालीलपैकी कोणत्या खेळाडूला मार्च 2023 मध्ये, BBC इंडियन स्पोर्ट्स वूमन्स प्राईज - 2022 ने सन्मानित करण्यात आले होते ?

- (1) एमसी. मेरी कोम (2) सायना नेहवाल
(3) मीराबाई चानू (4) पी. व्ही. सिंधू

24. भारतातील गुणवत्तेवर आधारित आधुनिक नागरी सेवेची संकल्पना मध्ये प्रस्तावित केली गेली.

- (1) 1855 (2) 1858 (3) 1851 (4) 1854

25. ऑगस्ट 2022 मध्ये, मेघालय सरकारने खालीलपैकी कशाशी संबंधित असलेली रुल बॅकगार्ड (Rural Backyard) योजना प्रारंभ केली ?

- (1) वराहपालन (2) शेणखत
(3) मेंढीपालन (4) रेशीमकिड्याचे पालन

52

Date - 22/08/2023

वेळ : 9 : 00 AM - 11 : 00 AM

1. Which of the following statements is/are correct about the report published by Bal Raksha Bharat in April 2023?

- I) It was launched on World Earth Day.
II) Report is based on finding from 10 cities.
III) Report highlights that waterlogging and localised flooding are the major issues/problems
(1) II and III (2) Only II
(3) I and III (4) Only I

2. केंद्रीय माहिती आयुक्तांच्या निवड समितीचे अध्यक्ष म्हणून खालीलपैकी कोण कार्य करतात ?

- (1) भारताचे सरन्यायाधीश (2) लोकसभेचे अध्यक्ष
(3) भारताचे राष्ट्रपती (4) पंतप्रधान

3. जानेवारी 2023 मध्ये, खालीलपैकी कोणत्या महापालिका प्रशासनाने भ्रष्टाचाराच्या आरोपाखाली दोषी ठरलेल्या तिच्या 55 कर्मचाऱ्यांना सेवेतून बडतर्फ केले ?

- (1) बृहन्मुंबई (2) दिल्ली
(3) चेन्नई (4) चंदीगढ

पेपर क्र. - 51	16 - 2	17 - 2	18 - 4	19 - 3	20 - 1	21 - 2	22 - 4	23 - 3	24 - 4	25 - 1
पेपर क्र. - 52	1 - 3	2 - 4	3 - 1							

20. In May 2023, Enforcement Directorate froze assets of VP Nandakumar. He is MD and CEO of which company?

- (1) Poonawalla Fincorp
- (2) HDFC Bank
- (3) Asirvad Microfinance Ltd
- (4) Manappuram Finance

21. माहितीचा अधिकार कायदा, 2005 हा पासून अंमलात आला.

- (1) 12 सप्टेंबर 2005
- (2) 12 ऑक्टोबर 2005
- (3) 12 डिसेंबर 2005
- (4) 12 नोव्हेंबर 2005

22. भारतात, भारतीय नागरी सेवा परीक्षा पासून घेण्यात येऊ लागली.

- (1) 1919
- (2) 1915
- (3) 1917
- (4) 1922

23. खालीलपैकी कोणते नागरिकत्वाचे उदाहरण नाही?

- (1) सार्वजनिक पदावर राहण्याचा अधिकार
- (2) इतर देशांमध्ये निवडणूक लढविण्याचा अधिकार
- (3) बेरोजगारीचे लाभ गोळा करण्याचा अधिकार
- (4) मतदानाचा अधिकार

24. ऑगस्ट 2022 मध्ये, खालीलपैकी कोणत्या राज्याने सर्व अंगणवाड्यांमधील बालकांना त्यांचे पोषण स्तर व आरोग्य सुरक्षितता सुधारण्याचा प्रयत्न म्हणून दूध आणि अंडी देण्यासाठी महिला व बालविकास प्रकल्प सुरु केला आहे?

- (1) आंध्रप्रदेश
- (2) केरळ
- (3) तामिळनाडू
- (4) पश्चिम बंगाल

25. 1830 चे सिंगफोचे बंड मध्ये झाले.

- (1) आसाम
- (2) मणिपूर
- (3) बिहार
- (4) ओडिशा

53

Date - 14/09/2023

वेळ : 9 : 00 AM - 11 : 00 AM

1. कर्कवृत्त हे भारतातील किती राज्यांतून जाते?

- (1) 4
- (2) 6
- (3) 8
- (4) 7

2. ब्राम्हो समाज सैद्धांतिकदृष्ट्या कशावर आधारित आहे?

- (1) अनेकेश्वरवाद
- (2) अवतार
- (3) निरीश्वरवाद
- (4) हिंदू धर्माचा एकेश्वरवादी पंथ

3. 2011 च्या जनगणनेनुसार, भारतातील कोणत्या राज्यात अनुसूचित जातींची लोकसंख्या सर्वाधिक आहे?

- (1) उत्तर प्रदेश
- (2) पंजाब
- (3) बिहार
- (4) अरुणाचल प्रदेश

4. 'असंतोषाचे जनक' असे नाव कोणत्या भारतीयास दिले गेले आहे?

- (1) गोपाळ कृष्ण गोखले
- (2) एम. जी. रानडे
- (3) बाळ गंगाधर टिळक
- (4) दादाभाई नौरोजी

5. भारत सेवक समाज (सर्व्हंट ऑफ इंडिया सोसायटी) चे संस्थापक कोण होते?

- (1) गोपाळ कृष्ण गोखले
- (2) दादोबा पांडुरंग
- (3) दादाभाई नौरोजी
- (4) बाळ गंगाधर टिळक

6. भारतात पहिली जनगणना कोणत्या वर्षी सुरु झाली?

- (1) इ.स. 2011
- (2) इ.स. 2001
- (3) इ.स. 1881
- (4) इ.स. 1872

7. खालीलपैकी कोणत्या वर्षी संविधानात मूलभूत कर्तव्यांचा समावेश केला गेला?

- (1) 1972
- (2) 1980
- (3) 1976
- (4) 1975

8. तृतीयपंथी समुदाय आणि भिकाऱ्यांसाठी कोणत्या मंत्रालयाने 'स्माईल योजना' सुरु केली आहे?

- (1) कायदा, न्याय आणि सक्षमीकरण मंत्रालय
- (2) आरोग्य आणि कुटुंब कल्याण मंत्रालय
- (3) सामाजिक न्याय मंत्रालय
- (4) गृह मंत्रालय

9. 'स्पॅम' ही संज्ञा कोणत्या विषयाशी संबंधित आहे?

- (1) क्रिकेट
- (2) साहसी खेळ
- (3) संगणक
- (4) कला

10. भारताचे उपराष्ट्रपती हे चे पदसिद्ध अध्यक्ष असतात.

- (1) राज्यसभा
- (2) विधान परिषद
- (3) लोकसभा
- (4) विधानसभा

11. 'गुलामगिरी' चे लेखन कोणी केले होते?

- (1) अरविंद घोष
- (2) ज्योतिबा फुले
- (3) राजा राम मोहन रॉय
- (4) डॉ. आंबेडकर

12. The government has issued Surrogacy (Regulation) Rules 2022 under Surrogacy (Regulation) Act ?

- (1) 2021
- (2) 2022
- (3) 2020
- (4) 2019

पेपर क्र. - 52	20 - 4	21 - 2	22 - 4	23 - 4	24 - 2	25 - 1	पेपर क्र. - 53	1 - 3	2 - 4
	3 - 1	4 - 3	5 - 1	6 - 4	7 - 3	8 - 3	9 - 3	10 - 1	11 - 2
								12 - 1	

13. भारतीय राज्यघटनेतील मूलभूत अधिकारांची तरतूद ही कोणत्या देशाच्या राज्यघटनेतून घेण्यात आली आहे?

- (1) अमेरिकेची संयुक्त संस्थाने
- (2) कॅनडा
- (3) फ्रान्स
- (4) दक्षिण आफ्रिका

14. Albumin is an example of :-

- (1) Disaccharide
- (2) Simple proteins
- (3) Derived Proteins
- (4) Conjugated protein

15. भारत हा नुकताच 'द अॅग्रीकल्चर इनोव्हेशन मिशन अँड द क्लायमेट चेंज' या उपक्रमात सहभागी झाला आहे. या उपक्रमाची सुरुवात कोणत्या वर्षी करण्यात आली होती?

- (1) 2016
- (2) 2018
- (3) 2020
- (4) 2021

16. कच्च्या फळांना पिकविण्यासाठी कोणत्या वायूचा उपयोग केला जातो?

- (1) ऑसिटिलीन
- (2) हायड्रोजन
- (3) इथिन
- (4) कार्बन डायऑक्साईड

17. भारतीय वन सर्वेक्षणाचे मुख्यालय कोठे आहे?

- (1) डेहराडून
- (2) इंदूर
- (3) पुणे
- (4) धर्मशाळा

18. 1929 च्या काँग्रेस अधिवेशनात संपूर्ण स्वातंत्र्याचे उद्दिष्ट घोषित केले गेले. हे अधिवेशन कोठे आयोजित केले होते?

- (1) सुरत
- (2) लाहोर
- (3) कलकत्ता
- (4) नागपूर

19. वनस्पतीचा मूलभूत भाग कोणता असतो?

- (1) शाखा
- (2) खोड
- (3) मूळ
- (4) पाने

20. खालीलपैकी कोण हे भारताचे पहिले मुख्य माहिती आयुक्त होते?

- (1) सुषमा सिंह
- (2) राजीव माथूर
- (3) वजाहत हबीबुल्लाह
- (4) यशवर्धन कुमार सिन्हा

21. खाली नमूद केलेल्या कोणत्या राज्यात / केंद्रशासित प्रदेशात सर्वाधिक संख्येने वन्यजीव अभयारण्ये आहेत?

- (1) बिहार

(2) उत्तर प्रदेश

(3) अंदमान आणि निकोबार बेटे

(4) मध्यप्रदेश

22. 'सावज' हा शुभंकर कोणत्या खेळाशी निगडित आहे?

- (1) 22 व्या राष्ट्रकुल क्रीडा स्पर्धा 2023
- (2) 34 वे टोकियो ऑलिम्पिक 2020
- (3) 36 व्या राष्ट्रीय क्रीडा स्पर्धा 2022
- (4) फिफा महिला विश्वचषक 2023

23. भारताचे सध्याचे मुख्य माहिती आयुक्त कोण आहेत? (जून 2023 पर्यंतच्या माहितीनुसार)

- (1) राजीव माथूर
- (2) सुषमा सिंह
- (3) वजाहत हबीबुल्लाह
- (4) यशवर्धन कुमार सिन्हा

24. खालीलपैकी कोणत्या राज्यात जगातील पहिला बांबू क्रॅश बॅरियर बसवण्यात आला आहे?

- (1) मध्यप्रदेश
- (2) राजस्थान
- (3) जम्मू काश्मीर
- (4) महाराष्ट्र

25. खालील पर्यायांतून अहमदाबाद टेक्सटाईल लेबर असोसिएशन (1918) चे संस्थापक निवडा.

- (1) सरदार पटेल
- (2) बी. पी. वाडिया
- (3) जोसेफ बॅटिस्टा
- (4) महात्मा गांधी

54

Date - 22/08/2023

वेळ : 12 : 30 PM - 02 : 30 PM

1. In the human body, which mineral is essential for the transmission of nerve impulses in the nerve fibres?

- (1) Sodium
- (2) Copper
- (3) Alumina
- (4) Fluorine

2. फेब्रुवारी 2023 मध्ये, भारताच्या कोणत्या राज्यामध्ये जगातील सर्वात मोठ्या अनोख्या दिव्यांग उद्यानाची पायाभरणी केली गेली?

- (1) हरियाणा
- (2) उत्तर प्रदेश
- (3) मध्यप्रदेश
- (4) महाराष्ट्र

3. खालीलपैकी कोण संविधान सभेत समाविष्ट असलेली एकमेव दलित महिला होती?

- (1) ऊदा देवी
- (2) हेलन लेपचा
- (3) दाक्षायणी वेलायुधन
- (4) अंनी मस्करिन

पेपर क्र. - 53	13 - 1	14 - 2	15 - 4	16 - 1	17 - 1	18 - 2	19 - 4	20 - 3	21 - 3	22 - 3	23 - 4
	24 - 4	25 - 4	पेपर क्र. - 54			1 - 4	2 - 4	3 - 3			

18. खालीलपैकी कोण ही मार्च 2023 मध्ये वन्यजीव संरक्षण पुरस्कार प्राप्त करणारी जम्मू-काश्मीरमधील पहिली महिला ठरली ?

- (1) आलिया मीर (2) नुसरत जहान आरा
(3) मेहविश जरगर (4) गझल्ला अमीन

19. माहितीचा अधिकार अधिनियम, 2005 नुसार, केंद्रीय माहिती आयोगात कमाल किती केंद्रीय माहिती आयुक्तांची नेमणूक केली जाऊ शकते ?

- (1) आठ (2) पाच (3) दहा (4) बारा

20. खालीलपैकी कोणत्या मंत्रालयाद्वारे 'स्वच्छ सुजल शक्ती सन्मान 2023' आयोजित केले गेले होते ?

- (1) जलशक्ती मंत्रालय (2) संरक्षण मंत्रालय
(3) कृषी मंत्रालय (4) अर्थ मंत्रालय

21. बेटन कप हॉकी स्पर्धा-2022 चे यजमानपद खालीलपैकी कोणत्या राज्याने भूषविले होते ?

- (1) पंजाब (2) हरियाणा
(3) ओडिशा (4) पश्चिम बंगाल

22. मूलभूत कर्तव्यांच्या कार्यान्वयनासाठी वर्मा समितीने खालीलपैकी कोणता अधिनियम निश्चित केला नाही ?

- (1) वन संरक्षण अधिनियम, 1980
(2) लोकप्रतिनिधित्व अधिनियम, 1951
(3) भारत सरकार अधिनियम, 1935
(4) राष्ट्र प्रतिष्ठा अपमान प्रतिबंध अधिनियम, 1971

23. ऑक्टोबर 2022 मध्ये, पंजाबच्या कोणत्या जिल्ह्यामध्ये आशियाच्या सर्वात मोठ्या संपीडित बायोगॅस (CBG) संयंत्राचे उद्घाटन पार पडले ?

- (1) संगरूर (2) मानसा
(3) जालंधर (4) होशियारपूर

24. हिमालयातील कोणता प्रदेश तीस्ता आणि दिहांग नद्यांच्या दरम्यान आहे ?

- (1) कुमाऊं हिमालय (2) नेपाळ हिमालय
(3) आसाम हिमालय (4) पंजाब हिमालय

25. Which of the following unicellular organisms is considered to be the largest?

- (1) Amoeba (2) Paramecium
(3) Euglena (4) Acetabularia

55

Date - 22/08/2023

वेळ : 04 : 30 PM - 06 : 30 PM

1. फेब्रुवारी 2023 मध्ये, खालीलपैकी कोणत्या संस्थेने भारतातील भूस्खलन नकाशासंग्रह / अॅटलस (Landslide Atlas) प्रकाशित केला ?

- (1) भारतीय अंतराळ संशोधन संस्था
(2) संरक्षण संशोधन विकास संस्था
(3) राष्ट्रीय आपत्ती व्यवस्थापन संस्था
(4) भारतीय राष्ट्रीय आपत्ती प्राधिकरण

2. अलिगडमधील सायंटिफिक सोसायटीची स्थापना यांनी केली होती.

- (1) सर सय्यद अहमद खान
(2) मौलाना अबुल कलाम आझाद
(3) खान अब्दुल गफार खान
(4) मोहम्मद अली जिना

3. 'ओम्निस सेल्युला-ई सेल्युला' या विधानासह आधीपासून अस्तित्वात असलेल्या पेशींपासून नवीन पेशी निर्माण होतात ही कल्पना खालीलपैकी कोणी सुरुवातीला मांडली ?

- (1) रॉबर्ट कॉख (Robert Koch)
(2) रुडॉल्फ विर्चो (Rudolf Virchow)
(3) बार्बारा मॅक्क्लिंटॉक (Barbara McClintock)
(4) रोझालिंड फ्रँकलिन (Rosalind Franklin)

4. In which year was Justice Verma Committee constituted on Fundamental Duties?

- (1) 1970 (2) 1990
(3) 1999 (4) 1998

5. खालीलपैकी कोणत्या समाजसुधारकाने शोषण झालेल्या आणि नंतर समाजाने उपेक्षित केलेल्या महिलांची काळजी घेण्यासाठी सेवासदन सुरू केले आणि त्यांना शिक्षण, वैद्यकीय आणि कल्याणकारी सेवा पुरविल्या ?

- (1) बाळ गंगाधर टिळक (2) बेहरामजी मालाबारी
(3) दादाभाई नौरोजी (4) भिकाजी कामा

6. बिहारमधील कोणत्या नदीला वारंवार पूर येत असल्यामुळे ती दुःखाची नदी (River of Sorrow) म्हणून ओळखली जाते ?

- (1) कोसी नदी (2) नर्मदा नदी
(3) कावेरी नदी (4) यमुना नदी

पेपर क्र. - 54	18 - 1	19 - 3	20 - 1	21 - 4	22 - 3	23 - 1	24 - 3	25 - 4			
पेपर क्र. - 55	1 - 1	2 - 1	3 - 2	4 - 3	5 - 2	6 - 1					

23. कोणता अन्नघटक हा अपाच्य असूनही आपल्या आरोग्यासाठी आवश्यक आहे?

- (1) लिपिड (2) तंतू
(3) शर्करा (4) कर्बोदके

24. भारतीय द्वीपकल्पाच्या दक्षिण टोकाला आल्यानंतर मान्सून कोणत्या दोन शाखांमध्ये विभागला जातो?

- (1) बंगालचा उपसागर आणि अरबी समुद्राच्या शाखा
(2) पश्चिम घाट आणि पूर्व घाट शाखा
(3) अरबी समुद्र आणि हिंदी महासागर शाखा
(4) हिमालय आणि दख्खनच्या पठाराच्या शाखा

25. बनस्पतींमध्ये प्रकाशाची जबाबदारी (मुख्य कार्य) खालीलपैकी कोणती आहे?

- (1) फक्त मॅग्नेशियमचे वहन करणे
(2) फळांचे वहन करणे
(3) पाणी आणि पोषक तत्वांचे वहन करणे
(4) फक्त सोडियमचे वहन करणे

56

Date - 26/08/2023

वेळ : 09 : 00 AM - 11 : 00 AM

1. भारताच्या RTI अधिनियमानुसार, खालीलपैकी कोणती माहिती लोकांपर्यंत पोहोचवली जाऊ शकते?

- (I) परदेशी सरकारकडून गोपनीय स्वरूपात मिळालेली माहिती.
(II) तपास प्रक्रियेत अडथळा आणणारी माहिती.
(1) I किंवा II पैकी एकही नाही
(2) फक्त II
(3) I आणि II दोन्ही
(4) फक्त I

2. 2023 च्या बातम्यांमध्ये चर्चिला गेलेला हिंद महासागर द्विध्रुव (Indian Ocean Dipole) हा शी संबंधित आहे.

- (1) सागरी चाचेगिरी (2) मान्सून
(3) भारतीय सागरी व्यापार धोरण (4) अपतटीय तेल वेधन

3. As of July 2023, the edition of the Durand Cup Football tournament will start on August 3, 2023.

- (1) 132nd (2) 131st (3) 134th (4) 133rd

4. Which of the following statements is correct regarding the Indian National Congress?

- (I) The Indian National Congress was split in 1907.
(II) The Indian National Congress was reunited in 1908.

- (1) Neither I nor II (2) Both I and II
(3) Only I (4) Only II

5. खालीलपैकी कोणत्या वनस्पती क्षेत्रामध्ये कमाल सरासरी वार्षिक तापमान असते?

- (1) उपोष्णकटिबंधीय (2) समशीतोष्ण
(3) उष्णकटिबंधीय (4) आल्पीय

6. In which year was the Paramhansa Sabha established in Mumbai?

- (1) 1852 (2) 1876
(3) 1844 (4) 1849

7. Which of the following is NOT an input device?

- (1) Keyboard (2) Printer
(3) Mouse (4) Scanner

8. खालीलपैकी कोणते/ती क्लील/ले आहे/आहेत?

- (I) फेन (II) पायस
(1) फक्त I (2) I किंवा II पैकी एकही नाही
(3) फक्त II (4) I आणि II दोन्ही

9. During British India, Wood's Despatch was sent to India in which of the following years?

- (1) 1850 (2) 1858
(3) 1854 (4) 1862

10. In which year did the Indian National Congress demanded for a Constituent Assembly?

- (1) 1947 (2) 1905
(3) 1885 (4) 1934

11. NCrf, which is seen in the news in April 2023, is related to which of the following?

- (1) Women Safety (2) Education
(3) Climate change (4) Wildlife conservation

12. The forces of attraction between the particles are maximum in

- (1) gases (2) solids
(3) plasma (4) liquids

पेपर क्र. - 55	23 - 2	24 - 1	25 - 3	पेपर क्र. - 56	1 - 1	2 - 2	3 - 1	4 - 3	5 - 3
	6 - 4	7 - 2	8 - 4	9 - 3	10 - 4	11 - 2	12 - 2		

1. अलीवर्दी खान याचा मृत्यू कधी झाला ?
 (1) 1750 (2) 1756
 (3) 1753 (4) 1759
2. भारतीय राज्यघटनेत नमूद केलेल्या मूलभूत अधिकारांबाबत खालीलपैकी कोणते ती विधान/ने योग्य आहे / आहेत ?
 (I) राज्यघटनेत मूलतः सहा मूलभूत अधिकार सूचीबद्ध केले गेले होते.
 (II) 42 व्या घटनादुरुस्ती कायद्याद्वारे समानतेचा अधिकार वगळण्यात आला.
 (1) I किंवा II पैकी एकही नाही
 (2) I आणि II दोन्ही
 (3) फक्त I
 (4) फक्त II
3. भारताच्या 2011 च्या जनगणनेनुसार, लक्षद्वीपचा साक्षरता दर किती आहे ?
 (1) 95.85% (2) 91.85%
 (3) 81.85% (4) 87.85%
4. खालीलपैकी कोणती प्रार्थना समाजाची तत्त्वे होती ?
 (I) मूर्तीपूजेला विरोध
 (II) एकेश्वरवाद
 (III) कर्मकांडाला विरोध
 (1) फक्त I आणि II (2) फक्त II आणि III
 (3) I, II आणि III (4) फक्त I आणि III
5. फेब्रुवारी 2023 मध्ये बातम्यांमध्ये दिसून आलेला "जादुई पिटारा" हा/ही एक आहे.
 (1) नवीन स्वयंचलित अँटी-टँक क्षेपणास्त्र
 (2) ऑनलाइन नागरी सेवक तक्रार पोर्टल
 (3) खेळ-आधारित अध्ययन-शिक्षण संबंधित साहित्य
 (4) कृत्रिम बुद्धिमत्ता प्रेरित ड्रोन सिस्टम
6. भारताच्या 2011 च्या जनगणनेनुसार, समुदायाच्या लोकसंख्येचा वाढीचा दर 15.5% आहे.
 (1) ख्रिश्चन (2) मुसलमान
 (3) हिंदू (4) शीख

7. स्थायू अवस्थेचे, द्रव अवस्थेतून न जाता थेट वायू अवस्थेत होणारे रूपांतर म्हणजे होय.
 (1) बाष्पन (2) विलयन
 (3) बाष्पीकरण (4) संप्लवन
8. 12 ऑक्टोबर रोजी भारतात माहिती अधिकार कायदा लागू झाला.
 (1) 2003 (2) 2007
 (3) 2005 (4) 2001
9. भारताचे पहिले मुख्य माहिती आयुक्त कोण होते ?
 (1) दीपक संधू (2) ए. एन. तिवारी
 (3) सुषमा सिंह (4) वजाहत हबीबुल्लाह
10. कृष्णा नदीची लांबी सुमारे किलोमीटर आहे.
 (1) 1600 (2) 1800
 (3) 860 (4) 1400
11. मुंगीच्या दंशात खालीलपैकी कोणते आम्ल असते ?
 (1) ऑक्सॅलिक आम्ल (2) मिथेनोईक आम्ल
 (3) अॅसिटिक आम्ल (4) टार्टारिक आम्ल
12. मधील 42 व्या घटनादुरुस्ती कायद्याद्वारे भारतीय राज्यघटनेत मूलभूत कर्तव्यांचा समावेश करण्यात आला.
 (1) 1978 (2) 1976
 (3) 1970 (4) 1972
13. भारतीय राज्यघटनेचा अनुच्छेद 3 हा शी संबंधित आहे.
 (1) पाकिस्तानातील काही स्थलांतरितांचे नागरिकत्वाचे अधिकार
 (2) राज्यघटनेच्या प्रारंभाच्या वेळी नागरिकत्व
 (3) संघराज्याचे नाव आणि प्रदेश
 (4) नवीन राज्यांची निर्मिती आणि अस्तित्वातील राज्यांचे क्षेत्र, सीमा किंवा नाव यांतील बदल
14. 2022 मध्ये, वित्त मंत्रालयाने भारताच्या पहिल्या साँव्हरन ग्रीन बाँड फ्रेमवर्कला मान्यता दिली.
 (1) ऑगस्ट (2) नोव्हेंबर
 (3) ऑक्टोबर (4) सप्टेंबर

पेपर क्र. - 57	1 - 2	2 - 1	3 - 2	4 - 3	5 - 3	6 - 3	7 - 4	8 - 3	9 - 4	10 - 4	11 - 2
	12 - 2	13 - 4	14 - 2								

मराठी

01

Date - 01/09/2023

वेळ : 9 : 00 AM - 11 : 00 AM

(1) 'मन वढाय वढाय । उभ्या पिकातलं ढोर' या काव्यपंक्तीतील 'ढोर' या शब्दाचा समानार्थी शब्द ओळखा.

- (1) फूल (2) हिरवळ
(3) हृदय (4) जनावर

2. खालील शब्दाचा समास ओळखा.

पालापाचोळा

- (1) द्वंद्व समास (2) तत्पुरुष समास
(3) बहुव्रीही समास (4) अव्ययीभाव समास

3. खालील म्हणीचा योग्य अर्थ ओळखा.

बुडत्याला काडीचा आधार

- (1) आपली उन्नती आपल्याच कर्तृत्वावर अवलंबून असते.
(2) संकटकाळी थोडीशी मदत देखील मोलाची ठरते. घोर संकटाच्यावेळी दुसऱ्याचे थोडेसे साहाय्यसुद्धा मोलाचे वाटते.
(3) कार्यक्रम उरकल्यावर व्यवस्था करणे.
(4) उत्तम स्थिती गेली, पण त्या आठवणी मागे उरल्या.

4. 'भुरा' हे आत्मकथन कोणी लिहिले?

- (1) शरद बाविस्कर (2) पु. ल. देशपांडे
(3) विश्राम बेडेकर (4) शरणकुमार लिंबाळे

5. खालील वाक्यातील प्रयोग ओळखा.

तिची कादंबरी लिहून झाली.

- (1) पुराण कर्मणी (2) कर्मणी प्रयोग
(3) समापन कर्मणी प्रयोग (4) नवीन कर्मणी

6. खालील शब्दाचा अर्थ सांगा. - चपराक

- (1) सुरस (2) चपखल (3) चापट (4) चरखा

7. 'पांगिरा' ही कादंबरी कोणी लिहिली?

- (1) विश्वास पाटील (2) ना. स. इनामदार
(3) शिवाजी सावंत (4) रणजित देसाई

8. 'तोंडघशी पडणे' या वाक्प्रचाराचा योग्य अर्थ ओळखा.

- (1) तोंडावरचे तेज नाहीसे होणे.

(2) विश्वासाच्या ठिकाणी फसगत होणे.

- (3) लढावयास सिद्ध होणे.
(4) वाटेल तसे बोलणे

9. खालील शब्दाचा योग्य अर्थ ओळखा. वाद

- (1) संवाद (2) सुसंवाद (3) प्रतिवाद (4) तंटा

10. खालील वाक्यातील प्रयोग ओळखा.

छकुलीने बाहुलीस झोपवले.

- (1) पुराण कर्मणी (2) भावे प्रयोग
(3) कर्मणी प्रयोग (4) समापन कर्मणी प्रयोग

11. 'पितळ उघडे पडणे' या शब्दार्थाचा वाक्यात उपयोग झालेले खालीलपैकी योग्य विधान ओळखा.

- (1) रामरावला लॉटरी लागून पितळ उघडे पडले.
(2) जादूटोणा करणाऱ्या भोंदूबाबाचे विज्ञान विषय शिकवणाऱ्या शिक्षकाने पितळ उघडे पाडले.
(3) प्रथम क्रमांक आलेल्या रोहनने आपल्या यशाचे गुपित सांगून पितळ उघडे पाडले.
(4) भारताने विश्वचषक जिंकून पितळ उघडे पाडले.

12. खालील शब्दाचा समास ओळखा.

दरमजल

- (1) बहुव्रीही समास (2) अव्ययीभाव समास
(3) तत्पुरुष समास (4) द्विगु समास

13. खालील शब्दाचा विरुद्धार्थी शब्द ओळखा. - अनास्था

- (1) आवर (2) आस्था
(3) आशा (4) आश्रय

14. खालील शब्दाचा योग्य अर्थ ओळखा. - प्रहार

- (1) प्रहर (2) प्रवाह (3) प्रवाद (4) घाव

15. खालील वाक्याचा प्रकार ओळखा.

व्यायाम केला तर शरीर घाटदार होईल.

- (1) संयुक्तवाक्य (2) केवलवाक्य
(3) आज्ञार्थीवाक्य (4) संकेतार्थीवाक्य

पेपर क्र. - 01	1 - 4	2 - 1	3 - 2	4 - 1	5 - 3	6 - 3	7 - 1	8 - 2	9 - 4	10 - 2	11 - 2
	12 - 2	13 - 2	14 - 4	15 - 4							

16. खालील शब्दाचा विरूद्धार्थी शुद्ध शब्द ओळखा.
औरस

- (1) अनौरस (2) औदार्य
(3) ओवळा (4) औचित्य

17. खालील उद्गारवाचक वाक्याचे विधानार्थी वाक्यात रूपांतर केलेले योग्य विधान ओळखा.
किती सुंदर आहे तिचे अक्षर!

- (1) तिचे अक्षर खूप सुंदर आहे.
(2) सराव केला तर तिचे अक्षर सुंदर होईल.
(3) सुंदर आहे का तिचे अक्षर?
(4) तिच्यासारखे सुंदर अक्षर काढ.

18. खालील होकारार्थी वाक्याचे नकारार्थी वाक्यात रूपांतर केलेले योग्य विधान ओळखा.
प्रार्थनेला हजर रहावे.

- (1) प्रार्थनेला हजर रहा गैरहजर राहू नको.
(2) प्रार्थनेला हजर नसशील तर गैरहजर म्हणून नोंद होईल.
(3) प्रार्थनेला गैरहजर राहू नये.
(4) प्रार्थनेला हजर नसल्यामुळे गैरहजर अशी नोंद लागली.

19. खालील शब्दाचा विरूद्धार्थी शब्द ओळखा.
चिरंतन

- (1) चिकार (2) क्षणभंगुर
(3) चिरकाल (4) चिरायू

20. खालील शब्दाचा समानार्थी शब्द ओळखा.
निर्धार

- (1) निबीड (2) नित्य
(3) निश्चय (4) निवाडा

21. 'फैलावर घेणे' या शब्दार्थाचा वाक्यात उपयोग झालेले खालीलपैकी योग्य विधान ओळखा.

- (1) भारताने विश्वचषक जिंकल्यावर क्रिकेटप्रेमींनी भारतीय क्रिकेट संघास फैलावर घेतले.
(2) आईने केलेली पुरणपोळी खावून मी तिचे कौतुक करण्यासाठी फैलावर घेतले.
(3) दिलेल्या वेळेच्या मर्यादित काम पूर्ण केले नसल्यामुळे प्राचार्यांनी प्राध्यापकांना फैलावर घेतले.
(4) योग्य पथ्यपाणी पाळून लवकर नीट होणाऱ्या रुग्णाला डॉक्टरांनी फैलावर घेतले.

22. 'व्यक्ती आणि वल्ली' हे पुस्तक कोणी लिहिले?

- (1) विश्वास पाटील (2) पु. ल. देशपांडे
(3) शिवाजी सावंत (4) ना. स. इनामदार

23. खालील शब्दाचा अर्थ सांगा.
गर्द

- (1) गाथा (2) दाट
(3) गळू (4) गार

24. खालील म्हणीचा योग्य अर्थ ओळखा.
बळी तो कान पिळी.

- (1) व्यर्थ गोष्टीसाठी खटाटोप करणे.
(2) जगलो तर करूनच दाखवीन, असा बाणा.
(3) बलवान माणूस इतरांवर हुकूमत गाजवतो.
(4) बापाच्या मोठेपणावर ऐतित राहणारा मुलगा.

25. 'फूल ना फुलाची पाकळी देणे' या शब्दार्थाचा वाक्यात उपयोग झालेले खालीलपैकी योग्य विधान ओळखा.

- (1) फूल ना फुलाची पाकळी देत लेकीच्या लग्नासाठी रामरावांनी कर्ज काढून न पेलणारा भला मोठा हुंडा दिला.
(2) ताजमहल बांधून शहाजहानने मुमताजला फूल ना फुलाची पाकळी दिली.
(3) भरधाव वेगाने वाहन चालवण्याचा छंद असणाऱ्या युवकाने अपघातात जीव गमावून आपल्या छंदास फूल ना फुलाची पाकळी दिली.
(4) कृष्ण भेटीस जाणाऱ्या सुदाम्याने पोह्याची पुरचुंडी देऊन फूल ना फुलाची पाकळी दिली.

02

Date - 01/09/2023

वेळ : 12 : 30 AM - 02 : 30 AM

1 'दोन हात करणे' या शब्दार्थाचा वाक्यात उपयोग झालेले खालीलपैकी योग्य विधान ओळखा.

- (1) दोन हात करत लेकीच्या लग्नासाठी रामरावांनी कर्ज काढले.
(2) दुष्काळाच्या संकटाशी दोन हात करत शेतकऱ्यांनी शेतीमधून उत्पन्न काढले.
(3) दोन हात करत भरधाव वेगाने वहाण चालवण्याचा छंद असणाऱ्या युवकाने अपघातात जीव गमावला.
(4) कृष्णभेटीस जाणाऱ्या सुदाम्याने दोन हात करत पोह्याची पुरचुंडी दिली.

पेपर क्र. - 01	16 - 1	17 - 1	18 - 3	19 - 2	20 - 3	21 - 3	22 - 2	23 - 2	24 - 3	25 - 4
पेपर क्र. - 02	1 - 2									

16. 'कृष्णाकाठ' हे आत्मचरित्र कोणी लिहिले ?
 (1) ना. स. इनामदार (2) पु. ल. देशपांडे
 (3) यशवंतराव चव्हाण (4) शिवाजी सावंत
17. खालील वाक्यातील प्रयोग ओळखा.
 गरुडाकडून साप पकडला गेला.
 (1) कर्मणी प्रयोग (2) पुराण कर्मणी
 (3) समापन कर्मणी प्रयोग (4) नवीन कर्मणी
18. खालील शब्दाचा समानार्थी शब्द ओळखा.
 निकड
 (1) गरज (2) नौबत (3) नकली (4) निकष
19. खालील शब्दाचा योग्य अर्थ ओळखा. - खजिना
 (1) खांड (2) गोदाम (3) कोठार (4) भांडार
20. ताव मारणे या वाक्यप्रचाराचा योग्य अर्थ ओळखा.
 (1) समज देणे. (2) मर्यादा सोडणे.
 (3) भरपूर खाणे. (4) विचार न करता बोलणे.
21. खालील नकारार्थी वाक्याचे होकारार्थी वाक्यात रूपांतर केलेले योग्य विधान ओळखा.
 रोहन बेजबाबदार युवक नाही.
 (1) किती बेजबाबदार आहे रोहन!
 (2) रोहन जबाबदार युवक आहे.
 (3) रोहन बेजबाबदार आहे का?
 (4) किती जबाबदार आहे रोहन!
22. खालील प्रश्नार्थी वाक्याचे आज्ञार्थी वाक्यात रूपांतर केलेले योग्य विधान ओळखा.
 अन्वी, चांगला अभ्यास करशील ?
 (1) अन्वी, चांगला अभ्यास करशील तर पास होशील.
 (2) अन्वी, चांगला अभ्यास कर.
 (3) अन्वी चांगला अभ्यास करते.
 (4) अन्वी, किती चांगला अभ्यास करते!
23. खालील शब्दाचा समानार्थी शब्द ओळखा.
 नाद
 (1) नौका (2) ध्वनी (3) नाम (4) दाट
24. खालील वाक्याचा प्रकार ओळखा.
 संध्याकाळी आजोबा मित्रांसोबत फिरायला बागेत जातात किंवा मंदिरात जातात.

- (1) संकेतार्थी वाक्य (2) केवल वाक्य
 (3) संयुक्त वाक्य (4) मिश्र वाक्य

25. खालील शब्दाचा विरुद्धार्थी शब्द ओळखा.
 रोख

- (1) रंक (2) उधार (3) रुची (4) रोखटोक

03

Date - 01/09/2023

वेळ : 4 : 30 AM - 6 : 30 AM

1. पुढील वाक्यप्रचाराचा अर्थ सांगा - धावा करणे
 (1) एखादी गोष्ट पुन्हा पुन्हा बोलणे
 (2) अस्वस्थ होऊन इकडेतिकडे धावणे
 (3) सामन्यात शंभर धावा करणे
 (4) मदतीसाठी विनवण्या करून बोलवणे
2. पुढील म्हणीचा अर्थ सांगा - खाईन तर तुपाशी, नाही तर उपाशी.
 (1) उपास करायची तयारी असणे
 (2) इच्छित गोष्ट न मिळाल्यास, समझोता न करता, हव्या असलेल्या गोष्टीसाठी अडून बसणे
 (3) भरपूर तूप खाणे
 (4) तूप खूप आवडणे
3. पुढील वाक्यप्रचार कोणत्या वाक्यात बरोबर वापरला आहे ?
 शंख करणे
 (1) अर्जुनाचा रथ युद्धभूमीवर येताच श्रीकृष्णाने शंख केला
 (2) माझ्या दारापुढे कितीही शंख केलास, तरी मी दार उघडणार नाही
 (3) बंगाली नवरदेव लग्नात शंख करतो.
 (4) पूजा झाली हे कळावं म्हणून त्याने शंख केला
4. समानार्थी शब्द द्या - वासरमणि
 (1) दिवस (2) सूर्य (3) चंद्र (4) स्त्री
5. वाक्याचा प्रकार ओळखा.
 बापू गुरुजीच्या लानपनी गावात शायी नोती.
 (1) प्रश्नार्थी (2) होकारार्थी
 (3) विधानार्थी (4) उद्गारार्थी
6. समासाचा योग्य विग्रह करा : लोकप्रतिनिधी
 (1) लोकांमध्ये प्रतिनिधी (2) लोकांसाठी प्रतिनिधी
 (3) लोकांमागचा प्रतिनिधी (4) लोकांचा प्रतिनिधी

पेपर क्र. - 02	16 - 3	17 - 4	18 - 1	19 - 4	20 - 3	21 - 2	22 - 2	23 - 2	24 - 3	25 - 2
पेपर क्र. - 03	1 - 4	2 - 2	3 - 2	4 - 2	5 - 3	6 - 4				

1. समास ओळखा - पंचप्राण

(1) बहुव्रीही (2) द्वंद्व (3) तत्पुरुष (4) द्विगू

2. प्रयोग ओळखा - रोज मातीत, मी गं नांदते बाई नांदते.

(1) पुराण कर्मणी (2) भावे
(3) कर्तरी (4) शक्य कर्मणी

3. वाक्प्रचाराचा योग्य अर्थ निवडा. मुखवटा चढवणे

(1) मनातली भावना लपवणे
(2) गंमत म्हणून प्राण्यापक्ष्यांचे चेहेरे चिकटवणे
(3) मुखपट्टी घालणे
(4) चेहरा लपवणे

4. पुढील लेखकाने कोणते पुस्तक लिहिले आहे? विश्राम बेडेकर

(1) रणांगण (2) तणकट
(3) ताम्रपट (4) सत्तांतर

5. पुढील लेखिकेच्या कोणत्या पुस्तकाला साहित्य अकादमीचा पुरस्कार मिळाला आहे? - दुर्गा भागवत

(1) ऋतुचक्र (2) पैस
(3) पंजाबच्या लोककथा (4) व्यासपर्व

6. पुढील वाक्याचा प्रकार ओळखा.

एखादी सुंदर काव्यात्म कल्पना व्यंगचित्रातून व्यक्त करता येते का?

(1) उद्गारार्थी (2) विधानार्थी
(3) प्रश्नार्थी (4) नकारार्थी

7. पुढील शब्दाची त्याच्या विरुद्धार्थी शब्दाशी जोडी जुळवा आत्मीयता

(1) परधार्जिणेपणा (2) परावलंबित्व
(3) परकेपणा (4) परवशता

8. पुढील वाक्प्रचाराचा वापर केव्हा योग्य आहे? - डोळे लावून बसणे

(1) वाट पाहत असताना (2) चष्मा लावताना
(3) डोळे दुखत असताना (4) डोळे बंद करताना

9. पुढील वाक्प्रचाराचा अर्थ कोणत्या वाक्यात बरोबर आहे? - चारीमुंड्या चीत होणे

(1) पहेलवानाचा दारूण पराभव झाला
(2) पहेलवानाने प्रतिस्पर्धाशी चार हात केले
(3) पहेलवान चार वेळा पराभूत झाला
(4) पहेलवानाने डोके टेकून नमस्कार केला

10. विरुद्धार्थी शब्द द्या - कमकुवत

(1) मजबूत (2) कमजोर
(3) असमर्थ (4) जास्त

11. अर्थ सांगा - पेशा

(1) व्यवसाय (2) पांढरपेशा
(3) सावकारी (4) पेशी

12. पुढील शब्दाचा अर्थ सांगा - शैशव

(1) बालपण (2) तारुण्य (3) प्रौढत्व (4) वृद्धत्व

13. पुढील वाक्प्रचाराचा केव्हा वाक्यात अचूक उपयोग होतो? अंगावर काटा येणे

(1) काटा टोचल्यावर
(2) ताप आल्यावर
(3) कुसळ काढल्यावर
(4) भीतीने अंगावर शहारा आल्यावर

14. समानार्थी शब्द द्या - निद्रा

(1) भूक (2) तहान (3) झोप (4) जाग

15. पुढील वाक्य नकारार्थी करा.

त्याची सर इतर कुणाला येणार?

(1) त्याची सर इतर कुणालाही येईल.
(2) त्याची सर इतर कुणालाही येणार नाही.
(3) त्याची सर इतर कुणालाही कशी येणार?
(4) त्याची सर इतर कुणालाही येऊ शकेल.

16. पुढील वाक्प्रचारासाठी कोणते वाक्य योग्य आहे?

गळा कापणे

(1) माशाचा काटा गिळल्यामुळे सुमतीचा गळा कापला गेला.
(2) मित्राला एवढी मदत करूनही त्याने माझा गळा कापला.
(3) दाढी करताना त्याने स्वतःचा गळा कापला.
(4) गुंडांनी कोयत्याने गळा कापून त्या व्यक्तीचा खून केला.

पेपर क्र. - 04	1 - 4	2 - 3	3 - 1	4 - 1	5 - 2	6 - 3	7 - 3	8 - 1	9 - 1	10 - 1	11 - 1
	12 - 1	13 - 4	14 - 3	15 - 2	16 - 2						

17. पुढील शब्दसमूहासाठी एक शब्द द्या.
पोटातील गर्भ जन्मण्याआधी मारून टाकणे
(1) भ्रूणहत्या (2) खून (3) आत्महत्या (4) बालहत्या

18. भानावर आल्यावर एक अस्वस्थतेची लहर स्पर्शून गेली.
ह्या वाक्यरचनेचा अर्थ पुढीलपैकी कोणती वाक्यरचना वापरून
व्यक्त होईल?
(1) जोपर्यंत मी भानावर आले तोपर्यंत एक लहर स्पर्शन गेली.
(2) भानावर येताना एक लहर स्पर्श न गेली.
(3) जेव्हा मी भानावर आले तेव्हा एक अस्वस्थतेची लहर
स्पर्शून गेली
(4) जरी मी भानावर आले तरी एक अस्वस्थतेची एक लहर
स्पर्शन गेली

19. अर्थ सांगा - वास्तुपुस्त
(1) वस्तू पुसणे (2) काळजी
(3) विचारपूस (4) प्रश्न

20. आदिम या शब्दाचा विरुद्धार्थी शब्द कोणता आहे?
(1) असंस्कृत (2) प्राचीन
(3) प्रथम (4) प्रगत

21. पुढील म्हण केव्हा वापरतात? काखेत कळसा गावाला वळसा
(1) चष्मा जवळच्या दुकानात असला तर
(2) चष्मा कपाटात असला तर
(3) चष्मा कपाळावर असला तर.
(4) चष्मा विसरला तर

22. पुढील वाक्यातले कर्म ओळखा - रुपयांच्या नोटांच्या
पुडक्याला बांधलेला रबरबँड शंकरावांनी काढून घेतला.
(1) रुपये (2) रबरबँड
(3) नोटा (4) पुडके

23. योग्य विग्रह करा - शक्तियुक्ती
(1) शक्ति आणि युक्ती (2) शक्ति म्हणजे युक्ती
(3) शक्ति परंतु युक्ती (4) शक्ति किंवा युक्ती

24. पुढील शब्दाशी त्याच्या समानार्थी शब्दाची जोडी ओळखा.
रिपु.
(1) मावळे (2) मित्र (3) घोडेस्वार (4) शत्रू

25. पुढील पुस्तकाचे लेखक कोण? - स्मरणगाथा
(1) गो. नी. दांडेकर (2) ना. सी. फडके
(3) अनिल (4) ह. ना. आपटे

05

Date - 04/09/2023

वेळ : 12 : 30 AM - 2 : 30 AM

- प्रयोग ओळखा - शेवटी मी डॉक्टरांना विचारलं.
(1) कर्तरी (2) समापन कर्मणी (3) भावे (4) पुराण कर्मणी
- समास ओळखा - दीर्घोद्योग
(1) नञ् बहुव्रीही (2) कर्मधारय
(3) विभक्ती तत्पुरुष (4) द्विगू
- पद्यश्री अशोक केळकरांनी पुढीलपैकी कोणते पुस्तक लिहिले?
(1) आधुनिक भाषाविज्ञान (2) रुजुवात
(3) भाषा आणि संस्कृती (4) सामाजिक भाषाविज्ञान
- 'गळ्यातले तुटले ओटीत पडले' या म्हणीचा योग्य अर्थ सांगा.
(1) परिस्थितीप्रमाणे वर्तन बदलणे
(2) नुकसान होता होता टळणे
(3) पक्का निर्णय घेणे
(4) खरे लपत नाही
- पुढील वाक्यातले प्रथमान्त कर्म ओळखा - माझ्या उशीखालचा
खाऊचा रुपया त्या ताईला दे.
(1) तू (2) माझा (3) रुपया (4) ताईला
- 'दिठी' या शब्दाचा अर्थ सांगा.
(1) दीडपट (2) दासी (3) दृष्टी (4) दृढ
- पुढील वाक्यचाराचा अर्थ सांगा - जमीन अस्मानचा फरक
असणे.
(1) खूप फरक असणे
(2) जमिनीपासून आकाश दूर असणे
(3) आकाशाला हात टेकणे
(4) जमीन आणि आकाश वेगळे असणे
- केवळ वाक्य करा. हॉटेलवर पोहोचल्यावर आमचे चेहरे
उजळले. सगळ्यांनी ते पाहिले. सगळ्यांच्या मनातील मळभ दूर
झालं.
(1) हॉटेलवर पोहोचलेल्या आमचे चेहरे उजळले, कारण
सगळ्यांच्या मनातील मळभ दूर झालं.
(2) हॉटेलवर पोहोचल्यावर आमचे चेहरे उजळले म्हणून
सगळ्यांच्या मनातील मळभ दूर झालं.
(3) हॉटेलवर पोहोचल्यावर आमचे उजळलेले चेहरे पाहून
सगळ्यांच्या मनातील मळभ दूर झालं
(4) हॉटेलवर पोहोचताना आमचे चेहरे उजळले. ते पाहून
सगळ्यांच्या मनातील मळभ दूर झालं.

पेपर क्र. - 04	17 - 1	18 - 3	19 - 3	20 - 4	21 - 3	22 - 2	23 - 1	24 - 4	25 - 1		
पेपर क्र. - 05	1 - 3	2 - 2	3 - 2	4 - 2	5 - 3	6 - 3	7 - 1	8 - 3			

9. पुढील पुस्तकाच्या लेखिका कोण आहेत? - जेव्हा माणूस जागा होतो
 (1) इरावती कर्वे (2) गोदावरी परळेकर
 (3) दुर्गा भागवत (4) विभावरी शिरूरकर
10. वाक्याचा प्रकार ओळखा - या माझ्या मागोमाग.
 (1) विध्यर्थी (2) आज्ञार्थी (3) प्रश्नार्थी (4) संकेतार्थी
11. अर्थ सांगा - उपद्रव
 (1) द्राव (2) नुकसान (3) त्रास (4) मनस्ताप
12. विरुद्धार्थी शब्द सांगा - हळुवारपणे
 (1) धसमुसळेपणाने (2) भरभर
 (3) सावकाश (4) हळवेपणाने
13. पुढील वाक्यप्रचार कोणत्या वाक्यात बरोबर वापरला आहे?
 गळ घालणे
 (1) वैदेही आणि अनू गळ्यात गळे घालून हिंडायचे
 (2) वैदेहीने राजच्या गळ्यात माळ घातली
 (3) वैदेही अनूच्या गळ्यात पडून रडू लागली
 (4) वैदेहीने अनूला त्रीपला येण्यासाठी गळ घातली
14. विरुद्धार्थी शब्द द्या - खिन्न
 (1) आनंदी (2) बेभान (3) निराश (4) दुःखी
15. पुढीलपैकी कोणाला ज्ञानपीठ पुरस्कार मिळाला आहे?
 (1) विं. दा. करंदीकर (2) आचार्य अत्रे
 (3) ना. सी. फडके (4) पु. ल. देशपांडे
16. पुढील विशेषण कोणत्या नामाबरोबर वापरले जात नाही -
 निःशब्द
 (1) शब्दकोश (2) भाषा (3) शांतता (4) वातावरण
17. समानार्थी शब्द द्या - थकवा
 (1) तकवा (2) शीण (3) थक (4) थकलेला
18. पुढील शब्द कोणत्या शब्दाचा समानार्थी आहे? - औषध
 (1) उतारू (2) उतारा (3) परिच्छेद (4) उतार
19. वाक्यप्रचाराचा अर्थ सांगा - जीव ओतणे
 (1) प्रेम करणे (2) सर्व शक्तीनिशी मनापासून काम करणे
 (3) जीव देणे (4) कष्ट सोसणे
20. वाक्य होकारार्थी करा.
 दात उपटण्याची क्रिया इतकी सोपी असेल असे वाटले नव्हते.
 (1) दात उपटण्याची क्रिया अवघड असेल असे वाटले होते.
 (2) दात उपटण्याची क्रिया सोपी नसेल असे वाटले नव्हते.

- (3) दात उपटण्याची क्रिया सोपी असेल असे वाटले होते.
 (4) दात उपटण्याची क्रिया अवघड नसेल असे वाटले होते.
21. पुढील शब्दाची त्याच्या विरुद्धार्थी शब्दाशी जोडी जुळवा.
 निर्बुद्ध
 (1) ढ (2) निर्लज्ज (3) बुद्धिमान (4) निर्दयी
22. पुढील शब्दसमूहासाठी कोणता एक शब्द आहे?
 उन्हाळ्यात जंगलातील झाडेझुडपे पेटणे.
 (1) वानवा (2) आग (3) वणवा (4) होम
23. पुढील शब्दाचा अर्थ सांगा - रिवाज
 (1) रियाज (2) दिनचर्या (3) रीत (4) वृत्ती
24. पुढील वाक्यप्रचार कोणत्या प्रसंगी वापरला? - आहारी जाणे
 (1) भरपूर खाल्ल्यावर
 (2) देखरेखीखाली असल्यावर
 (3) एखाद्या व्यक्तीने किंवा सवयीने तुमचा पूर्णपणे ताबा घेतल्यावर
 (4) योग्य आहार घेतल्यावर
25. योग्य विग्रह करा - दऱ्याखोऱ्यात
 (1) दरीत आणि खोऱ्यात (2) दऱ्याखोऱ्यांचा समूह
 (3) दरीपासून खोऱ्यापर्यंत (4) दरीत किंवा खोऱ्यात

06

Date - 04/09/2023

वेळ : 04 : 30 AM - 06 : 30 AM

1. समानार्थी शब्दाची जोडी जुळवा - दार
 (1) कवाड (2) झाकण
 (3) गवाक्ष (4) कपाट
2. लेखक आनंद यादवांनी कोणते पुस्तक लिहिले आहे ?
 (1) उल्का (2) गोतावळा
 (3) बलुतं (4) कोसला
3. पुढील पुस्तकाचे लेखक कोण? - व्यक्ती आणि वल्ली
 (1) द. मा. मिरासदार (2) पु. ल. देशपांडे
 (3) चि. वि. जोशी (4) बाळकराम
4. 'महर्षी विठ्ठल रामजी शिंदे जीवन व कार्य' हा ग्रंथ कोणाचा आहे?
 (1) अशोक केळकर (2) ना. गो. कालेलकर
 (3) गो. मा. पवार (4) प्रभाकर पाध्ये

पेपर क्र. - 05	9 - 2	10 - 2	11 - 3	12 - 1	13 - 4	14 - 1	15 - 1	16 - 2	17 - 2	18 - 2	19 - 2
	20 - 1	21 - 3	22 - 3	23 - 3	24 - 3	25 - 1					
पेपर क्र. - 06	1 - 1	2 - 2	3 - 3	4 - 1							

22. शब्दाचा अर्थ सांगा - मागमूस
 (1) पत्ता (2) साचा
 (3) शोध (4) मागोमाग
23. पुढील वाक्याचा प्रकार ओळखा. - किती आतून हसतात ती !
 (1) प्रश्नार्थी (2) विधानार्थी
 (3) उद्गारार्थी (4) विध्यर्थी
24. विरुद्धार्थी शब्द द्या - बेचव
 (1) आळणी (2) चविष्ट
 (3) खारट (4) रसाळ
25. योग्य विग्रह करा - हर्षोल्लास
 (1) हर्षाने उल्हास (2) हर्षातून उल्हास
 (3) हर्ष आणि उल्हास (4) हर्ष किंवा उल्हास

07

Date - 05/09/2023

वेळ : 09 : 00 AM - 11 : 00 AM

1. योग्य जोडी असलेला पर्याय ओळखा.
 (1) त्याचे वृत्तपत्र वाचून झाले - भावे प्रयोग
 (2) आज लवकर उजाडले - कर्मणी प्रयोग
 (3) शिकाऱ्याने शिकार केली - कर्तरी प्रयोग
 (4) पक्षी आकाशात उडाला - कर्तरी प्रयोग
2. 'जनसंमर्द' या शब्दाचा अर्थ काय ?
 (1) जनमत (2) जनसंपर्क
 (3) जनसागर (4) जनाधार
3. पुढीलपैकी बाहू शब्दाचा योग्य नसलेला अर्थ निवडा.
 (1) हात (2) भुजा
 (3) कर (4) भाऊ
4. पुढीलपैकी गद्य वाक्यरचनेच्या दृष्टीने योग्य वाक्य ओळखा.
 (1) चैत्रातल्या पर्णशोभेचे आणि फळशोभेचे वर्णन आंब्या-फणसाशिवाय पूर्ण होणार नाही.
 (2) चैत्रातल्या पर्णशोभेचा आणि फळशोभेचा वर्णन आंब्या-फणसाशिवाय पूर्ण होणार नाही.
 (3) चैत्रातल्या पर्णशोभेच्या आणि फळशोभेच्या वर्णन आंब्या-फणसाशिवाय पूर्ण होणार नाही.
 (4) चैत्रातल्या पर्णशोभेला आणि फळशोभेला वर्णन आंब्या-फणसाशिवाय पूर्ण होणार नाही.

5. पुढील वाक्यात गाळलेल्या जागी सर्वात योग्य शब्द ओळखा.
 ही जागा प्राण्यांसाठी योग्य..... नाही.
 (1) अडेलतडू (2) अधिकृत
 (3) अधिवास (4) अंमलबजावणी
6. 'घोडे मारणे' या वाक्यप्रचाराचा योग्य अर्थ ओळखा.
 (1) प्रगती होणे (2) प्रवासाला जाणे
 (3) नुकसान करणे (4) वेगाने जाणे
7. 'दृष्टीआड सृष्टी' या म्हणीचा अर्थ कोणता ?
 (1) दृष्टी गेल्यावर सृष्टी दिसणे
 (2) नजरेआड उत्तम गोष्टी असणे
 (3) उत्तम दृष्टी असणे
 (4) नजरेआड असलेल्याकडे दुर्लक्ष करणे
8. भारतीय ज्ञानपीठाच्या मूर्तिदेवी पुरस्काराने सन्मानित साहित्यिक कोण आहेत ?
 (1) रणजित देसाई (2) विं.दा. करंदीकर
 (3) शिवाजी सावंत (4) विश्वास पाटील
9. वाक्यातील योग्य उपयोग ओळखा. झुंजुंजुं होणे.
 (1) झुंजुंजुं झाले आणि मी बाहेर पडलो.
 (2) त्या दोघांचे झुंजुंजुं झाले.
 (3) बैलाला झुंजुंजुं झाले.
 (4) वादविवादांमुळे गावकऱ्यांमध्ये झुंजुंजुं झाले.
10. पुढील वाक्यात गाळलेल्या जागी सर्वात योग्य शब्द ओळखा.
 पक्ष्यांचा थवा जमिनीवरून आकाशात.....
 (1) बसला (2) धावला
 (3) झेपावला (4) उतरला
11. 'ऊत येणे' या वाक्यप्रचाराचा योग्य अर्थ ओळखा.
 (1) कमी होणे (2) उन्हे येणे
 (3) अतिरेक होणे (4) खराब होणे
12. 'निर्दोष' या शब्दाचा समानार्थी नसलेला शब्द ओळखा.
 (1) दोषरहित (2) दोषहीन
 (3) निर्मळ (4) दोषवान
13. 'विनम्र' या शब्दाचा समानार्थी शब्द ओळखा.
 (1) अबोल (2) लीन
 (3) लाजरा (4) गर्विष्ठ

पेपर क्र. - 06	22 - 1	23 - 3	24 - 2	25 - 3	पेपर क्र. - 07	1 - 4	2 - 3	3 - 4	4 - 1
	5 - 3	6 - 3	7 - 4	8 - 2	9 - 1	10 - 3	11 - 3	12 - 4	13 - 2

14. 'खिन्न' या शब्दाचा विरुद्धार्थी शब्द ओळखा.
 (1) परान्न (2) आसन्न
 (3) प्रसन्न (4) दुःखी
15. 'देशभक्ती' शब्दाचा समास ओळखा.
 (1) कर्मधारय (2) द्वितीया तत्पुरुष
 (3) सप्तमी तत्पुरुष (4) षष्ठी तत्पुरुष
16. 'विमल' या शब्दाचा विरुद्धार्थी नसलेला शब्द ओळखा.
 (1) मलिन (2) मळके
 (3) अस्वच्छ (4) स्वच्छ
17. अयोग्य जोडी ओळखा.
 (1) मिथ्या × सत्य (2) राजमार्ग × आडमार्ग
 (3) मृदू × मऊ (4) मोकळीक × बंधन
18. अयोग्य जोडी ओळखा.
 (1) भोळा - कपटी (2) बातमी - वार्ता
 (3) गाऱ्हाणे - तक्रार (4) भूषण - दागिना
19. पुढीलपैकी गद्य वाक्यरचनेच्या दृष्टीने योग्य वाक्य ओळखा.
 (1) पुस्तकांची वाट पाहून एक गंमत होती.
 (2) पुस्तकांची वाट पाहण्यात एक गंमत होता.
 (3) पुस्तकांची वाट पाहणाऱ्या एक गंमत होती.
 (4) पुस्तकांची वाट पाहण्यात एक गंमत होती.
20. 'खरडपट्टी' या शब्दाचा अर्थ काय?
 (1) फरफटत नेणे (2) ठोसे मारणे
 (3) समाचार घेणे (4) खोडून काढणे
21. पुढील पर्यायांपैकी कर्मणी प्रयोगाचे वाक्य ओळखा.
 (1) लोकांनी शाबासकी दिली.
 (2) लोकांनी नेत्याला निवडून दिले.
 (3) लोक मतदान करतात.
 (4) लोक प्रवास करतात.
22. 'पार आणि शिवार' हा ललित लेखसंग्रह कोणाचा आहे?
 (1) द. ता. पाटील (2) द. ता. भोसले
 (3) माधव विचारे (4) ऐश्वर्य पाटेकर
23. पुढीलपैकी गद्य वाक्यरचनेच्या दृष्टीने योग्य वाक्य ओळखा.
 (1) ते प्रवासी दोन शिरले आपल्या डब्यात.
 (2) डब्यात ते दोन प्रवासी शिरले आपल्या.

- (3) ते दोन प्रवासी आपल्या डब्यात शिरले.
 (4) ते आपल्या डब्यात शिरले दोन प्रवासी.

24. लोकशाहीर विठ्ठल उमाप यांच्या आत्मचरित्राचे नाव काय?

- (1) झोका (2) फू बाई फू
 (3) अरे संसार संसार (4) फुगडी

25. अव्ययीभाव समासाचे उदाहरण ओळखा.

- (1) बिनतक्रार (2) गावदेवी (3) देवपूजा (4) ज्ञानयज्ञ

08

Date - 05/09/2023

वेळ : 12 : 30 AM - 02 : 30 AM

1. 'परवशता' या शब्दाचा अर्थ काय?
 (1) पराधीनता (2) विश्वास
 (3) स्वातंत्र्य (4) मुक्ती
2. 'दगाबाजी' या शब्दाचा विरुद्धार्थी नसलेला शब्द ओळखा.
 (1) विश्वासघात (2) विश्वास
 (3) इमानदारी (4) प्रामाणिकपणा
3. कंसातील शब्दाचा वाक्यात योग्य उपयोग करा. - समाज आणि शासन या दोघांचा (व्यवस्था) समान वाटा असायला हवा.
 (1) व्यवस्थाचा (2) व्यवस्थेला
 (3) व्यवस्थात (4) व्यवस्थेत
4. रंगरेषा - व्यंगरेषा या पुस्तकाचे लेखक कोण आहेत?
 (1) बा. भ. बोरकर (2) व. पु. काळे
 (3) मंगेश तेंडुलकर (4) रमेश तेंडुलकर
5. राष्ट्रसंत तुकडोजी महाराज यांचे कोणते पुस्तक प्रसिद्ध आहे?
 (1) राष्ट्रीय भजनावली (2) भजनानंद
 (3) भजनसरिता (4) राष्ट्रकार्य
6. पासनापास या शब्दाचा विग्रह ओळखा.
 (1) पास नाही तो (2) पास नाही नापास नाही
 (3) पास आणि नापास (4) पास किंवा नापास
7. अमोलने सतार वाजवली. या वाक्याचा प्रयोग ओळखा.
 (1) प्रधानकर्तृक कर्मणी (2) समापन कर्मणी
 (3) नवीन कर्मणी (4) शक्य कर्मणी
8. संहार शब्दाचा विरुद्धार्थ ओळखा.
 (1) उत्पत्ती (2) विनाश
 (3) क्षय (4) नाश

पेपर क्र. - 07	14 - 3	15 - 4	16 - 4	17 - 3	18 - 1	19 - 4	20 - 3	21 - 1	22 - 2	23 - 3	24 - 2
	25 - 1	पेपर क्र. - 08	1 - 1	2 - 1	3 - 4	4 - 3	5 - 1	6 - 4	7 - 1	8 - 1	

9. पुढीलपैकी मिश्र वाक्य ओळखा.
 (1) वसंतात फुलबाग बहरते.
 (2) वसंतामुळे फुलबाग बहरली.
 (3) वसंत आल्याने फुलबाग बहरली.
 (4) वसंताचे जेव्हा आगमन होते, तेव्हा फुलांना बहर येतो.
10. मी शहरातील विविध बँकांमध्ये..... मारला.
 (1) फेरफटका (2) नजर (3) फटका (4) दृष्टी
11. 'भरल्या गाड्याला सूप जड नाही' या म्हणीचा अर्थ सांगा.
 (1) अतिशय गरज असली तर काहीही चालते.
 (2) दिसायला श्रीमंत पण अन्नाला महाग
 (3) मोठ्या कामात लहान काम सहज होणे
 (4) सामर्थ्याच्या जोरावर अधिकार गाजवणे
12. पुढील क्रियापदाला समानार्थी क्रियापद ओळखा. - खुंटणे
 (1) धाडणे (2) थांबणे (3) मारणे (4) फसवणे
13. 'नाक दाबले की तोंड उघडते' या म्हणीचा योग्य अर्थ पुढीलपैकी कोणता?
 (1) अडवणूक करून काम साधणे
 (2) उपदेशाप्रमाणे वर्तन असणे
 (3) मालकापेक्षा नोकर शिरजोर
 (4) कोठेही गेले तरी मनुष्यस्वभाव सारखाच
14. भारतात त्यांनी स्त्री शिक्षणाच्या कार्याची रोवली.
 (1) ओनामा (2) पालखी (3) आरंभ (4) मुहूर्तमेढ
15. वाक्यात योग्य विभक्तीप्रत्यय वापरा. - हत्ती शरीरा जो भाग हाती लागला, त्या त्याने वर्णन केले.
 (1) चे, चे, चे (2) चा, चा, चा
 (3) च्या, चा, चे (4) त, स, चे
16. 'कमरपट्टा' या शब्दाचा समास ओळखा.
 (1) चतुर्थी बहुव्रीही (2) सप्तमी बहुव्रीही
 (3) सप्तमी तत्पुरुष (4) चतुर्थी तत्पुरुष
17. आदर्श या शब्दाचा कोणता अर्थ बरोबर नाही?
 (1) नमुनेदार (2) सुलभ (3) प्रमाणभूत (4) उत्कृष्ट
18. पुढील शब्दाला समानार्थी शब्द ओळखा. - प्रकाश
 (1) विकास (2) कर (3) प्रभा (4) किरण
19. पुढील वाक्यातील उद्देश ओळखा. - मुलाने दप्तर भरले.
 (1) दप्तर (2) मुलगा
 (3) मुलाने भरले (4) भरले.

20. 'हमरीतुमरीवर' येणे या वाक्यप्रचाराचा अर्थ सांगा.
 (1) भांडण करणे (2) हरवणे
 (3) पाठलाग करणे (4) पळून जाणे
21. भावे प्रयोगाचे उदाहरण ओळखा.
 (1) आईने मुलांना उठवले. (2) मुलांनी कविता वाचली.
 (3) मुलांनी अभ्यास केला. (4) मुलांनी खिचडी खाल्ली.
22. आपल्या ज्ञानेंद्रियांचा वापर जागरूकपणे हवा. गाळलेल्या जागी योग्य पर्याय निवडा.
 (1) करील (2) कर (3) करायला (4) करतो
23. पुढीलपैकी सकर्मक वाक्य ओळखा.
 (1) तो धावताना थांबला. (2) महाराज दरबारात आले.
 (3) मुले जोरात ओरडली. (4) मी दार बंद केले.
24. गोदावरी परुळेकर यांचे पुढीलपैकी कोणते पुस्तक प्रसिद्ध आहे.
 (1) भूमिका आणि उत्सव (2) जेव्हा माणूस जागा होतो
 (3) जेव्हा मी जात चोरली (4) अंधारातील दिवे
25. अकल्पित या शब्दाचा विरुद्धार्थ सांगा.
 (1) अकस्मात (2) अचानक
 (3) अनपेक्षित (4) अपेक्षित

09

Date - 05/09/2023

वेळ : 04 : 30 PM - 06 : 30 PM

1. मावशी गप्पिष्ट असल्याने बोलत होत्या. गाळलेल्या जागी योग्य शब्द निवडा.
 (1) हातचे राखून (2) कमी
 (3) थोडक्यात (4) भरभरून
2. खालीलपैकी कोणता शब्द बहुव्रीही समासाचे उदाहरण नाही?
 (1) कृतकृत्य (2) पद्मनाभ
 (3) लक्ष्मीकांत (4) मायलेकरे
3. व्यथित शब्दाचा विरुद्धार्थ ओळखा.
 (1) विकल (2) पीडित
 (3) दुःखी (4) आनंदी
4. शिशिरागम हा काव्यसंग्रह कोणत्या प्रसिद्ध कवीचा आहे?
 (1) विं. दा. करंदीकर (2) कुसुमाग्रज
 (3) बा. सी. मर्ढेकर (4) बा. भ. बोरकर

पेपर क्र. - 08	9 - 4	10 - 1	11 - 3	12 - 2	13 - 1	14 - 4	15 - 3	16 - 4	17 - 2	18 - 3	19 - 2
	20 - 1	21 - 1	22 - 3	23 - 4	24 - 2	25 - 4	पेपर क्र. - 09	1 - 4	2 - 4	3 - 4	

1. विरुद्धार्थी नसलेली जोडी ओळखा.
 - (1) निकोप - रोगी
 - (2) निकट - लांब
 - (3) निकड - तातडी
 - (4) निकामी - उपयोगी
2. भावे प्रयोगात क्रियापदाचा याला प्राधान्य असते.
 - (1) कर्म
 - (2) काळ
 - (3) भाव
 - (4) कर्ता
3. अर्थानुसार पुढीलपैकी अयोग्य जोडी ओळखा.
 - (1) पिक - कोकीळ
 - (2) मद - द्वेष
 - (3) बाक - वाकडेपणा
 - (4) भांडे - पात्र
4. जर मी तिथे तर हे भांडण होऊच
 - (1) होते, दिले
 - (2) असावे, द्यावे
 - (3) असते, दिले नसते.
 - (4) असेन, दिले नाही.
5. निःशुल्क या शब्दाला कोणता शब्द समानार्थी नाही?
 - (1) विनाशुल्क
 - (2) मोफत
 - (3) विनमोल
 - (4) सशुल्क
6. पुढीलपैकी कोणते द्विगू समासाचे उदाहरण नाही?
 - (1) नवरात्र
 - (2) त्रिभुवन
 - (3) चारपाच
 - (4) पंचवटी
7. पुढीलपैकी अव्ययीभाव समासाचे उदाहरण ओळखा.
 - (1) चोरभय
 - (2) गैरवाजवी
 - (3) गावदेवी
 - (4) तोंडपाठ
8. कंसातील शब्दाचे योग्य रूप वापरा. (मी) (भाषा) अभ्यास चांगला सुरू आहे.
 - (1) माझा, भाषेचा
 - (2) माझा, भाषेची
 - (3) मला, भाषेची
 - (4) मी, भाषेत
9. आकाश ढगांनी भरलेले होते. 'ढगांनी भरलेले' यासाठी शब्दसमूहाबद्दल एक शब्द वापरा.
 - (1) नीलाच्छादित
 - (2) आच्छादित
 - (3) शुभ्राच्छादित
 - (4) मेघाच्छादित
10. योग्य विरुद्धार्थी जोडी ओळखा.
 - (1) नीटस ओबडधोबड
 - (2) नितळ - स्वच्छ
 - (3) निढळ - कपाळ
 - (4) नितांत - अत्यंत

11. आर्याभारत ही रचना कोणाची आहे?
 - (1) संत तुकाराम
 - (2) तुकडोजी महाराज
 - (3) मोरोपंत
 - (4) संत रामदास
12. पदरमोड करणे याचा अर्थ सांगा.
 - (1) स्वतःचा पैसा खर्च करणे
 - (2) नुकसान होणे
 - (3) उधळपट्टी करणे
 - (4) गरिबी येणे
13. वर्ष 2006 मध्ये आशा बगे यांच्या भूमी या कोणत्या लेखनप्रकाराला साहित्य अकादमी पारितोषिक जाहीर झाले.
 - (1) कादंबरी
 - (2) कथासंग्रह
 - (3) समीक्षा
 - (4) कवितासंग्रह
14. योग्य जोडी ओळखा.
 - (1) त्याला आज मळमळते - कर्मकर्तरी
 - (2) तो खूप बडबडत होता - कर्मणी
 - (3) त्याला आता बसवते - कर्तरी
 - (4) त्याचे काम करून झाले - समापन कर्मणी
15. शिगेला पोहोचणे म्हणजे काय?
 - (1) शेवटच्या टोकाला जाणे
 - (2) प्रशंसा करणे
 - (3) प्रारंभ करणे
 - (4) गोड बोलणे
16. 'वाकुल्या दाखवणे' या वाक्प्रचाराचा अर्थ सांगा.
 - (1) नीटनेटके करणे
 - (2) धपाटे घालणे
 - (3) वेडावून दाखवणे
 - (4) हैराण करणे
17. पुढील शब्दाचा योग्य अर्थ सांगा - तेढ
 - (1) अढी
 - (2) गाढ
 - (3) वाढ
 - (4) मूढ
18. पुढीलपैकी आज्ञार्थी वाक्य ओळखा.
 - (1) जर अधिकारी आले, तर सर्व उपस्थित राहतील.
 - (2) सर्वांनी उपस्थित राहा.
 - (3) सर्व उपस्थित राहिले.
 - (4) सर्वांनी उपस्थित राहावे.
19. सुनंदा आणि मुली घरातून बाहेर आणि रिक्षात बसल्या.
 - (1) पडल्या, त्या
 - (2) पडले, त्याने
 - (3) पडली, त्यांनी
 - (4) पडल्या, ती

पेपर क्र. - 10	1 - 3	2 - 3	3 - 2	4 - 3	5 - 4	6 - 3	7 - 2	8 - 1	9 - 4	10 - 1	11 - 3
	12 - 1	13 - 1	14 - 4	15 - 1	16 - 3	17 - 1	18 - 2	19 - 1			

20. उपजणे या क्रियापदाचे विरुद्धार्थी क्रियापद सांगा.

- (1) उद्भवणे (2) निपजणे
(3) जन्मणे (4) मरणे

21. योग्य समानार्थी शब्द ओळखा. - प्रीत्यर्थ

- (1) प्रेम (2) आवश्यक (3) यास्तव (4) प्रीती

22. पुढीलपैकी कोणते मिश्र वाक्य नाही?

- (1) बाहेर जाता आले, म्हणून मी भाजी आणली.
(2) मी बाहेर गेल्यावर भाजी आणीन.
(3) जर मला बाहेर जाता आले तर मी भाजी आणीन.
(4) जर मी बाहेर गेले तर मी भाजी आणीन.

23. प्रामुख्याने गझल या काव्यप्रकारात रचना करणारे प्रसिद्ध कवी कोण ?

- (1) विंदा करंदीकर (2) ऐश्वर्य पाटेकर
(3) बा. सी. मर्ढेकर (4) सुरेश भट

24. पुढील शब्दाचा योग्य अर्थ सांगा - मत्ता

- (1) स्वाभिमान (2) संपत्ती
(3) समुद्र (4) पृथ्वी

25. पुढील वाक्यातील क्रियापद ओळखा - शेतीची कामे यंदा लांबली.

- (1) शेती (2) लांबली (3) कामे (4) यंदा

11

Date - 06/09/2023

वेळ : 12 : 30 AM - 02 : 30 AM

1. 'तीन रस्ते एकत्र येतात ती जागा.'

- (1) त्रिफुल (2) त्रैमार्ग
(3) तिठा (4) त्रिपांध

2. 'पुनर्जन्म' ही कादंबरी कोणी लिहिली ?

- (1) मीना बोरकर (2) शांता शेळके
(3) कुसमावती देशपांडे (4) प्रिया तेंडुलकर

3. चक्रपाणि, लक्ष्मीकांत, नीलकंठ ही कोणत्या समासाची उदाहरणे आहेत ?

- (1) द्वंद्व समास (2) अव्ययीभाव समास
(3) बहुव्रीही समास (4) तत्पुरुष समास

4. 'जहाल' या शब्दाचा योग्य विरुद्धार्थी शब्द शोधा.

- (1) तिखट (2) मवाळ

(3) उग्र

(4) जलाल

5. बेल भंडारा उचलणे, वाक्यात उपयोग करा.

- (1) महादेवाच्या मंदिरात असलेला बेलभंडारा सर्वजण उचलून आपल्या घरी नेत.
(2) जत्रेच्या गर्दीमुळे मंदिरातील पुजाऱ्यांना बेलभंडारा सतत उचलावा लागतो.
(3) स्वराज्य स्थापनेसाठी शिवराय व त्यांच्या सवंगड्यांनी रायशेवराच्या मंदिरात बेलभंडारा उचलला.
(4) माधवराव वैद्य आपल्या काढ्यामध्ये बेलभंडार उचलून त्याचा उपयोग करत असत.

6. पर्यायी उत्तरांतून योग्य पर्यायी उत्तर असलेला शुद्ध जोडशब्द कोणता ?

- (1) रितिरिवाज (2) रीतिरिवाज
(3) रितीरिवाज (4) रीतीरीवाज

7. 'व्यक्ती आणि वल्ली' पुस्तकाचे लेखक कोण ?

- (1) गो. नी. दांडेकर (2) वि. वा. शिरवाडकर
(3) जी. ए. कुलकर्णी (4) पु. ल. देशपांडे

8. 'ये रे कुत्र्या, खा माझा पाय' या म्हणीचा योग्य अर्थ ओळखा.

- (1) एखाद्याला 'कुत्रा' म्हणून त्याचा अपमान करणे
(2) भूतदया दाखविणे
(3) त्याग करण्याची तयारी ठेवणे
(4) आपणहून संकट ओढवून घेणे

9. विरुद्धार्थी शब्दाबाबत खालीलपैकी चुकीची जोडी शोधा.

- (1) पोकळ - भरीव (2) पूर्ण - अपूर्ण
(3) पांगळा - धडधाकट (4) दीन - दुबळा

10. 'मामा बनविणे' चा वाक्यात उपयोग करा.

- (1) गोड गोड बोलून सर्वांनी आपल्याला मामा बनविले हे लवकरच राजेंद्रच्या लक्षात आले.
(2) नमाने मामासाठी शेला बनवला.
(3) प्रसाद नाटकात सुधाचा मामा बनला.
(4) राधाने मुख्याध्यापकांच्या समोर चुकी लपवण्यासाठी प्रकाशला आपला मामा बनवला.

11. लोणी लावणे - या वाक्यप्रचाराचा वाक्यात उपयोग करा.

- (1) मुलांना खाण्यासाठी आई रोज ताजे लोणी लावत असे.
(2) शालेय सहलीला जाण्याची परवानगी मिळावी म्हणून गीता वडिलांना लोणी लावत होती.

पेपर क्र. - 10	20 - 4	21 - 3	22 - 2	23 - 4	24 - 2	25 - 2					
पेपर क्र. - 11	1 - 3	2 - 2	3 - 3	4 - 2	5 - 3	6 - 2	7 - 4	8 - 4	9 - 4	10 - 1	11 - 2

1. 'नाशिवंत' या शब्दासाठी विरुद्धार्थी शब्द निवडा.

- (1) अविनाशी (2) जातिवंत
(3) क्षणिक (4) दीर्घायुषी

2. 'पिकाची राखण करण्यासाठी घातलेला मांडव' याबद्दल एक शब्द.

- (1) चावडी (2) पडळ
(3) तगाई (4) मचाण

3. पुढील शब्दाचा समानार्थी शब्द ओळखा : 'पक्षी'

- (1) पर (2) पंख (3) खग (4) पक्ष

4. 'अनुराग' या शब्दाचा अर्थ कोणता ते सांगा ?

- (1) अनुज (2) भाऊ
(3) प्रेम (4) विलोभनीय

5. घना आणि राधाचा शुभविवाह झाल्यावर त्यांच्या कुटुंबीयांना एकदाचे

- (1) हायसे वाटले.
(2) सव्यापसव्य झाल्यासारखे वाटले.
(3) न भूतो न भविष्यति वाटले.
(4) सदगदीत झाल्यासारखे वाटले.

6. खालीलपैकी सामासिक शब्दाची फोड करा - 'पुरणपोळी'

- (1) पुरणासाठी पोळी
(2) पोळीतील पुरण
(3) पुरण घालून तयार केलेली पोळी
(4) पुरण व पोळी

7. ज्या समासात एकत्र येणाऱ्या दोन पदांपैकी पहिले पद प्रधान असते व या सामासिक शब्दाचा वापर क्रियाविशेषणासारखा केलेला असतो, तेव्हा समास होतो.

- (1) द्वंद्व (2) अव्ययीभाव
(3) बहुव्रीही (4) तत्पुरुष

8. 'वेदांतला जांभळाची खूप झाडे दिसली. या वाक्याचा प्रकार ओळखा.

- (1) नकारार्थी वाक्य (2) संयुक्त वाक्य
(3) विशेषण वाक्य (4) केवल वाक्य

9. स्वयंभू या शब्दाचा विरुद्धार्थी पर्याय निवडा.

- (1) गाफील (2) प्रतिष्ठापित
(3) प्रारतंत्र्य (4) पराधीन

10. खाली दिलेल्या अर्थापैकी 'देवाज्ञा होणे' या वाक्यप्रचाराचा अर्थ कोणता ?

- (1) देव पावणे (2) अवतार घेणे
(3) मृत्यू पावणे (4) साक्षात्कार होणे

11. लेखन नियमानुसार अचूक शब्द ओळखा.

- (1) वर्ताहर (2) वार्तहर (3) वार्ताहर (4) वर्तहर

12. 'छावा'या कादंबरीचे लेखक कोण ?

- (1) बा. सी. मर्ढेकर (2) केशव मेश्राम
(3) वि. स. खांडेकर (4) शिवाजी सावंत

13. विरुद्धार्थी शब्दाबाबत खालीलपैकी चुकीची जोडी शोधा.

- (1) देव - दानव (2) सबल - दुर्बल
(3) घर - सदन (4) खेद - हर्ष

14. ज्या प्रयोगात संयुक्त क्रियापदाच्या क्रियापदाने समाप्तीचा अर्थ सूचित होतो अशा प्रयोगाला प्रयोग म्हणतात.

- (1) प्राचीन कर्मणी (2) शक्य कर्मणी
(3) समापन कर्मणी (4) नवीन कर्मणी

15. 'अग्निपंख' हे यांचे आत्मचरित्र आहे.

- (1) ना. सी. फडके
(2) डॉ. ए. पी. जे. अब्दुल कलाम
(3) वि. दा. सावरकर
(4) गो. रा. खैरनार

16. 'बाळकडू पाजणे' म्हणजे काय ?

- (1) बाळास दूध पाजणे (2) बाळास औषध पाजणे
(3) बालमनावर संस्कार करणे (4) बाळास शिकविणे

17. 'तोंडात तीळ न भिजणे' या वाक्यप्रचाराचा अर्थ ओळखा.

- (1) हाव सुटणे
(2) मर्यादा सोडून उद्धटपणे बोलणे
(3) कोणतीही गुप्त गोष्ट प्रकट करणे
(4) थुंकून देणे

पेपर क्र. - 12	1 - 1	2 - 4	3 - 3	4 - 3	5 - 1	6 - 3	7 - 2	8 - 4	9 - 2	10 - 3	11 - 3
	12 - 4	13 - 3	14 - 3	15 - 2	16 - 3	17 - 3					

18. वाक्याचा प्रकार ओळखा. 'मला परीक्षेत पहिला वर्ग मिळाला.'

- (1) नकारार्थी (2) विध्यर्थी
(3) संकेतार्थी (4) आज्ञार्थी

19. 'पाणउतारा करणे' या वाक्प्रचाराचा योग्य अर्थ द्या.

- (1) पाणी उतारावर वाहणे
(2) पायरीवरून उतरून जाणे
(3) पायउतार होणे
(4) अपमान करणे

20. खाली दिलेल्या वाक्यातील प्रयोगाचा पर्याय शोधा. 'मिनलला थंडी वाजते.'

- (1) अकर्मक कर्तरी प्रयोग (2) सकर्मक कर्तरी प्रयोग
(3) कर्मणी प्रयोग (4) भावे प्रयोग

21. 'सावळा गोंधळ' या अलंकारिक शब्दाचा अर्थ सांगा.

- (1) नीटनेटकेपणा
(2) अव्यवस्थितपणाचा कारभार
(3) लांबणीवर पडलेले काम
(4) कंटाळवाणे कथन

22. 'दाती तृण धरणे' म्हणजे?

- (1) पाठिंबा देणे (2) विश्वासघात करणे
(3) सावध असणे (4) शरण येणे

23. 'सुरुवात' या शब्दाचा समानार्थी नसलेला शब्द कोणता?

- (1) प्रारंभ (2) अंत (3) श्रीगणेशा (4) आरंभ

24. 'साक्षरता प्रसार शिबिराचे निमंत्रण आले असते तर शिक्षक सहभागी झाले असते.' हा वाक्प्रकार ओळखा.

- (1) विध्यर्थी वाक्य (2) स्वार्थी वाक्य
(3) आज्ञार्थी वाक्य (4) संकेतार्थी वाक्य

25. शंकर पाटील यांनी लिहिलेल्या पुस्तकाचे नाव सांगा.

- (1) नातीगोती (2) खोगीर भरती
(3) द्राक्षांचे घोस (4) वळीव

13

Date - 08/09/2023

वेळ : 09 : 00 AM - 11 : 00 AM

1. खालीलपैकी शुद्ध शब्द कोणता ?

- (1) जीवघेणा (2) जीवघाणा
(3) जिवघेणा (4) जीवघेना

2. 'आरोग्य' समानार्थी असलेला शब्द ओळखा.

- (1) मन (2) शरीर
(3) ताकद (4) निरोगीपणा

3. 'बोले तैसा चाले त्याची वंदावी पाऊले' या म्हणीचा योग्य अर्थ ओळखा.

- (1) वंदन करणे चांगले.
(2) खरे बोलणाऱ्याचे पाय वंदावे.
(3) बोलणाऱ्याचा मान राखावा.
(4) बोलल्याप्रमाणे कृती करणाऱ्यास मान द्यावा.

4. 'शांती' शब्दाचा विरुद्धार्थी शब्द असलेला अचूक पर्याय निवडा.

- (1) हलाखी (2) क्षोभ
(3) क्षती (4) विस्कळीत

5. 'जिवंत असेपर्यंत' या शब्दसमूहासाठी योग्य शब्दाची निवड करा.

- (1) आजीव (2) अभय
(3) मृत्यू (4) आजन्म

6. प्रयोग ओळखा- 'राजाने राजवाडा बांधला.'

- (1) भावकर्तरी प्रयोग (2) भावे प्रयोग
(3) कर्तरी प्रयोग (4) कर्मणी प्रयोग

7. उचल्या हे कोणाचे आत्मचरित्र आहे.

- (1) लक्ष्मण माने (2) लक्ष्मण गायकवाड
(3) दया पवार (4) आनंद यादव

8. 'योजना चांगल्या असतात पण तळागाळापर्यंत पोहोचत नाहीत'. हे वाक्य कोणत्या प्रकारचे आहे?

- (1) गौण वाक्य (2) मिश्र वाक्य
(3) संयुक्त वाक्य (4) केवळ वाक्य

9. क्रियापदाच्या अर्थावरून वाक्याचा प्रकार ओळखा.

- 'तुम्ही आलात तर मी सुद्धा तुमच्या घरी येईल.'
(1) आज्ञार्थी (2) नकारार्थी
(3) होकारार्थी (4) संकेतार्थी

पेपर क्र. - 12	18 - 2	19 - 4	20 - 1	21 - 2	22 - 4	23 - 2	24 - 4	25 - 4			
पेपर क्र. - 13	1 - 1	2 - 4	3 - 4	4 - 2	5 - 4	6 - 4	7 - 2	8 - 3	9 - 4		

1. 'गाशा गुंडाळणे' वाक्यात उपयोग करा.
 - (1) त्याने गाशा गुंडाळताना चूक केली.
 - (2) त्याला गांशा गुंडाळता येत नाही.
 - (3) त्याने गाशा गुंडाळला.
 - (4) तो गाशा गुंडाळत बसला.
2. 'अभ्यासाचे दप्तर जड' या म्हणीचा अर्थ काय ?
 - (1) जास्त अभ्यास असणे.
 - (2) दप्तरात पुस्तके जास्त.
 - (3) जड व जाड पुस्तकांचा भरणा.
 - (4) कामापेक्षा दगदगच फार.
3. वाक्यातील एका शब्दाचा विरुद्धार्थी शब्द पर्यायात दिलेला आहे. त्याचा अचूक पर्याय ओळखा "भेटा जगातल्या सर्वात कफळक माणसाला ..!"
 - (1) निलाजरा (2) उदार (3) कर्तव्यशून्य (4) श्रीमंत
4. 'आकाशपाताळ एक करणे' या वाक्प्रचाराचा योग्य अर्थ द्या.
 - (1) संतापाने थैमान घालणे
 - (2) आकाशात विमानाने प्रवास करणे
 - (3) आकाशातून पाताळात प्रवेश करणे
 - (4) पृथ्वीवरून चंद्रावर प्रवेश करणे
5. 'उचल्या' या पुस्तकाचे लेखक कोण ?
 - (1) लक्ष्मण गायकवाड (2) राजन गवस
 - (3) नामदेव ढसाळ (4) रमाबाई रानडे
6. 'तुमचे उपकार मी कसे विसरेन?' वाक्य प्रकार ओळखा.
 - (1) विधानार्थी वाक्य (2) प्रश्नार्थक वाक्य
 - (3) होकारार्थी वाक्य (4) उद्गारार्थी वाक्य
7. चातुर्मास या शब्दाचा समास ओळखा.
 - (1) द्वंद (2) बहुव्रीही (3) कर्मधारय (4) द्विगू
8. 'कावळा' शब्दास समानार्थी नसलेला शब्द शोधा.
 - (1) काक (2) वायस (3) शिरवी (4) एकाक्ष
9. 'मुलांना घरी यायला उशीर झाला कारण वाटेत गाडी बंद पडली होती.' वाक्य प्रकार ओळखा.
 - (1) संयुक्त वाक्य (2) केवल वाक्य

- (3) मिश्र वाक्य (4) विशेषण वाक्य
10. 'अळीमिळी गुपचिळी' या म्हणीचा अर्थ सांगा.
 - (1) गुप्तपणे केलेले एखादे काम.
 - (2) गाजावाजा करून केलेले काम
 - (3) उघडपणे केलेले काम
 - (4) शांतपणे केलेले काम
11. 'वेणीफणी' या सामासिक शब्दांत कोणता समास आहे ?
 - (1) वैकल्पिक द्वंद्व (2) तत्पुरुष
 - (3) समाहार द्वंद्व (4) इतरेतर द्वंद्व
12. पुढीलपैकी अचूक शब्द कोणता ?
 - (1) पुनर्वसन (2) पुर्नवसन (3) पुनःबसन (4) पुनर्वर्सन
13. 'अपमान केल्यास कुणाला राग येत नाही?' या नकारार्थी प्रश्नाचे होकारार्थी विधान कोणते ?
 - (1) अपमान केल्यास प्रत्येकाला राग येतोच.
 - (2) अपमानामुळे रागाचा पारा चढतो.
 - (3) अपमान आणि राग बरोबर येतात.
 - (4) अपमान रागास कारणीभूत ठरतो.
14. 'श्यामची आई' या पुस्तकाचे लेखक
 - (1) प्र. के. अत्रे (2) शांता शेळके
 - (3) नामदेव ढसाळ (4) साने गुरुजी
15. 'पांढरे ढग' या पुस्तकाचे लेखक कोण आहेत ?
 - (1) विष्णू सखाराम खांडेकर (2) विश्वास पाटील
 - (3) वि. वा. शिरवाडकर (4) रणजित देसाई
16. 'शतपावली' म्हणजे ?
 - (1) झोपेत शंभर पावले फिरण्याचा परिपाठ
 - (2) झोपून उठल्यावर शंभर पावले फिरण्याचा परिपाठ
 - (3) जेवणाआधी शंभर पावले फिरण्याचा परिपाठ
 - (4) जेवण झाल्यानंतर थोडेसे अंतर फिरण्याचा परिपाठ
17. 'मृत्युंजय' म्हणजे काय
 - (1) मृत्यूसमोर आला आहे असा
 - (2) मृत्यूला घाबरलेला
 - (3) मृत्यूसमोर हरलेला
 - (4) मृत्यूवर विजय मिळवणारा

पेपर क्र. - 14	1 - 3	2 - 4	3 - 4	4 - 1	5 - 1	6 - 2	7 - 4	8 - 3	9 - 3	10 - 1	11 - 3
	12 - 1	13 - 1	14 - 4	15 - 1	16 - 4	17 - 4					

18. 'नाकीनऊ येणे' या वाक्प्रचाराच्या योग्य उपयोगासाठी खालील पर्यायांतून अचूक वाक्य निवडा.

- (1) परीक्षेत पहिला क्रमांक आला हे कळताच रमेशला नाकीनऊ आले.
- (2) उशिरा घरी आल्यावर नाकीनऊ येतात.
- (3) आवडता पदार्थ मिळाल्यावर नाकीनऊ येतात.
- (4) कर्जबाजारी झाल्याने संपतरावांच्या नाकी नऊ आले.

19. 'निरागस' च्या विरुद्धार्थी शब्द कोणता ?

- (1) चतुर (2) लोभस (3) साधा भोळा (4) पापी

20. 'अनुज' शब्दाचा अर्थ शोधा.

- (1) धाकटा भाऊ (2) मावसभाऊ
- (3) वडील भाऊ (4) सावत्रभाऊ

वीज' या शब्दाला समानार्थी शब्द निवडा.

- (1) तेज (2) प्रकाश (3) चपला (4) चमकणे

22. 'शाश्वत' या शब्दास विरुद्धार्थी शब्द सांगा.

- (1) चिरकाल (2) चिरंतन (3) अल्पकाळ (4) चिरायू

23. बळी तो कान पिळी - या म्हणीचा अर्थ सांगा.

- (1) बलवान माणूस इतरांवर हुकूमत गाजवतो.
- (2) बळी जाणारा व्यक्ती स्वतःचे कान पिळून घेतो.
- (3) बळी देण्याच्या बकऱ्याचे कान पिळतात.
- (4) शेतकरी कान पिळतो.

24. प्रयोगाचे मुख्य प्रकार किती ?

- (1) चार (2) तीन (3) पाच (4) दोन

25. 'राजा प्रधानाला बोलावतो' या वाक्यातील प्रयोग ओळखा.

- (1) नवीन कर्मणी प्रयोग (2) भावे प्रयोग
- (3) कर्तरी प्रयोग (4) कर्मणी प्रयोग

15

Date - 08/09/2023

वेळ : 04 : 30 AM - 06 : 30 AM

1. 'पडघवली' या कादंबरीचे लेखक कोण आहेत ?

- (1) श्री. ज. जोशी (2) श्री. म. माटे
- (3) गो. नी. दांडेकर (4) श्री. ना. पेंडसे

2. किशोर शांताबाई काळे यांच्या आत्मचरित्रात्मक लेखनाचे नाव सांगा.

- (1) कोल्हाट्याचं पोर (2) झोंबी
- (3) आठवणींचे पक्षी (4) बलुतं

3. पुढीलपैकी कोणते वाक्य प्रमाणलेखनानुसार अचूक आहे ?

- (1) वास्तवदर्शी लेखन हा अहवालाचा अत्मा आहे.
- (2) वास्तवदर्शी लेखण हा अहवालाचा आत्मा आहे.
- (3) वस्तवदर्शी लेखन हा आहवालाचा आत्मा आहे.
- (4) वास्तवदर्शी लेखन हा अहवालाचा आत्मा आहे.

4. 'तबेल्यातून त्रात्य घोडा पसार झाला. या वाक्यातील प्रयोग ओळखा.

- (1) कर्मकर्तरी (2) कर्तरी
- (3) शक्य कर्मणी (4) कर्तृ - भाव संकर

5. 'कपाळ' या शब्दाची समानार्थी जोडी सांगा.

- (1) निढळ, भुजा (2) ललित, भुजा
- (3) ललाट, निढळ (4) ललाट, ललित

6. 'दहिवर' या शब्दाचा अर्थ सांगा.

- (1) धीवर (2) ध्रुव
- (3) दव (4) गहिवर

7. 'चतुष्कोण' शब्दाचा अर्थ सांगा.

- (1) चतुर (2) चौपदी
- (3) चतकोर (4) चौकोन

8. 'पै दक्षिणा, लक्ष प्रदक्षिणा' या म्हणीचा अर्थ स्पष्ट करणारी म्हण सांगा.

- (1) नवी विटी नवे राज्य (2) पोटात एक आणि ओठात एक
- (3) प्रयत्नांती परमेश्वर (4) आवळा देऊन कोहळा काढणे

9. 'उपकार' शब्दाचा विरुद्धार्थी शब्द सांगा.

- (1) अपकार (2) अपमान
- (3) अनुपम (4) परोपकार

10. पुढीलपैकी अव्ययीभाव समासाची जोडी शोधा.

- (1) क्रीडांगण, मुखकमल (2) दरमजल, हरघडी
- (3) हरघडी, मुखकमल (4) क्रीडांगण, दरमजल

11. चांदण्यातल्या ताजमहालाची शोभा पाहताना प्रवाशांचे यासाठी योग्य अर्थाचा वाक्प्रचार शोधा.

- (1) नाक ठेचले (2) दातखिळी बसली
- (3) प्राण कंठाशी आले (4) देहभान हरपले

12. 'तोंडपाठ' या समासाचा योग्य विग्रह ओळखा.

- (1) तोंडाने पाठ (2) तोंडातील पाठ
- (3) तोंडाचा पाठ (4) तोंडासाठी पाठ

पेपर क्र. - 14	18 - 4	19 - 1	20 - 1	21 - 3	22 - 3	23 - 1	24 - 2	25 - 3			
पेपर क्र. - 15	1 - 3	2 - 1	3 - 4	4 - 2	5 - 3	6 - 3	7 - 4	8 - 4	9 - 1	10 - 2	11 - 4

13. 'खेद' या शब्दाचा समानार्थी शब्द सांगा.
 (1) विशद (2) विषारी
 (3) विषाद (4) विषद
14. योग्य विरामचिन्हे असणारी अचूक वाक्यरचना कोणती आहे ?
 (1) छे, छे, त्यात "तुमची काहीही चूक नाही" असे म्हणत अनु उठलीच.
 (2) "छे, छे, त्यात तुमची काहीही चूक नाही असे म्हणत अनु उठलीच."
 (3) "छे, छे, त्यात तुमची काहीही चूक नाही," असे म्हणत अनु उठलीच.
 (4) छे, छे!!, त्यात तुमची काहीही चूक नाही ? असे म्हणत अनु उठलीच.
15. 'स्वतः होऊन दुसऱ्याच्या सेवेचे व्रत घेणारा' या शब्दसमूहाबद्दल एक शब्द लिहा.
 (1) स्वागतशील (2) स्वावलंबी
 (3) स्वयंसेवक (4) स्वच्छंदी
16. 'तेल गेले, तूप गेले 'ही म्हण पूर्ण करा.
 (1) की ताकपण फुंकून प्यावे लागते.
 (2) आणि भांडे का लपवावे ?
 (3) अन् हाती आले धुपाटणे.
 (4) पण धाकटे होऊ नये.
17. 'तारांबळ उडणे' या वाक्प्रचाराचा अर्थ शोधा.
 (1) घाई - गडबड होणे (2) त्याग करणे
 (3) धरबंध नसणे (4) वरचढ ठरणे
18. 'संक्षिप्त' शब्दाचा विरुद्धार्थी शब्द सांगा.
 (1) विस्मय (2) सुचिन्ह
 (3) स्वस्त (4) विस्तृत
19. 'काट्याचा नायटा होणे' या वाक्प्रचाराचा अर्थ सांगा.
 (1) चुकीची कडक शब्दांत जाणीव करून देणे
 (2) निरुपाय होणे
 (3) पूर्ण दुर्लक्ष करणे
 (4) साध्या गोष्टीचा भयानक परिणाम होणे
20. 'भारतीय महिला संघाने विश्वचषक हॉकी स्पर्धा जिंकली.' वाक्यातील प्रयोग ओळखा.
 (1) अकर्मक कर्तरी (2) भावे प्रयोग

- (3) कर्मणी (4) कर्मकर्तरी

21. प्रमाणलेखनानुसार अचूक शब्द शोधा.
 (1) पारीभाषिक (2) पारिभाषिक
 (3) परिभाषीक (4) पारिभाशीक
22. 'दृश्य' शब्दाचा विरुद्धार्थी शब्द सांगा.
 (1) सादृश्य (2) देखावा
 (3) अदृश्य (4) दिखाऊ
23. चोराने चोरीची कबुली द्यावी म्हणून पोलीस त्याच्या यासाठी योग्य वाक्प्रचार शोधा.
 (1) नाकदुऱ्या काढतात (2) वाटेला जातात
 (3) नाकाने कांदे सोलतात (4) पाठीचे धिरडे करतात
24. त्र्यंबक बापूजी ठोंबरे यांचे टोपणनाव काय ?
 (1) बी (2) माधवानुज
 (3) गिरीश (4) बालकवी
25. 'माझे वडील आज गावाला गेले. हा वाक्प्रकार ओळखा.
 (1) प्रश्नार्थी (2) विधानार्थी
 (3) आज्ञार्थी (4) विध्यर्थी

16

Date - 10/09/2023

वेळ : 09 : 00 AM - 11 : 00 AM

1. पुढीलपैकी कोणते वाक्य प्रमाणलेखनानुसार अचूक आहे ?
 (1) रक्षाबंधनाचा मुहूर्त साधून आम्ही कारगिलला जायचे निश्चित केले.
 (2) रक्षाबंधनाचा मुहूर्त साधुन आम्ही कारगिलला जायचे निश्चित केले.
 (3) रक्षाबंधनाचा मुहूर्त साधुन आम्ही कारगिलला जायचे निश्चित केले.
 (4) रक्षा बंधनाचा मुहूर्त साधून आम्ही कारगिलला जायचे निश्चित केले.
2. 'उपसंहार' या शब्दाचा अर्थ सांगा.
 (1) पराभव (2) रसप्रद
 (3) हानी (4) सारांश
3. 'सिंह' शब्दाची समानार्थी जोडी सांगा.
 (1) कपी, केसरी (2) वनराज, वायस
 (3) केसरी, मृग (4) केसरी, मृगेंद्र
4. 'सकृत्य' चा विरुद्धार्थी शब्द सांगा.
 (1) कृत्य (2) दुर्दैव
 (3) दुष्कृत्य (4) कृतकृत्य

पेपर क्र. - 15	12 - 1	13 - 3	14 - 3	15 - 3	16 - 3	17 - 1	18 - 4	19 - 1	20 - 3	21 - 2	22 - 3
	23 - 4	24 - 4	25 - 2	पेपर क्र. - 16			1 - 4	2 - 4	3 - 4	4 - 3	

22. 'विनाकारण' शब्दाच्या विरुद्धार्थी शब्द सांगा.
(1) दुराचरण (2) सकारण (3) अकारण (4) सुकर
23. 'तपाचरण' या समासाचा योग्य विग्रह करा.
(1) तपातून आचरण (2) तपासाठी आचरण
(3) तपातील चरण (4) तपातून चरण
24. 'त्यांनी आमहाला दृक्-श्राव्य दालनात नेले.' या वाक्यातील प्रयोग ओळखा.
(1) कर्तरी (2) भावे (3) कर्मकर्तरी (4) कर्मणी
25. 'घरचे झाले थोडे' ही म्हण पूर्ण करा.
(1) आणि व्याह्याने धाडले घोडे
(2) अन् देवळी बिन्हाड
(3) आणि शिंतोडा अंगावर घेतला
(4) आणि काडी तर मोडू नये

17

Date - 10/09/2023

वेळ : 12 : 30 PM - 02 : 30 PM

1. 'विद्यापीठात पहिला आल्यामुळे समीरचे' रिकाम्या जागी योग्य वाक्प्रचार शोधा.
(1) डोळे पांढरे झाले
(2) हात गगनाला पोचले असे वाटले.
(3) रक्ताचे पाणी झाले.
(4) नाक खाली झाले.
2. 'कर्णमधुर' या शब्दाचा विरुद्धार्थी शब्द सांगा.
(1) करुणानिधी (2) कर्णबधीर
(3) कृपण (4) कर्णकटू
3. प्रमाणलेखनानुसार अचूक शब्द शोधा.
(1) भुबुक्षित (2) बुभुक्षित
(3) बुभूक्षत (4) बुभूक्षित
4. पुढीलपैकी कोणता शब्द 'सीमा' चा समानार्थी शब्द नाही ?
(1) समूह (2) मर्यादा
(3) हद्द (4) शीव
5. 'द्विरेफ' शब्दाचा अर्थ सांगा.
(1) द्रुत (2) भेदभाव
(3) भ्रमर (4) द्वीप
6. 'चार दिवसांनी दात दुखायचा थांबला.' या वाक्यातील प्रयोग ओळखा.

- (1) भावे (2) समापन कर्मणी
(3) कर्तरी (4) शक्य कर्मणी
7. 'श्यामसुन्दर' हा कोणता समास आहे ?
(1) अव्ययीभाव (2) द्वंद्व
(3) बहुव्रीही (4) कर्मधारय
8. 'खेळाडू मैदानावर गेले.' हा वाक्य प्रकार कोणता आहे ?
(1) उद्गारार्थी (2) संकेतार्थी
(3) स्वार्थी (4) विध्यर्थी
9. आशा बगे यांच्या साहित्य अकादमी पुरस्कारप्राप्त कादंबरीचे नाव सांगा.
(1) झुंबर (2) भूमी
(3) त्रिदल (4) मनस्विनी
10. 'विजयोन्माद' या समासाचा योग्य विग्रह ओळखा.
(1) विजय आणि उन्माद (2) विजय किंवा उन्माद
(3) विजयाचा उन्माद (4) विजयांना उन्माद
11. 'हिरण्य' शब्दाचा अर्थ सांगा.
(1) हरीण (2) रमणीय
(3) हिमाद्री (4) सुवर्ण
12. 'अनुमती' या शब्दाची समानार्थी जोडी सांगा.
(1) परवानगी, अंतर्भाव (2) सांगता, संमती
(3) अंतर्भाव, सांगता (4) परवानगी, संमती
13. 'दगडाचे नाव धोंडा आणि' ही म्हण पूर्ण करा.
(1) निजेला धोंडा (2) धोंडाचे नाव दगड
(3) त्याला कोण मारी (4) वीट मऊ
14. 'अनुज' या शब्दाचा विरुद्धार्थी शब्द सांगा.
(1) तनय (2) अग्रज
(3) अगणित (4) आग्रह
15. 'चारी मुंड्या चीत होणे' या वाक्प्रचाराचा अर्थ सांगा.
(1) मर्यादा घालणे (2) पूर्णपणे पराभूत होणे
(3) भीतीने गाळण उडणे (4) कर्ज काढणे
16. 'उत्सुकतेने मी झोपलो' या कादंबरीचे लेखक कोण आहेत ?
(1) सदानंद देशमुख (2) सदानंद रेगे
(3) श्याम मनोहर (4) विश्राम बेडेकर

पेपर क्र. - 16	22 - 2	23 - 2	24 - 2	25 - 1	पेपर क्र. - 17	1 - 2	2 - 4	3 - 2	4 - 1	5 - 3	
	6 - 3	7 - 4	8 - 3	9 - 2	10 - 3	11 - 4	12 - 4	13 - 2	14 - 2	15 - 2	16 - 3

17. “आपल्याला केवढा तजेला आणि विरंगुळा देतात या वृक्षवेली!” या वाक्याचा प्रकार ओळखा.

- (1) नकारार्थी (2) उद्गारार्थी
(3) विधानार्थी (4) विध्यर्थी

18. ‘माझी पुस्तके कोणाला देण्यास मी तयार नसतो, कारण अनेकजण पुस्तकाना,’ रिकाम्या जागी योग्य वाक्प्रचार शोधा.

- (1) गिळंकृत करतात (2) घोर लावतात
(3) गुजराण करतात (4) खापर फोडतात

19. ‘एवढ्याशा अंतरासाठी 500 रुपये ही मोठी रक्कम आहे.’ या वाक्याचे नकारार्थी वाक्य शोधा.

- (1) एवढ्याशा अंतरासाठी 500 रुपये ही मोठी रक्कम नसावी.
(2) एवढ्याशा अंतरासाठी 500 रुपये ही काही लहान रक्कम नाही.
(3) केवढी मोठी रक्कम आहे 500 रुपये या एवढ्याशा अंतरासाठी !
(4) एवढ्याशा अंतरासाठी 500 रुपये ही काही मोठी रक्कम नाही.

20. ‘काप गेले आणि भोके राहिली’ या म्हणीचा योग्य अर्थ सांगा.

- (1) घोर तपश्चर्या करणे
(2) वैभव गेले आणि खुणा राहिल्या.
(3) संकटाच्या वेळी मदत करणे चांगले असते
(4) वाईट कृत्याची फळे भोगावीच लागतात.

21. ‘सैन्याची चक्राकार पद्धतीने केलेली रचना’ या शब्द समूहाबद्दल एक शब्द लिहा.

- (1) चक्रवात (2) चक्रव्यूह
(3) चक्रधर (4) चक्रवर्ती

22. तोंडात तीळ न भिजणे’ या वाक्प्रचाराचा योग्य अर्थ सांगा.

- (1) भीतीने गप्प बसणे (2) वाद घालणे
(3) सतत बडबड करणे (4) गुप्तता बाळगणे

23. ‘उत्कर्ष’ या शब्दाचा विरुद्धार्थी शब्द सांगा.

- (1) सहर्ष (2) विमर्श
(3) अपकर्ष (4) संघर्ष

24. ‘टीकास्वयंवर’ हा ग्रंथ कोणाचा आहे?

- (1) के. रं. शिरवाडकर (2) राजन गवस
(3) भालचंद्र नेमाडे (4) रंगनाथ पठारे

25. ‘सैनिकांनी शत्रूला सीमेवर रोखले.’ या वाक्यातील प्रयोग ओळखा.

- (1) नवीन कर्मणी (2) अकर्मक कर्तरी
(3) भाव कर्तरी (4) भावे प्रयोग

18

Date - 10/09/2023

वेळ : 04 : 30 PM - 06 : 30 PM

1. ‘मनात मांडे खाणे’ या वाक्प्रचाराचा योग्य अर्थ सांगा.

- (1) पर्वा करणे (2) मनोरंजन करणे
(3) मनात पक्के ठरवणे (4) मनोराज्य करणे

2. साहित्य अकादमी पुरस्कार प्राप्त ‘हरवलेले दिवस’ या आत्मचरित्राचे लेखक कोण आहेत?

- (1) प्रभाकर उध्वरीषे (2) प्रभाकर पाध्ये
(3) गोदावरी परुळेकर (4) गो. नी. दांडेकर

3. उपाय करण्याआधीच त्रास नाहीसा होणे या अर्थाचा वाक्प्रचार शोधा.

- (1) साखरपेरणी करणे (2) तिखटमीठ लावून सांगणे
(3) सुंठी वाचून खोकला जाणे (4) अंगाला हळद लागणे

4. ‘अंधरुण पांघरुण’ हा समास ओळखा.

- (1) समाहार द्वंद्व (2) अव्ययीभाव
(3) द्विगू (4) विभक्ती तत्पुरुष

5. वाहवा ! तू वाचून घेतलेस निवेदन ! हे वाक्य आज्ञार्थी करा.

- (1) तू निवेदन वाचून घे.
(2) तू निवेदन वाचून घेतलेस का ?
(3) तू निवेदन वाचून घेऊ नकोस.
(4) तू निवेदन वाचून घ्यावेस.

6. ‘रुखरूख’ या शब्दाचा समानार्थी शब्द शोधा.

- (1) आनंद (2) दुःख
(3) टोचणी (4) नजर

7. ‘तीक्ष्ण’ या शब्दाचा विरुद्धार्थी शब्द शोधा.

- (1) दुधारी (2) तीर
(3) धारदार (4) बोथट

पेपर क्र. - 17	17 - 2	18 - 1	19 - 2	20 - 2	21 - 2	22 - 3	23 - 3	24 - 3	25 - 4		
पेपर क्र. - 18	1 - 4	2 - 1	3 - 3	4 - 1	5 - 1	6 - 3	7 - 4				

25. 'चौकशी करणे' या अर्थाचा वाक्प्रचार शोधा.
 (1) चारीमुंड्या चीत होणे (2) खल करणे
 (3) वास्तपुस्त करणे (4) स्वारस्य असणे

19

Date - 13/09/2023

वेळ : 09 : 00 AM - 11 : 00 AM

1. प्रमाणलेखनानुसार अचूक शब्द शोधा.
 (1) मुद्रणस्वातंत्र्य (2) मुद्रणस्वतंत्र्य
 (3) मुद्रनस्वातंत्र्य (4) मुद्रणस्वातंत्र्य
2. 'द्विजी निषिधापासाव म्हणीजेलो.' हा कोणता प्रयोग आहे ?
 (1) नवीन कर्मणी (2) समापन कर्मणी
 (3) भावे प्रयोग (4) पुराण कर्मणी
3. 'स्वर्गावास' या समासाचा योग्य विग्रह सांगा.
 (1) स्वर्गातून वास (2) स्वर्गातील वास
 (3) स्वर्गासाठी वास (4) स्वर्गाने वास
4. आपली आई दिसली नाही तर लहान मुले रिकाम्या जागी योग्य वाक्प्रचार कोणता आहे ?
 (1) कावरीबावरी होतात. (2) कपाळाला आठ्या घालतात.
 (3) हकालपट्टी करतात. (4) दुवा देतात.
5. 'पोबारा करणे' या वाक्प्रचाराचा योग्य अर्थ सांगा.
 (1) पळून जाणे (2) प्रमाणाबाहेर खर्च करणे
 (3) कुचकामी ठरणे (4) अडचणीत सापडणे
6. 'लहान मुलांनी मोठ्यांचे सांगणे ऐकावे.' या वाक्याचा प्रकार कोणता आहे ?
 (1) आज्ञार्थी वाक्य (2) स्वार्थी वाक्य
 (3) विध्यर्थी वाक्य (4) संकेतार्थी वाक्य
7. 'स्मरणगाथा' हा साहित्य अकादमी पुरस्कारप्राप्त ग्रंथ कोणाचा आहे ?
 (1) गो. नी. दांडेकर (2) सदानंद मोरे
 (3) सदानंद देशमुख (4) श्री. ना. पेंडसे
8. 'तरंगिणी' या शब्दाचा योग्य अर्थ सांगा.
 (1) निर्झर (2) चंद्रकोर
 (3) तेजस्विनी (4) नदी
9. 'सुलक्षणी' या शब्दाचा विरुद्धार्थी शब्द सांगा.
 (1) अवलक्षणी (2) अवलंबित

- (3) विशोभित (4) विलक्षण

10. 'चक्रवात' या शब्दाचा योग्य अर्थ सांगा.
 गारपीट
 (1) गारपीट (2) अतिवृष्टी
 (3) भूकंप (4) वावटळ
11. पुढलपैकी बा. सी. मर्ढेकर यांचा कवितासंग्रह सांगा.
 (1) शिशिरागम (2) झेंडूची फुले
 (3) सेतू (4) रसयात्रा
12. वाड शब्दाच्या जोडीने घेणारा शब्द शोधा.
 (1) वडील (2) विवाद
 (3) कवाड (4) विहार
13. 'धाबे दणाणणे' या वाक्प्रचाराचा योग्य अर्थ सांगा.
 (1) नाक घासणे (2) कानउघाडणी करणे
 (3) फार भीती वाटणे (4) वाया जाणे
14. 'अभिज्ञ' या शब्दाचा समानार्थी शब्द शोधा.
 (1) निष्णात (2) अभिनेता
 (3) अज्ञानी (4) अप्रिय
15. सध्याच्या महागाईच्या दिवसात संसार चालवताना सामान्य माणसांचा रिकाम्या जागी योग्य वाक्प्रचार कोणता आहे ?
 (1) जीव मेटाकुटीला येतो. (2) जीव की प्राण होतो.
 (3) जीवात जीव येतो. (4) जीव भांड्यात पडतो.
16. 'निस्तेज' या शब्दाचा विरुद्धार्थी शब्द सांगा.
 (1) फिकट (2) बोथट
 (3) निश्चित (4) तेजस्वी
17. 'ही तरुण मुले वेगाने वाहन चालवतात.' या वाक्याचे उद्गारार्थी वाक्य शोधा.
 (1) ही तरुण मुले वेगाने वाहन का चालवतात ?
 (2) बापरे किती वेगाने वाहन चालवतात ही तरुण मुले!
 (3) ही तरुण मुले सावकाश वाहन चालवत नाहीत.
 (4) ही तरुण मुले वेगाने वाहन चालवत नाहीत.
18. 'काय सुंदर अक्षर आहे तिचे।' या वाक्याचा प्रकार कोणता आहे ?
 (1) उद्गारार्थी वाक्य (2) नकारार्थी वाक्य
 (3) विधानार्थी वाक्य (4) प्रश्नार्थी वाक्य
19. 'स्वैर' या शब्दाचा समानार्थी शब्द शोधा.
 (1) उच्छेद (2) उच्चाटन
 (3) उच्छृंखल (4) उच्छाद

पेपर क्र. - 19	1 - 4	2 - 4	3 - 2	4 - 1	5 - 1	6 - 3	7 - 1	8 - 4	9 - 1	10 - 4	11 - 1
	12 - 1	13 - 3	14 - 1	15 - 1	16 - 4	17 - 2	18 - 1	19 - 3			

20. 'जी खोड बाळा, ती जन्मकाळा' या म्हणीचा योग्य अर्थ सांगा.

- (1) जन्म फुकट जाणे
- (2) जन्मभर उपकारात राहणे
- (3) जन्मापासून असलेले गुणावगुण जन्मभर न जाणे
- (4) सडा फटिंग असणे

21. 'सीतासावित्री' हा समास ओळखा.

- (1) कर्मधारय
- (2) समाहार द्वंद्व
- (3) इतरेतर द्वंद्व
- (4) वैकल्पिक द्वंद्व

22. 'दत्तोपंत आंबे आणि फणस खातात. प्रयोग ओळखा.

- (1) सकर्मक कर्तरी
- (2) अकर्मक कर्तरी
- (3) कर्तृ भाव संकर
- (4) शक्य कर्मणी

23. 'संपन्न' या शब्दाचा विरुद्धार्थी शब्द सांगा.

- (1) उत्पन्न
- (2) कदन्न
- (3) निष्पन्न
- (4) विपन्न

24. 'फुलांची ओंजळ' हा काव्यसंग्रह कोणाचा आहे?

- (1) केशवकुमार (प्र. के. अत्रे)
- (2) बी कवी (नारायण मुरलीधर गुप्ते)
- (3) माधवानुज (काशिनाथ हरी मोडक)
- (4) केशवसुत (कृष्णाजी केशव दामले)

25. 'भीड भिकेची बहीण.' या म्हणीचा योग्य अर्थ सांगा.

- (1) भीक मागणे लज्जास्पदच.
- (2) भीक मागून खाणाऱ्याने माज करू नये.
- (3) भिडस्तपणामुळे नुकसान होते.
- (4) भीक मागण्याची वेळ येणे.

20

Date - 13/09/2023

वेळ : 12 : 30 AM - 02 : 30 AM

1. 'वैभव' या शब्दाचा विरुद्धार्थी शब्द सांगा.

- (1) अविश्वास
- (2) हावभाव
- (3) दारिद्र्य
- (4) दरिद्री

2. 'सम्राट अशोक कलिंगची लढाई जिंकला.' हा कोणता प्रयोग आहे?

- (1) अकर्मक कर्तरी
- (2) सकर्मक कर्तरी
- (3) भावे प्रयोग
- (4) शक्य कर्मणी

3. 'जेरीस आणणे' या वाक्प्रचाराचा योग्य अर्थ सांगा.

- (1) शरण येण्यास भाग पाडणे
- (2) गर्दी करणे
- (3) युक्ती शोधणे
- (4) काळजी करणे

4. 'जिभेला हाड नसणे' या वाक्प्रचाराचा योग्य अर्थ सांगा.

- (1) वचन देणे
- (2) सपाटून खाणे
- (3) अतिशय भूक लागणे
- (4) वाटेल तसे बोलणे

5. पुढीलपैकी कोणता काव्यसंग्रह आरती प्रभू यांचा नाही ?

- (1) नक्षत्रांचे देणे
- (2) जोगवा
- (3) दिवेलागण
- (4) वही

6. 'तुम्ही मला पुस्तके दिलीत.' हा प्रयोग ओळखा.

- (1) समापन कर्मणी
- (2) कर्तृ-कर्म संकर
- (3) भाव कर्तरी
- (4) अकर्मक कर्तरी

7. 'उद्या जर सुट्टी मिळाली तर मी तुझ्याकडे येईन.' या वाक्याचा प्रकार ओळखा.

- (1) प्रश्नार्थी वाक्य
- (2) केवळ वाक्य
- (3) संकेतार्थी वाक्य
- (4) संयुक्त वाक्य

8. प्रमाणलेखनानुसार अचूक शब्द शोधा.

- (1) तृशाक्रांत
- (2) त्रूषाक्रांत
- (3) तृषानंत
- (4) तृषाक्रांत

9. 'अनाकलनीय' या शब्दाचा विरुद्धार्थी शब्द सांगा.

- (1) अनाहूत
- (2) आकलनीय
- (3) अनावर
- (4) अनुमान

10. 'निंद' या शब्दाचा विरुद्धार्थी शब्द सांगा.

- (1) वंदन
- (2) वद्य
- (3) वन्य
- (4) वंद्य

11. 'वेणीफणी' हा कोणता समास आहे ते ओळखा.

- (1) विभक्ती तत्पुरुष
- (2) वैकल्पिक द्वंद्व
- (3) बहुव्रीही
- (4) समाहार द्वंद्व

12. 'गृह' या शब्दाचा समानार्थी शब्द शोधा.

- (1) निकेतन
- (2) कानन
- (3) पंचायतन
- (4) आलोचन

13. 'यथावकाश' या शब्दाचा समास ओळखा.

- (1) अव्ययीभाव
- (2) कर्मधारय
- (3) द्वंद्व
- (4) द्विपू

पेपर क्र. - 19	20 - 3	21 - 3	22 - 1	23 - 4	24 - 2	25 - 3	पेपर क्र. - 20	1 - 3	2 - 2		
	3 - 3	4 - 4	5 - 4	6 - 2	7 - 3	8 - 4	9 - 2	10 - 4	11 - 4	12 - 1	13 - 1

14. कॅप्टन सुभानराव मोहित्यांच्या घरात ते स्वतः, त्यांचा मुलगा मेजर सुधीर आणि नातू कर्नल समीर अशा तीन पिढ्यांनी भारतीय सैन्यात सेवा बजावली आहे. यासाठी योग्य म्हण सांगा.

- (1) दे माय धरणी ठाय
- (2) गर्जेल तो पडेल काय ?
- (3) खाण तशी माती
- (4) गुरूची विद्या गुरूस फळली.

15. 'मला कामात चांगले यश मिळावे.'

वाक्याचा प्रकार सांगा.

- (1) आज्ञार्थी
- (2) प्रश्नार्थी
- (3) विध्यर्थी
- (4) उद्गारार्थी

16. 'तोंडचे पाणी पळणे' या वाक्यचाराचा अर्थ सांगा.

- (1) खूप घाबरणे
- (2) विश्वासघात करणे
- (3) खूप तहान लागणे
- (4) गप्प बसणे

17. 'मंदिर' शब्दाचा समानार्थी नसलेला शब्द शोधा.

- (1) देवालय
- (2) देऊळ
- (3) राऊळ
- (4) व्यासपीठ

18. 'नाट्याचार्य देवल' हे चरित्रलेखन कोणी केले आहे ?

- (1) गं. दे. खानोलकर
- (2) द. न. गोखले
- (3) धनंजय कीर
- (4) श्री. ना. बनहट्टी

19. 'कृष्णाला पिवळ्या रंगाचे वस्त्र आवडते.' या वाक्यातील उद्देश्य ओळखा.

- (1) आवडते
- (2) वस्त्र
- (3) पिवळ्या रंगाचे
- (4) कृष्णाला

20. दाणा शब्दाच्या जोडीने येणारा शब्द शोधा.

- (1) गोटा
- (2) भाजी
- (3) भाकर
- (4) ढजढ

21. 'सत्तांतर' हा साहित्य अकादमी पुरस्कारप्राप्त ग्रंथ कोणाचा आहे ?

- (1) लक्ष्मण गायकवाड
- (2) रंगनाथ पठारे
- (3) व्यंकटेश माडगूळकर
- (4) ग. दि. माडगूळकर

22. 'पुढीलपैकी कोणता शब्द' 'अभ्युदय' या शब्दाचा समानार्थी नाही ?

- (1) अभिज्ञान
- (2) उत्कर्ष
- (3) उन्नती
- (4) भरभराट

23. 'प्रत्यंचा' शब्दाचा योग्य अर्थ सांगा.

- (1) समुद्रावरील प्रवास
- (2) कपाळभर कुंकू
- (3) धनुष्याची दोरी
- (4) स्वसंरक्षण

24. 'शितावरून भाताची परीक्षा' या म्हणीचा अर्थ सांगा.

- (1) काम संपल्यावर मदतीला धावणे
- (2) अल्प चाचणीवरून सगळ्या गोष्टींची कल्पना येते.
- (3) एकाला उद्देशून दुसऱ्याला बोलणे
- (4) म्हातारपणात बुद्धी चालेनाशी होते.

25. मे महिन्यात बागेतल्या आंब्यांच्या झाडांना भरपूर फळे आली की माकडे आणि आसपासची मुले आम्हाला रिकाम्या जागी योग्य वाक्यप्रचार कोणता आहे ?

- (1) रामराम करतात
- (2) सळो की पळो करून सोडतात.
- (3) सोक्षमोक्ष लावतात.
- (4) फार जीव लावतात.

21

Date - 13/09/2023

वेळ : 04 : 30 AM - 06 : 30 AM

1. 'रामाने रावणास मारले.' या वाक्यातील प्रयोग ओळखा.

- (1) कर्मणी प्रयोग
- (2) शक्य कर्मणी
- (3) भावे प्रयोग
- (4) पुराण कर्मणी

2. 'आम्ही जातो आमुचा गावा' या वाक्याचा वाक्यप्रकार कोणता ?

- (1) संयुक्त वाक्य
- (2) आज्ञार्थीक वाक्य
- (3) मिश्र वाक्य
- (4) केवळ वाक्य

3. पुढीलपैकी 'भुंगा' या शब्दाचा समानार्थी शब्द कोणता ?

- (1) आनन
- (2) मिलिंद
- (3) क्षीर
- (4) पर्ण

4. दिलेल्या वाक्यचाराचा अर्थ ओळखा. 'आळा घालणे'

- (1) आवर घालणे
- (2) काम करणे
- (3) नाश पावणे
- (4) हक्क सोडणे

5. पुढीलपैकी वि. वा. शिरवाडकर लिखित पुस्तक कोणते ?

- (1) गोतावळा
- (2) रातवा
- (3) नटसम्राट
- (4) ययाती

पेपर क्र. - 20	14 - 3	15 - 3	16 - 1	17 - 4	18 - 4	19 - 2	20 - 1	21 - 3	22 - 1	23 - 3	24 - 2
	25 - 2		पेपर क्र. - 21			1 - 3	2 - 4	3 - 2	4 - 1	5 - 3	

1. 'अमेय' या शब्दाचा अर्थ काय आहे ?
(1) प्राप्तीची इच्छा (2) न मोजता येणारा
(3) पूजेचे साधन (4) मोक्ष देणारा
2. 'वानर' या शब्दाचा समानार्थी शब्द कोणता ?
(1) पवन (2) सारंग
(3) हंस (4) शाखामृग
3. 'आवड नसणाऱ्या व्यक्तीला त्या वस्तूची किंमत नसते.' हा अर्थ स्पष्ट करणारी म्हण कोणती ?
(1) गाढवाला गुळाची चव काय ?
(2) अळीमिळी गुपचिळी
(3) घोडे खाई भांडे
(4) चिंती परा येई घरा
4. पुढीलपैकी मध्यमपदलोपी तत्पुरुष समासाचे उदाहरण कोणते ?
(1) प्रतिदिन (2) आईबाप
(3) महादेव (4) बालमित्र
5. खालीलपैकी लोकमान्य टिळक यांनी कोणता ग्रंथ लिहिला ?
(1) सत्याचे प्रयोग (2) गीतारहस्य
(3) दासबोध (4) कास्ट इन इंडिया
6. खालीलपैकी कर्तरी प्रयोगाचे उदाहरण ओळखा.
(1) राहुल गाणे गातो.
(2) रामने गाय बांधली.
(3) त्यांनी आता घरी जावे.
(4) मुलीने पेरू खाल्ला.
7. पुढीलपैकी 'रानवाटा' या पुस्तकाचे लेखक कोण ?
(1) मारुती चितमपल्ली
(2) प्र. के. अत्रे
(3) बालकवी
(4) वि. स. खांडेकर
8. 'श्लाघ' या शब्दाचा अर्थ काय आहे ?
(1) नष्ट करणे (2) सीमा दाखवणे
(3) शेवट करणे (4) प्रशंसा करणे
9. खालीलपैकी 'दात ओठ खाणे' या वाक्प्रचाराचा योग्य वाक्यात

उपयोग निवडा.

- (1) मेघा आईवर दात ओठ खाऊ लागली.
(2) निशा रात्री दात ओठ खाऊन झोपली.
(3) मंदाने यंदा पाऊस खूप पडल्यामुळे दात ओठ खाल्ले.
(4) शिवाजी आग्र्याहून पळाले, हे कळताच औरंगजेब दात ओठ खाऊ लागला.
10. 'विमल रव्याचा लाडू खाते.' या वाक्यातील विधेय कोणते ?
(1) विमल (2) खाते
(3) लाडू (4) रव्याचा
11. 'मीनाचा निबंध लिहून झाला.' या वाक्यातील प्रयोग ओळखा.
(1) समापन कर्मणी (2) भावे प्रयोग
(3) अकर्तुक प्रयोग (4) कर्तरी प्रयोग
12. 'मिशांना तूप लावणे' या वाक्प्रचाराचा अर्थ काय आहे ?
(1) अतिशय बोलणे (2) दोन हात करणे
(3) सशक्त असणे (4) उगीच ऐट करणे
13. पुढीलपैकी 'त्याज्य' या शब्दाचा विरुद्धार्थी शब्द कोणता ?
(1) ग्राह्य (2) नटू (3) उदार (4) साहस
14. पुढीलपैकी अचूक वाक्यरचना ओळखा.
(1) मुलींनी वडिलांची आज्ञा पाळावी.
(2) मूलिनी वडलांची आज्ञा पाळावी.
(3) पाळावी आज्ञा वडीलांची मुलींनी.
(4) मुलींनी वडिलांची आज्ञा पाळावे.
15. 'कृतज्ञ' या शब्दाचा विरुद्धार्थी शब्द ओळखा.
(1) चढाई (2) कृतघ्न (3) खर्च (4) खंडन
16. 'सुसंगत' या शब्दाचा विरुद्धार्थी शब्द कोणता ?
(1) सनाथ (2) असंबद्ध (3) संक्षिप्त (4) आचार
17. 'डाळ न शिजणे' या वाक्प्रचाराचा वाक्यात उपयोग करा.
(1) मदन काकाच्या दुकानातली डाळ चोरून नेली.
(2) माईच्या रागाने डाळ शिजली नाही.
(3) कमी पाण्यामुळे कुसुमबाईच्या घराची डाळ जळली.
(4) मालतीबाई शेजारच्या मायलेकीत भांडण लावण्याचा प्रयत्न करित पण त्यांची डाळ शिजली नाही.

पेपर क्र. - 22	1 - 2	2 - 4	3 - 1	4 - 4	5 - 2	6 - 1	7 - 1	8 - 4	9 - 4	10 - 2	11 - 1
	12 - 4	13 - 1	14 - 1	15 - 2	16 - 2	17 - 4					

18. 'तलवार' या शब्दाचा समानार्थी शब्द निवडा.
 (1) पयोधर (2) तरू (3) खड्ग (4) तीरकमठा
19. 'तळ हातावर तुरी देणे' या वाक्प्रचाराचा अर्थ काय आहे ?
 (1) मरण पावणे (2) मदत करणे
 (3) फसवून पळून जाणे (4) दुर्लक्ष करणे
20. पुढीलपैकी लेखनदृष्ट्या योग्य शब्द कोणता ?
 (1) पारंपरिक (2) पारंपारिक
 (3) पारंपरीक (4) पारंपारिक
21. 'डोळ्यात सलणे' या वाक्प्रचाराचा योग्य वाक्यात उपयोग ओळखा.
 (1) ताईला लागल्यामुळे डोळ्यात सलत होते.
 (2) दीपाचे अपयश मेघाच्या डोळ्यात सलत होते.
 (3) ऐश्वर्याचे यश सुशिमताच्या डोळ्यात सलत होते.
 (4) राणीच्या डोळ्यात सलत होते.
22. खालीलपैकी लेखनदृष्ट्या योग्य शब्द निवडा.
 (1) आशीर्वाद (2) आशिर्वाद
 (3) आर्शिवाद (4) आर्शीवाद
23. 'घरजावई' कोणत्या विभक्ती तत्पुरुष समासाचे उदाहरण आहे ?
 (1) तृतीया विभक्ती तत्पुरुष समास
 (2) चतुर्थी विभक्ती तत्पुरुष समास
 (3) सप्तमी विभक्ती तत्पुरुष समास
 (4) षष्ठी विभक्ती तत्पुरुष समास
24. 'कोसला' या पुस्तकाचे लेखक कोण ?
 (1) राजन गवस (2) भालचंद्र नेमाडे
 (3) अनिल अवचट (4) दुर्गा भागवत
25. खालीलपैकी उद्गारार्थी वाक्य ओळखा.
 (1) ही इमारत खूप उंच आहे.
 (2) काय सुरेख अक्षर आहे त्याचे !
 (3) तुम्हाला राजकुमार कोठे दिसला काय ?
 (4) अपमान केल्यास प्रत्येकाला राग येतोच.

23

Date - 14/09/2023

वेळ : 04 : 30 AM - 06 : 30 AM

1. पुढीलपैकी 'अवनती' या शब्दाचा विरुद्धार्थी शब्द सांगा.
 (1) उत्कृष्ट (2) उत्तरा (3) उत्तीर्ण (4) उन्नती
2. 'तो घरी आला आणि वादळाला सुरुवात झाली,' या वाक्याचा प्रकार कोणता आहे ?
 (1) केवल वाक्य (2) मिश्र वाक्य
 (3) संयुक्त वाक्य (4) आज्ञार्थी वाक्य
3. 'शिकाऱ्याने हरणास मारले.' या वाक्याचा प्रयोग ओळखा.
 (1) कर्मणी प्रयोग (2) सकर्मक भावे प्रयोग
 (3) पुराण कर्मणी प्रयोग (4) कर्तरी प्रयोग
4. 'नावडतीचे मीठ अळणी' या म्हणीचा अर्थ ओळखा.
 (1) अभिव्यक्तीची कोणतीच गोष्ट पटत नाही.
 (2) संपत्तीबरोबर गर्व येतो
 (3) वेळेतील काम आवडणे
 (4) विश्वासघात करणे
5. 'सादर' या सामासिक शब्दाचा योग्य समास ओळखा.
 (1) सहबहुव्रीही समास (2) द्वंद्व समास
 (3) द्विगु समास (4) नञ्ज तत्पुरुष समास
6. पुढीलपैकी राष्ट्रसंत तुकडोजी महाराज यांनी कोणता ग्रंथ लिहिला आहे ?
 (1) गीतांजली (2) ग्रामगीता
 (3) अमृतानुभव (4) विवेकसिंधु
7. 'तानाजी लढता लढता मेले' या वाक्याचा रचना प्रकार कोणता ?
 (1) केवल वाक्य (2) संयुक्त वाक्य
 (3) संकेतार्थी वाक्य (4) मिश्र वाक्य
8. खालीलपैकी 'कुभांड' या शब्दाचा अर्थ सांगा.
 (1) विवाद (2) अनुभव (3) वळलेला (4) कारस्थान
9. पुढीलपैकी मिश्र वाक्य ओळखा.
 (1) गोठ्यातील गाय हंबरते आहे.
 (2) पावसाळ्यात सगळी झाडे हिरवी होतात.
 (3) गुरुजी म्हणाले की, पृथ्वी सूर्याभोवती फिरते.
 (4) मरावे परी कीर्ती रूपे उरावे.

पेपर क्र. - 22	18 - 3	19 - 3	20 - 1	21 - 3	22 - 1	23 - 3	24 - 2	25 - 2		
पेपर क्र. - 23	1 - 4	2 - 3	3 - 2	4 - 1	5 - 1	6 - 2	7 - 1	8 - 4	9 - 3	

10. म्हण पूर्ण करा,
'कावळ्याच्या शापाने मरत नाही.'
(1) गाय (2) कावळा
(3) साप (4) वानर
11. 'गीतरामायण' या पुस्तकाचे लेखक कोण आहेत ?
(1) ना. धो. महानोर (2) वि. दा. करंदीकर
(3) इंदिरा संत (4) ग. दि. माडगूळकर
12. 'झाडबीड' या शब्दाचा प्रकार ओळखा.
(1) विरुद्धार्थी शब्द (2) समानार्थी शब्द
(3) बहुपर्यायी शब्द (4) अंशाभ्यस्त शब्द
13. 'आधुनिक' या शब्दाचा अचूक विरुद्धार्थी शब्द ओळखा.
(1) साधार (2) अपराधी
(3) बिनाशी (4) पुरातन
14. पुढीलपैकी 'विद्वान' शब्दाचा समानार्थी शब्द ओळखा.
(1) ज्ञानी (2) दाता (3) उद्योगी (4) रसज्ञ
15. 'कान फुंकणे' या वाक्प्रचाराचा वाक्यात उपयोग ओळखा.
(1) सई नियमितपणे स्वतःचे कान फुंकते.
(2) भारत गावी न गेल्याने ताईने त्याचे कान फुंकले.
(3) कानात पाणी गेल्याने पूजाचे कान फुंकले.
(4) मंथरेने रामाविरुद्ध केकीचे कान फुंकले.
16. 'उत्कंठा' या शब्दाचा अर्थ ओळखा.
(1) पराभव (2) उत्सुकता
(3) परीक्षण (4) उद्धव
17. 'नाकीनऊ येणे' या वाक्प्रचाराचा अचूक वाक्यात उपयोग निवडा.
(1) विद्या पडल्यामुळे आईच्या नाकीनऊ आले.
(2) रायगड चढून जाताना उमाले काकाच्या नाकीनऊ आले.
(3) वासती आणि रंजना यांच्या नेहमीच नाकीनऊ येते.
(4) रामला न काही खाता नाकीनऊपणा येतो.
18. 'तरंगिणी' या शब्दाचा समानार्थी शब्द कोणता आहे ?
(1) अवनी (2) बहादुरी (3) सांगाती (4) नदी
19. पुढीलपैकी लेखनदृष्ट्या योग्य शब्द ओळखा.
(1) तज्ञा (2) तज्ज्ञ (3) तंज्ञ (4) तज्ज्ञ
20. पुढीलपैकी 'हृदयाचे पाणी होणे' या वाक्प्रचाराचा अचूक वाक्यात उपयोग ओळखा.
(1) मालतीचे लग्न जुळल्यामुळे बाबाच्या हृदयात पाणी झाले.

- (2) संजयला लॉटरी लागल्यामुळे त्याच्या हृदयाचे पाणी झाले.
(3) स्वाती शाळेतून वेळेत घरी न आल्याने आईच्या हृदयाचे पाणी झाले.
(4) सततच्या आजारपणामुळे मंजिरीच्या हृदयाचे पाणी झाले
21. 'मधूला करंजी आवडते.' या काय प्रयोगात 'करंजी' हा शब्द दर्शवितो ?
(1) कर्ता (2) क्रियापद (3) विभक्ती (4) कर्म
22. 'स्वामी' या पुस्तकाचे लेखक कोण आहेत ?
(1) विश्वास पाटील (2) रणजित देसाई
(3) शिवाजी सावंत (4) बाबा आमटे
23. दोन्ही पदे अर्थदृष्ट्या प्रधान असलेला समास कोणता ?
(1) द्वंद्व समास (2) बहुव्रीही समास
(3) अव्ययीभाव समास (4) विभक्ती समास
24. 'किरकोळ' शब्दाचा योग्य विरुद्धार्थी शब्द कोणता आहे ?
(1) प्रतिगामी (2) मवाळ
(3) घाऊक (4) गैरसोय
25. 'जोराने थोबाडात मारणे' या अर्थाचा वाक्प्रचार ओळखा.
(1) मज्जाव करणे (2) बत्तीशी रंगविणे
(3) लोभ न सुटणे (4) पंचतत्वात विलीन होणे

24

Date - 17/08/2023

वेळ : 09 : 00 AM - 11 : 00 AM

1. खालील शब्दाचा योग्य अर्थ ओळखा.
अप्पलपोटा
(1) दुसऱ्याचे हित चिंतणारा
(2) सफरचंद आवडणारा
(3) स्वतःच्याच फायद्याचे पाहणारा
(4) खाण्याची आवड असणारा
2. 'वैयक्तिक'; या शब्दाचा विरुद्धार्थी शब्द ओळखा.
(1) विधायक (2) खाजगी
(3) मालकीचे (4) सामूहिक
3. खालील शब्दाचा अर्थ ओळखा.
सुमन
(1) बगीचा (2) पुष्प
(3) उपवन (4) वनिता

पेपर क्र. - 23	10 - 1	11 - 4	12 - 4	13 - 4	14 - 1	15 - 4	16 - 2	17 - 2	18 - 4	19 - 2	20 - 3
	21 - 4	22 - 2	23 - 1	24 - 3	25 - 2		पेपर क्र. - 24	1 - 3	2 - 4	3 - 2	

20. 'आवडतो मज अफाट सागर अथांग निळे पाणी'; या काव्यपंक्तीतील 'सागर' या शब्दाचा समानार्थी शब्द ओळखा.
(1) तटिनी (2) सरिता (3) समुद्र (4) गिरी
21. खालील वाक्यातील प्रयोग ओळखा.
उंदीर मांजराकडून मारला जातो.
(1) समापन कर्मणी प्रयोग (2) कर्मणी प्रयोग
(3) पुराण कर्मणी (4) नवीन कर्मणी
22. 'बखर एका राजाची' ही कादंबरी कोणी लिहिली?
(1) विलास पाटील (2) रंगनाथ पठारे
(3) शिवाजी सावंत (4) अं. वि. सरदेशमुख
23. खालील प्रश्नार्थी वाक्याचे विधानार्थी वाक्यात रूपांतर केलेले योग्य विधान ओळखा.
पाऊस पडत आहे का?
(1) आभाळ भरून आले असेल तर पाऊस पडेल.
(2) परमेश्वरा चांगला पाऊस पडू दे.
(3) किती छान पाऊस पडत आहे.
(4) पाऊस पडत आहे.
24. खालील वाक्यप्रचाराचा योग्य अर्थ ओळखा.
हतबल होणे.
(1) असमर्थ ठरणे. (2) नाश पावणे.
(3) श्रम करणे. (4) ताकद येणे.
25. 'आमचा बाप आन आम्ही' या आत्मचरित्राचे लेखक कोण?
(1) नरेंद्र दाभोळकर (2) नरेंद्र जाधव
(3) गंगाधर गाडगीळ (4) वि. स. खांडेकर

25

Date - 17/08/2023

वेळ : 12 : 30 PM - 2 : 30 PM

1. 'ग्रामगीता' कोणी लिहिली?
(1) संत गाडगेबाबा (2) संत रामदास
(3) संत तुकाराम महाराज (4) राष्ट्रसंत तुकडोजी महाराज
2. खालील शब्दाचा योग्य अर्थ ओळखा.
रूची
(1) असोशी (2) तृष्णा
(3) आवड (4) भावना
3. खालील म्हणीचा योग्य अर्थ ओळखा.
'कोल्हा काकडीला राजी'
(1) भाग्यवान माणसाला देव अनुकूल होतो.

- (2) ज्याच्या अंगात सामर्थ्य तो इतरांवर अंमल गाजवतो.
(3) धोक्याची कामे करायला कोणी पुढे येत नाही.
(4) क्षुद्र माणसे क्षुद्र गोष्टीला भाळतात.
4. खालील वाक्यार्थ केवळप्रयोगी अव्यय वापरून वाक्यरचना केलेले योग्य विचार ओळखा.
मला काटा टोचला.
(1) मल काटा टोचला!
(2) मलाच काटा का टोचावा?
(3) मल काटा टोचला?
(4) आई गं! मला काटा टोचला!
5. खालील शब्दाचा समास ओळखा.
त्रिभुवन
(1) बहुव्रीही समास (2) अव्ययीभाव समास
(3) द्विगु समास (4) तत्पुरुष समास
6. 'सहकार' या शब्दाचा विरुद्धार्थी शब्द ओळखा.
(1) कुसत्कार (2) असहकार
(3) गैरसरकार (4) सरकारी
7. 'कितीदा करू प्रीतीची याचना' या काव्यपंक्तीतील 'याचना' या शब्दाचा समानार्थी शब्द ओळखा.
(1) प्रतीक्षा (2) विनंती
(3) नवस (4) पूजा
8. 'घर डोक्यावर घेणे' या शब्दार्थाचा वाक्यात उपयोग झालेले खालीलपैकी योग्य विधान ओळखा.
(1) माझा पहिला नंबर आला आईने घर डोक्यावर घेतले.
(2) घरात चेंडू खेळणाऱ्या राजूकडून टीव्ही फुटला आणि बाबाने घर डोक्यावर घेतले.
(3) भटके लोक घर डोक्यावर घेऊन फिरतात.
(4) भारताने विश्वचषक जिंकले आणि राजूने घर डोक्यावर घेतले.
9. 'अक्करमाशी' हे आत्मकथनाचे लेखक कोण?
(1) शरणकुमार निंबाळे (2) लक्ष्मण माने
(3) नरेंद्र जाधव (4) प्र. ई. सोनकांबळे
10. खालील वाक्याचे उभयान्वयी अव्यय वापरून वाक्यरचना केलेले योग्य विधान ओळखा.
गेल्यावर्षी कांद्याला भाव होता. शेतकऱ्यांनी कांदे लावले.
यावर्षी कांद्याला भाव आला नाही.
(1) गेल्यावर्षी कांद्याला भाव होता म्हणून शेतकऱ्यांनी कांदे लावले; परंतु यावर्षी कांद्याला भाव आला नाही.
(2) गेल्यावर्षी कांद्याला भाव होता, शेतकऱ्यांनी कांदे लावले, यावर्षी कांद्याला भाव का आला नाही.
(3) गेल्यावर्षी कांद्याला भाव होता. शेतकऱ्यांनी कांदे लावले. यावर्षी भाव का आला नाही?

पेपर क्र. - 24	20 - 3	21 - 4	22 - 4	23 - 4	24 - 1	25 - 2					
पेपर क्र. - 25	1 - 4	2 - 3	3 - 4	4 - 4	5 - 3	6 - 2	7 - 2	8 - 2	9 - 1	10 - 1	

1. 'शिस्त' या शब्दाचा विरुद्धार्थी शब्द ओळखा.
 (1) बेशिस्त (2) कुशिस्त
 (3) अशिस्त (4) अज्ञाधारक
2. खालील वाक्यप्रचाराचा योग्य अर्थ ओळखा.
 गोगलगाय अन् पोटात पाय.
 (1) वरून गरीब दिसणारा आतून शांत असतो.
 (2) वरून गरीब दिसणारा आतून दयाळू असतो.
 (3) वरून गरीब दिसणारा आतून कपटी असतो.
 (4) वरून गरीब दिसणारा आतून प्रेमळ असतो.
3. 'किमया' या शब्दार्थाचा वाक्यात उपयोग झालेले खालीलपैकी योग्य विधान ओळखा.
 (1) आईने किमया केली आणि त्याच्या गालावर चापट मारली.
 (2) राणीने केलेली करपलेली भाकरी ही तिची किमया आहे.
 (3) राजूचे बेसूर गाणे ही एक किमयाच आहे.
 (4) पाऊस पडल्यानंतर आकाशात दिसणारे इंद्रधनुष्य ही निसर्गाची किमया आहे.
4. खालीलपैकी विकल्पबोधक उभयान्वयी अव्यय वापरून वाक्यरचना केलेले योग्य विधान ओळखा.
 (1) विजा चमकल्या परंतु पाऊस पडला नाही.
 (2) डोकं दुखत होत म्हणून मी चहा घेतला.
 (3) जर डोकं दुखत असेल तर चहा घे.
 (4) माझी सहल काश्मीर किंवा राजस्थानला जाईल.
5. 'काळजाला घरे पडणे' या शब्दार्थाचा वाक्यात उपयोग झालेले खालीलपैकी योग्य विधान ओळखा.
 (1) भांडणात आक्रस्ताळी सून अवमान करत सासूच्या काळजाला घरे पाडत होती.
 (2) रामरावने जावयाला सोन्याची अंगठी देऊन त्याच्या काळजाला घरे पाडली.
 (3) प्रथम क्रमांक आलेल्या विद्यार्थ्यांचे कौतुक करून मुख्याध्यापकाने त्याच्या काळजाला घरे पाडली.
 (4) पाऊस आला की काळजाला घरे पडतात.
6. 'मूर्त' या शब्दाचा विरुद्धार्थी शब्द ओळखा.
 (1) अमूर्त (2) मृत

- (3) क्षय (4) जिवंत
7. खालील शब्दाचा समास ओळखा.
 प्रतिवर्ष
 (1) बहुव्रीही समास (2) द्विगू समास
 (3) तत्पुरुष समास (4) अव्ययीभाव समास
8. 'रोगी' या शब्दाचा विरुद्धार्थी शब्द ओळखा.
 (1) रुग्ण (2) कृश
 (3) आजारी (4) निरोगी
9. 'माझी जन्मठेप' हे आत्मचरित्र कोणाचे?
 (1) गो. नी. दांडेकर (2) वि. दा. सावरकर
 (3) विनोबा भावे (4) साने गुरुजी
10. खालील शब्दाचा योग्य अर्थ ओळखा.
 उपवन
 (1) राई (2) जंगल
 (3) बगीचा (4) वन
11. 'डोळ्याचे पारणे फिटणे या शब्दार्थाचा वाक्यात उपयोग झालेले खालीलपैकी योग्य विधान ओळखा.
 (1) व्यसनी मुलाचे वागणे पाहून वडिलांच्या डोळ्याचे पारणे फिटले.
 (2) काश्मीरचे निसर्गसौंदर्य पाहून माझ्या डोळ्याचे पारणे फिटले.
 (3) पुरात झालेले नुकसान पाहून शेतकऱ्याच्या डोळ्याचे पारणे फिटले.
 (4) बाळाने ग्लास फोडलेला बघून आईच्या डोळ्याचे पारणे फिटले.
12. खालील म्हणीचा योग्य अर्थ ओळखा.
 'अति राग भीक माग'.
 (1) दुसऱ्याचा पैसा हवा तसा उधळणे.
 (2) अतिरागाने एखादे कृत्य केले असेल तर त्याचे परिणाम अत्यंत वाईट असतात.
 (3) अति रागाने कल्याण होते.
 (4) अति रागाने आयते खायला मिळते.

पेपर क्र. - 26	1 - 1	2 - 3	3 - 4	4 - 4	5 - 1	6 - 1	7 - 4	8 - 4	9 - 2	10 - 3	11 - 2
	12 - 3										

13. खालील शब्दाचा समानार्थी शब्द ओळखा.
उत्कर्ष
(1) हर्ष (2) भरभराट
(3) ऊर्जा (4) उत्साह
14. खालील शब्दाचा योग्य अर्थ ओळखा.
खट्याळ
(1) भांडखोर (2) खोडकर
(3) नाठाळ (4) गरीब
15. खालील शब्दाचा समानार्थी शब्द ओळखा.
उणीव
(1) नेणीव (2) कणव
(3) कमतरता (4) जाणीव
16. खालील वाक्यातील प्रयोग ओळखा.
राधा पत्र लिहिते.
(1) अकर्मक कर्तरी प्रयोग (2) पुराण कर्मणी
(3) भावे प्रयोग (4) सकर्मक कर्तरी प्रयोग
17. खालील म्हणीचा योग्य अर्थ ओळखा.
एक ना धड भाराभर चिंध्या.
(1) दुसऱ्याच्या परिश्रमावर फायदा करून घेणे.
(2) कोणत्याही एका विषयाचे पूर्ण ज्ञान नसणे.
(3) लाजलज्जा सोडून देणे.
(4) गरिबी फार वाईट असते.
18. खालीलपैकी प्रशंसादर्शक केवलप्रयोगी अव्यय वापरून वाक्यरचना केलेले योग्य विधान ओळखा.
(1) बापरे! काय काम केलेस.
(2) शाब्बास! खूप छान काम केलेस.
(3) छी! काय काम केलेस.
(4) अरे देवा! काय काम केलेस.
19. खालील वाक्याचा प्रकार ओळखा.
माझे नाव कविता आहे.
(1) विधानार्थी वाक्य (2) प्रश्नार्थी वाक्य
(3) आज्ञार्थी वाक्य (4) संकेतार्थी वाक्य
20. 'सनातन' ही कादंबरी कोणी लिहिली ?
(1) शरणकुमार निंबाळे (2) लक्ष्मण माने
(3) नामदेव ढसाळ (4) दया पवार
21. खालील शब्दाचा समास ओळखा.
गायन
(1) तत्पुरुष समास (2) द्विगु समास

- (3) द्वंद्व समास (4) अव्ययीभाव समास
22. खालील शब्दाचा योग्य अर्थ ओळखा.
उपहास
(1) दया (2) चेष्टा (3) जादू (4) उपवास
23. खालील वाक्यातील प्रयोग ओळखा.
तरी अवधान एकले देईजे । मग सर्व सुखाजी पात्र होईजे
(1) नवीन कर्मणी (2) कर्मणी प्रयोग
(3) समापन कर्मणी प्रयोग (4) पुराण कर्मणी
24. खालील शब्दाचा योग्य अर्थ ओळखा.
आयुष्य
(1) दीर्घायुष्य (2) समाधान
(3) आशीर्वाद (4) जीवन
25. 'उजव्या सोंडेच्या बाहुल्या' ही कादंबरी कोणी लिहिली ?
(1) राजन गवस (2) प्रमोद मुझुमदार
(3) प्रविण बांदेकर (4) रंगनाथ पठारे

27

Date - 18/08/2023

वेळ : 9 : 00 PM - 11 : 00 PM

1. खालीलपैकी क्रियाविशेषण अव्यय वापरून वाक्यरचना केलेले योग्य विधान ओळखा.
(1) गुलमोहर सुंदर आहे.
(2) कैरी आंबट आहे.
(3) गोगलगाय हळूहळू चालते.
(4) मला मोगरा आवडतो.
2. खालील वाक्यप्रचाराचा योग्य अर्थ ओळखा.
पी हळद आणि हो गोरी.
(1) कोणत्याही कामाचे फळ लवकर मिळावे अशी अपेक्षा असणे.
(2) सुंदर दिसण्याचा रामबाण उपाय.
(3) यथाशक्ती मदत करणे.
(4) जसे मनात विचार असतात तशी स्वप्ने पडतात.
3. खालील म्हणीचा योग्य अर्थ ओळखा.
टाकीचे घाव सोसल्याशिवाय देवपण येत नाही.
(1) खूप कष्ट सोसावेत तेव्हा कुठे वैभव प्राप्त होते.
(2) आत एक बाहे एक.
(3) चांगली गोष्ट ताबडतोब करावी.
(4) स्वतः आचरण न करता दुसऱ्याला उपदेश करणे.

पेपर क्र. - 26	13 - 2	14 - 2	15 - 3	16 - 4	17 - 2	18 - 2	19 - 1	20 - 1	21 - 1	22 - 2	23 - 4
	24 - 4	25 - 3		पेपर क्र. - 27		1 - 3	2 - 1	3 - 1			

24. खालील शब्दाचा योग्य अर्थ ओळखा.
ऐट
(1) एकत्व (2) रुबाव (3) ऐश्वर्य (4) एकाग्रता
25. खालील वाक्याचे नकारार्थी वाक्यात रूपांतर केलेले योग्य विधान ओळखा.
पाणी जपून वापरले पाहिजे.
(1) पाणी वाचवा.
(2) पाण्याची उधळपट्टी नको.
(3) पाणी काटकसरीने वापरा.
(4) पाणी जपून वापरा

28

Date - 18/08/2023

वेळ : 9 : 00 PM - 11 : 00 PM

1. खालील शब्दाचा अर्थ ओळखा.
पंडित
(1) गवई (2) पीडित
(3) दिव्यांग (4) विद्वान
2. खालील वाक्याचा योग्य अर्थ ओळखा.
स्वतःशी केलेले भाषण
(1) संवाद (2) संभाषण
(3) मनोगत (4) स्वगत
3. खालील शब्दाचा समानार्थी शब्द ओळखा.
शंका
(1) शेष (2) संदेह
(3) शकून (4) शृंग
4. 'नाकीनऊ येणे' या शब्दार्थाचा वाक्यात उपयोग झालेले खालीलपैकी योग्य विधान ओळखा.
(1) भारताने विश्वचषक जिंकल्यानंतर क्रिकेटप्रेमीच्या नाकीनऊ आले.
(2) नटरखट कृष्णाला सांभाळताना यशोदेच्या नाकीनऊ येत.
(3) शांत व समजूतदार रामाला सांभाळताना कौशल्येच्या नाकी नऊ येत.
(4) नाकीनऊ येणे म्हणजे सुंदर दिसणे.
5. खालील शब्दाचा विरुद्धार्थी शब्द ओळखा.
धर्म
(1) सुधर्म (2) अधर्म
(3) श्रद्धा (4) देव

6. शिवरायांनी मावळ्यांना घेऊन स्वराज्य स्थापनेचा पण केला.
पण या अधोरेखित शब्दाचा योग्य अर्थ असलेले विधान ओळखा.
(1) शिवरायांनी मावळ्यांना घेऊन स्वराज्य स्थापनेची प्रतिज्ञा केली.
(2) शिवरायांनी मावळ्यांना घेऊन स्वराज्य स्थापनेचा विचार केला.
(3) शिवरायांनी मावळ्यांना घेऊन स्वराज्य स्थापनेचा तह केला.
(4) शिवरायांनी मावळ्यांना घेऊन स्वराज्य स्थापनेचा प्रयत्न केला.
7. 'युगंधर' ही कादंबरी कोणी लिहिली ?
(1) विलास पाटील (2) विश्राम बेडेकर
(3) भालचंद्र नेमाडे (4) शिवाजी सावंत
8. खालील म्हणीचा योग्य अर्थ ओळखा.
उतावळा नवरा गुडध्याला बाशिंग
(1) अडचणीत सापडणे.
(2) अतिशय उतावळेपणाने होणारे मूर्खपणाचे वर्तन
(3) आपल्या ऐपतीप्रमाणे खर्च करणे.
(4) लग्नाची घाई होणे.
9. खालील वाक्याचा योग्य अर्थ ओळखा.
महिन्याला प्रसिद्ध होणारे
(1) वार्षिक (2) त्रैमासिक
(3) पाक्षिक (4) मासिक
10. खालील शब्दाचा समानार्थी शब्द ओळखा. - बैल
(1) गाय (2) कपिला (3) वृषभ (4) एडका
11. खालील वाक्याचा प्रकार ओळखा.
वाचन हा लेखनाचा रियाझ आहे.
(1) संयुक्तवाक्य (2) मिश्रवाक्य
(3) संकेतार्थीवाक्य (4) केवलवाक्य
12. 'महानायक' ही कादंबरी कोणी लिहिली ?
(1) रणजित देसाई (2) भालचंद्र नेमाडे
(3) ना. स. इनामदार (4) विश्वास पाटील
13. खालील शब्दाचा समास ओळखा. - रस्तोरस्ती
(1) तत्पुरुष समास (2) द्विगु समास
(3) अव्ययीभाव समास (4) बहुव्रीही समास

पेपर क्र. - 27	24 - 2	25 - 2		पेपर क्र. - 28	1 - 4	2 - 4	3 - 2	4 - 2	5 - 2
	6 - 1	7 - 4	8 - 2	9 - 4	10 - 3	11 - 4	12 - 4	13 - 3	14 - 4

14. खालील शब्दाचा विरुद्धार्थी शब्द ओळखा. – जागृती
(1) संस्कृती (2) प्रगती (3) विकृती (4) निद्रा

15. खालील शब्दाचा समास ओळखा.
चोरभय
(1) द्विगु समास (2) अव्ययीभाव समास
(3) बहुव्रीही समास (4) तत्पुरुष समास

16. खालील वाक्प्रचाराचा योग्य अर्थ ओळखा.
विडा उचलणे
(1) पर्वा करणे (2) अर्थ नसणे
(3) स्तुती करणे (4) प्रतिज्ञा करणे

17. खालील वाक्प्रचाराचा योग्य अर्थ ओळखा.
हातावर तुरी देणे
(1) फजिती होणे (2) फसवून जाणे
(3) गहिवरणे (4) अंकित करणे

18. खालील वाक्यातील प्रयोग ओळखा.
कृष्ण बासरी वाजवतो.
(1) कर्तरी प्रयोग (2) भावे प्रयोग
(3) पुराण कर्मणी (4) कर्मणी प्रयोग

19. खालील शब्दाचा विरुद्धार्थी शब्द ओळखा. – व्यर्थ
(1) वृष्टी (2) वृद्धी (3) वाया (4) सार्थ

20. खालील स्वार्थी वाक्याचे संकेतार्थी वाक्यात रूपांतर केलेले योग्य विधान ओळखा.
प्रयत्नात सातत्य असल्यास यश मिळेल.
(1) सातत्याने प्रयत्न केल्यास यश मिळेल का ?
(2) यश मिळविण्यासाठी सातत्याने प्रयत्न कराल का ?
(3) प्रयत्न सातत्याने करा आणि यश मिळवा.
(4) जर प्रयत्न सातत्याने केले तर यश मिळेल.

21. खालील वाक्प्रचाराचा योग्य अर्थ ओळखा. – वाट लावणे.
(1) माघार घेणे (2) नाश करणे
(3) पळून जाणे (4) प्रतिज्ञा करणे

22. खालील होकारार्थी वाक्याचे नकारार्थी वाक्यात रूपांतर केलेले योग्य विधान ओळखा. – दुर्जनाच्या संगतीने हानी होते.
(1) दुर्जनाची संगत दुर्लभ असते.
(2) दुर्जनाच्या संगतीने लाभ होतो.
(3) दुर्जनाची संगत हाणिकारक असते.

(4) दुर्जनाच्या संगतीने लाभ होत नाही.

23. 'मी सावित्री जोतीराव' ही कादंबरी कोणी लिहिली ?
(1) रवींद्र ठाकूर (2) सावित्रीबाई फुले
(3) कविता करकरे (4) कविता मुरुमकर

24. खालील म्हणीचा योग्य अर्थ ओळखा.
केर डोळ्यात फुंकर कानात
(1) काटकसर करणे.
(2) वाईटपणा घेणे.
(3) कानाची आणि डोळ्याची काळजी घ्यावी.
(4) भलत्याच जागी भलताच उपाय करणे.

25. खालील वाक्यातील प्रयोग ओळखा.
पदी राघवाचे सदा ब्रीद गाजे । वळे भक्तरूपीश्री कांबि वाजे ॥
(1) कर्मणी प्रयोग (2) पुराण कर्मणी
(3) नवीन कर्मणी (4) समापन कर्मणी प्रयोग

29

Date - 18/08/2023

वेळ : 04 : 30 PM - 06 : 30 PM

1. खालील संकेतार्थी वाक्याचे स्वार्थी वाक्यात रूपांतर केलेले योग्य विधान ओळखा.
जर भरपूर पाऊस पडला तर पाण्याची टंचाई राहणार नाही.
(1) भरपूर पाऊस पडल्यास पाण्याची टंचाई राहणार नाही.
(2) भरपूर पाऊस पडावा पाण्याची कमतरता भासू नये.
(3) पाण्याची टंचाई कमी होईल जेव्हा भरपूर पाऊस पडेल.
(4) भरपूर पाऊस पडल्यास ओला दुष्काळ होण्याची भीती आहे.
2. खालील आज्ञार्थी वाक्याचे विध्यर्थी वाक्यात रूपांतर केलेले योग्य विधान ओळखा. – नेहमी खरे बोला.
(1) नेहमी खरे बोलावे.
(2) खोटे बोलू नका.
(3) नेहमी खरेच बोलायला हवे.
(4) नेहमी खोटे बोलायचे नाही.
3. 'छक्केपंजे ओळखणे' या शब्दार्थाचा वाक्यात उपयोग झालेले खालीलपैकी योग्य विधान ओळखा.
(1) दुश्मनाचे छक्केपंजे ओळखता आले पाहिजे.
(2) छक्केपंजे हा पत्त्याचा डाव आहे.
(3) आईच्या वात्सल्यात छक्केपंजे सतात.
(4) छक्केपंजे हा व्यायामाचा प्रकार आहे.

पेपर क्र. - 28	15 - 4	16 - 4	17 - 2	18 - 1	19 - 4	20 - 4	21 - 2	22 - 4	23 - 4	24 - 4	25 - 2
पेपर क्र. - 29	1 - 1	2 - 1	3 - 1								

21. खालील म्हाणीचा योग्य अर्थ ओळखा.
'अति राग भीक माग'
(1) खुशामत करणे.
(2) अतिशय गरिबी असणे.
(3) अत्यंत रागीट माणूस स्वतःचे नुकसान करून घेतो.
(4) वाईटाशी संगत करणे.
22. खालील शब्दाचा अर्थ ओळखा.
रामप्रहर
(1) रात्र (2) दुपार (3) संध्याकाळ (4) पहाट
23. खालील शब्दाचा समास ओळखा.
पद्मनाभ
(1) तत्पुरुष समास (2) द्विगु समास
(3) अव्ययीभाव समास (4) बहुव्रीही समास
24. खालील वाक्यातील प्रयोग ओळखा.
अभिमन्यू जयद्रथाकडून मारला जातो.
(1) समापन कर्मणी प्रयोग (2) कर्मणी प्रयोग
(3) नवीन कर्मणी (4) पुराण कर्मणी
25. खालील शब्दाचा समास ओळखा.
पंचपाळे
(1) द्विगु समास (2) अव्ययीभाव समास
(3) बहुव्रीही समास (4) तत्पुरुष समास

30

Date - 19/08/2023

वेळ : 09 : 00 AM - 11 : 00 AM

1. 'काल जोरदार पाऊस पडला.' या वाक्याचा प्रकार ओळखा.
(1) आज्ञार्थी (2) विधानार्थी
(3) प्रश्नार्थी (4) उद्गारार्थी
2. 'कवन' या शब्दाचा समानार्थी शब्द शोधा.
(1) नृत्य (2) गायन
(3) चर्चा (4) काव्य
3. 'संताप' शब्दाचा विरुद्धार्थी शब्द शोधा.
(1) लढाई (2) नाराजी
(3) संतोष (4) रहस्य

4. 'नटसम्राट' ही कलाकृती कोणत्या साहित्यप्रकारात मोडते?
(1) समीक्षा (2) चरित्र
(3) नाटक (4) कवितासंग्रह
5. 'निबिड' या शब्दाचा समानार्थी शब्द शोधा.
(1) ढगाळ (2) घनगर्द
(3) हव्यास (4) निष्पाप
6. 'नक्षा उतरणे' या वाक्प्रचाराचा योग्य अर्थ सांगा.
(1) सुरुवात होणे (2) निरर्थक बडबड करणे
(3) गर्व नष्ट होणे (4) तारांबळ उडणे
7. 'कणिक तिंबणे' या वाक्प्रचाराचा अर्थ सांगा.
(1) खल करणे (2) निश्चय करणे
(3) मार देणे (4) फसवणे
8. 'शेतकऱ्यांनी शेतात भाताची रोपे लावली.' वाक्यातील प्रयोग ओळखा.
(1) कर्मणी (2) भावकर्तरी
(3) कर्तरी (4) भावे
9. 'गाव करी ते राव न करी' या म्हाणीचा अर्थ सांगा.
(1) श्रीमंत माणसापेक्षा जनता एकीच्या बळावर काम करते.
(2) गर्विष्ठ माणसाची शेवटी फजिती होते
(3) नुकसान होता होता परिस्थिती सुधारणे
(4) पैशाचा गैरवापर करणे
10. 'प्रगल्भ' शब्दाचा विरुद्धार्थी शब्द शोधा.
(1) आनंदी (2) बालिश
(3) जाणता (4) सौम्य
11. 'रसिक' शब्दाचा विरुद्धार्थी शब्द शोधा.
(1) गुणवंत (2) अनुकूल
(3) हौशी (4) अरसिक
12. 'काळ्या दगडावरची रेघ' या म्हाणीचा योग्य अर्थ सांगा.
(1) न बदलणारी गोष्ट
(2) मोठ्या माणसांतही दोष असतात.
(3) अन्याय सहन करावा लागणे
(4) एखाद्या गोष्टीशी संबंध नसणे
13. 'शेती' या शब्दाच्या जोडीने येणारा शब्द शोधा.
(1) नाती (2) माती (3) भाती (4) माती

पेपर क्र. - 29	21 - 3	22 - 4	23 - 4	24 - 3	25 - 1	पेपर क्र. - 30	1 - 2	2 - 4	3 - 3	
	4 - 3	5 - 2	6 - 3	7 - 3	8 - 1	9 - 1	10 - 2	11 - 4	12 - 1	13 - 3

14. जयंत नारळीकर यांच्या आत्मचरित्राचे नाव सांगा.

- (1) भूमी (2) चार नगरातले माझे विश्व
(3) आलोक (4) बोलावे ते आम्ही

15. 'रथचक्र' ही कादंबरी कोणाची ?

- (1) श्री. ना. पेंडसे (2) रणजित देसाई
(3) गंगाधर गाडगीळ (4) रंगनाथ पठारे

16. भारतीय सैनिकांनी शत्रूच्या सैन्याला रिकाम्या जागी योग्य वाक्प्रचाराचा वापर करा.

- (1) उपकृत केले. (2) धूळ चारली.
(3) तोरा दाखवला. (4) नावे ठेवली.

17. 'तो नक्की घरी येईल.' या वाक्याचे नकारार्थी रूप ओळखा.

- (1) तो मुळीच घरी येणार नाही.
(2) तो कधी घरी येईल ?
(3) तो घरी आल्याशिवाय राहणार नाही.
(4) तो घरी आला नाही.

18 'सूर्योदय' या समासाचा योग्य विग्रह करा.

- (1) सूर्य आणि उदय (2) सूर्य हाच उदय
(3) सूर्याचा उदय (4) उदय झाला आहे ज्याचा असा सूर्य

19. 'आदिम' या शब्दाचा योग्य अर्थ सांगा.

- (1) सहज (2) अभिमान
(3) गूढ (4) मूळचा

20. 'भाजीपाला' हा समास ओळखा.

- (1) अव्ययीभाव (2) बहुव्रीही
(3) द्वंद्व (4) तत्पुरुष

21. अचूक वाक्यरचना कोणती आहे ते शोधा.

- (1) श्रवण, संभाषण, वाचन आणि लेखन यांमधून आपली भाषा विकसित होते.
(2) श्रवण, संभाषण, वचन आणि लेखन यांमधून आपली भाषा विकसित होते.
(3) श्रवण, संभाषण, वाचण आणि लेखन यांमधून आपली भाषा विकसित होते .
(4) श्रवण, संभाषण, वाचन आणि लेखन यांमधून आपली भाषा विकसित होते.

22. प्रमाणलेखनानुसार अचूक शब्द शोधा.

- (1) हृदयरोगतज्ञ (2) हृदयरोगतज्ज्ञ
(3) रुदयरोगतज्ज्ञ (4) हृदयरोगतज्ञ

23. जेव्हा क्रियापदाचे रूप कर्त्याच्या किंवा कर्माच्या लिंग, वचनाप्रमाणे बदलत नसून ते नेहमी तृतीयपुरुषी, नपुंसकलिंगी व एकवचनी असून स्वतंत्र असते, तेव्हा कोणता प्रयोग होतो?

- (1) भावे (2) कर्मणी
(3) कर्तरी (4) कर्मकर्तरी

24. 'महिन्याची अखेर होती, त्यात 4,5 पाहुणे घरी आले' याप्रसंगी कोणती म्हण लागू पडेल ?

- (1) न कर्त्याचा वार शनिवार (2) गरज सरो वैद्य मरो
(3) तेरड्याचा रंग तीन दिवस (4) दुष्काळात तेरावा महिना

25. 'निळ्या रंगाचे एक रत्न' या शब्द समूहाबद्दल एक शब्द लिहा.

- (1) इंद्रनीळ (2) नीलकंठ
(3) घननीळा (4) नीलांबर

31

Date - 19/08/2023

वेळ : 12 : 30 PM - 02 : 30 PM

1. 'शंकरावांनी बैलांना गोठ्यात बांधले'. वाक्यातील प्रयोग ओळखा.

- (1) कर्म भाव संकर (2) भावे
(3) कर्मणी (4) अकर्मक कर्तरी

2. 'राजाज्ञा' हा कोणता समास आहे?

- (1) अव्ययीभाव (2) द्विगू
(3) तत्पुरुष (4) बहुव्रीही

3. डांगोरा एका नगरीचा ही कादंबरी कोणाची ?

- (1) आशा बगै (2) सदानंद देशमुख
(3) श्याम मनोहर (4) त्र्यं. वि. सरदेशमुख

4. 'ज्ञात' चा विरुद्धार्थी शब्द कोणता आहे ?

- (1) अज्ञात (2) अज्ञ (3) ज्ञानी (4) अज्ञानी

5. पुढीलपैकी कवी अनिल यांचा काव्यसंग्रह कोणता आहे ?

- (1) खूणगाठी (2) दशपदी
(3) भिजकी वही (4) चित्रलिपी

6. विद्यार्थी प्रदर्शनातील चित्र पाहतो. वाक्यातील प्रयोग ओळखा.

- (1) सकर्मक कर्तरी (2) कर्मणी
(3) अकर्मक कर्तरी (4) भावी

पेपर क्र. - 30	14 - 2	15 - 1	16 - 2	17 - 3	18 - 3	19 - 4	20 - 3	21 - 4	22 - 2	23 - 1	24 - 4
	25 - 1			पेपर क्र. - 31		1 - 1	2 - 3	3 - 4	4 - 1	5 - 2	6 - 1

24. 'धान्य साठविण्यासाठी केलेली बंदिस्त जागा' या शब्दसमूहाबद्दल एक शब्द लिहा.

- (1) कोठार (2) माळरान
(3) शस्त्रागार (4) खजिना

25. 'दात विचकणे' या वाक्प्रचाराचा अर्थ सांगा.

- (1) वेडावून दाखवणे (2) त्रस्त होणे
(3) अडचणीत सापडणे (4) खाऊ घालणे

32

Date - 19/08/2023

वेळ : 04 : 30 PM - 06 : 30 PM

1. पुढीलपैकी कर्मकर्तरी प्रयोग ओळखा.

- (1) सुमनने गाईस बांधले.
(2) गाय सुमनकडून बांधली जाते.
(3) सुमनने गाय बांधली.
(4) सुमन गाय बांधते.

2. 'ती अडचणीत आहे, तिला मदत केली तर ती तुम्हाला.....' रिकाम्या जागी योग्य वाक्प्रचार कोणता आहे?

- (1) दुवा देईल. (2) पाणउतारा करेल.
(3) नाकीनऊ आणेल. (4) स्पॅंग करेल.

3. 'खऱ्याला मरण नाही' या म्हणीचा अर्थ म्हणजे.

- (1) सत्य कधी लपत नाही
(2) खूप कष्ट करूनही फळ दुसऱ्याला मिळणे
(3) आईवडिलांप्रमाणे त्यांची मुले असतात
(4) पैशांचा माज करू नये

4. 'किती सुंदर दिसतोय हा सूर्योदय!' हा वाक्याचा प्रकार सांगा.

- (1) प्रश्नार्थी (2) नकारार्थी
(3) उद्गारार्थी (4) विधानार्थी

5. 'नियमित' या शब्दाचा विरुद्धार्थी शब्द शोधा.

- (1) नियम (2) अविनाशी
(3) अप्रमाण (4) अनियमित

6. 'मुखचंद्र' हा समास ओळखा.

- (1) अव्ययीभाव (2) बहुव्रीही
(3) कर्मधारय (4) द्वंद्व

7. 'काट्याचा नायटा करणे' या म्हणीचा अर्थ सांगणारी दुसरी म्हण शोधा.

- (1) डोंगर पोखरून उंदीर काढणे

(2) वाघाच्या गुहेत प्रवेश करणे

(3) राईचा पर्वत करणे

(4) दुधाची तहान ताकावर भागवणे

8. पुढीलपैकी पु. ल. देशपांडे यांच्या पुस्तकाचे नाव सांगा.

- (1) बहुरूपी (2) स्वामी
(3) स्मरणगाथा (4) व्यक्ती आणि वल्ली

9. 'क्लिष्ट' या शब्दाचा विरुद्धार्थी शब्द शोधा.

- (1) अवजड (2) अवघड (3) रुक्ष (4) सोपे

10. अचूक वाक्यरचना कोणती आहे ते शोधा.

- (1) आपल्याला साहित्य वाचनाचा आनंद मीळवून देण्यात भाषेचा मुख्य वाटा आहे.
(2) आपल्याला साहित्य वाचनाचा आनंद मिळवून देण्यात भाषेचा मूख्य वाटा आहे.
(3) आपल्याला साहित्य वाचनाचा आनंद मिळवून देण्यात भाषेचा मुख्य वाटा आहे.
(4) आपल्याला साहित्य वाचनाचा आनंद मिळवून देण्यात भाषेचा मुख्य वाटा आहे.

11. 'श्री विठ्ठल : एक महासमन्वय' या ग्रंथाचे लेखक कोण आहेत?

- (1) विश्वास पाटील (2) विश्राम बेडेकर
(3) प्रभाकर पाध्ये (4) रा. चिं. ढेरे

12. 'अचूक गुणकारी ठरणारे' शब्दसमूहाबद्दल एक शब्द लिहा.

- (1) तिठा (2) रामबाण
(3) तीरकमठा (4) धनुष्यबाण

13. ज्या कर्मधारय समासातील पहिले पद संख्याविशेषण असते व ज्या सामासिक शब्दावरून एका समुच्चयाचा बोध होतो, तेव्हा त्यास कोणता समास म्हणतात?

- (1) विभक्ती तत्पुरुष (2) द्विगू
(3) उपपद तत्पुरुष (4) द्वंद्व

14. चैनीच्या गोष्टी महाग आहेत. हे वाक्य नकारार्थी करा.

- (1) किती महाग आहेत या चैनीच्या गोष्टी!
(2) चैनीच्या गोष्टी खूप स्वस्त आहेत.
(3) चैनीच्या गोष्टी स्वस्त नाहीत.
(4) चैनीच्या गोष्टी महाग असाव्यात.

15. भालचंद्र नेमाडे यांच्या कोणत्या ग्रंथास साहित्य अकादमी पुरस्कार प्राप्त झाला आहे ?

- (1) जरीला (2) टीका स्वयंवर
(3) मेलडी (4) कोसला

16. प्रमाणलेखनानुसार अचूक शब्द शोधा.

- (1) अतिशयोक्ती (2) अतीशययुक्ती
(3) अतीशयोक्ती (4) अतीशयउक्ती

पेपर क्र. - 31	24 - 1	25 - 1	पेपर क्र. - 32	1 - 2	2 - 1	3 - 1	4 - 3	5 - 4	6 - 3	
	7 - 3	8 - 4	9 - 4	10 - 3	11 - 4	12 - 2	13 - 2	14 - 3	15 - 2	16 - 1

17. 'पल्लव' या शब्दाचा समानार्थी शब्द शोधा.
 (1) पक्षी (2) पद्म
 (3) पीस (4) पालवी
18. 'कावळ्याच्या शापाने गाय मरत नाही. म्हणीचा योग्य अर्थ सांगा.
 (1) क्षुद्र माणसांचे वाईट बोलणे थोरांच्या कार्यात बाधा आणू शकत नाही.
 (2) मूळ स्वभाव बदलत नाही
 (3) रक्षकाने चोरी करणे
 (4) मनास अपराधाची टोचणी लागणे
19. 'घनदाट' या शब्दाचा विरुद्धार्थी शब्द शोधा.
 (1) मवाळ (2) विरळ
 (3) सरळ (4) रवाळ
20. 'सहलीहून येताना लवकर सांजावले.' या वाक्यातील प्रयोग ओळखा.
 (1) कर्मणी (2) भावे
 (3) अकर्मक कर्तरी (4) सकर्मक कर्तरी
21. 'प्रसाद' या शब्दाचा समानार्थी शब्द शोधा.
 (1) आरती (2) खिरापत
 (3) तीर्थ (4) महाल
22. 'मुळात नसलेले रूप धारण करणे' या वाक्प्रचाराचा अर्थ सांगणारा वाक्प्रचार कोणता आहे ?
 (1) मुखभंग करणे (2) पाझर फुटणे
 (3) पारखे होणे (4) मुखवटा चढवणे
23. 'त्वरा' या शब्दाचा अर्थ सांगा.
 (1) तात्पर्य (2) घाई
 (3) ताफा (4) निरुपाय
24. 'सगे' या शब्दाच्या जोडीने येणारा शब्द शोधा.
 (1) सखे (2) सारे
 (3) सखे (4) सोयरे
25. 'उत्पात होणे' या वाक्प्रचाराचा योग्य अर्थ सांगा.
 (1) अनर्थ होणे (2) व्रत करणे
 (3) गैरसमज करून घेणे (4) खूप त्रास देणे

1. खालील शब्दाचा अर्थ सांगा. - भूषणे
 (1) फुलांचा हार (2) नथ
 (3) अलंकार (4) बाजूबंध
2. कधीतरी ही पैठणी मी धरते उरी कवळून या काव्यपंक्तीतील उरी या शब्दाचा समानार्थी शब्द ओळखा.
 (1) डोळ्याशी (2) ओठाशी
 (3) छातीशी (4) गळ्याशी
3. खालील शब्दाचा विरुद्धार्थी शब्द ओळखा.
 काळा
 (1) सावळा (2) गोरा (3) गडद (4) गव्हाळ
4. खालील नकारार्थी वाक्याचे होकारार्थी वाक्यातील योग्य रूपांतर दर्शवणारे विधान ओळखा.
 ही काही वाईट कल्पना नाही.
 (1) ही कल्पना चांगली नसावी.
 (2) ही कल्पना चांगली आहे.
 (3) ही कल्पना वाईट व चांगली आहे.
 (4) ही कल्पना वाईट व चांगली नाही.
5. 'रायगडाला जेव्हा जाग येते' हे नाटक कोणी लिहिले ?
 (1) ना. स. इनामदार (2) महेश एलकुंचवार
 (3) विजय तेंडुलकर (4) वसंत कानेटकर
6. खालील पर्यायांतून, 'लंकेची पार्वती' या शब्दार्थाचा वाक्यातील योग्य उपयोग दर्शवणारे विधान ओळखा.
 (1) सोन्याची आभूषणे परिधान केलेली नववधू लंकेची पार्वती वाटली.
 (2) लंकेची पार्वती हिमालयात राहते का ?
 (3) कर्जबाजारी झालेल्या रामरावने पत्नीच्या अंगावरचे सर्व दागिने विकून टाकले व तिला लंकेची पार्वती केले.
 (4) दागिन्यांनी मढलेली राजनंदिनी लंकेची पार्वती झाली होती.
7. खालील शब्दाचा योग्य अर्थ ओळखा. - आस्तिक
 (1) देव नाही असे मानणारा
 (2) व्रतवैकल्ये करणारा
 (3) देव आहे असे मानणारा
 (4) उपासना करणारा

पेपर क्र. - 32	17 - 4	18 - 1	19 - 2	20 - 2	21 - 4	22 - 4	23 - 2	24 - 4	25 - 1		
पेपर क्र. - 33	1 - 3	2 - 3	3 - 2	4 - 2	5 - 4	6 - 3	7 - 3				

24. खालील शब्दाचा अर्थ ओळखा. - काष्ठ
(1) रान (2) लाकूड (3) रूची (4) काठ
25. खालील पर्यायांतून, 'जिवाचे रान करणे या शब्दार्थाचा वाक्यातील योग्य उपयोग दर्शवणारे विधान ओळखा.
(1) कडकडून भूक लागली की मी जिवाचे रान करून जेवतो.
(2) शेतकरी शेतात उत्तम पीक यावे म्हणून जिवाचे रान करतो.
(3) मी काश्मीरला सहलीला जाऊन जिवाचे रान केले.
(4) जिवाचे रान करणे शक्य असते का कधी?

34

Date - 20/08/2023

वेळ : 12 : 30 PM - 2 : 30 PM

1. खालीलपैकी कोणती जोडी चुकीची आहे ?
(1) नवरा - पती (2) खूण - व्रण
(3) दुर्ग - तलाव (4) गृह - घर
2. 'रज' शब्दाचा अर्थ काय आहे ?
(1) भट्टी (2) फुलाची पाकळी
(3) धुळीचा कण (4) चादर
3. 'सर्वांना समज दिली जाईल.' प्रयोग ओळखा.
(1) भावे (2) कर्तृ-भाव संकर
(3) कर्म-भाव संकर (4) कर्मकर्तरी
4. खाली काही शब्द व त्यांचे अर्थ दिलेले आहेत, त्यांतील चुकीची जोडी कोणती आहे ?
(1) पार- कट्टा (2) माया - प्रेम
(3) वट - समेट (4) पाखर - छाया
5. 'विंग्ज ऑफ फायर' या डॉ. ए. पी. जे. अब्दुल कलाम यांच्या पुस्तकाचा मराठी अनुवाद कोणत्या शीर्षकाने प्रकाशित झाला आहे ?
(1) अग्निपथ (2) उड्डाण (3) अग्निपंख (4) ज्वाला
6. 'त्याला आंबा खाववतो.' - प्रयोग ओळखा.
(1) प्रधानकर्तृक कर्मणी प्रयोग (2) शक्य कर्मणी प्रयोग
(3) समापन कर्मणी प्रयोग (4) नवीन कर्मणी प्रयोग
7. 'माझी जन्मठेप' हे आत्मचरित्र कोणाचे आहे ?
(1) लोकमान्य बाळ गंगाधर टिळक
(2) स्वातंत्र्यवीर वि.दा. सावरकर
(3) नेताजी सुभाषचंद्र बोस
(4) महात्मा गांधी

8. 'कडू कारले, तुपात तळले, साखरेत घोळले, तरी कडू ते कडूच. या म्हणीचा अर्थ ओळखा.
(1) दोन्ही बाजूंनी कोंडमार
(2) दुर्जन कशानेही सुधारत नाही
(3) कडू कारल्याची चव बदलत नाही
(4) समाजात सज्जन माणसे कमी आहेत
9. खालीलपैकी कोणत्या वाक्यचाराचा अर्थ चुकीचा दिलेला आहे ?
(1) नावे ठेवणे - स्तुती करणे
(2) फशी पाडणे - फसवून संकटात पाडणे
(3) वर्ज्य करणे - टाळणे
(4) हातापाया पडणे - गयावया करणे
10. 'नावडती व्यक्ती समोर पाहताच अक्षयचे पित्त खवळले.' या वाक्यातील वाक्यचाराचा अर्थ कोणता आहे
(1) चक्र येणे (2) आनंद वाटणे
(3) उलटी होणे (4) रागावणे
11. खालीलपैकी कोणती विरुद्धार्थी शब्दांची जोडी आहे ?
(1) भंग × अ भंग (2) उपकार × मदत
(3) दोषी × दयाळू (4) सुसंगत × नियंत्रित
12. वाक्यचार व त्यांच्या अर्थाच्या योग्य जोड्या लावा.
'अ' गट 'ब' गट
(a) राम नसणे (i) जाणीव नसणे
(b) भान नसणे (ii) अर्थ नसणे
(c) डोळ्यात खुपणे (iii) दुर्लक्ष करणे
(d) गळ घालणे (iv) सहन न होणे
(v) आग्रह करणे
(1) a-i, b-v, c-iii, d-ii (2) a-v, b-iii, c-iv, d-i
(3) a-iii, b-iv, c-i, d-v (4) a-ii, b-i, c-iv, d-v
13. खालील शब्दगट वापरून योग्य वाक्य बनवा.
(अ) आम्ही अभयारण्यातील (आ) एका मचाणावर
(इ) मुक्काम करावयाचे ठरवले (ई) झाडावर बांधलेल्या
(1) आम्ही अभयारण्यातील एका मचाणावर मुक्काम करावयाचे ठरवले झाडावर बांधलेल्या.
(2) झाडावर बांधलेल्या एका मचाणावर मुक्काम करावयाचे ठरवले आम्ही अभयारण्यातील.
(3) आम्ही अभयारण्यातील झाडावर बांधलेल्या एका मचाणावर मुक्काम करावयाचे ठरवले.
(4) एका मचाणावर अभयारण्यातील झाडावर बांधलेल्या मुक्काम करावयाचे ठरवले आम्ही.

पेपर क्र. - 33	24 - 2	25 - 2	पेपर क्र. - 34	1 - 3	2 - 3	3 - 4	4 - 3	5 - 3	6 - 2
	7 - 2	8 - 2	9 - 1	10 - 4	11 - 1	12 - 4	13 - 3		

14. समानार्थी शब्द ओळखा.
'पिपीलिका'
(1) मुंगी (2) मुंगुस (3) घर (4) मुंगळा
15. खालीलपैकी कोणती चुकीची वाक्यरचना आहे?
(1) माहूत अंकुश घेऊन सरसावला.
(2) होता गळ्यात लाल रेशमी गोफ.
(3) गणपतीच्या देवळाच्या नगारखान्यात चौघडा झणझणू लागला.
(4) अंकुशाची कळ अजूनही गंडस्थळ खात होती.
16. 'शेजार) गावात एक बलाढ्य सावकार मरण (पावणे) बातमी ऐकून भीमाने ताडकन उडी मारली.' - कंसातील शब्दांची योग्य रूपे वापरून वाक्य बनवा.
(1) शेजारचा गावात एक बलाढ्य सावकार मरण पावल्याने बातमी ऐकून भीमाने ताडकन उडी मारली.
(2) शेजारच्या गावात एक बलाढ्य सावकार मरण पावल्याहून बातमी ऐकून भीमाने ताडकन उडी मारली.
(3) शेजारने गावात एक बलाढ्य सावकार मरण पावल्याची बातमी ऐकून भीमाने ताडकन उडी मारली.
(4) शेजारच्या गावात एक बलाढ्य सावकार मरण पावल्याची बातमी ऐकून भीमाने ताडकन उडी मारली.
17. विरुद्धार्थी शब्दांच्या योग्य जोड्या लावा.
'अ' गट 'ब' गट
(a) सुश्राव्य (i) मलीन
(b) विमल (ii) द्वेष
(c) प्रीती (iii) विसंगत
(d) सुसंबद्ध (iv) कर्णकटू
(1) a-i, b-iii, c-iv, d-ii (2) a-iii, b-ii, c-iv, d-i
(3) a-ii, b-iii, c-i, d-iv (4) a-iv, b-i, c-ii, d-iii
18. 'अभिनव' म्हणजे
(1) हावभाव (2) अभिनय
(3) उत्साह (4) नाविन्यपूर्ण
19. 'शेतकऱ्याचा असूड' हा ग्रंथ कोणाचा आहे?
(1) डॉ. बाबासाहेब आंबेडकर (2) सावित्रीबाई फुले
(3) विनोबा भावे (4) महात्मा जोतीराव फुले
20. 'वाटसरू पाणी मागत होता. अधोरेखित शब्दाचा समानार्थी नसलेला शब्द ओळखा.
(1) पांथस्थ (2) प्रवासी (3) सेवक (4) पथिक

21. खालीलपैकी कोणता सामासिक शब्द नाही ?
(1) नीलकंठ (2) दररोज (3) आईवडील (4) पोळी
22. पोटभर भोजन करून ती तृप्त झाली. अधोरेखित शब्दाचा विरुद्धार्थी शब्द ओळखा.
(1) आवड (2) मुद्रा (3) उदंड (4) अतृप्त
23. 'भीक नको; पण कुत्रा आवर' या म्हणीचा अर्थ काय आहे?
(1) उपकार नकोत, पण छळ आवर
(2) थट्टा करणे
(3) भीक मागायला गेल्यावर कुत्रा अंगावर सोडणे
(4) स्वार्थी वृत्तीने वागणे
24. समास ओळखा. - 'दुःखप्राप्त'
(1) तृतीया तत्पुरुष (2) पंचमी तत्पुरुष
(3) द्वितीया तत्पुरुष (4) चतुर्थी तत्पुरुष
25. कालच्या लग्नात तुषारने प्रमाणापेक्षा जास्त लाडू खाळे; त्यामुळे त्याला दवाखान्यात भरती करावे लागले. म्हणतात ना
(1) अति तेथे माती
(2) अति राग भीक माग
(3) असेल हरी तर देईल खाटल्यावरी
(4) खाई त्याला खवखवे

35

Date - 20/08/2023

वेळ : 04 : 30 PM - 06 : 30 PM

1. लेखननियमानुसार असलेले वाक्य ओळखा.
(1) होता सर्वत्र चंद्रप्रकाश लखलखत.
(2) चंद्रप्रकाश सर्वत्र लखलखत होता.
(3) लखलखत होता चंद्रप्रकाश सर्वत्र
(4) सर्वत्र चंद्रप्रकाश होता लखलखत.
2. 'उषाच्या गळ्यातील दागिने पाहून निधी अचंबित झाली.' या वाक्यातील वाक्यप्रचाराचा अर्थ काय आहे?
(1) आनंदी होणे (2) क्षीण होणे
(3) भयभीत होणे (4) आश्चर्यचकित होणे
3. खाली सामासिक शब्दांचा विग्रह केलेला आहे, त्यांतील चुकीचा पर्याय ओळखा.
(1) लोकप्रिय - लोकांना प्रिय
(2) वनभोजन - वनातील भोजन

पेपर क्र. - 34	14 - 1	15 - 2	16 - 4	17 - 4	18 - 4	19 - 4	20 - 3	21 - 4	22 - 4	23 - 1	24 - 3
	25 - 1	पेपर क्र. - 35			1 - 2	2 - 4	3 - 4				

16. 'ज्याच्यावर आपण अवलंबून असतो त्याची स्तुती किंवा बहाना करावीच लागते.' या अर्थाची म्हण ओळखा.

- (1) ज्याचे करावे भले तो म्हणतो माझेच खरे
- (2) ज्याची खावी पोळी, त्याची वाजवावी टाळी
- (3) ज्या गावच्या बोरी, त्याच गावच्या बाभळी
- (4) खाई त्याला खवखवे

17. 'उत्कर्ष' या शब्दाचा विरुद्ध अर्थ असलेला शब्द वापरून बनविलेले अचूक वाक्य कोणते आहे ?

- (1) अलीकडे भारताने खूप प्रगती केली आहे.
- (2) प्राची नेहमी सुसंगत बोलते.
- (3) संगणकाच्या क्रांतीने रोजगार बुडाला.
- (4) एकेकाळी श्रीमंत असणाऱ्या धर्मद्रचा जुगारीमुळे अपकर्ष झाला.

18. 'आलोक' कथासंग्रह कोणाचा आहे ?

- (1) आसाराम लोमटे
- (2) आशा बगे
- (3) अनुराधा पाटील
- (4) जयंत पवार

19. 'तृप्ती झरझर चालत होती.' - अधोरेखित शब्दाचा विरुद्धार्थी शब्द कोणता आहे ?

- (1) दबकत
- (2) जलद
- (3) सावकाश
- (4) तेज

20. आनंदीबाई आपल्या सुनेची वरवर कितीही स्तुती करत असली तरी मनातून खूप जळत असते, म्हणतात ना : योग्य म्हणीचा वापर करा.

- (1) जनांत बुवा, मनात कावा
- (2) जशी देणावळ, तशी खानावळ
- (3) जसा गुरू, तसा चेला
- (4) जसा देव, तशी पूजा

21. 'वैभव वर्गातील कोणत्याच तासाला गैरहजर राहत नाही.' या वाक्यातील सामासिक शब्द कोणता आहे ?

- (1) नाही
- (2) वर्ग
- (3) गैरहजर
- (4) तास

22. 'सचोटी' शब्दाचा अर्थ कोणता आहे ?

- (1) त्याग करणे
- (2) वेडीवाकडी वर्तणूक
- (3) वर्तनातील प्रामाणिकपणा
- (4) खोडी काढणे

23. 'प्रभा' शब्दाचा अर्थ खालीलपैकी कोणता नाही ?

- (1) आभा
- (2) अग्नी
- (3) तेज
- (4) प्रकाश

24. अयोग्य जोडी ओळखा.

- (1) आज सतत गडगडले. - कर्मणी प्रयोग

- (2) आईने मुलीस समजावले. - सकर्मक भावे
- (3) त्याचे धावून झाले. - अकर्मक भावे प्रयोग
- (4) त्याचे वृत्तपत्र वाचून झाले. समापन कर्मणी प्रयोग.

25. खाली काही प्रमुख कथाकार व त्यांचे कथासंग्रह दिलेले आहेत, त्यांतील चुकीची जोडी ओळखा.

- (1) विद्याधर पुंडलिक - पोपटी चौकट
- (2) द. मा. मिरासदार - मिरासदारी
- (3) अरविंद गोखले - मंजुळा
- (4) पु. ल. देशपांडे - वळीव

36

Date - 21/08/2023

वेळ : 09 : 00 PM - 11 : 00 PM

1. 'आसाम' भेटीमध्ये मी (तेजपूर) गेलो.' कंसातील शब्दांचे योग्य रूप वापरून वाक्य बनना.

- (1) आसामला भेटीमध्ये मी तेजपूरला गेलो.
- (2) आसामच्या भेटीमध्ये मी तेजपूरचे गेलो.
- (3) आसामच्या भेटीमध्ये मी तेजपूरला गेलो.
- (4) आसामची भेटीत मी तेजपूरशी गेलो.

2. 'गंगाजळी' म्हणजे

- (1) शिल्लक रक्कम
- (2) मोठी रक्कम
- (3) दुर्मिळ योग
- (4) गंगा जल

3. 'कार्तिक बारावीमध्ये नव्वद टक्के गुण मिळावे म्हणून दररोज बारा-बारा तास अभ्यास करत होता; प्रत्यक्षात निकाल लागला तेव्हा समजले की केवळ चाळीस टक्केच गुण मिळाले.' या प्रसंगासाठी योग्य म्हण सुचवा.

- (1) थेंबे थेंबे तळे साचे
- (2) डोंगर पोखरून उंदीर काढणे
- (3) दैव देते कर्म नेते
- (4) झाकली मूठ सव्वा लाखाची

4. विरुद्धार्थी शब्दांच्या जोड्या लावा.

- | | |
|------------|--------------|
| 'अ' गट | 'ब' गट |
| (a) मर्त्य | (i) सुधारक |
| (b) सनातनी | (ii) अमर्त्य |
| (c) बिकट | (iii) बेचव |
| (d) चव | (iv) सुलभ |
| | (v) मृत्यू |

- (1) a-ii, b-i, c-iv, d-iii
- (2) a-ii, b-i, c-iii, d-iv
- (3) a-v, b-i, c-iv, d-iii
- (4) a-i, b-ii, c-iv, d-v

पेपर क्र. - 35	16 - 2	17 - 4	18 - 1	19 - 3	20 - 1	21 - 3	22 - 3	23 - 2	24 - 1	25 - 4
पेपर क्र. - 36	1 - 3	2 - 1	3 - 2	4 - 1						

22. खाली सामासिक शब्दांचे विग्रह केलेले आहेत. त्यांतील चुकीचा पर्याय कोणता आहे?

- (1) सेवानिवृत्त सेवा आणि निवृत्त
- (2) भीमार्जुन - भीम आणि अर्जुन
- (3) पंचपाळे - पाच पाळ्यांचा समूह
- (4) साबुदाणावडा- साबुदाणा घालून केलेला वडा

23. बाजी तथा त्वरित धावुनि देइ हात !

जेव्हा पडे चतुरसालहि संकटांत । - प्रस्तुत पंक्तीत 'हात देणे' हा वाक्प्रचार कोणत्या अर्थाने आला आहे ?

- (1) लेखी बांधून घेणे
- (2) नशिबास दोष देणे
- (3) प्रहार करणे
- (4) मदत करणे

24. खाली वाक्प्रचारांचा वाक्यात उपयोग केलेला आहे. त्यांतील चुकीचा पर्याय ओळखा.

- (1) जखमी ससा पाहताच आरतीचे मन हेलावले.
- (2) गंगेचे सुंदर घाट आणि तेथील भक्तिमय वातावरणाने कांचनला भुरळ घातली.
- (3) सुंदर चित्र पाहताच कोमलला दरदरून घाम फुटला.
- (4) पाच वर्षांच्या अर्णवने संपूर्ण हरिपाठ न अडखळता गायल्याने उपस्थित श्रोते थक्क झाले.

25. 'म्हातारा' म्हणजे

- (1) पीडित
- (2) जरठ
- (3) जीर्ण
- (4) जर्जर

37

Date - 21/08/2023

वेळ : 12 : 30 PM - 02 : 30 PM

1. 'पौराणिक चित्रपटाच्या सेटवर अभिनय करताना प्रणवने हे औट घटकेचे राज्य मनापासून जगून घेतले.' या वाक्यातील म्हणीचा अर्थ कोणता आहे ?

- (1) उत्कृष्ट अभिनय करणे
- (2) कायम टिकणारे ऐश्वर्य
- (3) मायावी शक्ती
- (4) थोडा वेळ टिकणारे ऐश्वर्य

2. 'माझे विद्यापीठ' हा कवितासंग्रह कोणाचा आहे ?

- (1) दया पवार
- (2) नारायण सुर्वे
- (3) अनुराधा पाटील
- (4) इंदिरा संत

3. 'कबीर सदोदित जप करत असतो. अधोरेखित शब्दाचा विरुद्धार्थी शब्द कोणता आहे ?

- (1) नियमित
- (2) निरंतर

(3) पीछेहाट

(4) क्वचित

4. 'वडिलांनी मुलाला शाळेत घातले.' - प्रयोग ओळखा.

- (1) शक्य कर्मणी
- (2) शक्य भावे
- (3) कर्तृकर्म भावे
- (4) कर्म-भाव संकर

5. 'साडेसाती' म्हणजे होय.

- (1) सुवर्णकाळ
- (2) आपत्तीचा काळ
- (3) निरर्थक त्रास
- (4) एखाद्या वस्तूचा नाश

6. 'हौशी' शब्दाचा विरुद्धार्थी शब्द ओळखा.

- (1) कपटी
- (2) हताश
- (3) रसिक
- (4) अरसिक

7. लेखननियमानुसार अचूक वाक्य लिहा.

- (1) त्याचा शरीरात हळूहळू विष भिनत चालले.
- (2) त्याच्या शरीरात हळूहळू विष भिनत चालले.
- (3) त्याच्या शरीरात हळूहळू विष भिनत चालले.
- (4) त्याच्या शरीरात हळूहळू विष भिनत चालले.

8. 'तृप्तीने दोन बाहुल्यांची एका दिवसात वाट लावली.' - वाक्प्रचाराचा योग्य अर्थ कोणता आहे ?

- (1) हाकलून देणे
- (2) खाऊन टाकणे
- (3) आपल्या वाटेतून काढून टाकणे
- (4) तोडून टाकणे

9. 'समास' शब्दाचा समानार्थी नसलेला पर्याय ओळखा.

- (1) व्याप्त
- (2) समुदाय
- (3) एकीकरण
- (4) संयोग

10. भालचंद्र नेमाडे यांची कादंबरी खालीलपैकी कोणती आहे ?

- (1) रथ
- (2) कोसला
- (3) स्वामी
- (4) छावा

11. 'शेजार' गावात एक बलाढ्य सावकार मरण (पावणे) बातमी ऐकून वामनने ताडकन उडी मारली.' कंसातील शब्दांचे योग्य रूप बनवून योग्य वाक्य तयार करा.

- (1) शेजारचा गावात एक बलाढ्य सावकार मरण पावल्याची बातमी ऐकून वामनने ताडकन उडी मारली.
- (2) शेजारची गावात एक बलाढ्य सावकार मरण पावल्या बातमी ऐकून वामनने ताडकन उडी मारली.
- (3) शेजारच्या गावात एक बलाढ्य सावकार मरण पावल्याची बातमी ऐकून वामनने ताडकन उडी मारली.
- (4) शेजारच्या गावात एक बलाढ्य सावकार मरण पावणे बातमी ऐकून वामनने ताडकन उडी मारली.

पेपर क्र. - 36	22 - 1	23 - 4	24 - 3	25 - 2							
पेपर क्र. - 37	1 - 4	2 - 2	3 - 4	4 - 4	5 - 2	6 - 4	7 - 4	8 - 4	9 - 1	10 - 2	11 - 3

1. कंसातील शब्दांचे योग्य रूप वापरून अचूक वाक्य बनवा.
(शाळा) घरी आलो की बाबा नेहमी (अभ्यास) शहानिशा करतात.

- (1) शाळेतून घरी आलो की बाबा नेहमी अभ्यासाची शहानिशा करतात.
- (2) शाळा घरी आलो की बाबा नेहमी अभ्यास शहानिशा करतात.
- (3) शाळेतून घरी आलो की बाबा नेहमी अभ्यासाचा शहानिशा करतात.
- (4) शाळेला घरी आलो की बाबा नेहमी अभ्यासाची शहानिशा करतात.

2. योग्य जोड्या लावा.

'अ' गट	'ब' गट
a. आसक्ती	i. असह्य
b. ऱ्हस्व	ii. अनासक्ती
c. सह्य	iii. दीर्घ
d. कोमल	iv. गुरू
	v. कठोर

- (1) a-i, b-iii, c-iv, d-ii
- (2) a-ii, b-iv, c-i, d-v
- (3) a-iii, b-ii, c-i, d-v
- (4) a-ii, b-iii, c-i, d-v

3. समानार्थी शब्द ओळखा. 'जल'

- (1) पाणि
- (2) कर
- (3) घन
- (4) उदक

4. 'दवाखाना माझ्या घरापासून दूर आहे.' - अधोरेखित शब्दाचा विरुद्धार्थी शब्द ओळखा.

- (1) जवळ
- (2) सौम्य
- (3) लांब
- (4) परका

5. 'जनात एक मनात एक' म्हणीचा वाक्यात उपयोग करा.

- (1) सुशील हा जनात एक मनात एक असा अभ्यास करतो.
- (2) जनात एक मनात एक करून भावे काका तीर्थयात्रा करतात.
- (3) लोकांना जाऊन उपदेश करणे म्हणजे जनात एक मनात एक

(4) जनाबाई सर्वासमोर आपल्या सुनेचे तोंड भरून कौतुक करते, घरात मात्र पावलोपावली खार खाऊन असते. म्हणतात ना जनात एक मनात एक.

6. योग्य जोड्या लावा.

'अ' गट	'ब' गट
a. ठोकर लागणे	i. नजर लागणे
b. गाळण उडणे	ii. अदल घडणे
c. दृष्ट लागणे	iii. मरण येणे
d. जगाचा निरोप घेणे	iv. नमस्कार करणे
	v. घाबरगुंडी उडणे

- (1) a-iii, b-iv, c-i, d-ii
- (2) a-ii, b-v, c-i, d-iii
- (3) a-i, b-v, c-iii, d-ii
- (4) a-ii, b-v, c-i, d-iv

7. 'कुणालचे अस्थिपंजर रूप पाहून मेधा अवाक झाली.' - अधोरेखित शब्दाचा अर्थ सांगा.

- (1) निरक्षर मनुष्य
- (2) अत्यंत काटकुळी व्यक्ती
- (3) अर्धवट ज्ञान
- (4) निरुपयोगी व्यक्ती

8. सामासिक शब्दाचा विग्रह करा. 'भोजनभाऊ'

- (1) भोजन व भाऊ
- (2) भोजनापुरता भाऊ
- (3) भोजन आणि भाऊ
- (4) भोजनाचा भाऊ

9. शब्दसमूह वापरून योग्य वाक्य तयार करा.

खालील शब्दसमूह

- अ. कोरली गेली आहे आ. आम्हां भावंडांच्या मनात
इ. बाबांनी सांगितलेली ई. हृदय आठवण
- (1) बाबांनी सांगितलेली हृदय आठवण आम्हां भावंडांच्या मनात कोरली गेली आहे.
 - (2) बाबांनी सांगितलेली कोरली गेली आहे हृदय आठवण आम्हां भावंडांच्या मनात.
 - (3) कोरली गेली आहे आम्हां भावंडांच्या मनात बाबांनी सांगितलेली हृदय आठवण.
 - (4) हृदय आठवण बाबांनी सांगितलेली कोरली गेली आहे आम्हां भावंडांच्या मनात.

10. खालीलपैकी कोणता ग्रंथ ज्ञानेश्वरांचा नाही?

- (1) चांगदेवपासष्टी
- (2) ज्ञानेश्वरी
- (3) दासबोध
- (4) अमृतानुभव

1. 'निष्पर्ण वृक्षावर भर दुपारी' या कादंबरीचे लेखक कोण आहेत ?
(1) भाऊ पाध्ये (2) विश्राम बेडेकर
(3) श्री. म. माटे (4) ह. मो. मराठे
2. 'मुक्ताफळे' म्हणजे काय ?
(1) हास्यास्पद बोलणे (2) मोकळा
(3) कर्मफळ (4) एक प्रकारचे फळ
3. 'दीड हळकुंडात पिवळी' या म्हणीचा नेमका अर्थ काय आहे ?
(1) थोड्याशा यशाने हुरळून जाणे.
(2) दोन्हीकडून बोलणाऱ्यांची किंमत नसते.
(3) एखाद्या गोष्टीचा हव्यास बाळगणे.
(4) कोणतेही काम पूर्ण न करणे.
4. 'लष्कर' शब्दाचा समानार्थी शब्द शोधा.
(1) बंड (2) कोरडा
(3) फेर (4) सैन्य
5. वाक्यातील कर्ता-कर्म-क्रियापद यांच्या परस्परसंबंधाला व्याकरणाच्या भाषेत काय म्हणतात ?
(1) अलंकार (2) प्रयोग
(3) विशेषण (4) समास
6. 'फिर्याद' शब्दाचा नेमका अर्थ असलेला पर्याय निवडा.
(1) बदल (2) उतावळा होणे
(3) सतत फिरणारा (4) तक्रार
7. पुढीलपैकी व्याकरणदृष्ट्या अचूक वाक्यरचना असलेला पर्याय शोधा.
(1) सर्करची नोकरी म्हंजे सुळावरची पोळी म्हटले जाते.
(2) ती बोलण्यात सैल असला तरी वागण्यात कठोर आहे.
(3) सूर्याच्या गतीवरून काळ गणना केली जाते.
(4) बहुरूपियाचे सोंग ओळखणे कठीण जाते.
8. 'शैशव' या शब्दाचा आशय असलेला पर्याय निवडा.
(1) पर्वत (2) प्रसाद (3) लहानपण (4) वेदना
9. 'संवेदना, चेतना नसलेला' हा आशय कोणत्या शब्दातून व्यक्त होतो ?
(1) मुर्दाड (2) मुरब्बी (3) मुलामा (4) मुद्दाम
10. भावे प्रयोगाची महत्त्वाची खूण कोणती ?
(1) कर्म प्रथमान्त असते.

- (2) कर्ता हा प्रथमान्त असतो
(3) कर्ता तृतीयांत किंवा चतुर्थ्यांत असतो.
(4) वाक्यात क्रियापद नसते.
11. 'सटरफटर' या शब्दाचा नेमका उपयोग कोणत्या वाक्यात झाला आहे ?
(1) सुरेशने सटरफटर महत्त्वाच्या गोष्टींकडे दुर्लक्ष केले आणि अपयशी ठरला.
(2) मुलांना कायम सटरफटर खाण्याची सवय असते.
(3) माणसाचे शरीर म्हणजे शेवटी सटरफटर गोष्ट.
(4) सटरफटर अभ्यास करूनच परीक्षेत कायम चांगले गुण मिळतात.
12. 'बाका' शब्दाचा समानार्थी शब्द शोधा.
(1) खिडकी (2) पटाईत (3) ताट (4) पाट
13. 'बिन चेहऱ्याची संध्याकाळ' या प्रसिद्ध कथेचे लेखक कोण आहेत ?
(1) अरविंद गोखले (2) गंगाधर गाडगीळ
(3) वसंत कानेटकर (4) पु. भा. भावे
14. जेव्हा कर्मधारय समासातील पहिले पद संख्या विशेषण असते व त्यावरून एका समुच्चयाचा अर्थ सूचित केला जातो, तेव्हा कोणता समास होतो ?
(1) द्वंद्व (2) बहुव्रीही (3) द्विगू (4) अव्ययीभाव
15. पुढीलपैकी कर्ता, कर्म आणि क्रियापद या क्रमाने असलेली वाक्यरचना शोधा.
(1) मोहन शाळेत जातो
(2) अमित पडला
(3) कुशलने बनवला आकाश कंदील
(4) झोका घेते अस्मिता
16. 'संचित' या शब्दाचा योग्य उपयोग असलेले वाक्य शोधा.
(1) होऊ घातलेल्या स्पर्धासाठी क्रीडांगण संचित झाले होते.
(2) मुलगा बोर्डात आल्याचे कळल्यावर त्याचे वडील संचित झाले.
(3) आगाशे गुरुजींनी आपल्या मुलीच्या लग्नात जन्मभराची जमापूजी खर्च केली.
(4) येत्या महिन्यात परीक्षा आहे असे कळल्यावर प्रदिप संचित झाला.

पेपर क्र. - 39	1 - 4	2 - 1	3 - 1	4 - 4	5 - 2	6 - 4	7 - 3	8 - 3	9 - 1	10 - 3	11 - 2
	12 - 2	13 - 2	14 - 3	15 - 1	16 - 3						

17. 'बोथट' शब्दाचा विरुद्धार्थी शब्द कोणता आहे ?

- (1) बोळा (2) धार नसलेला
(3) बेडर (4) तीक्ष्ण

18. 'ओहोटी' शब्दाचा विरुद्धार्थी शब्द शोधा.

- (1) ऱ्हास (2) उतार
(3) घसरण (4) भरती

19. 'अपकर्ष' शब्दाचा विरुद्धार्थी शब्द शोधा.

- (1) निष्कर्ष (2) उत्कर्ष (3) समर्थ (4) विमर्श

20. मोबदला न देता कामास जुंपणे ही भावना कोणत्या वाक्प्रचारातून व्यक्त होते ?

- (1) लक्ष वेधून घेणे (2) शिकस्त करणे
(3) वेठीस धरणे (4) शरपंजरी पडणे

21. 'हादरणे' या आशयाचा वाक्यात योग्य उपयोग असलेला पर्याय निवडा.

- (1) रस्त्यावर झालेला अपघात पाहून रीमाला मानसिक धक्का बसला.
(2) कैलास पर्वत पाहिल्यावर सोहनला अपरिमित आनंद झाला
(3) मला त्याचा विचार संयुक्तिक वाटला.
(4) ज्ञानेश्वरी हा गीतेवरील भाष्य असलेला ग्रंथ आहे, ही गोष्ट सर्वश्रुत आहे.

22. पुढीलपैकी कोणती जयवंत दळवी यांची कादंबरी आहे ?

- (1) सारे प्रवासी घडीचे (2) दुर्दम्य
(3) गोतावळा (4) चक्र

23. आजन्म, यथाशक्ती, प्रतिक्षण हे शब्द कोणत्या समासाचे उदाहरण आहेत ?

- (1) द्वंद्व (2) तत्पुरुष (3) अव्ययीभाव (4) बहुव्रीही

24. अयोग्य माणसाची संगत धरल्यानं प्रसंगी प्राणही गमावण्याची पाळी येते या आशयाची म्हण कोणती ?

- (1) घरात शूर बाहेर नेभळट (2) असंगाशी संग, प्राणाशी गाठ
(3) अल्प बुद्धी, बहु गर्वी (4) आठ पुरभय्ये नि नऊ चौबे

25. पुढीलपैकी प्रमाणलेखनाच्या दृष्टीने योग्य पर्याय निवडा.

- (1) पाणी गरम करण्यासाठी सौर फलकाचा वापर केला जातो.
(2) शेवाळे म्हणजे पाण्यावर उगवणारा वनस्पती.
(3) पौलिसांचा लाठीहल्ला सूर झाल्यावर कार्यकर्ते सैरावैरा पळाला.
(4) त्या वैभवशालि वाड्याचा जीर्ण अवस्था पाहून वाईट वाटले.

40

Date - 14/09/2023

वेळ : 9 : 00 AM - 11 : 00 AM

1. 'अनिष्ट' या शब्दाचा विरुद्धार्थी शब्द कोणता ?

- (1) गर्विष्ठ (2) चिंता
(3) असुर (4) इष्ट

2. 'परिस्थितिरूप वागणूक बदलली पाहिजे. हा अर्थ स्पष्ट करणारी म्हण कोणती ?

- (1) न भूतो न भविष्यति (2) झाकली मूठ सव्वा लाखाची
(3) बळी तो कान पिळी (4) देश तसा वेष

3. पुढीलपैकी लेखिका आशा बगे लिखित पुस्तक कोणते ?

- (1) माणसं (2) भूमी
(3) मौनराग (4) धग

4. पुढे दिलेल्या म्हणीचा अर्थ ओळखा. अंथरून पाहून पाय पसरणे.

- (1) धनसंचय करणे. (2) आपली ऐपत पाहून वागावे.
(3) फसगत करणे. (4) कोणतेही काम न करणे.

5. पुढील शब्दसमूहातील तत्सम शब्द ओळखा.

- (1) चक्र (2) कन्या
(3) बटाटा (4) अडकित्ता

6. 'नरसिंह' या शब्दाचा समास ओळखा.

- (1) कर्मधारय समास (2) अव्ययीभाव समास
(3) द्विगु समास (4) मध्यमपदलोपी समास

7. खालीलपैकी 'सुपारी दिली' या वाक्प्रचाराचा वाक्यात उपयोग निवडा.

- (1) राधाने घरच्या सुपाऱ्या दिल्या.
(2) राजेशने परीक्षेत पास झाल्याबद्दल सुपारी फोडली.
(3) घर घेण्याचे निश्चित ठरताच मी रामभाऊना सुपारी दिली.
(4) विद्याने झाडाच्या सुपाऱ्या तोडून दिल्या.

8. 'पुढील पैकी निखिल' या शब्दाचा अचूक अर्थ ओळखा.

- (1) शत्रू (2) विभक्त
(3) विद्या (4) सर्व

9. 'एक होता कार्हर' या पुस्तकाच्या लेखिका कोण आहेत ?

- (1) तारा भवाळकर (2) गौरी देशपांडे
(3) वंदना महाजन (4) वीणा गव्हाणकर

10. 'जंगलातील दिवस' या पुस्तकाचे लेखक कोण आहेत ?

- (1) व्यंकटेश माडगूळकर (2) आनंद यादव
(3) प्रकाश खरात (4) गंगाधर गाडगीळ

पेपर क्र. - 39	17 - 4	18 - 4	19 - 2	20 - 3	21 - 1	22 - 4	23 - 3	24 - 2	25 - 1		
पेपर क्र. - 40	1 - 4	2 - 4	3 - 2	4 - 2	5 - 2	6 - 1	7 - 3	8 - 4	9 - 4	10 - 1	

11. 'तोंडपाठ' या सामासिक शब्दाचा प्रकार ओळखा.

- (1) तत्पुरुष समास (2) द्वंद्व समास
(3) बहुव्रीही समास (4) अव्ययीभाव समास

12. खालील शब्दसमूहाकरिता एक शब्द निवडा.

'दुपारच्या जेवणानंतरची अल्प झोप'

- (1) वामकुक्षी (2) पाणवठा
(3) पाणपोई (4) पाक्षिक

13. 'मैत्री करणे' या अर्थाचा वाक्प्रचार ओळखा.

- (1) हाय खाणे (2) ताव मारणे
(3) सलगी करणे (4) सोने होणे

14. 'कर्णमधुर' या शब्दाचा विरुद्धार्थी शब्द ओळखा.

- (1) कर्णधार (2) कृतघ्न
(3) किरकोळ (4) कर्णकटू

15. 'सूर्य रोज पूर्वेला उगवतो.' या वाक्यातील उद्देश ओळखा.

- (1) रोज (2) उगवतो
(3) सूर्य (4) पूर्वेला

16. खालीलपैकी योग्य विरामचिन्हाचे वाक्य ओळखा.

- (1) मी वाट पाहिली पण ! तो आला नाही...
(2) मी वाट पाहिली! पण तो आला नाही.
(3) मी वाट पाहिली; पण तो आला नाही.
(4) मी वाट पाहिली. पण, तो आला नाही?

17. 'कान किटले' या वाक्प्रचाराचा वाक्यात उपयोग कोणता ?

- (1) रोजच्या प्रवासामुळे गीताचे कान टोचले.
(2) तीव्र उष्णतेने काकूचे कान किटले.
(3) आशाला चेंडू लागल्याने तिचे कान किटले.
(4) हिंदी सिनेमातील तीच तीच गाणी ऐकून माझे कान किटले.

18. 'पिंकी शाळेत जाते.' या वाक्यातील प्रयोग ओळखा.

- (1) भावे प्रयोग (2) शक्य कर्मणी प्रयोग
(3) सकर्मक भावे प्रयोग (4) अकर्मक कर्तरी प्रयोग

19. 'अगडबंब' या शब्दाचा योग्य पर्याय निवडा.

- (1) अनन्य (2) निमिष
(3) लोभस (4) धिप्पाड

20. 'इकडे आड तिकडे विहीर' या वाक्प्रचाराचा अचूक वाक्यात उपयोग कोणता ?

- (1) आई आणि बायकोचे गाऱ्हाणे ऐकण्यासंदर्भात आनंदची इकडे आड तिकडे विहीर होते.
(2) पाणी नसल्यामुळे शांतीची इकडे आड तिकडे विहीर होते.

(3) वीणा माडीवरून पडल्याने तिची इकडे आड तिकडे विहीर झाली.

(4) राधिकाला बाजारात जाताना इकडे आड तिकडे विहीर होते.

21. पुढीलपैकी द्विकर्मक क्रियापदाचे वाक्य कोणते ?

- (1) राम राजा झाला.
(2) आज दसरा आहे.
(3) गवळी धार काढतो.
(4) गुरुजी विद्यार्थ्यांना व्याकरण शिकवतात.

22. खालीलपैकी 'तुटपुंजे' या शब्दाचा विरुद्धार्थी पर्याय कोणता ?

- (1) सावकाश (2) मंदी (3) अमाप (4) गृहीत

23. खालीलपैकी सकर्मक भावे प्रयोगाचे उदाहरण कोणते ?

- (1) मंगला आंबा खाते. (2) कमलाने विमलास मारले.
(3) मला हा डोंगर चढवतो. (4) तू जलद चालतोस.

24. पुढीलपैकी समानार्थी शब्दाची जोडी ओळखा.

- (1) आनंद - मोद (2) भुजंग - जल
(3) पियूष - फळ (4) वंदन - हात

25. 'पृथ्वी' या शब्दाचा समानार्थी शब्द ओळखा.

- (1) शैल (2) वसुंधरा
(3) गिरी (4) सरिता

41

Date - 22/08/2023

वेळ : 12 : 30 PM - 02 : 30 PM

1. पुढीलपैकी कोणती व्यंकटेश माडगूळकरांची कादंबरी आहे ?

- (1) बनगरवाडी (2) झोंबी (3) चक्र (4) पाचोळा

2. 'सोस' या शब्दाचा नेमका उपयोग कोणत्या वाक्यात झाला आहे ?

- (1) नजीबखानाने केलेली सोस पेशव्यांना महागात पडली.
(2) आमच्या सूनबाईंना काम न करण्याचा खूप सोस आहे.
(3) माझ्या सासऱ्यांना बागेत फिरण्याचा सोस आहे.
(4) सरकारची नोकरी म्हणजे एक प्रकारचा सोसच.

3. पुढीलपैकी व्याकरणदृष्ट्या योग्य वाक्यरचना असलेला पर्याय शोधा.

- (1) नाशिक जिल्ह्याला समृद्ध परंपरा लाभलेली आहे.
(2) जन्मापासून मृत्यु पर्यंत संस्कार जपणारी संबंधित आहेत.
(3) बऱ्याचसा पाण्याचा महाराष्ट्र नाशिकवर अलंबून आहे.
(4) कश्यापि आणी नद्यांची उगमस्थाने नाशिक जिल्ह्यात आहे.

पेपर क्र. - 40	11 - 1	12 - 1	13 - 3	14 - 4	15 - 3	16 - 3	17 - 4	18 - 4	19 - 4	20 - 1	21 - 4
	22 - 3	23 - 2	24 - 1	25 - 2	पेपर क्र. - 41			1 - 1	2 - 3	3 - 1	

25. 'पुरातन' शब्दाचा विरुद्धार्थी शब्द शोधा.

- (1) नूतन (2) प्राचीन (3) ऐतिहासिक (4) जुना

42

Date - 22/08/2023

वेळ : 04 : 30 PM - 06 : 30 PM

1. 'हाडवैर' या शब्दाचा विरुद्धार्थी शब्द असलेला अचूक पर्याय निवडा.

- (1) निर्दोष (2) वैमनस्य (3) सलोखा (4) समजूतदारपणा

2. 'मूग गिळणे' या वाक्प्रचाराचा योग्य अर्थ कोणता आहे?

- (1) काहीही खाऊन पोट भरणे.
(2) मुगाचा स्वीकार करणे.
(3) मूग खाणे.
(4) काहीही उत्तर न देता मुकाट्याने स्वस्थ बसणे.

3. खाली दिलेल्या वाक्याचा प्रयोग ओळखा.
संदीप निबंध लिहितो.

- (1) भावे प्रयोग (2) भावकर्तरी प्रयोग
(3) कर्मणी प्रयोग (4) कर्तरी प्रयोग

4. 'कन्या' या शब्दाचा समानार्थी शब्द ओळखा.

- (1) स्त्री (2) भार्या (3) अर्धांगिनी (4) तनुजा

5. 'व्यक्ती आणि वल्ली' या पुस्तकाचे लेखक कोण आहेत?

- (1) आचार्य अत्रे (2) पु. ल. देशपांडे
(3) व. पु. काळे (4) चिं. वि. जोशी

6. 'कठीण समय येता कोण कामास येतो?' या वाक्याचा प्रकार ओळखा.

- (1) उद्गारार्थी (2) नकारार्थी
(3) विधानार्थी (4) प्रश्नार्थी

7. ज्या समासातील दोन्ही पदे अर्थदृष्ट्या प्रधान म्हणजे समान दर्जाची असतात, त्या समासास असे म्हणतात.

- (1) तत्पुरुष समास (2) अव्ययीभाव समास
(3) बहुव्रीही समास (4) द्वंद्व समास

8. 'नाकीनऊ येणे' या वाक्प्रचाराच्या योग्य उपयोगासाठी खालील पर्यायांतून अचूक वाक्य निवडा.

- (1) आवडता पदार्थ मिळाल्यावर नाकीनऊ येतात.
(2) उशिरा घरी गेल्यावर नाकीनऊ येतात.
(3) कर्जबाजारी झाल्याने संपतरावाच्या नाकीनऊ आले.

(4) दोन मित्र खूप दिवसांनी भेटल्यावर नाकीनऊ येतात.

9. खालील दिलेल्या वाक्यांतील मिश्र वाक्य कोणते ते ओळखा.

- (1) तानाजी शत्रूशी लढता लढता रणांगणातच मेला.
(2) आकाशात जेव्हा ढग जमतात, तेव्हा मोर नाचू लागतो.
(3) मुलांनी वडिलांची आज्ञा पाळवी.
(4) अबब! केवढी प्रचंड गर्दी ही!

10. 'उथळ' या शब्दाच्या विरुद्धार्थी शब्द ओळखा.

- (1) खाली (2) अवखळ (3) खोल (4) वर

11. 'आधी जन्मलेला' या शब्दसमूहाचा योग्य अर्थ पर्यायांमधून निवडा.

- (1) अनुज (2) अग्रज (3) आजन्म (4) अजात

12. 'घरादारस व देशास पारखा झालेला' या शब्दसमूहासाठी योग्य समूहदर्शक शब्द ओळखा.

- (1) दक्वेशी (2) हुतात्मा (3) निर्वासित (4) निराधार

13. पर्यायी उत्तरातून पुढील शब्दाचा विरुद्धार्थी शब्द सांगा.
'विधायक'

- (1) विसंगत (2) विजातीय (3) विध्वंसक (4) विदेशी

14. खाली दिलेल्या वाक्याच्या अर्थाशी साधर्म्य दाखवणारा वाक्प्रचार कोणता आहे?

वाईट स्थिती प्राप्त होणे किंवा नुकसान होणे.

- (1) वावड्या उठवणे (2) डबघाईला येणे
(3) संधी साधणे (4) भ्रमनिरास होणे

15. खालील शब्दाचा समानार्थी शब्द ओळखा.

'भार्या'

- (1) पत्नी (2) नवरा (3) भारा (4) कांत

16. व्याकरणनियमांनुसार अचूक वाक्यरचना असलेला पर्याय निवडा.

- (1) आजी-आजोबांकडे गावी पोहचली उन्हाळ्याची सुट्टी सुरू होताच अरुण व आदिती.
(2) उन्हाळ्याची सुट्टी सुरू होताच अरुण व आदिती आजी-आजोबांकडे गावी पोहचले.
(3) उन्हाळ्याची सुट्टी सुरू होताच आजी-आजोबांकडे गावी पोहचली अरुण व आदिती.
(4) अरुण व आदिती गावी पोहचले सुरू होताच उन्हाळ्याची सुट्टी आजी-आजोबांकडे.

पेपर क्र. - 41	25 - 1		पेपर क्र. - 42	1 - 3	2 - 4	3 - 4	4 - 4	5 - 2	6 - 4	
	7 - 4	8 - 3	9 - 2	10 - 3	11 - 2	12 - 3	13 - 3	14 - 2	15 - 1	16 - 2

17. 'रमलखुणा' या कथासंग्रहाचे लेखक कोण आहेत?

- (1) अरविंद गोखले (2) व. पु. काळे
(3) गंगाधर गाडगीळ (4) जी. ए. कुलकर्णी

18. 'कोल्हा काकडीला राजी' या म्हणीचे समर्पक स्पष्टीकरण कोणते आहे ?

- (1) गर्विष्ठ माणसाला शेवटी अपमानित होण्याची पाळी येते.
(2) जे मिळाले तेवढ्यात समाधानी असणे
(3) वाईट गोष्ट ही शेवटपर्यंत वाईटच असते.
(4) शूद्र माणसे शूद्र वस्तूंना भाळतात.

19. 'सहलीला जाताना कात्रज-जवळ उजाडले.' या वाक्यातील प्रयोग ओळखा.

- (1) भावे प्रयोग (2) कर्मणी प्रयोग
(3) कर्तरी प्रयोग (4) भावकर्तरी प्रयोग

20. 'मंडूक' या शब्दाचा समानार्थी शब्द शोधा.

- (1) सिंह (2) माकड (3) बेडूक (4) साप

21. खाली दिलेल्या सामासिक शब्दाचा समास ओळखा. - प्रतिदिन

- (1) तत्पुरुष समास (2) बहुव्रीही समास
(3) अव्ययीभाव समास (4) द्वंद्व समास

22. 'कौमुदी' या शब्दाचा समानार्थी शब्द ओळखा.

- (1) चांदणे (2) कमळ (3) कुमारिका (4) होडी

23. गणेशरावांना हॉटेलच्या व्यवसायात नुकसान सोसावे लागले. अधोरेखित शब्दसमूहासाठी खालीलपैकी योग्य वाक्यरचना निवडा.

- (1) अंगावर शेकणे (2) अन्नावर वाढणे
(3) अन्न अन्न करणे (4) अदल घडणे

24. महादेव पाटलाच्या घराची भिंत पडून मोठे नुकसान झाले; पण त्याचवेळी त्यांच्या मुलाला नोकरीचा हुकूम आला. या प्रसंगाला अनुसरून खालीलपैकी योग्य म्हण कोणती आहे ?

- (1) आकाश ठेंगणे वाटणे
(2) डोंगर पोखरून उंदीर काढणे
(3) आनंद गगनात न मावणे
(4) आज मेला नातू झाला

25. 'पाचोळा' ही कादंबरी कुणी लिहिली ?

- (1) रा. र. बोराडे (2) रंगनाथ पठारे
(3) सदानंद देशमुख (4) आनंद यादव

43

Date - 26/08/2023

वेळ : 09 : 00 AM - 11 : 00 AM

1. पुढील वाक्य पूर्ण करण्यासाठी योग्य पर्यायाची निवड करा.
“वामनरावांची आता अन्नान्न दशा झालीये पण एकेकाळी या

- (1) घरावर तुळशीपत्र ठेवले होते.
(2) घराला अग्निदिव्य करावे लागले होते.
(3) घराने अटकेपार झेंडा लावला होता.
(4) घरात अन्नाचे दिवे लावले होते.

2. नावडतीचे मीठ आळणी या म्हणीचा अर्थ कोणता आहे ?

- (1) आपल्या विरोधात असणाऱ्या माणसाने कोणतीही गोष्ट कितीही चांगली केली तरी आपल्याला ती वाईटच दिसते
(2) कोणत्याच कामाचे नसणे
(3) निंदा करणारा माणूस उपयोगी ठरतो
(4) सर्वच माणसे सारख्याच स्वभावाची नसतात

3. ध्येयासाठी प्राणाची आहुती देणारा या शब्दसमूहासाठी खालीलपैकी कोणता शब्द योग्य आहे ?

- (1) हुतात्मा (2) बळी (3) सत्याग्रही (4) क्रांतिवीर

4. खालीलपैकी कोणती संयुक्त वाक्य असलेली वाक्यरचना आहे ?

- (1) मी रोज सकाळी योगासने करून अर्धा तास मोकळ्या हवेत फिरायला जाते.
(2) मी रोज सकाळी योगासने केल्यावर अर्धा तास मोकळ्या हवेत फिरायला जाते.
(3) मी रोज सकाळी योगासने करते व अर्धा तास मोकळ्या हवेत फिरायला जाते.
(4) मी रोज सकाळी योगासने करून झाल्यावर अर्धा तास मोकळ्या हवेत फिरायला जाते.

5. 'लग्नात हुंडाला स्थान नसावे. या वाक्यातील वाक्यरचनेच्या दृष्टीने अयोग्य शब्द ओळखा.

- (1) नसावे (2) स्थान (3) लग्नात (4) हुंडाला

6. 'महानायक' या प्रसिद्ध कादंबरीचे लेखक कोण आहेत ?

- (1) विश्वास पाटील (2) प्र. के. अत्रे
(3) गंगाधर गाडगीळ (4) वि. स. खांडेकर

पेपर क्र. - 42	17 - 4	18 - 4	19 - 4	20 - 3	21 - 3	22 - 1	23 - 1	24 - 4	25 - 1		
पेपर क्र. - 43	1 - 4	2 - 1	3 - 1	4 - 3	5 - 4	6 - 1					

1. खालीलपैकी कोणता एकवचनी शब्द आहे?
(1) भिंती (2) वाती (3) तुळस (4) हाका
2. "सज्ञान" या शब्दाचा समानार्थी शब्द ओळखा.
(1) साक्षर (2) ज्ञान (3) सुज्ञ (4) अज्ञान
3. पुढील शब्दाचा समास ओळखा.
प्रतिक्षण
(1) तत्पुरुष समास (2) द्विगू समास
(3) अव्ययीभाव समास (4) कर्मधारय समास
4. "संध्याकाळ होताच झाड पाखरांच्या किलबिलाटाने भरून गेलं" या वाक्याचा प्रकार ओळखा.
(1) मिश्र वाक्य (2) संयुक्त वाक्य
(3) केवल वाक्य (4) आज्ञार्थी वाक्य
5. "पोक्त" या विरुद्धार्थी शब्द सांगा.
(1) अल्लड (2) सुजन (3) भोळा (4) असभ्य
6. खालीलपैकी कोणते कर्तरी प्रयोगाचे वाक्य आहे?
(1) तिने गाणे म्हटले. (2) तिला आता चालवते.
(3) मुलींनी हरीण पाळले. (4) गायत्री मुलांना शिकवते.
7. 'जीवाचे रान करणे' याचा समानार्थी वाक्यप्रचार सांगा.
(1) हाडे झिजवणे (2) हाड मोडून पडणे
(3) हाडाची काडे करणे (4) हाडाचे पाणी करणे
8. 'वावटळ' या कादंबरीचे लेखक कोण आहेत?
(1) आनंद यादव (2) विजय तेंडुलकर
(3) दया पवार (4) व्यंकटेश माडगूळकर
9. अभूतपूर्व या शब्दासाठी अचूक पर्याय शोधा.
(1) पूर्वी कधीही न ऐकलेला
(2) ज्याचा कधीही वीट येत नाही असे
(3) पूर्वी कधीही न घडलेला
(4) कधीही विसरता न येणारे
10. "कल्लोळ" या शब्दाचा विरुद्धार्थी शब्द सांगा.
(1) शांती (2) गलका
(3) अशांती (4) विसंवाद

11. "वळीव" या प्रसिद्ध कथासंग्रहाचे लेखक कोण आहेत?
(1) वि. स. खांडेकर (2) शंकर पाटील
(3) अरुण साधू (4) भास्कर चंदनशिवे
12. "मुलांनी आपला अभ्यास करायला नको का?" या वाक्याचे विधानार्थी वाक्यातील रूपांतर ओळखा.
(1) मुलांनी आपला अभ्यास जरूर करायला हवा.
(2) मुलांनी आपला अभ्यास करावा.
(3) मुले आपला अभ्यास करत नाहीत का?
(4) मुले आपला अभ्यास करत नाहीत.
13. वाक्यप्रचार व त्यांचे अर्थ यांच्या योग्य जोड्या लावा.
(अ) खितपत पडणे (1) क्षीण होत जाणे
(ब) खो घालणे (2) दोष देणे
(क) खडे फोडणे (3) शरण येण्यास भाग पडणे
(ड) खडे चारणे (4) विघ्न निर्माण करणे
(1) अ-1 ब - 4 क-2 ड-3
(2) अ-4 ब-3 क-1 इ-2
(3) अ-3 ब - 4 क-1 इ-2
(4) अ-2 ब -3 क-1 ड-4
14. 'साखरेचे खाणार त्याला देव देणार' या म्हणीचा अर्थ निवडा.
(1) देवाने दिले तर गोड खावे.
(2) जो चांगली इच्छा करतो त्याला चांगला लाभ होतो.
(3) गोड खाल्ले की देव भरपूर देतो.
(4) जशी इच्छा तसे फळ मिळत नाही.
15. हरभऱ्याच्या झाडावर चढणे म्हणजे काय?
(1) धीर सोडणे (2) गर्व होणे
(3) स्तुतीला भुलणे (4) इच्छा करणे
16. "सुहासने गोष्टीचे पुस्तक वाचले." यातील प्रयोग ओळखा.
(1) सकर्मक कर्तरी (2) अकर्मक कर्तरी
(3) कर्मणी (4) कर्तरी

पेपर क्र. - 44	1 - 3	2 - 3	3 - 3	4 - 3	5 - 1	6 - 4	7 - 3	8 - 4	9 - 3	10 - 1	11 - 2
	12 - 1	13 - 1	14 - 2	15 - 3	16 - 3						

17. 'गदीत म्हातारा किती वेळ थांबेल' याचे अर्थ न बदलता नकारार्थी वाक्य करा.

- (1) गदीत म्हातारा किती वेळ थांबू शकणार आहे?
- (2) गदीत म्हातारा जास्त वेळ थांबू शकणार नाही.
- (3) गदीत जास्त वेळ थांबणे म्हाताऱ्यास अशक्य आहे.
- (4) गदीत म्हातारा जास्त वेळ थांबणार नाही.

18. 'पावनखिंड' या कादंबरीचे लेखक कोण आहेत?

- (1) आनंद यादव
- (2) रणजित देसाई
- (3) विश्वास पाटील
- (4) शिवाजी सावंत

19. ज्याने पुष्कळ ऐकले व वाचले आहे असा या शब्दसमूहाबद्दल एक शब्द लिहा.

- (1) ज्ञानी
- (2) बहुश्रुत
- (3) पंडित
- (4) विद्वान

20. 'आखाड्याच्या मैदानात पहिलवानाची किंमत' या म्हणीचा योग्य अर्थ असलेला पर्याय कोणता आहे?

- (1) संपत्ती असलेल्या व्यक्तीकडे सर्वजण येतात.
- (2) माणसाच्या बाह्य स्वरूपावरून त्याचा कार्याचा अंदाज करता येत नाही.
- (3) एकमेकांना मदत न करणाऱ्या व्यक्ती जवळ येणे.
- (4) माणसाला योग्य ठिकाणीच किंमत मिळते.

21. खालीलपैकी कोणता संदिग्ध या शब्दाचा अर्थ नाही?

- (1) निःसंदेह
- (2) अस्पष्ट
- (3) अनिश्चित
- (4) साशंकता

22. 'खळ' या शब्दाचा समानार्थी शब्द निवडा.

- (1) सज्जन
- (2) इंद्रधनुष्य
- (3) दंड
- (4) दुर्जन

23. "चातुर्मास" या शब्दाचा समास ओळखा.

- (1) कर्मधारय समास
- (2) द्विगू समास
- (3) बहुव्रीही समास
- (4) द्वंद्व समास

24. "विधायक" चा विरुद्धार्थी शब्द सांगा.

- (1) वैधानिक
- (2) संकट
- (3) विनायक
- (4) विघातक

25. योग्य पर्याय निवडून खालील म्हण पूर्ण करा.

आजा मेला नि झाला.

- (1) मुलगा
- (2) पणतू
- (3) मुलगी
- (4) नातू

45

Date - 26/08/2023

वेळ : 04 : 30 PM - 06 : 30 PM

1. 'संगनमत' या शब्दाचा योग्य उपयोग असलेले वाक्य शोधा.

- (1) उसवायचाय तुझा पाषाण' हे कवितांचे संकलन आहे.
- (2) पेशवाई जाऊन इंग्रजी राजवट सुरू झाली, हे एक संक्रमण होते.
- (3) राणा प्रतापांनी केलेला संग्राम हा राष्ट्रभक्तीतून होता.
- (4) दोघा भावांनी संयुक्त कृती केली.

2. 'कृतघ्न' शब्दाचा विरुद्धार्थी शब्द कोणता आहे?

- (1) दयाळू
- (2) समर्थ
- (3) कृपाळू
- (4) कृतज्ञ

3. पुढीलपैकी व्याकरणदृष्ट्या योग्य वाक्यरचना असलेला पर्याय शोधा.

- (1) लहान मुलांना अवघड संकल्पना मातृभाषेतून लवकर समजतात.
- (2) मी मराठी गावात असताना शाळेत शिकलो.
- (3) प्रस्तावनेची गटप्रमुखाने सुरुवात करावी.
- (4) समस्येचं पर्यावरण दिवसेंदिवस गंभीर होत चाललंय.

4. 'अमर्याद' या शब्दाचा नेमका उपयोग कोणत्या वाक्यात झाला आहे?

- (1) परवा लागलेल्या आगीत कोठार भस्मसात झाले.
- (2) अनेक पर्याय पाहून विद्यार्थी गोंधळून जातात.
- (3) ध्रुव बाळाचा निश्चय ढळला नाही.
- (4) काकांनी अजयच्या लग्नात भरमसात खर्च केला.

5. 'भंगू दे काठिन्य माझे' ही सुप्रसिद्ध कविता कोणाची आहे?

- (1) बा. भ. बोरकर
- (2) शंकर वैद्य
- (3) बा. सी. मर्ढेकर
- (4) विं. दा. करंदीकर

6. 'अंगापेक्षा बोंगा जड' या म्हणीचा नेमका अर्थ काय आहे?

- (1) एखाद्या गोष्टीपासून अलिप्त राहणे
- (2) आहे त्या परिस्थितीपेक्षा जास्त मोठेपणा मिरवणे
- (3) जशी क्रिया तशीच प्रतिक्रिया
- (4) गरजवंताला अक्कल नसणे

पेपर क्र. - 44	17 - 2	18 - 2	19 - 2	20 - 4	21 - 1	22 - 4	23 - 2	24 - 4	25 - 4		
पेपर क्र. - 45	1 - 4	2 - 4	3 - 1	4 - 4	5 - 3	6 - 2					

1. 'हादरणे' या आशयाचा वाक्यात योग्य उपयोग असलेला पर्याय निवडा.

- (1) रस्त्यावर झालेला अपघात पाहून रीमाला मानसिक धक्का बसला.
- (2) कैलास पर्वत पाहिल्यावर सोहनला अपरिमित आनंद झाला
- (3) मला त्याचा विचार संयुक्तिक वाटला.
- (4) ज्ञानेश्वरी हा गीतेवरील भाष्य असलेला ग्रंथ आहे, ही गोष्ट सर्वश्रुत आहे.

2. पुढीलपैकी कोणती जयवंत दळवी यांची कादंबरी आहे?

- (1) सारे प्रवासी घडीचे (2) दुर्दम्य
- (3) गोतावळा (4) चक्र

3. आजन्म, यथाशक्ती, प्रतिक्षण हे शब्द कोणत्या समासाचे उदाहरण आहेत?

- (1) द्वंद्व (2) तत्पुरुष
- (3) अव्ययीभाव (4) बहुव्रीही

4. अयोग्य माणसाची संगत धरल्यानं प्रसंगी प्राणही गमावण्याची पाळी येते या आशयाची म्हण कोणती?

- (1) घरात शूर बाहेर नेभळट
- (2) असंगाशी संग, प्राणाशी गाठ
- (3) अल्प बुद्धी, बहु
- (4) आठ पुरभय्ये नि नऊ चौबे

5. पुढीलपैकी प्रमाणलेखनाच्या दृष्टीने योग्य पर्याय निवडा.

- (1) पाणी गरम करण्यासाठी सौर फलकाचा वापर केला जातो.
- (2) शेवाळे म्हणजे पाण्यावर उगवणारा वनस्पती.
- (3) पोलिसांचा लाठीहल्ला सूर झाल्यावर कार्यकर्ते सैरावैरा पळाला.
- (4) त्या वैभवशालि वाड्याचा जीर्ण अवस्था पाहून वाईट वाटले.

6. 'फिर्याद' शब्दाचा नेमका अर्थ असलेला पर्याय निवडा.

- (1) बदल (2) उतावळा होणे
- (3) उतावळा होणे (4) तक्रार

7. पुढीलपैकी व्याकरणदृष्ट्या अचूक वाक्यरचना असलेला पर्याय शोधा.

- (1) सर्करची नोकरी म्हंजे सुळावरची पोळी म्हटले जाते.
- (2) ती बोलण्यात सैल असला तरी वागण्यात कठोर आहे.
- (3) सूर्याच्या गतीवरून काळ गणना केली जाते.
- (4) बहुरुपियाचे सोंग ओळखणे कठिण जाते.

8. 'शैशव' या शब्दाचा आशय असलेला पर्याय निवडा.

- (1) पर्वत (2) प्रसाद (3) लहानपण (4) वेदना

9. 'संवेदना, चेतना नसलेला' हा आशय कोणत्या शब्दातून व्यक्त होतो ?

- (1) मुर्दाड (2) मुरब्बी (3) मुलामा (4) मुद्दाम

10. भावे प्रयोगाची महत्त्वाची खूण कोणती ?

- (1) कर्म प्रथमान्त असते.
- (2) कर्ता हा प्रथमान्त असतो
- (3) कर्ता तृतीयांत किंवा चतुर्थ्यांत असतो.
- (4) वाक्यात क्रियापद नसते.

11. 'सटरफटर' या शब्दाचा नेमका उपयोग कोणत्या वाक्यात झाला आहे?

- (1) सुरेशने सटरफटर महत्त्वाच्या गोष्टींकडे दुर्लक्ष केले आणि अपयशी ठरला.
- (2) मुलांना कायम सटरफटर खाण्याची सवय असते.
- (3) माणसाचे शरीर म्हणजे शेवटी सटरफटर गोष्ट.
- (4) सटरफटर अभ्यास करूनच परीक्षेत कायम चांगले गुण मिळतात.

12. 'बाका' शब्दाचा समानार्थी शब्द शोधा.

- (1) खिडकी (2) पटाईत (3) ताट (4) पाट

13. 'बिन चेहऱ्याची संध्याकाळ' या प्रसिद्ध कथेचे लेखक कोण आहेत?

- (1) अरविंद गोखले (2) गंगाधर गाडगीळ
- (3) वसंत कानेटकर (4) पु. भा. भावे

14. जेव्हा कर्मधारय समासातील पहिले पद संख्या विशेषण असते व त्यावरून एका समुच्चयाचा अर्थ सूचित केला जातो, तेव्हा कोणता समास होतो ?

- (1) द्वंद्व (2) बहुव्रीही (3) द्विगू (4) अव्ययीभाव

पेपर क्र. - 46	1 - 1	2 - 4	3 - 3	4 - 2	5 - 1	6 - 4	7 - 3	8 - 3	9 - 1	10 - 3	11 - 2
	12 - 2	13 - 2	14 - 3								

15. पुढीलपैकी कर्ता, कर्म आणि क्रियापद या क्रमाने असलेली वाक्यरचना शोधा.

- (1) मोहन शाळेत जातो
- (2) अमित पडला
- (3) कुशलने बनवला आकाश कंदील
- (4) झोका घेते अस्मिता

16. 'संचित' या शब्दाचा योग्य उपयोग असलेले वाक्य शोधा.

- (1) होऊ घातलेल्या स्पर्धासाठी क्रीडांगण संचित झाले होते.
- (2) मुलगा बोर्डात आल्याचे कळल्यावर त्याचे वडील संचित झाले.
- (3) आगाशे गुरुजींनी आपल्या मुलीच्या लग्नात जन्मभराची जमापूजी खर्च केली.
- (4) येत्या महिन्यात परीक्षा आहे असे कळल्यावर प्रदीप संचित झाला.

17. 'बोथट' शब्दाचा विरुद्धार्थी शब्द कोणता आहे ?

- (1) बोळा
- (2) धार नसलेला
- (3) बेडर
- (4) तीक्ष्ण

18. 'ओहोटी' शब्दाचा विरुद्धार्थी शब्द शोधा.

- (1) ऱ्हास
- (2) उतार
- (3) घसरण
- (4) भरती

19. 'अपकर्ष' शब्दाचा विरुद्धार्थी शब्द शोधा.

- (1) निष्कर्ष
- (2) उत्कर्ष
- (3) समर्थ
- (4) विमर्श

20. मोबदला न देता कामास जुंपणे ही भावना कोणत्या वाक्यप्रचारातून व्यक्त होते ?

- (1) लक्ष वेधून घेणे
- (2) शिकस्त करणे
- (3) वेठीस धरणे
- (4) शरपंजरी पडणे

21. 'निष्पर्ण वृक्षावर भर दुपारी' या कादंबरीचे लेखक कोण आहेत ?

- (1) भाऊ पाध्ये
- (2) विश्राम बेडेकर
- (3) श्री. म. माटे
- (4) ह. मो. मराठे

22. 'मुक्ताफळे' म्हणजे काय ?

- (1) हास्यास्पद बोलणे
- (2) मोकळा
- (3) कर्मफळ
- (4) एक प्रकारचे फळ

23. 'दीड हळकुंडात पिवळी' या म्हणीचा नेमका अर्थ काय आहे ?

- (1) थोड्याशा यशाने हुरळून जाणे
- (2) दोन्हीकडून बोलणाऱ्यांची किंमत नसते

(3) एखाद्या गोष्टीचा हव्यास बाळगणे

(4) कोणतेही काम पूर्ण न करणे

24. 'लष्कर' शब्दाचा समानार्थी शब्द शोधा.

- (1) बंड
- (2) कोरडा
- (3) फेर
- (4) सैन्य

25. वाक्यातील कर्ता-कर्म-क्रियापद मांच्या परस्परसंबंधाला व्याकरणाच्या भाषेत काय म्हणतात ?

- (1) अलंकार
- (2) प्रयोग
- (3) विशेषण
- (4) समास

47

Date - 27/08/2023

वेळ : 12 : 30 AM - 02 : 30 AM

1. 'अंगावर काटा येणे' वाक्यप्रचाराचा वाक्यात उपयोग करा.

- (1) गुलाबाचे सुंदर फूल पाहताच विशाखाच्या अंगावर काटा येत होता.
- (2) भारताने विश्वकप जिंकताच धोनीच्या अंगावर काटा आला.
- (3) प्रेमळ पतीच्या सहवासात प्राचीच्या अंगावर काटा येतो.
- (4) समोर दहा फूट साप पाहताच रोहनच्या अंगावर काटा आला.

2. वाक्यप्रचाराचा अर्थ शोधा. 'दातखिळी बसणे'

- (1) दातात खिळा ठोकणे
- (2) बोलती बंद होणे
- (3) आनंद वाटणे
- (4) दाताची शस्त्रक्रिया करणे

3. 'जे का रंजले गांजले त्यासि म्हणे जो आपुलें तोचि साधु ओळखावा देव तेथेचि जाणावा.' - ही पंक्ती कोणी रचली आहे ?

- (1) संत जनाबाई
- (2) संत तुकाराम
- (3) संत नामदेव
- (4) संत एकनाथ

4. 'अष्टपैलू' म्हणजे होय.

- (1) सर्वगुणसंपन्न
- (2) कुशल प्रशासक
- (3) हुशार
- (4) गुणी

5. पुढील म्हण पूर्ण करा. 'गरज सरो,

- (1) साहेब मरो
- (2) वैद्य मरो
- (3) बैल मरो
- (4) प्रगती करो

6. खाली विरुद्ध अर्थाच्या शब्दजोड्या दिलेल्या आहेत. त्यांतील कोणती जोडी चुकीची आहे ?

- (1) सुख - दुःख
- (2) उन - सावली
- (3) न्याय - अन्याय
- (4) आत - खोल

पेपर क्र. - 46	15 - 1	16 - 3	17 - 4	18 - 4	19 - 2	20 - 3	21 - 4	22 - 1	23 - 1	24 - 4	25 - 2
पेपर क्र. - 47	1 - 4	2 - 2	3 - 2	4 - 1	5 - 2	6 - 4					

22. वाक्प्रचार व अर्थ यांच्या जोड्या लावा.

- | | |
|-----------------|-------------------|
| ‘अ’ गट | ‘ब’ गट |
| (a) कणिक तिंबणे | (i) निश्चय करणे |
| (b) खडे फोडणे | (ii) वाटचाल करणे |
| (c) चंग बांधणे | (iii) दोष देणे |
| (d) कूच करणे | (iv) खूप मार देणे |
| | (v) मेहनत करणे |
- (1) a-iv, b-v, c-i, d-ii (2) a-iv, b-iii, c-i, d-ii
(3) a-i, b-iii, c-iv, d-ii (4) a-i, b-ii, c-v, d-iii

23. ‘सुंदर’ शब्दाचा खालीलपैकी कोणता समानार्थी शब्द नाही?

- (1) मनोहर (2) रमणीय
(3) सुरेख (4) कोमल

24. ‘नेहमी ताजे अन्न खावे. अधोरेखित शब्दाचा विरुद्धार्थी शब्द शोधा.

- (1) शिळे (2) बेचव
(3) चवदार (4) तिखट

25. खालीलपैकी कोणते पुराण कर्मणी प्रयोगाचे उदाहरण आहे?

- (1) जो-जो कीजे परमार्थ लाहो. (2) राधिका केर काढते.
(3) रामायण महाकाव्य आहे. (4) तू मला वाचवलेस.

48

Date - 27/08/2023

वेळ : 04 : 30 AM - 06 : 30 AM

1. ‘पायमल्ली करणे’ या वाक्प्रचाराचा अर्थ शोधा.

- (1) धुडकावणे (2) दुःख व्यक्त करणे
(3) निरुपाय होणे (4) भीती वाटणे

2. ‘सावकाराला धंद्यात फार नुकसान सोसावे लागले’ या घटनेसाठी योग्य वाक्प्रचार सुचवा.

- (1) गंडांतर येणे (2) खार लागणे
(3) गत्यंतर नसणे (4) खापर फोडणे

3. ‘लीळाचरित्र’ या ग्रंथाचे कर्ता कोण आहेत?

- (1) लीला गोविलकर (2) श्री चक्रधर स्वामी
(3) म्हाईभट (4) खळो व्यास

4. ‘चांगल्या कामाचे फळ मिळते’ - प्रयोग ओळखा.

- (1) भाव कर्तरी (2) संकर
(3) भावे (4) कर्म कर्तरी

5. ‘द्यावयाचे अगदी थोडे आणि त्याबदल्यात भरपूर काम करून घेणे’ या अर्थाची म्हण सुचवा.

- (1) पै दक्षिणा लक्ष प्रदक्षिणा
(2) घरोघर मातीच्या चुली
(3) ज्याची खावी पोळी त्याची वाजवावी टाळी
(4) साखरेचे खाणार त्याला देव देणार

6. ‘गोंधळ’, ‘धिंगाणा’ यांचा समानार्थी शब्द सुचवा.

- (1) झिंगणे (2) धास्ती (3) धुडगूस (4) धुमसणे

7. ‘स्वच्छ’, ‘शुद्ध’ यासाठी नेमका शब्द सुचवा.

- (1) निपुण (2) निष्पाप (3) निकोप (4) नितळ

8. अचूक वाक्यरचना निवडा.

- (1) मी पित्याच्या आयुष्यात माझी फिकीर केली नाही.
(2) मला झालेल्या वेदनेविषयी अनेक काळांपासून बोलायचे आहे.
(3) आकाशातील तारे मला खूप भावतात.
(4) म्हणूनच या शक्तींना दुष्ट स्पर्श करू नका.

9. ‘आठ दिवसांत त्याचा नूर पालटला’ वाक्यातील प्रयोग ओळखा.

- (1) कर्मणी (2) कर्तरी
(3) भावे (4) सकर्मक कर्तरी

10. अचूक वाक्यरचना निवडा.

- (1) सदाशिवच्या उपचारावर व्याधी करण्यासाठी डॉक्टरांना पाचारण केले.
(2) नेहाची कल्पक आजी खूपच गोष्टी सांगायची.
(3) हिरा आपले घर सोडून रूपालीकडे आली.
(4) प्रथमेशने अडगळीत पडलेले घरातले खेळणे घेतले.

11. पुढीलपैकी बहुव्रीही समासाचे उदाहरण शोधा.

- (1) त्रिनेत्र (2) राम-श्याम
(3) लक्ष्मीकांत (4) यथाशक्ती

12. ‘उपाययोजना’ म्हणजे काय आहे?

- (1) व्यासंग (2) अक्कल
(3) शक्कल (4) शबल

13. ‘निबंधमालेतील तीन निबंध’ हे कोणाचे आहेत?

- (1) महादेवराव रानडे (2) कृष्णशास्त्री चिपळूणकर
(3) विष्णुशास्त्री चिपळूणकर (4) गो. ग. आगरकर

पेपर क्र. - 47	22 - 2	23 - 4	24 - 1	25 - 1	पेपर क्र. - 48	1 - 1	2 - 2	3 - 3	4 - 1
	5 - 1	6 - 3	7 - 4	8 - 3	9 - 1	10 - 3	11 - 3	12 - 3	13 - 3

14. 'फरडा' शब्दाचा विरुद्धार्थी शब्द कोणता आहे?
 (1) निष्णात (2) मूर्ख (3) तल्लख (4) सौम्य
15. 'गाफील' शब्दाचा विरुद्धार्थी शब्द सुचवा.
 (1) मारेकरी (2) भोवळ (3) सावध (4) चक्कर
16. अखेर सीमाने अभ्यासाचे वेळापत्रक अंमलात आणले सीमाच्या कृतीसाठी योग्य वाक्प्रचार शोधा.
 (1) तारांबळ उडणे (2) तामिली करणे
 (3) तमा बाळगणे (4) तन्मय होणे
17. समास शोधा 'तोंडपाठ'
 (1) अव्ययीभाव (2) तत्पुरुष
 (3) द्विगू (4) द्वंद्व
18. 'तोरा' शब्दाचा नेमका अर्थ शोधा.
 (1) पाणी (2) दिमाख (3) पीडा (4) उपद्रव
19. 'निरर्थक चर्चा करणे' या आशयाचा वाक्प्रचार शोधा.
 (1) कळ लावणे (2) काथ्याकूट करणे
 (3) कढी पातळ होणे (4) कळस होणे
20. मराठीतील पहिले व्याकरणकार कोणाला मानले जाते?
 (1) वि. वा. हडप (2) दादोबा पांडुरंग तर्खडकर
 (3) प्र. न. जोशी (4) सुनील रामटेक
21. पुढीलपैकी कोणत्या पर्यायातून 'नेणता' शब्दाचा अर्थ सूचित होतो ?
 (1) अजाण (2) राजनेता (3) नेमका (4) अभिनेता
22. 'भामटा भाविकाला फसवून पळून गेला' या कृतीसाठी योग्य वाक्प्रचार सुचवा.
 (1) गोंजारणे (2) गाळण उडणे
 (3) गळतीस लागणे (4) गुंगारा देणे
23. प्रमाणलेखन नियमानुसार योग्य वाक्य निवडा.
 (1) मी काम करित असताना शाळेवर मुलांना गोष्टी सांगायचो.
 (2) कौरव सैन्यात आता कोणीही प्रबळ योद्धा नव्हता.
 (3) कादंबरी लिहिण्याचा मुलांसाठी माझा पहिला प्रयत्न आहे.
 (4) मी अनेक जिल्हापरिषदेत वर्षांपासून काम करित आहे.
24. 'निकोप' शब्दाचा विरुद्धार्थी शब्द निवडा.
 (1) सदोष (2) मजबूत (3) निरोगी (4) धड्काड्डा

25. 'धारातीर्थ' या शब्दाचा समानार्थी शब्द निवडा.

- (1) रणांगण (2) धैर्य
 (3) तारांगण (4) हिंमत

49

Date - 28/08/2023

वेळ : 09 : 00 AM - 11 : 00 AM

1. 'सर्वांना समज दिली जाईल' वाक्यातील प्रयोग ओळखा.
 (1) भावे (2) कर्मणी
 (3) कर्तरी (4) कर्मकर्तरी
2. 'ददात' शब्दाचा विरुद्धार्थी शब्द काय आहे?
 (1) उणीव (2) मुबलक
 (3) तुटवडा (4) दरोडा
3. वाक्यरचना योग्य असलेला पर्याय निवडा.
 (1) पहिल्या परीक्षेत मला वर्ग मिळाला.
 (2) नागरिकांनी संस्कृतीचे जतन करावे.
 (3) गाव आला तर पूर वाहून जाईल.
 (4) हेतू प्रकरण मुख्याध्यापकांकडे ने.
4. 'लग्नाला वीस, तर वाजंत्रीला तीस' या म्हणीचा अर्थ सांगा.
 (1) एका गोष्टीमुळे दुसरी गोष्ट घडून येणे
 (2) मुख्य कार्यापेक्षा गौण कार्याला अधिक खर्च करणे
 (3) लोकांच्या नादी लागून घरदार विकणे
 (4) मुद्दाम वेड्याचे सोंग घेणे
5. 'तळहाताचा पाळणा करणे' या वाक्प्रचाराचा योग्य उपयोग शोधा.
 (1) जत्रा, जलसा म्हणजे खिसेकापूसाठी जणू तळहाताचा पाळणा
 (2) मोहन स्वतःची प्रसिद्धी व्हावी यासाठी तळहाताचा पाळणा करतो.
 (3) सामना जिंकण्यासाठी सर्व खेळाडू तळहाताचा पाळणा करतात.
 (4) शिक्षिका मुलांची काळजी घेताना तळहाताचा पाळणा करतात
6. 'सभेत हजर असलेल्यांपैकी कोणीही बोलायला तयार नव्हते. शेवटी विट्टलरावांनी सुरुवात केली. विट्टलरावांच्या कृतीस अनुकूल वाक्प्रचार सुचवा.
 (1) हरदासाची कथा (2) सूतोवाच करणे
 (3) आटापिटा करणे (4) सिंहावलोकन

पेपर क्र. - 48	14 - 2	15 - 3	16 - 2	17 - 2	18 - 2	19 - 2	20 - 2	21 - 1	22 - 4	23 - 2	24 - 1
	25 - 1	पेपर क्र. - 49			1 - 4	2 - 2	3 - 2	4 - 2	5 - 4	6 - 2	

1. समानार्थी शब्दांच्या गटात न बसणारा शब्द ओळखा.

‘वात, अनिल, समीरण, शैल’

- (1) वात (2) अनिल
(3) समीरण (4) शैल

2. खालीलपैकी ज्ञानपीठ पुरस्कारप्राप्त साहित्यिक कोण आहेत ?

- (1) भालचंद्र फडके (2) सदानंद देशमुख
(3) भालचंद्र नेमाडे (4) किरण नगरकर

3. पुढीलपैकी कोणती योग्य वाक्यरचना आहे ?

- (1) वैचारिक निबंधात विचाराला महत्त्व असते.
(2) कुमुदची स्वभाव मला माहित आहेत.
(3) मानव जीवनाला भाषाच महत्त्वाचे स्थान असते.
(4) कुणाचेही चिंतू तुम्ही नका वाईट.

4. कंसातील शब्दांचे योग्य रूप वापरून वाक्य तयार करा.

‘भर (पाऊस) फूटपाथवरील त्या (लोक) हाल होत असलेले बघून मला आनंद होणार नाही.’

- (1) भर पावसात फूटपाथवरील त्या लोकांचा हाल होत असलेले बघून मला आनंद होणार नाही.
(2) भर पावसासाठी फूटपाथवरील त्या लोकांशी हाल होत असलेले बघून मला आनंद होणार नाही.
(3) भर पावसाला फूटपाथवरील त्या लोकांचे हाल होत असलेले बघून मला आनंद होणार नाही.
(4) भर पावसात फूटपाथवरील त्या लोकांचे हाल होत असलेले बघून मला आनंद होणार नाही.

5. ‘शैवाले गुंतले तरि पंकज हे शोभते ।’ अधोरेखित शब्दाचा समास कोणता आहे ?

- (1) द्विगू समास (2) अलुक् तत्पुरुष समास
(3) समाहार द्वंद्व समास (4) उपपद तत्पुरुष समास

6. ‘असंगाशी संग प्राणाशी गाठ या म्हणीचा अर्थ ओळखा.

- (1) दुष्ट माणसे समाजविघातक असतात.
(2) दुर्जन माणसाची संगत केल्यास प्रसंगी जीवालाही धोका निर्माण होतो.
(3) दुर्जन माणसाची संगत केल्यास प्राण परत येतो.
(4) दुष्ट माणसे बेरकी असतात.

7. पुढील शब्दगट वापरून अचूक वाक्यरचना तयार करा.

(अ) विसराळूपणा हा

(आ) एक पैलू आहे

(इ) मानवी स्वभावाचा

- (1) एक पैलू आहे विसराळूपणा हा मानवी स्वभावाचा.
(2) विसराळूपणा हा मानवी स्वभावाचा एक पैलू आहे.
(3) मानवी स्वभावाचा एक पैलू आहे विसराळूपणा हा.
(4) एक पैलू आहे विसराळूपणा हा मानवी स्वभावाचा.

8. ‘जे का रंजले गांजले त्यासि म्हणे जो आपुले, तोचि साधु ओळखावा देव तेथेचि जाणावा. ही पंक्ती कोणी रचली आहे ?

- (1) संत नामदेव (2) संत जनाबाई
(3) संत एकनाथ (4) संत तुकाराम

9. खालीलपैकी कोणती म्हण चूक आहे ?

- (1) विंचवाचे बिऱ्हाड पाठीवर
(2) थेंबे थेंबे तळे साचे
(3) नदी राखी तो पाणी चाखी
(4) राजाला दिवाळी काय माहीत ?

10. ‘मनमुराद’ या शब्दाचा खालीलपैकी कोणता अर्थ योग्य आहे ?

- (1) हमखास (2) दुर्मिळ
(3) मनसोक्त (4) मनकवडा

11. पुढील म्हण पूर्ण करा. ‘गरज सरो,

- (1) साहेब मरो (2) वैद्य मरो
(3) प्रगती करो (4) बैल मरो

12. ‘अष्टपैलू’ म्हणजे होय.

- (1) सर्वगुणसंपन्न (2) हुशार
(3) कुशल प्रशासक (4) गुणी

13. ‘ढोंगी’ या शब्दाचे दोन अर्थ शोधा.

- (1) गुन्हेगार, आरोपी (2) इमानी, विश्वासू
(3) दांभिक, भोंदू (4) प्रामाणिक, सच्चा

14. ‘सुंदर’ शब्दाचा खालीलपैकी कोणता समानार्थी शब्द नाही ?

- (1) कोमल (2) मनोहर
(3) रमणीय (4) सुरेख

15. ‘नदीष्ट’ कादंबरी कुणाची आहे ?

- (1) मनोज बोर्गावकर (2) राजन खान
(3) राजन गवस (4) रंगनाथ पठारे

पेपर क्र. - 50	1 - 4	2 - 3	3 - 1	4 - 4	5 - 4	6 - 2	7 - 2	8 - 4	9 - 3	10 - 3	11 - 2
	12 - 1	13 - 3	14 - 1	15 - 1							

16. खाली अलंकारिक शब्द व त्यांचे अर्थ दिलेले आहेत, त्यांतील चुकीचा पर्याय शोधा.

- (1) कर्णाचा अवतार उदार मनुष्य
- (2) कुंभकर्ण - अत्यंत पराक्रमी
- (3) देवमाणूस - चांगला सज्जन
- (4) अकलेचा कांदा - मूर्ख

17. वाक्प्रचार व अर्थ यांच्या जोड्या लावा.

- | | |
|-----------------|-------------------|
| ‘अ’ गट | ‘ब’ गट |
| (a) कणिक तिंबणे | (i) निश्चय करणे |
| (b) खडे फोडणे | (ii) वाटचाल करणे |
| (c) चंग बांधणे | (iii) दोष देणे |
| (d) कूच करणे | (iv) खूप मार देणे |
| | (v) मेहनत करणे |
- (1) a-iv, b-iii, c-i, d-ii (2) a-i, b-iii, c-iv, d-ii
(3) a-iv, b-v, c-i, d-ii (4) a-i, b-ii, c-v, d-iii

18. ‘अक्षयमध्ये एक गुण लपलेला आहे.’ - अधोरेखित शब्दाचा विरुद्धार्थी शब्द कोणता आहे?

- (1) निर्गुण
- (2) सगुण
- (3) अवगुण
- (4) बेईमान

19. ‘अंगावर काटा येणे’ वाक्प्रचाराचा वाक्यात उपयोग करा.

- (1) भारताने विश्वकप जिंकताच धोनीच्या अंगावर काटा आला.
- (2) समोर दहा फूट साप पाहताच रोहनच्या अंगावर काटा आला.
- (3) गुलाबाचे सुंदर फूल पाहताच विशाखाच्या अंगावर काटा येत होता.
- (4) प्रेमळ पतीच्या सहवासात प्राचीच्या अंगावर काटा येतो.

20. ‘नेहमी ताजे अन्न खावे.’ - अधोरेखित शब्दाचा विरुद्धार्थी शब्द शोधा.

- (1) शिळे
- (2) चवदार
- (3) बेचव
- (4) तिखट

21. अव्ययीभाव समासात पद मुख्य असते.

- (1) पहिले
- (2) दुसरे
- (3) तिसरे
- (4) पहिले व दुसरे

22. खालीलपैकी कोणते पुराण कर्मणी प्रयोगाचे उदाहरण आहे?

- (1) तू मला वाचवलेस.
- (2) जो-जो कीजे परमार्थ लाहो.
- (3) राधिका केर काढते.
- (4) रामायण महाकाव्य आहे.

23. खाली विरुद्ध अर्थाच्या शब्दजोड्या दिलेल्या आहेत, त्यांतील कोणती जोडी चुकीची आहे?

- (1) उन - सावली
- (2) न्याय - अन्याय
- (3) आत - खोल
- (4) सुख - दुःख

24. वाक्प्रचाराचा अर्थ शोधा.

‘दातखिळी बसणे’

- (1) दातात खिळा ठोकणे
- (2) बोलती बंद होणे
- (3) दाताची शस्त्रक्रिया करणे
- (4) आनंद वाटणे

25. ‘तिने’ जेवण केले.’ प्रयोग ओळखा.

- (1) कर्मणी
- (2) कर्तरी
- (3) समापन कर्मणी
- (4) भावे

51

Date - 28/08/2023

वेळ : 04 : 30 PM - 06 : 30 PM

1. ‘पाणी सोडणे’ या वाक्प्रचाराचा अर्थ काय आहे?

- (1) त्याग करणे
- (2) कोंडी फोडणे
- (3) शेतीला पाणी देणे
- (4) इतरांना मदत करणे

2. ‘मुलांनी आईवडिलांची आज्ञा पाळावी’ या वाक्याचा प्रकार ओळखा.

- (1) संकेतार्थ
- (2) आज्ञार्थ
- (3) स्वार्थ
- (4) विध्यर्थ

3. ‘तो पहा, तुझा मित्र आला’ या वाक्याचा काळ ओळखा.

- (1) साधा भूतकाळ
- (2) साधा भविष्यकाळ
- (3) साधा वर्तमानकाळ
- (4) अपूर्ण वर्तमानकाळ

4. ‘रणांगण’ या प्रसिद्ध कांदबरीचे लेखक कोण आहेत?

- (1) अण्णाभाऊ साठे
- (2) विश्राम बेडेकर
- (3) नामदेव ढसाळ
- (4) बा. सी. मर्ढेकर

5. लेखननियमांच्या दृष्टीने अचूक शब्द ओळखा.

- (1) परिपूर्णता
- (2) परीपुत्रता
- (3) परीपूर्णता
- (4) परिपूर्णता

6. खालीलपैकी कोणते कर्मधारय समासाचे उदाहरण आहे?

- (1) सदानंद
- (2) प्रतिवर्ष
- (3) अनंत
- (4) भवसागर

पेपर क्र. - 50	16 - 2	17 - 1	18 - 3	19 - 2	20 - 1	21 - 1	22 - 2	23 - 3	24 - 2	25 - 1
पेपर क्र. - 51	1 - 1	2 - 4	3 - 1	4 - 2	5 - 4	6 - 4				

1. 'पक्षी जाय दिगंतरा' या सुप्रसिद्ध पुस्तकाचे लेखक कोण आहेत ?
(1) मारुती चितमपल्ली (2) मंगेश पाडगावकर
(3) इंदिरा संत (4) बा. सी. मर्ढेकर
2. 'जर पाऊस आला तर क्रिकेटचा सामना होणार नाही.' हे वाक्य कोणत्या प्रकारचे आहे ?
(1) केवळ वाक्य (2) संयुक्त वाक्य
(3) मिश्र वाक्य (4) प्रश्नार्थक वाक्य
3. 'गाढवाने शेत खाल्ल्यास पाप ना पुण्य' या म्हणीचा योग्य अर्थ काय आहे ?
(1) निरुपयोगी माणसावर केलेले उपकार व्यर्थ जातात.
(2) मूर्ख माणसाचे कृत्य व्यर्थ जाते.
(3) गाढवाला दान दिले तर पुण्य पदरात पडत नाही.
(4) चोराने शेत चोरले तर ते दान ठरत नाही.
4. 'चित्रलिपी' हा कवितासंग्रह कोणत्या कवीचा आहे ?
(1) दिलीप चित्रे (2) अरुण कोल्हटकर
(3) ग्रेस (4) वसंत आबाजी डहाके
5. 'वाचाळ' या शब्दाचा विरुद्धार्थी शब्द ओळखा.
(1) निर्णायक (2) अबोल
(3) बोलघेवडा (4) उपकर्ष
6. 'गड आला पण सिंह गेला' हे उपवाक्य आहे.
(1) परिणामबोधक (2) न्यूनत्वबोधक
(3) पर्यायबोधक (4) समुच्चयबोधक
7. नामदेवने आपला चष्मा घरभर शोधला. शेवटी तो त्याच्या डोक्यावरच सापडला. म्हणतात ना
(1) आपलेच दात आपलेच ओठ
(2) नाव मोठं लक्षण खोटं
(3) दृष्टीआड सृष्टी
(4) काखेत कळसा गावाला वळसा
8. 'हात टेकणे' या वाक्प्रचाराचा अचूक अर्थ सांगा.
(1) वरचढ ठरणे (2) निरुपाय होणे

- (3) संकटाशी लढणे (4) ढवळाढवळ करणे
9. 'निरर्थक' या शब्दाचा विरुद्धार्थी शब्द ओळखा.
(1) अर्थपूर्ण (2) अर्थगर्भ (3) अर्थशून्य (4) अर्थात
10. 'जहाल' या शब्दाचा विरुद्धार्थी शब्द कोणता आहे ?
(1) उग्र (2) जलाल (3) मवाळ (4) तिखट
11. 'अजातशत्रू' या शब्दाचा समानार्थी शब्द कोणता आहे ?
(1) हितशत्रू (2) अनेक जातीचे शत्रू
(3) सर्व बाजूंनी शत्रू (4) कुणाशीही शत्रुत्व नसलेला
12. पुढील विधानाला जी म्हण योग्य असेल असा पर्याय ओळखा. काव्यगायनासाठी मित्राला नेल्यावर तो सारखा डुलक्या घेत होता. म्हणतात ना
(1) गाढवाला गुळाची चव काय ?
(2) पालथ्या घड्यावर पाणी
(3) पिकते तिथे विकत नाही.
(4) दुष्काळात तेरावा महिना.
13. 'प्रत्येकाला अनुकूल परिस्थिती येतेच' या अर्थाची म्हण ओळखा.
(1) गाड्याबरोबर नळ्याची यात्रा.
(2) खाईन तर तुपाशी नाही तर उपाशी
(3) चार दिवस सासूचे चार दिवस सुनेचे
(4) घरोघरी मातीच्या चुली
14. खाली दिलेल्या वाक्याचा प्रयोग ओळखा.
'मी शाळेतून आताच आलो.'
(1) कर्तरी प्रयोग (2) भावे प्रयोग
(3) शक्य कर्मणी (4) कर्मणी प्रयोग
15. 'बारा पिंपळावरचा मुंजा' या म्हणीचा योग्य अर्थ असलेला पर्याय निवडा.
(1) बारा भानगडीत अडकलेला.
(2) एका जागी स्थिर न राहणारा
(3) अनेक कामे हाती घेऊन एकही काम व्यवस्थित न करणारा
(4) अनुभवी माणूस

पेपर क्र. - 52	1 - 1	2 - 3	3 - 1	4 - 4	5 - 2	6 - 2	7 - 4	8 - 2	9 - 1	10 - 3	11 - 4
	12 - 1	13 - 3	14 - 1	15 - 2							

16. खालीलपैकी विसंगत शब्द ओळखा.

- (1) अंबर (2) ग्रह (3) गगन (4) नभ

17. खालील शब्दाचा समानार्थी शब्द ओळखा.

धरणी

- (1) भूगर्भ (2) भूमी (3) शेत (4) माती

18. खाली दिलेल्या सामासिक शब्दाचा समास ओळखा.

गैरहजर

- (1) तत्पुरुष समास (2) अव्ययीभाव समास
(3) बहुव्रीही समास (4) द्वंद्व समास

19. खालील शब्दांमधून बहुव्रीही सामासिक शब्द ओळखा.

पंचवटी, क्षणोक्षणी, पाप-पुण्य, चक्रपाणी

- (1) पंचवटी (2) पाप-पुण्य
(3) क्षणोक्षणी (4) चक्रपाणी

20. 'वारा' या शब्दाचा समानार्थी शब्द नसलेला पर्याय ओळखा.

- (1) अनिल (2) पवन (3) समीरण (4) सलिल

21. खाली दिलेल्या वाक्याचा प्रयोग ओळखा.

'नळे इंद्रासी असे बोलिजेले'.

- (1) नवीन कर्मणी प्रयोग (2) समापन कर्मणी प्रयोग
(3) पुराण कर्मणी प्रयोग (4) शक्य कर्मणी प्रयोग

22. 'पाताळयंत्री' या अलंकारिक शब्दाचा अर्थ काय आहे ?

- (1) अर्थ समजून न घेता पाठांतर करणारा.
(2) कारस्थान करणारा
(3) दुसऱ्यांची चूक स्वतःवर ओढून घेणारा.
(4) कसलीही पारख नसलेला.

23. 'शेजारचे घर पावसाळ्यात गळते.' - या वाक्याचा प्रकार ओळखा.

- (1) संयुक्तवाक्य (2) केवल वाक्य
(3) मिश्र वाक्य (4) नकारार्थी वाक्य

24. 'घरोघरी मातीच्या चुली' या म्हणीच्या समानार्थी म्हण सांगा.

- (1) पळसाला पाने तीन (2) ध्वनी तसा प्रतिध्वनी
(3) बळी तो कान पिळी (4) गर्वाचे घर खाली

25. 'रानवाटा' हे पुस्तक कुणी लिहिलेले आहे ?

- (1) ग्रेस (2) राजन गवस
(3) ना. धो. महानोर (4) मारुती चितमपल्ली

53

Date - 29/08/2023

वेळ : 12 : 30 PM - 02 : 30 PM

1. 'केसाने गळा कापणे' या वाक्यचाराचा योग्य अर्थ असलेला पर्याय निवडा.

- (1) दुसऱ्याचे नुकसान करणे (2) दुसऱ्याला फसविणे
(3) विश्वासास पात्र नसणे (4) विश्वासघात करणे

2. खालील वाक्य प्रकार ओळखा.

'अरेरे! फार वाईट झाले !'

- (1) होकारार्थी (2) उद्गारार्थी
(3) संकेतार्थी (4) विध्यर्थी

3. 'उत्सुकतेने मी झोपलो होतो' या कादंबरीचे लेखक कोण आहेत ?

- (1) श्याम मनोहर (2) रंगनाथ पठारे
(3) राजन गवस (4) भालचंद्र नेमाडे

4. पुढील वाक्यचाराचा योग्य वाक्यात उपयोग केलेला पर्याय निवडा. 'सळो की पळो करून सोडणे'

- (1) सांगलीत पूर आल्याच्या बातम्या वाचून मुलाच्या काळजीने मालतीबाईला सळो की पळो झाल्यासारखे वाटले.
(2) मुलांना चांगले शिक्षण मिळावे म्हणून सखारामने सळो की पळो करून मुलांना वाढविले.
(3) घरभर झालेल्या उंदरांनी आम्हाला सळो की पळो करून सोडले.
(4) काश्मीरचा सर्वांगसुंदर निसर्ग बघून नेहाला सळो की पळो झाल्यासारखे वाटले.

5. पुढील वाक्य पूर्ण करण्यासाठी योग्य म्हण निवडा.

मुलीच्या शिक्षणासाठी कर्जाऊ पैसे घेण्यासाठी गेलेल्या सतीशला, सावकाराकडून वाटेल ते ऐकून घ्यावे लागले, करणार शेवटी

- (1) दगाडापेक्षा वीट मऊ.
(2) गरजवंताला अक्कल नसते.
(3) गोगलगाय आणि पोटात पाय.
(4) झाकली मूठ सव्वा लाखाची.

6. 'टवाळकी' या अलंकारिक शब्दाचा अर्थ कोणता ते ओळखा.

- (1) उडाणटप्पूपाणा (2) कपटी
(3) दुष्टपणा (4) चलाख

पेपर क्र. - 52	16 - 2	17 - 2	18 - 2	19 - 4	20 - 4	21 - 3	22 - 2	23 - 2	24 - 1	25 - 4
पेपर क्र. - 53	1 - 4	2 - 2	3 - 1	4 - 3	5 - 2	6 - 1				

1. खालील शब्दाचा विरुद्धार्थी शब्द ओळखा. - कडू
(1) गोड (2) खारट (3) आंबट (4) तुरट

2. खालील शब्दाचा योग्य अर्थ ओळखा.
नास्तिक
(1) देव आहे असे मानणारा (2) देवभोळा
(3) कर्मकांड करणारा (4) देव नाही असे मानणारा

3. खालील शब्दाचा समास ओळखा.
नीलकंठ
(1) तत्पुरुष समास (2) द्विगु समास
(3) अव्ययीभाव समास (4) बहुव्रीही समास

4. खालील विधानार्थी वाक्याचे उद्गारार्थी वाक्यात रूपांतर केलेले योग्य विधान ओळखा.
त्याचे अक्षर अतिशय सुंदर आहे.
(1) त्याचे अक्षर सुंदर का नाही.
(2) व्वा! काय अक्षर आहे त्याचे!
(3) त्याचे अक्षर किती सुंदर आहे?
(4) त्याचे अक्षर सुंदर आहे का?

5. खालील शब्दाचा समास ओळखा.
कंबरपट्टा
(1) बहुव्रीही समास (2) द्विगु समास
(3) अव्ययीभाव समास (4) तत्पुरुष समास

6. 'ओवाळीते तुज भाऊराया' या काव्यपंक्तीतील 'भाऊ' या शब्दाचा समानार्थी शब्द ओळखा.
(1) बंधू (2) जनक (3) नरेश (4) सुत

7. खालील वाक्याचा प्रकार ओळखा.
रोहन रोज सकाळी पहाटे उठतो व तासभर व्यायाम करतो.
(1) संकेतार्थी वाक्य (2) मिश्र वाक्य
(3) संयुक्त वाक्य (4) केवल वाक्य

8. 'मन में है विश्वास' हे पुस्तक कोणी लिहिले?
(1) कविता करकरे (2) विनिता कामटे
(3) विश्वास नांगरे पाटील (4) अशोक कामटे

9. खालील शब्दाचा विरुद्धार्थी शब्द ओळखा. - आशा

(1) आस (2) अपेक्षा
(3) निराशा (4) प्रतीक्षा

10. कानउघाडणी करणे या शब्दार्थाचा वाक्यात उपयोग झालेले खालीलपैकी योग्य विधान ओळखा.
(1) कानात औषध टाकून कानउघाडणी केली.
(2) कानातला मळ काढून कानउघाडणी केली.
(3) कानाचे डॉक्टर कानउघाडणी करणारे तज्ज्ञ असतात.
(4) उशिरा येणाऱ्या विद्यार्थ्यांची मुख्याध्यापकांनी कानउघाडणी केली.

11. मंगेश दीड शहाणा आहे. या वाक्यातील 'दीड शहाणा' या वाक्यप्रचाराचा योग्य अर्थ असलेले खालीलपैकी योग्य विधान ओळखा.
(1) मंगेश हळवा आहे. (2) मंगेश मूर्ख आहे.
(3) मंगेश शहाणा आहे. (4) मंगेश श्रीमंत आहे.

12. खालील म्हणीचा योग्य अर्थ ओळखा.
'चार दिवस सासूचे, चार दिवस सुनेचे'.
(1) ज्याच्या अंगात सामर्थ्य तो इतरांवर अंमल गाजवतो.
(2) प्रत्येकाला अधिकार गाजविण्याची आयुष्यात संधी मिळते.
(3) पैशाने सर्व कामे साध्य होतात.
(4) दुसऱ्याचा अनुभव पाहून मनुष्य शहाणा होतो.

13. 'नाकीनऊ येणे' या शब्दार्थाचा वाक्यात उपयोग झालेले खालीलपैकी योग्य विधान ओळखा.
(1) माझा पहिला नंबर आल्याची बातमी ऐकली आणि नाकीनऊ आले.
(2) मला लॉटरी लागली जणू नाकीनऊ आले.
(3) खोडकर बाळ सांभाळताना आईच्या नाकीनऊ येतात.
(4) माझा पहिला पगार मिळाला आणि नाकीनऊ आले.

14. 'फडशा पाडणे' या शब्दार्थाचा वाक्यात उपयोग झालेले खालीलपैकी योग्य विधान ओळखा.
(1) नवीन मार्बल टाईल्स टाकून जुन्या फडशा बदलल्या.
(2) पावसाचा पूर पाहून योगेशचा फडशा पडला.
(3) आमच्या घरात नवीन फडशा टाकल्या.
(4) खारूताईने भुईमुगाच्या शेगांचा फडशा पाडला.

पेपर क्र. - 54	1 - 1	2 - 4	3 - 4	4 - 2	5 - 4	6 - 1	7 - 3	8 - 3	9 - 3	10 - 4	11 - 2
	12 - 2	13 - 3	14 - 4								

15. 'श्यामची आई' हे पुस्तक कोणी लिहिले ?
 (1) पु. ल. देशपांडे (2) मो. रा. वाळंबे
 (3) शिवाजी सावंत (4) साने गुरुजी
16. खालील शब्दाचा अर्थ सांगा.
 कंठस्थ
 (1) तोंडपाठ (2) अलंकार
 (3) हार (4) दागिना
17. खालील म्हणीचा योग्य अर्थ ओळखा.
 'उतावळा नवरा गुडघ्याला बाशिंग.
 (1) भांडणाचा दोष एका पक्षाकडेच असत नाही.
 (2) अतिशय उतावळेपणाने होणारे मूर्खपणाचे वर्तन.
 (3) कोणत्याही गोष्टीचा अतिरेक हा वाईट असतो.
 (4) क्षुद्र माणसाच्या निंदेने थोर माणसाचे काहीही नुकसान होत नाही.
18. 'बनगरवाडी' हे पुस्तक कोणी लिहिले ?
 (1) रणजित देसाई (2) वि.वा. शिरवाडकर
 (3) अण्णा भाऊ साठे (4) व्यंकटेश माडगूळकर
19. खालील शब्दाचा विरुद्धार्थी शब्द ओळखा.
 सुंदर
 (1) कुरूप (2) रूपवती
 (3) छान (4) लावण्य
20. 'अंजनीच्या सुता तुला रामाचं वरदान' या काव्यपंक्तीतील 'सूत' या शब्दाचा समानार्थी शब्द ओळखा.
 (1) सखा (2) मुलगा
 (3) पती (4) जावई
21. खालील शब्दाचा अर्थ सांगा.
 युद्धभूमी
 (1) विजयभूमी (2) लढाई
 (3) सैनिक (4) रणांगण
22. खालील वाक्यातील प्रयोग ओळखा.
 कृष्णाकडून कंस मारला गेला.
 (1) नवीन कर्मणी (2) समापन कर्मणी प्रयोग
 (3) कर्मणी प्रयोग (4) पुराण कर्मणी
23. खालील नकारार्थी वाक्याचे होकारार्थी वाक्यात रूपांतर केलेले योग्य विधान ओळखा.
 शंभर रुपये ही काही लहान रक्कम नव्हे.
 (1) शंभर रुपये ही काही लहान रक्कम नव्हे.

- (2) शंभर रुपये ही काही लहान रक्कम वाटते.
 (3) शंभर रुपये ही देखील मोठी रक्कम आहे.
 (4) शंभर रुपये ही देखील लहान रक्कम आहे.

24. खालील वाक्यातील प्रयोग ओळखा. - राघूने पेरू खाल्ला.
 (1) कर्मणी प्रयोग (2) नवीन कर्मणी
 (3) पुराण कर्मणी (4) समापन कर्मणी प्रयोग
25. खालील शब्दाचा योग्य अर्थ ओळखा. - दानशूर
 (1) खूप दानधर्म करणारा (2) पहिला क्रमांक मिळविणारा
 (3) पराक्रम गाजवणारा (4) शूर व्यक्ती

55

Date - 31/08/2023

वेळ : 09 : 00 AM - 11 : 00 AM

1. खालील म्हणीचा योग्य अर्थ ओळखा.
 'बुडत्याचा पाय खोलात'.
 (1) अवनती होऊ लागली म्हणजे अनेक बाजूंनी होऊ लागते.
 (2) मोठ्या माणसाच्या ठिकाणी दोष हे असतात.
 (3) जो वेळेला हजर असतो त्याचा फायदा होतो.
 (4) पैशाने सर्व कामे साध्य होतात.
2. सळो की पळो करणे या शब्दार्थाचा वाक्यात उपयोग झालेले खालीलपैकी योग्य विधान ओळखा.
 (1) माझा पहिला नंबर आला आणि मला सळो की पळो झाले.
 (2) उंदरांनी पिकांची नासधूस करून शेतकऱ्याला सळो की पळो करून सोडले.
 (3) राहुलला नोकरी लागली आणि त्याला सळो की पळो झाले.
 (4) वैभवला लॉटरी लागली आणि त्याला सळो की पळो झाले.
3. खालील म्हणीचा योग्य अर्थ ओळखा.
 'झाकली मूठ सव्वा लाखाची'
 (1) भांडणाचा दोष एकाच पक्षाकडे राहात नाही.
 (2) पैशाने सर्व कामे साध्य होतात.
 (3) सर्वत्र परिस्थिती एकसारखी असते.
 (4) आपले गुणावगुण झाकून ठेवावेत, तोंडाने त्यांचा उच्चार करू नये.
4. 'ग्रंथ शिकविती माणुसकी, अन ग्रंथ शिकविती शांती या काव्यपंक्तीतील 'शांती या शब्दाचा विरुद्धार्थी शब्द ओळखा.
 (1) कुशांती (2) बेशांती
 (3) भक्ती (4) अशांती

पेपर क्र. - 54	15 - 4	16 - 1	17 - 2	18 - 4	19 - 1	20 - 2	21 - 4	22 - 1	23 - 3	24 - 1	25 - 1
पेपर क्र. - 55	1 - 1	2 - 2	3 - 4	4 - 4							

21. 'एका मुंगीचे महाभारत' हे पुस्तक कोणी लिहिले ?
 (1) विलास पाटील (2) गंगाधर गाडगीळ
 (3) रंगनाथ पठारे (4) वि. स. खांडेकर

22. खालील वाक्याचा प्रकार ओळखा.
 'दिव्यत्वाची जेथे प्रचिती, तेथे कर माझे जुळती.'
 (1) मिश्र वाक्य (2) केवळ वाक्य
 (3) संयुक्त वाक्य (4) संकेतार्थी वाक्य

23. खालील शब्दाच्या योग्य अर्थाचे विधान ओळखा.
 स्पर्धा
 (1) ससा आणि कासवाची मैत्री झाली होती.
 (2) ससा आणि कासवात वैर झाले होते.
 (3) ससा आणि कासवाचे भांडण लागले होते.
 (4) ससा आणि कासवाची शर्यत लागली होती.

24. खालील वाक्प्रचाराचा योग्य अर्थ ओळखा.
 'गाशा गुंडाळणे'.
 (1) मन कठोर करणे. (2) निघून जाणे.
 (3) प्रहार करणे. (4) माया करणे.

25. खालील शब्दाचा योग्य अर्थ ओळखा.
 व्यासपीठ
 (1) भाषण करण्याची जागा (2) लेखन करण्याची जागा
 (3) वाचन करण्याची जागा (4) जेवण करण्याची जागा

56

Date - 31/08/2023

वेळ : 12 : 30 PM - 02 : 30 PM

1. खालील शब्दाचा अर्थ सांगा. - अगडबंब
 (1) एकसंध (2) बंब (3) मट्ट (4) लट्ट

2. 'मी सावित्री जोतीराव' ही कादंबरी कोणी लिहिली ?
 (1) रवींद्र ठाकूर (2) कविता मुरुमकर
 (3) गजमल माळी (4) धनंजय कीर

3. खालील शब्दाचा समास ओळखा.
 पंकज
 (1) अव्ययीभाव समास (2) बहुव्रीही समास
 (3) द्विगु समास (4) तत्पुरुष समास

4. खालील शब्दाचा अर्थ सांगा.
 आकांत
 (1) आक्रोश (2) दुःख (3) आरंभ (4) आतूर

5. खालील प्रश्नार्थी वाक्याचे विधानार्थी वाक्यात रूपांतर केलेले योग्य विधान ओळखा.

तुम्ही मदत केलेली मी कशी विसरू ?
 (1) तुम्ही मदत केलेली मी विसरणार नाही.
 (2) मी विसरणार नाही तुम्ही मदत केलेली !
 (3) तुम्ही मदत केलेली मी विसरता येईल का ?
 (4) तुम्ही मदत केलेली मी विसरणार आहे का ?

6. खालील वाक्यातील प्रयोग ओळखा.
 राघवने पपई खाल्ली.
 (1) नवीन कर्मणी (2) कर्मणी प्रयोग
 (3) समापन कर्मणी प्रयोग (4) पुराण कर्मणी

7. खालील शब्दाचा योग्य अर्थ ओळखा.
 फंड
 (1) वर्गणी (2) जमाव
 (3) बँक (4) फड

8. 'आगीत तेल ओतणे' या शब्दार्थाचा वाक्यात उपयोग झालेले खालीलपैकी योग्य विधान ओळखा.
 (1) आगीत तेल ओतल्यावर स्फोट होतो.
 (2) माधवचा प्रथम क्रमांक आल्यावर मुख्याध्यापकांनी त्याचा सत्कार करून आगीत तेल ओतले.
 (3) मुलाच्या व सूनूच्या भांडणात सासूबाईंनी सुनेची मुलाजवळ तक्रार करून आगीत तेल ओतले.
 (4) मोहनरावांना लॉटरी लागल्यावर पत्नीने अत्यानंदाने आगीत तेल ओतले.

9. 'उसवायचाय तुझा पाषाण' या काव्यपंक्तीतील 'पाषाण' या शब्दाचा समानार्थी शब्द ओळखा.
 (1) धातू (2) लोखंड
 (3) दगड (4) अचल

10. खालील शब्दाचा योग्य अर्थ ओळखा.
 निपुण
 (1) निबीड (2) कुशल
 (3) निश्चय (4) निरभ्र

11. खालील शब्दाचा समास ओळखा.
 पदोपदी
 (1) बहुव्रीही समास (2) द्विगु समास
 (3) अव्ययीभाव समास (4) तत्पुरुष समास

पेपर क्र. - 55	21 - 2	22 - 1	23 - 4	24 - 2	25 - 1						
पेपर क्र. - 56	1 - 4	2 - 2	3 - 4	4 - 1	5 - 1	6 - 2	7 - 1	8 - 3	9 - 3	10 - 2	11 - 3

1. 'तुझे कारणी देह माझा पडावा' या काव्यपंक्तीतील 'देह' या शब्दाचा समानार्थी शब्द ओळखा.

- (1) शरीर (2) मन
(3) देहावसान (4) भक्ती

2. खालील शब्दाचा विरुद्धार्थी शब्द ओळखा.
इमान

- (1) अइमान (2) बेइमान
(3) गैरइमान (4) कुइमान

3. खालील विधानार्थी वाक्याचे प्रश्नार्थी वाक्यात रूपांतर केलेले योग्य विधान ओळखा.

'भिजकी वही' हा कवितासंग्रह आहे.

- (1) भिजकी वही हा अरुण कोलटकरांचा कवितासंग्रह आहे.
(2) कवितासंग्रह आहे 'भिजकी वही'!
(3) 'भिजकी वही' हा कवितासंग्रह मला देशील का?
(4) 'भिजकी वही' हा कवितासंग्रह आहे का?

4. खालील होकारार्थी वाक्याचे नकारार्थी वाक्यात रूपांतर केलेले योग्य विधान ओळखा.

शिक्षकांचा आदर करावा.

- (1) शिक्षकांचा अनादर करू नये.
(2) शिक्षकांचा आदर करू नये!
(3) शिक्षकांचा आदर करू नये.
(4) शिक्षकांचा आदर का करू नये?

5. खालील शब्दाचा अर्थ सांगा.

अशुभ

- (1) अमानुष (2) अमंगल (3) शुभ (4) संजीवनी

6. खालील वाक्यातील प्रयोग ओळखा.

सीतेने बोरे खाल्ली.

- (1) समापन कर्मणी प्रयोग (2) कर्मणी प्रयोग
(3) पुराण कर्मणी (4) नवीन कर्मणी

7. खालील म्हणीचा योग्य अर्थ ओळखा.

बोलाचाच भात आणि बोलाचीच कढी

- (1) क्षुद्र माणसाच्या निंदेने थोर माणसाचे काही नुकसान होत नाही.

(2) उत्तम स्थिती गेली पण त्या आठवणी मागे उरल्या.

(3) अडल्या कामासाठी अधिक परिश्रम घेणे

(4) केवळ बोलून बोलूनच सर्वाना संतुष्ट करावयाचे, पण कृती मात्र शून्य.

8. 'अक्कल विकत घेणे' या वाक्यचाराचा योग्य अर्थ ओळखा.

(1) बुद्धीचा वापर न करणे.

(2) अनुभवातून आलेले शहाणपण.

(3) दुसऱ्याच्या विचाराने वागणे.

(4) शहाणपण शिकवणे.

9. खालील शब्दाचा विरुद्धार्थी शब्द ओळखा.

बेभरवसा

- (1) बेलगाम (2) बेधडक (3) बेकी (4) भरवसा

10. खालील शब्दाचा योग्य अर्थ ओळखा. - यौवन

(1) बालपण (2) तारुण्य

(3) बाल्यावस्था (4) वृद्धत्व

11. खालील शब्दाचा समास ओळखा.

भूपती

(1) तत्पुरुष समास (2) अव्ययीभाव समास

(3) बहुव्रीही समास (4) द्वंद्व समास

12. खालील वाक्याचा प्रकार ओळखा.

जेव्हा कळी उमलू लागते, तेव्हा सुगंध वाऱ्यावर पसरू लागतो.

(1) केवल वाक्य (2) प्रश्नार्थी वाक्य

(3) संयुक्त वाक्य (4) मिश्र वाक्य

13. 'आतड्याला पीळ पडणे' या शब्दार्थाचा वाक्यात उपयोग झालेले खालीलपैकी योग्य विधान ओळखा.

(1) गारठ्यामध्ये फुटपाथवर झोपलेली उघडी बालके पाहून माझ्या आतड्याला पीळ पडला.

(2) मोगऱ्याच्या फुलांचा सुगंध हुंगून माझ्या आतड्याला पीळ पडला.

(3) मला बढती मिळाल्याचे कळाल्यावर माझ्या आतड्याला पीळ पडला.

(4) मला नोकरी मिळाली आणि माझ्या आतड्याला पीळ पडला.

पेपर क्र. - 57	1 - 1	2 - 2	3 - 4	4 - 1	5 - 2	6 - 2	7 - 4	8 - 2	9 - 4	10 - 2	11 - 1
	12 - 4	13 - 1									



विभाग

वनरक्षक प्रश्नपत्रिका



1. Select the most appropriate option to fill in the blank.

The car crashedthe divider.

1. at 2. from 3. into 4. up

2. Select the most appropriate option to fill in the blank.

Where is the child was crying?

1. she 2. who 3. it 4. which

3. Select the most appropriate meaning of the given proverb.

Don't put all your eggs in one basket.

1. Don't risk everything in one business
2. Don't talk to everyone you meet
3. Don't keep your food uncovered
4. Don't ask anyone for help

4. Select the correctly spelt sentence.

1. We lost the reciet given by the shopkeeper.
2. We lost the receipt given by the shopkeeper.
3. We lost the ricipt given by the shopkeeper.
4. We lost the recit given by the shopkeeper.

5. Select the option that can be used as a one-word substitute for the underlined group of words.

Tania's answer to something someone has said came immediately.

1. talk 2. question
3. reply 4. turn

6. Select the most appropriate option to fill in the blank.

They visited _____ Vivekananda Memorial Rock in Kanyakumari.

1. an 2. the
3. a 4. No word required

7. Select the most appropriate ANTONYM of the given word.

Ajar

1. Smashed 2. Closed 3. Fixed 4. Free

8. Select the option that can be used as a one-word substitute for the underlined group of words.

Reena said she liked the repeated decorative design on the table cloth.

1. pattern 2. figure 3. copy 4. shape

9. Select the correctly spelt sentence.

1. Abhay picked up the haveist bag.
2. Abhay picked up the heaviest bag.
3. Abhay picked up the haaviest bag.
4. Abhay picked up the haviest bag.

10. Sentences of a paragraph are given below in jumbled order. Arrange the sentences in the correct order to form a meaningful and coherent paragraph.

- A. For example, the effluents from the Mathura refinery affect the marble exteriors of the Taj Mahal in Agra.
B. Thus, unless these deterrents are attended to, the tourism industry will not flourish.
C. Several factors have had a negative impact on the arrival of visitors to India.
D. Another example is that the beautiful beaches in India are gradually turning into rubbish dumps because of garbage left behind.

1. CADB 2. BDCA 3. ACBD 4. CBDA

पेपर क्र. - 1	1 - 3	2 - 2	3 - 1	4 - 2	5 - 3	6 - 2	7 - 2	8 - 1	9 - 2	10 - 1
---------------	-------	-------	-------	-------	-------	-------	-------	-------	-------	--------

11. Select the most appropriate meaning of the given idiom.

To be like a fish out of water.

1. To be thirsty and dry
2. To be in a safe place
3. To feel very comfortable
4. To feel awkward and unhappy

12. Sentences of a paragraph are given below in jumbled order. Arrange the sentences in the correct order to form a meaningful and coherent paragraph.

- A. The Indian elephant is a cultural symbol throughout Asia.
- B. That is because the tiger is called the national animal.
- C. In India, it has been chosen as the national heritage animal.
- D. There are about 28,000 elephants in India and 25% of them are in Karnataka.

1. ABCD 2. AD BC 3. ACBD 4. ABDC

13. Select the most appropriate option to fill in the blank.

Have you ever seen rainbow?

1. one
2. an
3. No word required
4. a

14. Select the most appropriate option to fill in the blank.

Naveen is in my class in a different section.

1. if
2. but
3. so
4. and

15. Select the most appropriate synonym of the given word.

Tranquil

1. Soft
2. Difficult
3. Hard
4. Calm

02

वनरक्षक शिफ्ट क्रमांक - 2

Date - 02/08/2023

1. Select the most appropriate article to fill in the blanks for the given sentence: Mark "No article" if there is no requirement of article.

..... police officer at the security desk was very helpful in directing us where to go to court.

1. a
2. an
3. No article
4. The

2. Parts of the following sentence have been given as option that contains an error in spelling.

If you don't find any error, mark "No error" as your answer.

Owing to the length of their neck and long flexible tongues, giraffes are able to browse on tall trees.

1. lengthe
2. giraffes
3. No error
4. Owing

3. Select the most appropriate article to fill in the blanks for the given sentence : Mark "No article" if there is no requirement of article. moon will be full in the night sky this Friday.

1. an
2. a
3. No article
4. The

4. Select the most appropriate verb to fill in the blanks for the given sentence:

Because I was thirsty, I a lot of water.

1. drank
2. Be drinking
3. drinking
4. Had drank

5. Select the most appropriate verb to fill in the blanks for the given sentence :

He asked me to the window as it was too hot.

1. opening
2. open
3. Had open
4. opens

पेपर क्र. - 1	11 - 4	12 - 3	13 - 4	14 - 2	15 - 4						
पेपर क्र. - 2	1 - 4	2 - 1	3 - 4	4 - 1	5 - 2						

1. Sentences of a paragraph are given below in jumbled order. Arrange the sentences in the correct order to form a meaningful and coherent paragraph.

- A. She remained unmarried and devoted her life to serving the poor and sick.
 B. Florence Nightingale was born on 12 May 1820 in Florence, Italy.
 C. She would then spend time taking care of her injured dolls and animals.
 D. Her interest in nursing was evident from childhood.

1. BACD 2. ACDB
 3. DBAC 4. BDCA

2. Select the option that can be used as a one-word substitute for the underlined segment.

The soldier got down from the horse and saluted his commander.

1. alighted 2. aligned
 3. abandoned 4. ascended

3. Select the most appropriate option to fill in the blank. I have never in his tall talk.

1. believed 2. considered
 3. relied 4. assumed

4. Select the most appropriate option to fill in the blanks. If no word is needed in the blank, select 'no word'.

.....children were playing near river when one of them lost his balance and fell.

1. The; the 2. The; an
 3. A; a 4. No word; no word

5. Select the most appropriate option to fill in the blank.

My friendleg was fractured has recovered now.

1. which 2. whom 3. whose 4. who

6. Select the most appropriate meaning of the given idiom. End in smoke

1. To perform magic tricks
 2. To disappear from view
 3. To have no positive result
 4. To complete successfully

7. Select the most appropriate meaning of the given idiom.

Give ear to

1. Listen carefully 2. Hear secrets
 3. Spread rumours 4. Share information

8. Select the most appropriate option to fill in the blank. If no word is needed in the blank, select 'no word'.

..... honorary degree was conferred on the actor for his contribution to cinema.

1. A 2. No word 3. An 4. The

9. Select the most appropriate ANTONYM of the given word. Alienate

1. Combine 2. Divorce
 3. Inhabit 4. Withdraw

10. Sentences of a paragraph are given below in jumbled order. Arrange the sentences in the correct order to form a meaningful and coherent paragraph.

- A. A cyber-attack is a malicious attempt to access or damage computer systems, networks or devices.
 B. However, with the increase in dependence on the Internet, the risk of cyber-attacks has also increased.
 C. It has revolutionised the way we communicate.
 D. We cannot imagine today's life without the internet.

1. DBAC 2. DABC 3. DCBA 4. DBCA

11. Select the most appropriate option to fill in the blank.

Have you disposed your old school books?

1. out 2. with
3. of 4. by

Q.12. Parts of the following sentence have been given as options. Select the option that contains a spelling error.

I found my friend lying unconscious on the ground during the morning assembly.

1. the morning assembly
2. lying unconscious
3. I found my friend
4. on the ground during

Q. 13. Parts of the following sentence have been given as options. Select the option that contains a spelling error.

In my opinion, you have the qualification to pursue a career in fine arts.

1. to pursue a career
2. you have the qualification
3. In my opinion
4. in fine arts

Q. 14. Select the option that can be used as a one-word substitute for the underlined segment.

When I was abroad, I had a strong desire for homecooked food.

1. talent 2. hunger
3. liking 4. craving

15. Select the most appropriate synonym of the given word. Calamity

1. Miracle 2. Wonder
3. Hurdle 4. Disaster

1. Four sentences of a paragraph are given below in jumbled order. Select the option that arranges the sentences in the correct order to form a meaningful and coherent paragraph.

- A. One is reminded of the old joke which claims to explain why chimps always refuse to talk.
B. The father chimpanzee replied, "Are you crazy, do you want us to wear a tie and work in the office all day?"
C. "I see." said the young chimp.
D. A young chimp asked his father, "Why don't we show human beings we really can talk?"

1. A, D, B, C 2. A, B, C, D
3. A, D, C, B 4. A, C, B, D

2. Sentences of a paragraph are given below in jumbled order. Arrange the sentences in the correct order to form a meaningful and coherent paragraph.

- A. Walking over, he inquired, "O Mullah, why are you sitting out in the open on a rocking chair and eating boiled eggs?"
B. Mullah looked him up and down scornfully and queried, "What would you rather have me doing? Sit on the boiled eggs and eat the rocking chair?"
C. It was a pleasant winter morning and Mullah Nasruddin was sitting on a rocking chair and enjoying some half-boiled eggs.
D. A man happened to pass by and wondered why Mullah was sitting in a rocking chair out in the open and eating his meal.

1. BDCA 2. CDAB 3. CBDA 4. DCAB

3. Select the most appropriate option to fill in the blank.

Mohit was late school because of the heavy rain.

1. in 2. at 3. for 4. about

पेपर क्र. - 3	11 - 3	12 - 2	13 - 1	14 - 4	15 - 4					
पेपर क्र. - 4	1 - 1	2 - 2	3 - 3							

1. Select the option that can be used as a one-word substitute for the underlined group of words.

People from the nearby villages were moved to safer places because of the molten rock that came out of the volcano.

1. lava 2. dirt
3. loam 4. clay

2. Select the most appropriate option to fill in the blank.

.....mango Vijay bought today is very sweet.

1. No word required 2. The
3. A 4. An

3. Sentences of a paragraph are given below in jumbled order. Arrange the sentences in the correct order to form a meaningful and coherent paragraph.

- A. It is said that this colour represents warmth, vitality, fun and positivity.
B. Orange is the colour of the sun.
C. It motivates the depressed to look at life in a positive way.
D. It even helps those in depression to feel cheerful again.

1. BCDA 2. BADC
3. BCAD 4. BDAC

4. Sentences of a paragraph are given below in jumbled order. Arrange the sentences in the correct order to form a meaningful and coherent paragraph.

- A. 'I'm looking for my camel which has strayed away, did you see it passing by?' asked the merchant.
B. "Had the camel hurt its leg?" asked Raman.
C. Tenali Raman was once walking along a forest

path when he was stopped by a merchant.

- D. "Oh yes! That means you have seen my camel"

1. ADBC 2. BDCA
3. CBDA 4. CABD

5. Select the most appropriate option to fill in the blank.

..... it does not rain, we can play badminton.

1. But 2. If 3. So 4. Though

6. Select the most appropriate synonym of the given word. Gaze

1. Encounter 2. Express
3. Stare 4. Obtain

7. Select the most appropriate option to fill in the blank.

You will have to wait for hour to see the sunset.

1. a 2. the 3. No word required 4. an

8. Select the most appropriate option to fill in the blank.

It is very hot, please switch the fan.

1. off 2. on 3. at 4. up

9. Select the correctly spelt sentence.

1. After his tution class, Anuj goes for cricket coaching.
2. After his tuiton class, Anuj goes for cricket coaching.
3. After his tiuition class, Anuj goes for cricket coaching.
4. After his tuition class, Anuj goes for cricket coaching.

10. Select the most appropriate meaning of the given proverb.

It takes two hands to clap.

1. A person cannot fight alone, he needs someone to fight with.
2. One must have a group of people as audience.
3. A person can dance only if he has company.
4. If someone appreciates your work it makes you happy.

11. Select the most appropriate ANTONYM of the given word. Fastened

1. Curved 2. Detached
3. Commenced 4. Secured

12. Select the most appropriate option to fill in the blank.

"And did you lock all the doors when left the shop?" the inspector asked the owner of the jewellery shop.

1. anybody 2. nobody
3. someone 4. everyone

13. Select the most appropriate meaning of the given idiom.

Make your mouth water

1. Feel very hot and thirsty
2. Feel tempted to eat
3. Have something spicy
4. Get a boil on the tongue

14. Select the correctly spelt sentence.

1. My niese stays in Ireland.
2. My niece stays in Ireland.
3. My nieice stays in Ireland.
4. My neece stays in Ireland.

15. Select the option that can be used as a one-word substitute for the underlined group of words.

Jyoti's brother works as a keeper or custodian of a museum.

1. anchor 2. curator
3. usher 4. compere

06

वनरक्षक शिफ्ट क्रमांक - 3

Date - 03/08/2023

1. Select the most appropriate meaning of the given idiom.

Breathe one's last

1. To sleep 2. To resign
3. To cry 4. To die

2. Parts of a sentence are given below in jumbled order. Arrange the parts in the correct order to form a meaningful sentence.

- A. two year's rigorous
B. he was condemned to
C. theft of the jewels
D. imprisonment for the

1. BDAC 2. BADC 3. BCAD 4. BDCA

3. Select the most appropriate ANTONYM of the given word.

Thrive

1. Develop 2. Protect 3. Praise 4. Decline

4. Select the most appropriate option to fill in the blank.

The king declared his eldest son as heir to his throne.

1. an 2. the 3. a 4. one

5. Sentences of a paragraph are given below in jumbled order. Arrange the sentences in the correct order to form a meaningful and coherent paragraph.

- A. He not only gave India the power to steel and hydroelectric energy, but also an institution of research.
B. I realised this while researching on and writing about the life of Jamshedji Tata.
C. A noble purpose gives meaning to one's own life and is of benefit to others.
D. Living in a colonised country he had the vision to advance it in the community of nations.

पेपर क्र. - 5	11 - 2	12 - 4	13 - 2	14 - 2	15 - 2						
पेपर क्र. - 6	1 - 4	2 - 2	3 - 4	4 - 2	5 - 2						

1. Parts of the following sentence have been given as options. Select the option that contains a spelling error.

I remained on tentrehooks till the final result of the interview was declared.

1. interview was declared
2. I remained on
3. tentrehooks till the
4. final result of the

2. Select the most appropriate option to fill in the blank.

A senior advocate the case now.

1. is handling
2. handling
3. handle
4. handled

3. Select the option that can be used as a one-word substitute for the underlined segment.

Everyone was impressed with the person who designed the building for the new office.

1. Engineer
2. Architect
3. Inventor
4. Archer

4. Parts of the following sentence have been given as options. Select the option that contains a spelling error.

If more entries are not received, the competition will be postphoned.

1. will be postphoned
2. are not received
3. the competition
4. If more entries

5. Select the most appropriate meaning of the given idiom.

Have an axe to grind

1. Have a lot of money
2. Have a selfish motive
3. Have a tough task to do
4. Have an impossible goal

6. Select the most appropriate synonym of the given word.

Arrogant

1. Strict
2. Vain
3. Strong
4. Cruel

7. Select the most appropriate meaning of the given idiom.

Dark horse

1. Very fortunate
2. Unexpected winner
3. Sore loser
4. Unpleasant person

8. Select the option that can be used as a one-word substitute for the underlined segment.

Nobody wants to share meals with Arun because he is a very greedy eater.

1. fanatic
2. glutton
3. veteran
4. cynic

9. Select the most appropriate option to fill in the blank.

Strength of character alone can make _____ person successful.

1. an
2. one
3. the
4. a

10. Sentences of a paragraph are given below in jumbled order. Arrange the sentences in the correct order to form a meaningful and coherent paragraph.

- A. Moreover, strict kitchen hygiene should be maintained in order to enjoy one of the most beautiful seasons of the year.
- B. First of all, if we decide to get wet in rains, we should change into a dry set of clothes at the earliest.
- C. To make the best of the rainy season, we should follow some simple guidelines.
- D. Also, we should keep raw food items at bay and wash vegetables and fruits thoroughly before use.

1. CBDA 2. CDAB
3. CDBA 4. CABD

11. Select the most appropriate option to fill in the blanks.

The place was cold damp.

1. even; also 2. as; as
3. not only; but also 4. both; as well

12. Sentences of a paragraph are given below in jumbled order. Arrange the sentences in the correct order to form a meaningful and coherent paragraph.

- A. One of them is deriving pleasure.
B. They want to get on with the story.
C. Children reading for their pleasure rarely stop to ask about the words.
D. There are different purposes of reading.

1. CADB 2. CBAD
3. DCBA 4. DACB

13. Select the most appropriate option to fill in the blank.

It is cybercrimes that are dominating ___ modern crime world.

1. the 2. an
3. a 4. one

14. Select the most appropriate ANTONYM of the given word.

Spurious

1. Scary 2. Phony
3. Mysterious 4. Genuine

15. Select the most appropriate option to fill in the blank.

The guests insisted _____ leaving immediately.

1. on 2. to
3. in 4. by

08

वनरक्षक शिफ्ट क्रमांक - 2

Date - 04/08/2023

1. Select the most appropriate article to fill in the blanks for the given sentence: Mark "No article" if there is no requirement of article.

..... lights are dimmed at the restaurant.

1. an 2. The
3. No article 4. a

2. Select the most appropriate verb to fill in the blanks for the given sentence:

My doctor advised me to smoking.

1. giving up 2. give up
3. gave up 4. given up

3. Choose an option, which can be substituted for a given word/sentence/phrase out of given options.

Examination of a dead body.

1. Autopsy 2. Surgery
3. Biopsy 4. Operation

4. Choose an option, which can be substituted for a given word/sentence/phrase out of given options.

Rohit is greedy for money. His colleagues call him

1. spendthrift 2. cynic
3. Splendid 4. avaricious

5. Choose the most appropriate meaning of the below mentioned word from the below options:

Redundant

1. insufficient 2. sparse
3. inadequate 4. unnecessary

पेपर क्र. - 7	11 - 3	12 - 4	13 - 1	14 - 4	15 - 1					
पेपर क्र. - 8	1 - 2	2 - 2	3 - 1	4 - 4	5 - 4					

1. Select the option that can be used as a one-word substitute for the underlined segment.

Many people suffer from the fear of closed spaces.

1. aerophobia 2. claustrophobia
3. zoophobia 4. hydrophobia

2. Select the most appropriate option to fill in the blank.

It was an amazing sight to see a of lions in the forest.

1. herd 2. colony
3. flock 4. pride

3. Select the most appropriate option to fill in the blank.

The train bound _____ Jaipur is running late.

1. to 2. on
3. in 4. for

4. Sentences of a paragraph are given below in jumbled order. Arrange the sentences in the correct order to form a meaningful and coherent paragraph.

- A. They return to you in a variety of ways, though you do not realise it.
B. Polythene shopping bags and wrappers are potential threat to urban environment.
C. Once you have discarded them after use, you do not lose your link with them.
D. For example, they choke your drains and provide breeding facilities to deadly germs.

1. BCAD 2. BDAC
3. BADC 4. BDCA

5. Select the most appropriate meaning of the given idiom.

Egg on

1. To fall 2. To oppose
3. To provoke 4. To pretend

6. Sentences of a paragraph are given below in jumbled order. Arrange the sentences in the correct order to form a meaningful and coherent paragraph.

- A. While he was sawing, a man passing by in the street noticed him and said: "Bade mian (big brother), if you continue sawing the branch you are sitting on, you will fall down with it."
B. Nasiruddin mused to himself : "This foolish man has nothing better to do than go around telling other people what to do and what not to do."
C. One sunny morning, Mullah Nasiruddin was cutting off the branch of a tree in his garden.
D. As can be expected, Nasiruddin happened to be sitting on that very branch.

1. CDAB 2. CBDA
3. BDCA 4. DCAB

7. Select the most appropriate ANTONYM of the given word.

Diffidence

1. Similarity 2. Difference
3. Patience 4. Confidence

8. Select the most appropriate option to fill in the blanks.

He turneddeaf ear to advice of his parents.

1. a; a 2. a; the
3. the; the 4. the; an

9. Select the most appropriate synonym of the given word.

Obstinate

1. Unknown 2. Clever
3. Stubborn 4. Friendly

10. Select the most appropriate meaning of the given idiom.

At the eleventh hour

1. Immediately 2. At the earliest
3. At the last moment 4. Slowly and steadily

11. Parts of the following sentence have been given as options. Select the option that contains a spelling error.

The district administration rose to the occasion and rehabilitated the displaced people after the devastating earthquake.

1. after the devastating earthquake
2. rose to the occasion and
3. rehabilitated the displaced people
4. The district administration

12. Select the most appropriate option to fill in the blank.

The children could wait for their turn on the roller coaster.

1. barely 2. daily 3. mostly 4. usually

13. Parts of the following sentence have been given as options. Select the option that contains a spelling error.

You will soon get a promotion since your boss is well disposed towards you.

1. disposed towards you
2. your boss is well
3. a promotion since
4. You will soon get

14. Select the most appropriate option to fill in the blank. If no word is needed in the blank, select 'no word'.

Do you have _____ good reason for your absence?

1. no word 2. an 3. the 4. a

15. Select the option that can be used as a one-word substitute for the underlined segment.

My sister is interested in the study of plants.

1. Zoology 2. Botany
3. Astronomy 4. Geology

1. Sentences of a paragraph are given below in jumbled order. Arrange the sentences in the correct order to form a meaningful and coherent paragraph.

- A. It was especially curated for readers to inspire them to pick up fiction and cultivate their love for the genre.
B. The initiative includes a list of 10 bestselling international fiction titles.
C. Coinciding with World Book Day, Penguin Random House India on April 23 launched a nationwide initiative called 'Fiction Addiction'.
D. The publishing house says, "These books are perfect starting points for anyone looking to delve into fiction."

1. CADB 2. ABCD 3. BDCA 4. CABD

2. Select the most appropriate meaning of the given proverb.

Birds of a feather flock together

1. People with similar interests become friends
2. People who work in the same place
3. People who accept differences
4. People who look alike become friends

3. Read the following sentence and select the option that has a spelling error.

They stopped near an agricultural field for Sunil to enjoy the sight of sparrows fluttering around.

1. agricultural 2. sparrows
3. field 4. fluttering

4. Select the most appropriate option to fill in the blanks.

Get me mirror, bowl of water and torch or any light source.

1. the, a, the 2. a, the, the
3. a, a, the 4. a, a, a

पेपर क्र. - 9	10 - 3	11 - 3	12 - 1	13 - 1	14 - 4	15 - 2					
पेपर क्र. - 10	1 - 4	2 - 1	3 - 4	4 - 4							

1. Select the option that can be used as a one-word substitute for the underlined segment.

The person in-charge of the museum instructed the visitors not to touch any articles on display.

1. curator 2. attendant
3. guard 4. supervisor

2. Select the most appropriate synonym of the given word.

Persist

1. Cease 2. Struggle
3. Create 4. Continue

3. Parts of the following sentence have been given as options. Select the option that contains a spelling error.

The managing director visits the factory regularly for inspection.

1. factory regularly 2. for inspection
3. The managing 4. director visits the

4. Sentences of a paragraph are given below in jumbled order. Arrange the sentences in the correct order to form a meaningful and coherent paragraph.

- A. Since penicillin could help to save the wounded soldiers, it was used in war.
B. With its help, we can heal wounds caused by bacteria which cannot be otherwise healed.
C. Penicillin is one of the most useful drugs invented by man.
D. In the beginning, very few people knew of this wonderful discovery or its uses.

1. CBDA 2. CDBA
3. ABCD 4. ACDB

5. Sentences of a paragraph are given below in jumbled order. Arrange the sentences in

the correct order to form a meaningful and coherent paragraph.

- A. In 1784, he was the first to describe colour blindness, which came to be known as Daltonism.
B. John Dalton was an English Chemist whose atomic theory is the basis of Chemistry.
C. Dalton could not distinguish red from green.
D. The word is still used in French, Spanish and Russian.

1. BDAC 2. BCAD
3. BCDA 4. BACD

6. Select the most appropriate option to fill in the blank.

You could wait for the doctor take another appointment.

1. and 2. so
3. or 4. even

7. Select the most appropriate option to fill in the blank.

The arrow missed its mark.

1. narrowly 2. quietly
3. suddenly 4. quickly

8. Select the most appropriate meaning of the given idiom.

Go astray

1. Take a difficult route 2. Go on a long journey
3. Follow a wrong path 4. Walk carefully

9. Select the most appropriate ANTONYM of the given word.

Famished

1. Supported 2. Satiated
3. Starved 4. Stifled

10. Select the option that can be used as a one-word substitute for the underlined segment.

He went on driving the car, without knowing of the danger that awaited him.

1. offended 2. oblivious
3. omnipotent 4. odious

11. Select the most appropriate meaning of the given idiom.

Leave no stone unturned

1. To dig deep underground
2. To hunt for a treasure
3. To do one's best for something
4. To study the properties of stones

12. Parts of the following sentence have been given as options. Select the option that contains a spelling error.

Several people don't approve of her dimenour full of affectation.

1. her dimenour 2. full of affectation
3. Several people 4. don't approve of

13. Select the most appropriate option to fill in the blank. If no word is needed in the blank, select 'no word'.

We kept our fingers crossed when result was being announced.

1. an 2. a 3. the 4. No word

14. Select the most appropriate option to fill in the blank.

Taru rested the guests had left.

1. after 2. though
3. so that 4. if

15. Select the most appropriate option to fill in the blank. If no word is needed in the blank, select 'no word'.

Granting you fortnight's leave is out of the question.

1. a 2. an 3. the 4. no word

12

वनरक्षक शिफ्ट क्रमांक - 3

Date - 07/08/2023

1. Select the option that can be used as a one-word substitute for the underlined segment.

Some species of birds and animals are no longer in existence.

1. dormant 2. extinct
3. inactive 4. sterile

2. Sentences of a paragraph are given below in jumbled order. Arrange the sentences in the correct order to form a meaningful and coherent paragraph.

A. It was by chance that such a mould had dropped on the culture prepared by Fleming and partly destroyed it.

B. Moulds often grow in size and are blown about by the wind.

C. It was Fleming's alertness, curiosity and keen observation that led him to this great discovery.

D. But it had not been known that any of these moulds could destroy bacteria.

1. BCAD 2. CDAB
3. BADC 4. CBDA

3. Select the most appropriate ANTONYM of the given word.

Acclaim

1. Approve 2. Commend
3. Arrest 4. Censure

4. Select the option that can be used as a one-word substitute for the underlined segment.

Monsoon in India is very irregular and unpredictable.

1. exceptional 2. erratic
3. erroneous 4. economical

पेपर क्र. - 11	10 - 2	11 - 3	12 - 1	13 - 3	14 - 1	15 - 1						
पेपर क्र. - 12	1 - 2	2 - 3	3 - 4	4 - 2								

1. Sentences of a paragraph are given below in jumbled order. Arrange the sentences in the correct order to form a meaningful and coherent paragraph.

- A. In a jungle, there was a big cave.
 B. One day Naveen and his friends decided to unfold the mystery.
 C. Everyone said it had a ghost living in it.
 D. They decided to explore the cave in the night.

1. ACBD 2. ABDC 3. ADCB 4. ABCD

2. Read the following sentence and select the option that has a spelling error.

Albert Einstein's 1916 general theory of relativity first predicted the phenomenon of gravitational waves.

1. relativity 2. gravitational
 3. phenomanon 4. Theory

3. Select the most appropriate option to fill in the blanks.

I told anxious parents that baby needed a lot of sleep.

1. a, a 2. an, a 3. a, the 4. the, the

4. Select the most appropriate synonym of the given word.

Dainty

1. Harsh 2. Delicate 3. Clumsy 4. Smooth

5. Select the most appropriate option to fill in the blank.

The distinction right and wrong is not always crystal clear.

1. from 2. between 3. of 4. among

6. Select the option that can be used as a one word substitute for the underlined segment.

In our village there was a large lake used a source of water supply.

1. receptacle 2. stockpile
 3. lagoon 4. reservoir

7. Select the most appropriate option to fill in the blank.

She dismissed my suggestion.

1. badly 2. quickly 3. quick 4. fast

8. Read the following sentence and select the option that has a spelling error.

Seek help from a mental health profesional if this fear of happiness interferes with your personal and professional life.

1. health 2. interferes
 3. profesional 4. Happiness

9. Select the most appropriate meaning of the given proverb.

It takes two to tango.

1. Both parties in a difficult situation can be blameless
 2. Only one party takes the blame
 3. A third person decides who is to be blamed
 4. Both parties in a difficult situation are equally responsible

10. Select the most appropriate option to fill in the blanks.

Jagdish Chandra Bose was one of the greatest scientists of the world a remarkable biologist, botanist, bio-physicist and science-fiction writer.

1. not only, but also 2. so, that
 3. however, nevertheless 4. as, as

11. Select the most appropriate meaning of the given idiom.

Fit as a fiddle

1. To be musical 2. To be consistent
3. To be very healthy. 4. To be fidgety

12. Select the option that can be used as a one word substitute for the underlined segment.

Mr. Gupta completed a course on the study of the Earth's structure, and its formation.

1. cytology 2. morphology
3. cartography 4. geology

13. Select the most appropriate option to fill in the blanks.

When we were at Delhi Zoo, my daughter played with..... baby elephant.

1. an, an 2. a, the 3. a, a 4. the, a

14. Sentences of a paragraph are given below in jumbled order. Arrange the sentences in the correct order to form a meaningful and coherent paragraph.

- A. People started experimenting with nest boxes to help species revive.
B. Though not all efforts succeeded, birds that used cavities to nest like mynas, parakeets, owls, robins and sparrows stood a better chance.
C. However nest boxes can be quite a problem too, often, some other species, net the one you want, occupy the nest box.,
D. The Industrial Revolution brought habitat loss, excessive use of pesticides, and pollution in its wake, resulting in dwindling bird numbers.
1. DABC 2. BCDA 3. ABCD 4. CDBA

15. Select the most appropriate ANTONYM of the given word.

Clandestine

1. Concealed 2. Secret
3. Forthright 4. Cloudy

1. Select the most appropriate option to fill in the blanks.

Sir CV Raman was physicist and first Indian to win Nobel Prize in 1930.

1. the, the, a 2. the, the, the
3. a, a, a 4. a, the, the

2. Select the option that can be used as a one word substitute for the underlined segment.

My artist friend is skilled in appreciating beauty based on specific principles.

1. metaphysics 2. transcendence
3. aesthetic 4. rationalism

3. Read the following sentence and select the option that has a spelling error.

The most efficacious of advice I dispense to the millennials, who are on the threshold of settled life, is to keep their body weight and mind temper under control.

1. threshold 2. efficacious
3. dispense 4. millennials

4. Select the most appropriate option to fill in the blanks.

With his grandfather's help, he mounted birdhouse on iron pole and placed it in garden in front of their house.

1. a, a, the 2. a, a, a 3. a, an, the 4. a, an, an

5. Select the most appropriate option to fill in the blank.

The dancer got a standing ovation she had practiced this dance form for a long time.

1. as 2. though 3. once 4. so

6. Select the most appropriate synonym of the given word.

Veteran

1. Expert 2. Amateur
3. Apprentice 4. Novice

पेपर क्र. - 13	11 - 3	12 - 4	13 - 4	14 - 1	15 - 3					
पेपर क्र. - 14	1 - 4	2 - 3	3 - 2	4 - 3	5 - 1	6 - 1				

1. Select the most appropriate verb to fill in the blanks for the given sentence:

When I..... to a foreign country, I always stay at a hotel.

1. travelled 2. travels
3. travel 4. is travelling

2. Choose the most appropriate meaning of the below mentioned word from the below options:

Arbitrary

1. Impartial 2. Fair 3. Arogant 4. Rational

3. Choose the most appropriate meaning of the below quoted idiom from the below options: "Let bygones be bygones"

1. To avoid restarting a conflict
2. To forget about a disagreement or argument
3. To share a secret that wasn't supposed to be shared
4. To politely ask for someone's full attention

4. Choose an option, which can be substituted for a given word/sentence/phrase out of given options.

A life history written by somebody else

1. Autobiography 2. Ornithology
3. Anthropology 4. Biography

5. Choose the most appropriate meaning of the below mentioned word from the below options :

Abstain

1. Refuse 2. Decide 3. Choose 4. Determine

6. Choose the most logical order of the words from among the four given choices to construct a sentence:

- A) and approaches to enhance

- B) effectiveness and increase production,
C) The Indians embraced scientific ideologies
D) technology, engineering, and art
E) leading to improvements in innovation,
1. ABCDE 2. ACDEB
3. AEDBC 4. CABED

7. Parts of the following sentence have been given as option that contains an error in spelling. If you don't find any error, mark "No error" as your answer.

To achieve a full renewable energy plan for future, it is essential to address the challenges of sustainability and technological preparedness.

1. technological 2. No error
3. esental 4. renewable

8. Choose the most logical order of the words from among the four given choices to construct a sentence:

- A) night B) as if you
C) did not sleep D) Dall
E) You Lock

1. DECBA 2. EBCDA 3. ABCDE 4. CDBAE

9. Choose an option, which can be substituted for a given word/sentence/phrase out of given options.

In Magadh there was a government by a king.

1. Anarchy 2. Plutocracy
3. Monarchy 4. Democratic

10. Select the most appropriate verb to fill in the blanks for the given sentence:

My father is an engineer. He for a multinational company.

1. Will be worked 2. working
3. works 4. is worked

पेपर क्र. - 15	1 - 3	2 - 3	3 - 2	4 - 4	5 - 1	6 - 4	7 - 3	8 - 2	9 - 3	10 - 3	
----------------	-------	-------	-------	-------	-------	-------	-------	-------	-------	--------	--

11. Select the most appropriate verb to fill in the blanks for the given sentence:

It is really important to wear a helmet when you a bike.

1. rode 2. to ride
3. are riding 4. are Roding

12. Choose the most appropriate meaning of the below quoted idiom from the below options:

"Fair and Square"

1. Someone who is dishonest
2. Someone who is authoritative
3. In an honest way and without any doubt
4. Someone who's Intentions are always doubtful

13. Select the most appropriate article to fill in the blanks for the given sentence: Mark "No article" if there is no requirement of article.

The ancient Egyptians built pyramids.

1. No article 2. a
3. the 4. an

14. Select the most appropriate article to fill in the blanks for the given sentence: Mark "No article" if there is no requirement of article.

A young man got a nasty shock when he tried to rob a jewellery shop in Richmond. man used a heavy hammer to smash the windows in the shop.

1. an 2. the
3. a 4. No article

15. Parts of the following sentence have been given as option that contains an error in spelling. If you don't find any error, mark "No error" as your answer.

The persuit of economic growth and progress has led to significant environmental damage, which has created a sense of urgency to adopt sustainable practices.

1. significant 2. practices
3. No error 4. A persuit

16

वनरक्षक शिफ्ट क्रमांक - 1

Date - 09/08/2023

1. Select the most appropriate option to fill in the blanks.

..... prize for best student was given to Riya.

1. The, the 2. An, the
3. No word required, a 4. A, an

2. Sentences of a paragraph are given below in jumbled order. Arrange the sentences in the correct order to form a meaningful and coherent paragraph.

- A. Our solar system was formed about 4.5 billion years ago!
B. There are also moons, dwarf planets, asteroids, comets, rocks and dust.
C. It consists of our sun and eight main planets: Mercury, Venus, Earth, Mars, Jupiter, Saturn, Uranus and Neptune.
D. But what exactly is the solar system?
1. ACDB 2. AD BC
3. ABDC 4. ADCB

3. Select the most appropriate option to fill in the blank.

The grey-coloured house at the corner of the street is

1. me 2. mine 3. my 4. myself

4. Select the most appropriate option to fill in the blank.

Anand gave his toys when he grew up.

1. in 2. aside 3. forth 4. away

5. Select the most appropriate ANTONYM of the given word.

Premature

1. Previous 2. Past 3. Rash 4. Overdue

पेपर क्र. - 15	11 - 3	12 - 3	13 - 3	14 - 2	15 - 4						
पेपर क्र. - 16	1 - 1	2 - 4	3 - 2	4 - 4	5 - 4						

1. Select the most appropriate option to fill in the blank.

Here is school I studied in.

1. the 2. a
3. an 4. No word required

2. Select the most appropriate option to fill in the blank.

The child refused to give his crayons, saying,
"They are"

1. myself 2. mine
3. my 4. me

3. Sentences of a paragraph are given below in jumbled order. Arrange the sentences in the correct order to form a meaningful and coherent paragraph.

- A. In class we often have to work in groups.
B. Sometimes it's difficult because we can't speak English very well.
C. And at other times, we forget to do the work and talk about other things.
D. Further, everyone also talks at the same time or people speak very loudly!

1. ADCB 2. ABCD
3. ACBD 4. ADBC

4. Select the most appropriate synonym of the given word.

Ailing

1. Penniless 2. Destitute
3. Humble 4. Unwell

5. Select the most appropriate meaning of the given proverb.

Haste makes waste

1. You make mistakes when you try to do something too fast

2. Do not waste things without checking if they can be of use
3. One can quickly make useful things out of waste products
4. Throw away waste before it putrefies and smells

6. Select the option that can be used as a one-word substitute for the underlined group of words.

We did not have any heavy showers, it was only a light rain falling in very fine drops.

1. trickle 2. flood
3. mist 4. drizzle

7. Select the most appropriate option to fill in the blanks.

Liza bought herself chocolate ice-cream at shop.

1. an, a 2. the, an
3. No word required, an 4. a, the

8. Select the most appropriate ANTONYM of the given word.

Jagged

1. Stiff 2. Smooth
3. Blemished 4. Coarse

9. Select the most appropriate option to fill in the blank.

Please put the fruits this basket.

1. out 2. on 3. into 4. off

10. Select the most appropriate meaning of the given idiom.

Look up to

1. To respect and admire someone
2. To stand next to someone tall
3. To be afraid of someone
4. To help someone in need

11. Select the correctly spelt sentence.

1. Ajay has chosen the engineering stream.
2. Ajay has chosen the enginneering stream.
3. Ajay has chosen the enggineering stream.
4. Ajay has chosen the engineering stream.

12. Select the most appropriate option to fill in the blank.

..... you don't want coffee I can make some tea for you.

1. If
2. So
3. However
4. Though

13. Select the correctly spelt sentence.

1. The televesion is not working today.
2. The television is not working today.
3. The talevision is not working today.
4. The telivision is not working today.

14. Sentences of a paragraph are given below in jumbled order. Arrange the sentences in the correct order to form a meaningful and coherent paragraph.

- A. Digital citizens can use technology to communicate with others online and know how to use the internet in a safe and responsible way.
- B. We use the word 'digital' to talk about computer technology; Being a 'citizen' means that you belong to a group of people.
- C. Everyone's talking about 'digital citizenship', but what is it?
- D. Are you a good digital citizen?

1. ADCB
2. CBAD
3. ACDB
4. CDAB

15. Select the option that can be used as a one-word substitute for the underlined group of words.

A large crowd of people, especially one that was disorderly and wanted to cause trouble or violence had gathered in front of the factory.

1. mob
2. pack
3. flock
4. group

18

वनरक्षक शिफ्ट क्रमांक - 3

Date - 09/08/2023

1. Given below are four jumbled sentences. Select the option that gives their correct order forming a meaningful and coherent paragraph.

- A. You can hire a bike and ride in cycle lanes which are separated from the traffic.
- B. In Singapore, to save space, people grow vegetables in lots of layers in special tall buildings, called 'vertical farms'.
- C. For example, Bristol is a cycling city in England.
- D. Many cities are already planning for the future.

1. ABDC
2. CADB
3. DCAB
4. BACD

2. Select the most appropriate option to fill in the blank.

Someone knocked the door.

1. at
2. in
3. to
4. by

3. Given below are four jumbled sentences. Select the option that gives their correct order forming a meaningful and coherent paragraph.

- A. Then, we spent hours outside having great fun with our friends.
- B. First we used water pistols to fill balloons with coloured water.
- C. On Holiday, we prepared everything before we started playing.
- D. We also put powdered colours on our faces and threw the coloured water at each other.

1. CBDA
2. CABD
3. CADB
4. CDBA

4. Select the option that can be used as a one-word substitute for the underlined group of words.

The teacher asked the children to say again the words she read out from the book.

1. relate
2. repeat
3. recover
4. reveal

पेपर क्र. - 17	11 - 4	12 - 1	13 - 2	14 - 2	15 - 1						
पेपर क्र. - 18	1 - 3	2 - 1	3 - 1	4 - 2							

1. Select the INCORRECTLY spelt word in the given sentence.

Studies have found that the fear of happiness reduces life satisfaction, self-esteem and resilience, as well as various aspects of mental well-being.

1. Studies 2. Satisfaction
3. Resilience 4. Self-esteem

2. Select the most appropriate option to fill in the blanks.

A couple weeks ago, the internet burst a frenzied outrage.

1. of, into 2. of, of
3. at, in 4. in, into

3. Select the option that can be used as a one-word substitute for the underlined group of words.

I went to the museum to have a look at a collection of historical documents.

1. registers 2. archives
3. clippings 4. scrolls

4. Select the most appropriate option to fill in the blanks.

.....honest person isvaluable asset to our company.

1. A, a 2. The, a
3. The, the 4. An, a

5. Select the most appropriate option to fill in the blanks.

Walking was inculcated very early in lives, a practice and exercise that held in better shape.

1. their, us 2. our, them
3. his, us 4. our, us

6. Sentences of a paragraph are given below in jumbled order. Arrange the sentences in the correct order to form a meaningful and coherent paragraph.

- A. It is 7 a.m., the lanes, by-lanes and roads in residential areas are busy.
B. In addition to these modes of transport are the two and four-wheelers and the public transport buses.
C. This is a regular sight in many cities.
D. School buses, vans and autorickshaws are busy picking up children for school.

1. ABCD 2. ACBD 3. ADCB 4. ADBC

7. Select the most appropriate option to fill in the blanks.

You needuniversity degree in journalism before you apply to post you want.

1. a, an 2. a, the
3. the, the 4. an, a

8. Select the most appropriate meaning of the given proverb.

Better late than never

1. It is better to be late than not arriving or completing a task.
2. It is not acceptable to arrive late.
3. It is not possible to arrive late every time.
4. It is better to give an excuse than tell the truth.

9. Select the option that can be used as a one-word substitute for the underlined group of words.

At the Lakshmi Narayan temple, I joined a group of worshippers.

1. congregation 2. multitude
3. throng 4. flock

10. Select the most appropriate meaning of the given idiom.

Like two pods in a pea

1. Two people who look alike.
2. Two people who are always together
3. Two separate individuals
4. Two people who love each other

11. Select the INCORRECTLY spelt word in the given sentence.

A universal delight, the gulmohar, or the 'flame of the forest, as it is called for its flamboant bright orange flowers blooms in summer around mid-March, grows into a flaming canopy by May.

1. Universal
2. Blooms
3. Canopy
4. Flamboant

12. Sentences of a paragraph are given below in jumbled order. Arrange the sentences in the correct order to form a meaningful and coherent paragraph.

- A. Since some parts of their territories had glaciers and enjoyed snowfall, the Mughals had access to ice.
- B. They established a system of human runners, horses, bullock carts, boats and other forms of transport to bring ice from the Himalayas to cities like Lahore and Delhi.
- C. The Mughals were fascinated by ice.
- D. In these cities, blocks of ice were carefully cut out, wrapped in multiple layers of fine clean cotton and then jute cloth.

1. BACD
2. DBCA
3. ABCD
4. CABD

13. Select the most appropriate option to fill in the blanks.

..... our childhood days, we would walk to school
..... back.

1. When, but
2. While, and
3. During, but
4. During, and

14. Select the most appropriate synonym of the given word.

Dissuade

1. Discourage
2. Inspire
3. Incite
4. Assist

15. Select the most appropriate ANTONYM of the given word.

Abject

1. Mean
2. Servile
3. Sordid
4. Exalted

20

वनरक्षक शिफ्ट क्रमांक - 2

Date - 10/08/2023

1. Select the most appropriate meaning of the given idiom.

Eager beaver

1. Someone who pleases everyone
2. An animal lover
3. A keen and enthusiastic person
4. Someone who is ready to fight

2. Select the option that can be used as a one-word substitute for the underlined group of words.

I was appointed as a person to settle disputes in the village.

1. lawyer
2. solicitor
3. arbitrator
4. middleman

3. Select the most appropriate option to fill in the blanks.

Grabopportunity when honest man offers it.

1. a, an
2. an, a
3. the, an
4. a, a

4. Select the option that can be used as a one-word substitute for the underlined group of words.

This is the place where they make leather from animal skins.

1. butchery
2. tannery
3. slaughter house
4. tenement

पेपर क्र. - 19	10 - 1	11 - 4	12 - 4	13 - 4	14 - 1	15 - 4						
पेपर क्र. - 20	1 - 3	2 - 3	3 - 3	4 - 2								

गणित व बुद्धिमत्ता

01

वनरक्षक शिफ्ट क्रमांक - 1

Date - 02/08/2023

1. P आणि Q हे एकाच बिंदूपासून सुरुवात करतात. P हा उत्तरेला 20m चालतो, नंतर पश्चिमेला वळतो आणि 40 m चालतो, नंतर तो त्याच्या उजवीकडे वळतो आणि 25 m चालतो. त्याच वेळी Q हा उत्तरेकडे 45 m चालतो. P च्या स्थानाच्या संदर्भात Q आता कोठे आहे?

1. P च्या पश्चिमेस 20 m 2. P च्या पश्चिमेस 40 m
3. P च्या पूर्वेला 20 m 4. P च्या पूर्वेस 40 m

2. खालील मालिकेत पुढील स्थानी येणारी व तिला पूर्ण करणारी संख्या निवडा. - 3, 16, 125

1. 1296 2. 1256 3. 1246 4. 1286

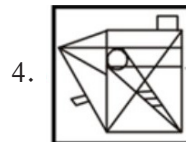
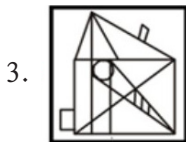
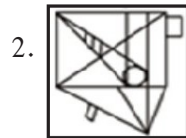
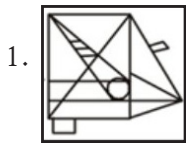
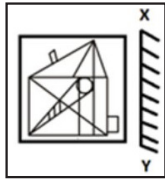
3. जर परवा गुरुवार असेल, तर कालच्या आधीच्या दिवशी कोणता दिवस होता ?

1. शनिवार 2. मंगळवार
3. रविवार 4. सोमवार

4. दिलेल्या शब्दातील अक्षरे वापरून तयार न होऊ शकणारा शब्द निवडा. - STABLE

1. SALE 2. LEAST 3. TABLE 4. STICK

5. आरसा XY वर धरला असता मिळणारी दिलेल्या आकृतीची योग्य दर्पण प्रतिमा निवडा.



6. कौशल म्हणाला, “प्रशांतची आई ही माझ्या वडिलांच्या पत्नीची आई आहे.” प्रशांतचे कौशलसोबत काय नाते आहे?

1. आईचे वडील 2. आईचा भाऊ
3. भाऊ 4. वडिलांचा भाऊ

7. खालील मालिकेत पुढील स्थानी येणारा व तिला पूर्ण करणारा अक्षरगत निवडा.

PBCD, PCEG, PDGJ

1. PKMT 2. PEIM
3. PFJK 4. PLXT

8. प्रश्नचिन्हाच्या (?) जागी घेऊ शकेल व खालील शब्दांपासून अर्थपूर्ण शब्द बनवू शकेल असे अक्षर दिलेल्या पर्यायांमधून निवडा.

? EAM, ?ICK, ?EASE, ? RUTH

1. T 2. S 3. C 4. P

9. चार शब्दजोड्या दिलेल्या आहेत, ज्यांपैकी तिन्हीमध्ये एक विशिष्ट साधर्म्य आहे आणि एक वेगळी आहे. ती वेगळी शब्दजोडी ओळखा.

1. चीन - बीजिंग 2. श्रीलंका - कोलंबो
3. नेपाळ - काठमांडू 4. बिहार - पाटणा

10. खालील मालिकेत प्रश्नचिन्हाच्या (?) जागी घेऊ शकणारा अक्षर-समूह दिलेल्या पर्यायांतून निवडा.

CDQ, EFR, GHS, ?

1. ABP 2. IJT 3. IJK 4. MNO

11. ज्याप्रमाणे दुसरा अक्षर-समूह पहिल्या अक्षर समूहाशी संबंधित आहे, त्याचप्रमाणे तिसऱ्या अक्षर-समूहाशी संबंधित असलेला पर्याय निवडा.

LSX : NUZ :: GKG : ?

1. JNP 2. IMS 3. INP 4. JMS

पेपर क्र. - 1

1 - 4

2 - 1

3 - 3

4 - 4

5 - 3

6 - 2

7 - 2

8 - 1

9 - 4

10 - 2

11 - 2

12. खालील मालिकेत पुढील स्थानी येणारी व तिला पूर्ण करणारी संख्या निवडा.

8, 26, 80, 242

1. 728 2. 164 3. 160 4. 162

13. एका मुलाकडे बोट दाखवत मानस म्हणाला, “तो क्रिकेट खेळणारा मुलगा हा माझ्या वडिलांच्या बायकोचा मुलगा आहे.” त्या क्रिकेट खेळणाऱ्या मुलाचे मानससोबत काय नाते आहे?

1. भाऊ 2. मुलगा
3. वडिलांचे वडील 4. वडील

14. खालील मालिकेत पुढील स्थानी येणारे व तिला पूर्ण करणारे अक्षर निवडा.

B, D, F, H

1. L 2. K 3. J 4. A

15. खालील मालिकेत पुढील स्थानी येणारी व तिला पूर्ण करणारी संख्या निवडा.

7, 9, 13, 21

1. 38 2. 37 3. 24 4. 28

02

वनरक्षक शिफ्ट क्रमांक - 2

Date - 02/08/2023

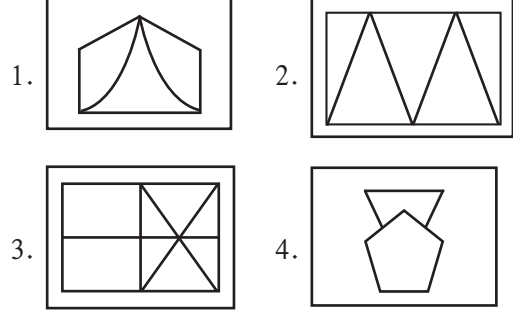
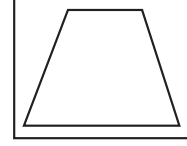
Q.1 Four word-pairs have been given, out of which three are alike in some manner and one is different. Select the one that is different.

1. Lucknow - Uttar Pradesh
2. Patna - Bihar
3. Jaipur - Rajasthan
4. Kathmandu - Nepal

2. एका मुलाकडे बोट दाखवत राजीव म्हणाला, “तो क्रिकेट खेळणारा मुलगा हा माझ्या वडिलांच्या पत्नीचा मुलगा आहे.” त्या मुलाचे राजीवसोबत काय नाते आहे ?

1. मुलगा 2. आजोबा (वडिलांचे वडील)
3. भाऊ 4. वडील

3. खालीलपैकी कोणता पर्याय वरील चित्रात अंतर्निहित आहे?



4. खालील मालिकेतील प्रश्नचिन्हाच्या (?) जागी येऊ शकेल, अशी संख्या दिलेल्या पर्यायांमधून निवडा.

13, 25, 51, 101, 203, ?

1. 406 2. 404
3. 405 4. 408

5. खालील मालिकेतील प्रश्नचिन्हाच्या (?) जागी येऊ शकेल, असे अक्षर दिलेल्या पर्यायांमधून निवडा.

A, C, E, G, ?

1. D 2. I
3. J 4. K

6. P, Q, R, S, T, U, V या सात मित्रांपैकी, V हा P आणि R यांच्यापेक्षा वयाने मोठा आहे. R हा S पेक्षा वयाने मोठा आहे आणि U हा फक्त एका मित्रापेक्षा वयाने मोठा आहे. P हा वयाने तिसरा सर्वात मोठा आहे. T वयाने सर्वात लहान आहे. V हा Q पेक्षा वयाने लहान आहे. वयाने सर्वात मोठा कोण आहे?

1. Q 2. S 3. R 4. P

7. खालील मालिकेतील प्रश्नचिन्हाच्या (?) जागी येऊ शकेल, अशी संख्या दिलेल्या पर्यायांमधून निवडा.

2, 8, 26, 80, ?

1. 162 2. 242
3. 160 4. 164

पेपर क्र. - 1	12 - 1	13 - 1	14 - 3	15 - 2						
पेपर क्र. - 2	1 - 4	2 - 3	3 - 3	4 - 3	5 - 2	6 - 1	7 - 2			

8. खालील मालिकेतील प्रश्नचिन्हाच्या (?) जागी येऊ शकेल, अशी संख्या दिलेल्या पर्यायांमधून निवडा.

6, 9, 14, 21, 30, ?

1. 44 2. 41 3. 42 4. 46

9. ज्याप्रमाणे दुसरे पद पहिल्या पदाशी संबंधित आहे, त्याचप्रमाणे तिसऱ्या पदाशी संबंधित असलेला पर्याय निवडा.

AVES : EVAS :: NAME : ?

1. MANE 2. ENAM
3. ANEM 4. MENA

10. X आणि Y हे एकाच बिंदूपासून सुरुवात करतात. X उत्तरेकडे 20 m चालतो, नंतर पश्चिमेला वळतो आणि 40 m चालतो, नंतर उजवीकडे वळतो आणि 25 m चालतो. त्याचवेळी, Y उत्तरेकडे 45 m चालतो. X च्या स्थानाच्या संदर्भात, Y आता कोठे आहे?

1. X च्या पश्चिमेस 20 m 2. X च्या पश्चिमेस 40 m
3. X च्या पूर्वेस 40 m 4. X च्या पूर्वेस 20 m

11. Which word CANNOT be formed by 'TEACHER'?

ARCHER - There are 2 R in this word.

TECHNO - There is N and O in this word.

1. TECHNO 2. ARCH
3. TEACH 4. TEA

12. अर्थपूर्ण शब्द बनवण्यासाठी (?) च्या जागी कोणते अक्षर ठेवले पाहिजे?

? ICK, ? OUR, ? EAT, ? PAM

1. R 2. T 3. P 4. S

13. खालील मालिकेतील प्रश्नचिन्हाच्या (?) जागी येऊ शकेल, अशी संख्या दिलेल्या पर्यायांमधून निवडा.

40, 30, 22, 16, 12, ?

1. 16 2. 12 3. 14 4. 10

14. "अरुण म्हणाला, पंकजची आई ही माझ्या वडिलांच्या पत्नीची आई आहे". पंकजचे अरुणसोबत काय नाते आहे?

1. आईचा भाऊ 2. भाऊ
3. आजोबा (आईचे वडील) 4. वडिलांचा भाऊ

15. खालील मालिकेतील प्रश्नचिन्हाच्या (?) जागी येऊ शकेल, अशी संख्या दिलेल्या पर्यायांमधून निवडा.

8, 16, ?, 64, 128

1. 64 2. 32
3. 112 4. 118

03

वनरक्षक शिफ्ट क्रमांक - 3

Date - 02/08/2023

1. खालील अक्षर शृंखलेचा संदर्भ घ्या आणि प्रश्नाचे उत्तर द्या.

(डावे) ZKTLKNMKTUZRDTKUIE K
TMFOD (उजवे) असे किती K आहेत, ज्यांपैकी प्रत्येकाच्या लगेचच आधी व्यंजन येते आणि लगेचच नंतरदेखील एक व्यंजन येते?

1. 3 2. 1
3. 2 4. 5

2. A + B म्हणजे, A हे B चे वडील आहेत.

A - B म्हणजे, A हा B चा भाऊ आहे.

A - B म्हणजे, A ही B ची पत्नी आहे.

A*B म्हणजे, A हा B चा मुलगा आहे.

जर A/B * C - D असेल, तर C चे A सोबत काय नाते आहे?

1. भाऊ 2. आई
3. मुलगा 4. वडिलांचा भाऊ

3. खालील मालिकेतील प्रश्नचिन्ह (?) बदलू शकेल, अशी संख्या दिलेल्या पर्यायांमधून निवडा.

-1, 1, 11, ?, 79,

1. 24 2. 35
3. 44 4. 27

4. काही खोकी एका ओळीत ठेवलेली आहेत आणि ती कोणत्या क्रमाने ठेवलेली आहेत ते खाली दिले आहे.

(डावे) R, N, Y, P, K, B, W, G, O, V (उजवे) कोणते खोके डावीकडून पाचवे आहे?

1. K 2. Y
3. P 4. B

पेपर क्र. - 2	8 - 2	9 - 1	10 - 3	11 - 4	12 - 4	13 - 4	14 - 1	15 - 2				
पेपर क्र. - 3	1 - 1	2 - 2	3 - 2	4 - 1								

1. जर '+' म्हणजे 'भागाकार', '-' म्हणजे 'गुणाकार', 'x' म्हणजे 'बेरीज' आणि '+' म्हणजे 'वजाबाकी असेल, तर खालील पदावलीचे मूल्य शोधा.

$$77 + 11 - 5 \times 33 \div 11$$

1. 68 2. 73
3. 61 4. 57

2. एका मुलाची ओळख करून देताना, एक मुलगी म्हणाली, "तो माझ्या अंकलच्या वडिलांच्या मुलीचा मुलगा आहे." तर त्या मुलगा आणि मुलगी यांच्यातील नाते काय असेल?

1. पुतण्या (भावाचा मुलगा)
2. वडील
3. काका (वडिलांचा भाऊ)
4. वडिलांच्या भावाचा मुलगा किंवा मुलगी (चुलत)

3. प्रिती, दिया, रीता, सनी, तिया, उमर आणि विनिता यांच्यापैकी प्रत्येकाची एकाच आठवड्यातील सोमवारी सुरु होऊन रविवारी संपणाऱ्या एका आठवड्याच्या वेगवेगळ्या दिवशी परीक्षा आहे. प्रितीची परीक्षा शुक्रवारी आहे. प्रिती आणि उमर यांच्यादरम्यान फक्त एकाच व्यक्तीची परीक्षा आहे. उमरच्या परीक्षेच्या लगेचच आधीच्या दिवशी रीताची परीक्षा आहे पण शनिवारी नाही. रीता आणि तिया यांच्यादरम्यान फक्त एकाच व्यक्तीची परीक्षा आहे. विनिताची परीक्षा सनीच्या परीक्षेच्या चार दिवस आधी आहे. खालीलपैकी कोणाची परीक्षा रविवारी आहे?

1. तिया 2. दिया
3. रीता 4. सनी

4. EDUCATION या शब्दातील प्रत्येक अक्षराची मांडणी वर्णक्रमानुसार केली असेल. तर डावीकडून चौथे अक्षर आणि उजवीकडून चौथे असलेले अक्षर यांच्यादरम्यान इंग्रजी वर्णक्रमानुसार येणारी किती अक्षरे असतील ?

1. आठ 2. सहा 3. सात 4. नऊ

5. खालील मालिकेत प्रश्नचिन्हाच्या (?) जागी येऊ शकेल अशी संख्या दिलेल्या पर्यायांतून निवडा.

$$8, 6, 18, 14, 70, 64, ?$$

1. 324 2. 448
3. 144 4. 320

6. दिलेल्या मालिकेत रिकाम्या जागी क्रमवार भरल्यास ती मालिका पूर्ण करेल असे अक्षरांचे संयोजन निवडा.

KL_DM_L_EMK_P_M_LP_M

1. P G P K L K P 2. P M K L K D N
3. P K P L F K G 4. P D P F F K L

7. खाली दिलेल्या तीन अंकी संख्येचा लक्षपूर्वक अभ्यास करा आणि पुढील प्रश्नांचे उत्तर द्या.

(टीप : सर्व गणितीय क्रिया डावीकडून उजवीकडे कराव्यात.)

$$249, 121, 483, 857, 765, 634$$

सर्वात मोठ्या संख्येच्या तिसऱ्या अंकास सर्वात लहान संख्येच्या तिसऱ्या अंकात जोडल्यास मिळणारी परिणामी संख्या काय असेल ?

1. 10 2. 12 3. 6 4. 8

8. खालील समीकरणात प्रश्नचिन्हाच्या (?) जागी अंदाजे कोणते मूल्य आले पाहिजे ?

$$7.83 + 10.55 \times 6.78 - 12.66 = ?$$

1. 56 2. 78 3. 45 4. 67

9. चार अक्षर जोड्या दिल्या आहेत, त्यांपैकी तीन विशिष्ट तऱ्हेने समान आहेत आणि एक वेगळी आहे. गटात न बसणारी अक्षरजोडी निवडा.

1. KE 2. PU 3. DA 4. AI

10. जर 'B x D' म्हणजे 'B हे D चे वडील आहेत',

'B + D म्हणजे B ही D ची पत्नी आहे',

'B - D म्हणजे B ही D ची मुलगी आहे' आणि

'B ÷ D म्हणजे B हा D चा मुलगा आहे.

तर खालील पदावलीत D चे T सोबत काय नाते आहे ?

$$'D \div F \times L - M \div T'$$

1. मुलगी 2. नात 3. भाऊ 4. मुलगा

11. CREATION या शब्दात (पुढे आणि मागे दोन्ही दिशेने) अक्षरांच्या अशा किती जोड्या आहेत, ज्यांच्यादरम्यान तितकीच अक्षरे आहेत जितकी इंग्रजी वर्णक्रमानुसार आहेत ?

1. एक 2 एकही नाही 3. दोन 4. तीन

12. UR 17 हे PM 15 शी एका विशिष्ट प्रकारे संबंधित आहे. त्याचप्रकारे, XU 19 हे SP 17 शी संबंधित आहे. या समान तर्काचे अनुसरण केल्यास, VS 18 हे खालीलपैकी कशाशी संबंधित आहे ?

1. QM 19 2. QN 16 3. NQ 17 4. NS 20

13. दिलेल्या प्रारूपाच्या तळाशी दर्पण ठेवल्यावर मिळणारी योग्य दर्पण प्रतिमा (तळापासून) निवडा.

687654

1. ९१४२४५ 2. ४१४२२४५
3. ९४१९२४ 4. ९१४३२४

14. खालील मालिकेत प्रश्नचिन्हाच्या (?) जागी येणारे पद दिलेल्या पर्यायांतून निवडा.

GEC 2, JHF 5, MKI 8, PNL 11, ?

1. SQO 14 2. LPN 15 3. BGF 16 4. OQS 17

15. रितू मुस्कानच्या उत्तरेकडे उभी आहे. रश्मी मुस्कानच्या पूर्वेकडे उभी आहे. योगेश रश्मीच्या पश्चिमेकडे उभा आहे. प्रिया योगेशच्या दक्षिणेकडे उभी आहे. रितूचे स्थान प्रियाच्या उत्तर-पूर्वेस आहे. योगेशच्या संदर्भात मुस्कानचे स्थान काय आहे ?

1. पूर्व 2. दक्षिण 3. उत्तर 4. पश्चिम

05 वनरक्षक शिफ्ट क्रमांक - 2
Date - 03/08/2023

1. जर खालीलपैकी प्रत्येक अक्षर-समूहातील डावीकडून पहिल्या आणि तिसऱ्या अक्षरांची अदलाबदल केली आणि नंतर परिणामी अक्षर समूहांना शब्दकोशातील क्रमाने मांडले, तर मांडणीच्या अंतिमस्थानी कोणता अक्षर-समूह येईल ?

NDGT, NDGS, NDGR, HRFG, NFGT

1. NDGT 2. NFGT
3. NDGR 4. HRFG

2. जर खालील 4 अंकी संख्यांमधील प्रत्येकीच्या पहिल्या आणि शेवटच्या अंकांची अदलाबदल केली आणि परिणामी संख्यांना उतरत्या क्रमाने लिहिले, तर मांडणीच्या मध्यभागी कोणती संख्या दिसेल ?

7465, 7456, 7645, 7354, 7856

1. 7645 2. 7354 3. 7465 4. 7856

3. जर

A + B म्हणजे 'A हे B चे वडील आहेत',

A - B म्हणजे 'A ही B ची बहीण आहे',

A x B म्हणजे 'A हा B चा भाऊ आहे',

तर खालील पदावलीत P चे T सोबत काय नाते आहे ?

P + Q + R x S - T

1. भाऊ 2. आईचे वडील
3. वडिलांचे वडील 4. काका (वडिलांचा भाऊ)

4. चार अक्षरसमूह दिले आहेत, ज्यापैकी तीन एका विशिष्ट तऱ्हेने समान आहेत आणि एक वेगळा आहे. गटात न बसणारा अक्षर समूह शोधा.

1. POT 2. ILL 3. TAB 4. BET

5. खालील मालिकेतील प्रश्नचिन्हाच्या (?) जागी येऊ शकेल असे पद दिलेल्या पर्यायांतून निवडा.

xxx, x¹xx, x¹x¹x, x¹x¹x¹, x²x¹x¹, x²x²x¹, ?

1. x²x²x³ 2. x²x²x² 3. x³x²x² 4. x²x²x²

6. दिलेल्या पर्याय आकृत्यांमधून, खालील आकृतीची (आकृतीच्या उजव्या बाजूला ठेवल्यावर मिळणारी) दर्पण प्रतिमा निवडा.



1. 2. 3. 4.

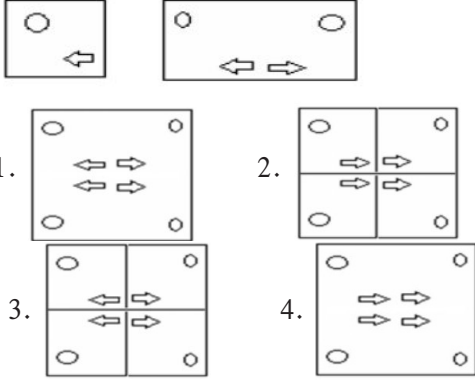
पेपर क्र. - 4	11 - 3	12 - 2	13 - 3	14 - 1	15 - 1					
पेपर क्र. - 5	1 - 2	2 - 1	3 - 3	4 - 2	5 - 4	6 - 1				

1. जर आज मंगळवार आहे, तर तीन दिवसांपूर्वी कोणता वार होता?
1. शनिवार 2. शुक्रवार 3. बुधवार 4. गुरुवार
2. खालील मालिकेतील प्रश्नचिन्ह (?) बदलू शकेल, असे पद दिलेल्या पर्यायांमधून निवडा.
ACEG, BDFH, ?, DFHJ
1. DFGI 2. CEGH 3. CFGI 4. CEGI
3. ज्याप्रमाणे दुसरे पद पहिल्या पदाशी संबंधित आहे, त्याचप्रमाणे तिसऱ्या पदाशी संबंधित असलेला पर्याय निवडा.
A2D : Z4W :: B3E : ?
1. X4Y 2. Y4V 3. D6E 4. Y6V
4. 'ABRAHAM' या शब्दांत अक्षरांच्या अशा किती जोड्या आहेत, ज्यांमध्ये त्या शब्दात (पुढील आणि मागील दोन्ही दिशेने) जितकी अक्षरे आहेत, तितकीच अक्षरे इंग्रजी वर्णमालेच्या क्रमानुसार त्यांच्यादरम्यान आहेत?
1. 1 2. 4 3. 3 4. 2
5. खालील मालिकेतील प्रश्नचिन्हाला (?) बदलू शकेल, अशी संख्या दिलेल्या पर्यायांतून निवडा.
-2, -1, 0, ?, 26
1. 4 2. 13 3. 7 4. 21
6. अनुज दक्षिणेकडे 7 km चालला आणि नंतर डावीकडे वळला. 3 km अंतर कापल्यानंतर, त्याने पुन्हा डावे वळण घेतले आणि तो 4 km चालला. मग त्याने उजवे वळण घेतले आणि 2 km अंतर कापले. त्याने पुन्हा उजवे वळण घेतले आणि 9 km अंतर कापले. तो आता सुरुवातीच्या बिंदूपासून किती दूर आहे?
1. 15 km 2. 9 km
3. 11 km 4. 13 km
7. जर रामच्या वडिलांची बहीण ही सुरेशची आई असेल, तर रामच्या वडिलांचे सुरेशसोबत काय नाते आहे?
1. आईचा भाऊ 2. आजोबा

3. वडिलांचा भाऊ 4. भाऊ
8. x चे अंदाजे मूल्य शोधा (पूर्णांकात).
 $12.21 + 0.69 - \sqrt{99.90} + (5.90 - 3.90) = X$
1. 5 2. 6 3. 7 4. 4
9. Refer to the following letter symbol string and answer the question.
(Left) M@RX Z\$IQ &DEA + CE# .. HO & TY %
EFS PGK (Right)
How many such vowels are there, each of which is immediately preceded by a consonant and immediately followed by a vowel?
1. 2 2. 3 3. 4 4. 1
10. रमेशचे वडील हे आलोकच्या आजोबांचा एकुलता एक मुलगा आहेत. रमेशचे आलोकसोबत काय नाते आहे?
1. भाऊ 2. मुलगा
3. वडिलांचा भाऊ 4. वडील
11. If the first four and last four letters of MENTORSHIP are written in the reverse order, then which letter will be 6th from the right in the new word?
1. T 2. O 3. N 4. R
12. x चे अंदाजे मूल्य शोधा.
 $3.99 + \sqrt[3]{1330.89} - \sqrt{224.89} = x$
1. 3 2. 2
3. 1 4. 0
13. खालील मालिकेतील प्रश्नचिन्ह (?) बदलू शकेल, असे पद दिलेल्या पर्यायांमधून निवडा.
A2, B8, C32, ?, E512
1. D96 2. D64
3. D128 4. D72

पेपर क्र. - 6	1 - 1	2 - 4	3 - 4	4 - 1	5 - 3	6 - 4	7 - 1	8 - 1	9 - 4	10 - 1	11 - 2
	12 - 4	13 - 3									

14. एका आयताकृती कागदाच्या दोन घड्या घातलेल्या आहेत. जर दुसरी घडी खालच्या दिशेने असेल, तर पुढील आकृती कोणती असेल?



15. चार अक्षरगट दिलेले आहेत, ज्यांपैकी तीन अक्षर - गटांमध्ये एक विशिष्ट साधर्म्य आहे आणि एक वेगळा आहे. तो वेगळा अक्षर गट ओळखा.

1. ECD 2. EGF 3. DBC 4. CAB

07

वनरक्षक शिफ्ट क्रमांक - 1

Date - 04/08/2023

1. खालील मालिकेत प्रश्नचिन्हाच्या (?) जागी येऊ शकणारा अक्षर-समूह दिलेल्या पर्यायांतून निवडा.

AZCX, BYDW, ?, DWFU

1. CXVE 2. CXEW
3. CXEV 4. CWEU

2. खालील समीकरण अचूक करण्यासाठी कोणत्या दोन चिन्हांची अदलाबदल करावी लागेल?

$$8 + 4 \times 6 + 2 \div 4 = 10$$

1. + आणि \times 2. + आणि \div
3. \div आणि \times 4. + आणि -

3. अनिल त्याच्या वर्गात सुरुवातीपासून 32 व्या आणि शेवटून 23 व्या स्थानावर आहे. वर्गात किती विद्यार्थी आहेत?

1. 60 2. 55
3. 48 4. 54

4. 'TEACHER' या शब्दामधील अक्षरांची इंग्रजी वर्णक्रमानुसार पुनर्रचना केल्यास, पुनर्रचना केल्यानंतर किती अक्षरांचे स्थान

बदलणार नाही?

1. 3 2. 5
3. 2 4. 1

5. चार अक्षर समूह दिले आहेत, ज्यांपैकी तीन एका विशिष्ट पद्धतीने समान आहेत आणि एक वेगळा आहे. गटात न बसणारा निवडा.

1. IHG 2. ONM
3. UTS 4. XYZ

6. अक्षर मालिकेचा संदर्भ घ्या आणि प्रश्नाचे उत्तर द्या.

(डावी) CDXZUIQDEBABBDMPCD B
B Y E F M P B C D (उजवी)

यात असे किती B आहेत, ज्यांपैकी प्रत्येकाच्या लगेचच आधी एक व्यंजन येते आणि लगेचच नंतर एक व्यंजन येते?

1. 5 2. 4 3. 3 4. 2

7. खालील मालिकेत न बसणारी संख्या ओळखा.

0, 9, 64, 190, 576

1. 0 2. 64 3. 576 4. 190

8. खालील समीकरण अचूक करण्यासाठी कोणत्या दोन चिन्हांची अदलाबदल करावी लागेल?

$$300 \times 30 + 28 - 18 \div 4 = -34$$

1. - आणि \times 2. \div आणि \times
3. \div आणि - 4. + आणि \div

9. राम त्याच्या घरापासून 10 km पश्चिमेला चालतो, नंतर उजवीकडे 90 अंश वळतो आणि 3 km चालतो, नंतर त्याच्या उजवीकडे 225 अंश वळतो, नंतर तो त्याची स्थिती न बदलता 5 km चालतो आणि मग त्याच्या डावीकडे 90 अंश वळतो. तो कोणत्या दिशेच्या संमुख आहे?

1. दक्षिण 2. वायव्य
3. पूर्व 4. आग्नेय

10. जर P हा S च्या आईचा भाऊ आहे, B ही P ची एकुलती एक बहीण आहे, B ही A ची पत्नी आहे, तर A चे S सोबत काय नाते आहे?

1. मुलगा 2. भाऊ
3. वडील 4. आईचा भाऊ

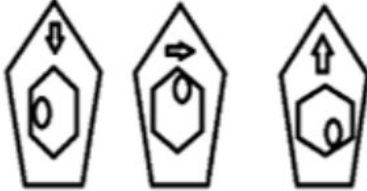
पेपर क्र. 6	14 - 1	15 - 2								
पेपर क्र. 7	1 - 3	2 - 2	3 - 4	4 - 4	5 - 4	6 - 2	7 - 4	8 - 2	9 - 4	10 - 3

11. ज्याप्रमाणे दुसरे पद पहिल्या पदाशी संबंधित आहे, त्याचप्रमाणे तिसऱ्या पदाशी संबंधित असलेला पर्याय निवडा.

A26 : Z1 :: B25 : ?

1. W23 2. Y2
3. X3 4. C26

12. खालील मालिकेत पुढे येणारी आकृती निवडा.



1. 2.
3. 4.

13. जर A हे B चे वडील आहेत, C हा B चा भाऊ आहे, P हा A चा भाऊ आहे, तर C चे P सोबत काय नाते आहे?

1. आई 2. भाऊ
3. वडिलांचा भाऊ 4. भावाचा मुलगा

14. खालील मालिकेत प्रश्नचिन्हाच्या (?) जागी येऊ शकणारे पद दिलेल्या पर्यायांतून निवडा.

O49, P36, Q25, R16, ?

1. S12 2. T12 3. V15 4. S9

15. 'EDUCATION' या शब्दामधील अक्षरांची इंग्रजी वर्णक्रमानुसार पुनर्रचना केल्यास, पुनर्रचना केल्यानंतर किती अक्षरांचे स्थान बदलणार नाही?

1. 1 2. 4 3. 2 4. 0

08

वनरक्षक शिफ्ट क्रमांक - 2

Date - 04/08/2023

1. जर + म्हणजे - आहे, X म्हणजे / आहे, - म्हणजे + आहे आणि / म्हणजे X आहे, तर खालील प्रश्नाचे उत्तर शोधा.

(72 X 8/3) - 14

1. 21 2. 51 3. 41 4. 31

2. एका रांगेत, एका व्यक्तीचे स्थान हे डाव्या बाजूने सतरावे आणि उजव्या बाजूने सोळावे आहे. तर रांगेत किती लोक होते?

1. 33 2. 31 3. 32 4. 30

3.



जर AB पाशी आरसा ठेवलेला असेल, तर खालीलपैकी कोणता पर्याय वरील चित्राचे दर्पण प्रतिबिंब असेल?

1. 2.
3. 4.

4. प्रश्नचिन्हास ? कशाने बदलता येईल ?

वाघ : भारत :: गाय : ?

1. पाकिस्तान 2. अफगाणिस्तान
3. श्रीलंका 4. नेपाळ

5. खालील संख्या मालिकेत असे किती 5 आहेत, ज्यांच्या ताबडतोब नंतर 3 येतो; परंतु ताबडतोब आधी 7 येत नाही?

1 2 1 5 3 2 5 3 8 5 5 6 8 7 3 3 5 7 7 5 3 6 5
3 2 5 7 3 9 8 9

1. 4 2. 2 3. 3 4. 5

6. दिलेल्या मालिकेत अशा किती संख्या आहेत, ज्यांच्या ताबडतोब नंतर एक चिन्ह येते?

B 6 & N C ! V 2 \$ T 8 % 5 # 9 R S 4 @ 7 P Z #
125 NP23X3XVC

1. 2 2. 3 3. 4 4. 5

पेपर क्र. - 7	11 - 2	12 - 2	13 - 4	14 - 4	15 - 4					
पेपर क्र. - 8	1 - 3	2 - 3	3 - 4	4 - 4	5 - 3	6 - 4				

7. प्रश्नचिन्हाच्या ? जागी काय येईल?

11, 13, 15, ?

1. 21 2. 17 3. 25 4. 19

8. प्रश्नचिन्हाच्या ? जागी काय येईल?

3, 8, 15, 24, 35, ?

1. 41 2. 48 3. 43 4. 38

9. खालील मालिकेतील पुढील स्थानी, संख्यांची कोणती जोडी येईल?

1, 10, 7, 20, 13, 30, 19, 40, 25, 50, 31, ??

1. 70, 39 2. 65, 39

3. 55, 39 4. 60, 37

10. Rajiv walks 10 km towards North. He turns left and walks 10 km. In which direction Rajiv is currently standing from his starting point?

1. North 2. South 3. North East 4. West

11. जर + म्हणजे - आहे, X म्हणजे / आहे, - म्हणजे + आहे आणि / म्हणजे X आहे, तर खालील प्रश्नाचे उत्तर शोधा.

$(55 \times 5/3) - 18$

1. 41 2. 61 3. 51 4. 71

12. Find the odd word out of the following options?

1. Cornea 2. Retina 3. Iris 4. Vision

13. नीती ही तिच्या आईच्या भावाचा मुलगा अशी मनीषची ओळख करून देते. मनीषचे नीतीसोबत काय नाते आहे?

1. वडील 2. मामा 3. मुलगा 4. भाऊ

14. Who of the following is 5th from the left in the given string?

A 6 7 # U V E ? 5 * L H 8 S A 9 T 4 \$ F 3 % G D
8 M 2 X Z W % X

1. E 2. H 3. U 4. L

15. एका छायाचित्राकडे निर्देश करून रमेश म्हणाला, “तो माझ्या पत्नीच्या बहिणीचा मुलगा आहे”. त्या मुलाचे रमेशसोबत काय नाते आहे?

1. भाचा 2. मुलगा 3. भाची 4. चुलतभाऊ

09

वनरक्षक शिफ्ट क्रमांक - 3

Date - 04/08/2023

1. खालील समीकरण अचूक करण्यासाठी कोणत्या दोन चिन्हांची अदलाबदल करावी लागेल?

$35 \div 9 \times 4 - 7 = 192 + 3$

1. +, - 2. -, ÷

3. ÷, + 4. ÷, ×

2. खालील संख्याक्रमामध्ये असे किती '6' आहेत, ज्यांपैकी प्रत्येकाच्या ताबडतोब नंतर '2' येतो पण ताबडतोब आधी '1' येत नाही?

(डावी) 1 2 6 7 2 6 1 6 2 8 6 2 6 1 1 6 2 8 6
2 5 6 1 3 6 1 6 2 9 1 7 6 2 1 6 2 (उजवी)

1. 5 2. 2

3. 4 4. 3

3. एका चौकामधून जाणारे चार रस्ते हे बाजार, शाळा, हॉस्पिटल आणि मनोजचे घर असे जातात. मनोज दक्षिणेकडे प्रवास करतो आणि घराकडून येतो. जर तो चालत राहिला, तर तो बाजारात पोहोचेल. हॉस्पिटल हे चौकाच्या पश्चिमेला आहे. चौकापासून शाळा कोणत्या दिशेला आहे?

1. पश्चिम 2. दक्षिण

3. उत्तर 4. पूर्व

4. यात असे किती स्वर आहेत, ज्यांच्या लगेचच आधी एक व्यंजन येते आणि तसेच लगेचच नंतर एक व्यंजन येते?

(डावी) A D F L H E F H E O D F D K E U S E D F
Z U M P O N S G I M (उजवी)

1. 6 2. 4

3. 1 4. 5

5. खालील मालिकेत प्रश्नचिन्हाच्या (?) जागी येऊ शकणारा अक्षर-समूह दिलेल्या पर्यायांतून निवडा.

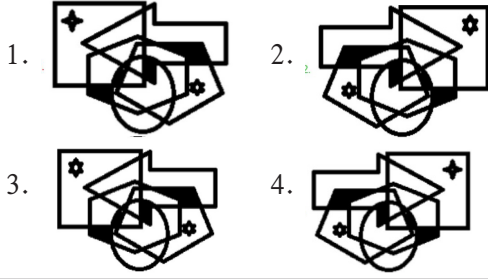
WORD, BTWI, GYBN, LDGS, ?

1. QILY 2. QJLY

3. PJKX 4. QILX

पेपर क्र. - 8	7 - 2	8 - 2	9 - 4	10 - 3	11 - 3	12 - 4	13 - 4	14 - 3	15 - 1		
पेपर क्र. - 9	1 - 1	2 - 1	3 - 4	4 - 4	5 - 4						

1. खालीलपैकी कोणता पर्याय हा खाली दिलेल्या प्रतिमेचे पाण्यातील प्रतिबिंब आहे?



2. ज्याप्रमाणे दुसरा अक्षर समूह पहिल्या अक्षर समूहाशी संबंधित आहे, त्याचप्रमाणे तिसऱ्या अक्षर समूहाशी संबंधित असलेला पर्याय निवडा.

ABETR : BAERT :: NDGRT :

1. DNGTR 2. DNTGR
3. TRDNG 4. TRGDN

3. चार अक्षर-समूह दिले आहेत, ज्यापैकी तीन एका विशिष्ट तऱ्हेने समान आहेत आणि एक वेगळा आहे. गटात न बसणारा अक्षर-समूह शोधा.

1. FIVE 2. NINE
3. SIX 4. FOUR

4. मॉर्निंग वॉक करताना, शिखाने दक्षिणेकडे चालण्यास सुरुवात केली. 100 m चालल्यानंतर, ती तिच्या डावीकडे वळली आणि 100 m चालली. नंतर ती तिच्या उजवीकडे वळली आणि 50m चालली. नंतर ती पश्चिमेकडे वळली आणि 200 m चालली. तिच्या उजवीकडे वळण घेत, ती पुढे 200m चालली. शेवटी ती तिच्या उजवीकडे वळली आणि 200m चालली. ती आता सुरुवातीच्या स्थानापासून कोणत्या दिशेला आहे?

1. ईशान्य 2. उत्तर
3. पश्चिम 4. नैऋत्य

5. रेखाची तिच्या मैत्रिणीशी ओळख करून देताना, भारती म्हणाली, ती माझ्या सासऱ्यांच्या एकुलत्या एका सुनेच्या मुलाची एकुलती एक मुलगी आहे. तर रेखाचे भारतीशी काय नाते आहे?

1. सासू 2. मावशी
3. मुलगी 4. नात

6. जर खालील संख्यांची मांडणी चढत्या क्रमाने केली, तर मांडणीच्या मध्यभागी कोणती संख्या येईल?

- 756, 745, 845, 754, 734, 645, 654, 956, 658
1. 754 2. 756
3. 734 4. 745

7. खालील रिकाम्या जागी डावीकडून उजवीकडे ठेवल्यास, अक्षरांची मालिका पूर्ण होईल, अशी अक्षरे दर्शविणारा पर्याय निवडा.

N V _ T V _ V _ U V N _ S _ V _ V S _ V

1. S N S S V V N 2. S N S V V N W
3. S W N U V W S 4. S V S N W W N

8. जर उद्याच्या नंतरचा तिसरा दिवस मंगळवार असेल, तर आजच्या आधीचा तिसरा दिवस हा आठवड्याचा कोणता दिवस होता ?

1. रविवार 2. मंगळवार
3. सोमवार 4. शनिवार

9. जर खालील अक्षरमालिकेतील अक्षरांची मांडणी वर्णमालाक्रमानुसार केली, तर मांडणीच्या मध्यभागी कोणती दोन अक्षरे येतील?

A, W, C, F, Y, B, G, F, I, O, J, N

1. I आणि J 2. J आणि N
3. G आणि F 4. G आणि I

10. जर

A @ B म्हणजे 'A हे B चे वडील आहेत',
A # B म्हणजे 'A हा B चा भाऊ आहे',
A % B म्हणजे 'A हा B चा मुलगा आहे' आणि
A & B म्हणजे 'A ही B ची मुलगी आहे'.
तर खालील पदावलीत V चे S सोबत काय नाते आहे?
S # T % U & R @ V # W

1. मामा / मावशीचे पती 2. काका/आत्याचे पती
3. वडिलांचे वडील 4. वडील

11. दिलेल्या मालिकेत रिकाम्या जागी क्रमवार भरल्यास ती मालिका पूर्ण करणारे अक्षरांचे संयोजन निवडा.

S _ _ S H S S P S H _ _ P S H

1. SSSP 2. PSSS
3. SPSS 4. SSPS

12. जर '@' चा अर्थ बेरीज आहे, '\$' चा अर्थ वजाबाकी आहे, '&' चा अर्थ गुणाकार आहे आणि '#' चा अर्थ भागाकार आहे, तर खालील पदावलीचे मूल्य शोधा.

12 & 5 \$ 42 # 3 @ 14

1. 60 2. 88 3. 32 4. 17

13. खालील मालिकेत प्रश्नचिन्हाच्या (?) जागी येऊ शकेल अशी संख्या दिलेल्या पर्यायांतून निवडा.

3, 4, 6, 8, 11, 14, 17, 21, ?, 29, 33, 38, 43,
48, 53, 58

1. 22 2. 24 3. 25 4. 26

14. खालील समीकरण अचूक करण्यासाठी कोणत्या दोन संख्यांची अदलाबदल केली पाहिजे?

$5 \times 4 + 16 \div 8 - 11 = 41$

1. 11 आणि 5 2. 4 आणि 11
3. 5 आणि 8 4. 5 आणि 16

15. "ENTRANCE" या शब्दात, (फक्त पुढील दिशेने) अशा किती अक्षर जोड्या आहेत, ज्यांत शब्दातील त्यांच्यादरम्यानच्या अक्षरांची संख्या ही इंग्रजी वर्णक्रमातील त्यांच्यादरम्यानच्या अक्षरांच्या संख्येइतकीच आहे?

1. 2 2. 1 3. 3 4. 4

11

वनरक्षक शिफ्ट क्रमांक - 2

Date - 07/08/2023

1. X आणि Y एकाच बिंदूपासून चालण्यास सुरुवात करतात. X उत्तरेला 10 m चालतो, नंतर तो पश्चिमेकडे वळतो आणि 20 m चालतो, त्यानंतर तो त्याच्या उजवीकडे वळतो आणि 25 m चालतो. त्याच कालावधीत, Y उत्तर दिशेने 35 m चालतो. X च्या स्थानाच्या संदर्भात Y आता कुठे आहे?

1. X च्या पूर्वेस 20 m 2. X च्या पश्चिमेस 40 m
3. X च्या पूर्वेस 30 m 4. X च्या पश्चिमेस 20 m

2. खालील मालिकेत पुढील स्थानी येणारी आणि तिला पूर्ण करणारी संख्या निवडा.

8, 26, 80

1. 162 2. 164
3. 242 4. 160

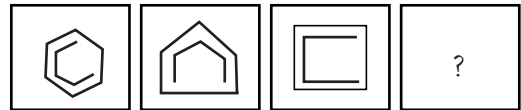
3. खालील मालिकेत पुढील स्थानी येणारी आणि तिला पूर्ण करणारी संख्या निवडा.

58, 59, 62, 67

1. 119 2. 89
3. 74 4. 79

4. दिलेल्या उत्तर आकृतीच्या पर्यायांमधून अशी आकृती निवडा जी प्रश्नआकृतीतील प्रश्नचिन्हाची (?) जागा घेऊ शकेल.

प्रश्न आकृती



उत्तर आकृती



A B C D

1. A 2. C 3. D 4. B

5. जर परवा शुक्रवार असेल, तर कालच्या आधीचा दिवस कोणता होता?

1. बुधवार 2. सोमवार
3. शनिवार 4. मंगळवार

पेपर क्र. - 10	10 - 1	11 - 3	12 - 1	13 - 3	14 - 1	15 - 2								
पेपर क्र. - 11	1 - 1	2 - 3	3 - 3	4 - 3	5 - 2									

6. दिलेल्या पर्यायांमधून प्रश्नचिन्हाच्या (?) जागी येऊ शकेल व खालील शब्दांपासून अर्थपूर्ण शब्द बनवू शकेल असे अक्षर निवडा.

?ICK, ?AGE, ?TEP, ?MOG

1. S 2. T 3. R 4. P

7. खालील मालिकेत पुढील स्थानी येणारी आणि तिला पूर्ण करणारी संख्या निवडा.

10,14, 28, 32, 64, 68

1. 116 2. 264

3. 164 4. 136

8. ज्याप्रमाणे दुसरा अक्षर - गट पहिल्या अक्षरगटाशी संबंधित आहे, त्याचप्रमाणे तिसऱ्या अक्षर - गटाशी संबंधित असलेला पर्याय निवडा.

NAME : MANE :: AVES : ?

1. EASV 2. EVAS

3. SAVE 4. VASE

9. खालील मालिकेत पुढील स्थानी येणारे व तिला पूर्ण करणारे अक्षर निवडा.

P, R, T

1. V 2. Y 3. X 4. W

10. चार शब्दजोड्या दिलेल्या आहेत, ज्यांपैकी तिन्हींमध्ये एक विशिष्ट साधर्म्य आहे आणि एक वेगळी आहे. ती वेगळी शब्दजोडी ओळखा.

1. गोवा - पणजी 2. वकील - न्यायालय

3. ब्युटीशियन - पार्लर 4. खलाशी - जहाज

11. दिलेल्या शब्दाची अक्षरे वापरून तयार न होऊ शकणारा शब्द निवडा.

STUDENT

1. TENT 2. KENT 3. DENT 4. SENT

12. एका मुलाकडे बोट दाखवत राजवीर म्हणाला, "तो टेनिस खेळणारा मुलगा हा माझ्या वडिलांच्या बायकोचा मुलगा आहे." त्या मुलाचे राजवीरसोबत काय नाते आहे?

1. वडील 2. भाऊ

3. वडिलांचे वडील 4. मुलगा

13. अरुण म्हणाला, "पंकजची आई ही माझ्या वडिलांच्या पत्नीची आई आहे." पंकजचे अरुणसोबत काय नाते आहे ?

1. आईचे वडील 2. भाऊ

3. आईचा भाऊ 4. वडिलांचा भाऊ

14. खालील मालिकेत प्रश्नचिन्हाच्या (?) जागी येऊ शकेल, अशी संख्या दिलेल्या पर्यायांमधून निवडा.

50, 40, 32, 26, ?

1. 25 2. 20 3. 22 4. 35

15. Select the letter-cluster from among the given options that can replace the question mark (?) in the following series.

EFR, GHS, JKT, ?

1. NOU 2. MMU 3. MUN 4. UMN

12

वनरक्षक शिफ्ट क्रमांक - 3

Date - 07/08/2023

1. या अक्षर मालिकेमध्ये,

(डावे) Z T Q S T L M R N D F L U T U L V X R L
T A S L I (उजवे)

असे किती L आहेत, ज्यांपैकी प्रत्येकाच्या लगेच आधी एक व्यंजन येते आणि लगेचच नंतर एक व्यंजनदेखील येते ?

1. 2 2. 5 3. 4 4. 3

2. प्रताप दक्षिणेकडे 10 km चालला आणि नंतर डावीकडे वळला. 4 km प्रवास केल्यानंतर, त्याने पुन्हा डावीकडे वळण घेतले आणि 2 km चालत राहिला. नंतर त्याने पुन्हा डावे वळण घेतले आणि 9 km धावला आणि पुन्हा उजवे वळण घेऊन 8 km चालला. तो आता सुरुवातीच्या बिंदूपासून किती अंतरावर आहे ?

1. 7 km 2. 10 km

3. 5 km 4. 11 km

3. खालील समीकरण अचूक करण्यासाठी कोणत्या दोन चिन्हांची अदलाबदल केली पाहिजे ?

$44 - 8 + 27 \times 9 = 13 \div 3$

1. \times , + 2. \times , \div

3. -, + 4. -, \div

पेपर क्र. - 11	6 - 1	7 - 4	8 - 2	9 - 1	10 - 1	11 - 2	12 - 2	13 - 3	14 - 3	15 - 1
पेपर क्र. - 12	1 - 1	2 - 3	3 - 2							

1. दिलेल्या शब्दजोडीमध्ये असलेल्या सहसंबंधाच्या समान सहसंबंध दर्शविणारी शब्दजोडी असलेला पर्याय निवडा.

दूध : चीज

1. ऊस : गूळ 2. गहू : अन्न
3. बटर : ब्रेड 4. लिंबू : रस

2. O + B म्हणजे 'O हा B चा भाऊ आहे',
O - B म्हणजे 'O हे B चे वडील आहेत',
O x B म्हणजे 'O ही B ची आई आहे',
O ÷ B म्हणजे 'O ही B ची मुलगी आहे'.

खालील समीकरणात P चे M सोबत काय नाते आहे?

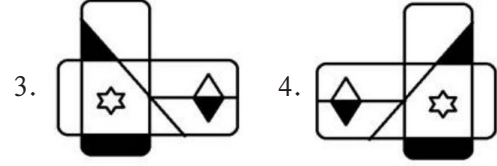
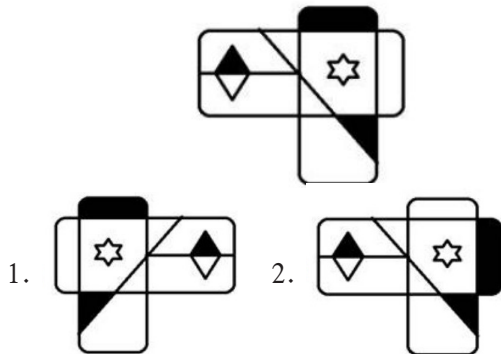
$$K + P \times O \div L - N + M$$

1. आई
2. वडिलांच्या भावाची मुलगी
3. वडिलांची बहीण
4. बहीण

3. 43 विद्यार्थ्यांच्या एका वर्गात, अन्विताचा क्रमांक शेवटून 37 वा आहे आणि ईवाचा क्रमांक सुरुवातीपासून 15 वा आहे. क्रमवारीत अन्विता आणि ईवा यांच्यादरम्यान किती विद्यार्थी आहेत?

1. 7 2. 5
3. 6 4. 9

4. दिलेल्या आकृतीच्या उजव्या बाजूला आरसा ठेवल्यावर मिळणारी अचूक दर्पण प्रतिमा निवडा.



5. छायाचित्रातील एका पुरुषाकडे बोट दाखवत शिखा म्हणाली, 'ते माझ्या एकुलत्या एका मुलाच्या वडिलांच्या आईचे पती आहेत. तर शिखाचे छायाचित्रातील त्या पुरुषाशी काय नाते आहे ?

1. वडील 2. सासरे
3. वडिलांचा भाऊ 4. सून

6. 'LIBERATE' या शब्दात, (पुढे तसेच मागे अशा दोन्ही दिशांनी) अशा किती अक्षर जोड्या आहेत, ज्यांत शब्दातील त्यांच्यादरम्यानच्या अक्षरांची संख्या ही इंग्रजी वर्णक्रमातील त्यांच्यादरम्यानच्या अक्षरांच्या संख्येइतकीच आहे?

1. 2 2. 0 3. 3 4. 1

7. MK 18 हे JH 21 शी एका विशिष्ट प्रकारे संबंधित आहे. त्याचप्रकारे, PN 17 हे MK 20 शी संबंधित आहे. या समान तर्काचे अनुसरण केल्यास, US 15 हे खालीलपैकी कशाशी संबंधित आहे?

1. PR 20 2. RP 18 3. SQ 18 4. QP 19

8. खालील मालिकेतील प्रश्नचिन्हांची (?) जागा घेऊ शकणारे अनुक्रमे अक्षर आणि संख्या निवडा.

S, 2, X, 7, C, 12, ?, 17, M, 22, R, ?

1. H आणि 26 2. H आणि 27
3. F आणि 27 4. G आणि 26

9. खालील समीकरण बरोबर करण्यासाठी कोणत्या दोन चिन्हांची अदलाबदल केली पाहिजे?

$$7 \div 6 + 15 \times 3 - 5 = 42$$

1. + आणि × 2. × आणि ÷
3. + आणि - 4. ÷ आणि +

10. खालील मालिकेत प्रश्नचिन्हाच्या (?) जागी येऊ शकणारी संख्या दिलेल्या पर्यायांतून निवडा.

1, 60, 121, 188, 259, 332, 411, 494, 583, ?
1. 630 2. 680 3. 653 4. 667

11. जर खालीलपैकी प्रत्येक अक्षर समूहातील डावीकडून पहिल्या आणि चौथ्या अक्षरांची अदलाबदल केली आणि नंतर परिणामी अक्षर-समूहांना इंग्रजी शब्दकोशातील क्रमाने मांडले, तर मांडणीच्या मध्यस्थानी कोणता अक्षर समूह येईल?

GETR, GDTR, GETY, GSB, GCGD

1. GDTR 2. GCGD 3. GETY 4. GETR

12. 'x' चा अर्थ बेरीज आहे,

'÷' चा अर्थ वजाबाकी आहे,

'+' चा अर्थ गुणाकार आहे, आणि,

'-'चा अर्थ भागाकार आहे.

तर खालील समीकरणात प्रश्नचिन्हाचे (?) मूल्य किती असेल?

$$7 + 5 \div 21 - 7 \times 13 = ?$$

1. 99 2. 55 3. 45 4. 25

13. दिलेल्या मालिकेत रिकाम्या जागी क्रमवार भरल्यास ती मालिका पूर्ण करणारे अक्षरांचे संयोजन निवडा.

TM_ _ UTMCP_ _ _ MCPUT_ CP_ _

1. CPUTUU 2. CPCTMU
3. CPUTMC 4. CPUTMU

14. जर खालील 4 अंकी संख्यांमधील प्रत्येकीच्या डावीकडून पहिल्या आणि तिसऱ्या अंकांची अदलाबदल केली आणि परिणामी संख्यांना चढत्या क्रमाने लिहिले, तर मांडणीच्या अंतिमस्थानी कोणती संख्या येईल?

7465, 4657, 3657, 5767, 6456

1. 7465 2. 3657 3. 5767 4. 6456

15. एके सकाळी पौर्णिमा तिच्या सावलीच्या दिशेने चालू लागली. 400 मीटर चालल्यानंतर, ती उत्तरेकडे वळली आणि 400 मीटर चालत गेली. नंतर ती तिच्या उजवीकडे वळली आणि 600 मीटर चालत गेली. नंतर ती दक्षिणेकडे वळली आणि

600 मीटर चालत गेली. शेवटी, ती तिच्या उजवीकडे वळली आणि 200 मीटर चालत गेली. ती आता तिच्या सुरुवातीच्या बिंदूपासून किती अंतरावर आणि कोणत्या दिशेला आहे?

1. 200 मीटर, दक्षिण 2. 200 मीटर, उत्तर
3. 400 मीटर, दक्षिण 4. 400 मीटर, पूर्व

14

वनरक्षक शिफ्ट क्रमांक - 2

Date - 08/08/2023

1. ज्याप्रमाणे दुसरा अक्षर-गट पहिल्या अक्षर-गटाशी संबंधित आहे. त्याचप्रमाणे तिसऱ्या अक्षर-गटाशी संबंधित असलेला पर्याय निवडा.

BDF : IKM :: UWY :

1. LPG 2. CFG
3. SPQ 4. NPR

2. दिलेल्या अपूर्णाकाचे अंदाजे मूल्य काढा.

$$(2.12)^2 - (1.61)^2$$

$$2.12 - 1.61$$

1. 3.54 2. 3.23
3. 3.43 4. 3.73

3. खालील मालिकेतील प्रश्नचिन्ह (?) बदलू शकेल, अशी संख्या दिलेल्या पर्यायांमधून निवडा. 2, 6, 15. ?

1. 25 2. 16
3. 31 4. 18

स्पष्टीकरण : योग्य उत्तर - 3

2, 6, 5, ?

$$(1) 2 + 4 = 6 \quad \text{i.e } 2^2 = 4$$

$$(2) 6 + 9 = 15 \quad \text{i.e } 3^2 = 9$$

$$(3) 15 + 16 = 31 \quad \text{i.e } 4^2 = 16$$

प्रत्येक मालिकेत वर्गसंख्या मिसळत सोडवले आहे.

4. गुरुवार 18 एप्रिल रोजी रामचा वाढदिवस आहे. जर श्यामचा जन्म 19 ऑगस्ट रोजी झाला असेल, तर त्याच वर्षी त्याचा वाढदिवस आठवड्यातील कोणत्या दिवशी असेल?

1. मंगळवार 2. बुधवार
3. गुरुवार 4. सोमवार

पेपर क्र. - 13	10 - 2	11 - 1	12 - 3	13 - 4	14 - 3	15 - 1				
पेपर क्र. - 14	1 - 4	2 - 4	3 - 3	4 - 4						

1. खालील रिकाम्या जागी डावीकडून उजवीकडे ठेवल्यास अक्षराची मालिका पूर्ण होईल अशी अक्षरे दर्शविणारा पर्याय निवडा.

_ V S N V T _ S _ _ V T V _ _ P _ T _ S Q _

1. NUVOVSS 2. NVOSVVU
3. TVSOOPV 4. TVOSVVU

2. TV 21 है WY 19 शी एका विशिष्ट प्रकारे संबंधित आहे. त्याचप्रकारे, QS 20 हे TV 18 शी संबंधित आहे. या समान तर्काचे अनुसरण केल्यास, LN 23 हे खालीलपैकी कशाशी संबंधित आहे?

1. QS 21 2. OP 20
3. OQ 21 4. QQ 20

3. खालील मालिकेत प्रश्नचिन्हाच्या (?) जागी येणारा अक्षर-समूह दिलेल्या पर्यायातून निवडा

MLJ 7, KJH 10, IHF 13, GFD 16, ?

1. ECI 21 2. EDG 21
3. EBD 19 4. EDB 19

4. खालील माहिती वाचा आणि पुढील प्रश्नाचे उत्तर द्या.

E x F म्हणजे E हे F चे वडील आहेत.

'E + F' म्हणजे 'E ही F ची पत्नी आहे'.

'E ÷ F' म्हणजे E ही F ची मुलगी आहे.

'E - F' म्हणजे 'E हा F चा मुलगा आहे.

या पदावलीत Q चे S सोबत काय नाते आहे?

'Q ÷ M x P - D ÷ S'?

1. मुलगी 2. नात
3. नातू 4. मुलगा

5. चार अक्षर जोड्या दिल्या आहेत. त्यापैकी तीन विशिष्ट तऱ्हेने समान आहेत आणि एक वेगळी आहे गटात न बसणारी अक्षर जोडी निवडा

1. JK 2. NO
3. TU 4. ME

6. CHILDREN या शब्दातील प्रत्येक अक्षराची मांडणी वर्णक्रमानुसार केली आहे तर डावीकडून तिसरे असलेले अक्षर आणि उजवीकडून तिसरे असलेले अक्षर यांच्या दरम्यान इंग्रजी वर्णक्रमाने येणारी किती अक्षरे असतील?

1. चार 2. सहा 3. आठ 4. सात

7. शुभी बिंदू P पासून सुरुवात करते आणि पश्चिमेकडे 9 km गाडी चालवत जाते. ती नंतर डावीकडे वळते, 3 km गाडी चालवत जाते. डावीकडे वळते आणि 14 km गाडी चालवत जाते. त्यानंतर ती डावीकडे वळते आणि 8 km गाडी चालवत जाते ती अंतिम वळण उजवीकडे घेते, 5 km गाडी चालवत जाते आणि बिंदू S वर थांबते. बिंदू 5 पासून बिंदू P वर पोहोचण्यासाठी तिने किती अंतर आणि कोणत्या दिशेने गाडी चालवली पाहिजे?

1. 4 km उत्तरेकडे 2. 5 km पश्चिमेकडे
3. 4 km पूर्वेकडे 4. 5 km दक्षिणेकडे

8. प्रश्नचिन्हाच्या ? जागी काय येईल?

3, 9, 27, 81, ... ?

1. 275 2. 245 3. 243 4. 240

9. एका छायाचित्राकडे बोट दाखवत रहीम त्याचा मित्र रामला म्हणाला. "ती माझ्या आईच्या वडिलांची एकुलती एक मुलगी आहे." तर रहीमचे छायाचित्र ती व्यक्तीशी काय नाते आहे?

1. भाऊ 2. मुलगी 3. मुलगा 4. बहीण

10. एका वर्गातील सर्व 44 विद्यार्थी उत्तरेकडे तोंड करून एका सरळ रांगेत उभे आहेत. रिकू उजव्या टोकापासून 24व्या स्थानावर आहे तसेच रीना डाव्या टोकापासून 17व्या स्थानावर आहे रिकू आणि रीना यांच्यादरम्यान किती विद्यार्थी उभे आहेत?

1. 3 2. 5 3. 8 4. 6

11. जर '+' म्हणजे '-' म्हणजे 'x' 'x' म्हणजे '÷', '÷' म्हणजे '+' असे आहे तर खालील समीकरणात प्रश्नचिन्हाच्या (?) जागी काय येईल?

$$65 \div 5 - 35 \times 7 + 11 = ?$$

पेपर क्र. - 15	1 - 4	2 - 3	3 - 4	4 - 3	5 - 1	6 - 2	7 - 4	8 - 2	9 - 3	10 - 1	11 - 1
----------------	-------	-------	-------	-------	-------	-------	-------	-------	-------	--------	--------

1. 79 2. 86 3. 73 4. 68

12. खालील मालिकेत प्रश्नचिन्हाच्या (?) जागी येऊ शकेल अशी संख्या दिलेल्या पर्यायांतून निवडा.

2, 6, 10, 22, 42, ?

1. 86 2. 80 3. 82 4. 50

13. 'GOVERNMENT' या शब्दात (पुढे आणि मागे दोन्ही दिशेने) अक्षरांच्या अशा किती जोड्या आहेत. ज्यांच्यादरम्यान तितकीच अक्षरे आहेत जितकी इंग्रजी वर्णक्रमानुसार आहेत?

1. दोन 2. एक 3. चार 4. तीन

14. खालील समीकरणात प्रश्नचिन्हाच्या (?) जागी अंदाजे कोणते मूल्य आले पाहिजे?

$16.66 \times 06.06 \div 02.02 + 8.55 - 12.11 = ?$

1. 46 2. 68 3. 54 4. 62

15. हा प्रश्न खालील तीन अक्षरी शब्दांवर आधारित आहे.

CAT RAT DOG JUG NOT

जर प्रत्येक शब्दातील, प्रत्येक अक्षर हे इंग्रजी वर्णक्रमातील पुढील अक्षरात बदलले, तर अशा प्रकारे तयार झालेल्या किती शब्दांत स्वर नसेल?

1. एक 2. तीन 3. एकही नाही 4. दोन

16

वनरक्षक शिफ्ट क्रमांक - 1

Date - 09/08/2023

1. खालील मालिकेतील प्रश्नचिन्हाच्या (?) जागी येईल असे पद निवडा.

B3C, E12E, H48G, ?

1. C28M 2. F68J 3. K46I 4. K192I

2. दिलेल्या मांडणीमध्ये असे किती स्वर आहेत, ज्यांच्या आधी एक अक्षर येते आणि ज्यांच्या नंतर एक संख्या येत नाही?

E # 3 g H ! A D I % 4 E * \$ Q M K U ^

1. 3 2. 2 3. 1 4. 4

3. राम हा सीताचा पती आहे. 'श्याम' हा लक्ष्मण यांचा एकुलता एक मुलगा आहे. लक्ष्मण हा 'भरत' चा भाऊ आहे. सीता ही दशरथची सून आहे, ज्यांच्या पत्नीचे निधन झाले आहे. लक्ष्मण हा दशरथचा मुलगा आहे. कुटुंबात किती सदस्य आहेत?

1. 6 2. 8 3. 5 4. 4

4. जर (+) आणि (-) या चिन्हांची अदलाबदल केली आणि 8 व 16 या संख्यांची देखील अदलाबदल केली, तर खालीलपैकी कोणते समीकरण बरोबर असेल?

1. $8 - 16 + 24 = 0$ 2. $8 + 16 - 24 = 16$

3. $16 - 8 + 24 = 16$ 4. $16 + 8 - 24 = 24$

5. जर A हे 'बेरीज' दर्शविते, B हे गुणाकार दर्शविते, C हे 'वजाबाकी' दर्शविते आणि D हे 'भागाकार' दर्शविते, तर खालील समीकरणाचे मूल्य किती असेल?

$36B6C(22A3)A28B(100D10)$

1. 90 2. 121 3. -89 4. 161

6. जर $4 * 3 = 8$, $6 * 4 = 18$, $7 * 8 = 49$ आहे, तर $9 * 5 = ?$

1. 24 2. 48 3. 36 4. 12

7. चार अक्षर-समूह दिले आहेत, ज्यांपैकी तीन एका विशिष्ट तऱ्हेने समान आहेत आणि एक वेगळा आहे. तो वेगळा अक्षर-समूह निवडा.

1. NPRT

2. PRTV

3. ZABY

4. TVXZ

8. खालील मालिकेतील प्रश्नचिन्हाच्या (?) जागी येऊ शकेल अशी आकृती दिलेल्या पर्यायांतून निवडा.

▲ ? ► ▼

1. ▲

2. ▼

3. ◀

4. ▼

9. 'EDUCATION' या शब्दात, जर स्वरांना वर्णमालाक्रमानुसार त्यांच्या नंतर येणाऱ्या अक्षराने बदलले आणि व्यंजनांना वर्णमालाक्रमानुसार त्यांच्या आधी येणाऱ्या अक्षराने बदलले, तर अशा प्रकारे नव्याने तयार झालेल्या शब्दामध्ये कोणते अक्षर एकापेक्षा जास्त वेळा येईल?

1. C

2. T

3. F

4. B

10. खालील मालिकेत पुढील स्थानी येणारी व तिला पूर्ण करणारी संख्या निवडा.

8, 26, 80, 242

1. 728

2. 164

3. 160

4. 162

पेपर क्र. - 15

12 - 1

13 - 3

14 - 1

15 - 1

पेपर क्र. - 16

1 - 4

2 - 2

3 - 1

4 - 1

5 - 3

6 - 3

7 - 3

8 - 3

9 - 4

10 - 1

11. एका वर्गात, एकाच रांगेत मुले उभी आहेत. मुलांपैकी एकजण दोन्ही टोकांपासून 20 व्या क्रमांकावर आहे. रांगेत किती मुले आहेत?

1. 48 2. 39 3. 38 4. 40

12. दिलेल्या प्रश्नातील अक्षर-गटांदरम्यान असलेल्या सहसंबंधाप्रमाणेच समान सहसंबंध दर्शविणारा अक्षर-समूह दिलेल्या पर्यायांतून निवडा.

ZXV, SQO, MKI, ECA

1. NLJ 2. ABC 3. EMN 4. ADJ

13. प्रश्नचिन्हाच्या जागी काय येईल?

APM,CSQ,EVU,?

1. GYY 2. CNG 3. BDF 4. ACE

14. 'HISTORY' या शब्दामधील अक्षरांची पुनर्रचना इंग्रजी वर्णमालाक्रमानुसार केल्यास, किती अक्षरांचे स्थान बदलणार नाही?

1. 4 2. 3 3. 2 4. 1

15. पीटर त्याच्या कार्यालयापासून 25 km पश्चिमेकडे गेला, नंतर डावीकडे वळून 40 km चालला. नंतर, तो पूर्वेकडे वळला आणि 25 km चालला आणि शेवटी डावीकडे वळून, त्याने 30 km अंतर कापले. तो आता कार्यालयापासून किती अंतरावर आणि कोणत्या दिशेला आहे?

1. 30 km पूर्व 2. 10 km दक्षिण
3. 15 km उत्तर 4. 20 km दक्षिण

17

वनरक्षक शिफ्ट क्रमांक - 2

Date - 09/08/2023

1. जर खालील शृंखलेतील संख्या उतरत्या क्रमाने लिहिल्या, तर उजवीकडून चौथ्या संख्येच्या डावीकडे पाचव्या स्थानी कोणती संख्या येईल?

(डावे) 1, 4, 5, 6, 7, 5, 4, 3, 7, 5, 4, 3, 6, 3,
4, 5, 5 (उजवे)

1. 3 2. 4 3. 5 4. 6

2. दिलेल्या मालिकेत रिकाम्या जागी क्रमवार भरल्यास ती मालिका पूर्ण करणारे अक्षरांचे संयोजन निवडा.

AD _ _ DAADHH _ ADHHD _ _ _

1. HHDAA 2. HDDAA
3. HHAAA 4. HHDHA

3. शंभर मीटर अंतराच्या एका शर्यतीत, रमण शीर्षस्थानापासून सहाव्या क्रमांकावर आहे. तो शेवटून सोळाव्या क्रमांकावर असलेल्या रोहनच्या मागेच (just behind) होता. त्या शर्यतीत एकूण किती जण धावले?

- 1.21 2.19
3.22 4.20

4. जर,

$Y + Z$ म्हणजे Y हा Z चा भाऊ आहे.

$Y - Z$ म्हणजे Y हे Z चे वडील आहेत.

$Y \times Z$ म्हणजे Y ही Z ची आई आहे आणि

$Y \div Z$ म्हणजे ' Y ही Z ची मुलगी आहे.

तर खालील पदावलीत A चे E सोबत काय नाते आहे?

$A + B \times C \div D - E$

1. मामा / मावशीचे पती
2. काका/आत्याचे पती
3. भाऊ
4. मामेभाऊ (आईच्या भावाचा मुलगा)

5. जर खालील संख्या-चिन्हांच्या शृंखलेतील संख्या आणि चिन्हांची जागा न बदलता, त्यातील सर्व संख्यांना उतरत्या क्रमाने लिहिले, तर किती चिन्हांच्या ताबडतोब आधी आणि नंतर एक सम संख्या येईल?

7, %, 5, & * % 3, #, @, 4, Δ, &, \$, 4, #, 6, 5,
%, 7, 8, 9, \$, 2, 4, 2, 2, 5, 4, #

1. 2 2. 4
3. 3 4. 1

6. ज्याप्रमाणे दुसरा अक्षर-समूह हा पहिल्या अक्षर-समूहाशी संबंधित आहे, त्याचप्रमाणे तिसऱ्या अक्षर-समूहाशी संबंधित असलेला पर्याय निवडा.

NHTR : SUIO :: BDTR : _____

1. SUCE 2. SUEC
3. SEUC 4. SCUE

पेपर क्र. - 16	11 - 2	12 - 1	13 - 1	14 - 2	15 - 2					
पेपर क्र. - 17	1 - 3	2 - 1	3 - 4	4 - 1	5 - 4	6 - 2				

1. जर कालच्या आधीचा दुसरा दिवस मंगळवार होता, तर आजच्या नंतरचा दुसरा दिवस हा आठवड्यातील कोणता दिवस असेल?

1. मंगळवार 2. सोमवार
3. रविवार 4. शनिवार

2. जर

'x' चा अर्थ बेरीज आहे,
'÷' चा अर्थ वजाबाकी आहे,
'+' चा अर्थ गुणाकार आहे, आणि,
'-' चा अर्थ भागाकार आहे.

तर खालील समीकरणात '?' चे मूल्य किती आहे?

$$6 + 5 \div 21 - 3 \times 9 = ?$$

1. 14 2. 13
3. -24 4. 32

3. ज्याप्रमाणे दुसरा अक्षर-समूह हा पहिल्या अक्षर-समूहाशी संबंधित आहे, त्याचप्रमाणे तिसऱ्या अक्षर-समूहाशी संबंधित असलेला पर्याय निवडा.

HPY: KSB :: NHU : ?

1. QKW 2. PKX
3. PKW 4. QKX

4. "AMERICA" या शब्दात, (पुढे तसेच मागे अशा दोन्ही दिशांनी अशा किती अक्षर जोड्या आहेत, ज्यांत शब्दातील त्यांच्यादरम्यानच्या अक्षरांची संख्या ही इंग्रजी वर्णक्रमातील त्यांच्यादरम्यानच्या अक्षरांच्या संख्येइतकीच आहे?

1. 2 2. 0
3. 1 4. 3

5. खालील मालिकेत प्रश्नचिन्हाच्या (?) जागी येऊ शकेल अशी संख्या दिलेल्या पर्यायांतून निवडा.

- 1, 2, 3, 4, 6, 10, 18, 21, 30, ?
1. 45 2. 33
3. 57 4. 37

6. जर खालील संख्यामालिकेची मांडणी चढत्या क्रमाने केली, तर मांडणीच्या मध्यभागी कोणती संख्या दिसेल?

1 5 6 7 8 4 3 6 5 8 9 3 2 3 4

1. 5 2. 7
3. 6 4. 4

7. जर खालील अक्षरमालिकेची मांडणी इंग्रजी वर्णमालाक्रमानुसार केली, तर मांडणीच्या मध्यभागी कोणते अक्षर येईल?

A F T H B F R D E S D C V G Y B E F V H I

1. F 2. H 3. G 4. E

8. एका पुरुषाकडे बोट दाखवत, चंदना म्हणाली, "तो माझ्या वडिलांचे वडील यांच्या एकुलत्या एका सुनेचा एकुलता एक मुलगा आहे". त्या पुरुषाचे चंदनाशी काय नाते आहे?

1. वडील
2. चुलत भाऊ (वडिलांच्या भावाचा मुलगा)
3. भाऊ
4. पती

9. जर

A x B म्हणजे 'A हे B चे वडील आहेत'

A - B म्हणजे 'A हा B चा भाऊ आहे'

A x B म्हणजे 'A हा B चा मुलगा आहे'

तर खालील पदावलीत O चे K सोबत काय नाते आहे?

K + L + M - N x O

1. पत्नी 2. जावई
3. मुलगी 4. सून

10. दिलेल्या मालिकेत रिकाम्या जागी क्रमवार भरल्यास ती मालिका पूर्ण करणारे अक्षरांचे संयोजन निवडा.

M TMMH MHTM M

1. HMMHTM 2. HTMMHT
3. HTMMHM 4. HTMMTH

11. येथे चार शब्द दिले आहेत, ज्यापैकी तीन एका विशिष्ट तऱ्हेने समान आहेत आणि एक वेगळा आहे. गटात न बसणारा शब्द शोधा.

1. LOTUS 2. MINUS
3. ABOUT 4. COLOR

12. सोहनने पश्चिमेकडे चालण्यास सुरुवात केली. 50 m चालल्यानंतर, तो त्याच्या उजवीकडे वळला आणि 100 m चालत गेला. नंतर तो त्याच्या उजवीकडे वळला आणि पुढे 100 m चालत गेला. नंतर तो दक्षिणेकडे वळला आणि 30m चालत गेला. नंतर तो त्याच्या उजवीकडे वळला आणि 50 m चालत गेला. शेवटी, तो त्याच्या डावीकडे वळला आणि 10m चालत गेला. तो आता त्याच्या सुरुवातीच्या बिंदूपासून कोणत्या दिशेला आहे?

1. दक्षिण 2. पश्चिम
3. उत्तर 4. पूर्व

13. खालील मालिकेतील प्रश्नचिन्हाच्या (?) जागी येऊ शकेल असे पद दिलेल्या पर्यायांतून निवडा.

A, E, 4, I, O, 6, U, C, 8, ?

1. K 2. P 3. 10 4. 9

14. खालील समीकरण अचूक करण्यासाठी कोणत्या दोन संख्यांची अदलाबदल केली पाहिजे?

$$7 \times 6 + 8 \div 2 - 5 = 27$$

1. 7 आणि 8 2. 7 आणि 2
3. 5 आणि 7 4. 6 आणि 5

15. खालीलपैकी कोणता पर्याय हा खालील प्रतिमेचे पाण्यातील प्रतिबिंब आहे?



1. 2.
3. 4.

19

वनरक्षक शिफ्ट क्रमांक - 1

Date - 10/08/2023

1. प्रश्नचिन्हाच्या ? जागी काय येईल?

10, 34, 12, 31, 14, 28, 16, 25, 18, 22, ?

1. 19 2. 18 3. 20 4. 21

2. जर D म्हणजे 'बेरीज' आहे, E म्हणजे 'गुणाकार' आहे, F म्हणजे 'वजाबाकी' आहे आणि G म्हणजे 'भागाकार' आहे, तर $30 G 2D3E6F5 = ?$

1. 8 2. 38 3. 28 4. 18

3. 39 विद्यार्थ्यांच्या एका वर्गात सुनीताचा क्रमांक पुढून आठवा आहे. तिचा क्रमांक शेवटून कितवा आहे?

1. 36 2. 30 3. 32 4. 38

4. नवीन हा त्याच्या शाळेपासून 15 km उत्तरेकडे गेला. मग त्याने पश्चिमेकडे वळून 10 km अंतर पार केले. मग तो दक्षिणेकडे वळला आणि त्याने 5 km अंतर पार केले. शेवटी पूर्वेकडे वळून, त्याने 10 km अंतर पार केले. तो त्याच्या शाळेपासून कोणत्या दिशेला आहे?

1. उत्तर 2. पूर्व 3. दक्षिण 4. पश्चिम

5. प्रश्नचिन्हाच्या ? जागी काय येईल?

2, A, 9, B, 6, C, 13, D, 10, E, ?

1. 12 2. 23 3. 17 4. 22

6. आलियाची पाहुण्यांशी ओळख करून देताना बीना म्हणाली, "तिची आई माझ्या वडिलांची एकुलती एक मुलगी आहे." आलियाचे बीनासोबत काय नाते आहे?

1. आई 2. भाची/पुतणी
3. बहीण 4. मुलगी

7. जर x म्हणजे - आहे, / म्हणजे + आहे, तर

$$125 \times 7 / 15 = ?$$

प्रश्नचिन्हाच्या ? जागी काय येईल?

1. 133 2. 103 3. 113 4. 100

8. दिलेल्या मालिकेत अशी किती चिन्हे आहेत, ज्यांच्या ताबडतोब आधी एक संख्या येते?

1 I G U 7 @ T O S 8 \$ H P D 4 6 W ! 9 3 & Z

1. 1 2. 3 3. 4 4. 2

पेपर क्र. - 18	11 - 4	12 - 3	13 - 1	14 - 3	15 - 1					
पेपर क्र. - 19	1 - 3	2 - 3	3 - 3	4 - 1	5 - 3	6 - 4	7 - 1	8 - 2		

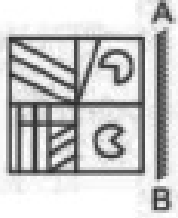
9. खालील पर्यायांपैकी गटात न बसणारा शब्द शोधा.

1. पान 2. मृदा 3. खोड 4. बुंधा

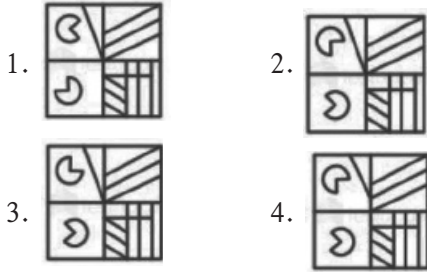
10. एका छायाचित्राकडे निर्देश करून राकेश म्हणाला, “छायाचित्रातील महिला ही त्याच्या आईच्या भावाची पत्नी आहे.” त्या महिलेचे राकेशसोबत काय नाते आहे?

1. भाची/पुतणी 2. बहीण
3. आई 4. मामी/ मावशी

11. जर



AB पाशी आरसा ठेवलेला असेल, तर खालीलपैकी कोणता पर्याय वरील चित्राचे दर्पण प्रतिबिंब असेल?



12. दिलेल्या मालिकेत अशी किती चिन्हे आहेत, ज्यांपैकी प्रत्येकाच्या ताबडतोब आधी आणि ताबडतोब नंतर एक स्वर येतो?

8 C M @ N % T 2 Y 6 S a Q \$ 7 * W # Z U E % A
4 3 E 1 2 4 Z X 6 H 7 K 8 9

1. 3 2. 0 3. 1 4. 2

13. प्रश्नचिन्हाच्या ? जागी काय येईल?

144, 121, 100, 81, 64, ?

1. 64 2. 49 3. 56 4. 36

14. प्रश्नचिन्हाच्या ? जागी काय येईल?

त्रिकोण : आयत :: पंचकोन : ?

1. कणरिषा 2. आयत
3. कोनीय 4. षटकोन

15. खालीलपैकी कोणते मालिकेच्या उजव्या टोकापासून बारावे असेल?

A C 1 B @ C 7 N R % 5 \$ G 6 K M & 4 S # P U 5

1. R 2. 7 3. F 4. \$

20

वनरक्षक शिफ्ट क्रमांक - 2

Date - 10/08/2023

1. दिलेल्या शब्दातील अक्षरे वापरून तयार न होऊ शकणारा शब्द निवडा.

TRIED

1. RIDE 2. DIE 3. TREND 4. TIED

2. जर परवा शुक्रवार असेल, तर कालच्या आधीचा दिवस कोणता होता?

1. सोमवार 2. रविवार 3. बुधवार 4. मंगळवार

3. एका फोटोकडे बोट दाखवत राजीव म्हणाला, “ती माझ्या आजोबांच्या एकुलत्या एक अपत्याची मुलगी आहे. त्या मुलीचे राजीवशी काय नाते आहे?

1. वडिलांची आई 2. आई
3. भाऊ 4. बहीण

4. मानस हा वासूचा भाऊ आहे आणि अरुण हे मानसचे वडील आहेत. राजीव हा श्वेताचा भाऊ आहे आणि श्वेता ही वासूची मुलगी आहे. वासू हा पुरुष आहे. अरुणचे राजीवशी काय नाते आहे?

1. वडील 2. भाऊ
3. वडिलांचे वडील 4. काका

5. दिलेल्या पर्यायांमधून प्रश्नचिन्हाच्या (?) जागी येऊ शकेल व खालील शब्दांपासून अर्थपूर्ण शब्द बनवू शकेल असे अक्षर निवडा.

?CREAM, ?CREEN, ?TUPID, ?CROLL

1. T 2. U 3. S 4. R

6. खालील मालिकेत पुढील स्थानी येणारी आणि तिला पूर्ण करणारी संख्या निवडा.

48, 32, 16

1. 0 2. 12 3. -16 4. 16

पेपर क्र. - 19	9 - 2	10 - 4	11 - 2	12 - 3	13 - 2	14 - 4	15 - 4				
पेपर क्र. - 20	1 - 3	2 - 1	3 - 4	4 - 3	5 - 3	6 - 1					

सामान्यज्ञान

01

वनरक्षक शिफ्ट क्रमांक - 1

Date - 02/08/2023

1. महाराष्ट्राच्या शेजारील राज्यांच्या बाबतीत, खालीलपैकी कोणते सत्य नाही?

1. त्याच्या आग्नेयेला तेलंगणा आहे.
2. त्याच्या पूर्वेला दादरा आणि नगर हवेली हा केंद्रशासित प्रदेश आहे.
3. त्याच्या वायव्येस गुजरात आहे.
4. दक्षिणेस कर्नाटक राज्याने वेढलेले आहे.

2. पवन ऊर्जा क्षमतेनुसार भारताचे स्थान [REN21 अक्षय्य ऊर्जा 2022 जागतिक स्थिती (REN21 Renewables 2022 Global Status) अहवालानुसार] कितवे आहे?

1. चौथे
2. पहिले
3. दुसरे
4. तिसरे

3. घटना आणि वर्ष यांची खालीलपैकी कोणती जोडी योग्यरीत्या जुळवलेली नाही?

1. पहिले स्वातंत्र्ययुद्ध-1857
2. मुस्लिम लीगची स्थापना - 1910
3. भारतीय राष्ट्रीय काँग्रेसची स्थापना- 1885
4. असहकार चळवळीची सुरुवात 1920

4. खालीलपैकी कोणती संस्था भारतात चलन जारी करू शकते?

1. बँक ऑफ बडोदा आणि भारत सरकार
2. भारतीय स्टेट बँक आणि भारत सरकार
3. भारतीय रिझर्व्ह बँक आणि भारत सरकार
4. बँक ऑफ इंडिया आणि भारत सरकार

5. भारतीय संविधानानुसार, केंद्रीय मंत्रिपरिषद ही सामूहिकरीत्या कोणाला उत्तरदायी असते?

1. पंतप्रधान
2. भारताचे राष्ट्रपती
3. लोकसभा
4. राज्यसभा

6. खालीलपैकी कोणते भारताच्या प्रमुख भौतिक वैशिष्ट्यांपैकी एक नाही?

1. दक्षिणेकडील मैदाने
2. समुद्रतटीय मैदाने
3. उत्तरेकडील मैदाने
4. बेटे

7. भारतीय संविधानातील समानतेच्या हक्कात खालीलपैकी कशाचा समावेश नाही?

1. भारताच्या राज्यक्षेत्रात सर्वत्र मुक्तपणे संचार करणे
2. कायद्यापुढे समानता
3. धर्म, वंश, जात, लिंग किंवा जन्मस्थान या कारणांवरून भेदभाव करण्यास मनाई
4. सार्वजनिक सेवायोजनाच्या बाबींमध्ये समान संधी

8. महाराष्ट्राच्या धुळे जिल्ह्यातील 1857 चा उठाव हा भारताच्या नैऋत्य पट्ट्यातील गटांच्या सहभागाची साक्ष देतो.

1. मराठा
2. ब्राह्मण
3. महिला
4. आदिवासी

9. मार्च 2022 च्या अखेरीस राज्याचे घोषित वनक्षेत्र 61,907.08 sq. km. होते, जे 2021 च्या भारतीय वन स्थिती अहवाल (India State of Forest Report) नुसार महाराष्ट्र राज्याच्या भौगोलिक क्षेत्राच्या सुमारे टक्के होते.

1. 20.1%
2. 16.1%
3. 15.1%
4. 26.1%

10. भारतातील उष्णकटिबंधीय चक्रीवादळांबाबत कोणते/ती विधान/ने योग्य आहे/आहेत?

- I. भारत हा पूर्वेला बंगालच्या उपसागराने आणि पश्चिमेला अरबी समुद्राने वेढलेला असल्यामुळे त्याचा आकार द्वीपकल्पीय असून उष्णकटिबंधीय चक्रीवादळे या दोन महत्त्वाच्या ठिकाणी देखील उगम पावतात.
 - II. बंगालच्या उपसागराच्या बाबतीत, चक्रीवादळे मुख्यतः डिसेंबर आणि जानेवारी महिन्यातदेखील निर्माण होतात.
1. I आणि II ही दोन्ही विधाने योग्य आहेत.
 2. फक्त विधान II योग्य आहे.
 3. I आणि II ही दोन्ही विधाने योग्य नाहीत.
 4. फक्त विधान I योग्य आहे.

पेपर क्र. - 1	1 - 2	2 - 1	3 - 2	4 - 3	5 - 3	6 - 1	7 - 1	8 - 4	9 - 1	10 - 4
---------------	-------	-------	-------	-------	-------	-------	-------	-------	-------	--------

11. अंगामी ही राज्यात आढळणारी एक महत्त्वाची जमात आहे.

1. नागालँड
2. तमिळनाडू
3. हिमाचल प्रदेश
4. पंजाब

12. खालीलपैकी कोणते विधान रौलेट कायद्याच्या संदर्भात योग्य नाही?

1. महात्मा गांधींनी या कायद्याला विरोध केला, पण मोहम्मद अली जिना यांनी विरोध केला नाही.
2. साल 1919 मध्ये, ब्रिटिशांनी रौलेट कायदा मंजूर केला.
3. रौलेट कायद्याने अभिव्यक्ती स्वातंत्र्यासारख्या मूलभूत हक्कांवर अंकुश ठेवला.
4. रौलेट कायद्याने पोलिसांच्या अधिकारांचे मजबुतीकरण केले.

13. ज्या ढिगाऱ्याखाली भगवान बुद्धांचे अवशेष दफन करण्यात आले होते, ते म्हणून ओळखले जात होते.

1. मठ
2. स्तंभ
3. स्तूप
4. विहार

14. महाराष्ट्र वन विभागाचे मुख्यालय येथे आहे.

1. नाशिक
2. पुणे
3. मुंबई
4. नागपूर

15. महाराष्ट्रातील उष्णकटिबंधीय आद्र-सदाहरित जंगलाची अंदाजे टक्केवारी किती आहे?

1. 7.73%
2. 6.51%
3. 5.50%
4. 1.70%

02

वनरक्षक शिफ्ट क्रमांक - 2

Date - 02/08/2023

1. स्वातंत्र्योत्तर भारतात प्रारंभी मतदानासाठी आवश्यक असलेले पात्रता वय किती होते?

1. 21 वर्षांपेक्षा जास्त
2. 30 वर्षांपेक्षा जास्त
3. 25 वर्षांपेक्षा जास्त
4. 18 वर्षांपेक्षा जास्त

2. महाराष्ट्रात पावसाची सुरुवात साधारणपणे कधी होते?

1. जून महिन्याच्या पहिल्या आठवड्यात
2. ऑगस्ट महिन्याच्या पहिल्या आठवड्यात
3. मे महिन्याच्या पहिल्या आठवड्यात
4. जुलै महिन्याच्या पहिल्या आठवड्यात

3. 2011 च्या जनगणनेनुसार, मागील दशकात व्यक्तींनी भारतात स्थलांतर केले.

1. सुमारे 11 कोटी
2. सुमारे 13 कोटी
3. सुमारे 21 कोटी
4. सुमारे 17 कोटी

4. भारताचा सुमारे 95% परकीय व्यापार द्वारे होतो.

1. रेल्वे वाहतूक
2. रस्ते वाहतूक
3. हवाई मार्ग
4. सागरी मार्ग

5. दुर्ग- बस्तर - चंद्रपूर हा लोहपट्टा (आयर्न बेल्ट) भारतातील कोणत्या राज्यात आहे?

1. मध्य प्रदेश आणि महाराष्ट्र
2. छत्तीसगड आणि ओडिशा
3. मध्य प्रदेश आणि ओडिशा
4. छत्तीसगड आणि महाराष्ट्र

6. रोजी लाहोर काँग्रेसने पूर्ण स्वराज्याच्या मागणीला निश्चित स्वरूप दिले.

1. ऑक्टोबर 1929
2. डिसेंबर 1925
3. डिसेंबर 1929
4. जानेवारी 1925

7. परतीच्या मान्सून (Retreating Monsoon) ऋतूत येथे कमाल पर्जन्यवृष्टी होते.

1. तमिळनाडू
2. गुजरात
3. आंध्र प्रदेश
4. राजस्थान

8. ताजमहाल कोणत्या शहरात आहे?

1. आग्रा
2. दिल्ली
3. मुंबई
4. जयपूर

पेपर क्र. - 1 11 - 1 12 - 1 13 - 3 14 - 4 15 - 4

9. भारतात कोणत्या प्रदेशात कोळशाचे खनन केले जाते ?

1. भिलाई आणि पश्चिम महाराष्ट्र
2. कोरबा आणि पूर्व महाराष्ट्र
3. बोकारो आणि दक्षिण महाराष्ट्र
4. खांडवा आणि उत्तर महाराष्ट्र

10. कोणते राज्य हे भारतातील प्रमुख कापूस उत्पादक राज्यांपैकी एक आहे ?

1. बिहार
2. राजस्थान
3. महाराष्ट्र
4. आसाम

11. ब्रिटिश सरकारने खालीलपैकी कोणता अधिनियम संमत केला, ज्याद्वारे लोकांच्या अभिव्यक्ती स्वातंत्र्यासारख्या मूलभूत हक्कांवर अंकुश ठेवला गेला आणि पोलिसी अधिकार बळकट झाले ?

1. रौलेट अधिनियम, 1919
2. भारतीय परिषद अधिनियम, 1919
3. भारतीय परिषद अधिनियम, 1909
4. भारत सरकार अधिनियम, 1935

12. महाराष्ट्रातील खालीलपैकी कोणत्या व्यक्तीने बंगालच्या फाळणी विरोधातील लढ्यासाठी भारतीयांना एकत्र केले आणि स्वदेशी चळवळ सुरू करून परदेशी वस्तूंचे बहिष्कार घातला ?

1. बाळ गंगाधर टिळक
2. ज्योतिराव फुले
3. विनायक दामोदर सावरकर
4. आनंदी गोपाळ जोशी

13. कोणत्या प्रकारचा परिव्यय हा उत्पादनाचा स्तर कितीही असला तरी स्थिर राहतो ?

1. सीमांतिक परिव्यय
2. स्थिर परिव्यय
3. चल परिव्यय
4. सरासरी परिव्यय

14. भारतीय हिमालयाच्या पायथ्याशी असलेल्या मिश्र वनांत कोणत्या वृक्षांचे प्रमाण जास्त आहे ?

1. फर वृक्ष
2. साल वृक्ष
3. देवदार वृक्ष
4. पाईन वृक्ष

15. भारतीय संविधानातील कोणता अनुच्छेद मूलभूत कर्तव्यांशी संबंधित आहे ?

1. अनुच्छेद 51A
2. अनुच्छेद 21A
3. अनुच्छेद 14
4. अनुच्छेद 19

03

वनरक्षक शिफ्ट क्रमांक - 3

Date - 02/08/2023

1. वर्षातील कोणत्या महिन्यात संपूर्ण महाराष्ट्रात गडगडाटी वादळे येतात ?

1. जुलै आणि ऑगस्ट
2. जून आणि जुलै
3. फेब्रुवारी आणि मार्च
4. एप्रिल आणि मे

2. भारतीय लेखापरीक्षण आणि लेखा विभागाचे प्रमुख कोण आहेत, आणि ते भारताच्या लोकशाही व्यवस्थेतील प्रमुख मानले जातात ?

1. भारतीय रिझर्व्ह बँक
2. भारताचे महान्यायवादी
3. भारताचे नियंत्रक आणि महालेखापरीक्षक
4. भारताचे अर्थमंत्री

3. परिवर्ती निविष्टी (व्हेरिएबल इनपुट) च्या प्रत्येक एककामागे मिळणाऱ्या निष्पादन (आऊटपुट) ला म्हणून ओळखले जाते.

1. उत्पादनाचे मूल्य
2. सरासरी उत्पादन
3. सीमांत उत्पादन
4. स्थूल उत्पादन

4. सांस्कृतिक आणि शैक्षणिक हक्क हे भारतीय राज्यघटनेच्या खालीलपैकी कोणत्या अनुच्छेदाशी संबंधित आहेत ?

1. अनुच्छेद 22-23
2. अनुच्छेद 23-24
3. अनुच्छेद 29-30
4. अनुच्छेद 19-22

5. खालीलपैकी कोणत्या प्रकारचे वाघ हे सुंदरबनमध्ये आढळत असून ते केवळ खारफुटीच्या जंगलात राहणाऱ्या वाघांची संख्या दर्शवतात ?

1. भारतीय (Royal Bengal) वाघ
2. मलायन (Malayan) वाघ
3. सुमात्रन (Sumatran) वाघ
4. पांढरे वाघ

6. वारा, सूर्यप्रकाश, बर्फवृष्टी इत्यादींपासून आश्रय मिळण्याच्या उद्देशाने राखलेल्या झाडांचा किंवा झुडपांचा पट्टा, अशी खालीलपैकी कशाची व्याख्या केली जाते ?

1. शेल्टरबेल्ट (Shelterbelt)
2. मिश्र वनीकरण (Mixed forestry)
3. रेखीय पट्टी वृक्षारोपण (Linear strip plantation)
4. आश्रय वृक्षारोपण (Shelter plantation)

पेपर क्र. - 2	9 - 2	10 - 3	11 - 1	12 - 1	13 - 2	14 - 2	15 - 1						
पेपर क्र. - 3	1 - 4	2 - 3	3 - 2	4 - 3	5 - 1	6 - 1							

7. 1816 मध्ये कोणत्या करारामुळे इंग्रज-नेपाळ युद्धाचा शेवट ब्रिटिशांच्या बाजूने झाला ?
1. गोरखपूरचा तह 2. सगौलीचा तह
3. कुमाऊंचा तह 4. गढवालचा तह
8. महाराष्ट्र प्रदूषण नियंत्रण मंडळाची स्थापना कधी झाली ?
1. 6 जुलै 1981 2. 7 सप्टेंबर 1970
3. 9 ऑक्टोबर 1987 4. 25 सप्टेंबर 1970
9. बृहदेश्वर किंवा राजराजेश्वरम मंदिर हे बांधलेल्या द्रविड वास्तुकलेचे उदाहरण आहे.
1. चोल काळात 2. मुघल काळात
3. ब्रिटिश काळात 4. चेर काळात
10. खालीलपैकी कोणत्या काळात पहिले बर्मा युद्ध झाले ?
1. 1816-23 2. 1824-26
3. 1801-06 4. 1761-64
11. 1840 च्या दशकात मुंबईत मूर्तिपूजा आणि जातिव्यवस्थेशी लढा देण्याच्या उद्देशाने खालीलपैकी कोणत्या धार्मिक सुधारणेला सुरुवात झाली ?
1. गोविंद मंडळी 2. महादेव मंडळी
3. परमहंस मंडळी 4. दादोबा मंडळी
12. लोक त्यांच्या मूळ ठिकाणाहून स्थलांतरित होतात किंवा त्यांचे राहण्याचे ठिकाण सोडून जातात, तेव्हा त्याला काय म्हणतात ?
1. रोटेशन (rotation)
2. पुल फॅक्टर (pull factor)
3. पुश फॅक्टर (push factor)
4. चॅलेंजिंग फॅक्टर (challenging factor)
13. सीमा रस्ते संघटनेने (Border Roads Organisation) बांधलेला 9.2 कि.मी. लांबीचा अटल बोगदा..... ला जोडतो.
1. नुब्रा ते लाहौल-स्पिती दरी
2. मनाली ते लाहौल-स्पिती दरी
3. लेह ते लडाख
4. लेह ते नुब्रा दरी
14. महाराष्ट्रातील खान्देश किंवा नाशिक विभाग हा नदीखोऱ्यात वसलेला आहे.
1. कोसी 2. नर्मदा 3. ब्रह्मपुत्रा 4. तापी

15. खालीलपैकी कोणते महाराष्ट्रातील सर्वात मोठे तेल आणि नैसर्गिक वायुक्षेत्र आहे ?
1. वर्धा 2. मुंबई हाय 3. नागपूर 4. वरोरा

04

वनरक्षक शिफ्ट क्रमांक - 1

Date - 03/08/2023

1. भूतानमध्ये कोणत्या प्रकारचे शासन अंमलात आणले जाते ?
1. लोकशाही प्रजासत्ताक सरकार 2. घटनात्मक राजेशाही
3. संसदीय लोकशाही 4. अराजकता
2. भारताच्या कोणत्या भागात, उप-उष्णकटिबंधीय पूर्वीय (ईस्टरली) जेट प्रवाह म्हणवला जाणारा, पूर्वेकडील जेट प्रवाह हा उन्हाळ्याच्या महिन्यांत उत्तरेला अंदाजे 14⁰ वरून प्रवाहित होतो ?
1. हिमालयीन क्षेत्र (ग्रेट माउंटन झोन)
2. द्वीपकल्पीय भारत
3. वाळवंटी प्रदेश
4. सिंधू- गंगेचे मैदानी क्षेत्र
3. महाराष्ट्रातील रत्नागिरीमध्ये चे समृद्ध साठे आहेत.
1. सोने 2. लोखंड 3. बॉक्साईट 4. अभ्रक
4. अजिंठा लेणी कोणत्या शहराच्या उत्तरेस सुमारे दोन तासांच्या अंतरावर आहेत ?
1. औरंगाबाद 2. मुंबई 3. नाशिक 4. कोल्हापूर
5. जुलै 1924 मध्ये खालीलपैकी कोणी महाराष्ट्रात 'बहिष्कृत हितकारिणी सभा' स्थापन केली ?
1. डॉ. बाबासाहेब आंबेडकर
2. गोपाळ बाबा वलंगकर
3. अमृतलाल विठ्ठलदास ठक्कर
4. राजर्षी शाहू महाराज
6. विदर्भातील मुख्य शहराचे नाव सांगा.
1. कोल्हापूर 2. नागपूर 3. पुणे 4. नाशिक
7. खालीलपैकी कोणती पर्वतरांग ही महाराष्ट्राचा नैसर्गिक कणा म्हणून ओळखली जाते ?
1. सह्याद्री पर्वतरांग 2. विंध्य पर्वतरांग
3. अन्नामलाई पर्वतरांग 4. सातपुडा पर्वतरांग

पेपर क्र. - 3	7 - 2	8 - 2	9 - 1	10 - 2	11 - 3	12 - 3	13 - 2	14 - 1	15 - 2		
पेपर क्र. - 4	1 - 2	2 - 2	3 - 3	4 - 1	5 - 1	6 - 2	7 - 1				

8. सोलापूर आणि अहमदनगर हे पश्चिम पठारी जिल्हे क्षेत्राच्या केंद्रस्थानी आहेत.

1. समशीतोष्ण 2. मध्यम 3. शुष्क 4. आर्द्र

9. 1928 मध्ये वल्लभभाई पटेल यांनी बारडोली सत्याग्रह म्हणून ओळखल्या जाणाऱ्या, गुजरातमधील बारडोली येथील शेतकरी आंदोलनाचे नेतृत्व केले. हे आंदोलन याच्या विरोधात होते.

1. मिठावरील करातील वाढ 2. आयात करातील वाढ
3. निर्यात महसूलातील वाढ 4. जमीन महसूलातील वाढ

10. हिमालयाचा खालीलपैकी कोणता भाग हा सतलज आणि काली नद्यांच्या दरम्यान वसलेला आहे?

1. आसाम हिमालय 2. नेपाळी हिमालय
3. कुमाऊं हिमालय 4. हिमाचल हिमालय

11. 2022-23 या आर्थिक वर्षात GDP वाढीची (विस्तार) टक्केवारी किती होती?

1. 2% 2. 4% 3. 5% 4. 7%

12. म्हणजे व्यक्तीची प्रतिष्ठा आणि राष्ट्राची एकता व अखंडता यांची खात्री होय.

1. स्वातंत्र्य 2. न्याय 3. बंधुभाव 4. समानता

13. 2020-21 पर्यंतच्या माहितीनुसार, भारतामध्ये रस्त्यांचे जगातील जाळे आहे, जे एकूणपणे सुमारे 62.16 लाख कि.मी. आहे.

1. तिसऱ्या क्रमांकाचे मोठे 2. दुसऱ्या क्रमांकाचे मोठे
3. चौथ्या क्रमांकाचे मोठे 4. सहाव्या क्रमांकाचे मोठे

14 भारतीय राज्यघटनेच्या मध्ये विहित केलेल्या प्रक्रियेनुसारच राष्ट्रपतींना काढले गेले पाहिजे.

1. अनुच्छेद 80 2. अनुच्छेद 50
3. अनुच्छेद 61 4. अनुच्छेद 23

15. भारताची लोकसंख्या सातत्याने वाढत आहे. ती 1951 मधील 361 दशलक्ष वरून 2011 मध्ये पर्यंत पोहोचली.

1. 3,000 दशलक्ष 2. 1,210 दशलक्ष
3. 4,100 दशलक्ष 4. 2,100 दशलक्ष

05

वनरक्षक शिफ्ट क्रमांक - 2

Date - 03/08/2023

1. IBEF अहवाल 2021 च्या माहितीनुसार, रेल्वे नेटवर्कच्या बाबतीत भारताचा जगात कितवा क्रमांक आहे?

1. पहिला 2. तिसरा 3. दुसरा 4. चौथा

2. भारतीय राज्यघटनेच्या कोणत्या घटनादुरुस्तीद्वारे संविधानात मूलभूत कर्तव्ये जोडण्यात आली?

1. राज्यघटनेतील 42 वी घटनादुरुस्ती
2. राज्यघटनेतील 44 वी घटनादुरुस्ती
3. राज्यघटनेतील 41 वी घटनादुरुस्ती
4. राज्यघटनेतील 43 वी घटनादुरुस्ती

3. खालीलपैकी कोणते विधान, भारतीय राज्यघटनेच्या निर्मितीच्या संदर्भात अयोग्य आहे?

1. 26 नोव्हेंबर 1949 रोजी, भारतीय राज्यघटना अंगीकृत करण्यात आली.
2. राज्यघटना तयार करण्यासाठी वर्ष 1946 पासून पुढील तीन वर्षांसाठी घटना सभेच्या सदस्यांची बैठक झाली.
3. भारतीय राज्यघटना तयार करण्याची प्रक्रिया 1946 मध्ये सुरू झाली.
4. सुमारे 400 लोकांचा एक गट (जे घटनासभेचे सदस्य बनले) राज्यघटनेच्या निर्मितीमध्ये सामील होते.

4. महाराष्ट्रात खालीलपैकी कोणत्या प्रकारचे हवामान आहे?

1. उष्णकटिबंधीय मान्सून प्रकारचे 2. अर्धशुष्क प्रकारचे
3. समशीतोष्ण प्रकारचे 4. अतिउष्ण प्रकारचे

5. फॉरॅस्ट सर्व्हे ऑफ इंडिया रिपोर्ट 2018 च्या माहितीनुसार, महाराष्ट्राच्या भौगोलिक क्षेत्राचा किती टक्के भाग जंगलांनी आच्छादलेला आहे?

1. 15.50% 2. 16.50% 3. 17.50% 4. 14.50%

6. महाराष्ट्रातील बहुतांश वनक्षेत्रात कोणत्या प्रकारचे जंगल आहे?

1. बोरियल प्रकारची जंगले
2. समशीतोष्ण सूचिपर्णी प्रकारचे
3. समशीतोष्ण वर्षावने
4. शुष्क पानझडी प्रकारचे

पेपर क्र. - 4	8 - 4	9 - 4	10 - 3	11 - 4	12 - 3	13 - 2	14 - 3	15 - 2				
पेपर क्र. - 5	1 - 4	2 - 1	3 - 4	4 - 1	5 - 2	6 - 4						

7. ब्राह्मो सभेची स्थापना कोणत्या वर्षी झाली, जी नंतर ब्राह्मो समाज म्हणून ओळखली जाऊ लागली?

1. 1826 2. 1824 3. 1828 4. 1830

8. नाबार्ड (NABARD) चे पूर्ण रूप काय आहे?

1. नॅशनल बँक फॉर ऑग्रिकल्चर अँड रोड डेव्हलपमेंट (National Bank for Agriculture and Road Development)
2. नॅशनल बँक फॉर ऑग्रिकल्चर अँड रुरल डेव्हलपमेंट (National Bank for Agriculture and Rural Development)
3. नॅशनल बँक फॉर ऑग्रिकल्चर अँड रुरल डेव्हलपमेंट (National Bank for Agrarian and Rural Development)
4. नॅशनल ब्युरो फॉर ऑग्रिकल्चर अँड रुरल डेव्हलपमेंट (National Bureau for Agriculture and Rural Development)

9. खालीलपैकी कोणता जगातील असा एकमेव देश आहे, जिथे वाघ आणि सिंह दोन्हीही आहेत?

1. नेपाळ 2. भारत
3. पाकिस्तान 4. म्यानमार

10. “स्वातंत्र्य हा माझा जन्मसिद्ध हक्क आहे आणि तो मी मिळवणारच!” हा नारा कोणी दिला?

1. सरदार वल्लभभाई पटेल 2. महात्मा गांधी
3. जवाहरलाल नेहरू 4. बाळ गंगाधर टिळक

11. बौद्ध वास्तुशिल्पात, ‘हार्मिका’ हा शब्द कोणत्या प्रकारच्या संरचनेशी संबंधित आहे?

1. मठ 2. पॅगोडा
3. स्तूप 4. विहार

12. IBEF अहवाल 2020 च्या माहितीनुसार, महाराष्ट्र हा भारतातील सर्वात मोठा उत्पादक आहे.

1. ज्यूट 2. गहू
3. तांदूळ 4. ऊस

13. 2011 च्या जनगणनेच्या माहितीनुसार, भारतातील कोणत्या राज्यात अनुसूचित जमातींची जनसंख्या सर्वाधिक आहे?

1. झारखंड 2. मिझोराम

3. मध्य प्रदेश

4. छत्तीसगढ

14. हिमाद्रीच्या वळ्या असममित स्वरूपाच्या आहेत. हिमालयाच्या या भागाचा गाभा ने बनलेला आहे.

1. ग्रॅनाइट 2. वालुकाश्म
3. संगमरवर 4. अग्निज खडक

15. 23 मार्च 1931 रोजी भगतसिंग, सुखदेव आणि राजगुरू यांना फाशी देण्यात आली. त्यावेळी भगतसिंग यांचे वय फक्त वर्षे होते.

1. 23 2. 21 3. 24 4. 22

06

वनरक्षक शिफ्ट क्रमांक - 3

Date - 03/08/2023

1. खालीलपैकी कोण ह्या एक स्वातंत्र्यसैनिक, वारली आदिवासी विद्रोहाच्या नेत्या, महाराष्ट्र राज्य किसान सभेच्या संस्थापक आणि महाराष्ट्रातील पहिल्या महिला कायदेतज्ज्ञ (law graduate) होत्या?

1. अरुणा असफ अली 2. लक्ष्मी सहगल
3. ऊदा देवी 4. गोदावरी परुळेकर

2. ला उपयोगात आणण्यासाठी लडाखमधील पुगा व्हॅलीचा वापर केला जातो.

1. सौर ऊर्जा 2. अणुऊर्जा
3. भरतीची ऊर्जा 4. भूऔष्णिक ऊर्जा

3. च्या प्रचंडतेमुळे अरबी समुद्रातून येणारे मान्सून - वाहक वारे रोखले जातात आणि पर्जन्यवृष्टी होते.

1. विंध्य पर्वतरांगा 2. सातपुडा पर्वतरांगा
3. पश्चिम घाट 4. पूर्व घाट

4. खालीलपैकी कोणती मध्य हिमालयातील (Lesser Himalayas) सर्वात लांब आणि प्रमुख पर्वतरांग आहे?

1. महाभारत 2. पीरपंजाल
3. पूर्वांचल 4. शिवालिक

5. 2023 पर्यंतच्या माहितीनुसार, भारतीय रिझर्व्ह बँकेचे गव्हर्नर कोण आहेत?

1. एम. नरसिंहम 2. डॉ. रघुराम राजन
3. शक्तिकांत दास 4. डॉ. बिमल जालान

पेपर क्र. - 5	7 - 3	8 - 2	9 - 2	10 - 4	11 - 3	12 - 4	13 - 3	14 - 1	15 - 1
पेपर क्र. - 6	1 - 4	2 - 4	3 - 3	4 - 2	5 - 3				

6. ब्रिटिश संसदेने ऑगस्ट मध्ये भारत सरकार कायदा मंजूर केला.

1. 1938 2. 1931 3. 1935 4. 1930

7. खालीलपैकी कोणता वृक्ष हा गंगा-ब्रह्मपुत्रा यांच्या त्रिभुज प्रदेशातील खारफुटीच्या जंगलात मोठ्या प्रमाणावर आढळतो?

1. सुंदरी 2. लहान दुधी (युफोर्बिया)
3. देवदार (पाईन) 4. बाभूळ

8. खालीलपैकी कोणते दिल्लीतील मेहरौली येथील भारतीय कारागिरांच्या कौशल्याचे उल्लेखनीय उदाहरण आहे आणि ते सुमारे 1500 वर्षांपूर्वी बनवले गेले होते?

1. लोखंडी स्तंभ 2. लाल किल्ला
3. सफदरजंग मकबरा 4. दिवाण-ए-आम

9. भारतीय राज्यघटनेच्या खालीलपैकी कोणत्या अनुच्छेदात, जगण्याच्या मूलभूत अधिकारांतर्गत अन्नाच्या अधिकाराची हमी (समाविष्ट) दिली गेली आहे?

1. अनुच्छेद 55 2. अनुच्छेद 31
3. अनुच्छेद 21 4. अनुच्छेद 28

10. राज्याकडून कोणत्याही मूलभूत अधिकारांचे उल्लंघन केले गेल्यास, पुनरावलोकन केले जाते.

1. घटनात्मक 2. न्यायिक
3. सामाजिक 4. राजकीय

11. 1930 मध्ये खालीलपैकी कोणी दलिताना 'वंचित वर्ग संघटनेत (डिप्रेसड क्लासेस असोसिएशन)' संघटित केले?

1. ज्योतिबा फुले 2. विनोबा भावे
3. डॉ. बी. आर. आंबेडकर 4. बाबा आमटे

12. ताडोबा अंधारी व्याघ्र प्रकल्प महाराष्ट्रातील जिल्ह्यात आहे.

1. अहमदनगर 2. चंद्रपूर
3. गोंदिया 4. जळगाव

13. खानदेश हा च्या खोऱ्यात वसलेला वायव्य प्रदेश आहे.

1. कृष्णा नदी 2. तापी नदी
3. गोदावरी नदी 4. नर्मदा नदी

14. प्रधानमंत्री ग्रामोदय योजना (PMGY) केव्हा सुरू करण्यात आली?

1. 2000 2. 1992 3. 2005 4. 2010

15. खालीलपैकी कोणत्या टेकडीमुळे महाराष्ट्राची उत्तरेकडील सीमा तयार झाली आहे?

1. निलगिरी टेकड्या 2. सातपुडा टेकड्या
3. भामरागड टेकड्या 4. पेनुकोंडा टेकड्या

07

वनरक्षक शिफ्ट क्रमांक - 1

Date - 04/08/2023

1. खालीलपैकी कोणता महाराष्ट्रातील सर्वोच्च उंचीवरील बिंदू आहे?

1. गवळदेव 2. घनचक्कर
3. कळसूबाई 4. साल्हेर

2. उत्तर प्रदेशातील कोणत्या जिल्ह्यात कोरवा जमाती आढळतात?

1. उन्नाव 2. आग्रा 3. सुलतानपूर 4. मिर्झापूर

3. अमरावतीच्या स्तूपाची पायाभरणी कोणी केली?

1. पृथ्वीराज चौहान 2. महादेव भिक्षू
3. कुशाण राजा कनिष्क 4. के. के. मुहम्मद

4. खालीलपैकी कोणती रिफायनरी (शुद्धीकरण कारखाना) ही भारतातील सर्वात जुनी कार्यरत रिफायनरी असून ती आसाममध्ये आहे?

1. डिगबोई रिफायनरी 2. जामनगर रिफायनरी
3. गुवाहाटी रिफायनरी 4. कोची रिफायनरी

5. महाराष्ट्र राज्याला सुमारे लांबीची खाचखळगेयुक्त किनारपट्टी आहे, जी प्रमुख नदीमुखे आणि अरुंद खाड्यांनी दर्शवली जाते.

1. 200 km 2. 1700 km
3. 720 km 4. 900 km

6. खालीलपैकी कोणती नदी हिमालयाची सर्वात पूर्वेकडील सीमारेषा दर्शवते?

1. गोदावरी नदी 2. ब्रह्मपुत्रा नदी
3. कृष्णा नदी 4. पेन्ना नदी

पेपर क्र. - 6	6 - 3	7 - 1	8 - 1	9 - 3	10 - 2	11 - 3	12 - 1	13 - 2	14 - 1	15 - 2
पेपर क्र. - 7	1 - 3	2 - 4	3 - 2	4 - 1	5 - 3	6 - 2				

7. 'महाराष्ट्रातील विविध प्रकारच्या गटांमधील वृक्ष, झुडूप आणि वनौषधींच्या प्रजातींच्या शॅनन- विनर निर्देशांक' नुसार, वन प्रकारांचे गट आहेत.

1. 7 2. 8 3. 4 4. 6

8. ब्रिटिश सरकारने खालीलपैकी कोणता अधिनियम मंजूर केला होता, ज्यानुसार इंपिरियल विधान परिषदेत मंजूर झालेल्या कायद्याने ब्रिटिशांना कोणत्याही व्यक्तीला कोणत्याही खटल्याशिवाय अटक करण्याचा अधिकार मिळाला होता?

1. 1919 चा रौलेट कायदा
2. 1793 चा सनदी कायदा
3. 1813 चा सनदी कायदा
4. 1784 चा पिट्स इंडिया कायदा

9. पारादीप बंदर हे भारताच्या पूर्वे किनारपट्टीवर राज्यातील जगतसिंगपूर जिल्ह्यात आहे.

1. कर्नाटक 2. ओडिशा
3. पश्चिम बंगाल 4. महाराष्ट्र

10. 21 डिसेंबर 1909 रोजी, अनंत लक्ष्मण कान्हेरे यांच्या सोबतीने खालीलपैकी कोणी, नाशिकचे न्यायदंडाधिकारी आर्थर जॅक्सन यांची गोळ्या झाडून हत्या केली?

1. लहुजी वस्ताद साळवे 2. चापेकर बंधू
3. बायजाबाई 4. कृष्णाजी गोपाळ कर्वे

11. खालीलपैकी कोणत्या पाच नद्या संपूर्ण महाराष्ट्रातून जातात?

1. कृष्णा, गोदावरी, तापी, नर्मदा आणि कोकण क्षेत्रात पश्चिमेकडून वाहणाऱ्या नद्या
2. मिंधोळा, पूर्णा, अंबिका, वांकी आणि औरंगा
3. महेंद्रतनया, तापी, नर्मदा, पंपा आणि बहुदा
4. कृष्णा, गोदावरी, सुवर्णरेखा, ब्राह्मणी आणि महानदी

12. भारताचे सरन्यायाधीश आणि सर्वोच्च न्यायालयाच्या न्यायाधीशांची नियुक्ती कोण करते?

1. भारताचे पंतप्रधान
2. सर्वोच्च न्यायालयातील सर्वात ज्येष्ठ न्यायाधीश
3. उच्च न्यायालयांच्या न्यायाधीशांच्या सामूहिक मतदानाद्वारे
4. भारताचे राष्ट्रपती

13. केंद्रीय अर्थसंकल्प 2021-22 नुसार, भारतात तयार केलेली आणि सध्या फक्त 5 राज्यांपुरती मर्यादित असलेली खालीलपैकी कोणती लस दरवर्षी 50,000 बालमृत्यू टाळण्याच्या उद्देशाने देशभरात आणली जाईल?

1. न्यूमोकोकल लस 2. स्मॉलपॉक्स लस
3. रुबेला (Rubella) लस 4. कोविड-19 लस

14. भारतीय राज्यघटनेतील खालीलपैकी कोणत्या घटनादुरुस्ती कायद्याद्वारे 11 व्या मूलभूत कर्तव्याचा सूचीमध्ये समावेश करण्यात आला?

1. 88 वा घटनादुरुस्ती कायदा, 2002
2. 89 वा घटनादुरुस्ती कायदा, 2001
3. 76 वा घटनादुरुस्ती कायदा, 2008
4. 86 वा घटनादुरुस्ती कायदा, 2002

15. पहिले अँग्लो-अफगाण युद्ध केव्हा झाले?

1. 1804-1805 2. 1839-42
3. 1794-1802 4. 1849-50

08

वनरक्षक शिफ्ट क्रमांक - 2

Date - 04/08/2023

1. What has the Qutub Minar complex of buildings been declared as?

1. A science city 2. A heritage site
3. A museum 4. A research centre

2. The average elevation of Western Ghats is _____ metres.

1. 800-1200 2. 900-1600
3. 700-1400 4. 600-1000

3. Which central government ministry is responsible for measuring GDP in India?

1. Ministry of Human Resource Development
2. Ministry of Finance
3. Ministry of Commerce & Industry
4. Ministry of Statistics & Programme Implementation

4. द्वीपकल्पीय भारतातील सर्वात मोठे नदीचे खोरे कोणते आहे, जे महाराष्ट्रासह भारतातील अनेक राज्यांमध्ये पसरलेले आहे?

1. तापी खोरे 2. कृष्णा खोरे
3. नर्मदा खोरे 4. गोदावरी खोरे

पेपर क्र. - 7	7 - 4	8 - 1	9 - 2	10 - 4	11 - 1	12 - 4	13 - 1	14 - 4	15 - 2		
पेपर क्र. - 8	1 - 2	2 - 2	3 - 4	4 - 4							

5. भारतातील शासकीय उपक्रमांच्या बाबतीत भारतीय रेल्वेची स्थिती काय आहे ?
1. सर्वात लहान 2. सर्वाधिक मोठा
3. दुसरा सर्वाधिक मोठा 4. तिसरा सर्वाधिक मोठा
6. भारतीय राज्यघटनेचा कोणता अनुच्छेद असे स्पष्ट करतो की, 'राष्ट्रपती हे पद ग्रहण केल्याच्या दिनांकापासून ते पाच वर्षांच्या पूर्ण कालावधीपर्यंत पद धारण करतील' ?
1. अनुच्छेद 53 2. अनुच्छेद 54
3. अनुच्छेद 55 4. अनुच्छेद 56
7. महाराष्ट्रातील कोणता प्रदेश हा काळ्या मृदेसाठी ओळखला जातो ?
1. दक्षिण महाराष्ट्र 2. पश्चिम घाट
3. कोकण समुद्रकिनारा 4. दख्खनचे पठार
8. बाळ गंगाधर टिळकांनी कोणता नारा दिला होता ?
1. "क्रांती चिरंजीवी होवो!"
2. "इन्कलाब जिंदाबाद!"
3. "जय हिंद !"
4. "स्वातंत्र्य हा माझा जन्मसिद्ध हक्क आहे आणि तो मी मिळवणारच!"
9. मे 1989 मध्ये येथे महाराष्ट्रातील सर्वाधिक कमाल तापमान 48.4°C नोंदवले गेले.
1. जळगाव आणि वर्धा 2. कोल्हापूर आणि अहमदनगर
3. नाशिक आणि नांदेड 4. मुंबई आणि अमरावती
10. महाराष्ट्रातील प्रभावी प्राकृतिक वैशिष्ट्य कोणते आहे ?
1. पठारी स्वरूप 2. समुद्रतटीय मैदाने
3. डोंगररांगा 4. घनदाट जंगले
11. राज्यांतून जाणारा दक्षिण-पश्चिम घाट (SWG) 7000 km² चे क्षेत्रफळ व्यापतो आणि फुले व प्राण्यांच्या जैवविविधतेने अतिशय समृद्ध आहे.
1. कर्नाटक आणि केरळ 2. कर्नाटक आणि महाराष्ट्र
3. तेलंगणा आणि तामिळनाडू 4. केरळ आणि तामिळनाडू
12. लोकमान्य टिळकांनी लोकांचे प्रबोधन करण्यासाठी मराठा आणि केसरी ही वृत्तपत्रे प्रकाशित केली होती. केसरी कोणत्या भाषेत प्रकाशित केले गेले ?
1. हिंदी 2. गुजराती 3. इंग्रजी 4. मराठी

13. भारतीय राज्यघटनेच्या कोणत्या घटनादुरुस्तीमध्ये 11 व्या मूलभूत कर्तव्यांचा समावेश करण्यात आला ?
1. 92 वी घटनादुरुस्ती 2. 73 वी घटनादुरुस्ती
3. 86 वी घटनादुरुस्ती 4. 42 वी घटनादुरुस्ती
14. संविधान सभेची पहिली बैठक कधी आयोजित करण्यात आली होती ?
1. 9 डिसेंबर 1946 2. 10 डिसेंबर 1948
3. 1 नोव्हेंबर 1945 4. 9 डिसेंबर 1945
15. कोणत्या वर्षी, भारतातील गरिबीच्या आकलनाच्या पद्धतीशास्त्राचे पुनरावलोकन करण्यासाठी सुरेश तेंडुलकर यांच्या अध्यक्षतेखालील तज्ज्ञ गटाची स्थापना करण्यात आली होती ?
1. 2003 2. 2001 3. 2008 4. 2005

09

वनरक्षक शिफ्ट क्रमांक - 3
Date - 04/08/2023

1. खालीलपैकी कोणती 2020-21 मधील महाराष्ट्रातील सर्वात मौल्यवान किरकोळ वन उपज आहे ?
1. बांबू 2. मोहाची फुले आणि बिया
3. शिकेकाई 4. डिंक
2. फॉरेस्ट सर्व्हे ऑफ इंडियाने तयार केलेला इंडिया स्टेट ऑफ फॉरेस्ट अहवाल प्रत्येकी किती वर्षांनी प्रकाशित केला जातो ?
1. प्रत्येकी 2 वर्षांनी 2. प्रत्येकी 6 वर्षांनी
3. प्रत्येकी 5 वर्षांनी 4. प्रत्येकी 4 वर्षांनी
3. विशिष्ट कालावधीत, एखाद्या विशिष्ट क्षेत्रात जन्मलेल्या जिवंत अर्भकांच्या एकूण संख्येला, त्या क्षेत्रातील हजारच्या एककातील एकूण लोकसंख्येने भागल्यास त्यास म्हणतात.
1. मृत्यूदर 2. मृतजन्म 3. जन्मदर 4. जिवंतजन्म
4. ज्योतिराव गोविंदराव फुले यांनी 1873 मध्ये प्रकाशित झालेल्या त्यांच्या '.....' या पुस्तकात, ब्राह्मणी वर्चस्वाखालील शूद्रांच्या गुलामगिरीच्या ऐतिहासिक मूळ संकल्पनेचे सविस्तर वर्णन केले आणि त्याची तुलना अमेरिकेतील आफ्रिकी - अमेरिकी लोकांच्या गुलामगिरीशी केली.
1. गुलामगिरी 2. वर्णाश्रम
3. पट्टुपट्टू 4. सत्यशोधक

पेपर क्र. - 8	5 - 2	6 - 4	7 - 4	8 - 4	9 - 1	10 - 1	11 - 4	12 - 4	13 - 3	14 - 1	15 - 4
पेपर क्र. - 9	1 - 1	2 - 1	3 - 3	4 - 1							

5. इंडिया स्टेट ऑफ फॉरेस्ट रिपोर्ट (ISFR) 2019 नुसार, महाराष्ट्रातील वार्षिक पर्जन्यमान च्या दरम्यान आहे.
1. 2000 mm आणि 6000 mm
 2. 400 mm आणि 6000 mm
 3. 800 mm आणि 9000 mm
 4. 1000 mm आणि 2000 mm
6. खालीलपैकी कोण हे बॉम्बे उच्च न्यायालयात बॅरिस्टर म्हणून आणि भारतीय राष्ट्रीय काँग्रेसचे तिसरे अध्यक्ष म्हणून काम करणारे पहिले भारतीय होते?
1. देवेंद्रनाथ टागोर
 2. सहजानंद सरस्वती
 3. अरुणा असफ अली
 4. बदरुद्दीन तय्यबजी
7. इंडिया स्टेट ऑफ फॉरेस्ट रिपोर्ट-2021 नुसार, अरुणाचल प्रदेशमधील खालीलपैकी कोणत्या व्याघ्र प्रकल्पात सर्वाधिक विशाल वनाच्छादित क्षेत्र आहे?
1. सरिस्का व्याघ्र प्रकल्प
 2. पाके व्याघ्र प्रकल्प
 3. काली व्याघ्र प्रकल्प
 4. सातपुडा व्याघ्र प्रकल्प
8. आदिम समाजातील व्यापाराच्या प्रारंभिक स्वरूपाला काय म्हणतात, ज्यामध्ये वस्तूंची थेट देवाणघेवाण होत असे?
1. वस्तुविनिमय प्रणाली
 2. गुलामांचा व्यापार
 3. आयात
 4. निर्यात
9. स्वामी दयानंद सरस्वती यांनी 1845 ते 1860 पर्यंत धार्मिक सत्याच्या शोधात भारतभर प्रवास केला आणि शेवटी ते यांचे शिष्य बनले.
1. स्वामी विवेकानंद
 2. स्वामी विराजानंद
 3. ईश्वरचंद्र विद्यासागर
 4. राजा राममोहन रॉय
10. व्यावसायिक बँकांनी राखीव ठेवलेल्या एकूण ठेवींच्या टक्केवारीला काय म्हटले जाते?
1. गुंतवणूक
 2. राखीव भांडवल गुणोत्तर
 3. कर्ज
 4. राखीव ठेव गुणोत्तर
11. स्थानिक बांबू कारागिरांची कौशल्ये वाढवण्याच्या उद्देशाने, महाराष्ट्र सरकारने 2014 साली कोणत्या जिल्ह्यात बांबू संशोधन आणि प्रशिक्षण केंद्र (BRTC) स्थापन केले?
1. अकोला
 2. बीड
 3. बुलढाणा
 4. चंद्रपूर
12. महाराष्ट्रामध्ये कोणती तीन भूरूपीक क्षेत्रे आहेत?
1. पूर्वेकडील तटीय मैदान, मध्य पर्वत आणि गिरिभूमी

- प्रदेश
2. दख्खनचे पठार, पश्चिम घाट आणि पश्चिम किनारा
 3. गिरिभूमी प्रदेश, मध्य पठारे, पश्चिमेकडील आवर्तनी उच्चभूमी (Western Rolling Uplands)
 4. कोकण किनारा, मध्य पर्वत आणि दख्खनचे पठार
13. भारताच्या उपराष्ट्रपतींची निवड कोण करते?
1. भारताचे राष्ट्रपती
 2. राज्यसभेचे सदस्य
 3. लोकसभेचे सदस्य
 4. संसदेच्या दोन्ही सभागृहांचे सदस्य
14. भारतीय राज्यघटनेच्या खालीलपैकी कोणत्या भागात मूलभूत कर्तव्यांचा उल्लेख आहे?
1. भाग 4A
 2. भाग 5
 3. भाग 6
 4. भाग 6A
15. खालीलपैकी कोणते सिंधू संस्कृतीचे एकमेव बंदर शहर होते?
1. कालीबंगन
 2. सुजानगड
 3. लोथल
 4. हनुमानगड
- 10** वनरक्षक शिफ्ट क्रमांक - 1
Date - 07/08/2023
1. दमणगंगा नदी खालीलपैकी कोणत्या पर्वतरांगेत उगम पावते?
 1. पारसनाथ पर्वतरांगा
 2. गुरू शिखर
 3. सह्याद्री पर्वतरांगा
 4. पटकाई बम
 2. राष्ट्रपती पद रिक्त झाल्यास आणि उपराष्ट्रपती उपलब्ध नसल्यास, राष्ट्रपती म्हणून कोण कारभार सांभाळते?
 1. पंतप्रधान
 2. मुख्य निवडणूक आयुक्त
 3. लोकसभेचे अध्यक्ष
 4. भारताचे मुख्य न्यायमूर्ती
 3. केंद्र सरकारने कोणत्या वर्षी प्रधानमंत्री ग्राम सडक योजना सुरू केली?
 1. 1999
 2. 2019
 3. 2000
 4. 2021
 4. खालीलपैकी कोणता आर्थिक, कर्षण घटक (pull factor) स्थलांतरास कारणीभूत नाही?
 1. सुपीक मृदा
 2. औद्योगिकीकरणाची निम्न पातळी
 3. खनिजांची उपलब्धता
 4. रोजगारांच्या अधिक संधी
 5. महाराष्ट्रातील कोणत्या जिल्ह्यात, नांदूर मधमेश्वर ही रामसर पाणथळ जागा (वेटलँड) आहे?
 1. अकोला
 2. लातूर
 3. बालाघाट
 4. नाशिक

पेपर क्र. - 9	5 - 2	6 - 4	7 - 2	8 - 1	9 - 2	10 - 4	11 - 4	12 - 4	13 - 4	14 - 1	15 - 3
पेपर क्र. - 10	1 - 3	2 - 4	3 - 3	4 - 2	5 - 4						

6. ताडोबा राष्ट्रीय उद्यान हे महाराष्ट्रातील खालीलपैकी कोणत्या जिल्ह्यात आहे?
1. चंद्रपूर 2. अकोला 3. गडचिरोली 4. हिंगोली
7. अर्थशास्त्राची कोणती शाखा संपूर्ण देशाच्या आर्थिक समुच्चयांशी संबंधित आहे?
1. व्यष्टी अर्थशास्त्र 2. समष्टि अर्थशास्त्र
3. उदारमतवादी अर्थशास्त्र 4. सामाजिक अर्थशास्त्र
8. तेराव्या शतकात कोणार्क येथील सूर्यमंदिर कोणी बांधले होते?
1. दुसरा अवंतिवर्मन 2. पहिला राजराजा
3. दुसरा राजेंद्र 4. पहिला नरसिंह देव
9. तिसरे अँग्लो-मराठा युद्ध हे खालीलपैकी कोणत्या वर्षाच्या दरम्यान लढले गेले?
1. 1816-1819 2. 1814-1818
3. 1819-1822 4. 1813-1816
10. मॉन्टेग्यू-चेम्सफोर्ड सुधारणांनी संस्थानांत सह द्विदल राज्यपद्धती सुरू केली.
1. भारत सरकार अधिनियम, 1935
2. भारत सरकार अधिनियम, 1919
3. भारत सरकार अधिनियम, 1859
4. भारत सरकार अधिनियम, 1909
11. 1949 मध्ये संमत झालेल्या मूळ भारतीय राज्यघटनेत किती अनुच्छेद आहेत?
1. 295 2. 355 3. 495 4. 395
12. मान्सून म्हणजे उष्णकटिबंधीय वातप्रणाली आहे, ज्यांच्या मध्ये हिवाळा आणि उन्हाळा या ऋतूंमध्ये संपूर्ण परिवर्तन आढळते.
1. दिशा 2. उंची 3. परिमाण 4. प्रवाह
13. सह्याद्रीचा उतार कोणत्या दिशेला होत जातो?
1. दक्षिण आणि नैऋत्य 2. उत्तर आणि ईशान्य
3. पूर्व आणि आग्नेय 4. पूर्व
14. गारो, खासी आणि जयंतिया या टेकड्या कोणत्या पर्वतीय प्रदेशांतर्गत येतात?
1. पूर्वांचल 2. धौलाधार 3. पीर पंजाल 4. झास्कर

15. खालीलपैकी कोणी विशेषतः खालच्या जातींसाठी शाळा उघडली आणि 1873 मध्ये सत्यशोधक समाजाची सुरुवात देखील केली?
1. बी. आर. आंबेडकर 2. दादाभाई नौरोजी
3. ज्योतिबा फुले 4. महात्मा गांधी

11

वनरक्षक शिफ्ट क्रमांक - 2

Date - 07/08/2023

1. भारत सरकारचे सर्व कार्यकारी अधिकार हे कोणाच्या नावावर आहेत?
1. भारताचे गृहमंत्री 2. भारताचे पंतप्रधान
3. भारताचे राष्ट्रपती 4. भारताचे सरन्यायाधीश
2. काकोरी कांड किंवा काकोरी ट्रेन दरोड्यानंतर आरोपींवर कोणाच्या सत्र न्यायालयात खटला चालला?
1. ह्यू हेन्री गफ 2. विल्यम ग्रेटहेड
3. ए. हॅमिल्टन 4. जॉन गोल्ड्सबरो
3. 23 मार्च 2018 च्या अधिसूचनेनुसार आणि महाराष्ट्र सरकारच्या पर्यावरण विभागाच्या अहवालात नमूद केलेल्या प्लास्टिक व्यवस्थापन नियमांनुसार, पुनर्वापर न करता येणाऱ्या बहुस्तरीय प्लास्टिकचा वापर च्या आत टप्प्याटप्प्याने बंद केला जावा.
1. 3 वर्ष 2. 2 वर्ष 3. 6 वर्षे 4. 9 वर्षे
4. भारतीय राज्यघटनेतील 'समवर्ती यादी' ची कल्पना खालीलपैकी कोणत्या देशाच्या राज्यघटनेतून घेतली आहे?
1. चीन 2. जपान 3. ब्रिटन 4. ऑस्ट्रेलिया
5. महाराष्ट्रातील दलित चळवळीला आकार देणारे सर्वात प्रभावशाली व्यक्तिमत्त्व खालीलपैकी कोण होते?
1. डॉ. बी. आर. आंबेडकर 2. अच्युतराव पटवर्धन
3. अरुणा असफ अली 4. अशफाकुल्ला खान
6. खालीलपैकी कोणत्या कायदानुसार प्रांतीय स्तरावरील द्वंद्ववाद रद्द करण्यात आला?
1. 1784 चा पिट्स इंडिया कायदा
2. 1773 चा नियमन कायदा
3. 1813 चा सनदी कायदा
4. 1935 चा भारत सरकार कायदा

पेपर क्र. - 10	6 - 1	7 - 2	8 - 4	9 - 1	10 - 2	11 - 4	12 - 4	13 - 1	14 - 1	15 - 3
पेपर क्र. - 11	1 - 3	2 - 3	3 - 2	4 - 4	5 - 1	6 - 4				

7. भारताचे पश्चिमेकडून पूर्वेकडे रेखांश किती आहे?
1. 58°7'E ते 67°25'E दरम्यान
 2. 38°7'E ते 57°25'E दरम्यान
 3. 78°7'E ते 37°25'E दरम्यान
 4. 68°7'E ते 97°25'E दरम्यान
8. सह्याद्री पर्वत रांगा म्हणून ओळखल्या जाणाऱ्या महाराष्ट्राच्या पश्चिम घाटाची सरासरी उंची आहे.
1. 6000-7500 m
 2. 1000-1200 m
 3. 4000-4500 m
 4. 2000-3000 m
9. बहुआयामी दारिद्र्य निर्देशांकावरील UNDP च्या 2022 अहवालाचे निष्कर्ष असे सांगतात की, 2005-06 आणि 2019-20 दरम्यान भारतातील गरिबीतून बाहेर पडले.
1. 89.7 कोटी
 2. 59.1 कोटी
 3. 41.5 कोटी
 4. 21.3 कोटी
10. कुतुबमिनार कधी बांधला गेला?
1. 14 व्या शतकाच्या सुरुवातीस
 2. 13 व्या शतकाच्या सुरुवातीस
 3. 17 व्या शतकाच्या सुरुवातीस
 4. 15 व्या शतकाच्या सुरुवातीस
11. 2022 पर्यंतच्या माहितीनुसार, खालीलपैकी कोणते भारतातील सर्वात लहान रेल्वे क्षेत्र आहे?
1. ईशान्य रेल्वे क्षेत्र
 2. पश्चिम रेल्वे क्षेत्र
 3. दक्षिण रेल्वे क्षेत्र
 4. उत्तर रेल्वे क्षेत्र
12. त्सुनामीच्या वेळी 2004 मध्ये समुद्राच्या पाण्याखाली बुडालेल्या भारताच्या दक्षिणेकडील भागाचे नाव काय आहे?
1. इंदिरा पॉइंट
 2. उल्का बिंदू
 3. सुंदा पॉइंट
 4. जावा पॉइंट
13. खालीलपैकी कशाच्या मध्यभागी, कोकण हा जेमतेम 50 किमी रुंदीचा किनारपट्टीवरील सखल प्रदेश आहे.
1. बंगालचा उपसागर आणि पीर पंजाल पर्वतरांग
 2. अरबी समुद्र आणि सह्याद्री रांग
 3. अरबी समुद्र आणि सातपुडा पर्वतरांग
 4. अरबी समुद्र आणि माळवा पठार
14. इंडिया स्टेट ऑफ फॉरेस्ट रिपोर्ट (ISFR) 2019 नुसार महाराष्ट्रात वृक्षाच्छादन किती आहे?
1. 35,506 km²
 2. 10,806 km²
 3. 16,778 km²
 4. 13,500 km²

15. नॅशनल बँक फॉर ऑग्रिकल्चर अँड रूरल डेव्हलपमेंट (NABARD) ची स्थापना जुलै 1982 मध्ये समितीच्या शिफारशीनुसार करण्यात आली.
1. बी. शिवरामन
 2. राजमन्नर
 3. शहा
 4. तेंडुलकर

12

वनरक्षक शिफ्ट क्रमांक - 3
Date - 07/08/2023

1. तेराव्या लोकसभेची स्थापना केव्हा झाली?
1. जून 1991
 2. ऑक्टोबर 1999
 3. मार्च 1977
 4. मे 1996
2. होमरूल चळवळीचे संस्थापक कोण होते?
1. अॅनी बेझंट आणि बाळ गंगाधर टिळक
 2. डॉ. बी. आर. आंबेडकर आणि रवींद्रनाथ टागोर
 3. वीर सावरकर आणि मेधा पाटकर
 4. जी. के. गोखले आणि वीर सावरकर
3. इंडिया स्टेट फॉरेस्ट रिपोर्ट-2019 नुसार महाराष्ट्राचे एकूण भौगोलिक क्षेत्रफळ किती आहे?
1. 8,07,713 km²
 2. 4,07,513 km²
 3. 9,07,613 km²
 4. 3,07,713 km²
4. जनगणना 2011 नुसार, गोव्यातील शहरी लोकसंख्येची एकूण टक्केवारी किती आहे?
1. 32.55%
 2. 29.55%
 3. 54.66%
 4. 62.17%
5. माघारी जाणाऱ्या मान्सूनच्या हंगामात, वारा मुख्य भूभागाकडून कडे वाहतो.
1. हिमालय
 2. ईशान्येकडील प्रदेश
 3. बंगालचा उपसागर
 4. पूर्वेकडील प्रदेश
6. इंडिया स्टेट ऑफ फॉरेस्ट रिपोर्ट-2019 नुसार, TOF (जंगलाबाहेरील झाडे) असलेल्या भागासह महाराष्ट्राच्या जंगलांतील एकूण कार्बन साठा किती आहे?
1. 440.51 दशलक्ष टन
 2. 559.71 दशलक्ष टन
 3. 3430.51 दशलक्ष टन
 4. 6700.81 दशलक्ष टन
7. महाराष्ट्रातील पुणे येथे खालीलपैकी कोणी सत्यशोधक समाजाची स्थापना केली?
1. ज्योतिबा फुले
 2. बी. आर. आंबेडकर
 3. वसंतदादा पाटील
 4. नाना पाटील

पेपर क्र. - 11	7 - 4	8 - 2	9 - 3	10 - 2	11 - 1	12 - 1	13 - 2	14 - 2	15 - 1		
पेपर क्र. - 12	1 - 2	2 - 1	3 - 4	4 - 4	5 - 3	6 - 1	7 - 1				

8. माघारी जाणाऱ्या मान्सूनच्या आगमनापूर्वी, हवेतील आर्द्रतेमुळे हवामान उष्ण व दमट होते. या घटनेला काय म्हणतात?

1. ऑक्टोबर हीट (October heat)
2. चक्रीवादळ (Cyclone)
3. नोव्हेंबर हीट (November heat)
4. अॅडव्हान्सिंग मान्सून (Advancing monsoon)

9. राखीगढी हे सिंधू संस्कृतीशी संबंधित असलेले एक पुरातत्त्व स्थळ असून ते सध्याच्या येथे स्थित आहे.

1. अफगाणिस्तान
2. महाराष्ट्र
3. पाकिस्तान
4. हरियाणा

10. इंडिया स्टेट फॉरेस्ट रिपोर्ट-2019 नुसार, महाराष्ट्रातील RFA (नोंदणीकृत वनक्षेत्र) मध्ये किती वनाच्छादित क्षेत्र आहे?

1. 61,579 km²
2. 84,639 km²
3. 24,639 km²
4. 74,639 km²

11. 1812 मध्ये कोणत्या राज्यात भारतातील पहिला कागद गिरणी उद्योग स्थापन झाला?

1. पंजाब
2. गुजरात
3. बंगाल
4. आसाम

12. खालीलपैकी कोणी संसदेत 2022-23 चा केंद्रीय अर्थसंकल्प सादर केला?

1. एस. जयशंकर
2. अमित शहा
3. राजनाथ सिंह
4. निर्मला सीतारामन

13. भारतीय राष्ट्रीय काँग्रेसची स्थापना कोणत्या वर्षी झाली?

1. 1857
2. 1885
3. 1906
4. 1930

14. इंडिया स्टेट ऑफ फॉरेस्ट रिपोर्ट-2019 नुसार, महाराष्ट्रातील नोंदणीकृत वनक्षेत्रामधील (ग्रीन वॉश) पाणथळ क्षेत्राची टक्केवारी किती आहे?

1. 3.77%
2. 4.07%
3. 2.07%
4. 6.27%

15. खालीलपैकी कोणत्या अनुच्छेदानुसार अस्पृश्यतेचे निर्मूलन केले गेले आहे आणि तिच्या कोणत्याही स्वरूपातील पालनास मनाई आहे?

1. अनुच्छेद 16
2. अनुच्छेद 15
3. अनुच्छेद 17
4. अनुच्छेद 19

13

वनरक्षक शिफ्ट क्रमांक - 1

Date - 08/08/2023

सामान्यज्ञान

1. पहिला हिंदू विधवा पुनर्विवाह अधिनियम खालीलपैकी कोणत्या वर्षी लागू करण्यात आला होता?

1. 1858
2. 1856
3. 1865
4. 1875

2. भारतातील कोणत्या घाटांना सह्याद्री पर्वतरांगा असेदेखील म्हटले जाते?

1. पश्चिमेकडील
2. पूर्वेकडील
3. उत्तरेकडील
4. दक्षिणेकडील

3. कोणाची निवड ही संसदेच्या दोन्ही सभागृहांच्या तसेच राज्य विधानसभेच्या निर्वाचित सदस्यांचा समावेश असलेल्या एका निर्वाचक गणाकडून अप्रत्यक्षपणे केली जाते?

1. राज्यपाल
2. पंतप्रधान
3. भारताचे राष्ट्रपती
4. मुख्यमंत्री

4. दिलेल्या पर्यायांच्या आधारे, खालीलपैकी कोण संविधान सभेचे अध्यक्ष होते?

1. मोतीलाल नेहरू
2. जवाहरलाल नेहरू
3. डॉ. राजेंद्र प्रसाद
4. डॉ. बी. आर. आंबेडकर

5. खालीलपैकी कोणती नदी प्रामुख्याने महाराष्ट्राशी संबंधित आहे?

1. गंगा
2. गोदावरी
3. ब्रह्मपुत्रा
4. यमुना

6. हे सती प्रथेला आव्हान देण्यासाठी पुढाकार घेणारी पहिली व्यक्ती होते व लवकरच ते त्यांचे आयुष्यभरासाठीचे धर्मयुद्ध बनले.

1. नारायण गुरू
2. ईश्वरचंद्र विद्या सागर
3. राजा राममोहन रॉय
4. महात्मा गांधी

7. उत्तर भारतात लोकप्रिय झालेल्या मंदिर स्थापत्य शैलीला कोणत्या नावाने ओळखले जाते?

1. विमान
2. द्रविड
3. नागर
4. गोपुरम

पेपर क्र. - 12	8 - 1	9 - 4	10 - 1	11 - 3	12 - 4	13 - 2	14 - 3	15 - 3			
पेपर क्र. - 13	1 - 2	2 - 1	3 - 3	4 - 3	5 - 2	6 - 3	7 - 3				

8. ठराविक मार्गावरील दोन क्षेत्रांमधील लोकांनी त्यांच्या गुरांसह केलेल्या हंगामी स्थलांतरास काय म्हणतात?

1. ऋतुचरण स्थलांतर
2. शहर ते शहर
3. वयानुसार स्थलांतर
4. ग्रामीण ते ग्रामीण

9. अरबी समुद्राच्या शाखेच्या मार्गात कोणती पर्वतरांग अडथळा म्हणून कार्य करते?

1. पूर्व घाट
2. बंगालचा उपसागर
3. राजमहाल टेकड्या
4. पश्चिम घाट

10. यापैकी कोणता दरखनच्या पठाराचा भ्रंशित किनारा आहे आणि तो गोंडवाना महाद्वीपाच्या विभाजनादरम्यान तयार झाला असे मानले जाते?

1. पश्चिम घाट
2. उत्तर घाट
3. दक्षिण घाट
4. पूर्व घाट

11. एका उत्पादिताचे दुसऱ्या उत्पादितात रूपांतर होण्याच्या दराला काय म्हणतात?

1. QRT
2. PRT
3. MRT
4. SRT

12. भारताची पहिली वंदे भारत एक्सप्रेस ट्रेन कोणत्या दोन स्थानकांदरम्यान धावली ?

1. नवी दिल्ली - लखनौ
2. नवी दिल्ली - कटरा
3. भुवनेश्वर - पुरी
4. नवी दिल्ली - वाराणसी

13. गुगामल राष्ट्रीय उद्यान महाराष्ट्रातील खालीलपैकी कोणत्या जिल्ह्यात आहे?

1. अमरावती
2. नांदेड
3. सोलापूर
4. जळगाव

14. ज्या भागात वार्षिक पर्जन्यमान साधारणपणे 80 cm पेक्षा कमी असते, त्या भागात कोणत्या प्रकारची शेती केली जाते?

1. मान्सून शेती
2. कोरडवाहू शेती
3. ठिबक शेती
4. ओलिताची शेती

15. 'धुळे उठाव' हा प्रामुख्याने खालीलपैकी कोणत्या राज्याशी संबंधित होता?

1. पश्चिम बंगाल
2. गुजरात
3. महाराष्ट्र
4. उत्तर प्रदेश

14

वनरक्षक शिफ्ट क्रमांक - 2

Date - 08/08/2023

1. पहिले अँग्लो-मराठा युद्ध हे सुरतच्या तहाने सुरू झाले आणि च्या तहाने संपले.

1. नाशिक
2. सालबाई
3. सातारा
4. नागपूर

2. झरिया कोळसा क्षेत्र खालीलपैकी कोणत्या राज्यात आहे?

1. केरळ
2. ओडिशा
3. झारखंड
4. बिहार

3. मुख्य निवडणूक आयुक्त आणि इतर निवडणूक आयुक्तांना सहा वर्षांच्या किंवा वयापर्यंतच्या कार्यकाळासाठी नियुक्त केले जाते.

1. 62 वर्षे
2. 65 वर्षे
3. 75 वर्षे
4. 55 वर्षे

4. भारताच्या खालीलपैकी कोणत्या भागात लिंग राजा मंदिर आहे?

1. पूर्व भाग
2. दक्षिण भाग
3. पश्चिम भाग
4. उत्तर भाग

5. भारतातील रोख संचिती प्रमाणाचे (Cash Reserve Ratio) निर्धारण खालीलपैकी कशाद्वारे केले जाते?

1. भारतीय स्टेट बँक
2. I.M.E.
3. भारतीय रिझर्व्ह बँक
4. S.E.B.I.

6. महाराष्ट्रातील सर्वोच्च शिखर हे महाराष्ट्रातील कोणत्या जिल्ह्यात आहे?

1. लातूर
2. अहमदनगर
3. मुंबई
4. चंद्रपूर

7. खालीलपैकी कोणत्या सांविधानिक सुधारणा अधिनियमाद्वारे मूलभूत हक्कांच्या यादीतून मालमतेचा हक्क काढून टाकण्यात आला होता?

1. चव्वेचाळीसावा
2. त्रेचाळीसाव्या
3. एकसष्टाव्या
4. बेचाळीसाव्या

8. नरोरा अणुऊर्जा केंद्र हे खालीलपैकी कोणत्या नदीच्या काठावर आहे?

1. तुंगभद्रा नदी
2. झेलम नदी
3. गंडक नदी
4. गंगा नदी

पेपर क्र. - 13	8 - 1	9 - 4	10 - 1	11 - 3	12 - 4	13 - 1	14 - 2	15 - 3			
पेपर क्र. - 14	1 - 2	2 - 3	3 - 2	4 - 1	5 - 3	6 - 2	7 - 1	8 - 4			

9. खालीलपैकी कोणत्या वर्षी पूना, सातारा आणि महाराष्ट्रातील इतर शहरांमध्ये परमहंस मंडळीची स्थापना करण्यात आली होती?

1. 1849 2. 1867 3. 1861 4. 1875

10. मुंबई हायच्या क्षेत्राला पूर्वी बॉम्बे हाय असे म्हटले जात असे, ते खालीलपैकी कशासाठी प्रसिद्ध आहे?

1. सोन्याच्या खाणी
2. तांबे धातुक
3. लोह धातुक
4. पेट्रोलियम आणि नैसर्गिक वायू

11. महाराष्ट्र राज्यात कोणत्या प्रकारचे हवामान आहे?

1. उपविषुववृत्तीय ध्रुवीय हवामान
2. विषुववृत्तीय मान्सून हवामान
3. उपध्रुवीय हवामान
4. ध्रुवीय मान्सून हवामान

12. राजा राममोहन रॉय यांनी 1828 मध्ये ब्राह्मो सभेची स्थापना केली, जिला नंतर कोणते नाव दिले गेले?

1. ब्राह्मो संस्था 2. ब्राह्मो समूह
3. ब्राह्मो समाज 4. ब्राह्मो संघटन

13. खालीलपैकी कोणता पूर्वांचल टेकडीचा भाग आहे?

1. झास्कर पर्वतरांगा 2. काराकोरम
3. माळवा पठार 4. मिशामी टेकड्या

14. पेंच व्याघ्र प्रकल्प खालीलपैकी कोणत्या राज्यात आहे?

1. उत्तर प्रदेश 2. बिहार
3. आंध्र प्रदेश 4. महाराष्ट्र

15. 2011 च्या जनगणनेनुसार भारताचे लिंग गुणोत्तर किती आहे?

1. 933 2. 927 3. 919 4. 943

15

वनरक्षक शिफ्ट क्रमांक - 3

Date - 08/08/2023

1. किनारपट्टीच्या लांबीच्या बाबतीत, महाराष्ट्राची किनारपट्टी आहे.

1. सर्वात लांब 2. चौथी सर्वात लांब
3. दुसरी सर्वात लांब 4. तिसरी सर्वात लांब

2. जालियनवाला बाग राष्ट्रीय स्मारक अधिनियम साली मंजूर करण्यात आला.

1. 1951 2. 1949 3. 1948 4. 1950

3. भारतात दरवर्षी किती टक्के मालवाहतूक रस्तेमार्गाद्वारे केली जाते?

1. 70% 2. 80% 3. 60% 4. 90%

4. मार्च 2023 पर्यंतच्या माहितीनुसार, महाराष्ट्रातील यापैकी कोणत्या ठिकाणी जस्त धातुकाचा साठा आहे?

1. जालना 2. गोंदिया
3. नागपूर 4. नांदेड

5. वित्त पुरवठ्याच्या संकल्पनांमध्ये खालीलपैकी कशाला सर्वाधिक तरल वित्त मापन म्हणून देखील ओळखले जाते?

1. M_2 2. M_4 3. M_3 4. M_1

6. ज्या प्रदेशात केवळ ठराविक ऋतूंमध्येच पाऊस पडतो, तेथील वनस्पतींच्या घनतेवर कोणता परिणाम होतो?

1. ती कमी होते
2. ती दाट आणि जाड होते
3. त्यात लक्षणीय वाढ होते
4. ती वर्षभर समान राहते

7. पश्चिम महाराष्ट्रातील सह्याद्री टेकड्यांची सरासरी उंची किती आहे?

1. 1800 m 2. 1500 m
3. 1200 m 4. 1000 m

8. 2011 जनगणनेनुसार खालीलपैकी कोणत्या राज्यात लोकसंख्येची घनता सर्वाधिक आहे?

1. महाराष्ट्र 2. उत्तर प्रदेश
3. बिहार 4. पश्चिम बंगाल

पेपर क्र. - 14	9 - 1	10 - 4	11 - 2	12 - 3	13 - 4	14 - 4	15 - 4				
पेपर क्र. - 15	1 - 3	2 - 1	3 - 1	4 - 3	5 - 3	6 - 1	7 - 3	8 - 3			

9. महाराष्ट्रातील किती जिल्ह्यांना पश्चिम महाराष्ट्र म्हणून ओळखले जाते?

1. सात 2. पाच 3. नऊ 4. सहा

10. सांची स्तूप मुळात कधी उभारण्यात आला होता?

1. गुप्त साम्राज्याच्या काळात
2. सूर राजवटीच्या काळात
3. मौर्य राजवटीत काळात
4. सम्राट अशोकाच्या काळात

11. खालीलपैकी कोणता पर्जन्यवृष्टीचा एक प्रकार नाही?

1. प्रतिरोध पर्जन्यवृष्टी 2. चक्रीवादळी पर्जन्यवृष्टी
3. सागरी पर्जन्यवृष्टी 4. आरोह पर्जन्यवृष्टी

12. Which of the following is NOT a Fundamental duty mentioned in the Indian Constitution?

1. To promote scientific temper and spirit of inquiry
2. To Participate in elections by casting votes
3. To protect and improve the natural environment
4. To respect the National Anthem and the National Flag

13. '1857 चे स्वातंत्र्यसमर (The Indian War of Independence, 1857)' हे पुस्तक कोणी लिहिले?

1. आबासाहेब गरवारे 2. पंडिता रमाबाई
3. बाळ गंगाधर टिळक 4. विनायक दामोदर सावरकर

14. जून 2023 पर्यंत उपलब्ध असलेल्या माहितीच्या आधारे खालीलपैकी कोणती सांविधानिक संस्था नाही?

1. केंद्रीय लोकसेवा आयोग 2. भारतीय निवडणूक योय
3. राष्ट्रीय हरित न्यायाधीकरण 4. राज्य लोकसेवा आयोग

15. खालीलपैकी कोणी आपल्या 'गुलामगिरी' या पुस्तकात 'शुद्रातिशूद्र' समुदायाचा इतिहास उलगाडला?

1. बी. आर. आंबेडकर 2. रणजित गुहा
3. महात्मा ज्योतिराव फुले 4. दामोदर कोसंबी

16

वनरक्षक शिफ्ट क्रमांक - 1

Date - 09/08/2023

1. मारुती उद्योग लिमिटेड हे चे एक उदाहरण आहे.

1. संयुक्त क्षेत्रातील उद्योग 2. सार्वजनिक क्षेत्र
3. खाजगी क्षेत्र 4. सहकारी क्षेत्र

2. अनेर धरण वन्यजीव अभयारण्य (Aner dam Wildlife Sanctuary) महाराष्ट्रातील जिल्ह्यात आहे.

1. चंद्रपूर 2. अहमदनगर
3. धुळे 4. अमरावती

3. गोदावरी परुळेकर यांच्याबद्दल खालीलपैकी कोणते विधान योग्य नाही?

1. त्यांच्यावर साम्यवादी विचारप्रणालीचा प्रभाव होता.
2. त्या ब्रिटिश राजवटीविरुद्धच्या विद्यार्थी चळवळीत सक्रिय होत्या.
3. त्या भारत सेवक समाजच्या आजीवन सदस्या म्हणून समाविष्ट झालेल्या पहिल्या महिला ठरल्या.
4. त्या महाराष्ट्रातील पहिल्या महिला कायदा पदवीधर होत्या.

4. महाराष्ट्रातील मृदेच्या संदर्भात खालीलपैकी कोणते विधान योग्य नाही?

1. अर्ध-शुष्क पठारातील, रेगूर कापसाची काळी मृदा ही चिकणमाती, भरपूर लोह असलेली आणि आर्द्रता टिकवून ठेवणारी आहे.
2. महाराष्ट्रातील मृदा अवशिष्ट आहे, जी तलस्थित बेसॉल्टपासून बनलेली आहे.
3. उथळ, मध्यम आणि अतिशय काळी मृदा मुख्यतः महाराष्ट्र राज्यात आढळते.
4. काळी मृदा नदीच्या खोऱ्यात पुन्हा जमा झाल्यावर ती अधिक खोल आणि अधिक जड असते, जी खरीप पिकांसाठी अधिक अनुकूल असते.

पेपर क्र. - 15	9 - 2	10 - 4	11 - 3	12 - 2	13 - 4	14 - 3	15 - 3				
पेपर क्र. - 16	1 - 1	2 - 3	3 - 1	4 - 4							

1. बोधगया येथील महाबोधी मंदिर हे त्या काळातील
एक महत्त्वाची स्मृती आहे.

1. लोहकामाची
2. काचेच्या कामाची
3. वीटकामाची
4. पाषाणशिल्पाची

2. महादेव गोविंद रानडे यांनी विधवा पुनर्विवाह संस्थेची स्थापना
केव्हा केली होती?

1. 1861
2. 1881
3. 1891
4. 1871

3. राष्ट्रीय अनुसूचित जमाती आयोगानुसार, भारतातील
खालीलपैकी कोणत्या राज्यात सर्वाधिक संख्येने जमाती
राहतात?

1. छत्तीसगड
2. बिहार
3. ओडिशा
4. झारखंड

4. उत्तर दक्षिण महामार्ग कॉरिडॉर (North South highway
corridor) श्रीनगर आणि ला जोडतो.

1. कन्याकुमारी
2. अहमदाबाद
3. गांधीनगर
4. वडोदरा

5. जनरल डायरने जालियनवाला बाग हत्याकांड केव्हा घडवून
आणले?

1. 14 एप्रिल 1919
2. 11 एप्रिल 1919
3. 12 एप्रिल 1919
4. 13 एप्रिल 1919

6. वर्धा नदीच्या संदर्भात खालीलपैकी कोणते / ती विधान (ने
योग्य आहे / आहेत?

- I. वर्धा ही कृष्णा नदीची उपनदी आहे.
- II. या ठिकाणी पर्यटन केंद्र विकसित केले जात आहे.
त्याला आता नल-दमयंती सागर असे नाव देण्यात
आले आहे.

1. फक्त विधान I योग्य आहे
2. विधान I आणि II दोन्ही योग्य नाहीत
3. फक्त विधान II योग्य आहे
4. विधान I आणि II दोन्ही योग्य आहेत

7. महाराष्ट्र राज्याच्या वायव्य सीमेला कोणते राज्य लागून आहे?

1. कर्नाटक
2. गोवा
3. गुजरात
4. तेलंगणा

8. महाराष्ट्रात आढळणाऱ्या काळ्या मृदेच्या संदर्भात खालीलपैकी
कोणते योग्य नाही?

1. ही मृदा गव्हाच्या लागवडीसाठी सर्वात योग्य आहे.
2. काळ्या मृदेत चुना, लोह, मॅग्नेशिया आणि अॅल्युमिना
भरपूर प्रमाणात असते. त्यात पोटॅश देखील असते.
3. काळ्या मृदेत फॉस्फरस, नायट्रोजन आणि सेंद्रिय
पदार्थांची कमतरता असते.
4. काळी मृदा सामान्यतः चिकणमातीयुक्त, खोल आणि
अपार्य असते.

9. ताडोबा, मेळघाट, पेंच आणि सह्याद्री ही महाराष्ट्रातील
..... नावे आहेत.

1. तलावांची
2. टेकड्यांची
3. जिल्ह्यांची
4. व्याघ्र प्रकल्पांची

10. स्वातंत्र्याच्या मूलभूत हक्कांतर्गतच्या तरतुदींमध्ये खालीलपैकी
काय समाविष्ट नाही?

1. सर्व प्रकारच्या प्रकरणांमध्ये अटक आणि स्थानबद्धता
यांपासून संरक्षण
2. जीवित व व्यक्तिगत स्वातंत्र्य यांचे संरक्षण
3. अपराधांबद्दलच्या दोषसिद्धीसंदर्भात संरक्षण
4. भाषण आणि अभिव्यक्तिस्वातंत्र्याच्या हक्कांचे संरक्षण

11. खालीलपैकी कोणता भारताचा प्रमुख भूरोपिक विभाग
नाही?

1. दक्षिणेकडील पर्वत
2. हिमालय पर्वत
3. उत्तरेकडील मैदाने
4. बेटे

12. भारतीय संविधानाच्या कोणत्या अनुच्छेदात असे नमूद केले
आहे, की 'संसदेकडे प्रत्येक वित्तीय वर्षाबाबतचे अंदाजित
जमा व खर्चाचे विवरणपत्र सादर करणे अनिवार्य आहे?'

1. अनुच्छेद 111
2. अनुच्छेद 110
3. अनुच्छेद 113
4. अनुच्छेद 112

पेपर क्र. - 17	1 - 3	2 - 1	3 - 3	4 - 1	5 - 4	6 - 3	7 - 3	8 - 1	9 - 4	10 - 1	11 - 1
	12 - 4										

13. भारताच्या स्वातंत्र्यलढ्यात कोल्हापूर संस्थानाचे भारतीय संघराज्यात विलीनीकरण करण्याच्या आंदोलनाचे नेतृत्व करणारे आघाडीचे नेते खालीलपैकी कोण होते ?

1. वल्लभभाई पटेल
2. माधवराव बागल
3. जवाहरलाल नेहरू
4. महात्मा गांधी

14. गोव्यातील मुख्य खाणकाम उद्योग कोणता आहे ?

1. लोह धातुक उद्योग
2. चांदी धातुक उद्योग
3. कोबाल्ट धातुक उद्योग
4. सोने धातुक उद्योग

15. न्यायमूर्ती डी. वाय. चंद्रचूड यांची 2022 मध्ये, भारताचे

1. 51 वे
2. 48 वे
3. 49 वे
4. 50 वे

18

वनरक्षक शिफ्ट क्रमांक - 3

Date - 09/08/2023

1. महात्मा गांधींनी असहकार आंदोलन मागे घेण्याचा निर्णय कधी घेतला ?

1. ऑक्टोबर 1922 मध्ये
2. मे 1922 मध्ये
3. मार्च 1922 मध्ये
4. फेब्रुवारी 1922 मध्ये

2. महाराष्ट्रात सत्यशोधक समाजाची स्थापना कोणी केली ?

1. विनोबा भावे
2. डॉ. भीमराव आंबेडकर
3. ज्योतिबा फुले
4. लाला लजपत राय

3. भारतातील सूक्ष्म वित्तपुरवठा (microfinance) च्या संदर्भात MUDRA चे पूर्ण रूप काय आहे ?

1. मायक्रो युनिट्स डेव्हलपमेंट अँड रिफायनान्स एजन्सी (Micro Units Development and Refinance Agency)
2. मायक्रो युनियन डेव्हलपमेंट अँड रिफायनान्स एजन्सी (Micro Union Development and Refinance Agency)
3. मॅक्रो युनिट्स डेव्हलपमेंट अँड रिफायनान्स एजन्सी (Macro Units Development and Refinance Agency)
4. मेजर युनियन डेव्हलपमेंट अँड रिफायनान्स एजन्सी (Major Union Development and Refinance Agency)

4. खालीलपैकी कोणती नदी महाराष्ट्रात वाहत नाही ?

1. गोदावरी
2. तापी
3. भीमा
4. नर्मदा

5. पश्चिम बंगालमधील आसनसोल येथील चित्तरंजन हे शहर कोणत्या उद्योगासाठी प्रसिद्ध आहे ?

1. मोटारगाड्या
2. विमानचालन
3. रेल्वे इंजिने
4. बसगाड्या

6. सरकारचे प्रमुख आणि त्यांचे मंत्री हे सरकारी धोरणाच्या संपूर्ण जबाबदारीने भारलेले असताना, एकत्रितपणे राजकीय अधिकारी म्हणून ओळखले जातात, दैनंदिन प्रशासनासाठी जबाबदार असलेल्यांना

1. सामान्य
2. नियमित
3. कायम
4. तात्पुरते

7. खालीलपैकी कोणते विधान भारतातील नागरिकांना उपलब्ध असलेल्या मूलभूत हक्कांच्या संदर्भात चुकीचे आहे ?

1. सरकारकडून मूलभूत हक्कांचे उल्लंघन होणार नाही, याची संविधान स्वतःच खात्री देते.
2. भारतीय संविधानाद्वारे मूलभूत हक्कांचे संरक्षण आणि हमी देण्यात आली आहे.
3. मूलभूत हक्क इतके महत्त्वाचे आहेत की, संविधानाने त्यांची स्वतंत्रपणे यादी केली आहे आणि त्यांच्या संरक्षणासाठी विशेष तरतुदी केल्या आहेत.
4. सामान्य कायदा निर्मिती प्रक्रियेद्वारे मूलभूत हक्क बदलला जाऊ शकतो.

8. खालीलपैकी कोणत्या महिन्यात महाराष्ट्रात पाऊस सुरू होतो ?

1. नोव्हेंबर
2. ऑक्टोबर
3. एप्रिल
4. जून

9. इसवी सन पूर्व दुसऱ्या शतकापासून ते इसवी सनाच्या सुमारे दहाव्या शतकापर्यंतच्या लक्षणीय कालावधीदरम्यान कार्ले लेणी स्थापन केली गेली. खालीलपैकी कोणत्या राज्यात कार्ले लेणी आहेत ?

1. केरळ
2. उत्तर प्रदेश
3. महाराष्ट्र
4. तमिळनाडू

पेपर क्र. - 17	13 - 2	14 - 1	15 - 4							
पेपर क्र. - 18	1 - 4	2 - 3	3 - 1	4 - 4	5 - 3	6 - 3	7 - 4	8 - 4	9 - 3	

10. महात्मा गांधींनी असहकार चळवळ अचानक मागे घेतली. या विधानाच्या संदर्भात खालीलपैकी कोणते विधान चुकीचे आहे?

1. शेतकऱ्यांच्या शांततापूर्ण निदर्शनावर पोलिसांनी गोळीबार केल्याने ते संतापले होते.
2. महात्मा गांधींनी फेब्रुवारी 1922 मध्ये असहकार चळवळ अचानक मागे घेतली.
3. त्या दिवशी 22 पोलिस मारले गेले होते.
4. शेतकऱ्यांच्या संतप्त जमावाने चौरीचौरा येथील पोलीस ठाण्याला आग लावल्यामुळे हे करण्यात आले.

11. नदी हिमालयाची पूर्वेकडील सीमारेषा दर्शवते.

1. गंगा
2. ब्रह्मपुत्रा
3. कृष्णा
4. महानदी

12. महाराष्ट्रातील हा 'सह्याद्री' पर्वतरांग म्हणून ओळखला जातो.

1. पूर्व घाट
2. उत्तरेकडील टेकड्या
3. पश्चिम घाट
4. दक्षिणेकडील टेकड्या

13. खालीलपैकी कोणते पूर्वाचलमध्ये समाविष्ट नाही?

1. पटकाई टेकड्या
2. नागा टेकड्या
3. अरवली टेकड्या
4. मणिपूरच्या टेकड्या

14. भारतातील कोणत्या दशकाला भारतातील जनसंख्येच्या विस्फोटाचा कालावधी म्हणून संबोधले जाते?

1. 1971-2001
2. 1961-1991
3. 1981-2011
4. 1951-1981

15. भारतातील पहिला अणुऊर्जा प्रकल्प महाराष्ट्रात येथे आहे.

1. तारापूर
2. पुणे
3. मुंबई
4. नागपूर

19

वनरक्षक शिफ्ट क्रमांक - 1

Date - 10/08/2023

1. बॉम्बे नॅचरल हिस्ट्री सोसायटी (BNHS) ही भारतभरात कार्यरत असलेली एक संस्था असून ती 1883 पासून निसर्ग संवर्धनाच्या हेतूला प्रोत्साहन देत आहे.
 1. वन्यजीव संशोधन
 2. अनुवांशिक संशोधन
 3. कृषी संशोधन
 4. ऐतिहासिक संशोधन
2. 1857 चा उठाव झाला, तेव्हा भारताचे गव्हर्नर जनरल कोण होते?
 1. लॉर्ड हेस्टिंग
 2. लॉर्ड कॅनिंग
 3. लॉर्ड विल्यम बेंटिक
 4. लॉर्ड डलहौसी
3. सविनय कायदेभंगाची चळवळ च्या निर्मूलनाने सुरू झाली.
 1. मिठाचा कायदा
 2. अस्पृश्यता
 3. हुंडा
 4. गैरव्यवहार
4. इंडियन मिनरल्स इयरबुक 2013 नुसार, महाराष्ट्रात कायनाइटचे क्रमांकाचे सर्वाधिक उत्पादन केले जाते.
 1. तिसऱ्या
 2. पाचव्या
 3. दुसऱ्या
 4. चौथ्या
5. 2005/2006 ते 2019/2021 या अवध्या 15 वर्षांत भारतातील एकूण दशलक्ष लोक गरिबीतून बाहेर पडले, असे विधान संयुक्त राष्ट्रसंघाने (UN) 11 जुलै 2023 रोजी, जगातील सर्वाधिक लोकसंख्या असलेल्या राष्ट्राने केलेल्या उल्लेखनीय कामगिरीवर प्रकाश टाकत असताना केले आहे.
 1. 1.315
 2. 2.415
 3. 3.515
 4. 4.215
6. ची रुंदी काश्मीरमधील 400 km पासून ते अरुणाचल प्रदेशातील 150 km पर्यंत कमी जास्त होते.
 1. पश्चिम घाट
 2. सातपुडा पर्वतरांग
 3. हिमालय पर्वत
 4. पूर्व घाट
7. पटकाई टेकड्या, नागा टेकड्या, मणिपूर टेकड्या आणि मिझो टेकड्या हे भाग आहेत.
 1. पश्चिमेकडील हिमालय पर्वताचे
 2. दक्षिणेकडील हिमालय पर्वताचे
 3. उत्तरेकडील हिमालय पर्वताचे
 4. पूर्वेकडील हिमालय पर्वताचे

पेपर क्र. - 18	10 - 3	11 - 2	12 - 3	13 - 3	14 - 4	15 - 1				
पेपर क्र. - 19	1 - 1	2 - 2	3 - 1	4 - 3	5 - 2	6 - 3	7 - 4			

8. कृषी, दुग्धव्यवसाय, मासेमारी आणि वनीकरण यातून नैसर्गिक उत्पादने मिळविण्याची जबाबदारी कोणत्या क्षेत्राकडे असते?

1. चतुर्थक क्षेत्र 2. तृतीयक क्षेत्र
3. दुय्यम क्षेत्र 4. प्राथमिक क्षेत्र

9. खालीलपैकी कोणाची संविधान सभेचे अस्थायी अध्यक्ष म्हणून निवड झाली?

1. मोतीलाल नेहरू 2. सच्चिदानंद सिन्हा
3. जवाहरलाल नेहरू 4. डॉ. राजेंद्र प्रसाद

10. महाराष्ट्रात, कोकण किनारपट्टीचा मैदानी प्रदेश सह्याद्रीच्या टेकड्यांच्या आहे.

1. दक्षिणेला 2. उत्तरेला
3. पूर्वेला 4. पश्चिमेला

11. महाराष्ट्रातील कोणत्या नदीमुखामध्ये खनिज तेल आणि नैसर्गिक वायूचे साठे आहेत?

1. तापी 2. गोदावरी
3. नर्मदा 4. कृष्णा

12. भारतीय राज्यघटनेतील कोणता अनुच्छेद अस्पृश्यतेच्या निर्मूलनाबाबत आहे?

1. अनुच्छेद 32 2. अनुच्छेद 36
3. अनुच्छेद 17 4. अनुच्छेद 52

13. यांपैकी कोणते स्वातंत्र्यसैनिक हे ब्रिटिशांमध्ये 'भारतीय असंतोषाचे जनक' म्हणून प्रसिद्ध होते?

1. राजा राममोहन रॉय 2. स्वामी विवेकानंद
3. गोपाळ कृष्ण गोखले 4. बाळ गंगाधर टिळक

14. लोकप्रिय गोपीनाथ बोरदोलोई आंतरराष्ट्रीय विमानतळ मध्ये आहे.

1. आसाम 2. हिमाचल प्रदेश
3. मिझोराम 4. पश्चिम बंगाल

15. हे भारतातील सर्वात उंच मिनार आहे.

1. कुतुबमिनार 2. चार मिनार
3. चांदमिनार 4. झुलता मिनार

20

वनरक्षक शिफ्ट क्रमांक - 2

Date - 10/08/2023

1. कोकण किनारपट्टी ही च्या काठालगतच्या किनारपट्टीलगतच्या भागापासून तापी खोऱ्याच्या दक्षिणेपर्यंत पसरलेली आहे.

1. गंगा नदी 2. बंगालचा उपसागर
3. अरबी समुद्र 4. हिमालय

2. गोदावरी नदीचे निस्सार क्षेत्र Sq.km इतके आहे.

1. 2933 2. 3212
3. 3287263 4. 312812

3. हे स्वतंत्र आर्थिक संस्थांच्या अभ्यासाशी संबंधित आहे.

1. व्यष्टी अर्थशास्त्र 2. समष्टि अर्थशास्त्र
3. सामाजिक अर्थशास्त्र 4. उदारमतवादी अर्थशास्त्र

4. वैतरणा नदी ही भारतातील खालीलपैकी कोणत्या राज्याशी प्रामुख्याने संबंधित आहे?

1. बिहार 2. उत्तर प्रदेश
3. पश्चिम बंगाल 4. महाराष्ट्र

5. मोतिहारी-अमलेखगंज गॅस पाइपलाइन ही खालीलपैकी कोणत्या देशांच्या दरम्यान आहे?

1. भारत - भूतान 2. भारत - अफगाणिस्तान
3. भारत - बांगलादेश 4. भारत - नेपाळ

6. महाराष्ट्र राज्याची विभागणी ही किती नैसर्गिक प्राकृतिक विभागांमध्ये केली जाऊ शकते?

1. 3 2. 2
3. 4 4. 5

7. 31 डिसेंबर 1802 रोजी, कोणाच्या दरम्यान वसईचा तह झाला?

1. पहिला बाजीराव आणि ब्रिटिश कंपनी
2. पहिला बाजीराव आणि यशवंतराव होळकर
3. यशवंतराव होळकर आणि दौलतराव शिंदे
4. दुसरा बाजीराव आणि ब्रिटिश कंपनी

पेपर क्र. - 19	8 - 4	9 - 2	10 - 4	11 - 2	12 - 3	13 - 4	14 - 1	15 - 1				
पेपर क्र. - 20	1 - 3	2 - 4	3 - 1	4 - 4	5 - 4	6 - 1	7 - 4					