

Section : Marathi 1a

Q.1 पुढे दिलेल्या पर्यायांमधून रीतिवाचक क्रियाविशेषण अव्यय कोणते ते ओळखा.

- Ans  1. इकडून तिकडून  
 2. सावकाश व जपून  
 3. उद्या, परवा  
 4. पुनः पुन्हा

Question Type : MCQ

Question ID : 6306801370072

Option 1 ID : 6306805393468

Option 2 ID : 6306805393467

Option 3 ID : 6306805393470

Option 4 ID : 6306805393469

Status : Answered

Chosen Option : 2

Marks : 2

Lakshyaa MPSC

Q.2 खालील पर्यायातून प्रथम पुरुषवाचक सर्वनाम ओळखा.

- Ans  1. तो  
 2. तू  
 3. आम्ही  
 4. तुम्ही

Question Type : MCQ  
Question ID : 6306801367005  
Option 1 ID : 6306805381332  
Option 2 ID : 6306805381330  
Option 3 ID : 6306805381329  
Option 4 ID : 6306805381331  
Status : Answered  
Chosen Option : 3  
Marks : 2

Q.3 खालील शब्दांपैकी उभयान्वयी अव्यय ओळखा.

- Ans  1. म्हणून  
 2. मागे  
 3. जोरात  
 4. बापरे

Question Type : MCQ  
Question ID : 6306801366921  
Option 1 ID : 6306805381005  
Option 2 ID : 6306805381006  
Option 3 ID : 6306805381008  
Option 4 ID : 6306805381007  
Status : Answered  
Chosen Option : 1  
Marks : 2

Q.4 पुढील वाक्यातील सर्वनामाचा प्रकार ओळखा. आम्ही इयत्ता आठवीच्या वर्गात शिकत आहोत.

- Ans  1. द्वितीय पुरुषवाचक सर्वनाम  
 2. तृतीय पुरुषवाचक सर्वनाम  
 3. संबंधी सर्वनाम  
 4. प्रथम पुरुषवाचक सर्वनाम

Question Type : MCQ  
Question ID : 6306801368318  
Option 1 ID : 6306805386529  
Option 2 ID : 6306805386531  
Option 3 ID : 6306805386528  
Option 4 ID : 6306805386530  
Status : Answered  
Chosen Option : 4  
Marks : 2

Q.5 पुढील वाक्यात सर्वनामाचा कोणता प्रकार आहे.  
त्या दुकानात काय वाटेल ते मिळते.

- Ans  1. पुरुषवाचक सर्वनाम  
 2. अनिश्चित सर्वनाम  
 3. संबंधी सर्वनाम  
 4. प्रश्नार्थक सर्वनाम

Question Type : MCQ

Question ID : 6306801370523

Option 1 ID : 6306805395286

Option 2 ID : 6306805395284

Option 3 ID : 6306805395285

Option 4 ID : 6306805395283

Status : Answered

Chosen Option : 2

Marks : 2

Q.6 'इथपासूनची सर्व शेती आमची आहे'. या वाक्यात कोणते क्रियाविशेषण आले आहे.

- Ans  1. कालवाचक क्रियाविशेषण  
 2. रीतिवाचक क्रियाविशेषण  
 3. स्थलवाचक क्रियाविशेषण  
 4. संख्यावाचक क्रियाविशेषण

Question Type : MCQ

Question ID : 6306801370064

Option 1 ID : 6306805393436

Option 2 ID : 6306805393437

Option 3 ID : 6306805393435

Option 4 ID : 6306805393438

Status : Answered

Chosen Option : 3

Marks : 2

Q.7 देवा,तू मला क्षमा कर.या वाक्यात अधोरेखित शब्दाला कोणते सर्वनाम म्हणतात?

- Ans  1. संबंधी सर्वनाम  
 2. सामान्य सर्वनाम  
 3. पुरुषवाचक सर्वनाम  
 4. दर्शक सर्वनाम

Question Type : MCQ

Question ID : 6306801370534

Option 1 ID : 6306805395336

Option 2 ID : 6306805395337

Option 3 ID : 6306805395335

Option 4 ID : 6306805395338

Status : Answered

Chosen Option : 3

Marks : 2

Q.1 Select the most appropriate tense form to fill in the blank.

John \_\_\_\_\_ his driving test next week.

- Ans
- 1. took
  - 2. takes
  - 3. will take
  - 4. taking

Question Type : MCQ  
Question ID : 6306801352394  
Option 1 ID : 6306805323745  
Option 2 ID : 6306805323744  
Option 3 ID : 6306805323746  
Option 4 ID : 6306805323747  
Status : Answered  
Chosen Option : 3  
Marks : 2

Q.2 Fill in the blank with the most appropriate option.

I told her to meet me under the clock \_\_\_\_\_ the bus stand at two o'clock.

- Ans
- 1. at
  - 2. above
  - 3. upon
  - 4. between

Question Type : MCQ  
Question ID : 6306801382644  
Option 1 ID : 6306805443811  
Option 2 ID : 6306805443812  
Option 3 ID : 6306805443809  
Option 4 ID : 6306805443810  
Status : Answered  
Chosen Option : 1  
Marks : 2

Q.3 Select the most appropriate tense form to fill in the blank.

She \_\_\_\_\_ the documents to the manager later today.

- Ans
- 1. submitted
  - 2. submits
  - 3. submitting
  - 4. will submit

Question Type : MCQ  
Question ID : 6306801352397  
Option 1 ID : 6306805323757  
Option 2 ID : 6306805323756  
Option 3 ID : 6306805323759  
Option 4 ID : 6306805323758  
Status : Answered  
Chosen Option : 4  
Marks : 2

Q.4 Parts of the following sentence have been given as options. Select the option that contains an error.

The speed in which he was driving exceeded the limit, causing concern for his safety.

- Ans  1. The speed in which  
 2. he was driving exceeded  
 3. the limit, causing concern  
 4. for his safety

Question Type : MCQ  
Question ID : 630680653517  
Option 1 ID : 6306802558482  
Option 2 ID : 6306802558483  
Option 3 ID : 6306802558484  
Option 4 ID : 6306802558485  
Status : Answered  
Chosen Option : 1  
Marks : 2

Q.5 Select the most appropriate adjective to fill in the blank.

Arun told his mother, "The \_\_\_\_\_ crowd cheered for the victorious team."

- Ans  1. outstanding  
 2. enthusiastic  
 3. royal  
 4. playful

Question Type : MCQ  
Question ID : 6306801045724  
Option 1 ID : 6306804105005  
Option 2 ID : 6306804105004  
Option 3 ID : 6306804105007  
Option 4 ID : 6306804105006  
Status : Answered  
Chosen Option : 2  
Marks : 2

Lakshyaa MPSC

Q.6 Select the most appropriate option that can substitute the underlined segment in the given sentence.

She will have been wait for over an hour by the time the train arrives.

- Ans
- 1. will have waited
  - 2. will be waiting
  - 3. will have been waiting
  - 4. will wait

Question Type : MCQ

Question ID : 6306801352414

Option 1 ID : 6306805323824

Option 2 ID : 6306805323826

Option 3 ID : 6306805323825

Option 4 ID : 6306805323827

Status : Answered

Chosen Option : 3

Marks : 2

Section : General Knowledge 1a

Q.1 ULLAS - नव भारत साक्षरता कार्यक्रमांतर्गत कोणते राज्य/केंद्रशासित प्रदेश पहिले पूर्ण साक्षर प्रशासकीय युनिट बनले?

- Ans
- 1. लडाख
  - 2. चंदीगड
  - 3. पॉँडिचेरी
  - 4. उत्तरप्रदेश

Question Type : MCQ

Question ID : 6306801362173

Option 1 ID : 6306805362406

Option 2 ID : 6306805362407

Option 3 ID : 6306805362408

Option 4 ID : 6306805362409

Status : Answered

Chosen Option : 3

Marks : 0

Lakshyaa MPSC

Q.2 भारतीय केंद्र सरकारने खालीलपैकी कोणत्या राज्यासाठी ₹150 कोटींचा GLOF जोखीम शमन प्रकल्प मंजूर केला आहे?

1. हिमाचल प्रदेश
2. उत्तराखंड
3. सिक्कीम
4. अरुणाचल प्रदेश

Ans  1. केवळ 1, 2 आणि 3  
 2. केवळ 1, 3 आणि 4  
 3. 1, 2, 3 आणि 4  
 4. केवळ 2, 3 आणि 4

Question Type : MCQ

Question ID : 6306801362321

Option 1 ID : 6306805363010

Option 2 ID : 6306805363012

Option 3 ID : 6306805363013

Option 4 ID : 6306805363011

Status : Answered

Chosen Option : 3

Marks : 2

Q.3 20 डिसेंबर 2024 रोजी, भारत सरकारने देशाच्या हवामान वचनबद्धतेनुसार हरित आणि शाश्वत पायाभूत सुविधा प्रकल्पांना पाठिंबा देण्यासाठी कोणत्या आंतरराष्ट्रीय संघटनेसोबत \$500 दशलक्ष चा कर्ज करार केला?

Ans  1. आशियाई पायाभूत सुविधा गुंतवणूक बँक  
 2. आशियाई विकास बँक  
 3. जपान आंतरराष्ट्रीय सहकार्य संस्था  
 4. जागतिक बँक

Question Type : MCQ

Question ID : 6306801362285

Option 1 ID : 6306805362863

Option 2 ID : 6306805362862

Option 3 ID : 6306805362865

Option 4 ID : 6306805362864

Status : Answered

Chosen Option : 1

Marks : 0

Q.4 पुण्याचे ब्रिटीश प्लेग कमिशनर डब्ल्यू.सी. रँड यांच्या हत्येमध्ये \_\_\_\_\_ यांचा सहभाग होता.

Ans  1. चाफेकर बंधू  
 2. दांडेकर बंधू  
 3. काटकर बंधू  
 4. कर्माकर बंधू

Question Type : MCQ

Question ID : 6306801382766

Option 1 ID : 6306805444286

Option 2 ID : 6306805444285

Option 3 ID : 6306805444288

Option 4 ID : 6306805444287

Status : Answered

Chosen Option : 1

Marks : 2

Q.5 \_\_\_\_\_ येथे भारताने विकसित केलेल्या पहिल्या स्वदेशी 700 मेगावॉट अणुऊर्जा अणुभट्टीने जुलै 2023 मध्ये व्यावसायिकरित्या कार्य करण्यास सुरुवात केली.

- Ans  1. उत्तर प्रदेशातील जिल्हा (नरोरा अणुऊर्जा केंद्र)
2. महाराष्ट्रातील तारापूर अणुऊर्जा केंद्र
3. गुजरातमधील काक्रापार अणुऊर्जा प्रकल्प (KAPP)
4. (कल्पक्कम) मद्रास अणुऊर्जा केंद्र

Question Type : MCQ

Question ID : 6306801382764

Option 1 ID : 6306805444279

Option 2 ID : 6306805444280

Option 3 ID : 6306805444278

Option 4 ID : 6306805444277

Status : Answered

Chosen Option : 3

Marks : 2

Q.6 खालीलपैकी कोणते नॅशनल मिशन ऑन कल्चरल मॅपिंग (NMCM) चे आंतरयोजित कार्यक्रम आहे/आहेत?

1. सांस्कृतिक प्रतिभा खोज
2. मेरा गाव मेरी धरोहर (MGMD)
3. राष्ट्रीय सांस्कृतिक कार्यस्थळ (NCWP)

- Ans  1. केवळ 2 आणि 3
2. केवळ 1 आणि 2
3. 1, 2 आणि 3
4. केवळ 1 आणि 3

Question Type : MCQ

Question ID : 6306801362241

Option 1 ID : 6306805362675

Option 2 ID : 6306805362674

Option 3 ID : 6306805362677

Option 4 ID : 6306805362676

Status : Answered

Chosen Option : 3

Marks : 2

Section : Aptitude Test 1a

Lakshyaa MPSC



Q.1 खाली दिलेल्या शब्दांच्या संचाप्रमाणे विशिष्ट रीतीने साधर्म्य असणारे शब्द दिलेल्या पर्यायातून निवडा.

MS-Excel, MS-Word, MS-PowerPoint

- Ans  1. Windows  
 2. Internet Explorer  
 3. MS-Outlook  
 4. Software

Question Type : MCQ

Question ID : 63068083734

Option 1 ID : 630680324552

Option 2 ID : 630680324555

Option 3 ID : 630680324554

Option 4 ID : 630680324553

Status : Answered

Chosen Option : 3

Marks : 2

Q.2 एका विशिष्ट सांकेतिक भाषेत, 'TYRE' ला '6291' असे, आणि 'PERT' ला '9716' असे संकेतबद्ध केले जाते. दिलेल्या सांकेतिक भाषेत 'P' साठी कोणता संकेत असेल?

- Ans  1. 6  
 2. 1  
 3. 7  
 4. 9

Question Type : MCQ

Question ID : 630680876910

Option 1 ID : 6306803434324

Option 2 ID : 6306803434323

Option 3 ID : 6306803434322

Option 4 ID : 6306803434325

Status : Answered

Chosen Option : 3

Marks : 2

Q.3 COLONIC या शब्दातील प्रत्येक स्वर इंग्रजी वर्णमाला क्रमाने त्याच्या लगतच नंतर येणाऱ्या अक्षरात बदलले आणि प्रत्येक व्यंजन इंग्रजी वर्णमाला क्रमाने त्याच्या लगतच आधी येणाऱ्या अक्षरात बदलले, तर अशा प्रकारे तयार झालेल्या नवीन अक्षरांच्या गटात किती अक्षरे दोनदा येतील?

- Ans  1. 1  
 2. 3  
 3. 2  
 4. 0

Question Type : MCQ

Question ID : 630680691801

Option 1 ID : 6306802709651

Option 2 ID : 6306802709653

Option 3 ID : 6306802709652

Option 4 ID : 6306802709650

Status : Answered

Chosen Option : 3

Marks : 2

Q.4 इंग्रजी वर्णक्रमावर आधारित, खालील चार अक्षर-समूह जोड्यांपैकी तीन अक्षर-समूह जोड्या एका विशिष्ट तऱ्हेने समान आहेत आणि ते मिळून एक गट तयार करतात. त्या गटात न बसणारी अक्षर-समूह जोडी कोणती आहे?

(सूचना: गटात न बसणारा हा त्याच्या व्यंजन/स्वरांच्या संख्येवर किंवा अक्षर-समूहातील त्याच्या स्थानावर आधारित नसावा.)

- Ans
- 1. SV-ZC
  - 2. UX-BE
  - 3. LO-RX
  - 4. QT-XA

Question Type : MCQ

Question ID : 6306801056550

Option 1 ID : 6306804148656

Option 2 ID : 6306804148655

Option 3 ID : 6306804148653

Option 4 ID : 6306804148654

Status : Answered

Chosen Option : 3

Marks : 2

Q.5 या प्रश्नात, खाली दिलेल्या संकेत आणि अटीनुसार अक्षर संकेत वापरून संख्या/चिन्हांचा समूह संकेतबद्ध केला आहे. संकेताचे योग्य संयोजन (फक्त लागू होणाऱ्या अटीचे पालन करणे) हे तुमचे उत्तर असेल.

संख्या/ चिन्हे	6	\$	8	5	@	&	2	%	#	7	+	4	9	3
संकेत	U	F	C	J	N	E	W	S	D	P	R	B	V	G

अटी:

जर पहिला घटक चिन्ह असेल आणि शेवटची संख्या असेल, तर या दोघांच्या (पहिले आणि शेवटचे घटक) संकेताची अदलाबदल केली पाहिजे.

ii. जर पहिला घटक विषम संख्या असेल आणि शेवटची सम संख्या असेल, तर पहिले आणि शेवटचे घटक © म्हणून संकेतबद्ध केले जातील.

iii. जर दुसरा आणि तिसरा दोन्ही घटक 3 ने विभाज्य असतील तर, तिसरा घटक दुसऱ्या घटकासाठी संकेत म्हणून संकेतबद्ध केला जाईल.

What is 5962 coded as?

- Ans
- 1. JUUW
  - 2. JVUW
  - 3. WVUJ
  - 4. ©VV©

Question Type : MCQ

Question ID : 630680422277

Option 1 ID : 6306801647546

Option 2 ID : 6306801647545

Option 3 ID : 6306801647547

Option 4 ID : 6306801647544

Status : Answered

Chosen Option : 4

Marks : 2

Q.6 एका विशिष्ट सांकेतिक भाषेत, 'HOME' ला '5287' असे संकेतबद्ध केले आहे आणि 'MODE' ला '8592' असे संकेतबद्ध केले आहे. दिलेल्या सांकेतिक भाषेत 'D' साठीचा संकेत काय आहे?

- Ans
- 1. 2
  - 2. 5
  - 3. 9
  - 4. 8

Question Type : MCQ

Question ID : 630680619663

Option 1 ID : 6306802424792

Option 2 ID : 6306802424790

Option 3 ID : 6306802424791

Option 4 ID : 6306802424789

Status : Answered

Chosen Option : 3

Marks : 2

Section : Marathi 2a

Q.1 समोरच्या कुरणात एक काळी गाय ताजे गवत खात आहे. या वाक्यात किती विशेषण आली आहेत.

- Ans
- 1. तीन
  - 2. चार
  - 3. एक
  - 4. दोन

Question Type : MCQ

Question ID : 6306801368330

Option 1 ID : 6306805386576

Option 2 ID : 6306805386579

Option 3 ID : 6306805386577

Option 4 ID : 6306805386578

Status : Answered

Chosen Option : 2

Marks : 0

Q.2 'अर्धी गोळी'.. विशेषणाचा प्रकार ओळखा.

- Ans
- 1. साकल्यवाचक विशेष
  - 2. पूर्णाकवाचक विशेषण
  - 3. आवृत्तीवाचक विशेषण
  - 4. अपूर्णाकवाचक विशेषण

Question Type : MCQ  
Question ID : 6306801367142  
Option 1 ID : 6306805381882  
Option 2 ID : 6306805381881  
Option 3 ID : 6306805381884  
Option 4 ID : 6306805381883  
Status : Answered  
Chosen Option : 4  
Marks : 2

Q.3 योग्य जोडी ओळखा.

- Ans
- 1. पंचमी -- ऊन, हून.
  - 2. सप्तमी --- चा,ची, चे,च्या.
  - 3. द्वितीया --- ने,ए,शी,नी,ही,ई,थी.
  - 4. प्रथमा --- स,ला,ते,स,ला,ना,ते.

Question Type : MCQ  
Question ID : 6306801367197  
Option 1 ID : 6306805382104  
Option 2 ID : 6306805382103  
Option 3 ID : 6306805382102  
Option 4 ID : 6306805382101  
Status : Answered  
Chosen Option : 1  
Marks : 2

Q.4 'महालक्ष्मीचा' या शब्दाची विभक्ती ओळखा.

- Ans
- 1. द्वितीया
  - 2. षष्ठी
  - 3. प्रथमा
  - 4. संबोधन

Question Type : MCQ  
Question ID : 6306801367163  
Option 1 ID : 6306805381968  
Option 2 ID : 6306805381965  
Option 3 ID : 6306805381966  
Option 4 ID : 6306805381967  
Status : Answered  
Chosen Option : 2  
Marks : 2

Q.5 'हाक' हा कारकार्थ कोणत्या विभक्तीचा आहे?

- Ans  1. संबोधन  
 2. प्रथमा  
 3. सप्तमी  
 4. षष्ठी

Question Type : MCQ

Question ID : 6306801367214

Option 1 ID : 6306805382170

Option 2 ID : 6306805382169

Option 3 ID : 6306805382172

Option 4 ID : 6306805382171

Status : Answered

Chosen Option : 1

Marks : 2

Q.6 पोपट फांदीवर बसला आणि शिकारी आला. या वाक्यातील उभयान्वयी अव्यय कोणते?

- Ans  1. आणि  
 2. बसला  
 3. आला  
 4. वर

Question Type : MCQ

Question ID : 6306801370054

Option 1 ID : 6306805393395

Option 2 ID : 6306805393398

Option 3 ID : 6306805393396

Option 4 ID : 6306805393397

Status : Answered

Chosen Option : 1

Marks : 2

Section : English 2a

Q.1 Select the INCORRECTLY spelt sentence.

- Ans  1. Entrepreneurship is most likely to rise again because of the resilient spirit of the budding entrepreneurs.  
 2. About 5.9 million, which is a huge number of salaried employees, have lost employment in the two years of the pandemic.  
 3. Women accounted for less than 11% of all jobs in 2019-20, but they accounted for nearly 52% of the 7 million job losses since then.  
 4. Employing women and providing salaried jobs are the two challenges that Covid-19 has posed that are going to be difficult to tackle.

Question Type : MCQ

Question ID : 6306801223038

Option 1 ID : 6306804810405

Option 2 ID : 6306804810406

Option 3 ID : 6306804810407

Option 4 ID : 6306804810404

Status : Answered

Chosen Option : 1

Marks : 2

Q.2 The following sentence has been split into four segments. Identify the segment that contains a grammatical error.

He told his parents / that twenty miles / are not a / long distance for him.

- Ans
- 1. He told his parents
  - 2. are not a
  - 3. long distance for him
  - 4. that twenty miles

Question Type : MCQ  
Question ID : 630680661997  
Option 1 ID : 6306802591930  
Option 2 ID : 6306802591932  
Option 3 ID : 6306802591933  
Option 4 ID : 6306802591931  
Status : Answered  
Chosen Option : 2  
Marks : 2

Q.3 Select the most appropriate option that can substitute the underlined segments in the given sentence. If there is no need to substitute them, select 'No substitution required'.

In five years, she will graduate from university and will pursue a career in law.

- Ans
- 1. will graduate / will be pursuing
  - 2. will have graduated / will pursue
  - 3. will have graduated / will be pursuing
  - 4. No substitution required

Question Type : MCQ  
Question ID : 6306801352416  
Option 1 ID : 6306805323835  
Option 2 ID : 6306805323832  
Option 3 ID : 6306805323834  
Option 4 ID : 6306805323833  
Status : Answered  
Chosen Option : 4  
Marks : 0

Q.4 Select the option that rectifies the INCORRECTLY spelt underlined word in the given sentence.

The teacher said that everyone should recieve the notes before the next class.

- Ans
- 1. receive
  - 2. receeve
  - 3. recive
  - 4. receve

Question Type : MCQ  
Question ID : 6306801219335  
Option 1 ID : 6306804796748  
Option 2 ID : 6306804796749  
Option 3 ID : 6306804796750  
Option 4 ID : 6306804796747  
Status : Answered  
Chosen Option : 1  
Marks : 2

Q.5 Fill in the blank with the most appropriate option.

The sun struck its surface, creating the illusion that it spun very \_\_\_\_\_.

- Ans
- 1. agile
  - 2. rapid
  - 3. speed
  - 4. fast

Question Type : MCQ

Question ID : 6306801382642

Option 1 ID : 6306805443804

Option 2 ID : 6306805443802

Option 3 ID : 6306805443803

Option 4 ID : 6306805443801

Status : Answered

Chosen Option : 4

Marks : 2

Q.6 Arrange the following sentences to form a coherent paragraph:

- A) The novel explores themes of identity and self-discovery.
- B) As the protagonist embarks on a journey, encounters with diverse characters shape the narrative.
- C) Flashbacks provide insights into the character's past, unravelling the mystery surrounding them.
- D) The climax reveals a surprising twist, altering the reader's perspective on the entire story.
- E) Throughout the narrative, symbolism and metaphors enhance the depth of the storytelling.

Select the correct order.

- Ans
- 1. E, C, B, A, D
  - 2. B, A, C, E, D
  - 3. C, B, E, A, D
  - 4. A, B, E, C, D

Question Type : MCQ

Question ID : 6306801382621

Option 1 ID : 6306805443721

Option 2 ID : 6306805443722

Option 3 ID : 6306805443724

Option 4 ID : 6306805443723

Status : Answered

Chosen Option : 4

Marks : 2

Q.7 Arrange the following sentences to form a coherent paragraph:

- A) However, with perseverance and dedication, the team overcame these obstacles.
- B) The initial stages of the project were marked by unforeseen challenges.
- C) Collaboration among team members played a crucial role in achieving success.
- D) The innovative approach adopted by the team garnered attention and recognition.
- E) As a result, the project not only met but exceeded expectations.

Select the correct order.

- Ans  1. B, A, C, E, D  
 2. C, A, B, D, E  
 3. C, B, D, A, E  
 4. B, D, A, C, E

Question Type : MCQ

Question ID : 6306801382622

Option 1 ID : 6306805443725

Option 2 ID : 6306805443728

Option 3 ID : 6306805443726

Option 4 ID : 6306805443727

Status : Answered

Chosen Option : 1

Marks : 2

Section : General Knowledge 2a

Q.1 महाराष्ट्रातील खरीप पिकांचे मुख्य वैशिष्ट्य काय आहे?

- Ans  1. वर्षभर सिंचनाखाली लागवड केली जाते.  
 2. पावसाळ्याच्या सुरुवातीला लागवड केली जाते आणि जून-सप्टेंबरमध्ये कापणी केली जाते.  
 3. हिवाळ्यात लागवड केली जाते आणि उन्हाळ्यात कापणी केली जाते  
 4. योग्य वाढीसाठी थंड हवामान आवश्यक आहे

Question Type : MCQ

Question ID : 6306801359489

Option 1 ID : 6306805351656

Option 2 ID : 6306805351655

Option 3 ID : 6306805351654

Option 4 ID : 6306805351657

Status : Answered

Chosen Option : 2

Marks : 2



Q.2 साल 1856-1857 दरम्यान, प्रताप सिंहाचा दत्तक पुत्र शाहू याला गादीवर बसवण्यासाठी आणि खजिना लुटण्यासाठी सुमारे दोन हजार पुरुषांची फौज उभारण्यात खालीलपैकी कोणी रंगो बापूजींना थेट मदत केली नाही?

- Ans
- 1. अण्णामामा चित्रे
  - 2. तात्या फडणीस
  - 3. कुंवर सिंग
  - 4. शेते बंधू

Question Type : MCQ

Question ID : 6306801358729

Option 1 ID : 6306805348659

Option 2 ID : 6306805348660

Option 3 ID : 6306805348661

Option 4 ID : 6306805348658

Status : Answered

Chosen Option : 3

Marks : 2

Q.3 महाराष्ट्रातील धुळे जिल्ह्यात साल 1857 च्या उठावाचे नेतृत्व खालीलपैकी कोणी केले होते?

- Ans
- 1. नाना साहेब
  - 2. मावसिया नाईक
  - 3. खाजा सिंग
  - 4. भीम नाईक

Question Type : MCQ

Question ID : 6306801358254

Option 1 ID : 6306805346768

Option 2 ID : 6306805346765

Option 3 ID : 6306805346766

Option 4 ID : 6306805346767

Status : Answered

Chosen Option : 4

Marks : 0

Lakshyaa MPSC

Q.4 In colonial India, Tarabai Shinde, a self-taught woman from Poona, challenged gender inequalities through her writings. She highlighted how men in the changing society enjoyed newfound rights and privileges, while women remained confined by traditional norms like pativrata (devotion to husband) and were unfairly held responsible for social problems. Which book, written by her, addressed these issues?

वसाहतवादी भारतात, ताराबाई शिंदे या पुण्याच्या स्वयं-शिक्षित महिलेने आपल्या लेखनाद्वारे लैंगिक असमानतेस आव्हान दिले. बदलत्या समाजात पुरुषांना नवीन अधिकार आणि विशेषाधिकार कसे मिळाले हे त्यांनी अधोरेखित केले, तर स्त्रिया पतिव्रता (पतीची भक्ती) सारख्या पारंपारिक नियमांमध्ये मर्यादित राहिल्या आणि सामाजिक समस्यांसाठी त्यांना अन्यायकारकपणे जबाबदार धरले गेले.

त्यांनी लिहिलेल्या कोणत्या पुस्तकात या समस्यांवर भाष्य केले आहे?

- Ans
- 1. रतनबाई
  - 2. स्त्री पुरुष तुलना
  - 3. द हिस्ट्री ऑफ डूंग
  - 4. दीप निर्बाण

Question Type : MCQ

Question ID : 6306801377974

Option 1 ID : 6306805425310

Option 2 ID : 6306805425311

Option 3 ID : 6306805425309

Option 4 ID : 6306805425312

Status : Answered

Chosen Option : 2

Marks : 2

Q.5 कोणत्या ब्रिटिश अधिकाऱ्याच्या सैन्याने साल 1857-58 मध्ये झालेल्या भिल्ल बंडाला दडपून टाकले, या बंडामध्ये ब्रिटिशांना मोठ्या प्रमाणात जीवितहानी सहन करावी लागली होती?

- Ans
- 1. सर कॉलिन कॅम्पबेल
  - 2. जॉन निकोल्सन
  - 3. कॅप्टन पॉटिंगर
  - 4. सर ह्यू व्हीलर

Question Type : MCQ

Question ID : 6306801359606

Option 1 ID : 6306805352124

Option 2 ID : 6306805352123

Option 3 ID : 6306805352122

Option 4 ID : 6306805352125

Status : Answered

Chosen Option : 3

Marks : 2

Q.6 महाराष्ट्रातील कृषी आणि संलग्न क्रियाकलापांच्या संदर्भात, खालीलपैकी कोणते विधान/ने योग्य आहे/आहेत?

1. महाराष्ट्राच्या 2023-24 च्या आर्थिक सर्वेक्षणानुसार, राज्याच्या 50% पेक्षा जास्त लोकसंख्या त्यांच्या उपजीविकेसाठी शेती आणि शेतीपूरक उद्योगांवर अवलंबून आहे.
2. राज्याच्या अर्थव्यवस्थेत कृषी आणि शेतीपूरक उद्योग क्षेत्राचे सरासरी योगदान 12% आहे.

Ans  1. 1 किंवा 2 यापैकी एकही नाही

2. केवळ 2

3. 1 आणि 2 हे दोन्ही

4. केवळ 1

Question Type : MCQ

Question ID : 6306801359416

Option 1 ID : 6306805351373

Option 2 ID : 6306805351371

Option 3 ID : 6306805351372

Option 4 ID : 6306805351370

Status : Answered

Chosen Option : 3

Marks : 2

Section : Aptitude Test 2a

Q.1 एका विशिष्ट सांकेतिक भाषेत, 'they help others' ला 'mi hi di' असे लिहिले जाते आणि 'help me please' ला 'ki mi si' असे संकेतबद्ध केले आहे. दिलेल्या भाषेत 'help' ला कसे संकेतबद्ध केले जाईल?

Ans  1. mi

2. di

3. ki

4. si

Question Type : MCQ

Question ID : 630680619661

Option 1 ID : 6306802424782

Option 2 ID : 6306802424781

Option 3 ID : 6306802424783

Option 4 ID : 6306802424784

Status : Answered

Chosen Option : 1

Marks : 2

Q.2 चार-अक्षरसमूह दिले आहेत, त्यांपैकी तीन विशिष्ट तऱ्हेने समान आहे आणि एक वेगळा आहे. तो वेगळा असलेला अक्षरसमूह निवडा.

- Ans
- 1. BCE
  - 2. LMO
  - 3. XYB
  - 4. NOQ

Question Type : MCQ

Question ID : 6306801382873

Option 1 ID : 6306805444715

Option 2 ID : 6306805444713

Option 3 ID : 6306805444714

Option 4 ID : 6306805444716

Status : Answered

Chosen Option : 3

Marks : 2

Q.3 दिलेली मालिका पूर्ण होण्यासाठी प्रश्नचिन्हाच्या (?) जागी खालीलपैकी कोणते अक्षर येईल?

W, T, Q, ?, K, H

- Ans
- 1. N
  - 2. I
  - 3. L
  - 4. M

Question Type : MCQ

Question ID : 6306801382885

Option 1 ID : 6306805444764

Option 2 ID : 6306805444763

Option 3 ID : 6306805444762

Option 4 ID : 6306805444761

Status : Answered

Chosen Option : 1

Marks : 2

Lakshyaa MPSC

Q.4 इंग्रजी वर्णमालेच्या आधारे दिलेल्या मालिकेत '?' च्या जागी काय येईल?

TQN ROL PMJ NKH ?

- Ans
- 1. LJF
  - 2. LIE
  - 3. LJE
  - 4. LIF

Question Type : MCQ

Question ID : 630680521923

Option 1 ID : 6306802040022

Option 2 ID : 6306802040021

Option 3 ID : 6306802040023

Option 4 ID : 6306802040020

Status : Answered

Chosen Option : 4

Marks : 2

Q.5 IMPUTES या शब्दामधील प्रत्येक अक्षराची मांडणी इंग्रजी वर्णमाला क्रमानुसार केल्यास, किती अक्षरांचे स्थान/ने बदलणार नाही/त?

- Ans
- 1. शून्य
  - 2. तीन
  - 3. एक
  - 4. दोन

Question Type : MCQ

Question ID : 630680877517

Option 1 ID : 6306803436733

Option 2 ID : 6306803436736

Option 3 ID : 6306803436734

Option 4 ID : 6306803436735

Status : Answered

Chosen Option : 1

Marks : 2

Lakshyaa MPSC

Q.6 या प्रश्नात, खाली दिलेल्या संकेत आणि अटीनुसार अक्षर संकेत वापरून संख्या/चिन्हांचा समूह संकेतबद्ध केला आहे. संकेताचे योग्य संयोजन (फक्त लागू होणाऱ्या अटीचे पालन करणे) हे तुमचे उत्तर असेल.

संख्या/ चिन्हे	6	\$	8	5	@	&	2	%	#	7	+	4	9	3
संकेत	X	Z	V	P	N	E	W	S	D	J	R	B	U	G

Conditions:

जर पहिला घटक चिन्ह असेल आणि शेवटची संख्या असेल, तर या दोघांच्या (पहिले आणि शेवटचे घटक) संकेताची अदलाबदल केली पाहिजे.

जर पहिला घटक विषम संख्या असेल आणि शेवटची सम संख्या असेल, तर पहिले आणि शेवटचे घटक © म्हणून संकेतबद्ध केले जातील.

जर दुसरा आणि तिसरा दोन्ही घटक 2 ने विभाज्य असतील तर, दुसरा घटक तिसऱ्या घटकासाठी संकेत म्हणून संकेतबद्ध केला जाईल.

5463 कसा संकेतबद्ध केला जाईल?

- Ans
- 1. GBXP
  - 2. PXXG
  - 3. PBBG
  - 4. PBXG

Question Type : MCQ

Question ID : 630680422279

Option 1 ID : 6306801647555

Option 2 ID : 6306801647552

Option 3 ID : 6306801647553

Option 4 ID : 6306801647554

Status : Answered

Chosen Option : 3

Marks : 0

Section : Marathi 3a

Q.1 'बंधू भगिनी' शब्दाचा समास कोणता ?

- Ans
- 1. अव्ययीभाव समास
  - 2. कर्मधारय समास
  - 3. द्विगु समास
  - 4. द्वंद्व समास

Question Type : MCQ

Question ID : 6306801372415

Option 1 ID : 6306805402968

Option 2 ID : 6306805402969

Option 3 ID : 6306805402967

Option 4 ID : 6306805402966

Status : Answered

Chosen Option : 4

Marks : 2

Q.2 गावोगाव, जागोजाग, दारोदार, घोघर, गल्लोगल्ली ही कोणत्या समासाची उदाहरणे आहेत.

- Ans
- 1. द्वंद्व समास
  - 2. बहुव्रीही समास
  - 3. अव्ययीभाव समास
  - 4. तत्पुरुष समास

Question Type : MCQ  
Question ID : 6306801368351  
Option 1 ID : 6306805386662  
Option 2 ID : 6306805386663  
Option 3 ID : 6306805386660  
Option 4 ID : 6306805386661  
Status : Answered  
Chosen Option : 3  
Marks : 2

Q.3 खालील वाक्यात कोणत्या प्रकारच्या चिन्हाचा उल्लेख आहे.  
ती स्पर्धा परीक्षा उत्तीर्ण झाली पण -

- Ans
- 1. लोपचिन्ह
  - 2. अपसारणचिन्ह
  - 3. अधोरेखा
  - 4. अवग्रहचिन्ह

Question Type : MCQ  
Question ID : 6306801372440  
Option 1 ID : 6306805403067  
Option 2 ID : 6306805403066  
Option 3 ID : 6306805403068  
Option 4 ID : 6306805403069  
Status : Answered  
Chosen Option : 2  
Marks : 2

Q.4 " पाऊस थांबला हे बरे झाले" हे वाक्य योग्य विरामचिन्हांचा वापर करून कसे तयार होईल.

- Ans
- 1. पाऊस थांबला हे, बरे झाले.
  - 2. पाऊस थांबला, हे बरे झाले.
  - 3. 'पाऊस थांबला', हे बरे झाले.
  - 4. पाऊस . थांबला हे बरे झाले.

Question Type : MCQ  
Question ID : 6306801368410  
Option 1 ID : 6306805386897  
Option 2 ID : 6306805386898  
Option 3 ID : 6306805386896  
Option 4 ID : 6306805386899  
Status : Answered  
Chosen Option : 2  
Marks : 2

Q.5 'नाही थांग ज्याला असा' या समासाचा विग्रह असणारा शब्द कोणता ?

- Ans
- 1. अवाढव्य
  - 2. अती
  - 3. अथांग
  - 4. अमर

Question Type : MCQ

Question ID : 6306801368362

Option 1 ID : 6306805386706

Option 2 ID : 6306805386707

Option 3 ID : 6306805386704

Option 4 ID : 6306805386705

Status : Answered

Chosen Option : 3

Marks : 2

Q.6 अरेरे तू अनुत्तीर्ण झालास हे फार वाईट झाले. या वाक्यात कोणते विरामचिन्ह द्यायचे राहिले आहे.

- Ans
- 1. पूर्णविराम
  - 2. अपसारणचिन्ह
  - 3. अर्धविराम
  - 4. उद्गारवाचक चिन्ह

Question Type : MCQ

Question ID : 6306801368403

Option 1 ID : 6306805386868

Option 2 ID : 6306805386871

Option 3 ID : 6306805386870

Option 4 ID : 6306805386869

Status : Answered

Chosen Option : 4

Marks : 2

Section : English 3a

Q.1 Identify the correct idiom in the following sentence.

After months of planning, the wedding finally took place, and the couple \_\_\_\_\_.

- Ans
- 1. turned the chapter
  - 2. tied the knot
  - 3. chased their dreams
  - 4. jumped on the bandwagon

Question Type : MCQ

Question ID : 6306801382625

Option 1 ID : 6306805443739

Option 2 ID : 6306805443738

Option 3 ID : 6306805443737

Option 4 ID : 6306805443740

Status : Answered

Chosen Option : 2

Marks : 2



Q.2 Based on the situation in the sentence, select the most appropriate proverb to fill in the blank.

She wanted to make a difference in the world, so she started writing articles on women's empowerment and gender equality, believing it would bring about positive societal change. I guess it is true that \_\_\_\_\_.

- Ans
- 1. necessity is the mother of invention
  - 2. all is well that ends well
  - 3. the pen is mightier than the sword
  - 4. being brave isn't the absence of fear

Question Type : MCQ

Question ID : 6306801056612

Option 1 ID : 6306804148897

Option 2 ID : 6306804148900

Option 3 ID : 6306804148898

Option 4 ID : 6306804148899

Status : Answered

Chosen Option : 3

Marks : 2

Q.3 Select the most appropriate meaning of the underlined idiom.  
His name was included on the list at the eleventh hour.

- Ans
- 1. At 11 a.m.
  - 2. At the last moment
  - 3. In the previous year
  - 4. Very early

Question Type : MCQ

Question ID : 6306801359234

Option 1 ID : 6306805350637

Option 2 ID : 6306805350634

Option 3 ID : 6306805350636

Option 4 ID : 6306805350635

Status : Answered

Chosen Option : 2

Marks : 2

Q.4 Select the most appropriate ANTONYM of the highlighted word.  
Helped by her best friend Pauline, a young unemployed lawyer, she is acquitted on the grounds of self-defense.

- Ans
- 1. discharged
  - 2. convicted
  - 3. collaborated
  - 4. adjusted

Question Type : MCQ

Question ID : 6306801353755

Option 1 ID : 6306805329116

Option 2 ID : 6306805329117

Option 3 ID : 6306805329119

Option 4 ID : 6306805329118

Status : Answered

Chosen Option : 2

Marks : 2

Q.5 Select the most appropriate ANTONYM of the underlined word.

Ranvir took a passive role in the project, preferring to let others make the decisions and handle the responsibilities.

- Ans  1. active  
 2. conclusive  
 3. abusive  
 4. conducive

Question Type : MCQ

Question ID : 6306801080154

Option 1 ID : 6306804242454

Option 2 ID : 6306804242455

Option 3 ID : 6306804242453

Option 4 ID : 6306804242456

Status : Answered

Chosen Option : 1

Marks : 2

Q.6 Select the most appropriate ANTONYM of the underlined word in the given sentence.

The manager's prudent decision-making ensured the company's steady growth.

- Ans  1. careful  
 2. wise  
 3. reckless  
 4. sensible

Question Type : MCQ

Question ID : 6306801073670

Option 1 ID : 6306804216856

Option 2 ID : 6306804216855

Option 3 ID : 6306804216858

Option 4 ID : 6306804216857

Status : Answered

Chosen Option : 3

Marks : 2

Q.1 हिंदू हृदयसम्राट बाळासाहेब ठाकरे महाराष्ट्र समृद्धी महामार्गाबाबत दिलेली विधाने विचारात घ्या. खालीलपैकी कोणते विधान बरोबर आहे/आहेत?

1. मुंबई ते नागपूर जोडणारा हा एक्सप्रेस वे 701 km लांबीचा आहे.
2. हा एक्सप्रेस वे 10 जिल्हे, 26 तालुके आणि 392 गावांमधून जातो.
3. या एक्सप्रेस वेचे उद्दिष्ट 24 जिल्हे जोडण्याचे आहे आणि त्यात 24 प्रस्तावित कृषी समृद्धी केंद्रे आहेत.

- Ans  1, 2 आणि 3  
 2. केवळ 1 आणि 2  
 3. केवळ 1  
 4. केवळ 2 आणि 3

Question Type : MCQ

Question ID : 6306801359541

Option 1 ID : 6306805351861

Option 2 ID : 6306805351859

Option 3 ID : 6306805351858

Option 4 ID : 6306805351860

Status : Answered

Chosen Option : 1

Marks : 2

Q.2 नॅशनल एम्प्लॉयमेंट सर्व्हिसेसच्या परिवर्तनाचा प्रकल्प जॉब मॅचिंग आणि करिअर समुपदेशन यासारख्या विविध प्रकारच्या करिअर संबंधित सेवा प्रदान करण्यासाठी स्थापन करण्यात आला. या प्रकल्पात तीन महत्त्वाचे घटक आहेत. चुकीचा घटक ओळखा.

- Ans  1. रुरल डेटा सॅम्प्लिंग  
 2. इंटरलिंग ऑफ एम्प्लॉयमेंट एक्स्चेंजेस  
 3. NCS पोर्टल  
 4. मॉडेल करिअर सेंटर्स

Question Type : MCQ

Question ID : 6306801382754

Option 1 ID : 6306805444237

Option 2 ID : 6306805444240

Option 3 ID : 6306805444239

Option 4 ID : 6306805444238

Status : Answered

Chosen Option : 1

Marks : 2

Q.3 खालीलपैकी कोणते स्तंभ योग्यरीत्या जुळले आहे /आहेत?

S. क्र	राष्ट्रीय जलमार्ग	जलमार्गाची माहिती	राज्य
1	राष्ट्रीय जलमार्ग 1	अंबा नदी	महाराष्ट्र
2	राष्ट्रीय जलमार्ग 28	दाभोळ खाडी वसिष्ठी नदी	महाराष्ट्र आ
3	राष्ट्रीय जलमार्ग 100	तापी नदी	महाराष्ट्र आ

- Ans  1. केवळ 1 आणि 3  
 2. 1, 2 आणि 3  
 3. केवळ 3  
 4. केवळ 2 आणि 3

Question Type : MCQ

Question ID : 6306801377982

Option 1 ID : 6306805425343

Option 2 ID : 6306805425344

Option 3 ID : 6306805425341

Option 4 ID : 6306805425342

Status : Answered

Chosen Option : 3

Marks : 2

Q.4 खालीलपैकी कोणत्या शहरात आशिया-पॅसिफिक रूरल अँड अॅग्रिकल्चरल क्रेडिट असोसिएशन (APRACA) सेंटर ऑफ एक्सलन्स - NABARD (ACE-NABARD) स्थित आहे?

- Ans  1. नवी दिल्ली  
 2. बंगळूर  
 3. मुंबई  
 4. लखनौ

Question Type : MCQ

Question ID : 630680646377

Option 1 ID : 6306802530785

Option 2 ID : 6306802530782

Option 3 ID : 6306802530784

Option 4 ID : 6306802530783

Status : Answered

Chosen Option : 4

Marks : 2

Q.5 खालीलपैकी कोणती शहरे गोदावरी नदीच्या काठावर वसलेली आहेत?

1. नाशिक
2. त्र्यंबकेश्वर
3. नांदेड
4. पुणतांबा

Ans  1. केवळ 1, 2 आणि 3

2. केवळ 1 आणि 4

3. केवळ 2 आणि 4

4. 1, 2, 3 आणि 4

Question Type : MCQ

Question ID : 6306801359579

Option 1 ID : 6306805352010

Option 2 ID : 6306805352012

Option 3 ID : 6306805352011

Option 4 ID : 6306805352013

Status : Answered

Chosen Option : 1

Marks : 0

Q.6 खालीलपैकी कोणते राष्ट्रीय कृषी व ग्रामीण विकास बँकेचे (NABARD) कार्य नाही?

Ans  1. भारत सरकार, आरबीआय आणि राज्य सरकारांना धोरण तयार करण्यात मदत करणे.

2. परकीय चलन साठा आणि चलन स्थिरता व्यवस्थापित करणे

3. संशोधन आणि विकास, ग्रामीण नवकल्पना इत्यादींना सहाय्य करणे

4. क्षेत्रीय ग्रामीण बँकांच्या आर्थिक समावेशाच्या प्रयत्नांना पाठिंबा देणे.

Question Type : MCQ

Question ID : 630680616970

Option 1 ID : 6306802414122

Option 2 ID : 6306802414125

Option 3 ID : 6306802414124

Option 4 ID : 6306802414123

Status : Answered

Chosen Option : 2

Marks : 2

Q.7 Which of the following statements best describes the Rational Expectation Theory?

Ans  1. Investors make perfect prediction about future share prices.

2. Investors forecast future share prices using all available information.

3. Investors make random guesses about future share prices.

4. Investors forecast future share prices based on past performance.

Question Type : MCQ

Question ID : 630680748671

Option 1 ID : 6306802934215

Option 2 ID : 6306802934213

Option 3 ID : 6306802934214

Option 4 ID : 6306802934212

Status : Answered

Chosen Option : 2

Marks : 2

Q.1 दिलेली मालिका तर्कदृष्ट्या पूर्ण होण्यासाठी प्रश्नचिन्हाच्या (?) जागी खालीलपैकी कोणता अक्षर-संख्या समूह येईल?

HFB 38 XVR 32 NLH 26 DBX 20 ?

- Ans
- 1. TQM 13
  - 2. TRN 14
  - 3. TSM 14
  - 4. TBK 13

Question Type : MCQ

Question ID : 6306801056531

Option 1 ID : 6306804148579

Option 2 ID : 6306804148577

Option 3 ID : 6306804148578

Option 4 ID : 6306804148580

Status : Answered

Chosen Option : 2

Marks : 2

Q.2 इंग्रजी वर्णमालेनुसार दिलेल्या मालिकेत प्रश्नचिन्हाच्या (?) जागी काय येईल?

LIG, PMK, TQO, XUS, ?

- Ans
- 1. CZV
  - 2. BYW
  - 3. DXV
  - 4. DYU

Question Type : MCQ

Question ID : 630680368101

Option 1 ID : 6306801433848

Option 2 ID : 6306801433847

Option 3 ID : 6306801433846

Option 4 ID : 6306801433845

Status : Answered

Chosen Option : 2

Marks : 2

Lakshyaa MPSC

Q.3 इंग्रजी वर्णक्रमावर आधारित, खालील चार अक्षर-समूह जोड्यांपैकी तीन अक्षर-समूह जोड्या एका विशिष्ट तऱ्हेने समान आहेत आणि ते मिळून एक गट तयार करतात. त्या गटात न बसणारी अक्षर-समूह जोडी कोणती आहे?

(सूचना: गटात न बसणारा हा त्याच्या व्यंजन/स्वरांच्या संख्येवर किंवा अक्षर-समूहातील त्याच्या स्थानावर आधारित नसावा.)

Ans  1. OQ - SU

2. CE - HJ

3. TV - XZ

4. LN - PR

Question Type : MCQ

Question ID : 6306801090095

Option 1 ID : 6306804281558

Option 2 ID : 6306804281561

Option 3 ID : 6306804281560

Option 4 ID : 6306804281559

Status : Answered

Chosen Option : 2

Marks : 2

Q.4 संख्या/चिन्हांच्या एका गटास खाली दिलेले संकेत आणि त्यापुढील अटींना तर्कसंगत अक्षर संकेतांचा वापर करून संकेतबद्ध केले आहे. जर यांपैकी कोणत्याही अटी लागू होत नसतील, तर संबंधित संख्या/चिन्हांसाठी थेट सारणीत दिलेल्याप्रमाणे संकेत वापरून संकेतबद्ध करावे.

संख्या/चिन्हे	:	{	>	&	@	4	5	7	2	/	<	9
संकेत	A	Z	Y	L	M	Q	P	T	U	R	K	E

अटी:

(i) जर पहिला घटक चिन्ह असेल आणि शेवटचा घटक संख्या असेल, तर या दोघांसाठी (पहिला आणि शेवटचा घटक) असलेल्या संकेतांची अदलाबदल करायची आहे.

(ii) जर पहिला घटक एक विषम संख्या असेल आणि शेवटचा घटक एक सम संख्या असेल, तर पहिला आणि शेवटचा घटक © असा संकेतबद्ध केला पाहिजे.

(iii) जर दुसरा आणि तिसरा हे दोन्ही घटक परिपूर्ण वर्ग असतील, तर तिसरा घटक हा दुसऱ्या घटकासाठी असलेला संकेत म्हणून संकेतबद्ध केला जाईल.

5 < % 2

Ans  1. PKBU

2. AMTU

3. CBKC

4. ©KB©

Question Type : MCQ

Question ID : 630680641384

Option 1 ID : 6306802510960

Option 2 ID : 6306802510958

Option 3 ID : 6306802510959

Option 4 ID : 6306802510961

Status : Answered

Chosen Option : 4

Marks : 2

Q.5 जर प्रत्येक शब्दातील सर्व अक्षरे शब्दांतर्गत इंग्रजी वर्णानुक्रमाने मांडली तर किती शब्द अपरिवर्तित (आहेत तसेच) राहतील?

HUJ KLE THH CRT NUK

- Ans
- 1. 4
  - 2. 3
  - 3. 1
  - 4. 2

Question Type : MCQ

Question ID : 6306801382883

Option 1 ID : 6306805444756

Option 2 ID : 6306805444754

Option 3 ID : 6306805444755

Option 4 ID : 6306805444753

Status : Answered

Chosen Option : 3

Marks : 2

Q.6 एका विशिष्ट सांकेतिक भाषेत, जर HAIR हे IBJS4 असे संकेतबद्ध केले, FINGER हे GJOHFS6 असे संकेतबद्ध केले, तर HEART हे कसे संकेतबद्ध केले जाईल?

- Ans
- 1. IFBSU5
  - 2. IFCSU5
  - 3. IFBTU5
  - 4. IFBSV5

Question Type : MCQ

Question ID : 6306801382881

Option 1 ID : 6306805444747

Option 2 ID : 6306805444748

Option 3 ID : 6306805444745

Option 4 ID : 6306805444746

Status : Answered

Chosen Option : 1

Marks : 2

Section : Marathi 4a



Q.1 'वंद्य' या शब्दाच्या विरुद्धार्थी शब्द ओळखा.

- Ans
- 1. पद्य
  - 2. कंद
  - 3. निंद्य
  - 4. सद्य

Question Type : MCQ  
Question ID : 6306801367413  
Option 1 ID : 6306805382971  
Option 2 ID : 6306805382974  
Option 3 ID : 6306805382972  
Option 4 ID : 6306805382973  
Status : Answered  
Chosen Option : 3  
Marks : 2

Q.2 पुढे दिलेल्या शब्दाचा समानार्थी कोणता ?  
उर्जितकाळ -

- Ans
- 1. भरभराटीची स्थिती
  - 2. उर्जेने भरलेले
  - 3. प्रोत्साहित करणे
  - 4. एकाग्रतेची स्थिती

Question Type : MCQ  
Question ID : 6306801370033  
Option 1 ID : 6306805393311  
Option 2 ID : 6306805393312  
Option 3 ID : 6306805393313  
Option 4 ID : 6306805393314  
Status : Answered  
Chosen Option : 1  
Marks : 2

Q.3 पुढे दिलेल्या शब्दाचा समानार्थी कोणता ?  
तोष-

- Ans
- 1. अंदाज
  - 2. थट्टा
  - 3. ताल
  - 4. समाधान

Question Type : MCQ  
Question ID : 6306801370029  
Option 1 ID : 6306805393296  
Option 2 ID : 6306805393298  
Option 3 ID : 6306805393297  
Option 4 ID : 6306805393295  
Status : Answered  
Chosen Option : 4  
Marks : 2

Q.4 खालील वाक्यरचनेचा प्रकार सांगा.

'त्याचे डोळे लाल झाले, कारण की त्याने खूप वेळ मोबाईल पाहिला'

- Ans  1. क्रियाविशेषण वाक्य  
 2. केवलवाक्य  
 3. संयुक्त वाक्य  
 4. मिश्र वाक्य

Question Type : MCQ

Question ID : 6306801367448

Option 1 ID : 6306805383111

Option 2 ID : 6306805383113

Option 3 ID : 6306805383112

Option 4 ID : 6306805383114

Status : Answered

Chosen Option : 4

Marks : 2

Q.5 'देवा, सर्वाना आनंदी देव' हे वाक्य कोणत्या प्रकारचे आहे?

- Ans  1. आज्ञार्थी  
 2. विध्यर्थी  
 3. स्वार्थी  
 4. संकेतार्थी

Question Type : MCQ

Question ID : 6306801367437

Option 1 ID : 6306805383067

Option 2 ID : 6306805383068

Option 3 ID : 6306805383069

Option 4 ID : 6306805383070

Status : Answered

Chosen Option : 1

Marks : 2

Q.6 जर हवी ती माहिती मिळाली, तर माझे संशोधन पूर्ण होईल. वाक्याचा प्रकार कोणता ?

- Ans  1. नकारार्थी वाक्य  
 2. मिश्र वाक्य  
 3. संकेतार्थी वाक्य  
 4. होकारार्थी वाक्य

Question Type : MCQ

Question ID : 6306801372462

Option 1 ID : 6306805403157

Option 2 ID : 6306805403155

Option 3 ID : 6306805403154

Option 4 ID : 6306805403156

Status : Answered

Chosen Option : 3

Marks : 2

Q.1 Select the most appropriate ANTONYM of the underlined word.

When the counsellor went to meet the aggressive drug addict in the rehabilitation centre, he shot her a malevolent look.

- Ans
- 1. Caustic
  - 2. Virulent
  - 3. Violent
  - 4. Benevolent

Question Type : MCQ

Question ID : 6306801082894

Option 1 ID : 6306804252870

Option 2 ID : 6306804252869

Option 3 ID : 6306804252868

Option 4 ID : 6306804252867

Status : Answered

Chosen Option : 4

Marks : 2

**Comprehension:**

Read the given passage and answer the questions that follow.

The ancient Egyptians used materials that could help keep the heat out. Palaces were made of stone and had courtyards. Residential buildings were made of mud brick. Many people also adopted a nomadic behaviour within their buildings to escape the heat: They used rooftop terraces, which were cooler at night, as sleeping quarters. To cool buildings, the Egyptians developed a unique technology called the muqlaf, which consists of tall wall openings facing the prevailing winds. These openings act as scoops to capture wind and funnel it downward to help cool the building. The entering wind creates air circulation that helps vent heat out through other openings. The muqlaf principle could also be scaled up to cool larger spaces. Known as a wind catcher, it is currently used in buildings in the Middle East and Central Asia, making them comfortable without air conditioning, even during very hot periods. Civilisations on other continents and at other times developed similar strategies for living in hot and dry climates, and they developed their own unique solutions, too. The Pueblos in what today is the U.S. Southwest is one such example. They used small windows, materials such as mud brick and rock, and designed buildings with shared walls to minimise the heat getting in.

**SubQuestion No : 2**

Q.2 Which real-life situation best connects to the themes discussed in the passage?

- Ans
- 1. The use of historical architectural techniques to design energy-efficient buildings today
  - 2. The increased use of metal in contemporary construction
  - 3. The shift from nomadic to settled lifestyles in urban planning
  - 4. The development of modern cooling systems in skyscrapers

Question Type : MCQ

Question ID : 6306801080966

Option 1 ID : 6306804245714

Option 2 ID : 6306804245715

Option 3 ID : 6306804245716

Option 4 ID : 6306804245713

Status : Answered

Chosen Option : 4

Marks : 0

**Comprehension:**

Read the given passage and answer the questions that follow.

The ancient Egyptians used materials that could help keep the heat out. Palaces were made of stone and had courtyards. Residential buildings were made of mud brick. Many people also adopted a nomadic behaviour within their buildings to escape the heat: They used rooftop terraces, which were cooler at night, as sleeping quarters. To cool buildings, the Egyptians developed a unique technology called the muqlaf, which consists of tall wall openings facing the prevailing winds. These openings act as scoops to capture wind and funnel it downward to help cool the building. The entering wind creates air circulation that helps vent heat out through other openings. The mulqaf principle could also be scaled up to cool larger spaces. Known as a wind catcher, it is currently used in buildings in the Middle East and Central Asia, making them comfortable without air conditioning, even during very hot periods. Civilisations on other continents and at other times developed similar strategies for living in hot and dry climates, and they developed their own unique solutions, too. The Pueblos in what today is the U.S. Southwest is one such example. They used small windows, materials such as mud brick and rock, and designed buildings with shared walls to minimise the heat getting in.

**SubQuestion No : 3**

**Q.3 What is the purpose of the muqlaf technology described in the passage?**

- Ans
- 1. To create air circulation and cool a building
  - 2. To block all air flow into the building
  - 3. To increase the building's insulation
  - 4. To capture and store heat

Question Type : MCQ

Question ID : 6306801080962

Option 1 ID : 6306804245698

Option 2 ID : 6306804245699

Option 3 ID : 6306804245700

Option 4 ID : 6306804245697

Status : Answered

Chosen Option : 1

Marks : 2

Lakshyaa MPSC

**Comprehension:**

Read the given passage and answer the questions that follow.

The ancient Egyptians used materials that could help keep the heat out. Palaces were made of stone and had courtyards. Residential buildings were made of mud brick. Many people also adopted a nomadic behaviour within their buildings to escape the heat: They used rooftop terraces, which were cooler at night, as sleeping quarters. To cool buildings, the Egyptians developed a unique technology called the muqlaf, which consists of tall wall openings facing the prevailing winds. These openings act as scoops to capture wind and funnel it downward to help cool the building. The entering wind creates air circulation that helps vent heat out through other openings. The mulqaf principle could also be scaled up to cool larger spaces. Known as a wind catcher, it is currently used in buildings in the Middle East and Central Asia, making them comfortable without air conditioning, even during very hot periods. Civilisations on other continents and at other times developed similar strategies for living in hot and dry climates, and they developed their own unique solutions, too. The Pueblos in what today is the U.S. Southwest is one such example. They used small windows, materials such as mud brick and rock, and designed buildings with shared walls to minimise the heat getting in.

**SubQuestion No : 4**

**Q.4 What can be inferred about the use of the wind catcher (muqlaf) in modern times based on the passage?**

- Ans
- 1. It is no longer used due to advancements in air conditioning.
  - 2. It has been adapted and is still effective in cooling buildings in hot climates.
  - 3. It has been replaced by electric cooling systems in the Middle East.
  - 4. It was only used for ceremonial purposes and not for cooling.

Question Type : MCQ

Question ID : 6306801080963

Option 1 ID : 6306804245701

Option 2 ID : 6306804245704

Option 3 ID : 6306804245702

Option 4 ID : 6306804245703

Status : Answered

Chosen Option : 1

Marks : 0

Lakshyaa MPSC

**Comprehension:**

Read the given passage and answer the questions that follow.

The ancient Egyptians used materials that could help keep the heat out. Palaces were made of stone and had courtyards. Residential buildings were made of mud brick. Many people also adopted a nomadic behaviour within their buildings to escape the heat: They used rooftop terraces, which were cooler at night, as sleeping quarters. To cool buildings, the Egyptians developed a unique technology called the muqlaf, which consists of tall wall openings facing the prevailing winds. These openings act as scoops to capture wind and funnel it downward to help cool the building. The entering wind creates air circulation that helps vent heat out through other openings. The mulqaf principle could also be scaled up to cool larger spaces. Known as a wind catcher, it is currently used in buildings in the Middle East and Central Asia, making them comfortable without air conditioning, even during very hot periods. Civilisations on other continents and at other times developed similar strategies for living in hot and dry climates, and they developed their own unique solutions, too. The Pueblos in what today is the U.S. Southwest is one such example. They used small windows, materials such as mud brick and rock, and designed buildings with shared walls to minimise the heat getting in.

**SubQuestion No : 5**

**Q.5** In the context of the passage, what does the term 'nomadic' most closely mean?

- Ans
- 1. Using advanced technology for comfort
  - 2. Permanently settled and urbanised
  - 3. Fixed and permanent in one location
  - 4. Moving from place to place, often as a lifestyle

Question Type : MCQ

Question ID : 6306801080965

Option 1 ID : 6306804245710

Option 2 ID : 6306804245712

Option 3 ID : 6306804245709

Option 4 ID : 6306804245711

Status : Answered

Chosen Option : 4

Marks : 2

Lakshyaa MPSC

### Comprehension:

Read the given passage and answer the questions that follow.

The ancient Egyptians used materials that could help keep the heat out. Palaces were made of stone and had courtyards. Residential buildings were made of mud brick. Many people also adopted a nomadic behaviour within their buildings to escape the heat: They used rooftop terraces, which were cooler at night, as sleeping quarters. To cool buildings, the Egyptians developed a unique technology called the muqaf, which consists of tall wall openings facing the prevailing winds. These openings act as scoops to capture wind and funnel it downward to help cool the building. The entering wind creates air circulation that helps vent heat out through other openings. The mulqaf principle could also be scaled up to cool larger spaces. Known as a wind catcher, it is currently used in buildings in the Middle East and Central Asia, making them comfortable without air conditioning, even during very hot periods. Civilisations on other continents and at other times developed similar strategies for living in hot and dry climates, and they developed their own unique solutions, too. The Pueblos in what today is the U.S. Southwest is one such example. They used small windows, materials such as mud brick and rock, and designed buildings with shared walls to minimise the heat getting in.

SubQuestion No : 6

Q.6 Which summary best captures the essence of the passage?

- Ans  1. The passage details how ancient Egyptians and other civilisations developed unique methods to cool their buildings using materials and architectural designs adapted to hot climates.
2. The passage focuses on the historical significance of the nomadic lifestyle in ancient Egypt.
3. The passage explains the modern use of air conditioning systems in various climates.
4. The passage discusses the evolution of building materials in different ancient civilisations.

Question Type : MCQ

Question ID : 6306801080964

Option 1 ID : 6306804245705

Option 2 ID : 6306804245706

Option 3 ID : 6306804245707

Option 4 ID : 6306804245708

Status : Answered

Chosen Option : 1

Marks : 2

Section : General Knowledge 4a

Q.1 Which program succeeded the Total Sanitation Campaign (TSC) in India?

- Ans  1. Rural Sanitation Program
2. Swachh Bharat Abhiyan
3. Clean India Mission
4. Nirmal Bharat Abhiyan

Question Type : MCQ

Question ID : 630680618473

Option 1 ID : 6306802420221

Option 2 ID : 6306802420224

Option 3 ID : 6306802420222

Option 4 ID : 6306802420223

Status : Answered

Chosen Option : 4

Marks : 2

Q.2 यादी । सोबत यादी ॥ जुळवा आणि योग्य पर्याय निवडा.

यादी ।

(ऑगस्ट 2024 पर्यंत भारताचे राज्यपाल)

- A. श्री थावरचंद गहलोत  
B. श्री आरिफ मोहम्मद खान  
C. श्री सीपी राधाकृष्णन

यादी ॥

(भारतातील राज्ये)

1. केरळ  
2. कर्नाटक  
3. महाराष्ट्र

- Ans  1. A - 2, B - 3, C - 1  
 2. A - 2, B - 1, C - 3  
 3. A - 1, B - 2, C - 3  
 4. A - 1, B - 3, C - 2

Question Type : MCQ

Question ID : 6306801073685

Option 1 ID : 6306804216915

Option 2 ID : 6306804216918

Option 3 ID : 6306804216917

Option 4 ID : 6306804216916

Status : Answered

Chosen Option : 1

Marks : 0

Q.3 Which Articles of Part V of the Constitution of India deals with the Union Executive?

- Ans  1. Article 52 to 77  
 2. Article 52 to 75  
 3. Article 52 to 78  
 4. Article 52 to 76

Question Type : MCQ

Question ID : 63068052951

Option 1 ID : 630680203908

Option 2 ID : 630680203906

Option 3 ID : 630680203909

Option 4 ID : 630680203907

Status : Answered

Chosen Option : 3

Marks : 2

LakshyaaMPSC  
Lakshyaa MPSC



Q.4 Select the correct statement regarding the President and Vice President of India.

- Ans  1. Article 68 of the Indian Constitution mentions the power of the President to grant pardons.
2. Article 85 of the Indian Constitution provides for the Vice President to act as President during the absence of the President.
3. Article 65 of the Indian Constitution mentions about the time of holding election to fill vacancy in the office of the Vice President.
4. Article 74 of the Indian Constitution provides for a Council of Ministers to aid and advise the President.

Question Type : MCQ

Question ID : 6306801066968

Option 1 ID : 6306804190145

Option 2 ID : 6306804190147

Option 3 ID : 6306804190144

Option 4 ID : 6306804190146

Status : Answered

Chosen Option : 4

Marks : 2

Q.5 The Constitution of India vests the executive power of the Union formally in the\_\_\_\_\_.

- Ans  1. Parliament
2. Supreme Court
3. Prime Minister of India
4. President of India

Question Type : MCQ

Question ID : 6306801382757

Option 1 ID : 6306805444252

Option 2 ID : 6306805444249

Option 3 ID : 6306805444250

Option 4 ID : 6306805444251

Status : Answered

Chosen Option : 4

Marks : 2

Q.6 भारतीय राज्यघटनेच्या अनुच्छेद 74 (1) मध्ये नमूद केल्याप्रमाणे, राष्ट्रपतींना सहाय्य व सल्ला देण्यासाठी एक मंत्रीपरिषद असेल, जिच्या प्रमुखपदी \_\_\_\_\_ असतील आणि राष्ट्रपती आपली कार्ये पार पाडताना त्यांच्या सल्ल्यानुसार कार्ये पार पाडतील.

- Ans  1. राज्यपाल
2. गव्हर्नर जनरल
3. पंतप्रधान
4. महान्यायवादी

Question Type : MCQ

Question ID : 6306801382777

Option 1 ID : 6306805444329

Option 2 ID : 6306805444332

Option 3 ID : 6306805444330

Option 4 ID : 6306805444331

Status : Answered

Chosen Option : 3

Marks : 2

Q.1 खालील संचातील संख्या ज्याप्रमाणे संबंधित आहेत, त्याचप्रमाणे संबंध असणारा संच पर्यायांमधून निवडा.  
(सूचना : क्रिया संपूर्ण संख्येवर कराव्यात, तिच्यातील अंकांमध्ये त्या संख्येची विभागणी करू नये. उदाहरणार्थ, 13 - येथे 13 वर बेरीज/वजाबाकी/गुणाकार इ. क्रिया करणे अभिप्रेत आहे, मात्र 13 ची विभागणी 1 आणि 3 अशी करून 1 आणि 3 यांवर गणिती क्रिया करणे अभिप्रेत नाही.)

(12, 180, 5)  
(18, 378, 7)

- Ans  1. (25, 300, 6)  
 2. (15, 330, 11)  
 3. (8, 302, 13)  
 4. (21, 504, 8)

Question Type : MCQ

Question ID : 630680592062

Option 1 ID : 6306802316714

Option 2 ID : 6306802316712

Option 3 ID : 6306802316713

Option 4 ID : 6306802316711

Status : Answered

Chosen Option : 4

Marks : 2

Q.2 खालील मालिकेशी संबंधित नसलेली संख्या ओळखा.

7, 25, 43, 61, 78, 97

- Ans  1. 43  
 2. 25  
 3. 78  
 4. 61

Question Type : MCQ

Question ID : 630680515910

Option 1 ID : 6306802016046

Option 2 ID : 6306802016045

Option 3 ID : 6306802016048

Option 4 ID : 6306802016047

Status : Answered

Chosen Option : 3

Marks : 2

Q.3 खालील संख्या-जोड्यांमध्ये, पहिल्या क्रमांकावर विशिष्ट गणिती क्रिया करून दुसरा क्रमांक मिळवला आहे. X आणि Y च्या जागी कोणती संख्या येईल जेणेकरून :: च्या डावीकडील दोन संख्यांची रचना :: च्या उजव्या बाजूच्या रचनेसारखी असेल?

(सूचना: संख्यांना त्यांच्या घटक अंकांमध्ये विभाजित न करता, संपूर्ण संख्यांवर गणिती क्रिया करणे अभिप्रेत आहे. उदा. 13 - 13 मध्ये 13 वर बेरीज/वजाबाकी/गुणाकार यासारख्या क्रिया केल्या जाऊ शकतात. 13 चे 1 आणि 3 मध्ये विभाजन करून आणि नंतर 1 आणि 3 वर गणिती क्रिया करणे अभिप्रेत नाही.)

X : 12 :: 56 : Y

Ans  1. X=14, Y=48

2. X=14, Y=42

3. X=21, Y=40

4. X=21, Y=42

Question Type : MCQ

Question ID : 630680880551

Option 1 ID : 6306803448843

Option 2 ID : 6306803448844

Option 3 ID : 6306803448842

Option 4 ID : 6306803448841

Status : Answered

Chosen Option : 1

Marks : 2

Q.4 खाली संख्यांचे दोन संच दिले आहेत. संख्यांच्या प्रत्येक संचामध्ये, पहिल्या संख्येवर केलेल्या विशिष्ट गणितीय क्रियेतून/क्रियांतून दुसऱ्या संख्याचा परिणाम मिळतो त्याचप्रमाणे, दुसऱ्या संख्येवर विशिष्ट गणितीय क्रियेतून/क्रियांतून तिसऱ्या संख्याचा परिणाम मिळतो आणि असेच दिलेल्या पर्यायांपैकी कोणता पर्याय दिलेल्या संचांप्रमाणेच क्रियांच्या संचाला अनुसरतो? (सूचना - दोन/तीन अंकी संख्या क्रियासाठी वेगळ्या संख्यात्मक अंकांमध्ये मोडता येत नाहीत, उदा. 37 नंतर 10 असल्यास, क्रिया 3+7 असू शकत नाही, कारण दोन अंकी संख्यात्मक अंकांमध्ये मोडता येत नाहीत.)

14 - 16 - 20 - 40; 3 - 5 - 9 - 18

Ans  1. 12 - 14 - 18 - 22

2. 4 - 6 - 10 - 20

3. 16 - 18 - 22 - 42

4. 3 - 5 - 9 - 14

Question Type : MCQ

Question ID : 630680771080

Option 1 ID : 6306803022192

Option 2 ID : 6306803022194

Option 3 ID : 6306803022195

Option 4 ID : 6306803022193

Status : Answered

Chosen Option : 2

Marks : 2

Q.5 दिलेल्या मालिकेत प्रश्नचिन्हाच्या (?) जागी काय येईल?

72 87 102 122 142 167 192 ?

Ans ✓ 1. 222

✗ 2. 217

✗ 3. 236

✗ 4. 242

Question Type : MCQ

Question ID : 630680551237

Option 1 ID : 6306802155169

Option 2 ID : 6306802155168

Option 3 ID : 6306802155167

Option 4 ID : 6306802155170

Status : Answered

Chosen Option : 1

Marks : 2

Q.6 एका विशिष्ट तर्कानुसार 12 हे 39 शी संबंधित आहे. त्याचप्रकारे, 18 हे 63 शी संबंधित आहे, तर त्या तर्कानुसार खालीलपैकी काय 25 शी संबंधित असेल?

(सूचना : क्रिया संपूर्ण संख्येवर कराव्यात, तिच्यातील अंकांमध्ये त्या संख्येची विभागणी करू नये. उदाहरणार्थ, 13 - येथे 13 वर बेरीज/वजाबाकी/गुणाकार इ. क्रिया करणे अभिप्रेत आहे, मात्र 13 ची विभागणी 1 आणि 3 अशी करून 1 आणि 3 यांवर गणिती क्रिया करणे अभिप्रेत नाही.)

Ans ✓ 1. 91

✗ 2. 84

✗ 3. 78

✗ 4. 109

Question Type : MCQ

Question ID : 6306801082367

Option 1 ID : 6306804250928

Option 2 ID : 6306804250930

Option 3 ID : 6306804250929

Option 4 ID : 6306804250931

Status : Answered

Chosen Option : 1

Marks : 2

Lakshyaa MPSC

Q.7 खालील मालिकेशी संबंधित नसलेली संख्या ओळखा.

529, 576, 625, 686, 729, 784

Ans ✓ 1. 686

✗ 2. 729

✗ 3. 625

✗ 4. 576

Question Type : MCQ

Question ID : 630680515912

Option 1 ID : 6306802016055

Option 2 ID : 6306802016056

Option 3 ID : 6306802016054

Option 4 ID : 6306802016053

Status : Answered

Chosen Option : 1

Marks : 2



**Answer Key of WCD Recruitment Exam 10th 11th 12th 13th 17th Feb 2025 for  
Objection Handling Purpose only**

Participant ID	
Participant Name	
Test Center Name	
Test Date	12/02/2025
Test Time	5:00 PM - 7:00 PM
Subject	Probation Officer Group C
Registration Photo	
Application photograph	

Section : Marathi 1a

**Q.1 पुढील शब्दातील विशेषणाचा प्रकार ओळखा.  
'पन्नासावा'**

- Ans**
- 1. अनिश्चित विशेषण
  - 2. आवृत्तीवाचक विशेषण
  - 3. गणनावाचक विशेषण
  - 4. क्रमवाचक विशेषण

Question Type : MCQ

Question ID : 6306801367119

Option 1 ID : 6306805381795

Option 2 ID : 6306805381793

Option 3 ID : 6306805381796

Option 4 ID : 6306805381794

Status : Answered

Chosen Option : 4

Marks : 2

Q.2 राजपुत्र, भूपती, पोटपूजा, घोडदौड ही कोणत्या समासाची उदाहरणे आहेत?

- Ans  1. वैकल्पिक द्वंद्व समास  
 2. विभक्ती तत्पुरुष समास समास  
 3. षष्ठी तत्पुरुष समास  
 4. बहुव्रीही समास

Question Type : MCQ

Question ID : 6306801368366

Option 1 ID : 6306805386723

Option 2 ID : 6306805386722

Option 3 ID : 6306805386721

Option 4 ID : 6306805386720

Status : Answered

Chosen Option : 3

Marks : 2

Q.3 पुढे दिलेल्या शब्दाचा समानार्थी कोणता ?  
वल्लरी -

- Ans  1. सामर्थ्ये  
 2. नाव  
 3. सिद्धी  
 4. वेल

Question Type : MCQ

Question ID : 6306801370031

Option 1 ID : 6306805393305

Option 2 ID : 6306805393304

Option 3 ID : 6306805393306

Option 4 ID : 6306805393303

Status : Answered

Chosen Option : 4

Marks : 2

Q.4 पुढे दिलेल्या पर्यायामधून अनिश्चित संख्याविशेषणाचा पर्याय ओळखा.

- Ans  1. सर्व विद्यार्थी  
 2. दोन्ही बहिणी  
 3. चारी भाऊ  
 4. पाची पांडव

Question Type : MCQ

Question ID : 6306801370563

Option 1 ID : 6306805395450

Option 2 ID : 6306805395449

Option 3 ID : 6306805395448

Option 4 ID : 6306805395447

Status : Answered

Chosen Option : 1

Marks : 2

Q.5 कृष्णार्जुन या शब्दाचा समास ओळखा.

- Ans  1. उपपद तत्पुरुष समास  
 2. वैकल्पिक द्वंद्व समास  
 3. इतरेतर द्वंद्व समास  
 4. मध्यमपदलोपी समास

Question Type : MCQ

Question ID : 6306801368363

Option 1 ID : 6306805386708

Option 2 ID : 6306805386711

Option 3 ID : 6306805386709

Option 4 ID : 6306805386710

Status : Answered

Chosen Option : 3

Marks : 2

Q.6 तू केव्हा आलास  
वरील वाक्यात कोणते विरामचिन्ह वापरावे?

- Ans  1. अर्धविराम  
 2. स्वल्पविराम  
 3. प्रश्नचिन्ह  
 4. पूर्णविराम

Question Type : MCQ

Question ID : 6306801367454

Option 1 ID : 6306805383137

Option 2 ID : 6306805383136

Option 3 ID : 6306805383138

Option 4 ID : 6306805383135

Status : Answered

Chosen Option : 3

Marks : 2

Q.7 एकेरी अवतरणचिन्ह या विरामचिन्हाचा वापर लेखनात कधी करतात?

- Ans  1. मुख्य गोष्ट सूचित करण्यासाठी  
 2. संबोधन दर्शविताना  
 3. वाक्याच्या शेवटी तपशील द्यायचा असल्यास  
 4. उक्त भावना व्यक्त करताना

Question Type : MCQ

Question ID : 6306801372444

Option 1 ID : 6306805403084

Option 2 ID : 6306805403082

Option 3 ID : 6306805403085

Option 4 ID : 6306805403083

Status : Answered

Chosen Option : 1

Marks : 2



Q.1 Select the most appropriate option to fill in the blank.  
The cop hit the thief \_\_\_\_\_ on the shoulder.

- Ans  1. soft  
 2. hard  
 3. softly  
 4. hardly

Question Type : MCQ  
Question ID : 6306801359240  
Option 1 ID : 6306805350661  
Option 2 ID : 6306805350658  
Option 3 ID : 6306805350659  
Option 4 ID : 6306805350660  
Status : Answered  
Chosen Option : 4  
Marks : 0

Q.2 Select the most appropriate verb form to fill in the blank.

She \_\_\_\_\_ English every morning.

- Ans  1. had study  
 2. studies  
 3. study  
 4. was study

Question Type : MCQ  
Question ID : 6306801078305  
Option 1 ID : 6306804235109  
Option 2 ID : 6306804235107  
Option 3 ID : 6306804235108  
Option 4 ID : 6306804235110  
Status : Answered  
Chosen Option : 2  
Marks : 2

Q.3 Choose the correct form of present tense from the given options to rectify the error in the following sentence.

The river flow peacefully through the valley, reflecting the clear blue sky and embracing the surrounding nature with its gentle currents.

- Ans  1. flew  
 2. flows  
 3. flowed  
 4. flowing

Question Type : MCQ  
Question ID : 6306801382618  
Option 1 ID : 6306805443711  
Option 2 ID : 6306805443712  
Option 3 ID : 6306805443709  
Option 4 ID : 6306805443710  
Status : Answered  
Chosen Option : 2  
Marks : 2

Q.4 Select the most appropriate option that can substitute the underlined segments in the given sentence. If there is no need to substitute them, select 'No substitution required'.

In the next few months, they will be travelling to Europe and will have visited several countries.

- Ans  1. will be travelling / will visit  
 2. No substitution required  
 3. will travel / will visit  
 4. will travel / will have visited

Question Type : MCQ  
Question ID : 6306801352415  
Option 1 ID : 6306805323829  
Option 2 ID : 6306805323831  
Option 3 ID : 6306805323828  
Option 4 ID : 6306805323830  
Status : Answered  
Chosen Option : 4  
Marks : 0

Q.5 Select the most appropriate for of the verb to fill in the blank.

Rahul \_\_\_\_\_ to the store right now.

- Ans  1. have walking  
 2. had walking  
 3. was walking  
 4. is walking

Question Type : MCQ  
Question ID : 6306801045935  
Option 1 ID : 6306804105827  
Option 2 ID : 6306804105826  
Option 3 ID : 6306804105825  
Option 4 ID : 6306804105824  
Status : Answered  
Chosen Option : 4  
Marks : 2

Q.6 Identify the segment that contains a grammatical error. If there is no error, select 'No error'.

Before longer the / cat was seized by / another fit of yearning.

- Ans  1. No error  
 2. another fit of yearning.  
 3. Before longer the  
 4. cat was seized by

Question Type : MCQ  
Question ID : 6306801382647  
Option 1 ID : 6306805443824  
Option 2 ID : 6306805443823  
Option 3 ID : 6306805443821  
Option 4 ID : 6306805443822  
Status : Answered  
Chosen Option : 4  
Marks : 0

Q.1 2024 मध्ये भारताच्या राष्ट्रपतींनी खालीलपैकी कोणत्या श्रेणीमध्ये प्रधानमंत्री राष्ट्रीय बाल पुरस्कार (PMRBP) प्रदान केला नाही?

- Ans  1. कला आणि संस्कृती  
 2. शिक्षण  
 3. नवोपक्रम  
 4. शौर्य

Question Type : MCQ  
Question ID : 6306801362180  
Option 1 ID : 6306805362430  
Option 2 ID : 6306805362433  
Option 3 ID : 6306805362432  
Option 4 ID : 6306805362431  
Status : Answered  
Chosen Option : 1  
Marks : 0

Q.2 Which forest growth technique was mostly used to develop dense forests at various locations across Prayagraj in preparation for Mahakumbh, 2025?

- Ans  1. Permaculture Forest Gardens  
 2. Miyawaki Technique  
 3. Analog Forestry  
 4. Syntropic Farming

Question Type : MCQ  
Question ID : 6306801362324  
Option 1 ID : 6306805363025  
Option 2 ID : 6306805363022  
Option 3 ID : 6306805363024  
Option 4 ID : 6306805363023  
Status : Answered  
Chosen Option : 1  
Marks : 0

Q.3 19 व्या शतकात महाराष्ट्रातील अहमदनगरमध्ये ब्रिटीश राजवटीविरुद्ध खालीलपैकी कोणत्या घटनांमुळे लोकांमध्ये तीव्र अशांतता निर्माण झाली?

- Ans  1. ईस्ट इंडिया कंपनीचे आगमन  
 2. 1857 चा उठाव  
 3. जमीनदारी व्यवस्थेची सुरुवात  
 4. सरंजामशाहीचे निर्मूलन

Question Type : MCQ  
Question ID : 6306801358580  
Option 1 ID : 6306805348062  
Option 2 ID : 6306805348064  
Option 3 ID : 6306805348063  
Option 4 ID : 6306805348065  
Status : Answered  
Chosen Option : 2  
Marks : 2

Q.4 2025 मध्ये प्रयागराज येथे महाकुंभमेळा आयोजित केला जात आहे. खालीलपैकी कोणत्या एका ठिकाणी कुंभमेळा भरवला जात नाही?

- Ans  1. उज्जैन  
 2. नाशिक  
 3. हरिद्वार  
 4. ऋषिकेश

Question Type : MCQ  
Question ID : 6306801362222  
Option 1 ID : 6306805362591  
Option 2 ID : 6306805362592  
Option 3 ID : 6306805362590  
Option 4 ID : 6306805362593  
Status : Answered  
Chosen Option : 4  
Marks : 2

Q.5 1 जानेवारी 2025 पासून, रिझर्व्ह बँक ऑफ इंडिया (RBI) ने कर्जदारांना क्रेडिट ब्युरो रेकॉर्ड किती दिवसांत अपडेट करण्याचे आदेश दिले आहेत?

- Ans  1. दर 60 दिवसांनी  
 2. दर 45 दिवसांनी  
 3. दर 30 दिवसांनी  
 4. दर 15 दिवसांनी

Question Type : MCQ  
Question ID : 6306801362254  
Option 1 ID : 6306805362733  
Option 2 ID : 6306805362732  
Option 3 ID : 6306805362731  
Option 4 ID : 6306805362730  
Status : Answered  
Chosen Option : 2  
Marks : 0

Q.6 13 जानेवारी 2025 रोजी खालीलपैकी कोणी ISRO चे नवीन अध्यक्ष म्हणून पदभार स्वीकारला?

- Ans  1. डॉ. के. सिवन  
 2. डॉ. सोमनाथ  
 3. डॉ. व्ही. नारायणन  
 4. डॉ. ए.एस. किरण कुमार

Question Type : MCQ  
Question ID : 6306801362342  
Option 1 ID : 6306805363096  
Option 2 ID : 6306805363095  
Option 3 ID : 6306805363094  
Option 4 ID : 6306805363097  
Status : Answered  
Chosen Option : 3  
Marks : 2

Q.1 दिलेल्या मालिकेत प्रश्नचिन्हाच्या (?) जागी खालीलपैकी कोणती संख्या येईल?

398 386 401 389 404 ?

Ans  1. 389

2. 392

3. 410

4. 419

Question Type : MCQ

Question ID : 630680880438

Option 1 ID : 6306803448395

Option 2 ID : 6306803448393

Option 3 ID : 6306803448396

Option 4 ID : 6306803448394

Status : Answered

Chosen Option : 2

Marks : 2

Q.2 खालील संख्या-जोड्यांमध्ये, पहिल्या संख्येवर विशिष्ट गणिती क्रिया करून दुसरी संख्या मिळवली जाते. X आणि Y च्या जागी कोणती संख्या येईल जेणेकरून :: च्या डावीकडील दोन संख्यांमधील रचना :: च्या उजव्या बाजूच्या रचनेप्रमाणे असेल?

(सूचना: संख्यांना त्यांच्या घटक अंकांमध्ये विभाजित न करता, संपूर्ण संख्यांवर गणिती क्रिया करणे अभिप्रेत आहे.)

X : 156 :: 15 : Y

Ans  1. X = 14, Y = 250

2. X = 13, Y = 240

3. X = 12, Y = 240

4. X = 12, Y = 225

Question Type : MCQ

Question ID : 630680515917

Option 1 ID : 6306802016076

Option 2 ID : 6306802016074

Option 3 ID : 6306802016075

Option 4 ID : 6306802016073

Status : Answered

Chosen Option : 3

Marks : 2

Q.3 एका विशिष्ट तर्कानुसार 7 हे 51 शी संबंधित आहे. त्याचप्रकारे, 10 हे 78 शी संबंधित आहे, तर त्या तर्कानुसार खालीलपैकी काय 12 शी संबंधित असेल?

(सूचना : क्रिया संपूर्ण संख्येवर कराव्यात, तिच्यातील अंकांमध्ये त्या संख्येची विभागणी करू नये. उदाहरणार्थ, 13 - येथे 13 वर बेरीज/वजाबाकी/गुणाकार इ. क्रिया करणे अभिप्रेत आहे, मात्र 13 ची विभागणी 1 आणि 3 अशी करून 1 आणि 3 यांवर गणिती क्रिया करणे अभिप्रेत नाही.)

Ans  1. 96

2. 120

3. 146

4. 92

Question Type : MCQ

Question ID : 6306801082373

Option 1 ID : 6306804250952

Option 2 ID : 6306804250955

Option 3 ID : 6306804250953

Option 4 ID : 6306804250954

Status : Answered

Chosen Option : 1

Marks : 2

Q.4 दिलेल्या मालिकेत प्रश्नचिन्हाच्या (?) जागी काय येईल?

29 35 29 42 29 49 29 ?

- Ans  1. 37  
 2. 29  
 3. 56  
 4. 61

Question Type : MCQ

Question ID : 630680551230

Option 1 ID : 6306802155142

Option 2 ID : 6306802155141

Option 3 ID : 6306802155140

Option 4 ID : 6306802155139

Status : Answered

Chosen Option : 3

Marks : 2

Q.5 खालील मालिकेशी संबंधित नसलेली संख्या ओळखा.

15, 23, 18, 26, 21, 28, 24

- Ans  1. 26  
 2. 18  
 3. 28  
 4. 21

Question Type : MCQ

Question ID : 630680515908

Option 1 ID : 6306802016040

Option 2 ID : 6306802016037

Option 3 ID : 6306802016038

Option 4 ID : 6306802016039

Status : Answered

Chosen Option : 3

Marks : 2

Q.6 दिलेल्या मालिकेत प्रश्नचिन्हाच्या (?) जागी खालीलपैकी कोणती संख्या येईल?

7, 15, 31, ?, 127

- Ans  1. 33  
 2. 54  
 3. 63  
 4. 75

Question Type : MCQ

Question ID : 6306801382878

Option 1 ID : 6306805444733

Option 2 ID : 6306805444734

Option 3 ID : 6306805444735

Option 4 ID : 6306805444736

Status : Answered

Chosen Option : 3

Marks : 2

Q.1 पुढे दिलेल्या सामासिक शब्दातील बहुव्रीही समास ओळखा.

- Ans  1. आगतसुख  
 2. बेलाशक  
 3. दाणागोटा  
 4. कृष्णाश्रित

Question Type : MCQ  
Question ID : 6306801372433  
Option 1 ID : 6306805403039  
Option 2 ID : 6306805403040  
Option 3 ID : 6306805403038  
Option 4 ID : 6306805403041  
Status : Answered  
Chosen Option : 4  
Marks : 0

Q.2 मुलानो , नीट बसून घ्या .या वाक्यात कोणती विभक्ती आहे.

- Ans  1. सप्तमी  
 2. पंचमी  
 3. संबोधन  
 4. तृतीया

Question Type : MCQ  
Question ID : 6306801368369  
Option 1 ID : 6306805386733  
Option 2 ID : 6306805386734  
Option 3 ID : 6306805386732  
Option 4 ID : 6306805386735  
Status : Answered  
Chosen Option : 3  
Marks : 2

Q.3 शाळेपासून घर लांब आहे .या वाक्यातील कारकार्थ ओळखा .

- Ans  1. करण  
 2. अपादन  
 3. संप्रदान  
 4. कर्म

Question Type : MCQ  
Question ID : 6306801368384  
Option 1 ID : 6306805386794  
Option 2 ID : 6306805386793  
Option 3 ID : 6306805386792  
Option 4 ID : 6306805386795  
Status : Answered  
Chosen Option : 2  
Marks : 2

Q.4 खालीलपैकी कोणता विभक्ती प्रत्यय हा विभक्तीच्या दोन प्रकारात येतो?

- Ans  1. ना  
 2. नो  
 3. ने  
 4. नी

Question Type : MCQ

Question ID : 6306801367206

Option 1 ID : 6306805382138

Option 2 ID : 6306805382140

Option 3 ID : 6306805382137

Option 4 ID : 6306805382139

Status : Answered

Chosen Option : 1

Marks : 2

Q.5 शब्दाच्या एकूण जाती किती?

- Ans  1. पाच  
 2. चार  
 3. आठ  
 4. तीन

Question Type : MCQ

Question ID : 6306801366874

Option 1 ID : 6306805380822

Option 2 ID : 6306805380819

Option 3 ID : 6306805380820

Option 4 ID : 6306805380821

Status : Answered

Chosen Option : 3

Marks : 2

Q.6 पुढे दिलेल्या पर्यायांमधून अनिश्चित सर्वनामाचे वाक्य ओळखा.

- Ans  1. तुला काय हवे ?  
 2. शहरात काय वाटेल ते मिळेल.  
 3. मी बाजारात गेलो.  
 4. हा पक्षी आहे.

Question Type : MCQ

Question ID : 6306801370513

Option 1 ID : 6306805395243

Option 2 ID : 6306805395246

Option 3 ID : 6306805395245

Option 4 ID : 6306805395244

Status : Answered

Chosen Option : 2

Marks : 2



Q.1 Select the most appropriate ANTONYM of the underlined word in the given sentence.

The historical artifacts were carefully restored and resurrected, allowing future generations to appreciate their significance.

- Ans
- 1. Scrutinised
  - 2. Revived
  - 3. Conveyed
  - 4. Effaced

Question Type : MCQ  
Question ID : 6306801057869  
Option 1 ID : 6306804153871  
Option 2 ID : 6306804153874  
Option 3 ID : 6306804153873  
Option 4 ID : 6306804153872  
Status : Answered  
Chosen Option : 3  
Marks : 0

Q.2 Select the word from the options which is the same in meaning to the bracketed word given in the sentence below.

She gave jewellery away as gifts, and was one of the most (attentive), caring friends.

- Ans
- 1. oblivious
  - 2. neglecting
  - 3. heedful
  - 4. similar

Question Type : MCQ  
Question ID : 6306801382658  
Option 1 ID : 6306805443865  
Option 2 ID : 6306805443868  
Option 3 ID : 6306805443866  
Option 4 ID : 6306805443867  
Status : Answered  
Chosen Option : 1  
Marks : 0

Q.3 The following sentence has been divided into parts. One of them may contain an error. Select the part that contains the error from the given options. If you don't find any error, mark 'No error' as your answer.

It is a fact that / Rohit Sharma is an unique / player among all modern cricketers.

- Ans
- 1. It is a fact that
  - 2. Rohit Sharma is an unique
  - 3. No error
  - 4. player among all modern cricketers

Question Type : MCQ  
Question ID : 6306801114023  
Option 1 ID : 6306804376548  
Option 2 ID : 6306804376549  
Option 3 ID : 6306804376551  
Option 4 ID : 6306804376550  
Status : Answered  
Chosen Option : 2  
Marks : 2

Q.4 Sentences of a paragraph are given below in jumbled order. Arrange the sentences in the right order to form a meaningful and coherent paragraph.

- A. It also played a critical role in the spread of cultural, religious and technological knowledge, including Buddhism, Islam and the techniques of paper-making and printing.
- B. The Silk Road was an ancient trade network that connected the East and West from China to the Mediterranean Sea.
- C. The route was used to trade silk, spices, tea and precious metals, which were highly valued in Europe.
- D. Established during the Han Dynasty around 130 BCE, it facilitated the exchange of goods, culture and technology for centuries.
- E. The Silk Road's influence waned with the rise of sea trade routes in the 15<sup>th</sup> century and was further disrupted by political changes in Central Asia.

- Ans
- 1. AEDCB
  - 2. EACDB
  - 3. BDCAE
  - 4. BEACD

Question Type : MCQ

Question ID : 630680983952

Option 1 ID : 6306803859853

Option 2 ID : 6306803859856

Option 3 ID : 6306803859855

Option 4 ID : 6306803859854

Status : Answered

Chosen Option : 3

Marks : 2

Q.5 Select the most appropriate adjective to fill in the blank.

My professor told me, "The \_\_\_\_\_ scientist developed a groundbreaking theory."

- Ans
- 1. loyal
  - 2. sincere
  - 3. independent
  - 4. innovative

Question Type : MCQ

Question ID : 6306801045760

Option 1 ID : 6306804105147

Option 2 ID : 6306804105145

Option 3 ID : 6306804105146

Option 4 ID : 6306804105144

Status : Answered

Chosen Option : 4

Marks : 2

Q.6 Select the most appropriate tense form to fill in the blank.

They \_\_\_\_\_ a new movie on Netflix tomorrow evening.

- Ans  1. watch  
 2. will watch  
 3. watched  
 4. are watching

Question Type : MCQ

Question ID : 6306801352396

Option 1 ID : 6306805323754

Option 2 ID : 6306805323753

Option 3 ID : 6306805323752

Option 4 ID : 6306805323755

Status : Answered

Chosen Option : 2

Marks : 2

Q.7 Sentences of a paragraph are given below in jumbled order. Arrange the sentences in the correct order to form a meaningful and coherent paragraph.

1. Chinese fly kites to keep evil spirits away but modern usage of kite flying is totally different.
2. Kite flying is widespread and people fly kites for different reasons.
3. They can read air pressure, temperature, speed, direction and humidity.
4. Meteorological investigations are carried out by sending instruments on kites.
5. Kites have been used by the army for aerial photography over trenches, for suspending flares over targets, during night-fighting, for carrying men over enemy lines.
6. The army, navy and air force have used kites for many reasons.

- Ans  1. 214365  
 2. 561243  
 3. 563412  
 4. 213465

Question Type : MCQ

Question ID : 6306801119786

Option 1 ID : 6306804399471

Option 2 ID : 6306804399469

Option 3 ID : 6306804399470

Option 4 ID : 6306804399472

Status : Answered

Chosen Option : 1

Marks : 2

Q.1 खालील विधाने विचारात घ्या आणि योग्य उत्तर निवडा.

विधाने:

1. भारत छोडो चळवळीदरम्यान महाराष्ट्रातील नाशिक जिल्हा देशव्यापी उपक्रमांचे प्रमुख केंद्र होता.
2. भारत छोडो चळवळीदरम्यान नाशिक जिल्हातील स्वयंसेवकांचे नेतृत्व करणारे एम. जी. यार्दी एक प्रसिद्ध कार्यकर्ते होते.

- Ans
- 1. विधान I योग्य आहे, तर विधान II अयोग्य आहे
  - 2. दोन्ही विधाने योग्य आहेत
  - 3. विधान I अयोग्य आहे, तर विधान II योग्य आहे
  - 4. दोन्ही विधाने अयोग्य आहेत

Question Type : MCQ  
Question ID : 6306801358847  
Option 1 ID : 6306805349130  
Option 2 ID : 6306805349132  
Option 3 ID : 6306805349131  
Option 4 ID : 6306805349133  
Status : Answered  
Chosen Option : 4  
Marks : 0

Q.2 महाराष्ट्राच्या हवामानाबाबत खालील विधाने विचारात घ्या.विधानांपैकी कोणते/योग्य आहेत?

1. महाराष्ट्रात मान्सूनचे हवामान आहे.
2. राज्यामध्ये वर्षभर उष्ण वातावरण असते ज्यामध्ये कोणताही हंगामी बदल नसतो.
3. महाराष्ट्राच्या किनारपट्टीच्या प्रदेशात त्याच्या अंतर्गत प्रदेशांच्या तुलनेत जास्त आर्द्रता आहे.

- Ans
- 1. केवळ 2 आणि 3
  - 2. केवळ 1
  - 3. केवळ 1 आणि 3
  - 4. केवळ 1 आणि 2

Question Type : MCQ  
Question ID : 6306801359637  
Option 1 ID : 6306805352253  
Option 2 ID : 6306805352250  
Option 3 ID : 6306805352251  
Option 4 ID : 6306805352252  
Status : Answered  
Chosen Option : 3  
Marks : 2

Q.3 महाराष्ट्रातील धुळे जिल्ह्यात खालीलपैकी कोणत्या महत्त्वाच्या घटनेमुळे साल 1857 च्या उठावाने कळस गाठला?

- Ans
- 1. अहमदनगरची लढाई
  - 2. नागपूरचा उठाव
  - 3. अंबापाणीची लढाई
  - 4. सातारा बंड

Question Type : MCQ  
Question ID : 6306801358646  
Option 1 ID : 6306805348326  
Option 2 ID : 6306805348329  
Option 3 ID : 6306805348327  
Option 4 ID : 6306805348328  
Status : Answered  
Chosen Option : 3  
Marks : 2

Q.4 महाराष्ट्रातील शेतीच्या संदर्भात खालीलपैकी कोणते विधान योग्य आहे/आहेत?

1. महाराष्ट्राच्या 2023-24 च्या आर्थिक सर्वेक्षणानुसार, राज्यातील निव्वळ पेरणी क्षेत्र हे राज्याच्या एकूण भौगोलिक क्षेत्राच्या सुमारे 54% आहे.
2. महाराष्ट्राच्या भौगोलिक क्षेत्राचा एक तृतीयांश भाग कमी पर्जन्यमान असलेल्या पर्जन्यछायेच्या प्रदेशात येतो.
3. 'कुमारी' हा पश्चिम घाटात केला जाणारा बदलत्या शेतीचा (shifting cultivation) एक प्रकार आहे.

- Ans
- 1. केवळ 2 आणि 3
  - 2. केवळ 1 आणि 2
  - 3. केवळ 1
  - 4. 1, 2 आणि 3

Question Type : MCQ

Question ID : 6306801359431

Option 1 ID : 6306805351432

Option 2 ID : 6306805351431

Option 3 ID : 6306805351430

Option 4 ID : 6306805351433

Status : Answered

Chosen Option : 2

Marks : 0

Q.5 साल 1857 च्या उठावादरम्यान दक्षिण नाशिक आणि उत्तर अहमदनगरमध्ये ब्रिटिशांविरुद्ध भिल्ल उठावाचे नेतृत्व कोणी केले?

- Ans
- 1. कॅप्टन पॉटिंगर
  - 2. नाना साहेब
  - 3. भागोजी नाईक आणि काजरसिंग नाईक
  - 4. खाजा सिंग

Question Type : MCQ

Question ID : 6306801358631

Option 1 ID : 6306805348266

Option 2 ID : 6306805348269

Option 3 ID : 6306805348267

Option 4 ID : 6306805348268

Status : Answered

Chosen Option : 3

Marks : 2

Q.6 सविनय कायदेभंग चळवळीदरम्यान रत्नागिरी जिल्ह्यात कोणती महत्त्वाची घटना घडली होती?

- Ans
- 1. मीठाचा सत्याग्रह
  - 2. खिलाफत चळवळ
  - 3. भारत छोडो आंदोलन
  - 4. असहकार चळवळ

Question Type : MCQ

Question ID : 6306801358825

Option 1 ID : 6306805349043

Option 2 ID : 6306805349045

Option 3 ID : 6306805349042

Option 4 ID : 6306805349044

Status : Answered

Chosen Option : 1

Marks : 2

Q.1 एका विशिष्ट सांकेतिक भाषेत, 'PAGE' ला '3571' असे संकेतबद्ध केले आहे आणि 'BLOG' ला '1246' असे संकेतबद्ध केले आहे. दिलेल्या सांकेतिक भाषेत 'G' साठीचा संकेत काय आहे?

Ans  1. 1

2. 2

3. 4

4. 7

Question Type : MCQ

Question ID : 630680639337

Option 1 ID : 6306802503070

Option 2 ID : 6306802503071

Option 3 ID : 6306802503072

Option 4 ID : 6306802503073

Status : Answered

Chosen Option : 1

Marks : 2

Q.2 दिलेल्या शब्दांच्या जोडीमध्ये जो संबंध आहे तसा संबंध नसलेली जोडी पर्यायातून निवडा.

Fall : Drop

Ans  1. Explain : Describe

2. Plump : Fat

3. False : Fake

4. Calm : Furious

Question Type : MCQ

Question ID : 630680521975

Option 1 ID : 6306802040230

Option 2 ID : 6306802040229

Option 3 ID : 6306802040228

Option 4 ID : 6306802040231

Status : Answered

Chosen Option : 4

Marks : 2

Q.3 खाली दिलेल्या दोन अक्षर जोड्यांप्रमाणे रचना असलेली अक्षर जोडी निवडा. दोन्ही जोड्यांची रचना समान आहे.

PVO : RSN

DQV : FNU

Ans  1. JEN : LBM

2. HEQ : JBO

3. GVO : ISM

4. SIR : UGQ

Question Type : MCQ

Question ID : 630680852126

Option 1 ID : 6306803337560

Option 2 ID : 6306803337563

Option 3 ID : 6306803337561

Option 4 ID : 6306803337562

Status : Answered

Chosen Option : 1

Marks : 2

Q.4 खालील संचातील संख्या ज्याप्रमाणे संबंधित आहेत, त्याचप्रमाणे संबंध असणारा संच पर्यायांमधून निवडा.  
(सूचना : क्रिया संपूर्ण संख्येवर कराव्यात, तिच्यातील अंकांमध्ये त्या संख्येची विभागणी करू नये. उदाहरणार्थ, 13 - येथे 13 वर बेरीज/वजाबाकी/गुणाकार इ. क्रिया करणे अभिप्रेत आहे, मात्र 13 ची विभागणी 1 आणि 3 अशी करून 1 आणि 3 यांवर गणिती क्रिया करणे अभिप्रेत नाही.)

(8, 15, 130)  
(21, 6, 136)

- Ans  1. (10, 9, 110)  
 2. (21, 7, 167)  
 3. (18, 12, 226)  
 4. (11, 12, 162)

Question Type : MCQ

Question ID : 630680592063

Option 1 ID : 6306802316718

Option 2 ID : 6306802316715

Option 3 ID : 6306802316716

Option 4 ID : 6306802316717

Status : Answered

Chosen Option : 3

Marks : 2

Q.5 खालील शब्दांची तार्किक आणि अर्थपूर्ण क्रमाने मांडणी दर्शविणारा योग्य पर्याय निवडा.

- 1.घोटा
- 2.मांडी
- 3.पायाचे बोट
- 4.कंबर
- 5.गुडघा

- Ans  1. 3, 1, 5, 2, 4  
 2. 1, 3, 2, 5, 4  
 3. 5, 3, 2, 4, 1  
 4. 5, 3, 4, 1, 2

Question Type : MCQ

Question ID : 630680567072

Option 1 ID : 6306802217251

Option 2 ID : 6306802217249

Option 3 ID : 6306802217250

Option 4 ID : 6306802217252

Status : Answered

Chosen Option : 1

Marks : 2

Q.6 खालील संख्या आणि चिन्हांच्या मालिकेचा संदर्भ घ्या आणि त्यापुढील प्रश्नाचे उत्तर द्या. मोजणी केवळ डावीकडून उजवीकडे केली गेली पाहिजे.

(डावीकडून) 5 # 9 6 8 & # % \* 9 % # 9 6 2 9 \* 2 3 8 # 7 (उजवीकडे)

यात अशी किती चिन्हे आहेत, ज्यांपैकी प्रत्येकाच्या लगतच आधी एक संख्या येते आणि त्यानंतर लगतच एक चिन्ह येते?

- Ans  1. 4  
 2. 2  
 3. 1  
 4. 3

Question Type : MCQ

Question ID : 6306801125629

Option 1 ID : 6306804422716

Option 2 ID : 6306804422713

Option 3 ID : 6306804422715

Option 4 ID : 6306804422714

Status : Answered

Chosen Option : 2

Marks : 2

Section : Marathi 3a

Q.1 'कोण ही गर्दी' हे वाक्य कोणत्या प्रकारचे आहे?

- Ans  1. तृतीय पुरुषवाचक सर्वनाम  
 2. प्रश्नार्थक सर्वनाम  
 3. अनिश्चित सर्वनाम  
 4. दर्शक सर्वनाम

Question Type : MCQ

Question ID : 6306801367062

Option 1 ID : 6306805381564

Option 2 ID : 6306805381563

Option 3 ID : 6306805381561

Option 4 ID : 6306805381562

Status : Answered

Chosen Option : 3

Marks : 2

Q.2 खालील वाक्याचा प्रकार ओळखा.  
सैनिक लढता लढता शहीद झाले.

- Ans  1. केवळ वाक्य  
 2. संयुक्त वाक्य  
 3. प्रश्नार्थी वाक्य  
 4. मिश्र वाक्य

Question Type : MCQ

Question ID : 6306801372458

Option 1 ID : 6306805403141

Option 2 ID : 6306805403139

Option 3 ID : 6306805403140

Option 4 ID : 6306805403138

Status : Answered

Chosen Option : 1

Marks : 2



Q.3 विरुद्धार्थी शब्दांची अयोग्य जोडी निवडा.

- Ans  1. विभक्त × एकत्र  
 2. सुबक × बेढब  
 3. माजी × आजी  
 4. लालसा × अभिलाषा

Question Type : MCQ

Question ID : 6306801367421

Option 1 ID : 6306805383004

Option 2 ID : 6306805383003

Option 3 ID : 6306805383006

Option 4 ID : 6306805383005

Status : Answered

Chosen Option : 4

Marks : 2

Q.4 तुम्ही आणि मी जाऊन त्यांना घेऊन येऊ. या वाक्यात किती सर्वनामे आली आहेत ?

- Ans  1. एक  
 2. तीन  
 3. चार  
 4. दोन

Question Type : MCQ

Question ID : 6306801368324

Option 1 ID : 6306805386555

Option 2 ID : 6306805386553

Option 3 ID : 6306805386554

Option 4 ID : 6306805386552

Status : Answered

Chosen Option : 2

Marks : 2

Q.5 पुढील वाक्याचा प्रकार कोणता ?

आम्ही शिष्यवृत्ती परीक्षा उत्तीर्ण झालो.

- Ans  1. आज्ञार्थी वाक्य  
 2. केवल वाक्य  
 3. स्वार्थी वाक्य  
 4. संकेतार्थी वाक्य

Question Type : MCQ

Question ID : 6306801372460

Option 1 ID : 6306805403146

Option 2 ID : 6306805403149

Option 3 ID : 6306805403148

Option 4 ID : 6306805403147

Status : Answered

Chosen Option : 2

Marks : 0

Q.6 पुढीलपैकी उभयान्वयी अव्यय दर्शविणारा शब्द कोणता?

- Ans  1. म्हणून  
 2. उद्या  
 3. ओहो  
 4. करिता

Question Type : MCQ  
Question ID : 6306801370052  
Option 1 ID : 6306805393387  
Option 2 ID : 6306805393390  
Option 3 ID : 6306805393389  
Option 4 ID : 6306805393388  
Status : Answered  
Chosen Option : 1  
Marks : 2

Section : English 3a

Q.1 Four paragraphs are given, out of which three have all correct spellings. Choose the paragraphs with the incorrectly spelt word/ words.

- Ans  1. No one can guarantee that plagues won't make a comeback. New infectious diseases appear mainly as a result of chance mutations in pathogen genomes.  
 2. The youngest son fell to the bottom of the river's bed: luckily it was nearly dry, but his bones were almost broken, and the bank was so steep that he could find no way to get out.  
 3. No beggars implored him to bestow a trifle, no man or woman ever once in all his life inquired the way to such and such a place, from Shivang.  
 4. Perhaps the most formidable province to emerge was that of the Marathas. Under the capable leadership of the Peshwas, the Marathas uprooted the Mughal authority.

Question Type : MCQ  
Question ID : 6306801382652  
Option 1 ID : 6306805443843  
Option 2 ID : 6306805443841  
Option 3 ID : 6306805443842  
Option 4 ID : 6306805443844  
Status : Answered  
Chosen Option : 1  
Marks : 2

Q.2 Select the most appropriate proverb that fits the situation best:

The investigation wouldn't be taking this long if there were no real leads, indicating that something is indeed wrong.

- Ans  1. Actions speak louder than words.  
 2. Every cloud has a silver lining.  
 3. Where there's smoke, there's fire.  
 4. The early bird catches the worm.

Question Type : MCQ  
Question ID : 630680984192  
Option 1 ID : 6306803860942  
Option 2 ID : 6306803860941  
Option 3 ID : 6306803860943  
Option 4 ID : 6306803860944  
Status : Answered  
Chosen Option : 3  
Marks : 2

Q.3 Select the most appropriate idiom to fill in the blank.

You are \_\_\_\_\_ if you think he's the one who stole your wallet.

- Ans  1. barking up the wrong tree  
 2. bending over backward  
 3. facing the music  
 4. hitting the wall

Question Type : MCQ  
Question ID : 630680461421  
Option 1 ID : 6306801801935  
Option 2 ID : 6306801801934  
Option 3 ID : 6306801801936  
Option 4 ID : 6306801801937  
Status : Answered  
Chosen Option : 1  
Marks : 2

Q.4 Find the meaning of the underlined proverb embedded in the following sentence.

He decided to mend fences with his old friend, realizing that time heals all wounds.

- Ans  1. At times open confrontations are important  
 2. In time old wounds should be reopened.  
 3. Time repairs damaged relationships.  
 4. Sometimes fences are better left broken.

Question Type : MCQ  
Question ID : 6306801382626  
Option 1 ID : 6306805443744  
Option 2 ID : 6306805443741  
Option 3 ID : 6306805443742  
Option 4 ID : 6306805443743  
Status : Answered  
Chosen Option : 3  
Marks : 2

Q.5 Select the most appropriate ANTONYM of the underlined word.

The CEO's address was clear, offering a fresh viewpoint on the company's future.

- Ans  1. Astute  
 2. Perceptive  
 3. Obscure  
 4. Discerning

Question Type : MCQ  
Question ID : 6306801082291  
Option 1 ID : 6306804250661  
Option 2 ID : 6306804250660  
Option 3 ID : 6306804250662  
Option 4 ID : 6306804250663  
Status : Answered  
Chosen Option : 4  
Marks : 0

Q.6 Select the most appropriate ANTONYM of the underlined word.

An iron bridge collapsed due to a traffic jam.

- Ans  1. Imploded  
 2. Rose  
 3. Crumbled  
 4. Crushed

Question Type : MCQ

Question ID : 6306801118310

Option 1 ID : 6306804393649

Option 2 ID : 6306804393648

Option 3 ID : 6306804393646

Option 4 ID : 6306804393647

Status : Answered

Chosen Option : 1

Marks : 0

Section : General Knowledge 3a

Q.1 शाश्वत विकास उद्दीष्ट (SDG) अंतर्गत किती उद्दिष्टे ठरवण्यात आली होती?

- Ans  1. 25  
 2. 15  
 3. 21  
 4. 17

Question Type : MCQ

Question ID : 6306801353746

Option 1 ID : 6306805329081

Option 2 ID : 6306805329082

Option 3 ID : 6306805329080

Option 4 ID : 6306805329083

Status : Answered

Chosen Option : 4

Marks : 2

Q.2 NITI आयोगाच्या 'राष्ट्रीय बहुआयामी गरीबी निर्देशांक' वरील 2023 च्या अहवालानुसार, 2015-16 आणि 2019-21 या कालावधीत भारतातील लोकसंख्येच्या प्रमाणात बहुआयामी दारिद्र्यांमध्ये किती घट झाली?

- Ans  1. 20.15% ते 10.12%  
 2. 24.85% ते 14.96%  
 3. 50% ते 25%  
 4. 47.14% ते 44.39%

Question Type : MCQ

Question ID : 6306801359409

Option 1 ID : 6306805351345

Option 2 ID : 6306805351343

Option 3 ID : 6306805351344

Option 4 ID : 6306805351342

Status : Answered

Chosen Option : 1

Marks : 0

Q.3 जैव प्रौद्योगिकी प्रज्वलन अनुदान (BIG) योजना जैवतंत्रज्ञान क्षेत्रातील वैयक्तिक उद्योजक आणि स्टार्ट-अप्सना भेडसावणाऱ्या गंभीर आव्हानांना कसे सामोरे जाते?

- Ans
- 1. जोखीम कमी करण्यासाठी आणि BIG द्वारे समर्थित जैववैज्ञानिक नवकल्पनांचे यशस्वी व्यापारीकरण सुनिश्चित करण्यासाठी बौद्धिक संपदा समर्थन आणि कायदेशीर सहाय्य यांचे प्रभाव तपासते.
  - 2. हे तांत्रिक आव्हानांवर मात करण्यासाठी आणि जैववैज्ञानिक उपक्रमांमध्ये नवकल्पना वाढवण्यासाठी तांत्रिक मार्गदर्शनाच्या परिणामकारकतेचे मूल्यांकन करते.
  - 3. हे जैववैज्ञानिक स्टार्ट-अप्ससाठी सहयोगी संधी निर्माण करण्यात आणि बाजारपेठेतील प्रवेशाचा विस्तार करण्यासंदर्भातील नेटवर्किंगच्या भूमिकेचे विश्लेषण करते.
  - 4. जैववैज्ञानिक क्षेत्रातील उद्योजकांना भेडसावणाऱ्या विविध आव्हानांना तोंड देण्यासाठी BIG योजनेच्या एकूण यशाचे मूल्यमापन त्याच्या आधारभूत घटकांच्या सर्वसमावेशक विश्लेषणाद्वारे करते.

Question Type : MCQ

Question ID : 630680673064

Option 1 ID : 6306802635805

Option 2 ID : 6306802635804

Option 3 ID : 6306802635806

Option 4 ID : 6306802635807

Status : Answered

Chosen Option : 4

Marks : 2

Q.4 महाराष्ट्र उद्योग, व्यापार आणि गुंतवणूक सुविधा कक्षा (मैत्री) चे मुख्य उद्दिष्ट/ष्टे खालीलपैकी कोणते आहे/आहेत?

1. महाराष्ट्रातील व्यवसायाचे नियमन करणे
2. राज्यात गुंतवणूक आकर्षित करणे
3. लघु व्यवसायांना आर्थिक मदत प्रदान करणे
4. महाराष्ट्रातून निर्यातीला प्रोत्साहन देणे

Ans  1. केवळ 1, 2 आणि 3

2. केवळ 2

3. केवळ 2, 3 आणि 4

4. केवळ 1, 3 आणि 4

Question Type : MCQ

Question ID : 6306801359509

Option 1 ID : 6306805351730

Option 2 ID : 6306805351733

Option 3 ID : 6306805351731

Option 4 ID : 6306805351732

Status : Answered

Chosen Option : 3

Marks : 0

Lakshyaa MPSC

Q.5 Consider the following statements regarding monsoon depressions. Which of the given statement(s) is/are correct?

1. Monsoon depressions are low-pressure areas that cause most of the monsoon rains.
2. They are of Bay origin, land origin or Arabian Sea origin.
3. Monsoon depressions always have a warm core at both surface and upper levels.
4. The heavy rainfall from monsoon depressions is mainly concentrated in the southwest quadrant when moving westward.

- Ans
- 1. Only two
  - 2. Only three
  - 3. Only one
  - 4. All four

Question Type : MCQ  
Question ID : 6306801359698  
Option 1 ID : 6306805352494  
Option 2 ID : 6306805352495  
Option 3 ID : 6306805352493  
Option 4 ID : 6306805352496  
Status : Answered  
Chosen Option : 2  
Marks : 2

Q.6 प्रधानमंत्री मुद्रा (PM MUDRA) कर्ज खालीलपैकी कोण देत नाही?

- Ans
- 1. व्यापारी बँका
  - 2. सूक्ष्म वित्त संस्था
  - 3. क्षेत्रीय ग्रामीण बँका
  - 4. सिक्युरिटीज अँड एक्सचेंज बोर्ड ऑफ इंडिया (Securities and Exchange Board of India)

Question Type : MCQ  
Question ID : 6306801353750  
Option 1 ID : 6306805329096  
Option 2 ID : 6306805329098  
Option 3 ID : 6306805329097  
Option 4 ID : 6306805329099  
Status : Answered  
Chosen Option : 4  
Marks : 2

Q.7 गोदावरी नदीबाबत खालील विधानांचा विचार करा. दिलेल्या विधानांपैकी कोणते योग्य आहे/आहेत?

1. गोदावरी नदी महाराष्ट्रातील नाशिक जिल्ह्यातील त्र्यंबक येथून उगम पावते.
2. गोदावरी नदी नाशिक, औरंगाबाद, नांदेड, चंद्रपूर आणि गडचिरोलीसह अनेक जिल्ह्यांतून वाहते.

- Ans
- 1. 1 आणि 2
  - 2. केवळ 1
  - 3. केवळ 2
  - 4. 1 किंवा 2 नाही

Question Type : MCQ  
Question ID : 6306801359608  
Option 1 ID : 6306805352132  
Option 2 ID : 6306805352130  
Option 3 ID : 6306805352131  
Option 4 ID : 6306805352133  
Status : Answered  
Chosen Option : 2  
Marks : 0

Q.1 इंग्रजी वर्णमालेच्या आधारे दिलेल्या मालिकेत '?' च्या जागी काय येईल?

VZW RVS NRO JNK ?

- Ans  1. FJG  
 2. FJH  
 3. FIH  
 4. FIG

Question Type : MCQ

Question ID : 630680521920

Option 1 ID : 6306802040008

Option 2 ID : 6306802040009

Option 3 ID : 6306802040011

Option 4 ID : 6306802040010

Status : Answered

Chosen Option : 1

Marks : 2

Q.2 इंग्रजी वर्णमाला क्रमावर आधारित, खालील चार अक्षर-समूहांपैकी तीन अक्षर-समूह एका विशिष्ट तऱ्हेने समान आहेत आणि ते मिळून एक गट तयार करतात. त्या गटात न बसणारा अक्षर-समूह कोणता आहे?

(सूचना: गटात न बसणारा अक्षर-समूह हा त्याच्या व्यंजन/स्वरांच्या संख्येवर किंवा अक्षर-समूहातील त्याच्या स्थानावर आधारित नसावा.)

- Ans  1. OLH  
 2. YXT  
 3. MLH  
 4. UTP

Question Type : MCQ

Question ID : 630680865705

Option 1 ID : 6306803390638

Option 2 ID : 6306803390639

Option 3 ID : 6306803390640

Option 4 ID : 6306803390641

Status : Answered

Chosen Option : 1

Marks : 2

Q.3 इंग्रजी वर्णमालेनुसार, खालील चारपैकी तीन अक्षर-समूह एका विशिष्ट प्रकारचे असल्याने एक गट तयार होतो. कोणता अक्षर-समूह त्या गटाशी संबंधित नाही?

(टीप: हे वेगळेपण व्यंजन/स्वरांच्या संख्येवर किंवा अक्षर-समूहातील मधील त्यांच्या स्थानावर आधारित नाही.)

- Ans  1. EATN  
 2. OKDX  
 3. GCWP  
 4. TPIC

Question Type : MCQ

Question ID : 6306801095964

Option 1 ID : 6306804305182

Option 2 ID : 6306804305179

Option 3 ID : 6306804305180

Option 4 ID : 6306804305181

Status : Answered

Chosen Option : 3

Marks : 2

Q.4 खालील संख्या आणि चिन्ह मालिकेच्या आधारे पुढील प्रश्नाचे उत्तर द्या. मोजणी फक्त डावीकडून उजवीकडे करायची आहे. (टीप: सर्व संख्या एक-अंकी संख्या आहेत.)

(Left) 9 ^ 2 8 3 4 5 \$ 9 1 3 8 \* # 9 7 % 2 (Right)

सर्व सम संख्या वगळल्यास, मालिकेच्या उजव्या टोकापासून 6 वे पद कोणते येईल?

Ans  1. \*

2. \$

3. 9

4. 3

Question Type : MCQ

Question ID : 6306801104466

Option 1 ID : 6306804338398

Option 2 ID : 6306804338400

Option 3 ID : 6306804338399

Option 4 ID : 6306804338397

Status : Answered

Chosen Option : 4

Marks : 2

Q.5 खालील चार शब्द-जोड्यांपैकी तीन एका विशिष्ट तऱ्हेने समान आहेत आणि ते मिळून एक गट तयार करतात. त्या गटात न बसणारी शब्द-जोडी कोणती आहे?

Ans  1. आरंभ-सुरुवात

2. धैर्यवान-शूर

3. अवाढव्य-प्रचंड

4. प्राचीन-आधुनिक

Question Type : MCQ

Question ID : 630680956801

Option 1 ID : 6306803751206

Option 2 ID : 6306803751208

Option 3 ID : 6306803751207

Option 4 ID : 6306803751209

Status : Answered

Chosen Option : 4

Marks : 2

Q.6 एका विशिष्ट सांकेतिक भाषेत, जर ABANDON हे ABAMNOD असे संकेतबद्ध केले, GABBLED हे BAGADEL असे संकेतबद्ध केले, तर HABITAT हे कसे संकेतबद्ध केले जाईल?

Ans  1. BAHHTBT

2. BAHGTAT

3. BAHHTAT

4. BAGHTAT

Question Type : MCQ

Question ID : 6306801382858

Option 1 ID : 6306805444656

Option 2 ID : 6306805444654

Option 3 ID : 6306805444653

Option 4 ID : 6306805444655

Status : Answered

Chosen Option : 3

Marks : 2



Q.1 घरभेदी शब्दाचा समानार्थी शब्द कोणता?

Ans  1. कलह लावणारा

2. मुखत्यारी

3. ब्रम्हचारी

4. कर्तेपणा

Question Type : MCQ

Question ID : 6306801370018

Option 1 ID : 6306805393251

Option 2 ID : 6306805393253

Option 3 ID : 6306805393254

Option 4 ID : 6306805393252

Status : Answered

Chosen Option : 1

Marks : 2

Q.2 खालील पर्यायातून 'प्रश्नार्थक सर्वनाम' ओळखा.

Ans  1. ही

2. कोण

3. आपण

4. ज्यांना

Question Type : MCQ

Question ID : 6306801366987

Option 1 ID : 6306805381260

Option 2 ID : 6306805381257

Option 3 ID : 6306805381259

Option 4 ID : 6306805381258

Status : Answered

Chosen Option : 2

Marks : 2

Q.3 ओवी, अभंग, श्लोक यासारख्या छंदात काव्यपंक्तीच्या शेवटी कोणते विरामचिन्ह वापरतात?

Ans  1. लोपचिन्ह

2. अर्धविराम

3. दंड

4. काकपद

Question Type : MCQ

Question ID : 6306801367472

Option 1 ID : 6306805383170

Option 2 ID : 6306805383167

Option 3 ID : 6306805383169

Option 4 ID : 6306805383168

Status : Answered

Chosen Option : 3

Marks : 2

Q.4 दर्शक सर्वनामाचे वाक्य ओळखा.

- Ans  1. आपण सहलीला जाऊ.  
 2. तो मठ मुलगा आहे.  
 3. तू एवढा लाडू खा.  
 4. जो करेल, तो भरेल.

Question Type : MCQ

Question ID : 6306801367052

Option 1 ID : 6306805381528

Option 2 ID : 6306805381526

Option 3 ID : 6306805381527

Option 4 ID : 6306805381525

Status : Answered

Chosen Option : 2

Marks : 2

Q.5 'जरी ती चाळीशीत असली, तरी ती सुंदर दिसते' या वाक्याचा प्रकार सांगा .

- Ans  1. कालवाचक क्रियाविशेषण वाक्य  
 2. विरोधदर्शक क्रियाविशेषण वाक्य  
 3. रीतदर्शक क्रियाविशेषण वाक्य  
 4. कारणदर्शक क्रियाविशेषण वाक्य

Question Type : MCQ

Question ID : 6306801367449

Option 1 ID : 6306805383116

Option 2 ID : 6306805383115

Option 3 ID : 6306805383117

Option 4 ID : 6306805383118

Status : Answered

Chosen Option : 2

Marks : 2

Q.6 पुढील पर्यायांपैकी आत्मवाचक सर्वनाम असलेला पर्याय सांगा.

- Ans  1. तो आपण होऊन माझ्याकडे आला.  
 2. तिकडे कोण आहे ,ते मला माहित नाही.  
 3. तो उंच पर्वत चढून गेला.  
 4. ही माझी टोपी आहे.

Question Type : MCQ

Question ID : 6306801370522

Option 1 ID : 6306805395279

Option 2 ID : 6306805395280

Option 3 ID : 6306805395281

Option 4 ID : 6306805395282

Status : Answered

Chosen Option : 1

Marks : 2

Q.1 Which part of the sentence contains an error?

The team are playing well, but there's still room for improvement.

Ans  1. room for improvement

2. but there's still

3. playing well

4. The team are

Question Type : MCQ

Question ID : 6306801382623

Option 1 ID : 6306805443732

Option 2 ID : 6306805443731

Option 3 ID : 6306805443730

Option 4 ID : 6306805443729

Status : Answered

Chosen Option : 4

Marks : 2

**Comprehension:**

Read the given passage and answer the questions that follow.

Social media has changed the way people communicate and maintain relationships. Platforms like Facebook, Instagram and Twitter allow users to stay connected with friends and family, even across great distances. This instant connectivity can help maintain relationships by keeping individuals engaged in each other's lives and providing a platform for sharing life events and milestones.

However, social media can also negatively affect personal relationships. Constant comparison to others' curated lives can lead to jealousy and insecurity. The ability to communicate instantly has made some conversations superficial, lacking depth. Furthermore, excessive time spent online can detract from face-to-face interactions. The illusion of constant connectivity might also lead to misunderstandings and miscommunications, as digital interactions often lack the nuance of face-to-face communication. Additionally, the addictive nature of social media can lead to reduced quality time with loved ones, as individuals may find themselves spending hours scrolling rather than engaging in meaningful, offline activities. While social media has the potential to foster connections, users must strike a balance to ensure their relationships remain meaningful and authentic. Setting boundaries around social media use, prioritising in-person interactions and being mindful of the content shared online can help maintain the integrity of personal relationships.

SubQuestion No : 2

Q.2 What effect can constant comparison on social media have?

Ans  1. Increased confidence

2. Jealousy and insecurity

3. Greater depth in relationships

4. Better communication skills

Question Type : MCQ

Question ID : 6306801086547

Option 1 ID : 6306804267456

Option 2 ID : 6306804267458

Option 3 ID : 6306804267457

Option 4 ID : 6306804267459

Status : Answered

Chosen Option : 2

Marks : 2

**Comprehension:**

Read the given passage and answer the questions that follow.

Social media has changed the way people communicate and maintain relationships. Platforms like Facebook, Instagram and Twitter allow users to stay connected with friends and family, even across great distances. This instant connectivity can help maintain relationships by keeping individuals engaged in each other's lives and providing a platform for sharing life events and milestones.

However, social media can also negatively affect personal relationships. Constant comparison to others' curated lives can lead to jealousy and insecurity. The ability to communicate instantly has made some conversations superficial, lacking depth. Furthermore, excessive time spent online can detract from face-to-face interactions. The illusion of constant connectivity might also lead to misunderstandings and miscommunications, as digital interactions often lack the nuance of face-to-face communication. Additionally, the addictive nature of social media can lead to reduced quality time with loved ones, as individuals may find themselves spending hours scrolling rather than engaging in meaningful, offline activities. While social media has the potential to foster connections, users must strike a balance to ensure their relationships remain meaningful and authentic. Setting boundaries around social media use, prioritising in-person interactions and being mindful of the content shared online can help maintain the integrity of personal relationships.

SubQuestion No : 3

Q.3 What is a potential DOWNSIDE of spending too much time on social media?

- Ans
- 1. Increased online friendships
  - 2. Fewer face-to-face interactions
  - 3. Stronger virtual bonds
  - 4. Enhanced personal relationships

Question Type : MCQ

Question ID : 6306801086548

Option 1 ID : 6306804267462

Option 2 ID : 6306804267461

Option 3 ID : 6306804267463

Option 4 ID : 6306804267460

Status : Answered

Chosen Option : 4

Marks : 0

LakshyaaMPSC

Lakshyaa MPSC

**Comprehension:**

Read the given passage and answer the questions that follow.

Social media has changed the way people communicate and maintain relationships. Platforms like Facebook, Instagram and Twitter allow users to stay connected with friends and family, even across great distances. This instant connectivity can help maintain relationships by keeping individuals engaged in each other's lives and providing a platform for sharing life events and milestones.

However, social media can also negatively affect personal relationships. Constant comparison to others' curated lives can lead to jealousy and insecurity. The ability to communicate instantly has made some conversations superficial, lacking depth. Furthermore, excessive time spent online can detract from face-to-face interactions. The illusion of constant connectivity might also lead to misunderstandings and miscommunications, as digital interactions often lack the nuance of face-to-face communication. Additionally, the addictive nature of social media can lead to reduced quality time with loved ones, as individuals may find themselves spending hours scrolling rather than engaging in meaningful, offline activities. While social media has the potential to foster connections, users must strike a balance to ensure their relationships remain meaningful and authentic. Setting boundaries around social media use, prioritising in-person interactions and being mindful of the content shared online can help maintain the integrity of personal relationships.

**SubQuestion No : 4**

**Q.4 What problem does social media create by allowing instant communication?**

- Ans**
- 1. It requires face-to-face meetings.
  - 2. It makes conversations too deep.
  - 3. It fosters stronger relationships.
  - 4. It can lead to superficial communication.

Question Type : MCQ

Question ID : 6306801086546

Option 1 ID : 6306804267455

Option 2 ID : 6306804267452

Option 3 ID : 6306804267454

Option 4 ID : 6306804267453

Status : Answered

Chosen Option : 4

Marks : 2

Lakshyaa MPSC

**Comprehension:**

Read the given passage and answer the questions that follow.

Social media has changed the way people communicate and maintain relationships. Platforms like Facebook, Instagram and Twitter allow users to stay connected with friends and family, even across great distances. This instant connectivity can help maintain relationships by keeping individuals engaged in each other's lives and providing a platform for sharing life events and milestones.

However, social media can also negatively affect personal relationships. Constant comparison to others' curated lives can lead to jealousy and insecurity. The ability to communicate instantly has made some conversations superficial, lacking depth. Furthermore, excessive time spent online can detract from face-to-face interactions. The illusion of constant connectivity might also lead to misunderstandings and miscommunications, as digital interactions often lack the nuance of face-to-face communication. Additionally, the addictive nature of social media can lead to reduced quality time with loved ones, as individuals may find themselves spending hours scrolling rather than engaging in meaningful, offline activities. While social media has the potential to foster connections, users must strike a balance to ensure their relationships remain meaningful and authentic. Setting boundaries around social media use, prioritising in-person interactions and being mindful of the content shared online can help maintain the integrity of personal relationships.

SubQuestion No : 5

Q.5 What is the main suggestion in the passage?

- Ans  1. Use social media to replace face-to-face interactions
2. Limit social media use for healthier relationships
3. Avoid using social media
4. Create deeper conversations online

Question Type : MCQ

Question ID : 6306801086549

Option 1 ID : 6306804267466

Option 2 ID : 6306804267465

Option 3 ID : 6306804267464

Option 4 ID : 6306804267467

Status : Answered

Chosen Option : 2

Marks : 2

Lakshyaa MPSC

**Comprehension:**

Read the given passage and answer the questions that follow.

Social media has changed the way people communicate and maintain relationships. Platforms like Facebook, Instagram and Twitter allow users to stay connected with friends and family, even across great distances. This instant connectivity can help maintain relationships by keeping individuals engaged in each other's lives and providing a platform for sharing life events and milestones.

However, social media can also negatively affect personal relationships. Constant comparison to others' curated lives can lead to jealousy and insecurity. The ability to communicate instantly has made some conversations superficial, lacking depth. Furthermore, excessive time spent online can detract from face-to-face interactions. The illusion of constant connectivity might also lead to misunderstandings and miscommunications, as digital interactions often lack the nuance of face-to-face communication. Additionally, the addictive nature of social media can lead to reduced quality time with loved ones, as individuals may find themselves spending hours scrolling rather than engaging in meaningful, offline activities. While social media has the potential to foster connections, users must strike a balance to ensure their relationships remain meaningful and authentic. Setting boundaries around social media use, prioritising in-person interactions and being mindful of the content shared online can help maintain the integrity of personal relationships.

**SubQuestion No : 6**

**Q.6 What is a positive impact of social media on relationships according to the passage?**

- Ans  1. Ability to stay connected over distances  
 2. Excessive online time  
 3. Increased insecurity  
 4. Superficial conversations

Question Type : MCQ

Question ID : 6306801086545

Option 1 ID : 6306804267449

Option 2 ID : 6306804267451

Option 3 ID : 6306804267450

Option 4 ID : 6306804267448

Status : Answered

Chosen Option : 1

Marks : 2

Section : General Knowledge 4a

**Q.1 भारतीय राज्यघटनेच्या खालीलपैकी कोणत्या अनुच्छेदांद्वारे राज्यपालांना राज्य विधानसभेला विशेष भाषण देण्याचा अधिकार आहे?**

- Ans  1. अनुच्छेद 174  
 2. अनुच्छेद 177  
 3. अनुच्छेद 176  
 4. अनुच्छेद 175

Question Type : MCQ

Question ID : 630680722167

Option 1 ID : 6306802829943

Option 2 ID : 6306802829946

Option 3 ID : 6306802829945

Option 4 ID : 6306802829944

Status : Answered

Chosen Option : 2

Marks : 0

Q.2 महाराष्ट्रात 'सखी सावित्री' समितीची स्थापना खालील कोणत्या कारणांसाठी करण्यात आली आहे?

- Ans  1. लोकायुक्तांच्या अधिकारक्षेत्राचा आढावा घेणे  
 2. पोलिसांच्या कामाची चौकशी करणे  
 3. मागासवर्गीयांच्या मागण्यांचा अभ्यास करणे  
 4. शाळांमध्ये मुला आणि मुलींसाठी सुरक्षित आणि बाल-अनुकूल वातावरण निर्माण करणे

Question Type : MCQ

Question ID : 6306801378061

Option 1 ID : 6306805425659

Option 2 ID : 6306805425660

Option 3 ID : 6306805425657

Option 4 ID : 6306805425658

Status : Answered

Chosen Option : 4

Marks : 2

Q.3 खालीलपैकी कोणत्या प्रकरणात सर्वोच्च न्यायालयाने 'कायद्याचे राज्य' हा भारतीय संविधानच्या मूलभूत रचनेचा भाग असल्याचे घोषित केले आहे?

- Ans  1. सेंट्रल कोल फिल्ड्स प्रकरण  
 2. इंद्रा साहनी प्रकरण  
 3. एस.पी संपत कुमार प्रकरण  
 4. रघुनाथ राव प्रकरण

Question Type : MCQ

Question ID : 6306801170738

Option 1 ID : 6306804602355

Option 2 ID : 6306804602354

Option 3 ID : 6306804602352

Option 4 ID : 6306804602353

Status : Answered

Chosen Option : 2

Marks : 2

Q.4 भारतातील राज्याच्या मुख्यमंत्र्यांचे वेतन आणि भत्ते ठरवण्याचा अधिकार खालीलपैकी कोणत्या प्राधिकरणाला आहे?

- Ans  1. संसद  
 2. सर्वोच्च न्यायालय  
 3. राष्ट्रपती  
 4. राज्य विधिमंडळ

Question Type : MCQ

Question ID : 630680766353

Option 1 ID : 6306803003765

Option 2 ID : 6306803003768

Option 3 ID : 6306803003767

Option 4 ID : 6306803003766

Status : Answered

Chosen Option : 4

Marks : 2



Q.5 भारतीय राज्यघटनेच्या खालीलपैकी कोणत्या अनुच्छेदात सर्वोच्च न्यायालयाच्या सहाय्यभूत अधिकारांबद्दल उल्लेख आहे?

- Ans  1. अनुच्छेद 134  
 2. अनुच्छेद 124  
 3. अनुच्छेद 140  
 4. अनुच्छेद 150

Question Type : MCQ

Question ID : 6306801070667

Option 1 ID : 6306804204894

Option 2 ID : 6306804204893

Option 3 ID : 6306804204895

Option 4 ID : 6306804204896

Status : Answered

Chosen Option : 2

Marks : 0

Q.6 सन 1997 मध्ये क्योटो, जपान येथे झालेल्या हवामान बदलावरील संयुक्त राष्ट्र परिषदेत जागतिक तापमानवाढीशी लढा देण्यासाठी आंतरराष्ट्रीय करार झाला, ज्यामध्ये औद्योगिक राष्ट्रांनी \_\_\_\_\_ कपात करण्याचा प्रस्ताव मांडला.

- Ans  1. शेतीवर कर आकारणीत  
 2. उर्जेच्या सर्व स्रोतांच्या वापरामध्ये  
 3. हरितगृह वायूंच्या उत्सर्जनात  
 4. सिंचनात

Question Type : MCQ

Question ID : 6306801382773

Option 1 ID : 6306805444314

Option 2 ID : 6306805444315

Option 3 ID : 6306805444313

Option 4 ID : 6306805444316

Status : Answered

Chosen Option : 3

Marks : 2

Section : Aptitude Test 4a

Q.1 एका विशिष्ट सांकेतिक भाषेत, जर PLACID हे OKZBHC असे संकेतबद्ध केले, AUGER हे ZTFDQ असे संकेतबद्ध केले, तर MOLLIFY हे कसे संकेतबद्ध केले जाईल?

- Ans  1. LNKKHEX  
 2. LNKKGEX  
 3. LNKKHFX  
 4. LNKLHEX

Question Type : MCQ

Question ID : 6306801382856

Option 1 ID : 6306805444646

Option 2 ID : 6306805444648

Option 3 ID : 6306805444645

Option 4 ID : 6306805444647

Status : Answered

Chosen Option : 1

Marks : 2

Q.2 PREFORM या शब्दातील प्रत्येक अक्षराला इंग्रजी वर्णमाला क्रमातील त्याच्यानंतर लगतच येणाऱ्या अक्षरात बदलले आणि अशा प्रकारे मिळणाऱ्या सर्व अक्षरांची मांडणी इंग्रजी वर्णमाला क्रमानुसार केली तर तयार झालेल्या नवीन अक्षरांच्या गटात खालीलपैकी कोणते अक्षर उजवीकडून चौथे असेल?

- Ans  1. P  
 2. N  
 3. Q  
 4. G

Question Type : MCQ  
Question ID : 630680691800  
Option 1 ID : 6306802709648  
Option 2 ID : 6306802709647  
Option 3 ID : 6306802709649  
Option 4 ID : 6306802709646  
Status : Answered  
Chosen Option : 3  
Marks : 0

Q.3 BUXOMER या शब्दामधील प्रत्येक अक्षराची मांडणी इंग्रजी वर्णमाला क्रमानुसार केल्यास किती अक्षरांची स्थान/ने अपरिवर्तित राहतील?

- Ans  1. एक  
 2. चार  
 3. तीन  
 4. दोन

Question Type : MCQ  
Question ID : 630680896699  
Option 1 ID : 6306803512766  
Option 2 ID : 6306803512763  
Option 3 ID : 6306803512764  
Option 4 ID : 6306803512765  
Status : Answered  
Chosen Option : 4  
Marks : 2

Q.4 इंग्रजी वर्णमालेनुसार, खालील चारपैकी तीन अक्षर-समूह एका विशिष्ट प्रकारचे असल्याने एक गट तयार होतो. कोणता अक्षर-समूह त्या गटाशी संबंधित नाही?

(टीप: हे वेगळेपण व्यंजन/स्वरांच्या संख्येवर किंवा अक्षर-समूहातील मधील त्यांच्या स्थानावर आधारित नाही.)

- Ans  1. RS - PO  
 2. LM - IH  
 3. TU - QP  
 4. FG - CB

Question Type : MCQ  
Question ID : 630680884433  
Option 1 ID : 6306803463638  
Option 2 ID : 6306803463639  
Option 3 ID : 6306803463640  
Option 4 ID : 6306803463637  
Status : Answered  
Chosen Option : 2  
Marks : 0

Q.5 खालील मालिकेत, फक्त एकच अक्षर-समूह चुकीचा आहे. चुकीचा अक्षर-समूह निवडा.

IBG KDI MFK OHN QJO SLQ

- Ans  1. OHN  
 2. IBG  
 3. MFK  
 4. KDI

Question Type : MCQ

Question ID : 630680670022

Option 1 ID : 6306802623632

Option 2 ID : 6306802623633

Option 3 ID : 6306802623635

Option 4 ID : 6306802623634

Status : Answered

Chosen Option : 1

Marks : 2

Q.6 खाली दिलेल्या शब्द-जोडीमध्ये जो संबंध आहे त्याप्रमाणे संबंध असणारी शब्द-जोडी निवडा.

(दिलेले शब्द अर्थपूर्ण इंग्रजी शब्द मानावेत आणि त्यातील अक्षरे/व्यंजन/स्वरांची संख्या यांच्या आधारे त्यांचा संबंध जोडू नये.)

अफगाणिस्थान : काबुल

- Ans  1. आयरलँड : टोक्यो  
 2. लीबया : सेऊल  
 3. बेल्जियम : विएना  
 4. कॅनडा : ओट्टावा

Question Type : MCQ

Question ID : 630680465375

Option 1 ID : 6306801817536

Option 2 ID : 6306801817535

Option 3 ID : 6306801817538

Option 4 ID : 6306801817537

Status : Answered

Chosen Option : 4

Marks : 2

Q.7 या प्रश्नात एकमेकांशी विशिष्ट संबंध असलेल्या शब्दांची जोडी दिली आहे. समान संबंध असलेली जोडी निवडा.

मटण : बकरी

- Ans  1. चिकन : मेंढी  
 2. पोर्क : बदक  
 3. बिफ : गाय  
 4. स्टीर : डुक्कर

Question Type : MCQ

Question ID : 630680600244

Option 1 ID : 6306802348723

Option 2 ID : 6306802348724

Option 3 ID : 6306802348722

Option 4 ID : 6306802348725

Status : Answered

Chosen Option : 3

Marks : 2

**Answer Key of WCD Recruitment Exam 10th 11th 12th 13th 17th Feb 2025 for  
Objection Handling Purpose only**

Participant ID	
Participant Name	
Test Center Name	
Test Date	17/02/2025
Test Time	1:00 PM - 3:00 PM
Subject	Senior Clerk
Registration Photo	
Application photograph	

Section : Marathi 1a

Q.1 अंबुद या शब्दाचा समानार्थी शब्द कोणता?

- Ans  1. ढग  
 2. ढ  
 3. ढोंग  
 4. ढेकून

Question Type : MCQ

Question ID : 6306801367095

Option 1 ID : 6306805381699

Option 2 ID : 6306805381697

Option 3 ID : 6306805381700

Option 4 ID : 6306805381698

Status : Answered

Chosen Option : 1

Marks : 2

Q.2 'धोपट' या शब्दाचा विरुद्धार्थी शब्द कोणता?

- Ans  1. सरळ  
 2. वक्र  
 3. मंद  
 4. चढ

Question Type : MCQ

Question ID : 6306801363169

Option 1 ID : 6306805366362

Option 2 ID : 6306805366361

Option 3 ID : 6306805366363

Option 4 ID : 6306805366364

Status : Answered

Chosen Option : 2

Marks : 2

Q.3 पुढे दिलेल्या वाक्याचा काळ कोणता ?  
सानवी अभ्यास करत असते.

- Ans  1. पूर्ण वर्तमानकाळ  
 2. रिती भविष्यकाळ  
 3. साधा वर्तमानकाळ  
 4. रिती वर्तमानकाळ

Question Type : MCQ

Question ID : 6306801365716

Option 1 ID : 6306805376377

Option 2 ID : 6306805376378

Option 3 ID : 6306805376376

Option 4 ID : 6306805376375

Status : Answered

Chosen Option : 4

Marks : 2

Q.4 पुढे दिलेल्या शब्दाचा ध्वनीदर्शक शब्द सांगा .  
कोकिलेचे -

- Ans  1. कुंजन  
 2. केकावली  
 3. गुंजारव  
 4. रेकने

Question Type : MCQ

Question ID : 6306801368920

Option 1 ID : 6306805388858

Option 2 ID : 6306805388859

Option 3 ID : 6306805388860

Option 4 ID : 6306805388861

Status : Answered

Chosen Option : 1

Marks : 2

Q.5 'सर्वाना समज दिली जाईल.' या विधानाचा प्रयोग ओळखा.

- Ans  1. भावे प्रयोग  
 2. समापन कर्मणी  
 3. नवीन कर्मणी प्रयोग  
 4. संकर प्रयोग

Question Type : MCQ  
Question ID : 6306801374163  
Option 1 ID : 6306805409945  
Option 2 ID : 6306805409948  
Option 3 ID : 6306805409946  
Option 4 ID : 6306805409947  
Status : Answered  
Chosen Option : 3  
Marks : 0

Q.6 पुढे दिलेल्या शब्दाचा अचूक अर्थ कोणता ?  
बोलघेवडा -

- Ans  1. ढोंगी व्यक्ती  
 2. वाचाळ  
 3. विद्वान मनुष्य  
 4. स्पष्टवक्ता

Question Type : MCQ  
Question ID : 6306801365649  
Option 1 ID : 6306805376103  
Option 2 ID : 6306805376104  
Option 3 ID : 6306805376105  
Option 4 ID : 6306805376106  
Status : Answered  
Chosen Option : 2  
Marks : 2

Q.7 'आपण चांगले वागलो तर समाज चांगला वागेल', या वाक्यातील आपण हा शब्द कोणत्या सर्वनामाच्या प्रकारात येतो?

- Ans  1. संबंधी सर्वनाम  
 2. पुरुषवाचक सर्वनाम  
 3. दर्शक सर्वनाम  
 4. आत्मवाचक सर्वनाम

Question Type : MCQ  
Question ID : 6306801367136  
Option 1 ID : 6306805381860  
Option 2 ID : 6306805381857  
Option 3 ID : 6306805381859  
Option 4 ID : 6306805381858  
Status : Answered  
Chosen Option : 4  
Marks : 2

Q.1 Select the most appropriate adverb to fill the blank.

After the meeting ended abruptly, Helen \_\_\_\_\_ returned to her desk to finish the report.

- Ans
- 1. radically
  - 2. intrudingly
  - 3. reluctantly
  - 4. froggishly

Question Type : MCQ  
Question ID : 6306801238201  
Option 1 ID : 6306804868538  
Option 2 ID : 6306804868536  
Option 3 ID : 6306804868539  
Option 4 ID : 6306804868537  
Status : Answered  
Chosen Option : 3  
Marks : 2

Q.2 Select the most appropriate option to complete the sentence.

Could you please give me \_\_\_\_\_?

- Ans
- 1. little money
  - 2. few money
  - 3. some money
  - 4. a few money

Question Type : MCQ  
Question ID : 6306801381048  
Option 1 ID : 6306805437476  
Option 2 ID : 6306805437474  
Option 3 ID : 6306805437475  
Option 4 ID : 6306805437477  
Status : Answered  
Chosen Option : 2  
Marks : 0

Q.3 Select the most appropriate adverb to fill the blank.

Although the book was \_\_\_\_\_ confusing, it steadily became clearer.

- Ans
- 1. initially
  - 2. rapidly
  - 3. instantly
  - 4. illicitly

Question Type : MCQ  
Question ID : 6306801238204  
Option 1 ID : 6306804868548  
Option 2 ID : 6306804868550  
Option 3 ID : 6306804868549  
Option 4 ID : 6306804868551  
Status : Answered  
Chosen Option : 1  
Marks : 2

Q.4 Select the most appropriate option to complete the sentence.

We have \_\_\_\_\_.

- Ans  1. little or anything to say  
 2. little or seldom to say  
 3. little or nothing to say  
 4. little or never to say

Question Type : MCQ

Question ID : 6306801381049

Option 1 ID : 6306805437478

Option 2 ID : 6306805437479

Option 3 ID : 6306805437481

Option 4 ID : 6306805437480

Status : Answered

Chosen Option : 2

Marks : 0

Q.5 Rectify the sentence by selecting the most appropriate option.

The teacher explain the lesson clearly every day.

- Ans  1. explaining  
 2. explained  
 3. explains  
 4. will explains

Question Type : MCQ

Question ID : 6306801071449

Option 1 ID : 6306804208036

Option 2 ID : 6306804208034

Option 3 ID : 6306804208033

Option 4 ID : 6306804208035

Status : Answered

Chosen Option : 3

Marks : 2

Q.6 The given sentence contains an error. Select the part that contains the error from the given options. If you don't find any error, mark 'No error' as your answer.

Despite the smartphone being sleeker in design, its battery life was the worse of all the other models reviewed.

- Ans  1. the worse of all the other models reviewed  
 2. Despite the smartphone being  
 3. No error  
 4. sleeker in design, its battery life was

Question Type : MCQ

Question ID : 6306801072963

Option 1 ID : 6306804214002

Option 2 ID : 6306804214000

Option 3 ID : 6306804214003

Option 4 ID : 6306804214001

Status : Answered

Chosen Option : 1

Marks : 2



Q.1 18 सप्टेंबर 2024 रोजी वित्त मंत्रालयाने अल्पवयीन मुलांसाठी लवकर निवृत्तीच्या बचतीला प्रोत्साहन देण्यासाठी खालीलपैकी कोणती योजना सुरू केली होती?

- Ans  1. बालिका समृद्धी योजना  
 2. NPS-वात्सल्य  
 3. सुकन्या समृद्धी योजना  
 4. प्रधानमंत्री जन धन योजना

Question Type : MCQ  
Question ID : 6306801361323  
Option 1 ID : 6306805359033  
Option 2 ID : 6306805359034  
Option 3 ID : 6306805359031  
Option 4 ID : 6306805359032  
Status : Answered  
Chosen Option : 2  
Marks : 2

Q.2 स्वच्छ सर्वेक्षण पुरस्कार 2023 मध्ये खालीलपैकी कोणत्या शहराने अव्वल स्थान पटकावले?

- Ans  1. भोपाळ आणि जयपूर  
 2. इंदूर आणि भोपाळ  
 3. सुरत आणि इंदूर  
 4. आग्रा आणि कानपूर

Question Type : MCQ  
Question ID : 6306801194448  
Option 1 ID : 6306804696413  
Option 2 ID : 6306804696412  
Option 3 ID : 6306804696411  
Option 4 ID : 6306804696410  
Status : Answered  
Chosen Option : 3  
Marks : 2

Q.3 2024 च्या कोणत्या महिन्यात भारत सरकारने (GOI) लोकसभेत आपत्ती व्यवस्थापन (सुधारणा) विधेयक सादर केले?

- Ans  1. मार्च  
 2. सप्टेंबर  
 3. ऑगस्ट  
 4. जून

Question Type : MCQ  
Question ID : 6306801163096  
Option 1 ID : 6306804571667  
Option 2 ID : 6306804571670  
Option 3 ID : 6306804571669  
Option 4 ID : 6306804571668  
Status : Answered  
Chosen Option : 2  
Marks : 0

Q.4 राष्ट्रीय शैक्षणिक धोरण- 2020 च्या शिफारशीच्या अनुषंगाने खालीलपैकी कोणती केंद्र पुरस्कृत योजना 2021-2022 पासून 2025-2026 पर्यंत वाढवण्यात आली आहे?

- Ans  1. समग्र शिक्षा योजना  
 2. सर्व शिक्षा अभियान  
 3. शिक्षक शिक्षण  
 4. राष्ट्रीय माध्यमिक शिक्षा अभियान

Question Type : MCQ  
Question ID : 630680862512  
Option 1 ID : 6306803377899  
Option 2 ID : 6306803377900  
Option 3 ID : 6306803377902  
Option 4 ID : 6306803377901  
Status : Answered  
Chosen Option : 2  
Marks : 0

Q.5 शालेय शिक्षण आणि साक्षरता विभागाने सुरू केलेल्या खालीलपैकी कोणत्या कार्यक्रमाचा उद्देश एकात्मिक शिक्षक प्रशिक्षण कार्यक्रमाद्वारे प्राथमिक स्तरावर शिकण्याचे परिणाम वाढवणे आहे?

- Ans  1. परख (PARAKH)  
 2. न्यू इंडिया साक्षरता कार्यक्रम (New India Literacy Programme)  
 3. मनोदर्पण (Manodarpan)  
 4. निष्ठा (NISHTHA)

Question Type : MCQ  
Question ID : 630680862515  
Option 1 ID : 6306803377921  
Option 2 ID : 6306803377920  
Option 3 ID : 6306803377922  
Option 4 ID : 6306803377919  
Status : Answered  
Chosen Option : 2  
Marks : 0

Q.6 भारतातील पहिले ई-कचरा इको पार्क \_\_\_\_\_ मध्ये बांधण्याची घोषणा करण्यात आली होती.

- Ans  1. जयपूर  
 2. लखनौ  
 3. नवी दिल्ली  
 4. सुरत

Question Type : MCQ  
Question ID : 630680321186  
Option 1 ID : 6306801249458  
Option 2 ID : 6306801249460  
Option 3 ID : 6306801249459  
Option 4 ID : 6306801249457  
Status : Answered  
Chosen Option : 1  
Marks : 0

Q.1 खालीलपैकी कोणते अक्षर-समूह # आणि % च्या जागी आले पाहिजेत, जेणेकरून :: च्या डाव्या बाजूला असलेल्या अक्षर-समूह जोडीतील रचना आणि संबंध :: च्या उजव्या बाजूच्या अक्षर-समूहाशी तर्कसंगत होईल?

# : KHK :: OLO : %

Ans ✓ 1. # = HEH, % = ROR

✗ 2. # = HEG, % = QNQ

✗ 3. # = HGJ, % = ROR

✗ 4. # = HEH, % = RNS

Question Type : MCQ

Question ID : 630680857788

Option 1 ID : 6306803359678

Option 2 ID : 6306803359681

Option 3 ID : 6306803359680

Option 4 ID : 6306803359679

Status : Answered

Chosen Option : 1

Marks : 2

Q.2 दिलेल्या मालिकेत प्रश्नचिन्हाच्या (?) जागी काय येईल?

B2CD, ? \_\_\_\_\_, BCD4, B5CD, BC6D

Ans ✗ 1. B2C3D

✓ 2. BC3D

✗ 3. B2C2D

✗ 4. BCD7

Question Type : MCQ

Question ID : 6306801381540

Option 1 ID : 6306805439430

Option 2 ID : 6306805439429

Option 3 ID : 6306805439428

Option 4 ID : 6306805439431

Status : Answered

Chosen Option : 2

Marks : 2

Q.3 दिलेल्या मालिकेत प्रश्नचिन्हाच्या (?) जागी काय येईल?

3, 6, 12, 24, 48, ?

Ans ✗ 1. 92

✓ 2. 96

✗ 3. 102

✗ 4. 84

Question Type : MCQ

Question ID : 6306801381539

Option 1 ID : 6306805439425

Option 2 ID : 6306805439426

Option 3 ID : 6306805439427

Option 4 ID : 6306805439424

Status : Answered

Chosen Option : 2

Marks : 2

Q.4 खालील मालिकेचा संदर्भ घ्या आणि पुढील प्रश्नाचे उत्तर द्या (सर्व संख्या केवळ एक अंकी संख्या आहेत).

(डावीकडून) 3 6 2 1 5 7 3 5 7 9 8 5 6 9 7 4 5 2 4 7 8 4 3 4 2 1 (उजवीकडे)

असे किती विषम अंक आहेत, ज्यांच्या लगेचच आधी सम अंक आणि लगेचच नंतर विषम अंक येतो?

- Ans
- 1. तीन
  - 2. चार
  - 3. एक
  - 4. दोन

Question Type : MCQ  
Question ID : 630680929869  
Option 1 ID : 6306803644309  
Option 2 ID : 6306803644310  
Option 3 ID : 6306803644307  
Option 4 ID : 6306803644308  
Status : Answered  
Chosen Option : 4  
Marks : 2

Q.5 इंग्रजी वर्णक्रमावर आधारित रचनेनुसार, खालील चारपैकी अक्षर-समूहांच्या तीन जोड्यांमध्ये एका विशिष्ट तऱ्हेने साधर्म्य आहे आणि म्हणून ते एक गट तयार करतात. त्या गटात न बसणारी जोडी कोणती आहे?  
(सूचना: गटात न बसणारा अक्षरसमूह हा त्याच्या व्यंजन/स्वरांच्या संख्येवर किंवा अक्षर समूहातील त्याच्या स्थानावर आधारित नसावा.)

- Ans
- 1. ZI-CF
  - 2. YH-BD
  - 3. NW-QS
  - 4. GP-JL

Question Type : MCQ  
Question ID : 630680932792  
Option 1 ID : 6306803656007  
Option 2 ID : 6306803656006  
Option 3 ID : 6306803656008  
Option 4 ID : 6306803656009  
Status : Answered  
Chosen Option : 1  
Marks : 2

Q.6 इंग्रजी वर्णक्रमावर आधारित रचनेनुसार, खालील चार अक्षर-समूहांपैकी तीन अक्षर-समूहात एका विशिष्ट तऱ्हेने साधर्म्य आहे आणि म्हणून ते एक गट तयार करतात. त्या गटात न बसणारा अक्षरसमूह कोणता आहे?  
(सूचना: गटात न बसणारा अक्षरसमूह हा त्याच्या व्यंजन/स्वरांच्या संख्येवर किंवा अक्षर समूहातील त्याच्या स्थानावर आधारित नसावा.)

- Ans
- 1. ORYD
  - 2. JNTY
  - 3. NQXC
  - 4. EHOT

Question Type : MCQ  
Question ID : 630680933267  
Option 1 ID : 6306803657918  
Option 2 ID : 6306803657919  
Option 3 ID : 6306803657921  
Option 4 ID : 6306803657920  
Status : Answered  
Chosen Option : 2  
Marks : 2

Q.1 आहे ताजमहाल एक जगती तो तोच त्याच्यापरी। ह्या ओळीचा अलंकार ओळखा .

- Ans
- 1. अतिशयोक्ती
  - 2. अपन्हुती
  - 3. अर्थान्तरन्यास
  - 4. अनन्वय

Question Type : MCQ

Question ID : 6306801367046

Option 1 ID : 6306805381504

Option 2 ID : 6306805381503

Option 3 ID : 6306805381502

Option 4 ID : 6306805381501

Status : Answered

Chosen Option : 4

Marks : 2

Q.2 देवाश्रित या शब्दाचा समास ओळखा.

- Ans
- 1. द्वंद्व समास
  - 2. अव्ययीभाव समास
  - 3. बहुव्रीही समास
  - 4. तत्पुरुष समास

Question Type : MCQ

Question ID : 6306801370321

Option 1 ID : 6306805394477

Option 2 ID : 6306805394475

Option 3 ID : 6306805394478

Option 4 ID : 6306805394476

Status : Answered

Chosen Option : 4

Marks : 2

Q.3 पुढील शब्दातील अनेकवचनी रूप ओळखा.

- Ans
- 1. वेळ
  - 2. वेळेला
  - 3. वेळी
  - 4. वेळा

Question Type : MCQ

Question ID : 6306801377156

Option 1 ID : 6306805422026

Option 2 ID : 6306805422029

Option 3 ID : 6306805422028

Option 4 ID : 6306805422027

Status : Answered

Chosen Option : 1

Marks : 0

Q.4 दिलेल्या वाक्यातील उद्देश कोणते?

आपले सैनिक देशाच्या सीमेवरती आपले रक्षण करीत असतात.

Ans  1. सैनिक

2. आपले रक्षण करीत

3. देशाच्या सीमेवरती

4. असतात

Question Type : MCQ

Question ID : 6306801368305

Option 1 ID : 6306805386476

Option 2 ID : 6306805386479

Option 3 ID : 6306805386477

Option 4 ID : 6306805386478

Status : Answered

Chosen Option : 1

Marks : 2

Q.5 पुढे दिलेल्या एकवचनी नामाचे अनेकवचनी रूप लिहा.  
तोंडले -

Ans  1. तोंडली

2. तोंडले

3. तोंडल

4. तोंडल्या

Question Type : MCQ

Question ID : 6306801368459

Option 1 ID : 6306805387065

Option 2 ID : 6306805387068

Option 3 ID : 6306805387067

Option 4 ID : 6306805387066

Status : Answered

Chosen Option : 2

Marks : 0

Q.6 शक्तिमती या शब्दाचे पुल्लिंगी रूप कोणते?

Ans  1. शक्तिमान

2. शक्तिमत

3. शक्तिमाता

4. शक्तिवान

Question Type : MCQ

Question ID : 6306801377153

Option 1 ID : 6306805422014

Option 2 ID : 6306805422015

Option 3 ID : 6306805422017

Option 4 ID : 6306805422016

Status : Answered

Chosen Option : 1

Marks : 2

Q.1 The following sentence has been divided into three parts. Identify the part that contains an error. If there is no error, then select 'No Error'.

Despite his friends / moved to a new school, / he continued in the old one.

- Ans  1. moved to a new school,  
 2. Despite his friends  
 3. he continued in the old one.  
 4. No error

Question Type : MCQ  
Question ID : 6306801381058  
Option 1 ID : 6306805437515  
Option 2 ID : 6306805437514  
Option 3 ID : 6306805437516  
Option 4 ID : 6306805437517  
Status : Answered  
Chosen Option : 2  
Marks : 0

Q.2 Select the most appropriate idiom to fill in the blank.

I know you're angry, but please \_\_\_\_\_ until we're out of here.

- Ans  1. cut to the chase  
 2. hold your tongue  
 3. hold your own  
 4. hit the nail on the head

Question Type : MCQ  
Question ID : 630680461419  
Option 1 ID : 6306801801928  
Option 2 ID : 6306801801926  
Option 3 ID : 6306801801927  
Option 4 ID : 6306801801929  
Status : Answered  
Chosen Option : 2  
Marks : 2

Q.3 Sentences of a paragraph are given below in jumbled order. Arrange the sentences in the correct order to form a meaningful and coherent paragraph.

- A. Consequently, in the afterlife, the heart would be weighed against the feather of Ma'at, the goddess of truth, with a heavy heart symbolising a life lacking virtue.  
B. Ancient Egyptians revered the physical heart as a vessel for the spirit, identity, and the immortal soul.  
C. The Incas also believed the beating heart was the source of human vitality and viewed it as the holder of the 'way away' or the living energy of the wind, which they considered the source of all emotional and spiritual life.  
D. Furthermore, this belief in the heart's eternal significance is reflected in their mummification practice, where it was preserved within the body.

- Ans  1. BACD  
 2. BDCA  
 3. BDAC  
 4. BADC

Question Type : MCQ  
Question ID : 6306801296404  
Option 1 ID : 6306805100282  
Option 2 ID : 6306805100283  
Option 3 ID : 6306805100281  
Option 4 ID : 6306805100280  
Status : Answered  
Chosen Option : 4  
Marks : 0

Q.4 Sentences of a paragraph are given below in jumbled order. Select the option that arranges the sentences in the correct sequence to form a meaningful and coherent paragraph.

P. In Finland, Europe's most forested country, more than 75 per cent of the country is covered by trees.

Q. Forests out there are open around the clock and free to everyone, as long as they behave respectfully.

R. Though I grew up near fantastic forests and nature on the west coast of Canada, I didn't fully appreciate the restorative power of the woods until I moved to Finland.

S. One of the best places to release stress and even deal with trauma is in nature.

Ans  1. SQPR

2. QPSR

3. SRPQ

4. QRSP

Question Type : MCQ

Question ID : 6306801381062

Option 1 ID : 6306805437533

Option 2 ID : 6306805437532

Option 3 ID : 6306805437531

Option 4 ID : 6306805437530

Status : Answered

Chosen Option : 2

Marks : 0

Q.5 Select the most appropriate synonym of the underlined word in the following sentence.

The proposition to sell the company seemed ludicrous.

Ans  1. Bizarre

2. Congruous

3. Solemn

4. Consistent

Question Type : MCQ

Question ID : 6306801381077

Option 1 ID : 6306805437593

Option 2 ID : 6306805437590

Option 3 ID : 6306805437591

Option 4 ID : 6306805437592

Status : Answered

Chosen Option : 3

Marks : 0



Q.6 Select the most appropriate adverb to fill the blank.

Arunima worked vigorously on the project, even though she knew it would only be \_\_\_\_\_ cherished.

- Ans  1. brashly  
 2. hardly  
 3. noisily  
 4. wildly

Question Type : MCQ  
Question ID : 6306801238199  
Option 1 ID : 6306804868531  
Option 2 ID : 6306804868530  
Option 3 ID : 6306804868529  
Option 4 ID : 6306804868528  
Status : Answered  
Chosen Option : 2  
Marks : 2

Q.7 Select the most appropriate adverb to fill the blank.

The manager hurriedly gathered the files, knowing that the client would arrive \_\_\_\_\_.

- Ans  1. imminently  
 2. irrevocably  
 3. measurably  
 4. proportionately

Question Type : MCQ  
Question ID : 6306801238206  
Option 1 ID : 6306804868558  
Option 2 ID : 6306804868557  
Option 3 ID : 6306804868559  
Option 4 ID : 6306804868556  
Status : Answered  
Chosen Option : 1  
Marks : 2

Section : General Knowledge 2a

Q.1 खालीलपैकी कोणत्या कायदानुसार बॉम्बे आणि मद्रास प्रांतांना पुन्हा स्वतःसाठी कायदे बनवण्याचा आणि त्यात सुधारणा करण्याचा अधिकार देण्यात आला?

- Ans  1. इंडियन काउन्सिल ऍक्ट, 1892  
 2. इंडियन काउन्सिल ऍक्ट, 1909  
 3. इंडियन काउन्सिल ऍक्ट, 1861  
 4. ऍक्ट ऑफ 1858

Question Type : MCQ  
Question ID : 630680685206  
Option 1 ID : 6306802683345  
Option 2 ID : 6306802683346  
Option 3 ID : 6306802683344  
Option 4 ID : 6306802683347  
Status : Answered  
Chosen Option : 1  
Marks : 0

Q.2 1857 च्या उठावादरम्यान मेरठच्या सैनिकांनी बंड कधी सुरू केले?

- Ans  1. 30 मे 1857  
 2. 31 मे 1857  
 3. 11 मे 1857  
 4. 10 मे 1857

Question Type : MCQ

Question ID : 6306801245928

Option 1 ID : 6306804898150

Option 2 ID : 6306804898151

Option 3 ID : 6306804898153

Option 4 ID : 6306804898152

Status : Answered

Chosen Option : 4

Marks : 2

Q.3 Which of the following functions do antioxidants serve within the body?

- Ans  1. Boosting the immune system  
 2. Promoting blood clotting  
 3. Enhancing muscle growth  
 4. Preventing oxidative damage to cells

Question Type : MCQ

Question ID : 630680709014

Option 1 ID : 630680277742

Option 2 ID : 630680277743

Option 3 ID : 630680277741

Option 4 ID : 630680277744

Status : Answered

Chosen Option : 4

Marks : 2

Q.4 मार्च 2024 मध्ये, भारतीय पुरातत्व सर्वेक्षण (ASI) ने \_\_\_\_\_ केंद्रीय संरक्षित स्मारकांना राष्ट्रीय महत्त्व नसल्यामुळे यादीतून वगळण्याचा निर्णय घेतला आहे.

- Ans  1. 18  
 2. 26  
 3. 35  
 4. 12

Question Type : MCQ

Question ID : 630680791878

Option 1 ID : 6306803103164

Option 2 ID : 6306803103166

Option 3 ID : 6306803103167

Option 4 ID : 6306803103165

Status : Answered

Chosen Option : 1

Marks : 2

Q.5 कानपूर शहरात 1857 च्या उठावाचे नेतृत्व कोणी केले ?

- Ans  1. मंगल पांडे  
 2. नाना साहेब  
 3. बहादूर शाह  
 4. अहमद शाह

Question Type : MCQ

Question ID : 6306801383118

Option 1 ID : 6306805445694

Option 2 ID : 6306805445695

Option 3 ID : 6306805445693

Option 4 ID : 6306805445696

Status : Answered

Chosen Option : 2

Marks : 2

Q.6 1919 च्या कायदानुसार केंद्रीय कायदेमंडळाच्या सदस्यांचा कार्यकाळ \_\_\_\_\_ वर्षे होता.

- Ans  1. 5  
 2. 3  
 3. 2  
 4. 7

Question Type : MCQ

Question ID : 630680811586

Option 1 ID : 6306803179757

Option 2 ID : 6306803179758

Option 3 ID : 6306803179759

Option 4 ID : 6306803179760

Status : Answered

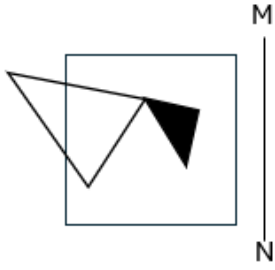
Chosen Option : 1

Marks : 0

Section : Aptitude Test 2a

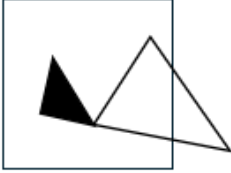
Lakshyaa MPSC

Q.1 खाली दाखवल्याप्रमाणे आरसा MN वर ठेवल्यावर दिलेल्या आकृतीची आरशातील योग्य प्रतिमा निवडा.



Ans

✗ 1.



✓ 2.



✗ 3.



✗ 4.



LakshyaaMPSC

Question Type : MCQ

Question ID : 6306801234957

Option 1 ID : 6306804855943

Option 2 ID : 6306804855942

Option 3 ID : 6306804855944

Option 4 ID : 6306804855945

Status : Answered

Chosen Option : 2

Marks : 2

Lakshyaa MPSC

Q.2 खालील मालिकेत प्रश्नचिन्हाच्या (?) जागी येऊ शकणारा अक्षर-समूह दिलेल्या पर्यायांतून निवडा.

LHD FBX ZVR TPL ?

- Ans  1. NJF  
 2. FNJ  
 3. NFG  
 4. FJN

Question Type : MCQ

Question ID : 630680886861

Option 1 ID : 6306803473172

Option 2 ID : 6306803473175

Option 3 ID : 6306803473173

Option 4 ID : 6306803473174

Status : Answered

Chosen Option : 1

Marks : 2

Q.3 A, B, C, F, H, J आणि K या प्रत्येकाची एकाच आठवड्यातील सोमवारी सुरु होऊन रविवारी संपणाऱ्या एकाच आठवड्याच्या वेगवेगळ्या दिवशी परीक्षा आहे. H च्या अगदी आधी दोन व्यक्तींची परीक्षा असते. H आणि F यांच्यामध्ये केवळ दोन व्यक्तींची परीक्षा असते. B च्या लगेचच नंतर C ची परीक्षा असते. J आणि K यांच्यामध्ये केवळ दोन व्यक्तींची परीक्षा असते. A च्या लगेचच नंतर कोणाची परीक्षा असते?

- Ans  1. C  
 2. J  
 3. F  
 4. K

Question Type : MCQ

Question ID : 630680959727

Option 1 ID : 6306803762794

Option 2 ID : 6306803762795

Option 3 ID : 6306803762793

Option 4 ID : 6306803762796

Status : Answered

Chosen Option : 3

Marks : 2

Q.4 हा प्रश्न खालील शब्दांवर आधारित आहे.

PACK FOLK BURN MINK

प्रत्येक शब्दाचे पहिले अक्षर इंग्रजी वर्णमालेतील त्याच्या लगतच आधीच्या अक्षराने बदलले, तर अशा प्रकारे तयार होणाऱ्या किती शब्दांमध्ये किमान दोन स्वर असतील?

- Ans  1. चार  
 2. दोन  
 3. तीन  
 4. एक

Question Type : MCQ

Question ID : 6306801084972

Option 1 ID : 6306804261393

Option 2 ID : 6306804261395

Option 3 ID : 6306804261392

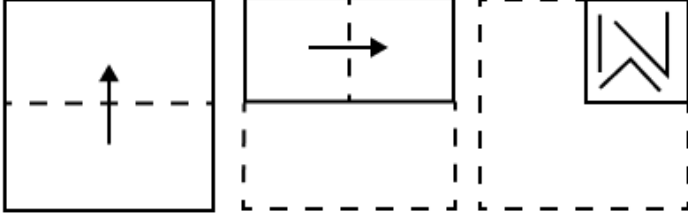
Option 4 ID : 6306804261394

Status : Answered

Chosen Option : 3

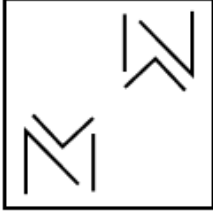
Marks : 2

Q.5 कागदाचा चौकोनी तुकडा दिलेल्या बिंदूरेषेवर खाली दर्शवलेल्या दिशेनुसार क्रमाने दुमडला आणि शेवटी दुमडल्यानंतर आकृतीत दाखवल्याप्रमाणे छिद्र पाडले. तर तो कागद उघडल्यावर कसा दिसेल?



Ans

✗ 1.



✓ 2.



✗ 3.



✗ 4.



Lakshyaa MPSC

Question Type : MCQ

Question ID : 6306801129266

Option 1 ID : 6306804437256

Option 2 ID : 6306804437255

Option 3 ID : 6306804437254

Option 4 ID : 6306804437257

Status : Answered

Chosen Option : 2

Marks : 2

Q.6 ज्याप्रकारे दुसरा शब्द पहिल्या शब्दाशी संबंधित आहे, त्याचप्रकारे तिसऱ्या शब्दाशी संबंधित असलेला पर्याय निवडा.  
पुस्तक : वाचणे :: चित्रपट : ?

- Ans
- 1. रंगवणे
  - 2. कृती करणे
  - 3. लिहिणे
  - 4. पाहणे

Question Type : MCQ

Question ID : 6306801381543

Option 1 ID : 6306805439443

Option 2 ID : 6306805439441

Option 3 ID : 6306805439442

Option 4 ID : 6306805439440

Status : Answered

Chosen Option : 4

Marks : 2

Section : Marathi 3a

**Comprehension:**

खालील उतान्यावरील प्रश्नांची योग्य उत्तरे निवडा.

ज्ञानेश्वरांचा जन्म इ.स. १२७५ मध्ये झाला. त्यांचा जन्म कुठे झाला याविषयी मतभेद आहेत. आळंदी की आपेगाव याविषयी निश्चित माहिती नाही. त्यांच्या वडिलांचे नाव विठ्ठलपंत आणि आईचे नाव रुक्मिणीबाई. विठ्ठल पंतांनी विवाह नंतर संन्यास घेतला. ते विवाहित आहेत हे गुरूंना कळल्यावर त्यांनी त्यांना परत गृहस्थाश्रम स्वीकारण्याची आज्ञा केली. गृहस्थाश्रमात परतल्यावर त्या दांपत्याला निवृत्ती, ज्ञानदेव, सोपान आणि मुक्ताबाई अशी चार अपत्ये झाली. विठ्ठलपंतांनी संन्यास घेतल्यानंतर परत गृहस्थाश्रमात यावे हे तत्कालीन धर्मशास्त्र पारंगताना मान्य झाले नाही. त्यांनी विठ्ठलपंत व त्यांची मुले यांना वाळीत टाकले व मुलांच्या मुंजी करण्यास नकार दिला. सनातनी लोकांकडून होणाऱ्या या त्रासापासून आपल्या मुलांची सुटका व्हावी म्हणून विठ्ठलपंत व रुक्मिणीबाई यांनी देहांत प्रायश्चित्त घेतले. तरीदेखील समाजाने त्या मुलांना संन्याशाची पोरं म्हणून त्रास दिला. अन्न आणि पाणी यासारख्या मूलभूत गोष्टी नाकारण्यात आल्या. पुढे ही भावंडे पैठणला गेली आणि तेथे ज्ञानेश्वरांनी आपली विद्वत्ता सिद्ध केली. संत ज्ञानेश्वरांनी अत्यंत रसाळ भाषेत शब्दरचना केली आहे. भिक्षा मागून ते आपला जीवन निर्वाह करीत असत. भिक्षा मागणाऱ्या या भाऊ बहिणींची कुशाग्र बुद्धी व शास्त्र ज्ञान पाहून पैठणमधील ब्राह्मण दुःखी होत असत. त्यांनी विचार केला की "आईवडिलांच्या अपराधाचे दंड मुलांना देणे अन्याय पूर्ण आहे." शेवटी 1288 साली पैठण मधील ब्राह्मणांनी चारही भाऊ बहिणींना शुद्ध करून पुनः समाजात सम्मिलित केले.

SubQuestion No : 1

Q.1 समाजाने मुलांना कोणता त्रास दिला.?

- Ans
- 1. संन्यासी म्हणून
  - 2. आळशी मुलं म्हणून
  - 3. हिनवले जाऊन
  - 4. संन्यासाची पोरं म्हणून

Question Type : MCQ

Question ID : 6306801368873

Option 1 ID : 6306805388683

Option 2 ID : 6306805388684

Option 3 ID : 6306805388685

Option 4 ID : 6306805388682

Status : Answered

Chosen Option : 4

Marks : 2

**Comprehension:**

खालील उताऱ्यावरील प्रश्नांची योग्य उत्तरे निवडा.

ज्ञानेश्वरांचा जन्म इ.स. १२७५ मध्ये झाला. त्यांचा जन्म कुठे झाला याविषयी मतभेद आहेत. आळंदी की आपेगाव याविषयी निश्चित माहिती नाही. त्यांच्या वडिलांचे नाव विठ्ठलपंत आणि आईचे नाव रुक्मिणीबाई. विठ्ठलपंतांनी विवाह नंतर संन्यास घेतला. ते विवाहित आहेत हे गुरुंना कळल्यावर त्यांनी त्यांना परत गृहस्थाश्रम स्वीकारण्याची आज्ञा केली. गृहस्थाश्रमात परतल्यावर त्या दांपत्याला निवृत्ती, ज्ञानदेव, सोपान आणि मुक्ताबाई अशी चार अपत्ये झाली. विठ्ठलपंतांनी संन्यास घेतल्यानंतर परत गृहस्थाश्रमात यावे हे तत्कालीन धर्मशास्त्र पारंगताना मान्य झाले नाही. त्यांनी विठ्ठलपंत व त्यांची मुले यांना वाळीत टाकले व मुलांच्या मुंजी करण्यास नकार दिला. सनातनी लोकांकडून होणाऱ्या या त्रासापासून आपल्या मुलांची सुटका व्हावी म्हणून विठ्ठलपंत व रुक्मिणीबाई यांनी देहांत प्रायश्चित्त घेतले. तरीदेखील समाजाने त्या मुलांना संन्याशाची पोरं म्हणून त्रास दिला. अन्न आणि पाणी यासारख्या मूलभूत गोष्टी नाकारण्यात आल्या. पुढे ही भावंडे पैठणला गेली आणि तेथे ज्ञानेश्वरांनी आपली विद्वत्ता सिद्ध केली. संत ज्ञानेश्वरांनी अत्यंत रसाळ भाषेत शब्दरचना केली आहे. भिक्षा मागून ते आपला जीवन निर्वाह करीत असत. भिक्षा मागणाऱ्या या भाऊ बहिणींची कुशाग्र बुद्धी व शास्त्र ज्ञान पाहून पैठणमधील ब्राह्मण दुःखी होत असत. त्यांनी विचार केला की "आईवडिलांच्या अपराधाचे दंड मुलांना देणे अन्याय पूर्ण आहे." शेवटी 1288 साली पैठण मधील ब्राह्मणांनी चारही भाऊ बहिणींना शुद्ध करून पुनः समाजात सामिलित केले.

**SubQuestion No : 2****Q.2 ज्ञानेश्वरांचा जन्म कोणत्या साली झाला.?**

- Ans  1. १२७५  
 2. १३६०  
 3. १२६०  
 4. १३७५

Question Type : MCQ

Question ID : 6306801368872

Option 1 ID : 6306805388678

Option 2 ID : 6306805388681

Option 3 ID : 6306805388679

Option 4 ID : 6306805388680

Status : Answered

Chosen Option : 1

Marks : 2

**Comprehension:**

खालील उताऱ्यावरील प्रश्नांची योग्य उत्तरे निवडा.

ज्ञानेश्वरांचा जन्म इ.स. १२७५ मध्ये झाला. त्यांचा जन्म कुठे झाला याविषयी मतभेद आहेत. आळंदी की आपेगाव याविषयी निश्चित माहिती नाही. त्यांच्या वडिलांचे नाव विठ्ठलपंत आणि आईचे नाव रुक्मिणीबाई. विठ्ठलपंतांनी विवाह नंतर संन्यास घेतला. ते विवाहित आहेत हे गुरुंना कळल्यावर त्यांनी त्यांना परत गृहस्थाश्रम स्वीकारण्याची आज्ञा केली. गृहस्थाश्रमात परतल्यावर त्या दांपत्याला निवृत्ती, ज्ञानदेव, सोपान आणि मुक्ताबाई अशी चार अपत्ये झाली. विठ्ठलपंतांनी संन्यास घेतल्यानंतर परत गृहस्थाश्रमात यावे हे तत्कालीन धर्मशास्त्र पारंगताना मान्य झाले नाही. त्यांनी विठ्ठलपंत व त्यांची मुले यांना वाळीत टाकले व मुलांच्या मुंजी करण्यास नकार दिला. सनातनी लोकांकडून होणाऱ्या या त्रासापासून आपल्या मुलांची सुटका व्हावी म्हणून विठ्ठलपंत व रुक्मिणीबाई यांनी देहांत प्रायश्चित्त घेतले. तरीदेखील समाजाने त्या मुलांना संन्याशाची पोरं म्हणून त्रास दिला. अन्न आणि पाणी यासारख्या मूलभूत गोष्टी नाकारण्यात आल्या. पुढे ही भावंडे पैठणला गेली आणि तेथे ज्ञानेश्वरांनी आपली विद्वत्ता सिद्ध केली. संत ज्ञानेश्वरांनी अत्यंत रसाळ भाषेत शब्दरचना केली आहे. भिक्षा मागून ते आपला जीवन निर्वाह करीत असत. भिक्षा मागणाऱ्या या भाऊ बहिणींची कुशाग्र बुद्धी व शास्त्र ज्ञान पाहून पैठणमधील ब्राह्मण दुःखी होत असत. त्यांनी विचार केला की "आईवडिलांच्या अपराधाचे दंड मुलांना देणे अन्याय पूर्ण आहे." शेवटी 1288 साली पैठण मधील ब्राह्मणांनी चारही भाऊ बहिणींना शुद्ध करून पुनः समाजात सामिलित केले.

**SubQuestion No : 3****Q.3 गुरुंनी विठ्ठलपंतांना कोणती आज्ञा केली.?**

- Ans  1. गृहस्थाश्रम स्वीकारण्याची  
 2. संन्यास घेण्याची  
 3. देहांत प्रायश्चित्त घेण्याची  
 4. समाजात राहण्याची

Question Type : MCQ

Question ID : 6306801368874

Option 1 ID : 6306805388678

Option 2 ID : 6306805388686

Option 3 ID : 6306805388688

Option 4 ID : 6306805388689

Status : Answered

Chosen Option : 1

Marks : 2



**Comprehension:**

खालील उताऱ्यावरील प्रश्नांची योग्य उत्तरे निवडा.

ज्ञानेश्वरांचा जन्म इ.स. १२७५ मध्ये झाला. त्यांचा जन्म कुठे झाला याविषयी मतभेद आहेत. आळंदी की आपेगाव याविषयी निश्चित माहिती नाही. त्यांच्या वडिलांचे नाव विठ्ठलपंत आणि आईचे नाव रुक्मिणीबाई. विठ्ठलपंतांनी विवाह नंतर संन्यास घेतला. ते विवाहित आहेत हे गुरूंना कळल्यावर त्यांनी त्यांना परत गृहस्थाश्रम स्वीकारण्याची आज्ञा केली. गृहस्थाश्रमात परतल्यावर त्या दांपत्याला निवृत्ती, ज्ञानदेव, सोपान आणि मुक्ताबाई अशी चार अपत्ये झाली. विठ्ठलपंतांनी संन्यास घेतल्यानंतर परत गृहस्थाश्रमात यावे हे तत्कालीन धर्मशास्त्र पारंगताना मान्य झाले नाही. त्यांनी विठ्ठलपंत व त्यांची मुले यांना वाळीत टाकले व मुलांच्या मुंजी करण्यास नकार दिला. सनातनी लोकांकडून होणाऱ्या या त्रासापासून आपल्या मुलांची सुटका व्हावी म्हणून विठ्ठलपंत व रुक्मिणीबाई यांनी देहांत प्रायश्चित घेतले. तरीदेखील समाजाने त्या मुलांना संन्याशाची पोरं म्हणून त्रास दिला. अन्न आणि पाणी यासारख्या मूलभूत गोष्टी नाकारण्यात आल्या. पुढे ही भावंडे पैठणला गेली आणि तेथे ज्ञानेश्वरांनी आपली विद्वत्ता सिद्ध केली. संत ज्ञानेश्वरांनी अत्यंत रसाळ भाषेत शब्दरचना केली आहे. भिक्षा मागून ते आपला जीवन निर्वाह करीत असत. भिक्षा मागणाऱ्या या भाऊ बहिणींची कुशाग्र बुद्धी व शास्त्र ज्ञान पाहून पैठणमधील ब्राह्मण दुःखी होत असत. त्यांनी विचार केला की "आईवडिलांच्या अपराधाचे दंड मुलांना देणे अन्याय पूर्ण आहे." शेवटी 1288 साली पैठण मधील ब्राह्मणांनी चारही भाऊ बहिणींना शुद्ध करून पुनः समाजात सामिलित केले.

**SubQuestion No : 4****Q.4 पैठण मधील ब्राह्मण दुःखी का होत ?**

- Ans  1. अन्न आणि पाणी यासारख्या मूलभूत गोष्टी नाकारण्यात आल्या म्हणून
2. भाऊ बहिणींची कुशाग्र बुद्धी व शास्त्र ज्ञान पाहून
3. संन्याशाची पोरं म्हणून त्रास होत होता म्हणून
4. सनातनी लोकांकडून भावंडांना होणाऱ्या या त्रासामुळे

Question Type : MCQ

Question ID : 6306801368875

Option 1 ID : 6306805388692

Option 2 ID : 6306805388690

Option 3 ID : 6306805388691

Option 4 ID : 6306805388693

Status : Answered

Chosen Option : 2

Marks : 2

**Q.5 सुरु करणे या अर्थाचा वाक्यप्रचार ओळखा.**

- Ans  1. ऊहू करणे
2. ऊर दडपणे
3. ऊत येणे
4. ऊर बडवणे

Question Type : MCQ

Question ID : 6306801367028

Option 1 ID : 6306805381422

Option 2 ID : 6306805381424

Option 3 ID : 6306805381421

Option 4 ID : 6306805381423

Status : Answered

Chosen Option : 1

Marks : 2

Q.6 ज्वाला आणि फुले या काव्यसंग्रहाचे कवी ओळखा.

- Ans  1. समर्थ रामदास  
 2. वसंत बापट  
 3. वामन पंडित  
 4. बाबा आमटे

Question Type : MCQ  
Question ID : 6306801367008  
Option 1 ID : 6306805381343  
Option 2 ID : 6306805381342  
Option 3 ID : 6306805381341  
Option 4 ID : 6306805381344  
Status : Answered  
Chosen Option : 2  
Marks : 0

Section : English 3a

Q.1 Select the most appropriate synonym of the underlined word in the following sentence.

He is a formidable foe.

- Ans  1. Insignificant  
 2. Dreadful  
 3. Lethargic  
 4. Trivial

Question Type : MCQ  
Question ID : 6306801381076  
Option 1 ID : 6306805437588  
Option 2 ID : 6306805437586  
Option 3 ID : 6306805437587  
Option 4 ID : 6306805437589  
Status : Answered  
Chosen Option : 1  
Marks : 0

Q.2 Select the most appropriate ANTONYM of the underlined word in the given sentence.

The boss's response was concise, making the meeting more effective.

- Ans  1. Detailed  
 2. Compact  
 3. Brief  
 4. Crisp

Question Type : MCQ  
Question ID : 6306801082296  
Option 1 ID : 6306804250681  
Option 2 ID : 6306804250682  
Option 3 ID : 6306804250680  
Option 4 ID : 6306804250683  
Status : Answered  
Chosen Option : 1  
Marks : 2

Q.3 Select the correctly spelt sentence from the given options

- Ans  1. As Lahiti so eloquently puts it, the Harvard professor, philosopher, physician, and prolific writer had a lifelong quest.
2. As Lahiti so eloquently puts it, the Harvard professor, philosophar, physician, and prolefic writer had a lifelong quest.
3. As Lahiti so eloquently puts it, the Harvard professor, philosophar, phisician, and prolific writer had a lifelong quest.
4. As Lahiti so eloquintly puts it, the Harvard professor, philosophar, physician, and prolific writer had a lifelong quest.

Question Type : MCQ  
Question ID : 6306801381063  
Option 1 ID : 6306805437535  
Option 2 ID : 6306805437537  
Option 3 ID : 6306805437536  
Option 4 ID : 6306805437534  
Status : Answered  
Chosen Option : 1  
Marks : 2

Q.4 Select the most appropriate meaning of the underlined idiom in the context of the following paragraph.

The natives had been living on the island for ages. Their simple and happy life was turned upside down by the advent of the pirates who forcibly took over the governance and decided to rule the roost while hiding from the police.

- Ans  1. to spend time in eating and sleeping
2. to control and dominate
3. to kill innocent people
4. to enjoy and be merry

Question Type : MCQ  
Question ID : 6306801381070  
Option 1 ID : 6306805437565  
Option 2 ID : 6306805437564  
Option 3 ID : 6306805437563  
Option 4 ID : 6306805437562  
Status : Answered  
Chosen Option : 2  
Marks : 2

Q.5 Based on the situation given in the sentence, select the most appropriate proverb to complete the sentence.

My recent interview went very well, but the job means that I will have to move to a new city. So, now I am not thinking about it, I will \_\_\_\_\_.

- Ans  1. put my shoulders to the wheels
2. not let the pot call the kettle black
3. choose the lesser of the two evils
4. cross the bridge when I come to it

Question Type : MCQ  
Question ID : 6306801119341  
Option 1 ID : 6306804397692  
Option 2 ID : 6306804397694  
Option 3 ID : 6306804397695  
Option 4 ID : 6306804397693  
Status : Answered  
Chosen Option : 1  
Marks : 0

Q.6 Select the most appropriate proverb to complete the sentence in the context of the following paragraph.

Rick has always come across as a peace-loving and calm person. We have never seen him getting into a conflict with anyone. It was a surprise when we saw him vehemently fighting with his younger brother over a minor issue. It is true that \_\_\_\_\_.

- Ans
- 1. honesty is the best policy
  - 2. every cloud has a silver lining
  - 3. laughter is the best medicine
  - 4. appearances can be deceptive

Question Type : MCQ  
Question ID : 6306801381071  
Option 1 ID : 6306805437566  
Option 2 ID : 6306805437569  
Option 3 ID : 6306805437567  
Option 4 ID : 6306805437568  
Status : Answered  
Chosen Option : 2  
Marks : 0

Section : General Knowledge 3a

Q.1 घड्याळ्यामधील सेकंद काट्याच्या फिरण्याची वारंवारता \_\_\_\_\_ आहे.

- Ans
- 1. 60 rpm
  - 2. 1/12 rph
  - 3. 1 rph
  - 4. 1 rpm

Question Type : MCQ  
Question ID : 630680856727  
Option 1 ID : 6306803355579  
Option 2 ID : 6306803355578  
Option 3 ID : 6306803355577  
Option 4 ID : 6306803355576  
Status : Answered  
Chosen Option : 1  
Marks : 0

Q.2 मर्क्युरी सल्फाइडचे सामान्य नाव काय आहे?

- Ans
- 1. पोटॅश फिटकरी (Potash alum)
  - 2. मोहर क्षार (Mohr's salt)
  - 3. सिंदूर (Vermilion)
  - 4. मार्श गॅस (Marsh gas)

Question Type : MCQ  
Question ID : 6306801383125  
Option 1 ID : 6306805445723  
Option 2 ID : 6306805445722  
Option 3 ID : 6306805445724  
Option 4 ID : 6306805445721  
Status : Answered  
Chosen Option : 3  
Marks : 2

Q.3 खालीलपैकी कोण भारताच्या पंतप्रधानांची नियुक्ती करते?

- Ans  1. राज्य सभा  
 2. लोकसभा  
 3. राष्ट्रपती  
 4. सर्वोच्च न्यायालय

Question Type : MCQ  
Question ID : 6306801385507  
Option 1 ID : 6306805455232  
Option 2 ID : 6306805455229  
Option 3 ID : 6306805455230  
Option 4 ID : 6306805455231  
Status : Answered  
Chosen Option : 3  
Marks : 2

Q.4 भारताचे महान्यायवादी (Attorney General) यांच्या अधिकारपदासंदर्भात खालीलपैकी कोणते विधान चुकीचे आहे?

- Ans  1. राष्ट्रपती ठरवतील तेवढे मानधन त्यांना मिळते  
 2. त्यांची नियुक्ती राष्ट्रपती सरकारच्या सल्ल्यानुसार करतात.  
 3. ते देशातील पहिले विधी अधिकारी आहेत.  
 4. राष्ट्रपतींच्या मर्जीनुसार, ठराविक कार्यकाळासह ते आपले पद भूषवतात.

Question Type : MCQ  
Question ID : 6306801383138  
Option 1 ID : 6306805445776  
Option 2 ID : 6306805445774  
Option 3 ID : 6306805445773  
Option 4 ID : 6306805445775  
Status : Answered  
Chosen Option : 2  
Marks : 0

Q.5 ओझोन थर कमी करणाऱ्या पदार्थाचा वापर कमी करण्याच्या उद्देशाने जगाने मॉन्ट्रियल प्रोटोकॉलवर कोणत्या वर्षी स्वाक्षरी केली होती?

- Ans  1. 1980  
 2. 2001  
 3. 1987  
 4. 1995

Question Type : MCQ  
Question ID : 630680563932  
Option 1 ID : 6306802204673  
Option 2 ID : 6306802204676  
Option 3 ID : 6306802204674  
Option 4 ID : 6306802204675  
Status : Answered  
Chosen Option : 3  
Marks : 2

Q.6 भारताच्या मुख्य निवडणूक आयुक्तांची नियुक्ती खालीलपैकी कोण करते?

Ans  1. भारताचे राष्ट्रपती

2. संसद

3. पंतप्रधान

4. उप राष्ट्रपती

Question Type : MCQ

Question ID : 6306801385517

Option 1 ID : 6306805455269

Option 2 ID : 6306805455271

Option 3 ID : 6306805455270

Option 4 ID : 6306805455272

Status : Answered

Chosen Option : 1

Marks : 2

Q.7 Which of the following statements is/are correct regarding the jurisdiction of the Supreme Court of India?

I. The judgements, proceedings and acts of the Supreme Court are recorded for perpetual memory and testimony.

II. It can punish for contempt of court.

III. The Supreme Court has judicial superintendence over the state High Courts.

Ans  1. Only I and II

2. Only III

3. I, II and III

4. Only I

Question Type : MCQ

Question ID : 630680920795

Option 1 ID : 6306803608021

Option 2 ID : 6306803608020

Option 3 ID : 6306803608022

Option 4 ID : 6306803608023

Status : Answered

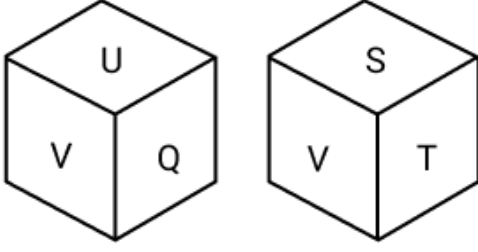
Chosen Option : 1

Marks : 0

Section : Aptitude Test 3a

Lakshyaa MPSC

Q.1 एका फाश्याच्या वेगवेगळ्या दर्शनी भागांवर P, Q, S, T, U आणि V ही सहा अक्षरे लिहिलेली आहेत. या फाश्याच्या दोन स्थिती दिलेल्या आकृत्यांमध्ये दर्शविल्या आहेत. V च्या समोरील दर्शनी बाजूवरील अक्षर शोधा.



- Ans
- 1. U
  - 2. S
  - 3. P
  - 4. T

Question Type : MCQ

Question ID : 630680616869

Option 1 ID : 6306802413721

Option 2 ID : 6306802413722

Option 3 ID : 6306802413720

Option 4 ID : 6306802413723

Status : Answered

Chosen Option : 3

Marks : 2

Q.2 जर दिलेली आकृती शांत पाण्याच्या पृष्ठभागावर आडवी ठेवली असेल, तर ती त्याच्या प्रतिबिंबात कशी दिसेल?

bridge

(1) p1|q8e

(2) p1|q8e

(3) p1|q8e

(4) p1|p8e

- Ans
- 1. 1
  - 2. 2
  - 3. 4
  - 4. 3

Question Type : MCQ

Question ID : 6306801381551

Option 1 ID : 6306805439472

Option 2 ID : 6306805439473

Option 3 ID : 6306805439475

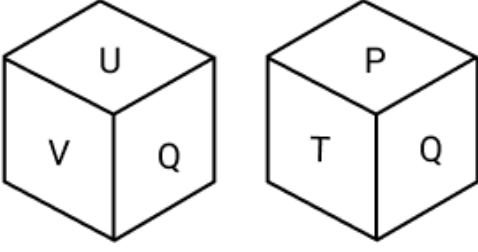
Option 4 ID : 6306805439474

Status : Answered

Chosen Option : 2

Marks : 2

Q.3 एका फाश्याच्या वेगवेगळ्या दर्शनी भागांवर P, Q, S, T, U आणि V ही सहा अक्षरे लिहिलेली आहेत. या फाश्याच्या दोन स्थिती दिलेल्या आकृत्यांमध्ये दर्शविल्या आहेत. S च्या समोरील दर्शनी बाजूवरील अक्षर शोधा.



- Ans
- 1. T
  - 2. P
  - 3. Q
  - 4. U

Question Type : MCQ

Question ID : 630680616868

Option 1 ID : 6306802413718

Option 2 ID : 6306802413717

Option 3 ID : 6306802413716

Option 4 ID : 6306802413719

Status : Answered

Chosen Option : 3

Marks : 2

LakshyaaMPSC

Lakshyaa MPSC



Q.4 पर्यायांमध्ये दिलेली आकृती ओळखा जी प्रश्नचिन्ह (?) च्या जागी ठेवल्यास तार्किकदृष्ट्या मालिका पूर्ण होईल.

p	l	r	J	q	l	p	J	?
r	q	q	p	p	r	r	q	

Ans

✗ 1.

r	l
p	q

✓ 2.

r	l
q	p

✗ 3.

r	J
q	p

✗ 4.

q	J
r	p

LakshyaaMPSC

Lakshyaa MPSC

Question Type : MCQ

Question ID : 630680769636

Option 1 ID : 6306803016507

Option 2 ID : 6306803016505

Option 3 ID : 6306803016506

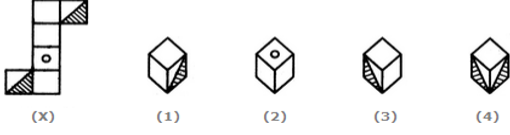
Option 4 ID : 6306803016508

Status : Answered

Chosen Option : 2

Marks : 2

Q.5 दिलेल्या शीट (X) ला रेषांमध्ये दुमडून एक घन तयार केला, तर दिलेल्या आकृतीपैकी कोणती आकृती तयार होईल?



Ans ✓ 1. केवळ 1 आणि 3

✗ 2. 1, 2 आणि 3

✗ 3. केवळ 2

✗ 4. केवळ 1

Question Type : MCQ

Question ID : 6306801381555

Option 1 ID : 6306805439490

Option 2 ID : 6306805439491

Option 3 ID : 6306805439489

Option 4 ID : 6306805439488

Status : Answered


Chosen Option : 1

Marks : 2

Q.6 खालील प्रश्न आकृती मालिकेत पुढे येणारी उत्तर आकृती निवडा.

Question figure

Answer figure



Ans ✗ 1. 4

✗ 2. 3

✓ 3. 1

✗ 4. 2

Question Type : MCQ

Question ID : 6306801381553

Option 1 ID : 6306805439483

Option 2 ID : 6306805439482

Option 3 ID : 6306805439480

Option 4 ID : 6306805439481

Status : Answered

Chosen Option : 3

Marks : 2

Q.1 पुढे दिलेल्या शब्दाचा समूहदर्शक शब्द सांगा.  
केवड्यांचे -

- Ans  1. जुडी  
 2. घड  
 3. बन  
 4. ढीग

Question Type : MCQ

Question ID : 6306801368894

Option 1 ID : 6306805388756

Option 2 ID : 6306805388757

Option 3 ID : 6306805388754

Option 4 ID : 6306805388755

Status : Answered

Chosen Option : 3

Marks : 2

Q.2 पुढे दिलेल्या शब्दाचा समूहदर्शक शब्द सांगा.  
संतांची -

- Ans  1. मंडळ  
 2. जत्था  
 3. मांदियाळी  
 4. दिंडी

Question Type : MCQ

Question ID : 6306801368899

Option 1 ID : 6306805388776

Option 2 ID : 6306805388775

Option 3 ID : 6306805388774

Option 4 ID : 6306805388777

Status : Answered

Chosen Option : 3

Marks : 2

Lakshyaa MPSC

**Comprehension:**

उताऱ्याच्या आधारे पुढील प्रश्नांची उत्तरे सांगा.

भारतवर्षाने स्वामीजींना आपला प्रतिनिधी म्हणून पाठविले आहे, त्याबद्दल अमेरिका भारताला धन्यवाद देत आहे. विश्वबंधुत्व आणि हृदयमनाची उदारता अजूनही ज्यांच्या अंगी बाणली नाही. अशा अमेरिका निवासियांपुढे आपला आदर्श ठेवून त्यांना वळण लावण्यासाठी जर शक्य असेल तर, स्वामीजींसारख्या आणखीही काही आदर्श पुरुषांना पाठविण्याची अमेरिका भारताला विनंती करत आहे.जे लोक त्यांच्या उपदेशाद्वारे सर्वाभूती भगवंताच्या स्वरूपाचा साक्षात्कार करून घ्यावयास समर्थ झाले नाहीत व सर्वभूताश्रय अशा अद्वितीय ब्रम्हसत्तेचा अनुभव घ्यावयास शिकले नाही, त्यांना उन्नत बनविण्यासाठी आणखीही कित्येक आदर्श पुरुषांची अमेरिकेला गरज भासत आहे. वर्तमानपत्राचे प्रतिनिधी, प्रसिद्ध प्राध्यापक, तत्त्वज्ञ, थिऑसॉफीस्ट, प्रगाढ विद्वान आणि जिज्ञासू यांची स्वामीजींची भेट घेण्यासाठी गर्दी जमू लागली. स्वामीजी घराबाहेर पडून रस्त्यावर येताच शेकडो हजारां लोक त्यांना केवळ एक बार बघण्यासाठी वेडे होऊन जात. हे जगत व्यापी ख्याती आपली स्वतःची आहे हा विचारही कधी स्वामीजींच्या चित्ताला शिवला नाही. उलट ज्या संस्कृतीच्या कुशीतून त्यांचा जन्म झाला होता तिच्या त्या सनातनधर्माच्या महिम्याचाच त्यांना या साऱ्या सन्मानातून, कीर्तीतून व यशातून गाढ प्रत्यय येत असे. त्यांनी ताडले की, काळाचा ओघ फिरला आहे, त्याची गती बदलली आहे, सगळ्या जगताला पुन्हा अमृताची वार्ता सांगण्यासाठी भारत तयार झाला आहे.

**SubQuestion No : 3**

Q.3 हजारां लोक कशासाठी रस्त्यावर येतं?

- Ans  1. आपल्या मागण्या पूर्ण करण्यासाठी
2. स्वामीजींना बघण्यासाठी
3. आंदोलन करण्यासाठी
4. स्वामीजींची चेष्टा करण्यासाठी

Question Type : MCQ

Question ID : 6306801368884

Option 1 ID : 6306805388720

Option 2 ID : 6306805388718

Option 3 ID : 6306805388719

Option 4 ID : 6306805388721

Status : Answered

Chosen Option : 2

Marks : 2

**Comprehension:**

उताऱ्याच्या आधारे पुढील प्रश्नांची उत्तरे सांगा.

भारतवर्षाने स्वामीजींना आपला प्रतिनिधी म्हणून पाठविले आहे, त्याबद्दल अमेरिका भारताला धन्यवाद देत आहे. विश्वबंधुत्व आणि हृदयमनाची उदारता अजूनही ज्यांच्या अंगी बाणली नाही. अशा अमेरिका निवासियांपुढे आपला आदर्श ठेवून त्यांना वळण लावण्यासाठी जर शक्य असेल तर, स्वामीजींसारख्या आणखीही काही आदर्श पुरुषांना पाठविण्याची अमेरिका भारताला विनंती करत आहे.जे लोक त्यांच्या उपदेशाद्वारे सर्वाभूती भगवंताच्या स्वरूपाचा साक्षात्कार करून घ्यावयास समर्थ झाले नाहीत व सर्वभूताश्रय अशा अद्वितीय ब्रम्हसत्तेचा अनुभव घ्यावयास शिकले नाही, त्यांना उन्नत बनविण्यासाठी आणखीही कित्येक आदर्श पुरुषांची अमेरिकेला गरज भासत आहे. वर्तमानपत्राचे प्रतिनिधी, प्रसिद्ध प्राध्यापक, तत्त्वज्ञ, थिऑसॉफीस्ट, प्रगाढ विद्वान आणि जिज्ञासू यांची स्वामीजींची भेट घेण्यासाठी गर्दी जमू लागली. स्वामीजी घराबाहेर पडून रस्त्यावर येताच शेकडो हजारां लोक त्यांना केवळ एक बार बघण्यासाठी वेडे होऊन जात. हे जगत व्यापी ख्याती आपली स्वतःची आहे हा विचारही कधी स्वामीजींच्या चित्ताला शिवला नाही. उलट ज्या संस्कृतीच्या कुशीतून त्यांचा जन्म झाला होता तिच्या त्या सनातनधर्माच्या महिम्याचाच त्यांना या साऱ्या सन्मानातून, कीर्तीतून व यशातून गाढ प्रत्यय येत असे. त्यांनी ताडले की, काळाचा ओघ फिरला आहे, त्याची गती बदलली आहे, सगळ्या जगताला पुन्हा अमृताची वार्ता सांगण्यासाठी भारत तयार झाला आहे.

**SubQuestion No : 4**

Q.4 अमेरिका निवासीयांच्या अंगी काय बाणली नाही?

- Ans  1. विश्वबंधुत्व व हृदयमनाची उदारता.
2. शिस्तबद्धता व समयसूचकता
3. देशभक्ती
4. अभिव्यक्ती स्वातंत्र्य

Question Type : MCQ

Question ID : 6306801368883

Option 1 ID : 6306805388714

Option 2 ID : 6306805388717

Option 3 ID : 6306805388715

Option 4 ID : 6306805388716

Status : Answered

Chosen Option : 1

Marks : 2

**Comprehension:**

उताऱ्याच्या आधारे पुढील प्रश्नांच्या उत्तरे सांगा.

भारतवर्षाने स्वामीजींना आपला प्रतिनिधी म्हणून पाठविले आहे, त्याबद्दल अमेरिका भारताला धन्यवाद देत आहे. विश्वबंधुत्व आणि हृदयमनाची उदारता अजूनही ज्यांच्या अंगी बाणली नाही. अशा अमेरिका निवासियांपुढे आपला आदर्श ठेवून त्यांना वळण लावण्यासाठी जर शक्य असेल तर, स्वामीजींसारख्या आणखीही काही आदर्श पुरुषांना पाठविण्याची अमेरिका भारताला विनंती करत आहे. जे लोक त्यांच्या उपदेशाद्वारे सर्वाभूती भगवंताच्या स्वरूपाचा साक्षात्कार करून घ्यावयास समर्थ झाले नाहीत व सर्वभूताश्रय अशा अद्वितीय ब्रम्हसत्तेचा अनुभव घ्यावयास शिकले नाही, त्यांना उन्नत बनविण्यासाठी आणखीही कित्येक आदर्श पुरुषांची अमेरिकेला गरज भासत आहे. वर्तमानपत्राचे प्रतिनिधी, प्रसिद्ध प्राध्यापक, तत्त्वज्ञ, थिऑसॉफीस्ट, प्रगाढ विद्वान आणि जिज्ञासू यांची स्वामीजींची भेट घेण्यासाठी गर्दी जमू लागली. स्वामीजी घराबाहेर पडून रस्त्यावर येताच शेकडो हजारां लोक त्यांना केवळ एक बार बघण्यासाठी वेडे होऊन जात. हे जगत व्यापी ख्याती आपली स्वतःची आहे हा विचारही कधी स्वामीजींच्या चित्ताला शिवला नाही. उलट ज्या संस्कृतीच्या कुशीतून त्यांचा जन्म झाला होता तिच्या त्या सनातनधर्माच्या महिम्याचाच त्यांना या साऱ्या सन्मानातून, कीर्तीतून व यशातून गाढ प्रत्यय येत असे. त्यांनी ताडले की, काळाचा ओघ फिरला आहे, त्याची गती बदलली आहे, सगळ्या जगताला पुन्हा अमृताची वार्ता सांगण्यासाठी भारत तयार झाला आहे.

**SubQuestion No : 5**

Q.5 अमेरिका भारताला धन्यवाद का देत आहे?

- Ans
- 1. स्वामीजी ज्ञानी होती म्हणून
  - 2. स्वामीजी भाषण देणार होते म्हणून
  - 3. अमेरिका भारताचे चांगले संबंध होते म्हणून
  - 4. स्वामीजींना आपला प्रतिनिधी म्हणून पाठवले म्हणून

Question Type : MCQ

Question ID : 6306801368882

Option 1 ID : 6306805388712

Option 2 ID : 6306805388711

Option 3 ID : 6306805388713

Option 4 ID : 6306805388710

Status : Answered

Chosen Option : 4

Marks : 2

**Comprehension:**

उताऱ्याच्या आधारे पुढील प्रश्नांच्या उत्तरे सांगा.

भारतवर्षाने स्वामीजींना आपला प्रतिनिधी म्हणून पाठविले आहे, त्याबद्दल अमेरिका भारताला धन्यवाद देत आहे. विश्वबंधुत्व आणि हृदयमनाची उदारता अजूनही ज्यांच्या अंगी बाणली नाही. अशा अमेरिका निवासियांपुढे आपला आदर्श ठेवून त्यांना वळण लावण्यासाठी जर शक्य असेल तर, स्वामीजींसारख्या आणखीही काही आदर्श पुरुषांना पाठविण्याची अमेरिका भारताला विनंती करत आहे. जे लोक त्यांच्या उपदेशाद्वारे सर्वाभूती भगवंताच्या स्वरूपाचा साक्षात्कार करून घ्यावयास समर्थ झाले नाहीत व सर्वभूताश्रय अशा अद्वितीय ब्रम्हसत्तेचा अनुभव घ्यावयास शिकले नाही, त्यांना उन्नत बनविण्यासाठी आणखीही कित्येक आदर्श पुरुषांची अमेरिकेला गरज भासत आहे. वर्तमानपत्राचे प्रतिनिधी, प्रसिद्ध प्राध्यापक, तत्त्वज्ञ, थिऑसॉफीस्ट, प्रगाढ विद्वान आणि जिज्ञासू यांची स्वामीजींची भेट घेण्यासाठी गर्दी जमू लागली. स्वामीजी घराबाहेर पडून रस्त्यावर येताच शेकडो हजारां लोक त्यांना केवळ एक बार बघण्यासाठी वेडे होऊन जात. हे जगत व्यापी ख्याती आपली स्वतःची आहे हा विचारही कधी स्वामीजींच्या चित्ताला शिवला नाही. उलट ज्या संस्कृतीच्या कुशीतून त्यांचा जन्म झाला होता तिच्या त्या सनातनधर्माच्या महिम्याचाच त्यांना या साऱ्या सन्मानातून, कीर्तीतून व यशातून गाढ प्रत्यय येत असे. त्यांनी ताडले की, काळाचा ओघ फिरला आहे, त्याची गती बदलली आहे, सगळ्या जगताला पुन्हा अमृताची वार्ता सांगण्यासाठी भारत तयार झाला आहे.

**SubQuestion No : 6**

Q.6 अमृताची वार्ता देण्यास कोण सज्ज आहे?

- Ans
- 1. स्वामीजी
  - 2. अमेरिकेतील जनता
  - 3. अमेरिका
  - 4. भारत

Question Type : MCQ

Question ID : 6306801368885

Option 1 ID : 6306805388724

Option 2 ID : 6306805388725

Option 3 ID : 6306805388723

Option 4 ID : 6306805388722

Status : Answered

Chosen Option : 4

Marks : 2

**Comprehension:**

Read the given passage carefully and answer the questions that follow.

The question of the temple tiger remained. I did not feel that the killing of this tiger was any responsibility of mine; but I did feel, and felt very strongly, that my pursuit of him was inducing him to kill more cattle than he would otherwise have done. Why a male tiger started killing cattle on the day of my arrival at Dabidhura it was not possible to say, and whether he would stop when I went away remained to be seen. Anyway, I had tried my best to shoot him; had paid compensation for the damage he had done to the full extent of my purse; and he had provided me with one of the most interesting jungle experiences I had ever had. So I harboured no resentment against him for having beaten me at every point in the exciting game we had played during the last four days. These four days had been very strenuous for me, so I would rest today and make an early start the next morning on the first stage of my journey back to Naini Tal. I had just come to this decision when a voice from behind me said, "Salaam, sahib. I have come to tell you that the tiger has killed one of my cows." One more chance of shooting the tiger, and whether I succeeded or not I would stick to my plan of leaving next morning.

**SubQuestion No : 1**

**Q.1 Identify the statement that is NOT a fact in the given passage.**

Ans  1. The narrator had decided to leave Dabidhura the next day.

2. The government had hired the narrator to kill the tiger.

3. The tiger had started killing cattle the day the narrator arrived at Dabidhura.

4. The narrator was pursuing the tiger for the last four days.

Question Type : MCQ

Question ID : 6306801381081

Option 1 ID : 6306805437603

Option 2 ID : 6306805437604

Option 3 ID : 6306805437605

Option 4 ID : 6306805437602

Status : Answered

Chosen Option : 2

Marks : 2

LakshyaaMPSC

Lakshyaa MPSC

**Comprehension:**

Read the given passage carefully and answer the questions that follow.

The question of the temple tiger remained. I did not feel that the killing of this tiger was any responsibility of mine; but I did feel, and felt very strongly, that my pursuit of him was inducing him to kill more cattle than he would otherwise have done. Why a male tiger started killing cattle on the day of my arrival at Dabidhura it was not possible to say, and whether he would stop when I went away remained to be seen. Anyway, I had tried my best to shoot him; had paid compensation for the damage he had done to the full extent of my purse; and he had provided me with one of the most interesting jungle experiences I had ever had. So I harboured no resentment against him for having beaten me at every point in the exciting game we had played during the last four days. These four days had been very strenuous for me, so I would rest today and make an early start the next morning on the first stage of my journey back to Naini Tal. I had just come to this decision when a voice from behind me said, "Salaam, sahib. I have come to tell you that the tiger has killed one of my cows." One more chance of shooting the tiger, and whether I succeeded or not I would stick to my plan of leaving next morning.

**SubQuestion No : 2**

**Q.2 Identify the central theme of the passage from the given options.**

**Ans**  1. The narrator's sense of jubilation at killing the tiger

2. The narrator's detailed description of the week-long hunt

3. The narrator's failed attempts at killing the temple tiger

4. The narrator's preparations to go to Naini Tal

Question Type : MCQ

Question ID : 6306801381080

Option 1 ID : 6306805437600

Option 2 ID : 6306805437601

Option 3 ID : 6306805437599

Option 4 ID : 6306805437598

Status : Answered

Chosen Option : 3

Marks : 2

LakshyaaMPSC

Lakshyaa MPSC

**Comprehension:**

Read the given passage carefully and answer the questions that follow.

The question of the temple tiger remained. I did not feel that the killing of this tiger was any responsibility of mine; but I did feel, and felt very strongly, that my pursuit of him was inducing him to kill more cattle than he would otherwise have done. Why a male tiger started killing cattle on the day of my arrival at Dabidhura it was not possible to say, and whether he would stop when I went away remained to be seen. Anyway, I had tried my best to shoot him; had paid compensation for the damage he had done to the full extent of my purse; and he had provided me with one of the most interesting jungle experiences I had ever had. So I harboured no resentment against him for having beaten me at every point in the exciting game we had played during the last four days. These four days had been very strenuous for me, so I would rest today and make an early start the next morning on the first stage of my journey back to Naini Tal. I had just come to this decision when a voice from behind me said, "Salaam, sahib. I have come to tell you that the tiger has killed one of my cows." One more chance of shooting the tiger, and whether I succeeded or not I would stick to my plan of leaving next morning.

**SubQuestion No : 3**

**Q.3 Identify the most appropriate structure of the passage**

Ans  1. Proposition and Support

2. Introduction-cause-conclusion

3. Compare and contrast

4. Description

Question Type : MCQ

Question ID : 6306801381082

Option 1 ID : 6306805437608

Option 2 ID : 6306805437609

Option 3 ID : 6306805437606

Option 4 ID : 6306805437607

Status : Answered

Chosen Option : 2

Marks : 0

LakshyaaMPSC

Lakshyaa MPSC



**Comprehension:**

Read the given passage carefully and answer the questions that follow.

The question of the temple tiger remained. I did not feel that the killing of this tiger was any responsibility of mine; but I did feel, and felt very strongly, that my pursuit of him was inducing him to kill more cattle than he would otherwise have done. Why a male tiger started killing cattle on the day of my arrival at Dabidhura it was not possible to say, and whether he would stop when I went away remained to be seen. Anyway, I had tried my best to shoot him; had paid compensation for the damage he had done to the full extent of my purse; and he had provided me with one of the most interesting jungle experiences I had ever had. So I harboured no resentment against him for having beaten me at every point in the exciting game we had played during the last four days. These four days had been very strenuous for me, so I would rest today and make an early start the next morning on the first stage of my journey back to Naini Tal. I had just come to this decision when a voice from behind me said, "Salaam, sahib. I have come to tell you that the tiger has killed one of my cows." One more chance of shooting the tiger, and whether I succeeded or not I would stick to my plan of leaving next morning.

**SubQuestion No : 4**

**Q.4 Select the most appropriate ANTONYM of the given word in the context of the passage.**

**Resentment**

- Ans  1. Offense  
 2. Grudge  
 3. Cynicism  
 4. Kindness

Question Type : MCQ

Question ID : 6306801381083

Option 1 ID : 6306805437613

Option 2 ID : 6306805437611

Option 3 ID : 6306805437610

Option 4 ID : 6306805437612

Status : Answered

Chosen Option : 4

Marks : 2

LakshyaaMPSC

Lakshyaa MPSC

**Comprehension:**

Read the given passage carefully and answer the questions that follow.

The question of the temple tiger remained. I did not feel that the killing of this tiger was any responsibility of mine; but I did feel, and felt very strongly, that my pursuit of him was inducing him to kill more cattle than he would otherwise have done. Why a male tiger started killing cattle on the day of my arrival at Dabidhura it was not possible to say, and whether he would stop when I went away remained to be seen. Anyway, I had tried my best to shoot him; had paid compensation for the damage he had done to the full extent of my purse; and he had provided me with one of the most interesting jungle experiences I had ever had. So I harboured no resentment against him for having beaten me at every point in the exciting game we had played during the last four days. These four days had been very strenuous for me, so I would rest today and make an early start the next morning on the first stage of my journey back to Naini Tal. I had just come to this decision when a voice from behind me said, "Salaam, sahib. I have come to tell you that the tiger has killed one of my cows." One more chance of shooting the tiger, and whether I succeeded or not I would stick to my plan of leaving next morning.

**SubQuestion No : 5**

**Q.5 Select the most appropriate meaning of the given word in the context of the passage.**

**Pursuit**

- Ans  1. Chase  
 2. Retreat  
 3. Surrender  
 4. Possession

Question Type : MCQ

Question ID : 6306801381084

Option 1 ID : 6306805437614

Option 2 ID : 6306805437615

Option 3 ID : 6306805437616

Option 4 ID : 6306805437617

Status : Answered

Chosen Option : 1

Marks : 2

**Q.6 Select the ANTONYM of the word in brackets to fill in the blank.**

She tends to be (optimistic) about what is to come, but due to recent events, she has become extremely \_\_\_\_\_.

- Ans  1. pessimistic  
 2. cheerful  
 3. positive  
 4. hopeful

Question Type : MCQ

Question ID : 6306801082310

Option 1 ID : 6306804250738

Option 2 ID : 6306804250737

Option 3 ID : 6306804250739

Option 4 ID : 6306804250736

Status : Answered

Chosen Option : 1

Marks : 2

Q.1 खालीलपैकी कोणते विद्यापीठ महाराष्ट्र राज्यातील सर्वात जुने विद्यापीठ आहे?

- Ans  1. शिवाजी विद्यापीठ  
 2. संत गाडगेबाबा अमरावती विद्यापीठ  
 3. सावित्रीबाई फुले विद्यापीठ, पुणे  
 4. मुंबई विद्यापीठ

Question Type : MCQ  
Question ID : 6306801383133  
Option 1 ID : 6306805445754  
Option 2 ID : 6306805445756  
Option 3 ID : 6306805445755  
Option 4 ID : 6306805445753  
Status : Answered  
Chosen Option : 4  
Marks : 2

Q.2 भारतीय राज्यांमध्ये भौगोलिक क्षेत्रफळाच्या बाबतीत महाराष्ट्र \_\_\_\_\_ क्रमांकावर आहे.

- Ans  1. पहिल्या  
 2. दुसऱ्या  
 3. तिसऱ्या  
 4. चौथ्या

Question Type : MCQ  
Question ID : 6306801383135  
Option 1 ID : 6306805445761  
Option 2 ID : 6306805445762  
Option 3 ID : 6306805445763  
Option 4 ID : 6306805445764  
Status : Answered  
Chosen Option : 3  
Marks : 2

Q.3 खालीलपैकी कोणते विधान महाराष्ट्राच्या भौगोलिक आणि प्रशासकीय व्यवस्थेचे उत्तम वर्णन करते?

- Ans  1. प्रशासकीय कारणांसाठी महाराष्ट्र 50 जिल्ह्यांमध्ये विभागलेला आहे.  
 2. महाराष्ट्राच्या सीमा भारतातील 6 राज्यांशी आहेत  
 3. महाराष्ट्र हे एक किनारी राज्य आहे जिथे पर्वत रांगा नाहीत.  
 4. राज्यात कोणत्याही महत्त्वपूर्ण पर्वत रांगा नाहीत आणि ते पूर्णपणे मैदानी प्रदेश आहे.

Question Type : MCQ  
Question ID : 6306801384210  
Option 1 ID : 6306805450080  
Option 2 ID : 6306805450078  
Option 3 ID : 6306805450077  
Option 4 ID : 6306805450079  
Status : Answered  
Chosen Option : 2  
Marks : 2

Q.4 महाराष्ट्रातील नगदी पिकांमध्ये \_\_\_\_\_ यांचा समावेश होतो.

- Ans  1. भुईमूग, कापूस, ऊस, हळद आणि तंबाखू  
 2. भुईमूग, हळद, तंबाखू, सफरचंद आणि तांदूळ  
 3. भुईमूग, तांदूळ, ऊस, गहू आणि तंबाखू  
 4. भुईमूग, गहू, तांदूळ, आंबा आणि तंबाखू

Question Type : MCQ

Question ID : 6306801383129

Option 1 ID : 6306805445737

Option 2 ID : 6306805445740

Option 3 ID : 6306805445738

Option 4 ID : 6306805445739

Status : Answered

Chosen Option : 1

Marks : 2

Q.5 कापूस उत्पादनाच्या बाबतीत भारतीय राज्यांमध्ये महाराष्ट्राचा \_\_\_\_\_ क्रमांक लागतो.

- Ans  1. तिसरा  
 2. चौथा  
 3. पहिला  
 4. दुसरा

Question Type : MCQ

Question ID : 6306801383127

Option 1 ID : 6306805445731

Option 2 ID : 6306805445732

Option 3 ID : 6306805445729

Option 4 ID : 6306805445730

Status : Answered

Chosen Option : 3

Marks : 0

Q.6 खालीलपैकी कोणते जिल्हे गुजरात आणि महाराष्ट्र राज्यांच्या सीमेला लागून आहेत?

- Ans  1. नागपूर, अमरावती, भंडारा, गोंदिया  
 2. पालघर, नाशिक, धुळे, नंदुरबार  
 3. गोंदिया, गडचिरोली  
 4. जळगाव, बुलढाणा, गडचिरोली

Question Type : MCQ

Question ID : 6306801384211

Option 1 ID : 6306805450082

Option 2 ID : 6306805450081

Option 3 ID : 6306805450083

Option 4 ID : 6306805450084

Status : Answered

Chosen Option : 2

Marks : 2

Q.1 दिलेल्या मालिकेत प्रश्नचिन्हाच्या (?) जागी काय आले पाहिजे?

11, 49, 87, 125, 163, ?

Ans  1. 202

2. 201

3. 200

4. 203

Question Type : MCQ

Question ID : 6306801384469

Option 1 ID : 6306805451117

Option 2 ID : 6306805451115

Option 3 ID : 6306805451116

Option 4 ID : 6306805451118

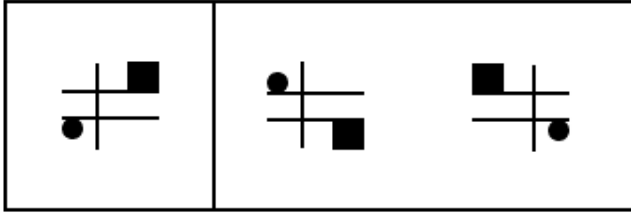
Status : Answered

Chosen Option : 2

Marks : 2



Q.2 या आकृतीमध्ये A, एका विशिष्ट प्रकारे B शी संबंधित आहे. पर्यायांमधून अशा आकृती जोडी निवडा, ज्यामध्ये दोन आकृत्या त्याच प्रकारे परस्परांशी संबंधित आहेत.

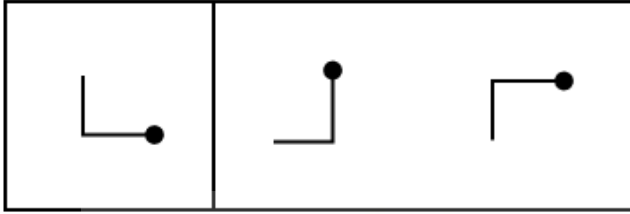


A

B

Ans

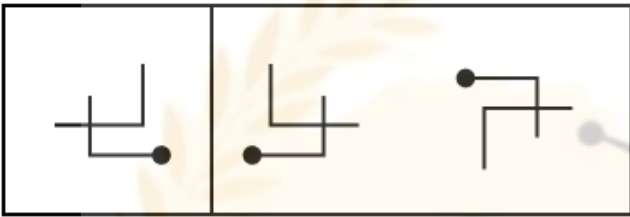
✗ 1.



A

B

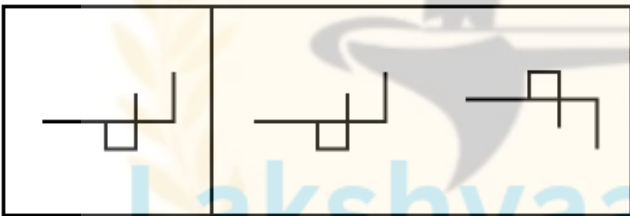
✗ 2.



A

B

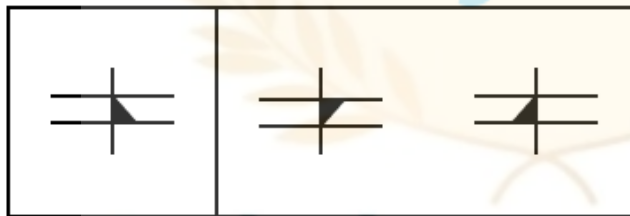
✗ 3.



A

B

✓ 4.



A

B

Question Type : MCQ

Question ID : 630680773521

Option 1 ID : 6306803032028

Option 2 ID : 6306803032027

Option 3 ID : 6306803032025

Option 4 ID : 6306803032026

Status : Answered

Chosen Option : 4

Marks : 2

Q.3 7435168 मधील प्रत्येक विषम अंकांमध्ये 1 जोडल्यास आणि प्रत्येक सम अंकातून 2 वजा केल्यास, डावीकडून तिसरा आणि उजवीकडून दुसरा असलेल्या अंकांची बेरीज किती होईल?

- Ans  1. 6  
 2. 10  
 3. 11  
 4. 8

Question Type : MCQ

Question ID : 630680712011

Option 1 ID : 6306802789735

Option 2 ID : 6306802789737

Option 3 ID : 6306802789738

Option 4 ID : 6306802789736

Status : Answered

Chosen Option : 4

Marks : 2

Q.4 खालील संख्या-जोड्यांमधील, पहिल्या संख्येवर विशिष्ट गणितीय क्रिया लागू करून दुसरी संख्या मिळवली जाते. खालील संचातील संख्यांत असणाऱ्या संबंधाप्रमाणे समान संबंध असणाऱ्या संख्यांचा संच निवडा.

(सूचना: गणितीय क्रिया संपूर्ण संख्येवर कराव्यात, त्या संख्येची विभागणी तिच्यातील अंकांमध्ये करू नये. उदाहरणार्थ, 13 - येथे 13 वर बेरीज/वजाबाकी/गुणाकार इ. गणितीय क्रिया करणे अभिप्रेत आहे, मात्र 13 ची विभागणी 1 आणि 3 अशी करून 1 आणि 3 यांवर गणितीय क्रिया करणे अभिप्रेत नाही.)

263, 183  
179, 99

- Ans  1. 181, 91  
 2. 225, 145  
 3. 192, 122  
 4. 247, 187

Question Type : MCQ

Question ID : 630680570317

Option 1 ID : 6306802230184

Option 2 ID : 6306802230181

Option 3 ID : 6306802230182

Option 4 ID : 6306802230183

Status : Answered

Chosen Option : 3

Marks : 0

Lakshyaa MPSC

Q.5 खालील प्रश्न आकृती मालिकेत प्रश्नचिन्हाच्या (?) जागी येऊ शकेल अशी आकृती, उत्तर आकृत्यांमधून निवडा.



Ans

✓ 1.



✗ 2.



✗ 3.



✗ 4.



Question Type : MCQ

Question ID : 6306801381558

Option 1 ID : 6306805439500

Option 2 ID : 6306805439501

Option 3 ID : 6306805439502

Option 4 ID : 6306805439503

Status : Answered

Chosen Option : 1

Marks : 2

LakshyaaMPSC

Lakshyaa MPSC



Q.6 तीन प्रश्न आकृत्या दिल्या आहेत, ज्या काही सामान्य वैशिष्ट्यांमुळे विशिष्ट प्रकारे सारख्याच आहेत. उत्तर पर्यायांमधून अशी आकृती निवडा जी प्रश्न आकृत्यांमधील वैशिष्ट्यांशी साधर्म्य साधणारी असेल.

v E	7 r	b 5
^ E	∩ L	p 2

Ans

✗ 1.

2 9
7 8

✓ 2.

G W
C M

✗ 3.

A 3
E A

✗ 4.

L d
b J

LakshyaaMPSC

Lakshyaa MPSC

Question Type : MCQ

Question ID : 630680630357

Option 1 ID : 6306802467473

Option 2 ID : 6306802467471

Option 3 ID : 6306802467474

Option 4 ID : 6306802467472

Status : Answered

Chosen Option : 2

Marks : 2

Q.7 खाली संख्यांचे दोन संच दिले आहेत. प्रत्येक संख्या संचात, पहिल्या संख्येवरील काही गणितीय क्रिया दुसऱ्या संख्येत परिणीत होतात. त्याचप्रमाणे, दुसऱ्या संख्येवरील काही गणितीय क्रिया तिसऱ्या संख्येत परिणीत होतात आणि असेच पुढे जातात, तर खालील पर्यायांपैकी कोणता पर्याय दिलेल्या संचांमध्ये असलेल्या क्रियांच्या संचाचे अनुसरण करतो?

(टीप: संख्यांना त्यांच्या घटक अंकांमध्ये न मोडता पूर्ण संख्यांवर क्रिया कराव्यात. उदा. 13 - 13 वर क्रिया जसे की 13 ला जोडणे / वजा करणे / गुणाकार करणे शक्य आहे. 13 ला 1 आणि 3 मध्ये विभाजित करून नंतर 1 आणि 3 वर गणितीय क्रिया करू नयेत.)

54 - 74 - 96 - 120  
78 - 98 - 120 - 144

- Ans  1. 86 - 106 - 128 - 142  
 2. 93 - 113 - 135 - 169  
 3. 99 - 119 - 141 - 155  
 4. 63 - 83 - 105 - 129

Question Type : MCQ

Question ID : 630680629858

Option 1 ID : 6306802465331

Option 2 ID : 6306802465330

Option 3 ID : 6306802465333

Option 4 ID : 6306802465332

Status : Answered

Chosen Option : 1

Marks : 0

LakshyaaMPSC

Lakshyaa MPSC

Section : Marathi 1a

Q.1 दादा बाळाला निजवितो. या वाक्यातील क्रियापदाचा प्रकार ओळखा.

- Ans  1. अनियमित क्रियापद  
 2. प्रयोजक क्रियापद  
 3. सकर्मक क्रियापद  
 4. अकर्मक क्रियापद

Question Type : MCQ

Question ID : 6306801370065

Option 1 ID : 6306805393441

Option 2 ID : 6306805393442

Option 3 ID : 6306805393440

Option 4 ID : 6306805393439

Status : Answered

Chosen Option : 2

Marks : 2

Lakshyaa MPSC

Q.2 'लालभडक' या शब्दाची जात ओळखा .

- Ans
- 1. सर्वनाम
  - 2. क्रियापद
  - 3. विशेषण
  - 4. नाम

Question Type : MCQ

Question ID : 6306801366932

Option 1 ID : 6306805381052

Option 2 ID : 6306805381051

Option 3 ID : 6306805381050

Option 4 ID : 6306805381049

Status : Answered

Chosen Option : 3

Marks : 2

Q.3 पुढे दिलेल्या वाक्यातील द्वितीय पुरुषवाचक सर्वनाम ओळखा.  
तू मला आधी का तक्रार केली नाहीस ?

- Ans
- 1. तू
  - 2. मला
  - 3. केली नाहीस
  - 4. का

Question Type : MCQ

Question ID : 6306801370540

Option 1 ID : 6306805395359

Option 2 ID : 6306805395360

Option 3 ID : 6306805395362

Option 4 ID : 6306805395361

Status : Answered

Chosen Option : 1

Marks : 2

Q.4 खालील वाक्यात संबंधी सर्वनामांसोबत त्याची हे दर्शक सर्वनाम आले आहे त्या सर्वनामांना सर्वनामांचा कोणता प्रकार म्हणतात.  
ज्याला ज्ञान कमी त्याची बडबड जास्त असते.

- Ans
- 1. अनुसंबंधी सर्वनाम
  - 2. तृतीय पुरुषवाचकसर्वनाम
  - 3. संबंधी सर्वनाम
  - 4. अनिश्चित सर्वनाम

Question Type : MCQ

Question ID : 6306801370541

Option 1 ID : 6306805395363

Option 2 ID : 6306805395366

Option 3 ID : 6306805395364

Option 4 ID : 6306805395365

Status : Answered

Chosen Option : 2

Marks : 0

Q.5 पुढील वाक्यातील अधोरेखित शब्दाची जात ओळखा.  
मल्हार क्रिकेट खेळायला लांब गेला.

- Ans  1. सर्वनाम  
 2. विशेषण  
 3. क्रियाविशेषण  
 4. क्रियापद

Question Type : MCQ

Question ID : 6306801370056

Option 1 ID : 6306805393405

Option 2 ID : 6306805393404

Option 3 ID : 6306805393403

Option 4 ID : 6306805393406

Status : Answered

Chosen Option : 3

Marks : 2

Q.6 खालीलपैकी दर्शक सर्वनाम ओळखा.

- Ans  1. तू  
 2. हा  
 3. आपण  
 4. मी

Question Type : MCQ

Question ID : 6306801366982

Option 1 ID : 6306805381237

Option 2 ID : 6306805381238

Option 3 ID : 6306805381240

Option 4 ID : 6306805381239

Status : Answered

Chosen Option : 2

Marks : 2

Q.7 पुढे दिलेल्या वाक्यातील सर्वनामाचा कोणता प्रकार आहे ?  
गुरु म्हणजे सर्वज्ञानी. त्यांना काय माहित नसते !

- Ans  1. सामान्य सर्वनाम  
 2. पुरुषवाचक सर्वनाम  
 3. प्रश्नार्थक सर्वनाम  
 4. संबंधी सर्वनाम

Question Type : MCQ

Question ID : 6306801370538

Option 1 ID : 6306805395352

Option 2 ID : 6306805395354

Option 3 ID : 6306805395351

Option 4 ID : 6306805395353

Status : Answered

Chosen Option : 1

Marks : 0

**Q.1 Select the most appropriate option to fill in the blank.**  
He has been ill \_\_\_\_\_ three days.

- Ans  1. during  
 2. from  
 3. for  
 4. since

Question Type : MCQ  
Question ID : 6306801359239  
Option 1 ID : 6306805350657  
Option 2 ID : 6306805350655  
Option 3 ID : 6306805350654  
Option 4 ID : 6306805350656  
Status : Answered  
Chosen Option : 4  
Marks : 0

**Q.2 Select the most appropriate tense form to fill in the blank.**

We \_\_\_\_\_ for hours before we finally found the right path.

- Ans  1. walking  
 2. walk  
 3. walked  
 4. walks

Question Type : MCQ  
Question ID : 6306801352389  
Option 1 ID : 6306805323726  
Option 2 ID : 6306805323724  
Option 3 ID : 6306805323725  
Option 4 ID : 6306805323727  
Status : Answered  
Chosen Option : 2  
Marks : 0

**Q.3 Select the most appropriate option to fill in the blank.**

She felt \_\_\_\_\_ after getting enough sleep for the first time in days.

- Ans  1. horrid  
 2. lousy  
 3. refreshed  
 4. scared

Question Type : MCQ  
Question ID : 6306801045509  
Option 1 ID : 6306804104155  
Option 2 ID : 6306804104152  
Option 3 ID : 6306804104153  
Option 4 ID : 6306804104154  
Status : Answered  
Chosen Option : 3  
Marks : 2

Q.4 Select the most appropriate option that can substitute the underlined word in the given sentence.

He has been managing the department for five years, and now he lead a major project in the company.

- Ans  1. is leading  
 2. leads  
 3. has led  
 4. is lead

Question Type : MCQ

Question ID : 6306801352413

Option 1 ID : 6306805323821

Option 2 ID : 6306805323820

Option 3 ID : 6306805323822

Option 4 ID : 6306805323823

Status : Answered

Chosen Option : 2

Marks : 2

Q.5 Select the most appropriate verb form to fill in the blank.

They \_\_\_\_\_ the project before the deadline yesterday.

- Ans  1. completed  
 2. will complete  
 3. will be completing  
 4. had been completing

Question Type : MCQ

Question ID : 6306801078303

Option 1 ID : 6306804235099

Option 2 ID : 6306804235100

Option 3 ID : 6306804235102

Option 4 ID : 6306804235101

Status : Answered

Chosen Option : 1

Marks : 2

Lakshyaa MPSC

Q.6 The following sentence has been split into four segments. Identify the segment that contains a grammatical error.

(1) I complimented him (2) for his brilliant success (3) in the test match against (4) the junior team of our college.

Ans  1. 3

2. 2

3. 4

4. 1

Question Type : MCQ

Question ID : 6306801117087

Option 1 ID : 6306804388811

Option 2 ID : 6306804388810

Option 3 ID : 6306804388812

Option 4 ID : 6306804388809

Status : Answered

Chosen Option : 1

Marks : 0

Section : General Knowledge 1a

Q.1 प्रकल्प PARI हा खालीलपैकी कोणत्या केंद्रीय मंत्रालयाचा उपक्रम आहे?

Ans  1. कृषी आणि शेतकरी कल्याण मंत्रालय

2. सांस्कृतिक मंत्रालय

3. कौशल्य विकास आणि उद्योजकता मंत्रालय

4. ग्रामीण विकास मंत्रालय

Question Type : MCQ

Question ID : 6306801362244

Option 1 ID : 6306805362688

Option 2 ID : 6306805362686

Option 3 ID : 6306805362689

Option 4 ID : 6306805362687

Status : Answered

Chosen Option : 3

Marks : 0

Q.2 आंतरग्रहीय अधिवासात जीवनाची अनुकूती करण्यासाठी नोव्हेंबर 2024 मध्ये भारतीय अंतराळ संशोधन संस्थेने (ISRO) अॅनालॉग मोहीम कोठे सुरू केली?

Ans  1. श्रीनगर

2. लेह

3. मनाली

4. कसोल

Question Type : MCQ

Question ID : 6306801362330

Option 1 ID : 6306805363047

Option 2 ID : 6306805363046

Option 3 ID : 6306805363048

Option 4 ID : 6306805363049

Status : Answered

Chosen Option : 2

Marks : 2



Q.3 मार्च 2023 मध्ये सुरू करण्यात आलेल्या "पृथ्वी मातेच्या जीर्णोद्धार, जागरूकता, पोषण आणि सुधारणेसाठी PM कार्यक्रम" (PM-PRANAM) योजनेचे उद्दिष्ट काय आहे?

- Ans  1. पर्यायी खतांचा वापर आणि रासायनिक खतांचा संतुलित वापर करण्यास प्रोत्साहन देणे.
2. भारताला ऑटोमोबाईल क्षेत्रात स्वावलंबी करणे
3. लहानमुलींना शिक्षण देणे
4. गरिबांना अन्न पुरवणे

Question Type : MCQ

Question ID : 6306801382763

Option 1 ID : 6306805444273

Option 2 ID : 6306805444276

Option 3 ID : 6306805444275

Option 4 ID : 6306805444274

Status : Answered

Chosen Option : 1

Marks : 2

Q.4 सप्टेंबर 2024 मध्ये, खालीलपैकी कोणता देश भारताचा युनिफाइड पेमेंट्स इंटरफेस (UPI) स्वीकारणारा पहिला कॅरिबियन देश ठरला आहे?

- Ans  1. बहामा
2. त्रिनिदाद आणि टोबॅगो
3. बार्बुडा
4. जमैका

Question Type : MCQ

Question ID : 6306801170653

Option 1 ID : 6306804602031

Option 2 ID : 6306804602029

Option 3 ID : 6306804602030

Option 4 ID : 6306804602028

Status : Answered

Chosen Option : 2

Marks : 2

Q.5 साल 1936 मध्ये महात्मा गांधींनी साबरमती आश्रम सोडला तेव्हा त्यांनी महाराष्ट्रात त्यांचा आश्रम कुठे स्थापन केला होता?

- Ans  1. नाशिक
2. मुंबई
3. पुणे
4. सेवाग्राम

Question Type : MCQ

Question ID : 6306801358821

Option 1 ID : 6306805349029

Option 2 ID : 6306805349028

Option 3 ID : 6306805349027

Option 4 ID : 6306805349026

Status : Answered

Chosen Option : 4

Marks : 2

Q.6 8 जुलै 2024 पर्यंत, आर्थिक सर्वेक्षण 2023-24 नुसार, आयुष्मान भारत प्रधानमंत्री जन आरोग्य योजनेतील (एबी-पीएमजेएवाय) लाभार्थ्यांपैकी \_\_\_ महिला आहेत.

Ans  1. 39%

2. 49%

3. 55%

4. 45%

Question Type : MCQ

Question ID : 6306801163652

Option 1 ID : 6306804573839

Option 2 ID : 6306804573840

Option 3 ID : 6306804573842

Option 4 ID : 6306804573841

Status : Answered

Chosen Option : 2

Marks : 2

Section : Aptitude Test 1a

Q.1 BUXOMER या शब्दातील प्रत्येक स्वराला इंग्रजी वर्णमाला क्रमातील त्याच्या लगतच नंतर येणाऱ्या अक्षराने बदलले आणि प्रत्येक व्यंजनाला इंग्रजी वर्णक्रमातील त्याच्या लगतच आधी येणाऱ्या अक्षराने बदलले, तर अशाप्रकारे तयार होणाऱ्या अक्षरांच्या समुहात किती अक्षरे निश्चित दोनदा दिसतील?

Ans  1. 0

2. 1

3. 2

4. 3

Question Type : MCQ

Question ID : 630680896526

Option 1 ID : 6306803512075

Option 2 ID : 6306803512076

Option 3 ID : 6306803512077

Option 4 ID : 6306803512078

Status : Answered

Chosen Option : 2

Marks : 0

Lakshyaa MPSC

Q.2 इंग्रजी वर्णमालेच्या आधारे दिलेल्या मालिकेत '?' च्या जागी काय येईल?

YTQ UPM QLI MHE ?

Ans  1. IEB

2. IDA

3. IDB

4. IEA

Question Type : MCQ

Question ID : 630680521922

Option 1 ID : 6306802040019

Option 2 ID : 6306802040016

Option 3 ID : 6306802040017

Option 4 ID : 6306802040018

Status : Answered

Chosen Option : 2

Marks : 2

Q.3 इंग्रजी वर्णमाला क्रमावर आधारित, खालील चार अक्षर-समूहांपैकी तीन अक्षर-समूह एका विशिष्ट तऱ्हेने समान आहेत आणि ते मिळून एक गट तयार करतात. त्या गटात न बसणारा अक्षर-समूह कोणता आहे?

(सूचना: गटात न बसणारा अक्षर-समूह हा त्याच्या व्यंजन/स्वरांच्या संख्येवर किंवा अक्षर-समूहातील त्याच्या स्थानावर आधारित नसावा.)

Ans  1. TVY

2. OQT

3. IKM

4. XZC

Question Type : MCQ

Question ID : 630680862550

Option 1 ID : 6306803378074

Option 2 ID : 6306803378072

Option 3 ID : 6306803378071

Option 4 ID : 6306803378073

Status : Answered

Chosen Option : 3

Marks : 2

Lakshyaa MPSC

Q.4 एका विशिष्ट सांकेतिक भाषेत, 'i have created the' ला 'qw as zx er' असे, 'created the new ways' ला 'zx er df cv' असे, 'formula to have make' ला 'ty gh as vb' असे, आणि 'created ways solution to' ला 'zx cv yu gh' असे संकेतबद्ध केले जाते. तर 'formula' साठी कोणता संभाव्य संकेत असेल?

(सूचना: सर्व संकेत हे केवळ दोन अक्षरी सांकेतिक आहेत.)

- Ans
- ✓ 1. एकतर 'vb' किंवा 'ty'
  - ✗ 2. एकतर 'gh' किंवा 'vb'
  - ✗ 3. एकतर 'as' किंवा 'gh'
  - ✗ 4. एकतर 'vb' किंवा 'as'

Question Type : MCQ

Question ID : 630680899749

Option 1 ID : 6306803524832

Option 2 ID : 6306803524830

Option 3 ID : 6306803524829

Option 4 ID : 6306803524831

Status : Answered

Chosen Option : 2

Marks : 0

Q.5 दिलेली मालिका पूर्ण होण्यासाठी प्रश्नचिन्हाच्या (?) जागी खालीलपैकी कोणता शब्द येईल?  
Ample, Ledge, Genre, Reach, (?)

- Ans
- ✗ 1. House
  - ✓ 2. Chalk
  - ✗ 3. Achieve
  - ✗ 4. Chance

Question Type : MCQ

Question ID : 6306801382862

Option 1 ID : 6306805444670

Option 2 ID : 6306805444671

Option 3 ID : 6306805444672

Option 4 ID : 6306805444669

Status : Answered

Chosen Option : 2

Marks : 2

Lakshyaa MPSC

Q.6 खाली दिलेल्या संकेतांनुसार आणि त्यानंतर दिलेल्या अटीनुसार अक्षर संकेतांचा वापर करून संख्या/चिन्हांचा समूह संकेतबद्ध केला जातो. जर यांपैकी कोणत्याही अटी लागू होत नसतील, तर संबंधित संख्या/चिन्हांसाठी थेट सारणीत दिलेले अक्षर संकेत वापरून संकेतबद्ध करावे.

संख्या/चिन्हे	/	2	?	4	&	@	<	5	9	8	\$	#	=	7
संकेत	T	K	M	J	B	P	Q	V	X	N	U	R	S	Z

अटी:

(i) जर पहिला घटक चिन्ह असेल आणि शेवटचा घटक संख्या असेल, तर या दोघांसाठी (पहिला आणि शेवटचा घटक) असलेल्या संकेतांची अदलाबदल करायची आहे.

(ii) जर पहिला घटक एक विषम संख्या असेल आणि शेवटचा घटक एक सम संख्या असेल, तर पहिला आणि शेवटचा घटक @ असा संकेतबद्ध केला पाहिजे.

(iii) जर दुसरा आणि तिसरा हे दोन्ही घटक परिपूर्ण वर्ग असतील, तर तिसरा घटक हा दुसऱ्या घटकासाठी असलेला संकेत वापरून संकेतबद्ध केला जाईल.

7498

Ans  1. @XO@

2. ZJNX

3. @JX@

4. @JJ@

Question Type : MCQ

Question ID : 630680641381

Option 1 ID : 6306802510949

Option 2 ID : 6306802510946

Option 3 ID : 6306802510948

Option 4 ID : 6306802510947

Status : Answered

Chosen Option : 3

Marks : 0

Section : Marathi 2a

Q.1 पुढील पर्यायांपैकी गुण वाचक विशेषण असलेला पर्याय सांगा.

Ans  1. ती चौथ्या बंगल्यात राहते.

2. तो पक्षी आहे .

3. या चारही वाट शाळेकडे जातात.

4. रामगडला भव्य राजवाडा आहे.

Question Type : MCQ

Question ID : 6306801370554

Option 1 ID : 6306805395414

Option 2 ID : 6306805395412

Option 3 ID : 6306805395411

Option 4 ID : 6306805395413

Status : Answered

Chosen Option : 4

Marks : 2

Q.2 पुढीलपैकी कोणत्या विभक्तीचे प्रत्यय सारखे आहेत?

- Ans  1. द्वितीया - चतुर्थी  
 2. तृतीया - सप्तमी  
 3. चतुर्थी - पंचमी  
 4. षष्ठी - प्रथमा

Question Type : MCQ

Question ID : 6306801367170

Option 1 ID : 6306805381995

Option 2 ID : 6306805381996

Option 3 ID : 6306805381994

Option 4 ID : 6306805381993

Status : Answered

Chosen Option : 1

Marks : 2

Q.3 'कारली कडू आहेत' या वाक्यातील कडू हे कोणते विशेषण आहे ?

- Ans  1. सर्वनामिक विशेषण  
 2. संख्याविशेषण  
 3. क्रमवाचक विशेषण  
 4. गुणवाचक विशेषण

Question Type : MCQ

Question ID : 6306801370037

Option 1 ID : 6306805393328

Option 2 ID : 6306805393329

Option 3 ID : 6306805393330

Option 4 ID : 6306805393327

Status : Answered

Chosen Option : 4

Marks : 2

Q.4 'अपादान' हा कारकार्थ कोणत्या विभक्तीचा आहे?

- Ans  1. षष्ठी  
 2. चतुर्थी  
 3. पंचमी  
 4. सप्तमी

Question Type : MCQ

Question ID : 6306801367210

Option 1 ID : 6306805382153

Option 2 ID : 6306805382154

Option 3 ID : 6306805382155

Option 4 ID : 6306805382156

Status : Answered

Chosen Option : 2

Marks : 0

Q.5 विसंगत जोडी ओळखा.

- Ans  1. तृतीया -- करण.  
 2. पंचमी -- संबंध.  
 3. प्रथमा -- प्रत्यय नसतो.  
 4. सप्तमी -- अधिकरण.

Question Type : MCQ

Question ID : 6306801367218

Option 1 ID : 6306805382188

Option 2 ID : 6306805382186

Option 3 ID : 6306805382185

Option 4 ID : 6306805382187

Status : Answered

Chosen Option : 1

Marks : 0

Q.6 खालीलपैकी गुणविशेषण ओळखा.

- Ans  1. चाफा  
 2. जाई  
 3. सुगंधी  
 4. मोगरा

Question Type : MCQ

Question ID : 6306801367133

Option 1 ID : 6306805381846

Option 2 ID : 6306805381847

Option 3 ID : 6306805381848

Option 4 ID : 6306805381845

Status : Answered

Chosen Option : 3

Marks : 2

Section : English 2a

Lakshyaa MPSC

**Q.1** Sentences of a paragraph are given below in jumbled order. Arrange the sentences in the right order to form a meaningful and coherent paragraph.

- A. The city council decided to improve the local park to benefit the community.
- B. Residents were delighted with the enhancements and enjoyed spending time there.
- C. After several months of renovation, the park was reopened to the public.
- D. They allocated funds for new playground equipment, benches and landscaping.

- Ans
- 1. BADC
  - 2. BACD
  - 3. ADCB
  - 4. DCAB

Question Type : MCQ  
Question ID : 6306801105112  
Option 1 ID : 6306804340968  
Option 2 ID : 6306804340969  
Option 3 ID : 6306804340970  
Option 4 ID : 6306804340971  
Status : Answered  
Chosen Option : 3  
Marks : 2

**Q.2** Identify and correct the INCORRECTLY spelt word in the sentence.

The archaeologist's meticulous research provided new evidence supporting the theory of ancient trade routes.

- Ans
- 1. archaeologist
  - 2. evidence
  - 3. meticulous
  - 4. theory

Question Type : MCQ  
Question ID : 6306801005049  
Option 1 ID : 6306803944038  
Option 2 ID : 6306803944040  
Option 3 ID : 6306803944039  
Option 4 ID : 6306803944041  
Status : Answered  
Chosen Option : 2  
Marks : 2



**Q.3** The following sentence has been divided into parts. One of them may contain an error. Select the part that contains the error from the given options. If you don't find any error, mark 'No error' as your answer.

The team / played good / yesterday.

- Ans
- 1. yesterday
  - 2. The team
  - 3. played good
  - 4. No error

Question Type : **MCQ**

Question ID : **630680582405**

Option 1 ID : **6306802278441**

Option 2 ID : **6306802278439**

Option 3 ID : **6306802278440**

Option 4 ID : **6306802278442**

Status : **Answered**

Chosen Option : **3**

Marks : **2**

**Q.4** Sentences of a paragraph are given below in jumbled order. Arrange the sentences in the right order to form a meaningful and coherent paragraph.

- A.** The night sky was a canvas of twinkling stars, each one a distant sun burning brightly.
- B.** A shooting star streaked across the heavens, leaving a trail of shimmering light in its wake.
- C.** And the moon, a luminous orb, bathed the landscape in a silvery glow.
- D.** The vastness of the cosmos filled the observer with a sense of wonder and awe.

- Ans
- 1. DABC
  - 2. ADCB
  - 3. BCDA
  - 4. ACBD

Question Type : **MCQ**

Question ID : **630680982894**

Option 1 ID : **6306803855537**

Option 2 ID : **6306803855538**

Option 3 ID : **6306803855536**

Option 4 ID : **6306803855535**

Status : **Answered**

Chosen Option : **1**

Marks : **0**

**Q.5** Select the most appropriate option that can substitute the underlined words/segments in the given sentence.

The committee are debating over the new proposal, but they decides to postpone the final decision.

- Ans
- 1. were debating ; decided
  - 2. is debating ; decides
  - 3. is debating ; decide
  - 4. are debating ; decide

Question Type : MCQ

Question ID : 6306801352412

Option 1 ID : 6306805323819

Option 2 ID : 6306805323817

Option 3 ID : 6306805323816

Option 4 ID : 6306805323818

Status : Answered

Chosen Option : 2

Marks : 0

**Q.6** Select the grammatically INCORRECT sentence.

- Ans
- 1. The committee have decided to postpone the meeting until next week.
  - 2. Each of the students has completed their assignments.
  - 3. She runs faster than anyone in the class.
  - 4. Neither the manager nor the employees were aware of the changes.

Question Type : MCQ

Question ID : 6306801183057

Option 1 ID : 6306804651287

Option 2 ID : 6306804651288

Option 3 ID : 6306804651290

Option 4 ID : 6306804651289

Status : Answered

Chosen Option : 1

Marks : 2

**Q.7** The following sentence has been split into four segments. Identify the segment that contains a grammatical error.

The Arabian Nights are / a collection of stories / which are connected / by a central story.

- Ans
- 1. a collection of stories
  - 2. by a central story
  - 3. which are connected
  - 4. The Arabian Nights are

Question Type : MCQ

Question ID : 630680661993

Option 1 ID : 6306802591915

Option 2 ID : 6306802591917

Option 3 ID : 6306802591916

Option 4 ID : 6306802591914

Status : Answered

Chosen Option : 4

Marks : 2

Q.1 \_\_\_\_\_ हे भारतीय स्वातंत्र्य समर्थक बंडखोर आणि मध्य भारतातील गोंड सरदार होते. सन1857 च्या भारतीय बंडादरम्यान त्यांनी चांदा जिल्ह्यात बंडाचे नेतृत्व केले.

- Ans
- 1. बायजा बाई
  - 2. अनंत लक्ष्मण कान्हेरे
  - 3. बाबूराव पुल्लेसुर शेडमाके
  - 4. हुतात्मा बाबू गेनू सैद

Question Type : MCQ

Question ID : 6306801382765

Option 1 ID : 6306805444281

Option 2 ID : 6306805444284

Option 3 ID : 6306805444283

Option 4 ID : 6306805444282

Status : Answered

Chosen Option : 3

Marks : 2

Q.2 खालीलपैकी कोणते विधान/ने बरोबर आहे/आहेत?

1. 2022-23 मध्ये भारतातील एकूण निर्यातीत महाराष्ट्र दुसऱ्या क्रमांकावर आहे, एकूण निर्यात मूल्यात त्याचे योगदान 16% आहे.
2. नीती आयोगाने प्रकाशित केलेल्या निर्यात तयारी निर्देशांक 2022 च्या क्रमवारीनुसार महाराष्ट्र भारतात पहिल्या क्रमांकावर आहे.
3. निर्यात प्रक्रिया समर्पित 27 औद्योगिक वसाहती महाराष्ट्रात आहेत, जी DPIIT, भारत सरकारच्या मते आघाडीच्या श्रेणीत सर्वोच्च आहे.

- Ans
- 1. केवळ (1)
  - 2. केवळ (1), (2) आणि (3)
  - 3. केवळ (1) आणि (2)
  - 4. केवळ (1) आणि (3)

Question Type : MCQ

Question ID : 6306801359514

Option 1 ID : 6306805351751

Option 2 ID : 6306805351753

Option 3 ID : 6306805351750

Option 4 ID : 6306805351752

Status : Answered

Chosen Option : 2

Marks : 0

Q.3 महाराष्ट्रातील वर्धा जिल्ह्यातील स्वातंत्र्यसैनिक बाबा आमटे यांनी साल 1940 च्या दशकात खालीलपैकी कोणत्या विषयाभोवतीचा सामाजिक कलंक ओळखला?

- Ans  1. अस्पृश्यतेवर विश्वास  
 2. विधवांशी भेदभाव  
 3. जाती-आधारित असमानता  
 4. कुष्ठरोगाभोवतीचा कलंक

Question Type : MCQ

Question ID : 6306801359390

Option 1 ID : 6306805351276

Option 2 ID : 6306805351274

Option 3 ID : 6306805351277

Option 4 ID : 6306805351275

Status : Answered

Chosen Option : 4

Marks : 2

Q.4 मुंबई-अहमदाबाद हाय-स्पीड रेल कॉरिडॉर संदर्भात खालील विधाने विचारात घ्या. दिलेल्या विधानांपैकी कोणते/ योग्य आहे/आहेत?

- हा भारतातील पहिला हाय-स्पीड रेल्वे मार्ग प्रकल्प असेल, ज्याची एकूण लांबी 508.17 किमी आहे.
- या गाड्या पारंपारिक ट्रॅक प्रणालीवर धावतील, ज्याचा वापर जगभरातील हाय-स्पीड रेल्वे नेटवर्कसाठी केला जातो.

- Ans  1. 1 किंवा 2 दोन्हीही नाही  
 2. केवळ 2  
 3. केवळ 1  
 4. 1 आणि 2

Question Type : MCQ

Question ID : 6306801359565

Option 1 ID : 6306805351957

Option 2 ID : 6306805351955

Option 3 ID : 6306805351954

Option 4 ID : 6306805351956

Status : Answered

Chosen Option : 3

Marks : 2

Lakshyaa MPSC

Q.5 सत्यशोधक समाजाने वापरलेल्या खालीलपैकी कोणत्या धोरणाने वसाहतवादाच्या काळात शेतकऱ्यांना आर्थिक आणि सामाजिक शोषणाविरुद्ध प्रभावीपणे संघटित केले?

- Ans  1. जमीन महसूल करात कपात करण्यासाठी केवळ ब्रिटिश सरकारवर याचिकांद्वारे दबाव आणणे.
2. शेतकऱ्यांच्या प्रश्नांना तोंड देण्यासाठी दिन मित्र सारखी वर्तमानपत्रे प्रकाशित करणे आणि जनजागृती करण्यासाठी तमाशा (लोकनाट्य) चा वापर करणे.
3. जमीनदार आणि सावकारांवरील अवलंबित्व कमी करण्यासाठी ब्रिटिशांच्या मालकीच्या औद्योगिक सहकारी संस्थांना प्रोत्साहन देणे.
4. शहरी भागात मोठ्या प्रमाणात औद्योगिक संपांचे आयोजन.

Question Type : MCQ  
Question ID : 6306801359320  
Option 1 ID : 6306805350980  
Option 2 ID : 6306805350979  
Option 3 ID : 6306805350981  
Option 4 ID : 6306805350978  
Status : Answered  
Chosen Option : 2  
Marks : 2

Q.6 नाना पाटील यांच्या नेतृत्वाखाली स्थापन झालेले सातान्यातील प्रती सरकार कोणत्या प्रमुख चळवळीचा एक भाग होते?

- Ans  1. 1942 चे भारत छोडो आंदोलन
2. मिठाचा सत्याग्रह
3. असहकार चळवळ
4. सविनय कायदेभंग चळवळ

Question Type : MCQ  
Question ID : 6306801358823  
Option 1 ID : 6306805349035  
Option 2 ID : 6306805349036  
Option 3 ID : 6306805349034  
Option 4 ID : 6306805349037  
Status : Answered  
Chosen Option : 1  
Marks : 2

Section : Aptitude Test 2a

Q.1 खालील चार शब्द-जोड्यांपैकी तीन एका विशिष्ट तऱ्हेने समान आहेत आणि ते मिळून एक गट तयार करतात. त्या गटात न बसणारी शब्द-जोडी कोणती आहे?

- Ans  1. प्रश्न - सांगणे
2. नकार - स्वीकार
3. क्रोध - राग
4. उत्तर-प्रत्युत्तर

Question Type : MCQ  
Question ID : 630680956796  
Option 1 ID : 6306803751188  
Option 2 ID : 6306803751189  
Option 3 ID : 6306803751186  
Option 4 ID : 6306803751187  
Status : Answered  
Chosen Option : 3  
Marks : 0

Q.2 खाली दिलेल्या दोन अक्षर जोड्यांप्रमाणेच रचना असणारी अक्षर जोडी निवडा. दोन्ही जोड्यांची रचना समान आहे.

HEK : KAM  
GFW : JBY

- Ans  1. ELF : HHH  
 2. IMS : LIT  
 3. FKQ : IGT  
 4. RIN : UFP

Question Type : MCQ

Question ID : 630680852133

Option 1 ID : 6306803337591

Option 2 ID : 6306803337588

Option 3 ID : 6306803337590

Option 4 ID : 6306803337589

Status : Answered

Chosen Option : 2

Marks : 0

Q.3 इंग्रजी वर्णमालेच्या आधारे दिलेल्या मालिकेत '?' च्या जागी काय येईल?

UYT QUP MQL IMH ?

- Ans  1. EJC  
 2. EIC  
 3. EJD  
 4. EID

Question Type : MCQ

Question ID : 630680521921

Option 1 ID : 6306802040015

Option 2 ID : 6306802040013

Option 3 ID : 6306802040014

Option 4 ID : 6306802040012

Status : Answered

Chosen Option : 4

Marks : 2

Lakshyaa MPSC

Q.4 इंग्रजी वर्णक्रमावर आधारीत, खालील चार अक्षर-समूह जोड्यांपैकी तीन अक्षर-समूह जोड्या एका विशिष्ट तऱ्हेने समान आहेत आणि ते मिळून एक गट तयार करतात. त्या गटात न बसणारी अक्षर-समूह जोडी कोणती आहे?

(सूचना: गटात न बसणारा हा त्याच्या व्यंजन/स्वरांच्या संख्येवर किंवा अक्षर-समूहातील त्याच्या स्थानावर आधारित नसावा.)

- Ans
- 1. XY-BC
  - 2. EF-IJ
  - 3. WX-ZD
  - 4. BC-FG

Question Type : MCQ

Question ID : 6306801056545

Option 1 ID : 6306804148635

Option 2 ID : 6306804148636

Option 3 ID : 6306804148633

Option 4 ID : 6306804148634

Status : Answered

Chosen Option : 3

Marks : 2

Q.5 ज्याप्रमाणे दुसरा शब्द पहिल्या शब्दांशी संबंधित आहे, त्याचप्रमाणे तिसऱ्या शब्दाशी संबंधित असलेला शब्द पर्यायांमधून निवडा.

FOREST: DENSE :: LIBRARY : ?

- Ans
- 1. Noisy
  - 2. Crowded
  - 3. Quiet
  - 4. Abundant

Question Type : MCQ

Question ID : 6306801382867

Option 1 ID : 6306805444691

Option 2 ID : 6306805444690

Option 3 ID : 6306805444692

Option 4 ID : 6306805444689

Status : Answered

Chosen Option : 2

Marks : 0

Lakshyaa MPSC

Q.6 खाली दिलेल्या दोन अक्षर जोड्यांप्रमाणेच रचना असणारी अक्षर जोडी निवडा. दोन्ही जोड्यांची रचना समान आहे.

QPDG : VJHD  
GOUD : LIYA

- Ans  1. CAST : HGWQ  
 2. MARK : RUVH  
 3. TOLD : YIPZ  
 4. GRIP : LXMS

Question Type : MCQ

Question ID : 630680556037

Option 1 ID : 6306802173527

Option 2 ID : 6306802173525

Option 3 ID : 6306802173526

Option 4 ID : 6306802173524

Status : Answered

Chosen Option : 3

Marks : 0

Section : Marathi 3a

Q.1 मी, भिमा, रमेश, बाळू, प्रकाश, तानाजी अशी दहा- बारा पोरे एकत्र यायचो. या वाक्यात एकूण किती प्रकारची विरामचिन्हे आली आहेत.

- Ans  1. सात  
 2. तीन  
 3. आठ  
 4. चार

Question Type : MCQ

Question ID : 6306801368411

Option 1 ID : 6306805386901

Option 2 ID : 6306805386903

Option 3 ID : 6306805386900

Option 4 ID : 6306805386902

Status : Answered

Chosen Option : 2

Marks : 2



Q.2 पुढील सामासिक शब्दापेकी बहुव्रीही समासाचे उदाहरण ओळखा.

- Ans  1. लक्ष्मीकांत  
 2. घोडेस्वार  
 3. अहिनकुल  
 4. नरसिंह

Question Type : MCQ  
Question ID : 6306801372427  
Option 1 ID : 6306805403014  
Option 2 ID : 6306805403017  
Option 3 ID : 6306805403015  
Option 4 ID : 6306805403016  
Status : Answered  
Chosen Option : 1  
Marks : 2

Q.3 पासनापास या शब्दाचा समास ओळखा.

- Ans  1. इतरेतर द्वंद्व समास  
 2. उपपद तत्पुरुष समास  
 3. वैकल्पिक द्वंद्व समास  
 4. मध्यमपदलोपी समास

Question Type : MCQ  
Question ID : 6306801368360  
Option 1 ID : 6306805386696  
Option 2 ID : 6306805386697  
Option 3 ID : 6306805386699  
Option 4 ID : 6306805386698  
Status : Answered  
Chosen Option : 3  
Marks : 2

Q.4 पुढे दिलेल्या शब्दाचा समास सांगा.  
न्यायान्याय

- Ans  1. समाहार द्वंद्व समास  
 2. इतरेतर द्वंद्व समास  
 3. वैकल्पिक द्वंद्व समास  
 4. द्विगु समास

Question Type : MCQ  
Question ID : 6306801372424  
Option 1 ID : 6306805403004  
Option 2 ID : 6306805403003  
Option 3 ID : 6306805403002  
Option 4 ID : 6306805403005  
Status : Answered  
Chosen Option : 3  
Marks : 2

Q.5 मूलध्वनीना 'वर्ण' असे म्हणतात. अधोरेखित शब्दाचे विरामचिन्ह ओळखा.

- Ans  1. एकेरी अवतरणचिन्ह  
 2. संयोगचिन्ह  
 3. स्वल्पविराम  
 4. अपसारण चिन्ह

Question Type : MCQ  
Question ID : 6306801367470  
Option 1 ID : 6306805383160  
Option 2 ID : 6306805383161  
Option 3 ID : 6306805383159  
Option 4 ID : 6306805383162  
Status : Answered  
Chosen Option : 1  
Marks : 2

Q.6 निशाने मध्येच विचारले, "कोण होते?" या वाक्यात किती विरामचिन्हे आली आहेत?

- Ans  1. एक  
 2. तीन  
 3. दोन  
 4. चार

Question Type : MCQ  
Question ID : 6306801367452  
Option 1 ID : 6306805383128  
Option 2 ID : 6306805383130  
Option 3 ID : 6306805383129  
Option 4 ID : 6306805383127  
Status : Answered  
Chosen Option : 2  
Marks : 2

Section : English 3a

Q.1 Select the most appropriate option to fill in the blank and complete the given phrase.  
After a busy schedule, Mehek decided to take forty \_\_\_\_\_.

- Ans  1. push ups  
 2. winks  
 3. sit ups  
 4. squats

Question Type : MCQ  
Question ID : 6306801359231  
Option 1 ID : 6306805350624  
Option 2 ID : 6306805350622  
Option 3 ID : 6306805350625  
Option 4 ID : 6306805350623  
Status : Answered  
Chosen Option : 4  
Marks : 0

Q.2 Select the most appropriate option to complete the idiom in the given sentence.

In the underdeveloped country, millions of people struggle hard to keep the wolf from the \_\_\_\_\_.

- Ans  1. roof  
 2. door  
 3. window  
 4. wall

Question Type : MCQ  
Question ID : 630680693894  
Option 1 ID : 6306802717712  
Option 2 ID : 6306802717713  
Option 3 ID : 6306802717711  
Option 4 ID : 6306802717714  
Status : Answered  
Chosen Option : 1  
Marks : 0

Q.3 Select the most appropriate ANTONYM of the underlined word.

The research student, instead of finding a home for herself, found an environment more hostile than her previous university.

- Ans  1. Frigid  
 2. Friendly  
 3. Belligerent  
 4. Hateful

Question Type : MCQ  
Question ID : 6306801082856  
Option 1 ID : 6306804252711  
Option 2 ID : 6306804252712  
Option 3 ID : 6306804252713  
Option 4 ID : 6306804252714  
Status : Answered  
Chosen Option : 2  
Marks : 2

Q.4 Select the most appropriate option to fill in the blank and complete the given idiom/phrase.

Sara thought her answer was right, but when the teacher corrected her mistake, she had to eat \_\_\_\_\_ in front of the class.

- Ans  1. bitter gourd  
 2. an apple  
 3. a piece of cake  
 4. humble pie

Question Type : MCQ  
Question ID : 6306801359232  
Option 1 ID : 6306805350629  
Option 2 ID : 6306805350626  
Option 3 ID : 6306805350627  
Option 4 ID : 6306805350628  
Status : Answered  
Chosen Option : 4  
Marks : 2

Q.5 Select the antonym of the bracketed word in the sentence.

His (spontaneous) decision was a stark contrast to her carefully planned approach.

- Ans
- 1. instinctive
  - 2. impulsive
  - 3. sudden
  - 4. planned

Question Type : MCQ

Question ID : 6306801382628

Option 1 ID : 6306805443751

Option 2 ID : 6306805443750

Option 3 ID : 6306805443749

Option 4 ID : 6306805443752

Status : Answered

Chosen Option : 4

Marks : 2

Q.6 Select the antonym of the bracketed word in the sentence.

The (ancient) artifact was displayed next to a contemporary replica, showcasing the museum's commitment to preserving history.

- Ans
- 1. classical
  - 2. archaic
  - 3. vintage
  - 4. modern

Question Type : MCQ

Question ID : 6306801382630

Option 1 ID : 6306805443757

Option 2 ID : 6306805443760

Option 3 ID : 6306805443758

Option 4 ID : 6306805443759

Status : Answered

Chosen Option : 4

Marks : 2

Section : General Knowledge 3a

Lakshyaa MPSC

Q.1 The person, who is casually engaged in others' farm or non-farm enterprises and, in return, receives wages according to the terms of the daily or periodic work contract is called a/an \_\_\_\_\_.

- Ans
- 1. regular labourer
  - 2. casual wage labourer
  - 3. disguise labourer
  - 4. under labourer

Question Type : MCQ  
Question ID : 6306801353748  
Option 1 ID : 6306805329091  
Option 2 ID : 6306805329088  
Option 3 ID : 6306805329089  
Option 4 ID : 6306805329090  
Status : Answered  
Chosen Option : 2  
Marks : 2

Q.2 Which of the following correctly defines 'dirty floating' exchange rate system?

- Ans
- 1. The exchange rate is allowed to fluctuate freely, but with occasional government intervention.
  - 2. The exchange rate is determined solely by market forces.
  - 3. The exchange rate is fixed by the government.
  - 4. The exchange rate is fixed but periodically adjusted by the government.

Question Type : MCQ  
Question ID : 630680788203  
Option 1 ID : 6306803088608  
Option 2 ID : 6306803088610  
Option 3 ID : 6306803088609  
Option 4 ID : 6306803088611  
Status : Answered  
Chosen Option : 1  
Marks : 2

Q.3 2 फेब्रुवारी 2006 रोजी महात्मा गांधी राष्ट्रीय ग्रामीण रोजगार हमी अधिनियमन (MGNREGA) लागू करण्यात आला आणि अंमलात आला. हा जगातील अशा प्रकारचा पहिला कायदा होता ज्यातून \_\_\_\_\_ सुमारे 2/3 लोकसंख्येला आर्थिक सुरक्षा जाळे प्रदान केले जाते.

- Ans
- 1. शिक्षणाच्या हक्काद्वारे
  - 2. स्वातंत्र्याच्या हक्काद्वारे
  - 3. समानतेच्या हक्काद्वारे
  - 4. कामाच्या हक्काद्वारे

Question Type : MCQ  
Question ID : 6306801382774  
Option 1 ID : 6306805444319  
Option 2 ID : 6306805444320  
Option 3 ID : 6306805444317  
Option 4 ID : 6306805444318  
Status : Answered  
Chosen Option : 4  
Marks : 2

Q.4 महिला सन्मान योजनेबाबत खालील विधाने विचारात घ्या. दिलेल्या विधानांपैकी कोणते योग्य आहे/आहेत?

1. ही योजना महाराष्ट्र सरकार (GoM) द्वारे ADB च्या सहाय्याने राज्यात MSRTC बसने प्रवास करणाऱ्या महिला प्रवाशांसाठी राबवली जाते.
2. ही योजना शहर वाहतुकीसह (शहराच्या आत) बस भाड्यात 50% सवलत प्रदान करते.

Ans  1. 1 किंवा 2 दोन्ही नाही

2. केवळ 2

3. केवळ 1

4. 1 आणि 2 दोन्ही

Question Type : MCQ

Question ID : 6306801359554

Option 1 ID : 6306805351913

Option 2 ID : 6306805351911

Option 3 ID : 6306805351910

Option 4 ID : 6306805351912

Status : Answered

Chosen Option : 3

Marks : 0

Q.5 खालीलपैकी कोणते विधान ओझोन अवक्षयाच्या संदर्भात आहे?

- Ans  1. ओझोन अवक्षय म्हणजे जीवावरणातील ओझोनचे प्रमाण कमी होण्याच्या घटनेला सूचित करते.
2. ओझोन अवक्षय म्हणजे समतापमंडलातील (stratosphere) ओझोनचे प्रमाण कमी होण्याच्या घटनेला सूचित करते.
3. ओझोन अवक्षय म्हणजे मध्यगोलकातील (mesosphere) ओझोनचे प्रमाण कमी होण्याच्या घटनेला सूचित करते.
4. ओझोन अवक्षय म्हणजे जलावरणातील ओझोनचे प्रमाण कमी होण्याच्या घटनेला सूचित करते.

Question Type : MCQ

Question ID : 630680848968

Option 1 ID : 6306803325407

Option 2 ID : 6306803325409

Option 3 ID : 6306803325408

Option 4 ID : 6306803325406

Status : Answered

Chosen Option : 2

Marks : 2

Q.6 महाराष्ट्राचा 80% पेक्षा अधिक भाग हा \_\_\_\_\_ खडकांनी बनलेला आहे.

- Ans  1. चुनखडी
2. बेसाल्ट
3. वालुकाश्म
4. रूपांतरित

Question Type : MCQ

Question ID : 6306801382750

Option 1 ID : 6306805444224

Option 2 ID : 6306805444221

Option 3 ID : 6306805444222

Option 4 ID : 6306805444223

Status : Answered

Chosen Option : 2

Marks : 2

Q.7 महाराष्ट्राच्या हवामानाबाबत खालील विधाने विचारात घ्या.

विधान-1: महाराष्ट्राच्या उत्तरेकडील भागातून कर्कवृत्त जाते, ज्यामुळे या भागात वर्षभर उच्च तापमान असते.  
विधान-2: सह्याद्री पर्वतरांगांमुळे महाराष्ट्राच्या हवामानात फरक पडतो, परिणामी कोकण प्रदेशात दमट परिस्थिती निर्माण होते तर पूर्वेकडील प्रदेश उष्ण आणि कोरडा राहतो.  
विधान-3: महाराष्ट्राच्या पश्चिम किनाऱ्यावर, ज्याला कोकण म्हणून ओळखले जाते, तेथे सह्याद्री पर्वतरांगांच्या खालच्या बाजूपेक्षा जास्त पाऊस पडतो.  
वरील विधानांच्या संदर्भात खालीलपैकी कोणते विधान योग्य आहे?

- Ans
- 1. विधान I आणि II योग्य आहेत, परंतु विधान III अयोग्य आहे.
  - 2. विधान I आणि III योग्य आहेत, परंतु विधान II अयोग्य आहे.
  - 3. विधान II आणि III योग्य आहेत, परंतु विधान I अयोग्य आहे.
  - 4. तिन्ही विधाने योग्य आहेत.

Question Type : MCQ

Question ID : 6306801377984

Option 1 ID : 6306805425350

Option 2 ID : 6306805425352

Option 3 ID : 6306805425351

Option 4 ID : 6306805425349

Status : Answered

Chosen Option : 3

Marks : 2

Section : Aptitude Test 3a

Q.1 खाली विशिष्ट प्रकारे एकमेकांशी संबंधित असलेल्या दोन शब्दजोड्या दिलेल्या आहेत. खालील चारपैकी तीन शब्दजोड्यांमध्ये समान सहसंबंध आहे आणि त्यामुळे त्यांचा एक गट तयार होतो. त्या गटात न बसणारी शब्दजोडी कोणती आहे?

- Ans
- 1. service - assist
  - 2. hurt - injury
  - 3. cure - hurt
  - 4. lift - support

Question Type : MCQ

Question ID : 630680743191

Option 1 ID : 6306802913066

Option 2 ID : 6306802913065

Option 3 ID : 6306802913064

Option 4 ID : 6306802913063

Status : Answered

Chosen Option : 2

Marks : 0

Q.2 Refer to the given letter series and answer the question that follows.

(Left) Z O G U E S T B Y M C X D F I H K W R A Q (Right)

How many such vowels are there, each of which is immediately preceded by a consonant and also immediately followed by another consonant?

- Ans  1. 2  
 2. 3  
 3. 4  
 4. 5

Question Type : MCQ

Question ID : 630680929839

Option 1 ID : 6306803644179

Option 2 ID : 6306803644180

Option 3 ID : 6306803644181

Option 4 ID : 6306803644182

Status : Answered

Chosen Option : 1

Marks : 0

Q.3 एका विशिष्ट सांकेतिक भाषेत, 'TYRE' ला '4725' असे, आणि 'ERST' ला '5672' असे संकेतबद्ध केले जाते. दिलेल्या सांकेतिक भाषेत 'S' साठी काय संकेत असेल?

- Ans  1. 7  
 2. 5  
 3. 2  
 4. 6

Question Type : MCQ

Question ID : 630680876907

Option 1 ID : 6306803434313

Option 2 ID : 6306803434312

Option 3 ID : 6306803434311

Option 4 ID : 6306803434310

Status : Answered

Chosen Option : 4

Marks : 2

Q.4 इंग्रजी वर्णमाला क्रमावर आधारित रचनेनुसार WPMB हे PIRG शी संबंधित आहे. त्याचप्रकारे, UNGV हे NGLA शी संबंधित आहे, त्याच तर्कानुसार, खालीलपैकी कोणता पर्याय ZSVK शी संबंधित आहे?

- Ans  1. SALP  
 2. SLPA  
 3. SAPL  
 4. SLAP

Question Type : MCQ

Question ID : 630680670502

Option 1 ID : 6306802625576

Option 2 ID : 6306802625579

Option 3 ID : 6306802625577

Option 4 ID : 6306802625578

Status : Answered

Chosen Option : 1

Marks : 0



Q.5 इंग्रजी वर्णमाला क्रमावर आधारित, खालील चार अक्षर-समूहांपैकी तीन अक्षर-समूह एका विशिष्ट तऱ्हेने समान आहेत आणि ते मिळून एक गट तयार करतात. त्या गटात न बसणारा अक्षर-समूह कोणता आहे?

(सूचना: गटात न बसणारा अक्षर-समूह हा त्याच्या व्यंजन/स्वरांच्या संख्येवर किंवा अक्षर-समूहातील त्याच्या स्थानावर आधारित नसावा.)

- Ans
- 1. FCX
  - 2. AXS
  - 3. NKF
  - 4. SPM

Question Type : MCQ

Question ID : 630680862551

Option 1 ID : 6306803378075

Option 2 ID : 6306803378077

Option 3 ID : 6306803378076

Option 4 ID : 6306803378078

Status : Answered

Chosen Option : 4

Marks : 2

Q.6 इंग्रजी वर्णमाला क्रमावर आधारित, खालील चार अक्षर-समूहांपैकी तीन अक्षर-समूह एका विशिष्ट तऱ्हेने समान आहेत आणि ते मिळून एक गट तयार करतात. त्या गटात न बसणारा अक्षर-समूह कोणता आहे?

(सूचना: गटात न बसणारा अक्षर-समूह हा त्याच्या व्यंजन/स्वरांच्या संख्येवर किंवा अक्षर-समूहातील त्याच्या स्थानावर आधारित नसावा.)

- Ans
- 1. PLJ
  - 2. KIB
  - 3. YUS
  - 4. JFD

Question Type : MCQ

Question ID : 630680865702

Option 1 ID : 6306803390627

Option 2 ID : 6306803390629

Option 3 ID : 6306803390628

Option 4 ID : 6306803390626

Status : Answered

Chosen Option : 2

Marks : 2

Section : Marathi 4a

Q.1 पुढील वाक्य प्रकारांपैकी मिश्र वाक्याचा प्रकार ओळखा.

- Ans  1. तुम्हाला या कार्यात यश लाभो.  
 2. जेव्हा भारत संपन्न होता, तेव्हा सोन्याचा धूर निघत होता .  
 3. उद्यापासून खेळ सुरु होईल.  
 4. तो विद्यार्थी शिस्तीने वागत नाही

Question Type : MCQ  
Question ID : 6306801372471  
Option 1 ID : 6306805403191  
Option 2 ID : 6306805403190  
Option 3 ID : 6306805403192  
Option 4 ID : 6306805403193  
Status : Answered  
Chosen Option : 2  
Marks : 2

Q.2 विरुद्धार्थी शब्दाची अयोग्य जोडी ओळखा.

- Ans  1. कर्णमधुर × कर्णकटू  
 2. अतिवृष्टी × अनावृष्टी  
 3. आगंतुक × शेवट  
 4. माजी × विद्यमान

Question Type : MCQ  
Question ID : 6306801367416  
Option 1 ID : 6306805382986  
Option 2 ID : 6306805382984  
Option 3 ID : 6306805382983  
Option 4 ID : 6306805382985  
Status : Answered  
Chosen Option : 3  
Marks : 2

Q.3 'जो माझी सेवा करेल, तो सुखी होईल ' ही वाक्यरचना कोणत्या प्रकारची आहे?

- Ans  1. मिश्र वाक्य  
 2. संयुक्त वाक्य  
 3. केवलवाक्य  
 4. विधानार्थी वाक्य

Question Type : MCQ  
Question ID : 6306801367443  
Option 1 ID : 6306805383091  
Option 2 ID : 6306805383092  
Option 3 ID : 6306805383093  
Option 4 ID : 6306805383094  
Status : Answered  
Chosen Option : 1  
Marks : 2

Q.4 'उदार' या शब्दाला विरुद्धार्थी असलेला शब्द ओळखा.

- Ans  1. दानशूर  
 2. उधळ्या  
 3. कंजूष  
 4. उदात्त

Question Type : MCQ

Question ID : 6306801367417

Option 1 ID : 6306805382990

Option 2 ID : 6306805382987

Option 3 ID : 6306805382988

Option 4 ID : 6306805382989

Status : Answered

Chosen Option : 3

Marks : 2

Q.5 'पडछाया' या शब्दासाठी विरुद्धार्थी शब्द निवडा.

- Ans  1. प्रतिबिंब  
 2. छाया  
 3. पडताळा  
 4. पडसाद

Question Type : MCQ

Question ID : 6306801367410

Option 1 ID : 6306805382962

Option 2 ID : 6306805382961

Option 3 ID : 6306805382960

Option 4 ID : 6306805382959

Status : Answered

Chosen Option : 3

Marks : 0

Q.6 पुढे दिलेल्या वाक्याचा प्रकार ओळखा.  
आम्हाला बक्षीस कधी मिळेल?

- Ans  1. विधानार्थी वाक्य  
 2. होकारार्थी वाक्य  
 3. नकारार्थी वाक्य  
 4. प्रश्नार्थी वाक्य

Question Type : MCQ

Question ID : 6306801372450

Option 1 ID : 6306805403109

Option 2 ID : 6306805403106

Option 3 ID : 6306805403107

Option 4 ID : 6306805403108

Status : Answered

Chosen Option : 4

Marks : 2

**Q.1 Select the most appropriate ANTONYM of the underlined word in the given sentence.**  
His extroverted personality made him the life of the party.

- Ans  1. Ambidextrous  
 2. Introverted  
 3. Ambiverted  
 4. Attractive

Question Type : MCQ  
Question ID : 6306801353758  
Option 1 ID : 6306805329130  
Option 2 ID : 6306805329129  
Option 3 ID : 6306805329128  
Option 4 ID : 6306805329131  
Status : Answered  
Chosen Option : 2  
Marks : 2

**Comprehension:**

Read the given passage carefully and select the most appropriate answer to the questions that follow.

The metaphor of red and blue oceans describes the market universe. Red oceans represent all the industries in existence today – the known market space. In the red oceans, industry boundaries are defined and accepted, and the competitive rules of the game are known. Here companies try to outperform their rivals to grab a greater share of product or service demand. As the market space gets crowded, prospects for profits and growth are reduced. Products become commodities or niche, and cutthroat competition turns the ocean bloody; hence, the term "red oceans". Blue oceans, in contrast, denote all the industries not in existence today – the unknown market space, untainted by competition. In blue oceans, demand is created rather than fought over. There is ample opportunity for growth that is both profitable and rapid. In blue oceans, competition is irrelevant because the rules of the game are waiting to be set. Blue ocean is an analogy to describe the wider, deeper potential of market space that is not yet explored.

**SubQuestion No : 2**

**Q.2 Select the options which is the most appropriate meaning of the bracketed word given in the sentence below.**

'...Blue ocean is an (analogy) to describe the wider, deeper potential of market space that is not yet explored...'

- Ans  1. A closely similar case.  
 2. One that serves as a pattern to be imitated.  
 3. One that is representative of all of a group.  
 4. A comparison of two otherwise unlike things based on resemblance of a particular aspect.

Question Type : MCQ  
Question ID : 6306801382664  
Option 1 ID : 6306805443886  
Option 2 ID : 6306805443885  
Option 3 ID : 6306805443888  
Option 4 ID : 6306805443887  
Status : Answered  
Chosen Option : 3  
Marks : 0

**Comprehension:**

Read the given passage carefully and select the most appropriate answer to the questions that follow.

The metaphor of red and blue oceans describes the market universe. Red oceans represent all the industries in existence today – the known market space. In the red oceans, industry boundaries are defined and accepted, and the competitive rules of the game are known. Here companies try to outperform their rivals to grab a greater share of product or service demand. As the market space gets crowded, prospects for profits and growth are reduced. Products become commodities or niche, and cutthroat competition turns the ocean bloody; hence, the term "red oceans". Blue oceans, in contrast, denote all the industries not in existence today – the unknown market space, untainted by competition. In blue oceans, demand is created rather than fought over. There is ample opportunity for growth that is both profitable and rapid. In blue oceans, competition is irrelevant because the rules of the game are waiting to be set. Blue ocean is an analogy to describe the wider, deeper potential of market space that is not yet explored.

**SubQuestion No : 3**

**Q.3 Which of the following statements is not true with respect to the passage?**

- Ans
- 1. Red oceans represent all the industries in existence today.
  - 2. In blue oceans, competition is irrelevant.
  - 3. Blue oceans, in contrast, denote all the industries that have existed in the past.
  - 4. The metaphor of red and blue oceans describes the market universe.

Question Type : MCQ

Question ID : 6306801382661

Option 1 ID : 6306805443873

Option 2 ID : 6306805443875

Option 3 ID : 6306805443876

Option 4 ID : 6306805443874

Status : Answered

Chosen Option : 4

Marks : 0

Lakshyaa MPSC

**Comprehension:**

Read the given passage carefully and select the most appropriate answer to the questions that follow.

The metaphor of red and blue oceans describes the market universe. Red oceans represent all the industries in existence today – the known market space. In the red oceans, industry boundaries are defined and accepted, and the competitive rules of the game are known. Here companies try to outperform their rivals to grab a greater share of product or service demand. As the market space gets crowded, prospects for profits and growth are reduced. Products become commodities or niche, and cutthroat competition turns the ocean bloody; hence, the term "red oceans". Blue oceans, in contrast, denote all the industries not in existence today – the unknown market space, untainted by competition. In blue oceans, demand is created rather than fought over. There is ample opportunity for growth that is both profitable and rapid. In blue oceans, competition is irrelevant because the rules of the game are waiting to be set. Blue ocean is an analogy to describe the wider, deeper potential of market space that is not yet explored.

**SubQuestion No : 4**

**Q.4 From the given options, identify the suitable title for the passage.**

- Ans  1. Cut Throat Competition  
 2. Red and Blue Ocean  
 3. Service Demands  
 4. Profitability

Question Type : MCQ

Question ID : 6306801382660

Option 1 ID : 6306805443870

Option 2 ID : 6306805443871

Option 3 ID : 6306805443872

Option 4 ID : 6306805443869

Status : Answered

Chosen Option : 1

Marks : 0

Lakshyaa MPSC

**Comprehension:**

Read the given passage carefully and select the most appropriate answer to the questions that follow.

The metaphor of red and blue oceans describes the market universe. Red oceans represent all the industries in existence today – the known market space. In the red oceans, industry boundaries are defined and accepted, and the competitive rules of the game are known. Here companies try to outperform their rivals to grab a greater share of product or service demand. As the market space gets crowded, prospects for profits and growth are reduced. Products become commodities or niche, and cutthroat competition turns the ocean bloody; hence, the term "red oceans". Blue oceans, in contrast, denote all the industries not in existence today – the unknown market space, untainted by competition. In blue oceans, demand is created rather than fought over. There is ample opportunity for growth that is both profitable and rapid. In blue oceans, competition is irrelevant because the rules of the game are waiting to be set. Blue ocean is an analogy to describe the wider, deeper potential of market space that is not yet explored.

**SubQuestion No : 5**

**Q.5 What is the tone of the passage?**

- Ans
- 1. Blissful
  - 2. Cynical
  - 3. Descriptive
  - 4. Grandiose

Question Type : MCQ

Question ID : 6306801382663

Option 1 ID : 6306805443883

Option 2 ID : 6306805443884

Option 3 ID : 6306805443882

Option 4 ID : 6306805443881

Status : Answered

Chosen Option : 3

Marks : 2

Lakshyaa MPSC

**Comprehension:**

Read the given passage carefully and select the most appropriate answer to the questions that follow.

The metaphor of red and blue oceans describes the market universe. Red oceans represent all the industries in existence today – the known market space. In the red oceans, industry boundaries are defined and accepted, and the competitive rules of the game are known. Here companies try to outperform their rivals to grab a greater share of product or service demand. As the market space gets crowded, prospects for profits and growth are reduced. Products become commodities or niche, and cutthroat competition turns the ocean bloody; hence, the term "red oceans". Blue oceans, in contrast, denote all the industries not in existence today – the unknown market space, untainted by competition. In blue oceans, demand is created rather than fought over. There is ample opportunity for growth that is both profitable and rapid. In blue oceans, competition is irrelevant because the rules of the game are waiting to be set. Blue ocean is an analogy to describe the wider, deeper potential of market space that is not yet explored.

**SubQuestion No : 6**

**Q.6 Identify the correct inference that can be drawn from the passage.**

**Ans** ✓ 1. Those looking for rapid growth should enter into the Blue Ocean market place where they can set their rules.

✗ 2. Blue Oceans provide guidelines to enter into the market place with a competitive edge.

✗ 3. Red Oceans help new entrants to enter into the market place effectively by eliminating competition

✗ 4. Whatever steps be taken, demand has to be created than fought over.

Question Type : MCQ

Question ID : 6306801382662

Option 1 ID : 6306805443877

Option 2 ID : 6306805443878

Option 3 ID : 6306805443879

Option 4 ID : 6306805443880

Status : Answered

Chosen Option : 1

Marks : 2

Section : General Knowledge 4a

**Q.1 The solution to the supply side of the vicious circle: \_\_\_\_\_ should be done.**

**Ans** ✓ 1. An increase in savings and investments

✗ 2. An increase in savings and decrease in investments

✗ 3. A decrease in savings and investments

✗ 4. A decrease in savings and increase in investments

Question Type : MCQ

Question ID : 6306801382755

Option 1 ID : 6306805444241

Option 2 ID : 6306805444242

Option 3 ID : 6306805444243

Option 4 ID : 6306805444244

Status : Answered

Chosen Option : 4

Marks : 0



Q.2 भारतातील राज्यपालांच्या नियुक्तीची प्रक्रिया \_\_\_\_\_ च्या संविधानातून घेण्यात आली आहे.

- Ans
- 1. जपान
  - 2. जर्मनी
  - 3. युनायटेड स्टेट्स ऑफ अमेरिका
  - 4. कॅनडा

Question Type : MCQ  
Question ID : 630680766347  
Option 1 ID : 6306803003743  
Option 2 ID : 6306803003744  
Option 3 ID : 6306803003741  
Option 4 ID : 6306803003742  
Status : Answered  
Chosen Option : 4  
Marks : 2

Q.3 भारतीय राज्यघटनेच्या कोणत्या अनुच्छेदात मंत्र्यांच्या वैयक्तिक जबाबदारीचे तत्व समाविष्ट आहे?

- Ans
- 1. अनुच्छेद 74
  - 2. अनुच्छेद 78
  - 3. अनुच्छेद 75
  - 4. अनुच्छेद 88

Question Type : MCQ  
Question ID : 63068052939  
Option 1 ID : 630680203858  
Option 2 ID : 630680203860  
Option 3 ID : 630680203859  
Option 4 ID : 630680203861  
Status : Answered  
Chosen Option : 2  
Marks : 0

Q.4 खाली दोन विधाने दिली आहेत - त्यापैकी एक प्रतिपादन आहे आणि दुसरे कारण आहे.

प्रतिपादन : भारतीय राज्यघटनेनुसार राज्याचे मुख्यमंत्री राज्यपालांना त्यांच्या पदावरून हटवण्यासंदर्भात राष्ट्रपतींना विनंती करू शकतात.

कारण: राज्यपालांची मर्जी असेपर्यंत राज्याचे मुख्यमंत्री स्वतः कार्यभार सांभाळू शकतात.  
वरील दोन विधानांच्या संदर्भात खालीलपैकी कोणते विधान बरोबर आहे?

- Ans
- 1. विधान चुकीचे आहे, पण कारण बरोबर आहे.
  - 2. विधान बरोबर आहे, पण कारण चुकीचे आहे.
  - 3. प्रतिपादन आणि कारण दोन्ही बरोबर आहेत आणि कारण हेच प्रतिपादनाचे योग्य स्पष्टीकरण आहे.
  - 4. प्रतिपादन आणि कारण दोन्ही बरोबर आहेत, पण कारण हे प्रतिपादनाचे चुकीचे स्पष्टीकरण आहे.

Question Type : MCQ  
Question ID : 630680814606  
Option 1 ID : 6306803191638  
Option 2 ID : 6306803191637  
Option 3 ID : 6306803191635  
Option 4 ID : 6306803191636  
Status : Answered  
Chosen Option : 1  
Marks : 2

Q.5 Which Article of the Constitution of India provides the veto powers to The President of India?

- Ans  1. Article 123  
 2. Article 352  
 3. Article 111  
 4. Article 360

Question Type : MCQ  
Question ID : 63068052935  
Option 1 ID : 630680203843  
Option 2 ID : 630680203844  
Option 3 ID : 630680203842  
Option 4 ID : 630680203845  
Status : Answered  
Chosen Option : 3  
Marks : 2

Q.6 खालीलपैकी कोणता अनुच्छेद राज्य विधानसभेतील वार्षिक आर्थिक विवरणाशी संबंधित आहे?

- Ans  1. अनुच्छेद 163  
 2. अनुच्छेद 200  
 3. अनुच्छेद 202  
 4. अनुच्छेद 165

Question Type : MCQ  
Question ID : 630680722424  
Option 1 ID : 6306802830964  
Option 2 ID : 6306802830966  
Option 3 ID : 6306802830967  
Option 4 ID : 6306802830965  
Status : Answered  
Chosen Option : 3  
Marks : 2

Section : Aptitude Test 4a

Q.1 दिलेल्या मालिकेत प्रश्नचिन्हाच्या (?) जागी खालीलपैकी कोणती संख्या येईल?

44 65 90 119 152 ?

- Ans  1. 189  
 2. 179  
 3. 199  
 4. 209

Question Type : MCQ  
Question ID : 630680577738  
Option 1 ID : 6306802259797  
Option 2 ID : 6306802259796  
Option 3 ID : 6306802259798  
Option 4 ID : 6306802259799  
Status : Answered  
Chosen Option : 1  
Marks : 2

Q.2 खाली संख्यांजोडींमधील, पहिल्या संख्येवर केलेल्या विशिष्ट गणितीय क्रियेतून/क्रियांतून दुसरी संख्या प्राप्त केली आहे. खालील संचातील संख्या ज्याप्रमाणे संबंधित आहेत, त्याचप्रमाणे संबंध असणारा संच पर्यायांमधून निवडा. (सूचना : क्रिया संपूर्ण संख्येवर कराव्यात, तिच्यातील अंकांमध्ये त्या संख्येची विभागणी करू नये. उदाहरणार्थ, 13 - येथे 13 वर बेरीज/वजाबाकी/गुणाकार इ. क्रिया करणे अभिप्रेत आहे, मात्र 13 ची विभागणी 1 आणि 3 अशी करून 1 आणि 3 यांवर गणिती क्रिया करणे अभिप्रेत नाही.)

20 - 10  
34 - 17

Ans  1. 72 - 34

2. 42 - 21

3. 60 - 20

4. 50 - 35

Question Type : MCQ

Question ID : 630680857724

Option 1 ID : 6306803359568

Option 2 ID : 6306803359570

Option 3 ID : 6306803359569

Option 4 ID : 6306803359567

Status : Answered

Chosen Option : 2

Marks : 2

Q.3 दिलेल्या मालिकेत प्रश्नचिन्हाच्या (?) जागी खालीलपैकी कोणती संख्या येईल?

201 152 116 91 75 ?

Ans  1. 64

2. 62

3. 66

4. 60

Question Type : MCQ

Question ID : 630680577724

Option 1 ID : 6306802259741

Option 2 ID : 6306802259742

Option 3 ID : 6306802259740

Option 4 ID : 6306802259743

Status : Answered

Chosen Option : 3

Marks : 2

Q.4 खालील संख्या-जोड्यांमध्ये, पहिल्या संख्येवर विशिष्ट गणिती क्रिया करून दुसरी संख्या मिळवली आहे. X आणि Y च्या जागी कोणती संख्या येईल जेणेकरून :: च्या डावीकडील दोन संख्यांचा आकृतीबंध :: च्या उजव्या बाजूचा आकृतीबंध सारखा असेल?

(सूचना: संख्यांना त्यांच्या घटक अंकांमध्ये विभाजित न करता, संपूर्ण संख्यांवर गणिती क्रिया करणे अभिप्रेत आहे. उदा. 13 - 13 मध्ये 13 वर बेरीज/वजाबाकी/गुणाकार यासारख्या क्रिया केल्या जाऊ शकतात. 13 चे 1 आणि 3 मध्ये विभाजन करून आणि नंतर 1 आणि 3 वर गणिती क्रिया करणे अभिप्रेत नाही.)

X : 400 :: 15 : Y

- Ans  1. X = 22, Y = 289  
 2. X = 18, Y = 169  
 3. X = 20, Y = 256  
 4. X = 19, Y = 256

Question Type : MCQ

Question ID : 630680515884

Option 1 ID : 6306802015942

Option 2 ID : 6306802015941

Option 3 ID : 6306802015944

Option 4 ID : 6306802015943

Status : Answered

Chosen Option : 2

Marks : 0

Q.5 दिलेल्या मालिकेत प्रश्नचिन्हाच्या (?) जागी खालीलपैकी कोणती संख्या येईल?

394 206 130 74 64 ?

- Ans  1. 59  
 2. 49  
 3. 55  
 4. 41

Question Type : MCQ

Question ID : 630680880450

Option 1 ID : 6306803448443

Option 2 ID : 6306803448444

Option 3 ID : 6306803448442

Option 4 ID : 6306803448441

Status : Answered

Chosen Option : 1

Marks : 0

Q.6 दिलेल्या मालिकेत प्रश्नचिन्हाच्या (?) जागी खालीलपैकी कोणती संख्या येईल?

19 14 27 22 35 30 43 ?

Ans  1. 44

2. 60

3. 38

4. 28

Question Type : MCQ

Question ID : 630680551295

Option 1 ID : 6306802155401

Option 2 ID : 6306802155400

Option 3 ID : 6306802155402

Option 4 ID : 6306802155399

Status : Answered

Chosen Option : 3

Marks : 2

Q.7 दिलेल्या मालिकेत प्रश्नचिन्हाच्या (?) च्या जागी काय येईल?

118 125.9 ? 141.7 149.6 157.5

Ans  1. 135.9

2. 139.7

3. 133.8

4. 131.6

Question Type : MCQ

Question ID : 630680551279

Option 1 ID : 6306802155337

Option 2 ID : 6306802155335

Option 3 ID : 6306802155336

Option 4 ID : 6306802155338

Status : Answered

Chosen Option : 4


Marks : 0

Lakshyaa MPSC

Section : Marathi 1a

Q.1 ज्याने भांडण उकरले तो माफी मागेल.या वाक्यातील सर्वनामाचा प्रकार ओळखा?

- Ans  1. संबंधी सर्वनाम  
 2. अनिश्चित सर्वनाम  
 3. दर्शक सर्वनाम  
 4. प्रश्नार्थक सर्वनाम



Question Type : MCQ

Question ID : 6306801367125

Option 1 ID : 6306805381819

Option 2 ID : 6306805381818

Option 3 ID : 6306805381817

Option 4 ID : 6306805381820

Status : Answered

Chosen Option : 1

Marks : 2

Lakshyaa MPSC

Q.2 पुढे दिलेल्या शब्दाचा अर्थ काय ?  
परिमळ -

- Ans  1. निर्मळता  
 2. सुगंध  
 3. पवित्र  
 4. स्वच्छपणा

Question Type : MCQ

Question ID : 6306801365672

Option 1 ID : 6306805376196

Option 2 ID : 6306805376195

Option 3 ID : 6306805376197

Option 4 ID : 6306805376198

Status : Answered

Chosen Option : 2

Marks : 2

Q.3 पुढील वाक्यातील काळ ओळखा.आई स्वयंपाक करत आहे.

- Ans  1. पूर्ण वर्तमानकाळ  
 2. चालू वर्तमानकाळ  
 3. रिती वर्तमानकाळ  
 4. चालू भूतकाळ

Question Type : MCQ

Question ID : 6306801377138

Option 1 ID : 6306805421956

Option 2 ID : 6306805421957

Option 3 ID : 6306805421958

Option 4 ID : 6306805421955

Status : Answered

Chosen Option : 2

Marks : 2

Q.4 पुढे दिलेल्या शब्दाचा ध्वनीदर्शक शब्द सांगा .  
ताशाची -

- Ans  1. चमचमाट  
 2. तडतड  
 3. गडगडाट  
 4. घनघनाट

Question Type : MCQ

Question ID : 6306801368914

Option 1 ID : 6306805388837

Option 2 ID : 6306805388834

Option 3 ID : 6306805388835

Option 4 ID : 6306805388836

Status : Answered

Chosen Option : 2

Marks : 2

Q.5 रेंदाड या शब्दाचा समानार्थी शब्द कोणता?

- Ans  1. गनिम  
 2. खेचर  
 3. गढूळ  
 4. गबर

Question Type : MCQ

Question ID : 6306801367083

Option 1 ID : 6306805381653

Option 2 ID : 6306805381654

Option 3 ID : 6306805381655

Option 4 ID : 6306805381656

Status : Answered

Chosen Option : 3

Marks : 2

Q.6 'माझ्यासाठी राजाने अहोरात्र झटावे.' या विधानातील प्रयोग ओळखा.

- Ans  1. प्रधान कर्तृक भावे प्रयोग  
 2. सकर्मक भावे प्रयोग  
 3. अकर्मक भावे प्रयोग  
 4. गौण कर्तृक भावे प्रयोग

Question Type : MCQ

Question ID : 6306801374174

Option 1 ID : 6306805409991

Option 2 ID : 6306805409988

Option 3 ID : 6306805409989

Option 4 ID : 6306805409990

Status : Answered

Chosen Option : 1

Marks : 0

Q.7 'आवर' या शब्दाचा विरुद्धार्थी शब्द कोणता?

- Ans  1. अंतिम  
 2. अजागळ  
 3. अंत  
 4. व्यय

Question Type : MCQ

Question ID : 6306801363265

Option 1 ID : 6306805366724

Option 2 ID : 6306805366722

Option 3 ID : 6306805366723

Option 4 ID : 6306805366721

Status : Answered

Chosen Option : 2

Marks : 2



Q.1 Select the most appropriate verb form to fill in the blank.

I \_\_\_\_\_ for my exams all day tomorrow.

- Ans
- 1. will been studying
  - 2. will have be studying
  - 3. will be studying
  - 4. will being studying

Question Type : MCQ  
Question ID : 6306801078295  
Option 1 ID : 6306804235068  
Option 2 ID : 6306804235070  
Option 3 ID : 6306804235067  
Option 4 ID : 6306804235069  
Status : Answered  
Chosen Option : 3  
Marks : 2

Q.2 Select the sentence with the INCORRECT use of an adverb.

- Ans
- 1. She danced gracefully at the ballet recital.
  - 2. The students listened attentively to the lecture.
  - 3. The old man walked slowly across the street.
  - 4. He writes fast because he's always in a rush.

Question Type : MCQ  
Question ID : 6306801385573  
Option 1 ID : 6306805455494  
Option 2 ID : 6306805455493  
Option 3 ID : 6306805455492  
Option 4 ID : 6306805455495  
Status : Answered  
Chosen Option : 2  
Marks : 0

Q.3 Select the most appropriate adverb to fill the blank.

Solomon \_\_\_\_\_ chose not to comment, knowing his words would be taken earnestly by the entire team.

- Ans
- 1. deliberately
  - 2. panickily
  - 3. conversely
  - 4. tastefully

Question Type : MCQ  
Question ID : 6306801238198  
Option 1 ID : 6306804868526  
Option 2 ID : 6306804868527  
Option 3 ID : 6306804868524  
Option 4 ID : 6306804868525  
Status : Answered  
Chosen Option : 1  
Marks : 2

Q.4 Select the most appropriate option to fill in the blank.

I must go to war, \_\_\_\_\_ such is my duty.

- Ans
- 1. however
  - 2. but
  - 3. even
  - 4. for

Question Type : MCQ

Question ID : 6306801381051

Option 1 ID : 6306805437488

Option 2 ID : 6306805437486

Option 3 ID : 6306805437487

Option 4 ID : 6306805437489

Status : Answered

Chosen Option : 4

Marks : 2

Q.5 Select the most appropriate verb form to fill in the blank.

She \_\_\_\_\_ her grandparents next week.

- Ans
- 1. will visit
  - 2. had been visiting
  - 3. visit
  - 4. has been visiting

Question Type : MCQ

Question ID : 6306801078291

Option 1 ID : 6306804235051

Option 2 ID : 6306804235054

Option 3 ID : 6306804235052

Option 4 ID : 6306804235053

Status : Answered

Chosen Option : 1

Marks : 2

Q.6 Identify the error in the following sentence and select the correct sentence from the given options.

What will he be done when you visit him?

- Ans
- 1. What will he be doing when you visit him?
  - 2. What will he be do when you visit him?
  - 3. What will he done when you visit him?
  - 4. What will he doing when you visit him?

Question Type : MCQ

Question ID : 6306801381054

Option 1 ID : 6306805437499

Option 2 ID : 6306805437501

Option 3 ID : 6306805437498

Option 4 ID : 6306805437500

Status : Answered

Chosen Option : 1

Marks : 2

Q.1 साल 2024 च्या दुसऱ्या तिमाहीत दोन बँकांचे विलीनीकरण पूर्ण होण्याच्या संदर्भात खालीलपैकी कोणता पर्याय योग्य आहे?

- Ans
- 1. IDFC लिमिटेडचे अँक्सिस बँकेत विलीनीकरण
  - 2. IDFC लिमिटेडचे IDFC फर्स्ट बँकेत विलीनीकरण
  - 3. IDFC लिमिटेडचे ICICI बँकेत विलीनीकरण
  - 4. IDFC फर्स्ट बँकेचे IDFC लिमिटेडमध्ये विलीनीकरण

Question Type : MCQ

Question ID : 6306801361315

Option 1 ID : 6306805358998

Option 2 ID : 6306805358997

Option 3 ID : 6306805358996

Option 4 ID : 6306805358995

Status : Answered

Chosen Option : 2

Marks : 2

Q.2 As of 31<sup>st</sup> May, in India, the share of non-fossil sources in installed electricity generation capacity has reached \_\_\_\_, according to Economic Survey 2023-24.

- Ans
- 1. 35.4%
  - 2. 45.4%
  - 3. 55.4%
  - 4. 65.4%

Question Type : MCQ

Question ID : 6306801163093

Option 1 ID : 6306804571656

Option 2 ID : 6306804571658

Option 3 ID : 6306804571657

Option 4 ID : 6306804571655

Status : Answered

Chosen Option : 2

Marks : 2

Q.3 सप्टेंबर 2024 च्या सुरुवातीला आलेल्या पुरामुळे गंभीररित्या प्रभावित झालेल्या खालीलपैकी कोणत्या भारतीय शहरात बचाव कार्यासाठी सैन्य तैनात करण्यात आले होते?

- Ans
- 1. कोलकाता
  - 2. चेन्नई
  - 3. बेंगळूरु
  - 4. विजयवाडा

Question Type : MCQ

Question ID : 6306801361350

Option 1 ID : 6306805359142

Option 2 ID : 6306805359139

Option 3 ID : 6306805359140

Option 4 ID : 6306805359141

Status : Answered

Chosen Option : 4

Marks : 2

Q.4 खालीलपैकी कोणत्या भारतीय फिनटेक कंपनीने भारतातील पहिले AI-ड्राइव्ह क्रेडिट कार्ड एक्सपर्ट, Wisor ची ओळख करून दिली आहे?

- Ans  1. CheQ  
 2. Paytm  
 3. Razorpay  
 4. PhonePe

Question Type : MCQ  
Question ID : 6306801384095  
Option 1 ID : 6306805449622  
Option 2 ID : 6306805449623  
Option 3 ID : 6306805449621  
Option 4 ID : 6306805449624  
Status : Answered  
Chosen Option : 3  
Marks : 0

Q.5 Which of the following is NOT considered in the 'Five Pillars' of NEP-2020?

- Ans  1. Access  
 2. Affordability  
 3. Equity  
 4. Quantity

Question Type : MCQ  
Question ID : 630680813932  
Option 1 ID : 6306803188936  
Option 2 ID : 6306803188939  
Option 3 ID : 6306803188937  
Option 4 ID : 6306803188938  
Status : Answered  
Chosen Option : 4  
Marks : 2

Q.6 खालीलपैकी कोणत्या राज्याने मे 2024 मध्ये मदत शिविरांमध्ये राहणाऱ्या मुलांसाठी 'स्कूल ऑन व्हील्स' कार्यक्रम सुरू केला?

- Ans  1. त्रिपुरा  
 2. मणिपूर  
 3. आसाम  
 4. अरुणाचल प्रदेश

Question Type : MCQ  
Question ID : 630680779947  
Option 1 ID : 6306803056956  
Option 2 ID : 6306803056957  
Option 3 ID : 6306803056958  
Option 4 ID : 6306803056955  
Status : Answered  
Chosen Option : 2  
Marks : 2

Q.1 ज्याप्रकारे दुसरा शब्द पहिल्या शब्दाशी संबंधित आहे, त्याचप्रकारे तिसऱ्या शब्दाशी संबंधित असलेला पर्याय निवडा.  
जोय : कांगारू :: वासरू : ?

- Ans
- 1. कुत्रा
  - 2. मांजर
  - 3. गाय
  - 4. गेंडा

Question Type : MCQ

Question ID : 6306801381544

Option 1 ID : 6306805439444

Option 2 ID : 6306805439446

Option 3 ID : 6306805439445

Option 4 ID : 6306805439447

Status : Answered

Chosen Option : 3

Marks : 2

Q.2 हा प्रश्न खालील शब्दांवर आधारित आहे.

THE ART NIL BAD

प्रत्येक शब्दात, प्रत्येक स्वर इंग्रजी वर्णमाला क्रमानुसार त्याच्या पुढील अक्षरात बदलला जातो आणि प्रत्येक व्यंजन इंग्रजी वर्णमाला क्रमानुसार त्याच्या आधीच्या अक्षरात बदलले जाते. अशाप्रकारे तयार झालेल्या किती अक्षर-समूहांत स्वर दिसणार नाही?

- Ans
- 1. एक
  - 2. तीन
  - 3. दोन
  - 4. चार

Question Type : MCQ

Question ID : 630680862491

Option 1 ID : 6306803377791

Option 2 ID : 6306803377793

Option 3 ID : 6306803377792

Option 4 ID : 6306803377794

Status : Answered

Chosen Option : 1

Marks : 0

Q.3 खाली दिलेल्या दोन जोड्यांप्रमाणेच तर्कसंगत असणारी जोडी निवडा. दोन्ही जोड्या समानरितीने तर्कसंगत आहेत.

ON : NPMO

IN : HJMO

- Ans
- 1. DO : ACMN
  - 2. GO : ARED
  - 3. TO : SUNP
  - 4. AT : CDUV

Question Type : MCQ

Question ID : 6306801381545

Option 1 ID : 6306805439450

Option 2 ID : 6306805439451

Option 3 ID : 6306805439449

Option 4 ID : 6306805439448

Status : Answered

Chosen Option : 3

Marks : 2

Q.4 खालील मालिकेत, फक्त एकच अक्षर समूह चुकीचा आहे. तर तो चुकीचा अक्षर समूह ओळखा.

HAE JCG LEJ NGK PIM RKO

- Ans
- 1. RKO
  - 2. NGK
  - 3. LEJ
  - 4. PIM

Question Type : MCQ

Question ID : 630680670021

Option 1 ID : 6306802623631

Option 2 ID : 6306802623629

Option 3 ID : 6306802623628

Option 4 ID : 6306802623630

Status : Answered

Chosen Option : 3

Marks : 2

Lakshyaa MPSC

Q.5 दिलेली मालिका तर्कदृष्ट्या पूर्ण होण्यासाठी प्रश्नचिन्हाच्या (?) जागी कोणता पर्याय आला पाहिजे?

SL17, QJ29, OH41, MF53, ?

- Ans  1. KE65  
 2. KD66  
 3. KD65  
 4. KE66

Question Type : MCQ

Question ID : 630680513628

Option 1 ID : 6306802007187

Option 2 ID : 6306802007186

Option 3 ID : 6306802007185

Option 4 ID : 6306802007188

Status : Answered

Chosen Option : 3

Marks : 2

Q.6 दिलेल्या मालिकेत प्रश्नचिन्हाच्या (?) जागी काय येईल?

FAG, GAF, HAI, IAH, ?

- Ans  1. HAL  
 2. JAK  
 3. JAI  
 4. HAK

Question Type : MCQ

Question ID : 6306801381541

Option 1 ID : 6306805439433

Option 2 ID : 6306805439432

Option 3 ID : 6306805439435

Option 4 ID : 6306805439434

Status : Answered

Chosen Option : 3

Marks : 0

Section : Marathi 2a

Lakshyaa MPSC

Q.1 ज्या समासातील पदाचा विग्रह करताना त्यातील पदांच्या अर्थाशिवाय त्याच जातीच्या इतर पदार्थाचाही त्यात समावेश केलेला असतो,त्यास \_\_\_\_\_ समास असे म्हणतात.

- Ans
- 1. इतरेतर द्वंद्व समास
  - 2. वैकल्पिक द्वंद्व समास
  - 3. समहार द्वंद्व समास
  - 4. द्विगु समास

Question Type : MCQ

Question ID : 6306801368311

Option 1 ID : 6306805386502

Option 2 ID : 6306805386501

Option 3 ID : 6306805386500

Option 4 ID : 6306805386503

Status : Answered

Chosen Option : 3

Marks : 2

Q.2 दिलेल्या शब्दांपैकी पुल्लिंग व स्त्रीलिंग या दोन्ही लिंगात आढळणारा शब्द कोणता?

- Ans
- 1. मूल
  - 2. नेत्र
  - 3. वेळ
  - 4. देवघर

Question Type : MCQ

Question ID : 6306801377149

Option 1 ID : 6306805421998

Option 2 ID : 6306805421999

Option 3 ID : 6306805422000

Option 4 ID : 6306805422001

Status : Answered

Chosen Option : 3

Marks : 2

Q.3 पुढे दिलेल्या अनेकवचनी नामाचे एकवचनी रूप लिहा.  
मशाली -

- Ans
- 1. मशाल्या
  - 2. मशाली
  - 3. मशाले
  - 4. मशाल

Question Type : MCQ

Question ID : 6306801368460

Option 1 ID : 6306805387070

Option 2 ID : 6306805387071

Option 3 ID : 6306805387072

Option 4 ID : 6306805387069

Status : Answered

Chosen Option : 4

Marks : 2



Q.4 पुढे दिलेल्या केवळ वाक्यांचे मिश्र वाक्य करा.  
गुरुवर्यांचा आदर केला पाहिजे.  
ते अनुभव संपन्न असतात.

- Ans  1. गुरुवर्यांचा आदर केल्यास ते अनुभव संपन्न असतात.  
 2. गुरुवर्यांचा आदर केला पाहिजे कारण ते अनुभव संपन्न असतात.  
 3. गुरुवर्यांचा आदर केला पाहिजे आणि ते अनुभव संपन्न असतात.  
 4. अनुभव संपन्न गुरुवर्यांचा आदर केला पाहिजे.

Question Type : MCQ  
Question ID : 6306801368306  
Option 1 ID : 6306805386482  
Option 2 ID : 6306805386480  
Option 3 ID : 6306805386483  
Option 4 ID : 6306805386481  
Status : Answered  
Chosen Option : 2  
Marks : 2

Q.5 रेडा या शब्दाचे अनेकवचनी रूप ओळखा.

- Ans  1. रेडया  
 2. रेडी  
 3. रेड  
 4. रेडे

Question Type : MCQ  
Question ID : 6306801377158  
Option 1 ID : 6306805422036  
Option 2 ID : 6306805422034  
Option 3 ID : 6306805422037  
Option 4 ID : 6306805422035  
Status : Answered  
Chosen Option : 4  
Marks : 2

Q.6 शिवाजी कसला? सिंहच तो या ओळीतील अलंकार ओळखा.

- Ans  1. अर्थान्तरन्यास  
 2. अतिशयोक्ती  
 3. अपन्हुती  
 4. अनन्वय

Question Type : MCQ  
Question ID : 6306801367053  
Option 1 ID : 6306805381530  
Option 2 ID : 6306805381532  
Option 3 ID : 6306805381529  
Option 4 ID : 6306805381531  
Status : Answered  
Chosen Option : 3  
Marks : 2

Q.1 Sentences of a paragraph are given below in jumbled order. Select the option that arranges the sentences in the correct sequence to form a meaningful and coherent paragraph.

P. They were portly gentlemen, pleasant to behold, and now stood, with their hats off, in Scrooge's office.

Q. This lunatic, in letting Scrooge's nephew out, had let two other people in.

R. They had books and papers in their hands and bowed to him.

S. "Scrooge and Marley's, I believe," said one of the gentlemen, referring to his list.

Ans  1. QPRS

2. SRQP

3. PQRS

4. SPQR

Question Type : MCQ

Question ID : 6306801381060

Option 1 ID : 6306805437522

Option 2 ID : 6306805437524

Option 3 ID : 6306805437523

Option 4 ID : 6306805437525

Status : Answered

Chosen Option : 4

Marks : 0

Q.2 Select the most appropriate option to complete the sentence.

This house \_\_\_\_\_.

Ans  1. belongs to me

2. has been belong to me

3. was belong to me

4. is belonging to me

Question Type : MCQ

Question ID : 6306801381046

Option 1 ID : 6306805437466

Option 2 ID : 6306805437468

Option 3 ID : 6306805437469

Option 4 ID : 6306805437467

Status : Answered

Chosen Option : 1

Marks : 2

**Q.3** Sentences of a paragraph are given below in jumbled order. Select the option that arranges the sentences in the correct sequence to form a meaningful and coherent paragraph.

**P.** In one of the selfies, she was resting her head on his shoulder, and he had his arm around her.

**Q.** I found a few pictures of him and Gopika.

**R.** In another, Anwar grinned while Gopika made a funny face.

**S.** I opened the photo application on his phone.

**Ans** ✓ 1. SQPR

✗ 2. QPSR

✗ 3. SRQP

✗ 4. QRSP

Question Type : MCQ

Question ID : 6306801381059

Option 1 ID : 6306805437519

Option 2 ID : 6306805437521

Option 3 ID : 6306805437518

Option 4 ID : 6306805437520

Status : Answered

Chosen Option : 1

Marks : 2

**Q.4** Select the correctly spelt sentence from the given options.

**Ans** ✓ 1. Stepping into the Brooklyn Café, tucked into the heart of Helsinki's hip Punavouri neighbourhood, is like taking a mini-trip to its namesake, one of New York City's coolest boroughs.

✗ 2. Stepping into the Brooklyn Café, tucked into the heart of Helsinki's hip Punavouri neighborhood, is like taking a mini-trip to its namesake, one of New York City's coolest borougs.

✗ 3. Stepping into the Brooklyn Café, tucked into the heart of Helsinki's hip Punavouri neighborhood, is like taking a mini-trip to its namesake, one of New York City's coolest boroughs.

✗ 4. Stepping into the Brooklyn Café, tucked into the heart of Helsinki's hip Punavouri neighborhood, is like taking a mini-trip to its nameseake, one of New York City's coolest boroughs.

Question Type : MCQ

Question ID : 6306801381065

Option 1 ID : 6306805437544

Option 2 ID : 6306805437542

Option 3 ID : 6306805437545

Option 4 ID : 6306805437543

Status : Answered

Chosen Option : 1

Marks : 2

Q.5 The following sentence has been divided into four parts. Identify the part that contains an error.

The darkness closed in / even as she was / returning home fastly / from the theatre.

- Ans
- 1. even as she was
  - 2. The darkness closed in
  - 3. from the theatre.
  - 4. returning home fastly

Question Type : MCQ

Question ID : 6306801381055

Option 1 ID : 6306805437503

Option 2 ID : 6306805437502

Option 3 ID : 6306805437505

Option 4 ID : 6306805437504

Status : Answered

Chosen Option : 1

Marks : 0

Q.6 Select the correct meaning of the underlined proverb in the given sentence.

Maya and her colleague are applying for a competitive job opening. Maya submits her application as soon as the job is posted, while her colleague waits until the deadline. As a result, Maya gets called for an interview first, securing an advantage over her colleague, because the early bird catches the worm.

- Ans
- 1. It's better to wait until the last minute.
  - 2. Catching worms requires patience.
  - 3. Birds usually wake up early.
  - 4. Those who act quickly have a better chance of success.

Question Type : MCQ

Question ID : 6306801119330

Option 1 ID : 6306804397655

Option 2 ID : 6306804397654

Option 3 ID : 6306804397653

Option 4 ID : 6306804397652

Status : Answered

Chosen Option : 4

Marks : 2

Q.7 Rectify the sentence by selecting the most appropriate option.

They was planning to visit the museum last weekend.

- Ans
- 1. were being planning
  - 2. were been planning
  - 3. had planning
  - 4. were planning

Question Type : MCQ

Question ID : 6306801071446

Option 1 ID : 6306804208023

Option 2 ID : 6306804208024

Option 3 ID : 6306804208022

Option 4 ID : 6306804208021

Status : Answered

Chosen Option : 4

Marks : 2

Section : General Knowledge 2a

Q.1 खालसा कायदा रद्द करण्यात आला त्यावेळी भारताचे व्हाईसरॉय कोण होते?

- Ans
- 1. लॉर्ड कॅनिंग
  - 2. लॉर्ड लॉरेन्स
  - 3. लॉर्ड मेयो
  - 4. लॉर्ड एल्गिन

Question Type : MCQ

Question ID : 6306801383119

Option 1 ID : 6306805445697

Option 2 ID : 6306805445699

Option 3 ID : 6306805445700

Option 4 ID : 6306805445698

Status : Answered

Chosen Option : 1

Marks : 2

Q.2 भारत सरकारच्या सांस्कृतिक मंत्रालयानुसार, देशातील खालीलपैकी किती प्राचीन स्मारके, पुरातत्त्वशास्त्रीय स्थळे आणि अवशेष राष्ट्रीयदृष्ट्या महत्त्वाची म्हणून घोषित करण्यात आली आहेत (डिसेंबर 2023 पर्यंत)?

- Ans
- 1. 2045
  - 2. 3697
  - 3. 1565
  - 4. 4265

Question Type : MCQ

Question ID : 630680791881

Option 1 ID : 6306803103176

Option 2 ID : 6306803103177

Option 3 ID : 6306803103178

Option 4 ID : 6306803103179

Status : Answered

Chosen Option : 2

Marks : 2

Q.3 खालीलपैकी कोणत्या ब्रिटीश इंडिया कायद्याने राणी व्हिक्टोरियाला ब्रिटिश भारताची सार्वभौम म्हणून घोषित केले?

- Ans
- 1. इंडियन कौन्सिल्स ऍक्ट, 1872
  - 2. गवर्नमेंट ऑफ इंडिया ऍक्ट, 1919
  - 3. गवर्नमेंट ऑफ इंडिया ऍक्ट, 1858
  - 4. इंडियन कौन्सिल्स ऍक्ट, 1892

Question Type : MCQ

Question ID : 630680326443

Option 1 ID : 6306801269864

Option 2 ID : 6306801269861

Option 3 ID : 6306801269862

Option 4 ID : 6306801269863

Status : Answered

Chosen Option : 3

Marks : 2

Q.4 10 मे 1857 रोजी इथे उठावाला सुरुवात झाली:

- Ans
- 1. बॉम्बे
  - 2. दिल्ली
  - 3. मेरठ
  - 4. कलकत्ता

Question Type : MCQ

Question ID : 6306801383115

Option 1 ID : 6306805445683

Option 2 ID : 6306805445684

Option 3 ID : 6306805445681

Option 4 ID : 6306805445682

Status : Answered

Chosen Option : 3

Marks : 2

Q.5 'गवर्नमेंट ऑफ इंडिया ऍक्ट' द्वारे भारतावर राज्य करण्याचा अधिकार ईस्ट इंडिया कंपनीकडून ब्रिटिश राजसत्तेकडे केव्हा हस्तांतरित करण्यात आला?

- Ans
- 1. 12 एप्रिल 1858
  - 2. 5 ऑक्टोबर 1858
  - 3. 3 जुलै 1858
  - 4. 2 ऑगस्ट 1858

Question Type : MCQ

Question ID : 6306801383117

Option 1 ID : 6306805445692

Option 2 ID : 6306805445691

Option 3 ID : 6306805445690

Option 4 ID : 6306805445689

Status : Answered

Chosen Option : 2

Marks : 0

Q.6 Food is a \_\_\_\_\_ commodity.

Ans  1. global

2. national

3. local

4. state

Question Type : MCQ

Question ID : 6306801383121

Option 1 ID : 6306805445705

Option 2 ID : 6306805445706

Option 3 ID : 6306805445707

Option 4 ID : 6306805445708

Status : Answered

Chosen Option : 1

Marks : 2

Section : Aptitude Test 2a

Q.1 इंग्रजी वर्णक्रमानुसार, खालील चार अक्षर-समूह जोड्यांपैकी तीन विशिष्ट प्रकारे सारख्या आहेत आणि म्हणून त्या एक गट तयार करतात. त्या गटात न बसणारी अक्षर समूह जोडी कोणती आहे?

Ans  1. NK - PO

2. CJ - EN

3. YG - AJ

4. UE - WI

Question Type : MCQ

Question ID : 630680862538

Option 1 ID : 6306803378026

Option 2 ID : 6306803378023

Option 3 ID : 6306803378025

Option 4 ID : 6306803378024

Status : Answered

Chosen Option : 1

Marks : 0

Q.2 खालील त्रिकुटातील प्रत्येक अक्षर समूह एका विशिष्ट तर्कानुसार त्यानंतरच्या अक्षर समूहाशी संबंधित आहे. दिलेल्या पर्यायांमधून समान तर्काचे अनुसरण करणारा पर्याय निवडा.

DEAL - LEDA - EADL

VAST - TAVS - ASVT

Ans  1. PAGE - APGE - EAGP

2. YOUR - ROYU - OUYR

3. SPIN - NPSI - IPSN

4. FAST - FSAT - TSAF

Question Type : MCQ

Question ID : 630680876618

Option 1 ID : 6306803433228

Option 2 ID : 6306803433226

Option 3 ID : 6306803433229

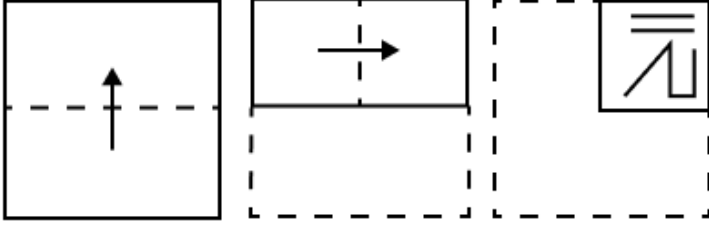
Option 4 ID : 6306803433227

Status : Answered

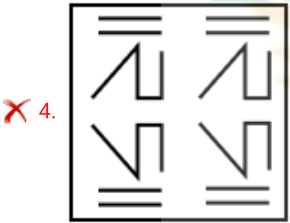
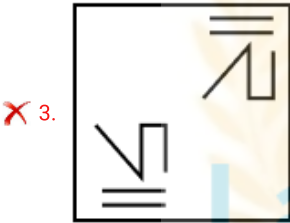
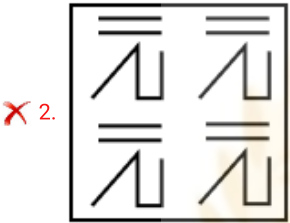
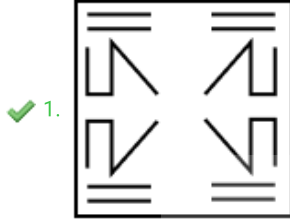
Chosen Option : 2

Marks : 2

Q.3 कागदाचा चौकोनी तुकडा दिलेल्या बिंदूरेषेवर खाली दर्शवलेल्या दिशेनुसार क्रमाने दुमडला आणि शेवटची घडी केल्यानंतर त्याला आकृतीत दाखवल्याप्रमाणे छिद्र पाडले. तर तो कागद उघडल्यावर कसा दिसेल?



Ans



Lakshyaa MPSC

Question Type : MCQ

Question ID : 6306801129271

Option 1 ID : 6306804437276

Option 2 ID : 6306804437277

Option 3 ID : 6306804437274

Option 4 ID : 6306804437275

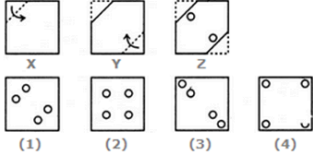
Status : Answered

Chosen Option : 4

Marks : 0



Q.4 एक कागदाचा तुकडा दुमडण्याचा क्रम (X नंतर Y) आणि दुमडलेला कागद ज्या पद्धतीने कापला आहे (Z) ते खालील आकृत्यांमध्ये दर्शविले आहे. तर तो कागद उघडल्यावर कसा दिसेल?



- Ans
- 1. 2
  - 2. 4
  - 3. 1
  - 4. 3

Question Type : MCQ

Question ID : 6306801381547

Option 1 ID : 6306805439457

Option 2 ID : 6306805439459

Option 3 ID : 6306805439456

Option 4 ID : 6306805439458

Status : Answered

Chosen Option : 4

Marks : 2

Q.5 RTWS हे इंग्रजी वर्णमाला क्रमानुसार एका विशिष्ट प्रकारे OQTP शी संबंधित आहे. त्याच प्रकारे PRUQ हे MORN शी संबंधित आहे. त्याच तर्कानुसार NPSO खालीलपैकी कोणत्याशी संबंधित आहे?

- Ans
- 1. MKPL
  - 2. KMLP
  - 3. MKLP
  - 4. KMPL

Question Type : MCQ

Question ID : 630680669706

Option 1 ID : 6306802622375

Option 2 ID : 6306802622374

Option 3 ID : 6306802622376

Option 4 ID : 6306802622373

Status : Answered

Chosen Option : 4

Marks : 2

Q.6 इंग्रजी वर्णक्रमानुसार, खालील चारपैकी तीन विशिष्ट प्रकारे सारखे आहेत आणि म्हणून ते एक गट तयार करतात.  
त्या गटाशी संबंधित नसलेला पर्याय कोणता?  
(टीप: न जुळणारे पर्याय व्यंजन/स्वरांच्या संख्येवर किंवा अक्षर-समूहातील त्यांच्या स्थानावर आधारित नसावेत.)

- Ans  1. DKNT  
 2. RYAH  
 3. CJMS  
 4. HORX

Question Type : MCQ  
Question ID : 630680887691  
Option 1 ID : 6306803476540  
Option 2 ID : 6306803476541  
Option 3 ID : 6306803476542  
Option 4 ID : 6306803476543  
Status : Answered  
Chosen Option : 3  
Marks : 0

Section : Marathi 3a

Q.1 पुढे दिलेल्या पर्यायातून म्हणीचा अर्थ स्पष्ट करा.  
फट म्हणता ब्रम्हहत्या

- Ans  1. बळजबरीने आणणे  
 2. क्षुद्र कारणांवरून मोठी आपत्ती येणे  
 3. कार्यक्रम उरकल्यावर व्यवस्था करणे  
 4. थोर माणसांचा शब्द प्रमाण मानणे

Question Type : MCQ  
Question ID : 6306801368891  
Option 1 ID : 6306805388745  
Option 2 ID : 6306805388742  
Option 3 ID : 6306805388743  
Option 4 ID : 6306805388744  
Status : Answered  
Chosen Option : 2  
Marks : 2

Q.2 मराठीतील पहिले गद्य चरित्र कोणते ?

- Ans  1. लीळाचरित्र  
 2. विवेकसिंधू  
 3. यात्रीक्रमन  
 4. यमुनापर्यटन

Question Type : MCQ

Question ID : 6306801368902

Option 1 ID : 6306805388786

Option 2 ID : 6306805388787

Option 3 ID : 6306805388789

Option 4 ID : 6306805388788

Status : Answered

Chosen Option : 1

Marks : 2

Comprehension:

उताऱ्याच्या आधारे प्रश्नांची उत्तरे सांगा .

प्रतीक म्हणजे चिन्ह होय. चिन्ह हे नेहमी कशाची तरी सूचना देत असते. प्रतीकांची निर्मिती ही मानवी मनाची सतत झालेली नैसर्गिक क्रिया समजली जाते. चिन्ह आणि त्याचा अर्थ हे द्वैत प्रतिकांमध्ये उघड गृहीत धरलेले असते. रूपक आणि प्रतिमा यांना प्रातिनिधिक स्वरूप देण्याकडे प्रतीकांचा कल असतो. प्रतीक हे अर्थाचा असा संबंध प्रकट करते की, हा रुपबंध वारंवार एकाच कृतीमध्ये किंवा अनेक कलांमध्ये एकच अर्थसंघटन व्यक्त करतो. उदाहरणार्थ, विष्णूची मूर्ती असेल तर तिच्याखाली गरुड, शंकराची असेल तर नंदी कोरलेला असतो. पुनरावृत्ती हे प्रतीकांचे लक्षण यामुळेच मानले जाते. कवितेतील चिन्हांना कवीने अर्थ दिलेला असतो. हा अर्थ एकपदरी नसतो, त्या चिन्हाला वेगवेगळा अर्थ दिलेला असतो, असा अर्थ प्राप्त होत नसेल तर त्या शब्दाला प्रतीक म्हणता येत नाही, असे एक किंवा अनेक प्रतीके असलेल्या कवितेला, कवितांना प्रतिकात्मक कविता म्हणता येईल. कवीतेतील प्रतीके परंपरेने चालत आलेली असू शकतात, त्याचप्रमाणे कवीही नवी प्रतीके घडवतो. कधी समाजव्यवहारात चालत आलेल्या प्रतीकांना नवे अर्थही देतो. काही पौराणिक संदर्भही प्रतीक म्हणून येत असतात. कुंती, द्वारका, वनवास, शाप, यज्ञ ही अशा प्रकारची प्रतीके होत.

SubQuestion No : 3

Q.3 कवितेतील प्रतीके कशी असतात?

- Ans  1. परंपरेने चालत आलेली  
 2. भारदस्त शब्दांची  
 3. समाजाने सांगितलेली  
 4. कवीला आवडणारी

Question Type : MCQ

Question ID : 6306801368879

Option 1 ID : 6306805388702

Option 2 ID : 6306805388705

Option 3 ID : 6306805388704

Option 4 ID : 6306805388703

Status : Answered

Chosen Option : 1

Marks : 2

**Comprehension:**

उत्तान्याच्या आधारे प्रश्नांची उत्तरे सांगा .

प्रतीक म्हणजे चिन्ह होय. चिन्ह हे नेहमी कशाची तरी सूचना देत असते. प्रतीकांची निर्मिती ही मानवी मनाची सतत झालेली नैसर्गिक क्रिया समजली जाते. चिन्ह आणि त्याचा अर्थ हे द्वैत प्रतिकांमध्ये उघड गृहीत धरलेले असते. रूपक आणि प्रतिमा यांना प्रातिनिधिक स्वरूप देण्याकडे प्रतीकांचा कल असतो. प्रतीक हे अर्थाचा असा संबंध प्रकट करते की, हा रुपबंध वारंवार एकाच कृतीमध्ये किंवा अनेक कलांमध्ये एकच अर्थसंघटन व्यक्त करतो. उदाहरणार्थ, विष्णूची मूर्ती असेल तर तिच्याखाली गरुड, शंकराची असेल तर नंदी कोरलेला असतो. पुनरावृत्ती हे प्रतीकांचे लक्षण यामुळेच मानले जाते. कवितेतील चिन्हांना कवीने अर्थ दिलेला असतो. हा अर्थ एकपदरी नसतो, त्या चिन्हाला वेगवेगळा अर्थ दिलेला असतो, असा अर्थ प्राप्त होत नसेल तर त्या शब्दाला प्रतीक म्हणता येत नाही, असे एक किंवा अनेक प्रतीके असलेल्या कवितेला, कवितांना प्रतिकात्मक कविता म्हणता येईल. कवितेतील प्रतीके परंपरेने चालत आलेली असू शकतात, त्याचप्रमाणे कवीही नवी प्रतीके घडवतो. कधी समाजव्यवहारात चालत आलेल्या प्रतीकांना नवे अर्थही देतो. काही पौराणिक संदर्भही प्रतीक म्हणून येत असतात. कुंती, द्वारका, वनवास, शाप, यज्ञ ही अशा प्रकारची प्रतीके होत.

**SubQuestion No : 4****Q.4 प्रतीकांचे लक्षण कोणते ?**

- Ans  1. व्यवस्थितपणा  
 2. भावपूर्णता  
 3. पुनरावृत्ती  
 4. सुंदरता

Question Type : MCQ

Question ID : 6306801368878

Option 1 ID : 6306805388698

Option 2 ID : 6306805388701

Option 3 ID : 6306805388699

Option 4 ID : 6306805388700

Status : Answered

Chosen Option : 3

Marks : 2

# LakshyaaMPSC

# Lakshyaa MPSC

**Comprehension:**

उत्तान्याच्या आधारे प्रश्नांची उत्तरे सांगा .

प्रतीक म्हणजे चिन्ह होय. चिन्ह हे नेहमी कशाची तरी सूचना देत असते. प्रतीकांची निर्मिती ही मानवी मनाची सतत झालेली नैसर्गिक क्रिया समजली जाते. चिन्ह आणि त्याचा अर्थ हे द्वैत प्रतिकांमध्ये उघड गृहीत धरलेले असते. रूपक आणि प्रतिमा यांना प्रातिनिधिक स्वरूप देण्याकडे प्रतीकांचा कल असतो. प्रतीक हे अर्थाचा असा संबंध प्रकट करते की, हा रुपबंध वारंवार एकाच कृतीमध्ये किंवा अनेक कलांमध्ये एकच अर्थसंघटन व्यक्त करतो. उदाहरणार्थ, विष्णूची मूर्ती असेल तर तिच्याखाली गरुड, शंकराची असेल तर नंदी कोरलेला असतो. पुनरावृत्ती हे प्रतीकांचे लक्षण यामुळेच मानले जाते. कवितेतील चिन्हांना कवीने अर्थ दिलेला असतो. हा अर्थ एकपदरी नसतो, त्या चिन्हाला वेगवेगळा अर्थ दिलेला असतो, असा अर्थ प्राप्त होत नसेल तर त्या शब्दाला प्रतीक म्हणता येत नाही, असे एक किंवा अनेक प्रतीके असलेल्या कवितेला, कवितांना प्रतिकात्मक कविता म्हणता येईल. कवीतेतील प्रतीके परंपरेने चालत आलेली असू शकतात, त्याचप्रमाणे कवीही नवी प्रतीके घडवतो. कधी समाजव्यवहारात चालत आलेल्या प्रतीकांना नवे अर्थही देतो. काही पौराणिक संदर्भही प्रतीक म्हणून येत असतात. कुंती, द्वारका, वनवास, शाप, यज्ञ ही अशा प्रकारची प्रतीके होत.

**SubQuestion No : 5****Q.5 प्रतीकांचा कल कशाकडे असतो?**

Ans  1. रूपक आणि प्रतिमा यांना प्रातिनिधिक स्वरूप देण्याकडे

2. समाजाचा दृष्टिकोन दाखविण्याकडे

3. कवितेची मांडणी करण्याकडे

4. शब्दांची विशिष्ट रचना करण्याकडे

Question Type : MCQ

Question ID : 6306801368880

Option 1 ID : 6306805388706

Option 2 ID : 6306805388709

Option 3 ID : 6306805388708

Option 4 ID : 6306805388707

Status : Answered

Chosen Option : 1

Marks : 2

LakshyaaMPSC

Lakshyaa MPSC

### Comprehension:

उत्तान्याच्या आधारे प्रश्नांची उत्तरे सांगा .

प्रतीक म्हणजे चिन्ह होय. चिन्ह हे नेहमी कशाची तरी सूचना देत असते. प्रतीकांची निर्मिती ही मानवी मनाची सतत झालेली नैसर्गिक क्रिया समजली जाते. चिन्ह आणि त्याचा अर्थ हे द्वैत प्रतिकांमध्ये उघड गृहीत धरलेले असते. रूपक आणि प्रतिमा यांना प्रातिनिधिक स्वरूप देण्याकडे प्रतीकांचा कल असतो. प्रतीक हे अर्थाचा असा संबंध प्रकट करते की, हा रुपबंध वारंवार एकाच कृतीमध्ये किंवा अनेक कलांमध्ये एकच अर्थसंघटन व्यक्त करतो. उदाहरणार्थ, विष्णूची मूर्ती असेल तर तिच्याखाली गरुड, शंकराची असेल तर नंदी कोरलेला असतो. पुनरावृत्ती हे प्रतीकांचे लक्षण यामुळेच मानले जाते. कवितेतील चिन्हांना कवीने अर्थ दिलेला असतो. हा अर्थ एकपदरी नसतो, त्या चिन्हाला वेगवेगळा अर्थ दिलेला असतो, असा अर्थ प्राप्त होत नसेल तर त्या शब्दाला प्रतीक म्हणता येत नाही, असे एक किंवा अनेक प्रतीके असलेल्या कवितेला, कवितांना प्रतिकात्मक कविता म्हणता येईल. कवीतेतील प्रतीके परंपरेने चालत आलेली असू शकतात, त्याचप्रमाणे कवीही नवी प्रतीके घडवतो. कधी समाजव्यवहारात चालत आलेल्या प्रतीकांना नवे अर्थही देतो. काही पौराणिक संदर्भही प्रतीक म्हणून येत असतात. कुंती, द्वारका, वनवास, शाप, यज्ञ ही अशा प्रकारची प्रतीके होत.

### SubQuestion No : 6

#### Q.6 चिन्ह काय करतात?

- Ans  1. कशाची तरी सूचना देतात  
 2. पुस्तकांची शोभा वाढवतात  
 3. चित्र पूर्ण करतात  
 4. व्यक्तीला ज्ञान देतात

Question Type : MCQ

Question ID : 6306801368877

Option 1 ID : 6306805388694

Option 2 ID : 6306805388696

Option 3 ID : 6306805388695

Option 4 ID : 6306805388697

Status : Answered

Chosen Option : 1

Marks : 2

Section : English 3a

#### Q.1 Rectify the sentence by selecting the correct spelling of the underlined word.

The professor's acomodating nature made her a favourite among students, always willing to offer extra help and guidance.

- Ans  1. acomodating  
 2. accomodating  
 3. accomodatting  
 4. accommodating

Question Type : MCQ

Question ID : 6306801110922

Option 1 ID : 6306804364470

Option 2 ID : 6306804364472

Option 3 ID : 6306804364471

Option 4 ID : 6306804364469

Status : Answered

Chosen Option : 4

Marks : 2

Q.2 Identify the meaning of the underlined word in the given sentence.

The researchers realised that quakes sometimes didn't leave telltale perturbations.

- Ans
- 1. Being exactly as intended or presented
  - 2. Born in wedlock
  - 3. Worry caused by some event
  - 4. Aftereffects

Question Type : MCQ

Question ID : 6306801190196

Option 1 ID : 6306804679082

Option 2 ID : 6306804679083

Option 3 ID : 6306804679085

Option 4 ID : 6306804679084

Status : Answered

Chosen Option : 1

Marks : 0

Q.3 Choose the option that gives the correct synonym of the underlined word in the sentence given below.

"Try to control your mercurial temperament," advised his father.

- Ans
- 1. Predictable
  - 2. Unperturbable
  - 3. Volatile
  - 4. Tranquil

Question Type : MCQ

Question ID : 6306801381078

Option 1 ID : 6306805437596

Option 2 ID : 6306805437597

Option 3 ID : 6306805437595

Option 4 ID : 6306805437594

Status : Answered

Chosen Option : 3

Marks : 2

Q.4 Select the most appropriate ANTONYM of the underlined word in the following sentence.

"It is better to defer the plan," the leader said.

- Ans
- 1. Hasten
  - 2. Stall
  - 3. Postpone
  - 4. Prolong

Question Type : MCQ

Question ID : 6306801381072

Option 1 ID : 6306805437573

Option 2 ID : 6306805437572

Option 3 ID : 6306805437570

Option 4 ID : 6306805437571

Status : Answered

Chosen Option : 4

Marks : 0

Q.5 Select the most appropriate synonym of the underlined word in the following sentence.

His writing is clear and lucid.

- Ans  1. Unambiguous  
 2. Unambitious  
 3. Unintelligible  
 4. Incomprehensible

Question Type : MCQ  
Question ID : 6306801381075  
Option 1 ID : 6306805437583  
Option 2 ID : 6306805437584  
Option 3 ID : 6306805437582  
Option 4 ID : 6306805437585  
Status : Answered  
Chosen Option : 1  
Marks : 2

Q.6 Select the most appropriate ANTONYM of the underlined word in the following sentence.

The book narrated the story of a hapless child.

- Ans  1. Woeful  
 2. Fortunate  
 3. Hostile  
 4. Wretched

Question Type : MCQ  
Question ID : 6306801381073  
Option 1 ID : 6306805437577  
Option 2 ID : 6306805437576  
Option 3 ID : 6306805437575  
Option 4 ID : 6306805437574  
Status : Answered  
Chosen Option : 3  
Marks : 0

Section : General Knowledge 3a

Q.1 Identify the odd one out.

- Ans  1. Homeostasis  
 2. Conform  
 3. Suspend  
 4. Migrate

Question Type : MCQ  
Question ID : 63068078579  
Option 1 ID : 630680304368  
Option 2 ID : 630680304365  
Option 3 ID : 630680304367  
Option 4 ID : 630680304366  
Status : Answered  
Chosen Option : 4  
Marks : 0



Q.2 सेंद्रिय रेणूंच्या दृश्यासाठी वापरल्या जाणाऱ्या रेणु प्रतिकृतीबद्दल खालीलपैकी कोणते विधान सत्य आहे?

- Ans  1. गोलक-आणि-स्प्रिंग प्रतिकृतिमध्ये, अणू हे यष्टिका असतात आणि बंध हे गोलक असतात.  
 2. स्पेस-फिलिंग प्रतिकृति अणूच्या आकाराकडे दुर्लक्ष करते आणि बंधांवर लक्ष केंद्रित करते.  
 3. फ्रेमवर्क मॉडेल बंधांना हायलाइट करते परंतु अणूच्या आकाराकडे दुर्लक्ष करते.  
 4. गोलक-आणि-यष्टिका प्रतिकृतिमध्ये अणू वगळले जाते, केवळ बंध दर्शविते.

Question Type : MCQ

Question ID : 6306801384173

Option 1 ID : 6306805449932

Option 2 ID : 6306805449931

Option 3 ID : 6306805449929

Option 4 ID : 6306805449930

Status : Answered

Chosen Option : 2

Marks : 0

Q.3 लोकसभेचे कमाल संख्याबळ \_\_\_\_\_ निश्चित केले आहे.

- Ans  1. 550  
 2. 545  
 3. 540  
 4. 543

Question Type : MCQ

Question ID : 630680674439

Option 1 ID : 6306802641250

Option 2 ID : 6306802641251

Option 3 ID : 6306802641252

Option 4 ID : 6306802641249

Status : Answered

Chosen Option : 1

Marks : 2

Q.4 A, B, C आणि D या चार आम्लांचे  $K_a$  मूल्य  $6.8 \times 10^{-4}$ ,  $3.0 \times 10^{-8}$ ,  $4.5 \times 10^{-4}$  आणि  $4.9 \times 10^{-10}$  आहे. सर्वात कमकुवत आम्ल कोणते?

- Ans  1. C  
 2. D  
 3. B  
 4. A

Question Type : MCQ

Question ID : 630680517119

Option 1 ID : 6306802020874

Option 2 ID : 6306802020875

Option 3 ID : 6306802020873

Option 4 ID : 6306802020872

Status : Answered

Chosen Option : 2

Marks : 2

Q.5 खालीलपैकी कोणते भारताच्या पंतप्रधानांचे कार्य नाही?

- Ans
- 1. सरकारचे मुख्य प्रवक्ते
  - 2. मंत्र्यांच्या नियुक्तीबाबत राष्ट्रपतींना सल्ला देणे
  - 3. मंत्रिमंडळाच्या बैठकांचे अध्यक्षपद भूषवणे
  - 4. राष्ट्रपतींना नियुक्त करणे

Question Type : MCQ

Question ID : 630680697514

Option 1 ID : 6306802732145

Option 2 ID : 6306802732146

Option 3 ID : 6306802732148

Option 4 ID : 6306802732147

Status : Answered

Chosen Option : 4

Marks : 2

Q.6 खालीलपैकी कोण संविधान सभेचे घटनात्मक सल्लागार होते?

- Ans
- 1. एच एन कुंजरू
  - 2. सच्चिदानंद सिन्हा
  - 3. बी एन राव
  - 4. व्ही एन मेनन

Question Type : MCQ

Question ID : 6306801383139

Option 1 ID : 6306805445779

Option 2 ID : 6306805445777

Option 3 ID : 6306805445778

Option 4 ID : 6306805445780

Status : Answered

Chosen Option : 3

Marks : 2

Q.7 कोणत्या परिस्थितीत राष्ट्रपती पाच वर्षांचा कार्यकाळ पूर्ण होण्यापूर्वी पद सोडू शकतात?

- Ans
- 1. आजारपणामुळे किंवा सुट्टीमुळे
  - 2. राजीनामा देऊन किंवा महाभियोगाद्वारे
  - 3. दुसऱ्या पदावर नेमणूक झाल्याने
  - 4. निवृत्तीमुळे

Question Type : MCQ

Question ID : 6306801384287

Option 1 ID : 6306805450386

Option 2 ID : 6306805450385

Option 3 ID : 6306805450387

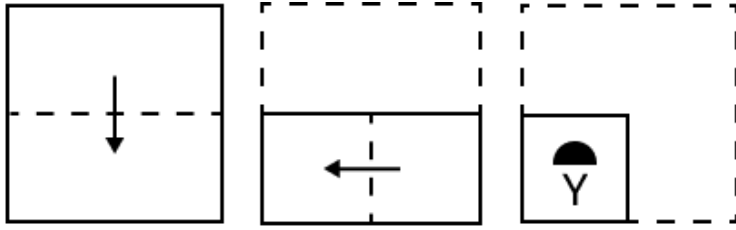
Option 4 ID : 6306805450388

Status : Answered

Chosen Option : 2

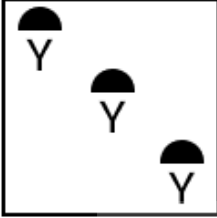
Marks : 2

Q.1 एक कागद खाली दर्शविल्याप्रमाणे दुमडलेला आणि कापलेला आहे. तर तो कागद उघडल्यावर कसा दिसेल?



Ans

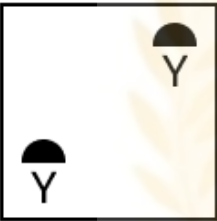
✗ 1.



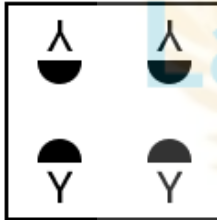
✗ 2.



✗ 3.



✓ 4.



Lakshyaa MPSC

Question Type : MCQ

Question ID : 630680535075

Option 1 ID : 6306802091683

Option 2 ID : 6306802091681

Option 3 ID : 6306802091682

Option 4 ID : 6306802091680

Status : Answered

Chosen Option : 3

Marks : 0

Q.2 जर दिलेली आकृती शांत पाण्याच्या पृष्ठभागाच्या वर आडवी ठेवली असेल, तर ती त्याच्या प्रतिबिंबात कशी दिसेल?

GR98AP76ES

(1) GB68Vb19E2

(2) GN88Vb19E2

(3) GB88Vb19E2

(4) GB88Ab19ES

Ans ✓ 1. 3

✗ 2. 4

✗ 3. 1

✗ 4. 2

Question Type : MCQ

Question ID : 6306801381552

Option 1 ID : 6306805439478

Option 2 ID : 6306805439479

Option 3 ID : 6306805439476

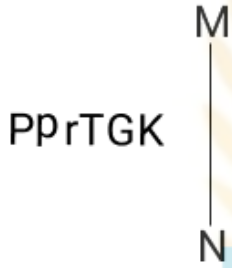
Option 4 ID : 6306805439477

Status : Answered

Chosen Option : 2

Marks : 0

Q.3 खाली दाखविल्याप्रमाणे, MN येथे आरसा ठेवल्यावर दिलेल्या आकृतीची योग्य दर्पण प्रतिमा निवडा.



Ans ✗ 1. KGT<sub>1</sub>qP

✗ 2. bbl<sub>1</sub>LCK

✗ 3. KGT<sub>1</sub>qP

✓ 4. KGT<sub>1</sub>qP

Question Type : MCQ

Question ID : 630680566536

Option 1 ID : 6306802215101

Option 2 ID : 6306802215102

Option 3 ID : 6306802215100

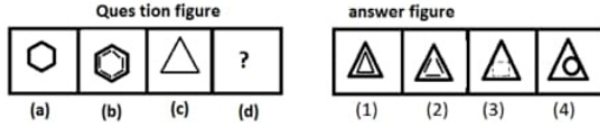
Option 4 ID : 6306802215103

Status : Answered

Chosen Option : 4

Marks : 2

Q.4 दिलेल्या प्रश्न आकृती मालिकेतील प्रश्नचिन्हाच्या (?) जागी येईल अशी आकृती, उत्तर आकृत्यांपैकी निवडा.



- Ans
- 1. 1
  - 2. 2
  - 3. 3
  - 4. 4

Question Type : MCQ

Question ID : 6306801381554

Option 1 ID : 6306805439484

Option 2 ID : 6306805439485

Option 3 ID : 6306805439486

Option 4 ID : 6306805439487

Status : Answered

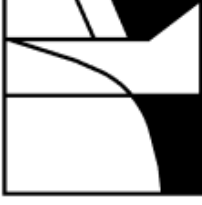
Chosen Option : 2


Marks : 2

LakshyaaMPSC

Lakshyaa MPSC

Q.5 आकृतीत दाखवल्याप्रमाणे पाण्याचा स्रोत A-B बाजूने ठेवल्यास दिलेल्या पर्यायांपैकी कोणता पर्याय दिलेल्या आकृतीचे पाण्यातील प्रतिबिंब असेल?



A  B

Ans

✓ 1.



✗ 2.



✗ 3.



✗ 4.



Lakshyaa MPSC

Question Type : MCQ

Question ID : 6306801125954

Option 1 ID : 6306804424113

Option 2 ID : 6306804424115

Option 3 ID : 6306804424116

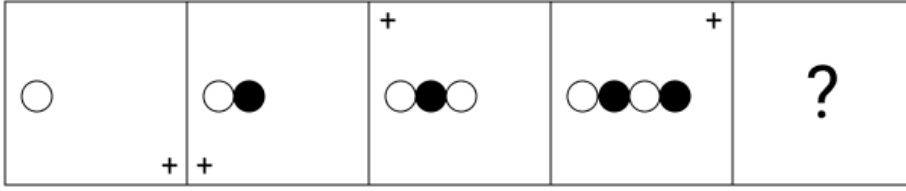
Option 4 ID : 6306804424114

Status : Answered

Chosen Option : 1

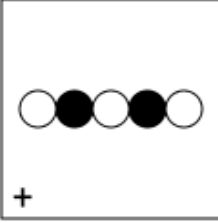
Marks : 2

Q.6 खालील पर्यायांपैकी दिलेल्या मालिकेत प्रश्नचिन्हाच्या (?) जागी येणारी आकृती निवडा.

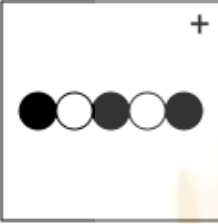


Ans

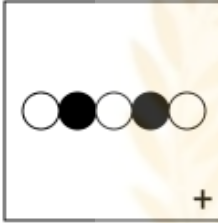
✗ 1.



✗ 2.



✓ 3.



✗ 4.



LakshyaaMPSC

Lakshyaa MPSC

Question Type : MCQ

Question ID : 6306801119247

Option 1 ID : 6306804397321

Option 2 ID : 6306804397320

Option 3 ID : 6306804397323

Option 4 ID : 6306804397322

Status : Answered

Chosen Option : 3

Marks : 2

Section : Marathi 4a

Q.1 केळ्यांच्या समूहाला काय म्हणतात?

- Ans  1. झुबका  
 2. लोंगर  
 3. बन  
 4. घोस

Question Type : MCQ

Question ID : 6306801368896

Option 1 ID : 6306805388763

Option 2 ID : 6306805388762

Option 3 ID : 6306805388764

Option 4 ID : 6306805388765

Status : Answered

Chosen Option : 1

Marks : 0

**Comprehension:**

उताऱ्याच्या आधारे प्रश्नांची उत्तरे सांगा .

युरोपियन संस्कृतीमध्ये धर्म आणि विज्ञान एका सुरक्षित अंतरावर उभे असल्याचे दिसून येते. सतराव्या शतकानंतर जवळजवळ तीन शतकात या युरोपियन संस्कृतीने तर धर्माला धर्माची जागा दाखवून दिली व धर्माच्या पोकळीत विज्ञानाने आपले स्थान निर्माण केले. सतराव्या शतकात गॅलिलिओने दुर्बिणीचा शोध लावला. गॅलिलिओ तेथेच थांबला नाही. त्यांनी दुर्बिणीचे पल्ले वाढवून आकाशाकडे वळवली. त्यांनी परमेश्वराच्या राज्याकडे पाहून सांगितले की, पृथ्वी गोल आहे. पृथ्वी सूर्याभोवती फिरते. ही गोष्ट बायबलला नवीन होती. त्या काळात गॅलिलियो चा खूप छळ झाला. त्याच्या ग्रंथावर बंदी घालण्यात आली. त्याच्यावर खटला भरविण्यात आला. हा युरोपचा इतिहास आहे. पृथ्वी गोल आहे असे सांगणारा गॅलिलियो व त्याच्या ग्रंथाला दोनशे वर्षे संघर्ष करून समाजात दडपून राहावे लागते. ही किंमत युरोपियन समाजाला चुकवावे लागली. पुढे हा संघर्ष कमी होत गेला. डार्विन, न्यूटन यांना तेवढा संघर्ष झाला नाही. त्यानंतर समाजात हळूहळू वैज्ञानिक दृष्टिकोन रुजत गेला. त्याची जाणीव त्या समाजाला कळली. आज युरोप विकासाच्या आकाशात भरारी घेत आहे. विकासाच्या उंच शिखरावर पोहोचणारे संस्कृती म्हणजे युरोपियन संस्कृती होय. युरोप संस्कृतीने जगाला उच्च प्रतीचे ज्ञान दिले.

**SubQuestion No : 2**

Q.2 गॅलिलिओने आकाशाकडे काय वळवले?

- Ans  1. धार्मिक विचार  
 2. दुर्बिणीचे पल्ले  
 3. विकासाची कास  
 4. वैज्ञानिक मूल्य

Question Type : MCQ

Question ID : 6306801368492

Option 1 ID : 6306805387202

Option 2 ID : 6306805387201

Option 3 ID : 6306805387204

Option 4 ID : 6306805387203

Status : Answered

Chosen Option : 2

Marks : 2



**Comprehension:**

उताऱ्याच्या आधारे प्रश्नांची उत्तरे सांगा .

युरोपियन संस्कृतीमध्ये धर्म आणि विज्ञान एका सुरक्षित अंतरावर उभे असल्याचे दिसून येते. सतराव्या शतकानंतर जवळजवळ तीन शतकात या युरोपियन संस्कृतीने तर धर्माला धर्माची जागा दाखवून दिली व धर्माच्या पोकळीत विज्ञानाने आपले स्थान निर्माण केले. सतराव्या शतकात गॅलिलिओने दुर्बिणीचा शोध लावला. गॅलिलिओ तेथेच थांबला नाही. त्यांनी दुर्बिणीचे पल्ले वाढवून आकाशाकडे वळवली. त्यांनी परमेश्वराच्या राज्याकडे पाहून सांगितले की, पृथ्वी गोल आहे. पृथ्वी सूर्याभोवती फिरते. ही गोष्ट बायबलला नवीन होती. त्या काळात गॅलिलिओ चा खूप छळ झाला. त्याच्या ग्रंथावर बंदी घालण्यात आली. त्याच्यावर खटला भरविण्यात आला. हा युरोपचा इतिहास आहे. पृथ्वी गोल आहे असे सांगणारा गॅलिलिओ व त्याच्या ग्रंथाला दोनशे वर्षे संघर्ष करून समाजात दडपून राहावे लागते. ही किंमत युरोपियन समाजाला चुकवावे लागली. पुढे हा संघर्ष कमी होत गेला. डार्विन, न्यूटन यांना तेवढा संघर्ष झाला नाही. त्यानंतर समाजात हळूहळू वैज्ञानिक दृष्टिकोन रुजत गेला. त्याची जाणीव त्या समाजाला कळली. आज युरोप विकासाच्या आकाशात भरारी घेत आहे. विकासाच्या उंच शिखरावर पोहोचणारे संस्कृती म्हणजे युरोपियन संस्कृती होय. युरोप संस्कृतीने जगाला उच्च प्रतीचे ज्ञान दिले.

**SubQuestion No : 3**

Q.3 गॅलिलिओ व त्यांच्या ग्रंथाला संघर्ष का करावा लागला?

- Ans  1. बायबलच्या रूढी परंपरा दुखावल्या गेल्या
2. पृथ्वी गोल आहे ही बायबलला नवीन गोष्ट होती म्हणून
3. बायबलला गॅलिलिओ चा विकास अपेक्षित नव्हता
4. गॅलिलिओच्या ग्रंथामध्ये भरपूर चुका होत्या

Question Type : MCQ

Question ID : 6306801368494

Option 1 ID : 6306805387211

Option 2 ID : 6306805387209

Option 3 ID : 6306805387210

Option 4 ID : 6306805387212

Status : Answered

Chosen Option : 2

Marks : 2

LakshyaaMPSC

Lakshyaa MPSC

**Comprehension:**

उताऱ्याच्या आधारे प्रश्नांची उत्तरे सांगा .

युरोपियन संस्कृतीमध्ये धर्म आणि विज्ञान एका सुरक्षित अंतरावर उभे असल्याचे दिसून येते. सतराव्या शतकानंतर जवळजवळ तीन शतकात या युरोपियन संस्कृतीने तर धर्माला धर्माची जागा दाखवून दिली व धर्माच्या पोकळीत विज्ञानाने आपले स्थान निर्माण केले. सतराव्या शतकात गॅलिलिओने दुर्बिणीचा शोध लावला. गॅलिलिओ तेथेच थांबला नाही. त्यांनी दुर्बिणीचे पल्ले वाढवून आकाशाकडे वळवली. त्यांनी परमेश्वराच्या राज्याकडे पाहून सांगितले की, पृथ्वी गोल आहे. पृथ्वी सूर्याभोवती फिरते. ही गोष्ट बायबलला नवीन होती. त्या काळात गॅलिलिओ चा खूप छळ झाला. त्याच्या ग्रंथावर बंदी घालण्यात आली. त्याच्यावर खटला भरविण्यात आला. हा युरोपचा इतिहास आहे. पृथ्वी गोल आहे असे सांगणारा गॅलिलिओ व त्याच्या ग्रंथाला दोनशे वर्षे संघर्ष करून समाजात दडपून राहावे लागते. ही किंमत युरोपियन समाजाला चुकवावे लागली. पुढे हा संघर्ष कमी होत गेला. डार्विन, न्यूटन यांना तेवढा संघर्ष झाला नाही. त्यानंतर समाजात हळूहळू वैज्ञानिक दृष्टिकोन रुजत गेला. त्याची जाणीव त्या समाजाला कळली. आज युरोप विकासाच्या आकाशात भरारी घेत आहे. विकासाच्या उंच शिखरावर पोहोचणारे संस्कृती म्हणजे युरोपियन संस्कृती होय. युरोप संस्कृतीने जगाला उच्च प्रतीचे ज्ञान दिले.

**SubQuestion No : 4**

Q.4 युरोपियन संस्कृतीने कोणाची जागा दाखवून दिली?

Ans  1. शोध संशोधनाची

2. धर्माला धर्माची

3. शिक्षण शिक्षणाची

4. ज्ञान विज्ञानाची

Question Type : MCQ

Question ID : 6306801368490

Option 1 ID : 6306805387196

Option 2 ID : 6306805387193

Option 3 ID : 6306805387195

Option 4 ID : 6306805387194

Status : Answered

Chosen Option : 2

Marks : 2

LakshyaaMPSC

Lakshyaa MPSC

**Comprehension:**

उताऱ्याच्या आधारे प्रश्नांची उत्तरे सांगा .

युरोपियन संस्कृतीमध्ये धर्म आणि विज्ञान एका सुरक्षित अंतरावर उभे असल्याचे दिसून येते. सतराव्या शतकानंतर जवळजवळ तीन शतकात या युरोपियन संस्कृतीने तर धर्माला धर्माची जागा दाखवून दिली व धर्माच्या पोकळीत विज्ञानाने आपले स्थान निर्माण केले. सतराव्या शतकात गॅलिलिओने दुर्बिणीचा शोध लावला. गॅलिलिओ तेथेच थांबला नाही. त्यांनी दुर्बिणीचे पल्ले वाढवून आकाशाकडे वळवली. त्यांनी परमेश्वराच्या राज्याकडे पाहून सांगितले की, पृथ्वी गोल आहे. पृथ्वी सूर्याभोवती फिरते. ही गोष्ट बायबलला नवीन होती. त्या काळात गॅलिलियोचा खूप छळ झाला. त्याच्या ग्रंथावर बंदी घालण्यात आली. त्याच्यावर खटला भरविण्यात आला. हा युरोपचा इतिहास आहे. पृथ्वी गोल आहे असे सांगणारा गॅलिलियो व त्याच्या ग्रंथाला दोनशे वर्षे संघर्ष करून समाजात दडपून राहावे लागते. ही किंमत युरोपियन समाजाला चुकवावे लागली. पुढे हा संघर्ष कमी होत गेला. डार्विन, न्यूटन यांना तेवढा संघर्ष झाला नाही. त्यानंतर समाजात हळूहळू वैज्ञानिक दृष्टिकोन रुजत गेला. त्याची जाणीव त्या समाजाला कळली. आज युरोप विकासाच्या आकाशात भरारी घेत आहे. विकासाच्या उंच शिखरावर पोहोचणारे संस्कृती म्हणजे युरोपियन संस्कृती होय. युरोप संस्कृतीने जगाला उच्च प्रतीचे ज्ञान दिले.

**SubQuestion No : 5**

Q.5 युरोपियन संस्कृतीमध्ये सुरक्षित अंतरावर कोण उभे आहेत?

- Ans  1. धर्म आणि विज्ञान  
 2. नीतीमत्ते ची मूल्ये  
 3. शोध आणि शास्त्र  
 4. श्रद्धा आणि अंधश्रद्धा

Question Type : MCQ

Question ID : 6306801368486

Option 1 ID : 6306805387177

Option 2 ID : 6306805387180

Option 3 ID : 6306805387179

Option 4 ID : 6306805387178

Status : Answered

Chosen Option : 1

Marks : 2

Q.6 समूहदर्शक शब्द लिहा.  
'बांबूचे \_\_\_\_\_'

- Ans  1. लोंगर  
 2. मोळी  
 3. जाळी  
 4. बेट

Question Type : MCQ

Question ID : 6306801364438

Option 1 ID : 6306805371330

Option 2 ID : 6306805371331

Option 3 ID : 6306805371333

Option 4 ID : 6306805371332

Status : Answered

Chosen Option : 4

Marks : 2

### Comprehension:

Read the given passage and answer the questions that follow.

The rapid advancement of artificial intelligence (AI) has transformed various industries, reshaping the way we work, communicate and solve problems. From healthcare to education, AI-powered tools are revolutionising processes and delivering results with unmatched efficiency. In the healthcare sector, AI assists in diagnosing diseases, predicting patient outcomes, and even suggesting personalised treatment plans. Similarly, in education, AI-based platforms offer tailored learning experiences, enabling students to learn at their own pace and style.

Despite these benefits, the integration of AI raises ethical concerns. Questions about data privacy, job displacement, and the potential misuse of AI technologies challenge its unchecked implementation. For instance, as AI systems become increasingly sophisticated, there is a pressing need to address bias in algorithms, which can lead to discrimination. Furthermore, the growing reliance on AI in decision-making processes may result in reduced accountability, as the rationale behind AI's conclusions can sometimes be opaque.

As society grapples with these challenges, it is crucial to strike a balance between leveraging AI's potential and mitigating its risks. Establishing clear ethical guidelines and robust regulatory frameworks will be key to ensuring that AI serves as a tool for progress rather than a source of harm.

#### SubQuestion No : 1

Q.1 From the passage, what can be inferred about the future of AI?

- Ans
- 1. AI will replace all human jobs.
  - 2. No proper regulations can ensure AI is beneficial.
  - 3. Proper regulations can ensure AI is beneficial.
  - 4. Ethical challenges will prevent AI adoption altogether.

Question Type : MCQ

Question ID : 6306801256836

Option 1 ID : 6306804941842

Option 2 ID : 6306804941843

Option 3 ID : 6306804941841

Option 4 ID : 6306804941844

Status : Answered

Chosen Option : 3

Marks : 2

Lakshyaa MPSC

### Comprehension:

Read the given passage and answer the questions that follow.

The rapid advancement of artificial intelligence (AI) has transformed various industries, reshaping the way we work, communicate and solve problems. From healthcare to education, AI-powered tools are revolutionising processes and delivering results with unmatched efficiency. In the healthcare sector, AI assists in diagnosing diseases, predicting patient outcomes, and even suggesting personalised treatment plans. Similarly, in education, AI-based platforms offer tailored learning experiences, enabling students to learn at their own pace and style.

Despite these benefits, the integration of AI raises ethical concerns. Questions about data privacy, job displacement, and the potential misuse of AI technologies challenge its unchecked implementation. For instance, as AI systems become increasingly sophisticated, there is a pressing need to address bias in algorithms, which can lead to discrimination. Furthermore, the growing reliance on AI in decision-making processes may result in reduced accountability, as the rationale behind AI's conclusions can sometimes be opaque.

As society grapples with these challenges, it is crucial to strike a balance between leveraging AI's potential and mitigating its risks. Establishing clear ethical guidelines and robust regulatory frameworks will be key to ensuring that AI serves as a tool for progress rather than a source of harm.

### SubQuestion No : 2

Q.2 What is the tone of the passage?

- Ans
- 1. Indifferent
  - 2. Optimistic
  - 3. Sarcastic
  - 4. Cautionary

Question Type : MCQ

Question ID : 6306801256834

Option 1 ID : 6306804941840

Option 2 ID : 6306804941838

Option 3 ID : 6306804941839

Option 4 ID : 6306804941837

Status : Answered

Chosen Option : 4

Marks : 2

Lakshyaa MPSC

### Comprehension:

Read the given passage and answer the questions that follow.

The rapid advancement of artificial intelligence (AI) has transformed various industries, reshaping the way we work, communicate and solve problems. From healthcare to education, AI-powered tools are revolutionising processes and delivering results with unmatched efficiency. In the healthcare sector, AI assists in diagnosing diseases, predicting patient outcomes, and even suggesting personalised treatment plans. Similarly, in education, AI-based platforms offer tailored learning experiences, enabling students to learn at their own pace and style.

Despite these benefits, the integration of AI raises ethical concerns. Questions about data privacy, job displacement, and the potential misuse of AI technologies challenge its unchecked implementation. For instance, as AI systems become increasingly sophisticated, there is a pressing need to address bias in algorithms, which can lead to discrimination. Furthermore, the growing reliance on AI in decision-making processes may result in reduced accountability, as the rationale behind AI's conclusions can sometimes be opaque.

As society grapples with these challenges, it is crucial to strike a balance between leveraging AI's potential and mitigating its risks. Establishing clear ethical guidelines and robust regulatory frameworks will be key to ensuring that AI serves as a tool for progress rather than a source of harm.

### SubQuestion No : 3

Q.3 Which of the following facts is mentioned in the passage?

- Ans  1. AI assists in diagnosing diseases
2. AI systems are free of bias.
3. AI has eliminated the need for human decision-making.
4. AI has entirely replaced teachers in schools.

Question Type : MCQ

Question ID : 6306801256833

Option 1 ID : 6306804941829

Option 2 ID : 6306804941830

Option 3 ID : 6306804941831

Option 4 ID : 6306804941832

Status : Answered

Chosen Option : 1

Marks : 2

Lakshyaa MPSC

### Comprehension:

Read the given passage and answer the questions that follow.

The rapid advancement of artificial intelligence (AI) has transformed various industries, reshaping the way we work, communicate and solve problems. From healthcare to education, AI-powered tools are revolutionising processes and delivering results with unmatched efficiency. In the healthcare sector, AI assists in diagnosing diseases, predicting patient outcomes, and even suggesting personalised treatment plans. Similarly, in education, AI-based platforms offer tailored learning experiences, enabling students to learn at their own pace and style.

Despite these benefits, the integration of AI raises ethical concerns. Questions about data privacy, job displacement, and the potential misuse of AI technologies challenge its unchecked implementation. For instance, as AI systems become increasingly sophisticated, there is a pressing need to address bias in algorithms, which can lead to discrimination. Furthermore, the growing reliance on AI in decision-making processes may result in reduced accountability, as the rationale behind AI's conclusions can sometimes be opaque.

As society grapples with these challenges, it is crucial to strike a balance between leveraging AI's potential and mitigating its risks. Establishing clear ethical guidelines and robust regulatory frameworks will be key to ensuring that AI serves as a tool for progress rather than a source of harm.

#### SubQuestion No : 4

Q.4 What is the main theme of the passage?

- Ans  1. Data privacy issues in AI applications
2. The balance between AI's benefits and risks
3. The ethical dilemmas associated with AI
4. AI's dominance in modern industries

Question Type : MCQ

Question ID : 6306801256832

Option 1 ID : 6306804941826

Option 2 ID : 6306804941825

Option 3 ID : 6306804941828

Option 4 ID : 6306804941827

Status : Answered

Chosen Option : 2

Marks : 2

Lakshyaa MPSC

### Comprehension:

Read the given passage and answer the questions that follow.

The rapid advancement of artificial intelligence (AI) has transformed various industries, reshaping the way we work, communicate and solve problems. From healthcare to education, AI-powered tools are revolutionising processes and delivering results with unmatched efficiency. In the healthcare sector, AI assists in diagnosing diseases, predicting patient outcomes, and even suggesting personalised treatment plans. Similarly, in education, AI-based platforms offer tailored learning experiences, enabling students to learn at their own pace and style.

Despite these benefits, the integration of AI raises ethical concerns. Questions about data privacy, job displacement, and the potential misuse of AI technologies challenge its unchecked implementation. For instance, as AI systems become increasingly sophisticated, there is a pressing need to address bias in algorithms, which can lead to discrimination. Furthermore, the growing reliance on AI in decision-making processes may result in reduced accountability, as the rationale behind AI's conclusions can sometimes be opaque.

As society grapples with these challenges, it is crucial to strike a balance between leveraging AI's potential and mitigating its risks. Establishing clear ethical guidelines and robust regulatory frameworks will be key to ensuring that AI serves as a tool for progress rather than a source of harm.

#### SubQuestion No : 5

Q.5 Which of the following is the most appropriate title for the passage?

- Ans  1. Transforming Education Through AI  
 2. The Evolution of Healthcare  
 3. Ethical Challenges in AI Integration  
 4. The Dual Impact of Artificial Intelligence

Question Type : MCQ

Question ID : 6306801256831

Option 1 ID : 6306804941822

Option 2 ID : 6306804941823

Option 3 ID : 6306804941824

Option 4 ID : 6306804941821

Status : Answered

Chosen Option : 4

Marks : 2

Q.6 Select the most appropriate ANTONYM of the given word.

Ephemeral

- Ans  1. Transient  
 2. Enduring  
 3. Fleeting  
 4. Temporary

Question Type : MCQ

Question ID : 6306801237170

Option 1 ID : 6306804864778

Option 2 ID : 6306804864776

Option 3 ID : 6306804864777

Option 4 ID : 6306804864779

Status : Answered

Chosen Option : 4

Marks : 0



Q.1 गोदावरी ही \_\_\_\_\_ ची वाण (जात) आहे.

Ans  1. ऊस

2. पीजन पी (तुर) (Pigeon Pea)

3. आंबा

4. गहू

Question Type : MCQ

Question ID : 6306801384194

Option 1 ID : 6306805450014

Option 2 ID : 6306805450015

Option 3 ID : 6306805450013

Option 4 ID : 6306805450016

Status : Answered

Chosen Option : 2

Marks : 2

Q.2 महाराष्ट्रातील मका उत्पादनाच्या संदर्भात योग्य विधान/विधाने निवडा.

1. महाराष्ट्रातील हे प्रामुख्याने खरीप पीक आहे.

2. उष्णकटिबंधीय परिस्थितीत मक्याच्या रोपांना 10-15°C तापमानाची आवश्यकता असते.

3. महाराष्ट्र हे भारतातील सर्वात मोठे मका उत्पादक राज्य आहे.

Ans  1. केवळ 1 आणि 2

2. 1, 2 आणि 3

3. केवळ 1

4. केवळ 2 आणि 3

Question Type : MCQ

Question ID : 6306801384189

Option 1 ID : 6306805449994

Option 2 ID : 6306805449996

Option 3 ID : 6306805449993

Option 4 ID : 6306805449995

Status : Answered

Chosen Option : 1

Marks : 0

Q.3 गोदावरी नदीचा उगम पश्चिम घाटातील खालीलपैकी कोणत्या रांगेत झाला आहे?

Ans  1. सातपुडा रांग

2. सह्याद्री पर्वतरांग

3. साहियान रांग

4. त्र्यंबकेश्वर रांग

Question Type : MCQ

Question ID : 6306801383131

Option 1 ID : 6306805445745

Option 2 ID : 6306805445746

Option 3 ID : 6306805445747

Option 4 ID : 6306805445748

Status : Answered

Chosen Option : 2

Marks : 0

Q.4 दिलेल्या पर्यायांपैकी कोणता पर्याय महाराष्ट्रातील वनांचा एक प्रकार आहे ज्याचे वर्णन खालील विधानाने केले आहे?

"ही जंगले मध्यम पाऊस असलेल्या प्रदेशात आढळतात, कोरड्या ऋतूत त्यांची पाने गळतात. ते साग, साल आणि इंडियन लॉरेल यांसारख्या प्रजातींचे निवासस्थान आहेत, तर चितळ आणि सांबर सारखे प्राणी येथे आढळतात."

Ans  1. खारफुटीची जंगले

2. उष्णकटिबंधीय ओलसर पानझडी जंगले

3. अल्पाइन जंगले

4. उष्णकटिबंधीय सदाहरित जंगले

Question Type : MCQ

Question ID : 6306801384206

Option 1 ID : 6306805450063

Option 2 ID : 6306805450062

Option 3 ID : 6306805450064

Option 4 ID : 6306805450061

Status : Answered

Chosen Option : 2

Marks : 2

Q.5 Maharashtra Government offers subsidy for hydroponics in animal feed. How does hydroponics differ from traditional farming?

1. Plants are cultivated without the use of soil.

2. More seeds are required for forage production using hydroponics.

3. It demands a greater amount of water.

Select the correct option.

Ans  1. Only 1 and 2

2. Only 2 and 3

3. 1, 2 and 3

4. Only 1

Question Type : MCQ

Question ID : 6306801384187

Option 1 ID : 6306805449986

Option 2 ID : 6306805449987

Option 3 ID : 6306805449988

Option 4 ID : 6306805449985

Status : Answered

Chosen Option : 4

Marks : 0

Q.6 महाराष्ट्राला \_\_\_\_\_ किलोमीटरचा समुद्रकिनारा लाभला आहे.

Ans  1. 520

2. 720

3. 820

4. 620

Question Type : MCQ

Question ID : 6306801383134

Option 1 ID : 6306805445759

Option 2 ID : 6306805445757

Option 3 ID : 6306805445760

Option 4 ID : 6306805445758

Status : Answered

Chosen Option : 2

Marks : 2

Section : Aptitude Test 4a

Q.1 What should come in place of the question mark (?) in the given series?

12,20, 100, ?, , 8900, 88900, 888900

Ans  1. 900

2. 800

3. 1000

4. 400

Question Type : MCQ

Question ID : 6306801381562

Option 1 ID : 6306805439517

Option 2 ID : 6306805439518

Option 3 ID : 6306805439516

Option 4 ID : 6306805439519

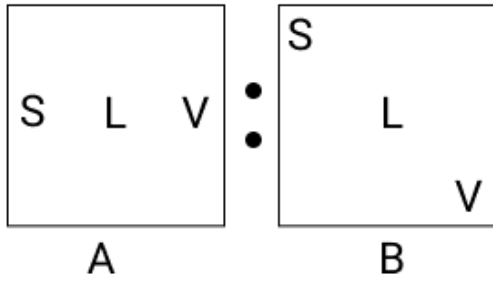
Status : Answered

Chosen Option : 1

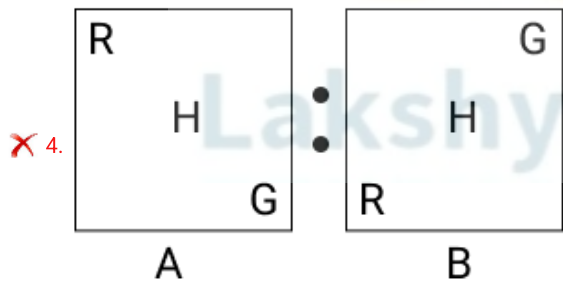
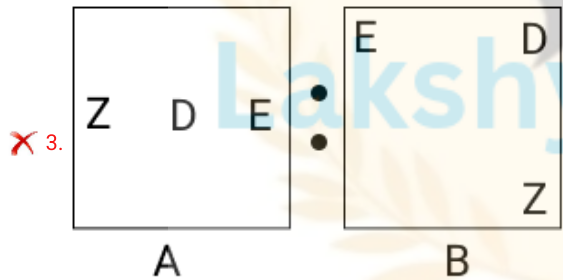
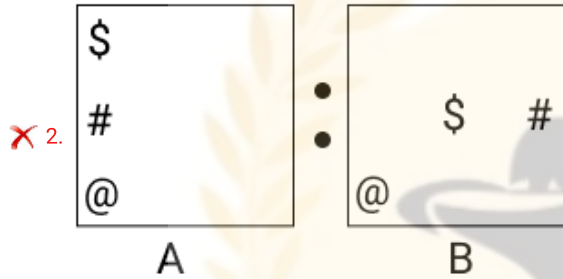
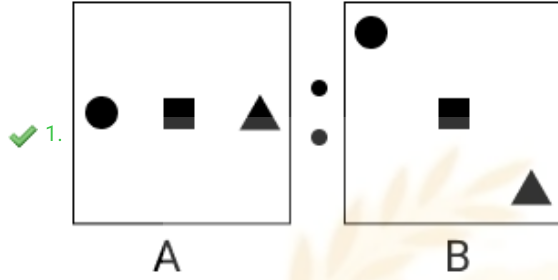
Marks : 2

Lakshyaa MPSC

Q.2 दिलेल्या आकृतीमध्ये, एका विशिष्ट प्रारूपानुसार A हे B शी संबंधित आहे. त्याच प्रारूपानुसार संबंधित असलेल्या दोन आकृत्या आहेत, अशी आकृती जोडी, खाली दिलेल्या पर्यायांमधून निवडा.



Ans



Question Type : MCQ

Question ID : 630680693839

Option 1 ID : 6306802717484

Option 2 ID : 6306802717483

Option 3 ID : 6306802717485

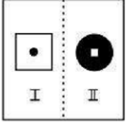
Option 4 ID : 6306802717486

Status : Answered

Chosen Option : 1


Marks : 2

Q.3 खाली दिलेल्या दोन्ही आकृत्या एका विशिष्ट तर्काचे अनुसरण करतात. त्याच समान तर्काचे अनुसरण करणाऱ्या दोन आकृत्यांची जोडी पर्यायांमधून निवडा.

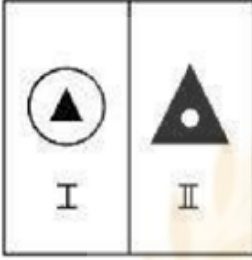


Ans

✗ 1.



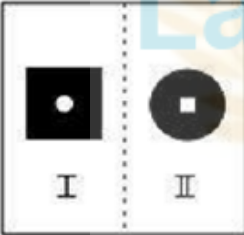
✓ 2.



✗ 3.



✗ 4.



Lakshyaa MPSC

Question Type : MCQ

Question ID : 6306801381559

Option 1 ID : 6306805439506

Option 2 ID : 6306805439507

Option 3 ID : 6306805439505

Option 4 ID : 6306805439504

Status : Answered

Chosen Option : 2

Marks : 2

Q.4 दिलेल्या मालिकेत प्रश्नचिन्हाच्या (?) जागी काय येईल?

2, 7, 17, 32, 52, 77, ?

Ans  1. 92

2. 107

3. 91

4. 101

Question Type : MCQ

Question ID : 6306801381561

Option 1 ID : 6306805439515

Option 2 ID : 6306805439512

Option 3 ID : 6306805439513

Option 4 ID : 6306805439514

Status : Answered

Chosen Option : 2

Marks : 2

Q.5 खाली संख्यांजोडींमधील, पहिल्या संख्येवर केलेल्या विशिष्ट गणितीय क्रियेतून/क्रियांतून दुसरी संख्या प्राप्त केली आहे. खालील संचातील संख्या ज्याप्रमाणे संबंधित आहेत, त्याचप्रमाणे संबंध असणारा संच पर्यायांमधून निवडा.

(सूचना : क्रिया संपूर्ण संख्येवर कराव्यात, तिच्यातील अंकांमध्ये त्या संख्येची विभागणी करू नये. उदाहरणार्थ, 13 – येथे 13 वर बेरीज/वजाबाकी/गुणाकार इ. क्रिया करणे अभिप्रेत आहे, मात्र 13 ची विभागणी 1 आणि 3 अशी करून 1 आणि 3 यांवर गणिती क्रिया करणे अभिप्रेत नाही.)

8, 72

11, 129

Ans  1. 17, 287

2. 15, 223

3. 21, 449

4. 19, 379

Question Type : MCQ

Question ID : 630680592057

Option 1 ID : 6306802316693

Option 2 ID : 6306802316692

Option 3 ID : 6306802316691

Option 4 ID : 6306802316694

Status : Answered

Chosen Option : 3

Marks : 2

Q.6 7865143 या संख्येतील प्रत्येक विषम अंकामध्ये 1 जोडल्यास आणि प्रत्येक सम अंकातून 2 वजा केल्यानंतर, तयार होणाऱ्या संख्येतील सर्वात मोठ्या आणि सर्वात लहान अंकांमध्ये कितीचा फरक असेल?

- Ans  1.8  
 2.9  
 3.5  
 4.6

Question Type : MCQ

Question ID : 630680712008

Option 1 ID : 6306802789744

Option 2 ID : 6306802789745

Option 3 ID : 6306802789746

Option 4 ID : 6306802789743

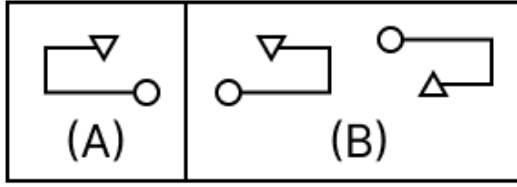
Status : Answered

Chosen Option : 4

Marks : 2

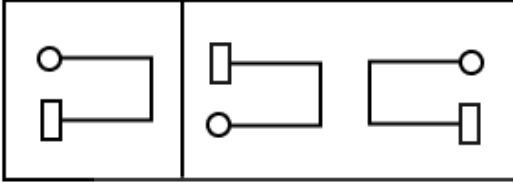


Q.7 दिलेल्या आकृतीमध्ये, एका विशिष्ट पद्धतीने A हे B शी संबंधित आहे. खाली दिलेल्या पर्यायांमधून, अशा आकृतीची जोडी निवडा, ज्यामध्ये एकाच पद्धतीने दोन आकृत्या तर्कसंगत आहेत.

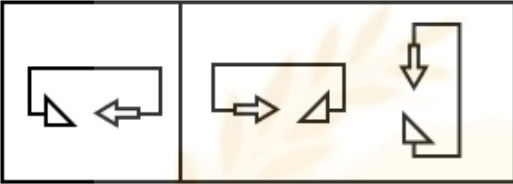


Ans

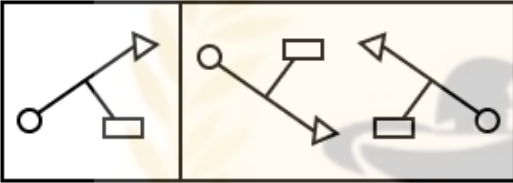
✗ 1.



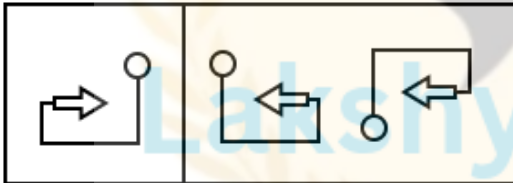
✗ 2.



✗ 3.



✓ 4.



Question Type : MCQ

Question ID : 630680629165

Option 1 ID : 6306802462748

Option 2 ID : 6306802462749

Option 3 ID : 6306802462747

Option 4 ID : 6306802462746

Status : Answered

Chosen Option : 3

Marks : 0